



제 4 교시

사회탐구 영역(동아시아사)

성명 수험 번호 - 제 () 선택

1. (가)에 들어갈 말로 옳은 것은?

 MC	이 지역에서는 이 유물을 이용하여 식량을 보관했습니다. 이 유물의 특징으로는 표면의 새끼줄 무늬를 꺾을 수 있습니다. 여기에서 이 유물은 무엇일까요?
이 유물은 (가) 입니다.	
 참가자	



2. ㉠과 ㉡ 국가에 대한 설명으로 옳은 것은? [3점]

㉠본국은 본래 막 국가가 건국되었을 때 여러 유목민족과의 대립을 걱정하면서도 ㉠본국 내에서 잦은 혼란을 수습하기 위해 많은 방법을 연구해보았습니다. 결국 폐하께서는 ㉡귀국의 통치체제를 반영하기로 하였습니다. 이에 수 많은 국내 범죄가 줄고 국가가 강성해져 침입이 대폭 줄었습니다. 하지만 최근 타국에서 여러 차례 절도사들이 ㉡귀국을 무너뜨리고 있다는 소식을 들었습니다. 하늘에서 내린 은혜의 국가가 이런 상황에 놓였다는 소식을 들은 백성들의 통곡은 상경성을 가득 채우고 있습니다. 이렇기에 폐하를 포함하여 저희 신하들이 그대를 알현하러 갈 것입니다.

- ① ㉠은 낙랑군을 축출하였다.
- ② ㉡은 ㉠에 문성 공주를 보냈다.
- ③ ㉠은 ㉡를 본떠 중대성을 세웠다.
- ④ ㉡은 ㉠과 함께 고구려를 멸망시켰다.
- ⑤ ㉠은 ㉡에 견당사를 파견했다.

3. 밑줄 친 '짐'에 대한 설명으로 옳은 것은?

평성에서의 전투 이후 짐께서는 목특선우와 직접 대적하는 것이 불가하다 판단하시어, 종실의 여인을 선우에게 보내고 매년 비단과 술, 쌀 등을 바치는 조건으로 화의를 맺으셨습니다. 그러나 선우의 침입은 여전히 그치지 않고 변경의 백성들이 도탄에 빠져 있사오니, 이 굴욕적인 화친을 계속 이어가는 것이 과연 옳은 일인지 신은 감히 아뢰지 않을 수 없습니다.


- ① 항우를 물리쳤다.
- ② 남비엣(남월)을 정복하였다.
- ③ 준왕을 몰아내고 집권하였다.
- ④ 최초로 황제 칭호를 사용하였다.
- ⑤ 독서삼포과를 실시하였다.

4. (가)~(다) 왕조에 대한 설명으로 옳은 것은?



- ① (가) - 탕룡을 수도로 삼았다.
- ② (나) - 북면관제와 남면관제를 실시했다.
- ③ (다) - 고려 정벌을 시작하였다.
- ④ (가), (나) - 칭기즈칸에 의해 멸망했다.
- ⑤ (나), (다) - 군신 관계를 맺었다.

5. (가) 전쟁이 동아시아에 끼친 영향으로 옳은 것은? [3점]

	옆의 그림은 유키나가의 부대가 상륙하면서 시작된 (가)에서 활약한 광재우 장군이다. 그는 적은 수의 의병을 모아 적의 보급로를 교란하고 여러 차례 매복전을 통해 적군을 크게 무찔렀으며, 붉은 옷을 입고 백마를 타고 나타나 백성들의 사기를 높였다.
나라의 영웅 광재우	

- ① 조선에서 일본이 삼포왜란을 일으켰다.
- ② 이삼평에 의해 도자기 문화가 발달했다.
- ③ 명에서 장거정이 개혁을 추진하였다.
- ④ 모문룡의 군대가 가도에 주둔하였다.
- ⑤ 오다 노부나가가가 나가시노 전투에서 승리하였다.

6. '이 학문'에 대한 설명으로 옳은 것은? [3점]

바깥 사물에서 이치를 구하려는 주희의 격물치지는 마음과 이치를 둘로 나누는 크나큰 오류를 범했다. 성인(聖人)이 되기 위한 참된 길은 내 마음의 선한 본성인 양지를 어떠한 막힘도 없이 온전히 실천해 나가는 치양지에 있을 뿐이다. 그리고 줄곧 이 학문이 잘못됨을 바로잡을 것이다. 앎과 행함은 본래 하나이거늘, 날마다 방구석에 앉아 우주의 이 치만을 따지는 주희의 학문은 도리어 인간의 실천력을 마비시키고 명분론에만 매달리게 했다.

- ① 사서집주의 편찬으로 집대성되었다.
- ② 수행을 통한 해탈을 추구하였다.
- ③ 심즉리와 지행합일 주장하였다.
- ④ 에도 막부 시기에 관학으로 자리 잡게되었다.
- ⑤ 청에서 전례 문제로 탄압을 받았다.

7. '그대의 국가'에 대한 설명으로 옳은 것은?

당의 적산 법화원에 머물며 그대에게 신세를 졌습니다. 그때, 그대의 국가에서는 주민들은 향을 피우며 경전을 독송하고 있었는데, 그 모습이 마치 고국의 사찰과 다름없었습니다. 저는 전란의 위험 속에서도 그대와 그대의 성중(聖衆)이 장악한 바다에 여러대의 선박이 있었기에 무사히 구법 활동을 마치고 장안에서 가져온 경전과 불상을 가지고 일본으로 귀국할 수 있었습니다. 이후 저는 꼭 제가 겪은 험난한 여정을 기록으로 남겨 그대에게 보여주고 싶습니다.

- ① 골품제를 시행했다.
- ② 도다이사가 건설되었다.
- ③ 두 차례 일본에 원정을 단행했다.
- ④ 송을 멸망시켰다.
- ⑤ 삼별초를 구성했다.

8. 다음 보고가 시행된 시기 동아시아의 상황으로 옳은 것은? [3점]

도쿠가와 이에야스는 다이묘들의 불만에도 결국 오랜 시간 발매해 왔던 도장 문서의 발급을 중단했다. 이는 다이묘들의 해외 진출에 대한 희망을 완전히 꺾어버렸다. 그러나 이후 바다의 주도권이 중국 상인들에게 넘어가자, 은이 끝없이 유출되는 것을 우려한 막부는 나가사키로 들어오는 청나라 선박의 수를 제한하고, 새로운 무역 허가증을 만들어 이를 소지한 자에게만 거래를 허용하도록 보고했다.

- ① 한국 - 기유약조를 체결하였다.
- ② 한국 - 초량왜관을 통해 인삼을 수출했다.
- ③ 중국 - 정화의 함대를 파견하였다.
- ④ 중국 - 오삼계가 삼번의 난을 일으켰다.
- ⑤ 일본 - 조선을 통해 화취법이 전수되었다.

9. 밑줄 친 '이 시기'의 동아시아 문화에 대한 설명으로 옳지 않은 것은?



이 그림은 경극입니다. 붉고 푸른 원색의 강렬한 화장과 화려한 의상을 입은 배우들이 무대 위에서 현란한 무술과 몸짓을 선보이고 있습니다. 이 시기, 지방의 극단들이 수도인 베이징에 모여들어 각 지방의 연극 요소를 융합하면서 발전한 청대 대표 대중 예술입니다. 이 무대 위에서 배우들은 단순한 연기를 넘어 독특한 가락의 노래인 도창과 대사, 그리고 고난도의 무용을 엮어 삼국지연의나 수호전 같은 대중적인 역사 이야기를 흥미진진하게 풀어내고 있습니다. 상업의 발달과 도시의 번영 속에서, 황실부터 일반 대중까지 모두의 마음을 사로잡았던 서민 문화의 정수입니다.

- ① 가부키와 분리쿠가 유행했다.
- ② 탈춤 등 공연 문화가 발달했다.
- ③ 막부에 해체신서가 간행되었다.
- ④ 특정 학문을 다룬 소학이 저술되었다.
- ⑤ 강남에서 회저우 상인이 활발하게 활동했다.

10. (가), (나)가 작성된 시기 사이에 동아시아에서 일어난 사실로 옳은 것은? [3점]

(가) 영국, 프랑스를 포함한 유럽 12개국에 문서에 담긴 내용: "우리 조정은 아시아 동쪽의 오랜 관습을 깨고 메이지라는 새로운 연호를 쓰며 근대적 개혁을 추진하고 있소. 이에 대사를 파견하여 서구 선진국의 제도와 문물을 시찰하게 하고, 과거 막부 시절에 맺었던 불평등한 조약을 개정하기 위한 예비 교섭을 진행하고자 하오."

(나) 천황이 군대와 백성들 앞에 섰던 문서의 내용: "국가 통치의 대권을 한몸에 지닌 천황은 메이지 유신의 대업을 계승하여, 제국의 번영과 신민들의 안녕을 위해 오늘 이 헌법을 반포하노라. 제국 의회는 천황의 입법권을 보좌할 것이며, 육해군 통수권은 천황의 대권에 속한다."

- ① 한국 - 태양력을 시행했다.
- ② 한국 - 여권통문이 발표되었다.
- ③ 일본 - 교육 칙어가 반포되었다.
- ④ 일본 - 도쿄 대학 개교식이 진행되었다.
- ⑤ 중국 - 양무운동이 전개되었다.

11. ㉠~㉣국가에 대한 설명으로 옳은 것은?

광둥 지방 관원의 보고에 따르면, 과거 ㉠대국이 조공을 바치러 올 때 타국인들을 함께 태워 온 적이 있다고 합니다. 조사한 바에 의하면, ㉡타국인들은 대포와 조총 등 강력한 화기를 다루며 바다를 주름잡는 자들입니다. 이들과의 교역을 통해 얻을 이익은 감히 상상할 수 없을 만큼 크니, 폐하께서 ㉢우리 나라의 꼭 막힌 제재를 풀고 ㉣타국과 마카오에서 원활한 대화를 거쳐 그 이익을 실현해야 합니다. 당연하게도 이를 실현함으로써 주변국과도 원활한 관계를 맺을 수 있으며, 이미 우리와 무역하고 있던 ㉠대국과도 더 원활하고 긴밀하게 상업적 이익을 나눌 수 있을 것입니다.

- ① ㉠은 사르후 전투에 참전했다.
- ② ㉠과 ㉡은 인공섬인 데지마에서 무역을 했다.
- ③ ㉠과 ㉢은 이자성의 농민 반란군에 의해 멸망했다.
- ④ ㉡은 ㉠에 매카트니 사절단을 보냈다.
- ⑤ ㉢과 ㉣ 모두 일본군에게 공격받았다.

12. (가), (나) 조약에 대한 설명으로 옳은 것은? [3점]

(가) 제1관 조선국은 자주국으로 일본국과 평등한 권리를 가진다. 제4관 조선국의 부산 및 다른 두 곳의 항구를 개방하고 일본인이 와서 통상하도록 허가한다. 제10관 일본국 인민이 조선국이 지정한 항구에서 죄를 범했을 때, 조선국 관원은 관여하지 않고 일본국 관원이 심판한다.
 (나) 제1조 청나라와 일본 양국은 더욱 우의를 돈독히 하고 각각 영토를 침범하지 않는다. 제8조 양국이 임명한 통상 재판관은 각각 자국의 상민을 관리한다. 만약 양국 상민이 서로 소송을 제기하면 각 항구의 재판관이 함께 다스려 합의 처리한다.

- ① (가) - 페리 함대의 무력시위로 체결되었다.
- ② (가) - 에로호 사건을 빌미로 체결하게 되었다.
- ③ (나) - 크리스티고 포고를 허용하게 되었다.
- ④ (나) - 5·4 운동이 발발하게 되는 원인이 되었다.
- ⑤ (가), (나) - 영사재판권을 인정했다.

13. (가) 에 들어갈 사건으로 적절한 것은? [3점]

A	장제스가 복벌을 본격적으로 진행했어요!	학생
B	루거우치오 사건을 빌미로 본격적으로 중·일 전쟁이 발발했어요!	학생
C	학생A와 학생B가 말한 사건 사이에 있는 사건으로는 (가) 이(가) 있겠군요!	선생님

- ① 조선의용대, 항일 활동
- ② 일본, 국제 연맹 탈퇴 선언
- ③ 중국, 태양력 도입으로 근대화 실현
- ④ 서양 열강들, 중국의 의화단 운동 진압
- ⑤ 포츠담 선언, 소련의 본격적인 대일전 참전

14. 다음 '교전' 시기에 볼 수 있는 모습으로 옳은 것은?

이 문서는 일본 측 전권대신 이토가 방문하여 조인한 문서이다. 이 문서를 체결하게 된 것은 일본이 교전에서 승리했기 때문이다. 이 문서에 내용에는 제국에서 막대한 배상금과 함께 군사적 요충지인 뤼순 항을 포함한 반도를 할양받아 대륙 진출의 교두보를 마련하는 듯했다. 그러나 이 승전의 전리품이 동아시아의 세력 균형을 무너뜨릴 것을 우려한 여러 강대국이 칼날을 겨누자, 제국은 크게 반발하였다. 이에 기대를 걸었던 영국과 미국마저 외면하면서, 결국 제국은 피로 얻은 땅을 돌려주는 골육을 감내해야만 했다.

- ① 의화단 봉기를 진압하는 연합군
- ② 웨이하이웨이로 이동하는 중국군
- ③ 동해 해전에서 격파당하는 발트 함대
- ④ 과달카날 전투에서 승리를 선언하는 미국군
- ⑤ 천두슈가 창간한 잡지에서 반제국주의 운동의 문구를 본 중국인

15. ㉡와 ㉣ 국가에 대한 설명으로 옳은 것만을 고른 것은? [3점]

통킹만 사건을 명분으로 군대를 대거 투입했던 ㉡에서는 구정 대공세 이후 전황이 교착되자 거센 반전 여론에 직면하였다. 결국, 새로운 외교 방침이 발표됨에 따라 철수 방안을 모색하게 되었고, 마침내 ㉣에 모인 각국 대표들이 평화 협정을 체결하기에 이르렀다. 이 협정으로 ㉡의 군대가 완전히 철수하자, 전쟁은 순식간에 한쪽의 우세한 공세에 밀려 종전 선언이 떨어지게 되었다.

〈보기〉

㉡. ㉡에서 열강의 해군 군비를 축소하는 회의가 열렸다.
 ㉢. ㉣는 알타 회담에 참여하여 전후 세계 질서를 논의했다.
 ㉣. ㉡와 ㉣는 일본과 강화 조약을 맺어 일본의 주권 회복을 명시했다.

- ① ㉡ ② ㉢ ③ ㉡, ㉢ ④ ㉡, ㉣ ⑤ ㉢, ㉣

16. '이 도시'에 대한 설명으로 옳은 것은? [3점]



다음 그림은 이 도시의 옛 모습을 나타낸 것이다. 외세의 진출과 함께 동아시아 교역망의 중심지로 급부상한 이곳에서는 외국인의 거주와 독자적인 행정·경찰권이 인정되는 조계지가 설정되어 독특한 근대 경관을 형성하였다. 특히 19세기 후반에 이르러 이곳은 해상 교통의 핵심 거점으로서 일본의 요코하마를 연결하는 정기 해상 무역로를 개설하였고, 이를 통해 근대적 물산과 인적 교류가 폭발적으로 증가하였다. 열강의 이권이 집중된 국제 무역 도시로 변성한 이곳은, 훗날 여러 독립운동가들의 흔적도 관찰되기도 한다.

- ① 아주 화진회가 창립된 곳이다.
- ② 고소 변화도의 배경이 된 곳이다.
- ③ 영국 상인이 신보를 창간한 곳이다.
- ④ 장제스의 국민 정부가 수도로 삼은 곳이다.
- ⑤ 미일 수호 통상 조약으로 개항된 곳이다.

17. 밑줄 친 '지난 10년' 동안 있었던 일로 적절한 것은?

[S#1. ○○○○년, 특별열차 안]

- 지도자: "이념 논쟁으로 발목이 잡혀선 안 됩니다. 계획 경제라고 다 사회주의가 아니고, 시장 경제라고 다 자본주의인 것도 아닙니다. 우리 체제 안에서 시장과 자본주의적 요소를 적극적으로 활용해야 인민이 잘살 수 있습니다. 과감하게 남부 해안 도시들의 문을 엽시다!"

[S#2. □□□□년, 카타르 도하 국제기구 총회장]

- 정부 대표: "지난 10년 동안 우리 경제는 최고 지도자의 남방 순시를 계기로 폭발적인 성장을 이룩했습니다. 이제 세계무역기구 가입을 발판 삼아, 세계 시장의 중심축으로 도약할 것입니다!"

- ① 한국 - 6월 민주 항쟁이 일어났다.
- ② 북한 - 외국 자본 유치를 위해 합영법을 제정했다.
- ③ 타이완 - 계엄령을 해제시켰다.
- ④ 일본 - 경제 정책의 실패로 55년 체제가 붕괴되었다.
- ⑤ 베트남 - 개혁, 쇄신의 의미를 가지는 도이머이 정책을 추진했다.

18. 다음 '전쟁'이 발생한 시기에 볼 수 있는 모습으로 옳은 것은?



위 그림의 장군은 맥아더이다. 그가 이끈 연합군은 이 전쟁에서 거대한 국제적 충동에 국제연합(UN)의 결의에 따라 참전하였다. 이 충동은 자유 진영과 공산 진영이 정면으로 맞붙은 냉전의 축소판이었다. 이후 전쟁이 발발하고 약 10년이 지난 시기, 동아시아의 냉전 구도는 오히려 강하게 굳어졌는데, 당시 참전국들은 상호방위조약 등을 통해 군사적 동맹을 더욱 공고히 하게 되는 계기가 되었다.

- ① 극동에서 군사 재판이 열렸다.
- ② 베트남 공화국이 수립되었다.
- ③ 미국이 에치슨 라인을 발표했다.
- ④ 한국과 일본이 한일 기본조약을 체결했다.
- ⑤ 일본과 타이완 간에 일화 평화조약을 체결했다.

19. 다음 자료를 활용한 탐구로 가장 적절한 것은?

그가 붉은 서적을 들자 수십만 청소년이 함성을 질렀다. 최고 권력자의 권위와 사회주의 순수성을 지킨다는 명분으로 시작된 운동은 온 나라를 집어삼켰다. '자본주의 척결'을 외치며 스승과 관료들이 탄압받았고, 귀중한 전통문화재들이 무참히 파괴되었다. 이 광기 어린 운동은 시작된 지는 어느덧 7년이 지났고, 그사이 나라에서 미국과 조우도 해보았으나, 끝내 멈추지는 못했다.

- ① 홍위병의 활동이 사회에 미친 영향
- ② 제 2차 국공 합작이 형성된 원인과 의의
- ③ 버블 경제의 형성과 붕괴 사이의 경제적 변화
- ④ 베이징 천안문 광장에서 일어난 민주화 시위의 배경
- ⑤ 천수이볜의 당선으로 인한 최초의 평화적 정권 교체의 과정

20. ㉠과 ㉡ 사이에 있었던 사실로 옳지 않은 것은? [3점]

두 사회주의 국가의 대외 관계 변화에 대해 말해 볼까요?

중국은 마오쩌둥 주석 시기 미국의 닉슨 대통령이 중국과의 ㉠회담을 위해 중국을 직접 방문했습니다.

베트남은 과거 대한민국이 참전했던 베트남 전쟁의 아픔을 딛고, 대한민국과 공식적으로 ㉡수교를 맺었습니다.

- ① 타이완에 복수 정당제가 도입되었다.
- ② 박정희의 10월 유식이 체제가 종식되었다.
- ③ 미국과 중국이 국교를 수립하였다.
- ④ 일본에서 미일 안보 조약의 불만으로 투쟁이 시작되었다.
- ⑤ 베트남 사회주의 공화국이 수립되었다.

* 확인 사항
○ 답안지의 해당란에 필요한 내용을 정확히 기입(표기)했는지 확인 하시오.