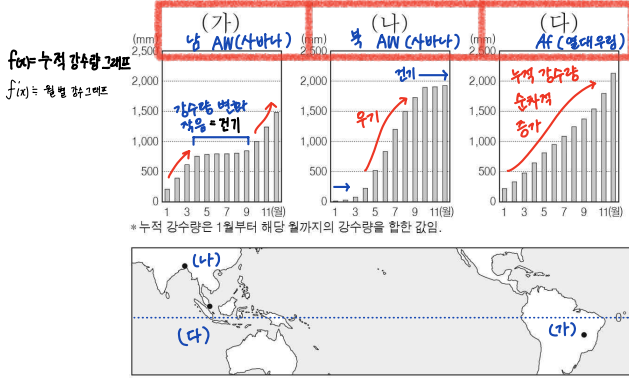




## 2 (세계지리)

## 사회탐구 영역

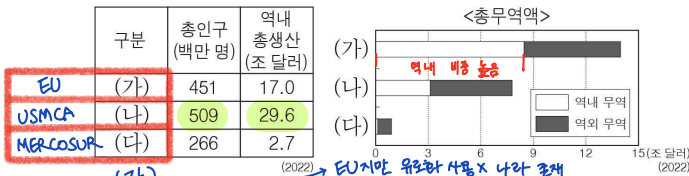
5. 그래프는 지도에 표시된 세 지역의 누적 강수량을 나타낸 것이다. (가) ~ (다) 지역에 대한 설명으로 옳은 것만을 <보기>에서 고른 것은? [3점]



<보기>  
 가. (가)는 아차야에 위치한다. → **아메리카**  
 나. (가)는 (나)보다 남회귀선과의 최단 거리가 짧다.  
 다. (나)는 (다)보다 건기와 우기의 구분이 뚜렷하다.  
 라. (다)는 (가)보다 대륙성 강수일수가 적다. **많다**

- ① 가, 나    ② 가, 다    ③ 나, 다    ④ 나, 라    ⑤ 다, 라

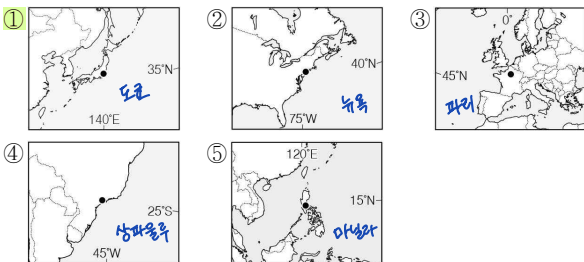
6. 다음 자료는 세 경제 블록의 특징을 나타낸 것이다. 이에 대한 설명으로 옳은 것은? (단, (가) ~ (다)는 각각 남아메리카 공동 시장, 미국·멕시코·캐나다 협정, 유럽 연합 중 하나임.) [3점]



- (가) → EU지만 유로화 사용 x 나라 존재  
 ① (나)의 모든 회원국은 유로화를 단일 통화로 사용한다.  
 ② (가)는 (나)보다 회원국 수가 많다.  
 ③ (다)는 (가)보다 정치·경제적 통합 수준이 높다. **낮다**  
 ④ (다)는 (나)보다 1인당 역내 총생산이 많다. **적다**  
 ⑤ 총무역액은 미국·멕시코·캐나다 협정이 유럽 연합보다 많다. **적다**

7. 다음은 학생과 교사가 어떤 세계 도시에 대해 스무고개를 하고 있는 장면이다. (가)에 해당하는 도시가 표시된 지도는? [3점]

단계	학생	교사
한 고개	국제 연합(UN)의 본부가 위치합니까? <b>뉴욕</b>	→ 아니요
두 고개	해당 국가의 수도입니까?	→ 예
세 고개	유럽에 위치합니까?	→ 아니요
네 고개	최상위 계층의 세계 도시입니까?	→ 예
다섯 고개	이 도시는 (가)입니까? <b>도쿄</b>	→ 예



8. 다음 자료의 (가) ~ (다) 종교에 대한 설명으로 옳은 것은? (단, (가) ~ (다)는 각각 불교, 이슬람교, 크리스티교 중 하나임.)

중앙아시아의 키르기스스탄은 '실크로드'에 위치해 여러 종교가 전파된 중요한 경로였으며, 그 영향으로 다양한 종교 경관을 볼 수 있다. 일찍부터 (가)가 유입되어 점토 불상과 탑이 있는 사원 유적이 발굴되었으며, (나)가 전파되어 신자들의 묘지에서 십자가가 새겨진 돌이 다수 출토되었다. 한편 서남아시아에서 기원한 (다)는 현재 키르기스스탄에서 신자 비율이 가장 높은 종교이며 모스크가 곳곳에 분포한다.

- (가) 불교  
(나) 크리스티교  
(다) 이슬람교  
 (다) ① (가)의 주요 종파에는 수니파와 시아파가 있다.  
 (가) ② (나)의 기원지는 남부 아시아이다. + 불교  
 (가) ③ (다)는 부다가야와 룸비니가 대표적인 성지이다.  
 ④ (가)는 (나)보다 전 세계 신자 수가 많다. 크(이)린(을)  
 ⑤ (다)는 (가)보다 발생 시기가 늦다. 힌(불)→크(이)→기

9. 다음 자료의 (가) 기후 지역에 대한 설명으로 옳은 것은?

식물 생장이 어려워 농경에 불리한 (가) 기후 지역의 주민에게 수렵·어로 등의 경제 활동은 중요성이 컸으며 순록, 고래 등은 식량 자원이자 생활 도구의 재료였다. 북극해에 가까운 지역들에서는 문장(에 이러한 동물을 표현하여 자신들의 정체성을 나타내고자 하였다.

(가) ET 문양

- ① 통풍에 유리한 개방적 가옥 구조가 나타난다. > 열대 기후 (A)  
 ② 카카오, 기름야자 등의 플랜테이션이 활발하다. > 열대 기후 (A)  
 ③ 전통적 지하 관개 수로인 카나트가 발달하였다. > 건조 기후 (B)  
 ④ 토양층의 용해에 대비한 고상 가옥을 볼 수 있다.  
 ⑤ 올리브, 오렌지 등을 재배하는 수목 농업이 주로 이루어진다. > 지중해성 기후 (Cs)

10. 다음은 건조 아시아와 북부 아프리카에서 재배되고 있는 두 작물에 대한 자료이다. (가), (나)에 해당하는 작물로 옳은 것은?

(가) 대추야자    (나) 목화

지역 주민이 즐겨 먹는 음식 중 하나이다. 염분에 잘 견디며 건조한 기후에서도 비교적 잘 자라기 때문에 오아시스 농업의 주요 작물이다.  
 풍부한 일사량이 필요하고 성장기의 물 공급이 중요하다. 튀르키예, 중앙아시아의 아무다리야강과 시르다리아강 유역에서 관개를 통해 대규모로 재배된다.

- (가)    (나)    (가)    (나)  
 ① 목화    대추야자    ② 목화    천연고무  
 ③ 대추야자    목화    ④ 대추야자    천연고무  
 ⑤ 천연고무    목화

11. 다음은 세계 지형 여행 영상 내용의 일부이다. ㉠ ~ ㉢에 대한 설명으로 옳은 것만을 <보기>에서 고른 것은? [3점]



이번 촬영지는 ㉠ 건조 기후 지역의 특별한 지형 경관을 볼 수 있는 카흐스탄의 우스투르트 자연 보호 구역입니다. 비가 내릴 때만 일시적으로 물이 고이는 호수와 ㉡ 뷰트처럼 정상부가 평평한 지형이 어우러진 모습은 특히 아름답습니다. 이 외에도 ㉢ 버섯바위를 비롯한 독특한 지형이 발달해 있어 눈길을 끄니다.

경암과 연암의 차별형성

<보기>

- ㄱ. ㉠은 연 증발량이 연 강수량보다 많다.
- ㄴ. ㉡이 연속적으로 발달하여 이어진 지형을 바하다라고 한다.
- ㄷ. ㉢은 바위의 아래부분이 집중적으로 침식되어 형성된다.
- ㄹ. ㉠과 ㉡은 주로 유수의 작용에 의해 형성된 지형이다.

- ① ㄱ, ㄴ    ② ㄱ, ㄷ    ③ ㄴ, ㄷ    ④ ㄴ, ㄹ    ⑤ ㄷ, ㄹ

12. 그래프는 두 화석 에너지의 국가별 생산량 비율을 나타낸 것이다. (가), (나)에 대한 설명으로 옳은 것은? (단, (가), (나)는 각각 석유, 석탄, 천연가스 중 하나임.)



- ① (가)는 주로 북극권 지역에 매장되어 있다.
- ② (가)는 세계 1차 에너지 소비 구조에서 차지하는 비율이 가장 높다.
- ③ (나)는 수송용보다 산업용으로 소비되는 비율이 높다.
- ④ (가)는 (나)보다 상용화된 시기가 이르다.
- ⑤ (나)는 (가)보다 연소 시 대기 오염 물질 배출량이 적다.

13. 표는 지도에 표시된 네 지역의 기후 특성을 나타낸 것이다. (가) ~ (라) 지역에 대한 설명으로 옳은 것은? (단, A, B 시기는 각각 1월과 7월 중 하나임.)

지역	A 시기의 평균 기온 (°C)	B 시기의 강수량 (mm)
(가)	1.2	107.3
(나)	5.7	47.2
(다)	11.6	2.3
(라)	24.9	67.9

- ① (가)는 대륙 서안에 위치한다.
- ② (나)는 B 시기보다 A 시기에 정오의 태양 고도가 높다.
- ③ (가)는 (나)보다 기온의 연교차가 크다.
- ④ (다)는 (나)보다 여름 강수 집중률이 높다.
- ⑤ (라)는 (다)보다 7월의 낮 길이가 짧다.

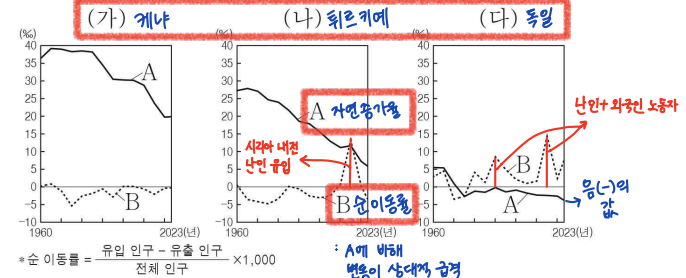
A, B시기 판단 : 겨울 기온이 낮은 값 2개 : 위도가 높거나(런던) 대륙 동안에 있어 연교차가 크거나(뉴욕) → A는 1월, B는 7월 영어 기호 코드로 외우는 것이 훨씬 더 정확합니다.

14. 다음 자료의 (가) 지역에 대한 설명으로 옳은 것은?

염소의 털로 만든 의류 소재 캐시미어의 이름이 유래된 곳으로도 유명한 (가)는 인도 북부와 파키스탄 북동부에 걸쳐 있는 산악 지대에 위치하고 있다. 20세기 중반 영국으로부터 독립하는 과정에서 갈등이 발생하여 지금까지 이곳에서 인도와 파키스탄이 서로 대립하며 분쟁을 지속하고 있는 가운데, 최근에는 인더스강의 개발을 둘러싼 갈등까지 더해져 두 국가 간 긴장이 고조되고 있다.

- ① 힌두교도와 이슬람교도 간의 갈등이 있다.
- ② 로힝야족이 중앙 정부로부터 탄압을 받았다.
- ③ 원주민인 마오리족과의 공존을 위한 노력이 나타난다.
- ④ 소수 민족인 위구르족이 정부에 분리 독립을 요구하였다.
- ⑤ 불교도인 신탄리족과 힌두교도인 타밀족 간의 갈등이 있다.

15. 그래프는 세 국가의 인구 특성을 나타낸 것이다. 이에 대한 설명으로 옳은 것은? (단, (가) ~ (다)는 각각 독일, 케냐, 튀르키예 중 하나이고, A, B는 각각 순 이동률, 자연 증가율 중 하나임.)



- ① (가)는 아프리카에 위치한다.
- ② (가)는 (다)보다 산업화의 시작 시기가 이르다.
- ③ (다)는 (나)보다 1960년 중위 연령이 낮다.
- ④ (가) ~ (다) 중 2023년 전체 인구 증가율은 (가)가 가장 높다.
- ⑤ 독일은 2023년에 출생자 수가 사망자 수보다 많다.

16. 다음은 누리 소통망 화면의 일부이다. ㉠ ~ ㉢ 지형에 대한 설명으로 옳은 것만을 <보기>에서 고른 것은?

- ㉠. ㉠은 시간이 지날수록 점차 바다 쪽으로 성장한다.
- ㉡. ㉡은 주로 파랑의 침식 작용으로 형성된 지형이다.
- ㉢. ㉢은 후빙기 해수면 상승 이후에 형성되었다.
- ㉣. ㉣은 석회질의 산호층 유해가 퇴적되어 형성된 것이다.

- ① ㉠, ㉡    ② ㉠, ㉢    ③ ㉡, ㉣    ④ ㉠, ㉣    ⑤ ㉢, ㉣

# 4 (세계지리)

# 사회탐구 영역

17. 다음 자료의 (가) 국가를 지도의 A ~ E에서 고른 것은?

(가)의 기념주화와 여권에는 네덜란드어, 프랑스어, 독일어의 세 언어로 표기된 것을 확인할 수 있다. 이렇게 여러 언어가 표기되어 있는 것은 북부의 플랑드르 지역에서는 네덜란드어를 주로 사용하고, 남부의 왈로니아 지역에서는 프랑스어를 주로 사용하며, 동부 일부 지역에서는 독일어를 사용하는 것과 관련이 있다. 특히 플랑드르 지역과 왈로니아 지역은 언어 및 경제적 격차에 따른 갈등이 있지만, 공존을 위해 다양한 노력을 하고 있다.

※ 수도 브뤼셀은 네덜란드어,프랑스어 동시에 사용함

① A 영국  
 ② B 벨기에  
 ③ C 폴란드  
 ④ D 에스파냐  
 ⑤ E 이탈리아

18. 다음 자료는 세 국가의 음식에 관한 소개문이다. (가) ~ (다)에 대한 설명으로 옳은 것은? (단, (가) ~ (다)는 각각 돼지, 소, 양 중 하나임.)

**에스파냐의 하몬** (가) 돼지 (나) 양 (다) 소

(가)의 뒷다리를 소금에 절여 숙성시켜 만든 전통 햄인 하몬을 즐겨 보세요. **스페인의 이방 문화 전파!**

과거 이슬람 세력의 지배 당시에는 종교적 영향으로 하몬 제조가 위축되었지만 크리스티교 세력의 지배 이후 중요한 식문화로 자리 잡았고, 에스파냐는 현재 유럽에서 (가)을 가장 많이 사용하고 있어요.

**오스트레일리아의 오지바비**

(나) 고기를 오스트레일리아식 바비큐인 '오지바비'로 즐겨 보세요.

영국 이주민의 식문화 영향을 받은 오스트레일리아에서는 주로 소고과 후추를 곁들여 구워 먹어요. 오스트레일리아는 중국과 인도에 이어 세계에서 세 번째로 (나)을 많이 사용하는 국가예요.

**아르헨티나의 아사도**

(다) 고기를 오랜 시간 구워 만든 아사도를 전통 소스인 치미추리소스와 함께 맛보세요.

아사도는 남아메리카에서 목축을 하는 가우초가 즐겨 먹던 음식이에요. 아르헨티나는 세계에서 (다)을 가장 많이 사용하는 브라질, 인도와 함께 이 가족의 주요 사육 국가예요.

- (다) ① (가)는 농경 사회에서 노동력을 대체하는 가축으로 이용되었다.  
 (다) ② (가)는 힌두교 신자들이 종교적 이유로 섭취를 금기시한다.  
 (나) ③ (가)는 모직 공업의 발달로 인해 기업적 사육이 활발해졌다.  
 ④ (나)는 (가)보다 유목에 적합하다.  
 ⑤ (다)는 (나)보다 전 세계 사육 두수가 적다. 많다  
 : 소 > 양 > 돼지

19. 다음은 신문 기사의 일부이다. (가) 국가에 대한 설명으로 옳은 것만을 <보기>에서 있는 대로 고른 것은? [3점]

문화 기행 특집 문순 아시아를 가다

문순 아시아의 물 축제, 세계인의 축제로

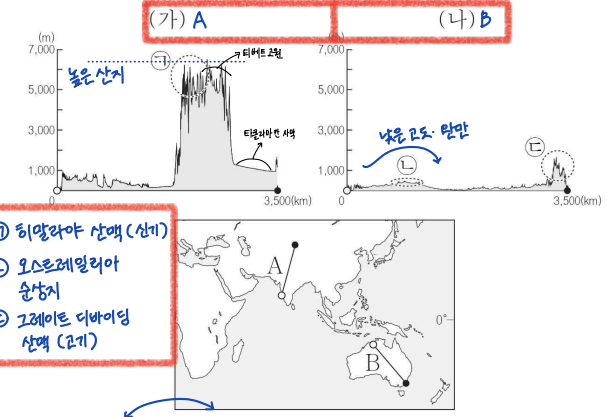
문순 아시아의 여러 국가에서는 매년 건기와 우기가 교차되는 4월경 물을 이용한 축제가 열린다. 불상을 물로 씻어 내고 서로에게 물을 뿌리며 축복을 전하던 전통이 오늘날의 축제로 이어지게 되었다. 라오스의 '피마이 축제', 미얀마의 '민잔 축제', (가)의 '송끄란 축제'가 대표적이며, 특히 송끄란 축제는 수도인 방콕을 비롯해 (가)의 전역에서 열리는데, 물총 등을 이용한 물놀이가 대표적인 행사로 자리 잡으며 세계인이 찾는 축제가 되었고 이를 벤치마킹한 물 축제가 세계 곳곳에서 열리고 있다. (가) 타이

<보기>

ㄱ. 중국보다 2023년 세계 쌀 수출량이 많다. <중국은 식량자원의 생산량 이 많으나 작황 소변의 비침이 높음>  
 ㄴ. 라오스, 미얀마와 모두 국경을 접하고 있다.  
 ㄷ. 아시아에서 2023년 커피 생산량이 가장 많다. <베트남> 인도네시아...  
 ㄹ. 동남아시아 국가 연합(ASEAN)의 회원국이다. <25년 6월 기준 10개국>

① ㄱ, ㄷ                      ② ㄱ, ㄹ                      ③ ㄴ, ㄷ  
 ④ ㄱ, ㄴ, ㄹ                  ⑤ ㄴ, ㄷ, ㄹ

20. 그림은 지도에 표시된 A, B 구간의 지형 단면을 나타낸 것이다. 이에 대한 설명으로 옳은 것은? (단, (가), (나)는 각각 A, B 중 하나이고, ㉠ ~ ㉢은 각각 그레이트디바이딩산맥, 오스트레일리아 순상지, 히말라야산맥의 일부 중 하나임.) [3점]



- ㉠ 히말라야 산맥 (산지)  
 ㉡ 오스트레일리아 순상지  
 ㉢ 그레이트 디바이딩 산맥 (고기)
- ① (가)는 B, (나)는 A이다.  
 ② ㉠은 대륙판과 대륙판이 충돌하여 형성되었다.  
 ③ ㉡은 산맥 습곡 산지에 해당한다. <고기 습곡 산지: 그레이트 디바이딩>  
 ④ ㉢은 환태평양 조산대에 속한다.  
 ⑤ ㉠은 ㉢보다 형성 시기가 이르다. 늦다

※ 확인 사항  
 ○ 답안지의 해당란에 필요한 내용을 정확히 기입(표기)했는지 확인 하시오.