


사회탐구 영역(통합사회)

[1-2] 다음은 (가)~(다) 환경 문제에 대한 갑, 을, 병의 조사 계획에 관한 대화이다. 물음에 답하시오.

나는 (가)을/를 조사하기 위해 산업화 이후 온실가스 배출량의 시기별 변화를 파악할거야	나는 (나)을/를 조사하기 위해 위성 지도로 1960년대와 2000년대 '아랄 해' 일대의 면적 변화를 살펴볼거야	나는 (다)을/를 조사하기 위해 국경을 넘는 대기 오염 물질의 장거리 이동을 파악하고 제네바 협약에 대해 분석할거야
 갑	 을	 병

1. 다음 자료에 대한 설명으로 옳은 것만을 <보기>에서 있는 대로 고른 것은? [1.5점]

————— <보 기> —————

ㄱ. 갑과 을은 모두 환경 문제를 시간적 관점에서 바라본다.
 ㄴ. 갑과 달리 병은 환경 문제를 사회적 관점에서 바라본다.
 ㄷ. 병과 달리 을은 환경 문제를 공간적 관점에서 바라본다.

- ① ㄱ ② ㄷ ③ ㄱ, ㄴ ④ ㄴ, ㄷ ⑤ ㄱ, ㄴ, ㄷ

2. 다음 자료의 (가)~(다) 환경 문제에 대한 설명으로 옳은 것은? [1.5점]

- ① (가) 문제 해결을 위해 런던 협약을 체결하였다.
- ② (가)로 인해 고산 식물의 평균 분포 고도가 낮아지고 있다.
- ③ (나)보다 (다)는 아프리카에서 발생 지역이 넓게 나타난다.
- ④ (나)는 조림 사업을 통해 발생 지역 확대를 억제할 수 있다.
- ⑤ (다)의 주요 원인 물질은 염화 플루오린화 탄소(CFCs)이다.

3. 다음은 행복의 조건에 관한 자료이다. 자료에 제시된 기본권 A, B에 대한 옳은 설명만을 <보기>에서 있는 대로 고른 것은? [1.5점]

정주 환경이란 사람이 자리를 잡고 살아가는 환경으로서 가장 중요한 인간 생존의 조건이다. 쾌적하고 안정적인 주거환경에서 인간다운 주거 생활을 할 권리와 건강하고 쾌적한 환경에서 살 권리가 보장되어야 한다. 따라서 A의 보장은 단순한 복지가 아니라 인간 존엄성 실현을 위한 기본 전제라는 인식이 확산되고 있다.

국민의 정치적 의사가 잘 반영되는 민주주의 국가일수록 국민들의 행복 지수는 상승한다. 민주 사회에서 살아가는 사람은 권위주의 사회에서 살아가는 사람들에 비해 더 많은 B를 보장받을 뿐만 아니라 실제로도 그 권리를 행사할 수 있다. 국민의 B가 확대되어 정책 결정에 직접 참여할 기회가 늘어날수록 국민의 행복 지수는 높아진다.

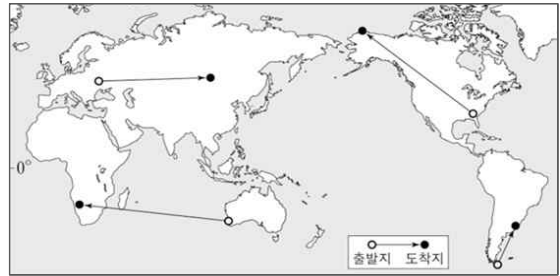
————— <보 기> —————

ㄱ. A는 다른 기본권을 보장하기 위한 수단적 권리이다.
 ㄴ. A와 B는 모두 국가의 존재를 전제로 한 적극적 권리이다.
 ㄷ. B는 바이마르 헌법에 최초로 명시되었다.

- ① ㄱ ② ㄴ ③ ㄷ ④ ㄱ, ㄴ ⑤ ㄴ, ㄷ

4. 다음은 통합사회 수업 장면의 일부이다. (가)~(라) 여행 경로에 대한 설명으로 옳은 것만을 <보기>에서 있는 대로 고른 것은? (단, (가)~(라)는 각각 지도에 표시된 네 여행 경로 중 하나임.) [2.5점]

교사: 지도에 표시된 네 경로에 대해 설명해 볼까요? 단, 북반구 겨울은 12~2월, 남반구 겨울은 6~8월로 고려해서 설명하면 됩니다.



갑: (가)~(라) 경로 중 출발지에 비해 도착지의 1월 평균 밤 길이가 가장 많이 길어지는 경로는 (가)입니다.

을: (가), (다), (라) 경로의 출발지와 도착지는 모두 강수량이 증발량보다 많습니다.

병: (가)~(다) 경로의 출발지는 도착지보다 겨울 강수량이 많습니다.

교사: 갑과 병의 설명은 모두 옳습니다. 을의 설명은 (다)가 아니라 (나)가 들어가야 옳습니다.

————— <보 기> —————

ㄱ. (가)의 도착지는 연중 수백 미터 두께의 얼음으로 덮여 있다.
 ㄴ. (나)의 도착지는 (라)의 출발지보다 기온의 연교차가 크다.
 ㄷ. (다)의 출발지에서는 오렌지 등의 수목 농업이 이루어진다.

- ① ㄱ ② ㄴ ③ ㄷ ④ ㄱ, ㄴ ⑤ ㄴ, ㄷ

5. 갑, 을 사상가들이 모두 긍정할 진술로 적절한 것은? [2.5점]

갑: 이성 없는 존재자들은 단지 수단으로서 상대적 가치만을 갖지만, 모든 이성적 존재자들은 수단으로서만이 아니라 항상 동시에 목적으로 대우받아야 한다.

을: 인간은 대지를 상품으로 보기 때문에 남용하고 있다. 대지를 우리가 속한 생명 공동체로 바라보면 대지를 사랑과 존중으로 대하게 될 것이다.

- ① 인간은 토지를 단지 자원으로만 이용해서는 안 된다.
- ② 쾌고 감수 능력이 있는 모든 존재에 대한 종차별주의는 부당하다.
- ③ 자연물을 파괴하는 인간의 행위가 도덕적으로 정당한 경우는 없다.
- ④ 도덕적 지위를 지닌 존재의 범위를 모든 생명체로 설정하는 것은 부적절하다.
- ⑤ 인간이 아닌 도덕적으로 무능력한 존재가 도덕적 존중의 대상이 되는 경우가 있다.

6. 다음 자료는 교사의 질문에 대한 학생 감, 을의 답변과 교사의 채점 결과이다. 이에 대한 설명으로 옳은 것은? [2.5점]

◦ 교사: 다음 제시된 <사례>에 대한 질문에 답변해 보세요

< 사 례 >

갑국은 A 민족과 B 민족으로 구성되어 있는데, B 민족이 전체 인구의 70% 정도임에도 정치, 경제의 대부분을 장악한 A 민족으로부터 차별을 받는다. 한편 갑국에서는 종교에 따른 차별도 존재한다. 갑국의 국교는 전 세계에서 신자 수가 가장 많은 종교인 (가)이다. 국교가 아닌 메카로의 성지 순례 의무가 있는 (나) 종교를 믿는 C 집단도 차별을 받고 있다.

질문	답변	
	갑	을
A를 위한 적극적 우대 정책은 주류 집단에 대한 역차별이라는 비판을 받기도 하는가?	예	예
C는 B와 달리 주류 집단과 구별되는 신체적 특징을 이유로 차별을 받았는가?	예	아니오
㉠	아니오	㉡
건조 문화권에서는 (나) 신자 수보다 (가) 신자 수가 많은가?	㉢	아니오
점수	1점	2점

— <보 기> —

ㄱ. ㉠이 ‘(가)와 달리 (나)는 보편종교인가?’라면 ㉡은 ‘아니오’이다.

ㄴ. ㉡이 ‘예’라면 ㉠에는 ‘B와 C는 모두 권력의 열세로 차별 받았는가?’라는 질문이 들어갈 수 있다.

ㄷ. ㉢이 ‘아니오’라면 ㉠에는 ‘오세아니아 문화권에서는 (가) 신자 수보다 (나) 신자 수가 많은가?’라는 질문이 들어갈 수 없다.

- ① ㄱ ② ㄴ ③ ㄷ ④ ㄱ, ㄴ ⑤ ㄴ, ㄷ

7. 갑, 을 중에서 한 사람이 긍정의 대답을 할 질문만을 <보기>에서 고른 것은? [2점]

갑: 국가는 이주민이 자신의 문화를 포기하고 새로운 사회의 지배적 가치관과 문화에 동화될 수 있도록 하는 정책을 시행해야 한다.

을: 국가는 이주민 문화를 평등하게 인정하고 각기 다른 문화가 조화를 이룰 수 있도록 하는 정책을 시행해야 한다.

— <보 기> —

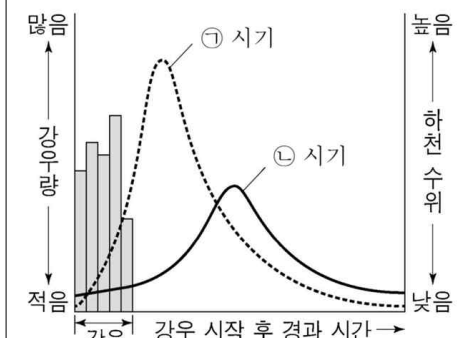
ㄱ. 다양한 문화들은 사회 내에서 평등하게 공존해야 하는가?

ㄴ. 사회의 통합성을 높이는 문화 정책을 추진해야 하는가?

ㄷ. 주류 문화의 우위를 전제로 이민자 문화의 특수성을 보장해야 하는가?

- ① ㄱ ② ㄷ ③ ㄱ, ㄴ ④ ㄴ, ㄷ ⑤ ㄱ, ㄴ, ㄷ

[8-9] 다음 자료는 지역 조사 과정을 나타낸 것이다. 물음에 답하시오. (단, ㉠, ㉡ 시기는 각각 도시화 이전과 이후 중 하나임.)

단계	주요 활동
조사 주제 선정	‘도시화에 따른 ○○지역의 생태환경 변화’를 조사 주제로 정한다.
지리 정보 수집	문헌 및 자료 검색을 통해 ‘○○지역 자연재해 증가 원인’을 파악한다. - 증가한 자연재해: (가) - 원인: _____ (나)
지리 정보 분석 및 종합	‘○○지역의 도시화 이전과 이후의 시간에 따른 유출량 변화’ 그래프를 제작한다. 
보고서 작성	지역 문제의 원인과 해결 방안에 관한 보고서를 작성한다. - 해결 방안: _____ (다)

8. 다음 자료에 대한 옳은 설명만을 <보기>에서 있는 대로 고른 것은? [1.5점]

— <보 기> —

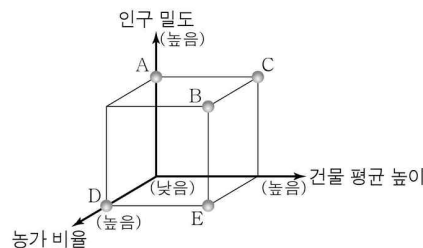
ㄱ. (가)는 지형적 요인에 의해 발생한다.

ㄴ. (나)에는 ‘지표 포장 면적 증가’가 들어갈 수 있다.

ㄷ. (다)에는 ‘하천 복개’가 들어갈 수 있다.

- ① ㄱ ② ㄴ ③ ㄷ ④ ㄱ, ㄴ ⑤ ㄴ, ㄷ

9. ㉠시기와 비교한 ㉡시기의 상대적 특징을 그림의 A~E에서 고른 것은? [1.5점]



① A
② B
③ C
④ D
⑤ E

10. 다음 자료에 대한 분석으로 옳은 것은? [25점]

<사례1> 우리 나라 사회 보장 제도 A~C의 사례

- A의 사례: 생활이 어려운 사람의 질병, 부상 등에 대해 급여 제공
- B의 사례: 일상 생활과 사회 활동이 어려운 저소득층의 생활 안정을 위해 가사 및 간병 서비스 지원
- C의 사례: 노령, 장애, 사망 시 본인 및 가족에게 연금 급여 실시

<사례2> (가), (나) 지역 수급자 비율
(가), (나) 지역의 모든 가구는 A~C 중 한 가지 이상의 혜택을 받고 있으며, (가)지역의 가구 수는 (나)지역 가구 수의 2배이다.

(단위: %)

구분	(가) 지역	(나) 지역
A와 B의 중복 가구 비율	10	20
A와 C의 중복 가구 비율	6	9
B와 C의 중복 가구 비율	50	45
A, B, C 중복 가구 비율	2	5

- ① A와 달리 C는 선별적 복지 이념을 바탕으로 한다.
- ② B와 C는 모두 금전적 지원을 원칙으로 한다.
- ③ C와 달리 A는 소득 재분배 효과가 있다.
- ④ 사회 보험과 공공 부조의 혜택은 모두 받지만, 사회 서비스의 혜택을 받지 않는 가구 비율은 (나) 지역보다 (가)지역이 높다.
- ⑤ 공공 부조와 사회 서비스의 혜택은 모두 받지만, 사회 보험의 혜택을 가구 수는 (가) 지역이 (나) 지역보다 많다.

11. 그림은 서양 사상이자 갑, 을의 가상 대화이다. 갑, 을의 입장으로 적절한 것만을 <보기>에서 있는 대로 고른 것은? [2점]

평등한 자유의 원칙에 대한 심각한 위반은 시민 불복종의 대상이 된다. 시민 불복종에 참여하는 사람들은 다수자의 정의감에 호소하여 자유로운 협동의 조건이 침해되었다는 것을 정당하게 알립니다.



갑

시민 불복종은 민주적 의사 결정을 좌절 시킨다기보다는 복원하려는 시도입니다. 우리가 중단시키려고 하는 악의 크기와, 불복종 행위가 가져올 법과 민주주의에 대한 존중심의 감소 정도를 저울질해 봐야 합니다.



을

<보기>

- ㄱ. 갑: 시민 불복종은 다수결 원칙에 근거하여 행해야 한다.
- ㄴ. 을: 시민 불복종은 부정의에 즉각 대응하는 행위여야 한다.
- ㄷ. 갑과 을: 시민 불복종은 원칙적으로 처벌 대상이 될 수 있다.

- ① ㄱ
- ② ㄴ
- ③ ㄷ
- ④ ㄱ, ㄴ
- ⑤ ㄴ, ㄷ

12. (가)에 들어갈 수 있는 내용으로 옳은 것만을 <보기>에서 고른 것은? [2점]

○○ 고용센터 x

상담 신청

질문 저는 상시 근로자 10명이 근무하고 있는 마트를 운영하고 있습니다. 여름 방학 시즌을 맞아 물품 판매를 위해 남학생 3명을 추가로 고용했습니다. 갑(14세)은 중학생이고, 을(16세)과 병(18세)은 같은 고등학교에 다니고 있습니다. 다음은 갑, 을, 병과 각각 체결한 근로 계약의 공통된 내용 중 일부입니다. 근로 기준법에 따라 이 계약에 대한 법적 조언을 부탁드립니다.

1. 계약 기간: 2026년 1월 3일~2026년 2월 29일
2. 소정 근로 시간(휴게 시간): 9:00-16:30 (12:30-13:00)
3. 근무일(주휴일): 매주 수요일~일요일(화요일)
4. 임금: 법정 최저 임금(시간급)

답변

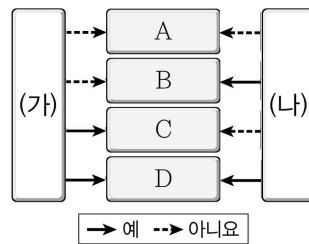
↳ (가)

<보기>

- ㄱ. 갑과 을이 근로 계약 내용대로 일요일에 근무한다면, 갑과 을에게 통상 임금의 50%를 가산하여 지급해야 합니다.
- ㄴ. 을과 달리 갑은 독자적으로 임금을 청구할 수 없으니 갑의 법정 대리인에게 임금을 지급해야 합니다.
- ㄷ. 병과 달리 갑, 을의 경우에는 연령을 증명하는 가족 관계 기록 상황에 관한 증명서를 사업장에 갖추어 두어야 합니다.
- ㄹ. 병과 합의하여 병이 매 근무일 17시 30분까지 1시간 더 근무하게 하더라도 근로 기준법에 위배되지 않습니다.

- ① ㄱ, ㄴ
- ② ㄱ, ㄷ
- ③ ㄴ, ㄷ
- ④ ㄴ, ㄹ
- ⑤ ㄷ, ㄹ

13. 그림은 문화변동의 요인을 구분한 것이다. A~D에 대한 설명으로 옳은 것은? (단, A~D는 각각 발명, 발견, 직접 전파, 자국 전파 중 하나임.) [25점]



- ① (가)가 '문화변동의 외재적 요인인가?'라면, A는 직접 전파이다.
- ② (나)에는 '타 문화의 문화 요소가 새로운 문화 요소의 출현에 아이디어로 작용하는가?'가 들어갈 수 있다.
- ③ A와 B가 문화변동의 내재적 요인이자라면, (가)에는 '한 사회에 새로운 문화 요소를 추가하는 요인으로 작용하는가?'가 들어갈 수 있다.
- ④ C가 대면 접촉을 통한 문화 요소의 전달을 전제로 한다면, (나)에는 '새로운 문화 요소의 창조를 수반하는가?'가 들어갈 수 있다.
- ⑤ D가 자국 전파라면, (가)에는 '존재하지 않았던 것을 새롭게 만들어 내었는가?'가 들어갈 수 없다.

14. (가)의 갑, 을 사상가들의 입장에서 서로에게 제기할 수 있는 비판을 (나) 그림으로 표현할 때, A, B에 해당하는 내용으로 옳은 것만을 <보기>에서 고른 것은? [2점]

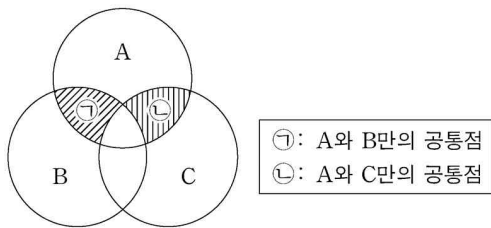
(가)	갑: 도덕적 관점에서 볼 때 자연적 자산이 자의적이건 아니건 상관없이 개인은 이에 대한 소유 권리를 지니며 이로부터 창출되는 결과물에 대해서도 그러하다. 을: 도덕적 관점에서 볼 때 자연적 자산은 자의적이기 때문에 개인은 자신의 더 큰 천부적 능력을 사회에 있어서 더 유리한 출발점으로 이용할 자격은 없다.
(나)	

— <보 기> —

가. A: 천부적 재능의 분포를 공동 자산으로 보아야 함을 간과한다. 나. A: 자연적 사실을 조정하는 차등의 원칙은 개인의 소유권을 침해함을 간과한다. 다. B: 가상 상황에서 정의의 원칙을 도출해야 함을 간과한다. 르. B: 불의한 분배를 교정하기 위해 국가가 개입할 수 있음을 간과한다.
--

- ① 가, 나 ② 가, 다 ③ 나, 르 ④ 나, 르 ⑤ 다, 르

15. 그림은 문화 이해 태도 A~C를 구분한 것이다. 이에 대한 설명으로 옳은 것은? (단, A~C는 각각 자문화 중심주의, 문화 상대주의, 문화 상대주의 중 하나임.) [2점]



* 문화 다양성 보존에 기여하는 태도는 C임

- ① A는 모든 문화가 동등한 가치를 지니고 있다고 본다.
- ② '문화를 평가가 아닌 이해의 대상으로 보는가?'라는 질문으로 A와 B를 구분할 수 있다.
- ③ A와 달리 C는 인류 보편적 가치를 기준으로 문화를 평가한다.
- ④ ㉠에는 '타문화에 대한 차별적 편견을 가진다.'가 적절하다.
- ⑤ B가 타 문화를 맹목적으로 추종하는 태도라면, ㉡에는 '해당 사회의 맥락에서 문화를 존중한다.'가 적절하다.

[16-17] 다음 자료에 대한 물음에 답하십시오.

(가)	A는 형사 재판 중 사형제도를 규정한 법률 조항에 대한 ㉠위헌 법률 심판 제청을 법원에 신청하였다. 법원이 위헌 법률 심판 제청 신청을 기각하자, A는 헌법재판소에 직접 ㉡헌법 소원 심판을 청구하였다. 헌법재판소는 생명권은 절대적 기본권이 아니며, 극악무도한 범죄에 한해 예외적으로 허용될 수 있다고 보았다.
(나)	갑: 인간 행동을 규제하는 것은 그가 알고 있는 고통의 반복적 인상에서 비롯된다. 시민들에게 범죄자가 노역하는 고통스러운 모습을 지속적으로 보여 주는 것이 사형보다 더 효과적인 형벌이다. 을: 인간은 내적 자유를 가진 존재이며 자신의 인간성을 훼손하지 말아야 할 의무가 있다. 네가 타인에게 해악을 끼치는 것은 그것이 무엇이든 그것을 네 자신에게 가하는 것과 같다.

16. (가) 자료에 대한 설명으로 옳은 것만을 <보기>에서 있는 대로 고른 것은? [2점]

— <보 기> —

가. ㉠은 재판 당사자의 신청 없이 법원이 직권으로도 할 수 있다. 나. ㉡은 위헌 심사형 헌법 소원 심판이다. 다. 헌법재판소는 해당 법 조항이 과잉 금지의 원칙에 위배된다고 판단하였다.

- ① 가 ② 다 ③ 가, 나 ④ 나, 다 ⑤ 가, 나, 다

17. (가)의 사형제도에 대한 (나)의 갑, 을 사상가의 입장으로 적절한 것은? [2.5점]

- ① 갑: 사형은 시민에게 지속적으로 가장 큰 공포감을 주는 형벌이다.
- ② 갑: 사형은 공포를 유발하는 효과가 없으므로 폐지해야 한다.
- ③ 을: 살인자는 생득적 인격성을 상실했기 때문에 사형을 당해야 한다.
- ④ 을: 사형받아야 할 행위를 의욕한 살인자에 대한 사형은 공격 정의에 어긋나지 않는다.
- ⑤ 갑과 을: 사형은 정의의 기초가 되는 원리에 따라 부과되어야 한다.

18. 다음 자료에 대한 설명으로 옳은 것은? [1.5점]

우리나라의 통일 방안은 '민족 공동체 통일 방안'이다. 분단에서 통일에 이르는 과정에서 여러 비용이 발생하지만, 통일이 된다면 점차 이를 상쇄하고 남은 정도의 ㉠도 생긴다. ㉡은 분단에 따른 대립과 갈등으로 인해 지불하는 유무형의 비용으로 편익을 기대하기 어렵다. 평화 비용은 인도적 지원, 사회 문화 교류 사업 등과 같이 통일 이전에 한반도의 평화를 정착시키기 위해 지불하는 투자 성격의 비용이다. ㉢은 통일 이후에 제도의 통합, 화폐의 통합 등을 위해 통일 한국이 지불하는 비용으로 통일의 시기와 방법에 따라 달라진다.

- ① ㉠보다 ㉡과 ㉢의 합이 크다.
- ② ㉡은 소모적 비용으로 민족 경쟁력 약화를 초래할 수 있다.
- ③ 통일된 이후에도 ㉡비용은 지속적으로 발생한다.
- ④ 이산가족의 고통과 외국인 투자 감소는 ㉢에 포함된다.
- ⑤ 경제 협력의 확대를 통해 통일이 되면 ㉢이 증가한다.

19. 다음은 통합사회 수업 장면의 일부이다. (가)~(라) 국가에 대한 설명으로 옳은 것만을 <보기>에서 고른 것은? [2점]

(가)~(라)는 각각 일본, 러시아, 베트남, 중국 중 하나입니다. 다음 <조건>을 모두 만족하는 (가)~(라) 국가를 찾고, 질문에 답해보세요.

<조건>

- 조건1 - (가), (나), (라)는 모두 계절풍의 영향을 받아 벼농사가 발달했다.
- 조건2 - (가)와 (나)는 센카쿠 열도에 영유권을 주장하고 있다.
- 조건3 - (나)와 (다)는 쿠릴 열도에 영유권을 주장하고 있다.

<보 기>

가. '태정관 지령'에 울릉도와 독도가 (가)의 영토라고 명시되어 있다.

나. (나)는 동북공정을 통해 고조선, 고구려, 발해 등의 역사를 중국사의 일부라고 주장하였다.

다. (다)에서는 호른을, (라)에서는 탐 카르스트 지형을 관찰할 수 있다.

- ① 가 ② 다 ③ 가, 나 ④ 나, 다 ⑤ 가, 나, 다

20. 다음 (가), (나) 자료에 대한 분석으로 옳은 것만을 <보기>에서 고른 것은? [2.5점]

(가) 생산 과정에서 환경 오염을 일으키는 X재는 갑국에서 7천 원에 100만 개가 거래되고 있었다. 정부가 X재에 개당 4천 원의 오염세를 부과하여 판매자에게 납부하도록 한 결과, 오염세를 포함한 X재 가격은 1만 원, 거래량은 90만 개가 되었다.

(나) 을국 정부는 주택 가격을 안정화하고자 고강도 주택 가격 규제 정책을 실시하였다. 주택 수요자들은 규제 정책의 영향으로 향후 주택 공급이 감소할 것으로 판단하였다. 이에 주택 수요가 늘어나 주택 가격이 크게 상승하였다.

<보 기>

가. 오염세 부과 전 X재 생산의 사회적 비용은 사적 비용보다 크다.

나. X재 생산의 사회적 비용과 사적 비용의 차이가 개당 4천 원이라면 90만 개는 사회적 최적 거래량보다 많다.

다. (가)와 달리 (나)는 자원이 비효율적으로 배분된 사례이다.

- ① 가 ② 나 ③ 다 ④ 가, 나 ⑤ 나, 다

21. 표는 (가) 국가의 지리 정보를 나타낸 것이다. 이에 대한 설명으로 옳은 것만을 <보기>에서 고른 것은? [1.5점]

국가	(가)
국토의 모양과 경·위도	
지역화 전략	보르도 와인 ㉠ 지리적 표시제 등록

<보 기>

가. (가)는 우리나라보다 하천 수위의 계절별 변동 폭이 작다.

나. (가)는 아메리카 문화권에 속한다.

다. ㉠의 사례로 '비 베를린(be Berlin)'을 들 수 있다.

- ① 가 ② 나 ③ 다 ④ 가, 나 ⑤ 나, 다

[22-23] 다음 자료는 신문 기사이다. 물음에 답하시오. (단, (가), (나)는 각각 화석 에너지 중 하나임.)

□□신문 ○○○○년 ○○월 ○○일

미국과 이스라엘의 이란 공습이 전면전으로 치달는 가운데, 담수화 시설과 병원, 학교 등 필수 민간 인프라가 잇따라 파괴되면서 이란과 걸프 지역 전역에서 수십만 명의 강제 실항민이 발생했다. 식수와 식량 부족은 극에 달했으며, 물류 차질로 국제 구호 활동마저 제한되면서 무고한 민간인들의 생존권은 매일 벼랑 끝으로 내몰리고 있다. 한편, 이란이 전 세계 (가), (나) 자원의 핵심 수송 통로인 호르무즈 해협을 봉쇄하면서 전 세계가 에너지 공급 대란과 인플레이션 공포에 휩싸였다. 2023년 (가)의 생산량은 미국, 러시아, 이란 순으로 많고, (나)의 생산량은 미국, 러시아, 사우디아라비아 순으로 많다. 전 세계 에너지 시장의 마비와 유례없는 인도적 참사는 국제 사회가 더 이상 방관할 수 없음을 시사한다.

22. (가), (나) 자원에 대한 설명으로 옳은 것만을 <보기>에서 고른 것은? [2점]

— < 보 기 —

ㄱ. (가)는 (나)보다 상용화된 시기가 늦다.
 ㄴ. (가), (나)는 2023년 기준, 최대 생산국과 최대 수출국이 일치한다.
 ㄷ. (나)보다 (가)는 세계 1차 에너지 소비 구조에서 차지하는 비율이 높다.
 ㄹ. (나)는 (가)보다 연소 시 대기 오염 물질 발생량이 적다.

- ① ㄱ, ㄴ ② ㄱ, ㄷ ③ ㄴ, ㄷ ④ ㄴ, ㄹ ⑤ ㄷ, ㄹ

23. 다음을 주장한 사상가의 관점에서 위 상황을 해결하기 위해 제시할 조언으로 가장 적절한 것은? [1.5점]

소극적 평화는 직접적 폭력이 없는 상태이며, 적극적 평화는 구조적 폭력과 문화적 폭력까지 없는 상태이다. 우리는 구조적, 문화적 폭력까지 없는 상태를 지향해야 한다. 이러한 상태는 소극적 평화 상태를 뛰어넘는 그 이상의 상태라고 할 수 있다.

- ① 양국 간의 물리적 교전이 중단된 상태를 평화의 최종 목표로 설정해야 한다.
- ② 모든 전쟁의 종식은 진정한 평화 실현의 필수 조건이라는 점을 인지해야 한다.
- ③ 갈등의 표면적 원인인 군사적 충돌을 막기 위한 정전 협정에만 집중해야 한다.
- ④ 국제사회의 질서 유지를 위해 강대국 중심의 경제적 체제를 더욱 강화해야 한다.
- ⑤ 직접적인 폭력을 제거하기 위한 구조적인 불평등은 정당하다는 것을 인식해야 한다.

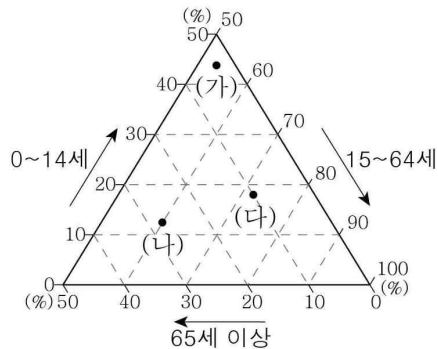
24. 다음 자료에 대한 추론으로 옳은 것은? [2.5점]

X재와 Y재만을 자급자족하던 갑국과 을국은 비교 우위가 있는 재화의 생산에만 특화하여 각국 생산량의 2/3을 교역하였다. 그림은 갑국과 을국 간 교역량을 나타내며, 양국 모두 교역으로 인해 X재와 Y재의 소비량이 증가하였다.

* 교역은 거래 비용 없이 양국 간에만 이루어진다.
 ** 양국이 보유한 생산 요소의 양은 같으며, 양국은 직선의 생산 가능 곡선상에서 생산한다.

- ① X재와 Y재의 양국 간 교환 비율은 3:2이다.
- ② X재 1개 생산의 기회비용은 갑국보다 을국이 크다.
- ③ 갑국의 X재 1개 생산의 기회비용은 Y재 1.5개보다 많다.
- ④ 을국은 Y재 생산에 절대 우위와 비교 우위를 모두 갖는다.
- ⑤ 을국은 X재 40개와 Y재 30개를 동시에 생산할 수 있다.

25. 그래프는 제시된 (가)~(다) 국가의 국가의 인구 특성을 나타낸 것이다. (가)~(다)에 대한 설명으로 옳은 것은? (단, (가)~(다)는 일본, 중국, 나이지리아 중 하나임.) [2점]



- ① (가)는 (나)보다 총부양비가 낮다.
- ② (가)보다 (다)는 산업화의 시작 시기가 이르다.
- ③ (나)의 수도에는 국제 연합(UN)의 본부가 위치한다.
- ④ (나)는 (다)보다 노년층 인구가 많다.
- ⑤ (가)에는 고령화 문제가, (다)에는 과잉 인구 문제가 나타난다.