

# 사회탐구 영역(통합사회)

1. 고대 서양 사상이 갑, 근대 서양 사상이 을의 입장으로 옳은 것은?  
[1.5점]

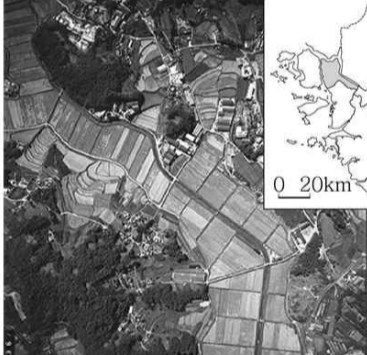
갑: 행복이란 육체의 고통이 없고 마음의 혼란이 없는 상태이다. 쾌락은 행복한 삶의 시작이자 끝이다. 모든 선택과 기피의 판단 기준은 쾌락이다.  
을: 행복이란 가장 많은 사람에게 최대의 즐거움을 주는 것이다. 인간 행동의 도덕적 가치를 평가하는 기준도 그 행동이 가져오는 행복의 양에 의해 결정된다.

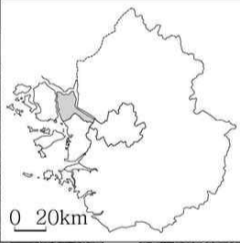
- ① 갑: 진정한 행복을 위해 모든 자연적 욕망을 충족해야 한다.
- ② 갑: 참된 행복은 현실에서 부와 권력을 획득하는 것이다.
- ③ 을: 공동체의 행복은 그 구성원들 행복의 총합보다 크다.
- ④ 을: 최대 행복의 원리를 어긴 행위도 도덕적 가치를 지닐 수 있다.
- ⑤ 갑, 을: 도덕적 행위는 행복을 실현하기 위한 하나의 수단이다.

2. 다음은 학생이 작성한 지역 조사 보고서의 일부이다. ㉠~㉣에 대한 설명으로 옳은 것은? [2점]

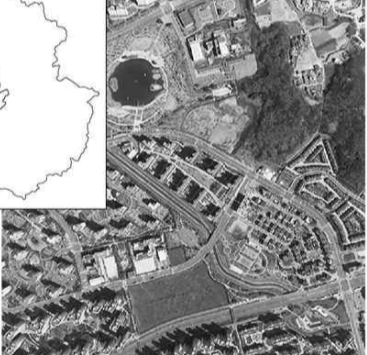
1. 주제: ○○ 지역의 과거와 현재  
2. 조사 방법 및 분석 내용  
가. ㉠위성 사진 분석을 통한 지역의 변화 탐색

<2000년>





<2020년>



- 신도시 조성 전후 토지 이용의 변화 비교  
→ 신도시 조성 후 \_\_\_\_\_ ㉡

나. ㉢통계 자료 검색을 통한 지역의 변화 파악  
- 인구 규모, 토지 이용 변화 파악

다. ㉣지역 주민 인식 조사  
- 생활 환경, 교통, 주거 만족도 변화 조사

— <보 기> —

가. ㉠과 ㉢은 지역 조사 과정 중 실내 조사에 해당한다.  
나. ㉡에는 '인구 밀도가 높아졌다.'가 들어갈 수 없다.  
다. ㉡에는 '주간 인구 지수가 높아졌다.'가 들어갈 수 있다.  
르. ㉣은 원격 탐사를 통해 수집할 수 없는 정보이다.

- ① 가, 나                      ② 가, 르                      ③ 나, 다
- ④ 가, 다, 르                ⑤ 나, 다, 르

[3-4] 그림은 환경 문제에 대한 신문 칼럼이다. 물음에 답하시오.

○○신문                      칼럼

### 생태계의 위기

인간의 활동은 지구촌 곳곳에서 다양한 환경 문제를 일으켜 왔다. 1960년대부터 시작된 아마존 개발로 인해 ㉠열대 우림이 제거되고 광산과 농장이 늘어났다. 특히 아마존 분지에서는 2020년 8월부터 1년 동안 열대림 면적이 예전에 비해 큰 폭으로 감소하였는데, 이는 당시 (가) 정부의 정책과 관련이 깊다. 이러 개발 방식은 원주민들의 전통적인 삶의 방식을 파괴하고 생태계에도 영향을 미쳤다. 이와 더불어 ㉡지구의 평균 기온이 상승하며 안데스 산지에서는 많은 생물들의 서식지가 바뀌고 있다. 이러한 변화로 이들 지역에서는 생태계 전반에 큰 혼란이 일어나고 있다. 지역 생태계 전반에 영향을 미치며, 지구 환경 위기의 심각성을 다시금 일깨워 주고 있다.

3. 위 자료에 대한 옳은 분석만을 <보기>에서 고른 것은? [1.5점]

— <보 기> —

가. ㉠은 ㉡을 심화시키는 원인 중 하나이다.  
나. ㉠은 사헬 지대와 아랄해 주변에서도 나타나고 있다.  
다. ㉡이 지속되면 고산 식물 분포 한계 고도가 높아진다.  
르. ㉠ 문제 해결을 위해 바젤 협약이, ㉡ 문제 해결을 위해 파리협정이 체결되었다.

- ① 가, 나    ② 가, 다    ③ 나, 다    ④ 나, 르    ⑤ 다, 르

4. 다음을 주장한 사상의 입장에서 '(가) 정부'에게 제시할 조언으로 가장 적절한 것은? [1.5점]

지금껏 인간의 활동으로 설명되어 온 많은 역사적 사건은 실제로는 사람과 땅의 생명적 상호 작용이었다. 인간은 사실상 생명 공동체의 구성원에 지나지 않는다. 인간은 대지를 상품으로 보기 때문에 남용하고 있다. 대지를 우리가 속한 생명 공동체로 바라보면 사랑과 존중으로 대하게 될 것이다.

- ① 경제 성장의 극대화를 최우선 목표로 설정하세요.
- ② 자연을 경제적 관점에서 이용할 수 없다는 점을 명심하세요.
- ③ 인간이 자연보다 더 가치 있고 우월한 존재임을 자각하세요.
- ④ 무생물을 포함한 생태계 전체를 도덕적으로 고려해야 함을 인지하세요.
- ⑤ 생태계를 보호할 의무는 간접적으로만 성립할 수 있다는 것을 인지하세요.



9. 다음은 도시화와 산업화에 대한 자료이다. 이에 대한 설명으로 옳은 것만을 <보기>에서 고른 것은? [2점]

농업 중심 사회가 공업, 서비스업 중심의 사회로 변화하는 산업화가 일어나면 촌락의 인구가 도시로 이동하면서 도시화가 일어난다. 도시화 과정은 초기-가속화-중착의 3단계로 진행되고, 단계마다 도시화율과 도시 인구 증가율이 다르게 나타난다. 산업화, 도시화의 속도와 구체적 시기는 국가별로 다르다. 아래 그래프의 (가)~(다)는 각각 나이지리아, 멕시코, 영국 중 하나이고, A~C는 각각 1차 산업, 2차 산업, 3차 산업 중 하나이다.

\* 연평균 도시 인구 증가율과 도시화율은 원그래프의 가운데 값임.  
\*\* 연평균 도시 인구 증가율은 2015~2020년, 도시화율과 산업별 종사자 비율 및 산업 종사자 수는 2020년 기준임.

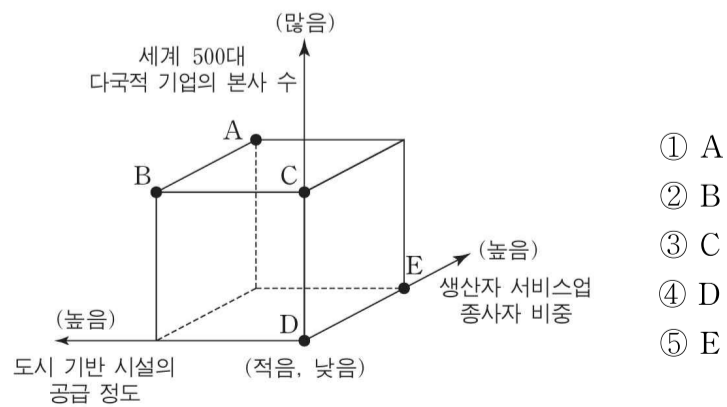
— <보 기> —

ㄱ. (가)는 (나)보다 도시 인구가 많다.  
 ㄴ. (나)는 (다)보다 2차 산업 종사자 비율이 높다.  
 ㄷ. (다)보다 (가)는 교외화 현상의 출현 시기가 이른다.  
 ㄹ. 영국은 멕시코보다 연평균 도시 인구 증가율이 높다.

- ① ㄱ, ㄴ    ② ㄱ, ㄷ    ③ ㄴ, ㄷ    ④ ㄴ, ㄹ    ⑤ ㄷ, ㄹ

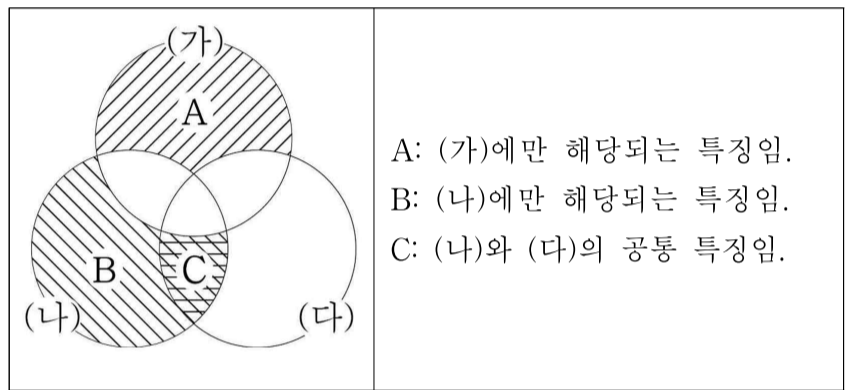
10. 다음 글의 (나) 도시에 대한 (가) 도시의 상대적 특성을 그림의 A~E에서 고른 것은? [1.5점]

세계화에 따라 도시 간 교류와 협력이 강화되면서 전 세계적으로 중심지 역할을 하는 세계 도시들이 등장하였다. 경제, 연구·개발, 문화 교류, 주거, 환경, 접근성의 여섯 가지 항목을 평가하여 산출하는 지수로 점수가 높을수록 세계 도시로서의 영향력이 크며, 런던, (가), 도쿄의 순위가 매우 높다. 대서양 연안에 위치한 (가) 은/는 미국의 경제 및 문화의 중심지이며, 국제 연합(UN)의 본부가 위치한다. (나) 은/는 프랑스령 인도차이나의 수도가 되면서 유럽풍의 도시로 개발되었다. 이 도시의 중심부에 위치한 호안끼엠 지역은 무역과 문화, 행정의 중심지 역할을 하고 있으며, 교외의 일부 지역에는 저소득층 주거 지구가 형성되어 있다.



11. (가)~(다) 사회 보장 제도의 특징을 그림과 같이 표현할 때, A~C의 내용으로 옳은 것만을 <보기>에서 있는 대로 고른 것은? (단, (가)~(다)는 각각 사회 보험, 사회 서비스, 공공 부조 중 하나임.) [2.5점]

구분	사례
(가)	소득 인정액이 선정 기준 이하인 65세 이상 노인은 생활 안정을 위하여 매월 일정 금액을 받을 수 있음.
(나)	고령이나 노인성 질병 등으로 일상 생활을 수행하기 어려운 노인은 신체활동 또는 가사 활동 지원 등의 장기 요양 급여를 받을 수 있음.
(다)	거동이 불편해 혼자 힘으로 일상생활이 어려운 노인인 배우처 지원액을 사용해 식사 도움, 목욕 보조, 청소, 세탁 등에 대한 방문 돌봄을 받을 수 있음.



— <보 기> —

ㄱ. A: 국가와 지방 자치 단체가 비용을 전액 부담한다.  
 ㄴ. B: 소득 재분배 효과가 있다.  
 ㄷ. C: 금전적 지원을 원칙으로 한다.

- ① ㄱ    ② ㄴ    ③ ㄷ    ④ ㄱ, ㄴ    ⑤ ㄴ, ㄷ

12. 다음 자료에 대한 옳은 설명만을 <보기>에서 있는 대로 고른 것은? [2.5점]

같은 ○○여행사로부터 추천받은 여행 상품 A와 B 중 하나를 편익과 기회비용을 고려하여 합리적으로 선택한다. 표는 A, B의 편익과 가격을 나타낸다. 단, 제시된 자료 외에 다른 조건은 고려하지 않는다.

구분	편익(만 원)	가격(만 원)
A	40	25
B	35	(가)

— <보 기> —

ㄱ. A를 선택한 경우 암묵적 비용은 명시적 비용보다 크다.  
 ㄴ. B를 선택한 경우 명시적 비용에서 암묵적 비용을 뺀 값은 6만 원 보다 크다.  
 ㄷ. (가)가 20보다 작은 경우 B를 선택한다.

- ① ㄱ    ② ㄴ    ③ ㄷ    ④ ㄱ, ㄴ    ⑤ ㄴ, ㄷ

13. (가)의 갑, 을 사상가들의 입장을 (나) 그림으로 탐구하고자 할 때, A~C에 해당하는 적절한 질문만을 <보기>에서 있는 대로 고른 것은? [2.5점]

	<p>갑: 기본적인 자유의 체제는 모든 사람에게 평등하게 보장되어야 하고, 사회적·경제적 이익의 분배는 공정한 기회균등의 원칙과 차등의 원칙에 의해 규제되어야 한다.</p> <p>(가) 을: 노동자들에게 그들이 소유 권리를 갖는 것들을 주지 않는 분배 행위는 정의롭지 못하다. 그런데 소유 권리는 과거의 상황이나 사람들의 과거 행위에 근거하기 때문에 분배적 정의는 역사적 원리에 따라야 한다.</p>
(나)	<div style="border: 1px solid black; padding: 5px;"> <p style="text-align: center;">사상가 갑, 을의 입장을 탐구한다.</p> <div style="display: flex; justify-content: space-between;"> <div style="width: 60%;"> <pre> graph TD             A{A} -- 아니오 --&gt; C{C}             A -- 예 --&gt; B{B}             B -- 예 --&gt; G[갑의 입장]             C -- 예 --&gt; E[을의 입장]             </pre> </div> <div style="width: 35%; border: 1px solid black; padding: 2px;"> <p style="text-align: center;">&lt;법 레&gt;</p> <p>□ : 출발 조건</p> <p>◇ : 판단 내용</p> <p>→ : 판단 방향</p> <p>⌋ : 사상가의 입장</p> </div> </div> </div>

<보 기>

ㄱ. A: 개인의 소유권을 침해하지 않는 과세 정책이 가능한가?  
 ㄴ. B: 재산의 평등한 분배가 정의 원칙에 의해 허용될 수 있는가?  
 ㄷ. C: 취득 원칙과 이전 원칙을 충족했다면 그 소유는 모두 정의로운가?

- ① ㄱ    ② ㄷ    ③ ㄱ, ㄴ    ④ ㄴ, ㄷ    ⑤ ㄱ, ㄴ, ㄷ

14. 다음 자료에 대한 설명으로 옳은 것은? (단, A~C는 각각 불교, 이슬람교, 크리스티교 중 하나임.) [2점]

(가) 국가 내 특정 종교의 신자가 절대 다수를 차지하는 경우에도 여러 종교가 유입되어 공존하게 되면서 다양한 종교 경관이 나타난다. 튀르키예는 국민 대다수가 A 신자이지만, 아나톨리아의 데린쿠유에 있는 성 테오도르 교회는 B 건축물로 이곳에는 십자가와 종탑이 있다.

(나) 4~5세기경 중국 일부 지역에서는 기존 형식과 다른 독특한 소형 불탑들이 나타났다. 둥근 기둥형인 탑신부에는 C의 내용이, 그 아래 기단부에는 도교의 내용이 새겨져 있다. 이는 당시 해당 지역의 원시 도교 문화와 새롭게 전해진 C 문화가 결합된 형태라고 할 수 있다.

- ① 유럽 문화권에서는 A가 B보다 신자 수가 많다.  
 ② C의 대표적인 종교 경관으로 둥근 지붕의 모스크가 있다.  
 ③ (가)에서는 내재적 요인에 의한 문화 변동이 나타났다.  
 ④ (나)에서는 자극 전파로 인해 문화 변동이 나타났다.  
 ⑤ (가)와 (나)에서는 모두 모두 자문화의 정체성이 유지되었다.

[15-16] 다음은 세계 인권 문제의 양상에 대한 자료이다. 물음에 답하시오.

세계 인권 문제의 양상
<p>(가)국가와 같이 내전과 정치적 독재 인해 인권 지수가 낮은 국가(지역)은 대체로 언론의 자유도가 낮고 언론이 국가의 감시를 받는 일이 많다. 국가 권력에 의해 침해되지 않음으로써 보장되는 <input type="text" value="A"/>를 침해한 것에 해당한다.</p>
<p>불공정한 사회 구조나 제도로 인해 (나)국가에서는 여성 학령 인구의 80%가 교육받지 못하여 남성에 비해 실업률이 높고 문해율이 낮다. 이는 교육 받을 권리를 보장하지 않는 것으로 인간다운 삶을 국가에 요구할 수 있는 권리인 <input type="text" value="B"/>를 침해한 것에 해당한다.</p>

15. 위 자료의 기본권 A, B에 대한 설명으로 옳은 것만을 <보기>에서 있는 대로 고른 것은? [1.5점]

<보 기>

ㄱ. A는 헌법에 열거되지 않더라도 보장되는 포괄적 권리이다.  
 ㄴ. B는 바이마르 헌법에 최초로 명시된 권리이다.  
 ㄷ. B와 달리 A는 기본권의 본질적 내용으로서 법률로 제한할 수 없는 권리이다.

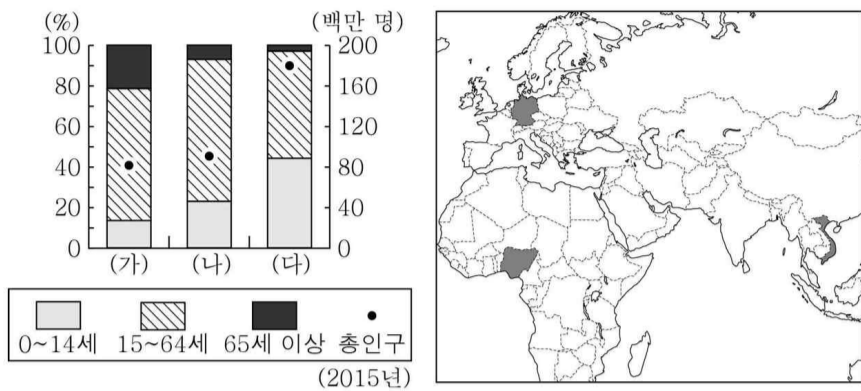
- ① ㄱ    ② ㄷ    ③ ㄱ, ㄴ    ④ ㄴ, ㄷ    ⑤ ㄱ, ㄴ, ㄷ

16. 다음을 주장한 사회 사상가의 입장에서 위 자료에 대한 설명으로 옳은 것은? [1.5점]

평화는 어떠한 폭력도 없는 상태이며 비폭력적인 방식으로 실현해 나가야 한다. 폭력을 예방하고 제거하기 위해서는 직접적 폭력, 구조적 폭력, 그리고 문화적 폭력에 대한 정확한 진단과 처방이 필요하다.

- ① (가)에서 내전이 중지된다면 진정한 평화가 실현된다.  
 ② (가)에서는 (나)에서와 달리 구조적 폭력이 나타난다.  
 ③ (나)에서는 (가)에서와 달리 직접적 폭력이 나타난다.  
 ④ (가)에서 문화적 폭력을 제거하기 위해 사용되는 직접적 폭력은 정당하다.  
 ⑤ (나)에서 적극적 평화가 실현되기 위해서는 비의도적인 폭력이 제거되어야 한다.

17. 그래프는 지도에 표시된 세 국가의 인구 현황을 나타낸 것이다.  
(가)~(다) 국가에 대한 설명으로 옳은 것은? [2점]



- ① (가)는 (다)보다 생산 가능 인구가 많다.
- ② (가)보다 (나)는 산업화의 시작 시기가 이르다.
- ③ (나)는 초고령 사회에 해당한다.
- ④ (다)는 (나)보다 총부양비가 높다.
- ⑤ (가)에서는 인구 과잉 문제가, (다)에서는 저출산 문제가 나타난다.

18. 다음을 주장한 사상가가 긍정의 대답을 할 질문으로 옳은 것은?  
[2점]

공공 의사 표현인 법은 살인을 증오하고 그 행위를 처벌한다. 살인범에게 지속적인 고통을 주는 형벌이 범죄 억제에 가장 확실한 효과를 가져온다.

- ① 형벌은 범죄자와의 응보적 관계에 따라 부과해야 하는가?
- ② 사형은 살인범의 인간으로서의 존엄을 지켜주는 형벌인가?
- ③ 범죄의 경중은 공리를 해치려는 범죄자의 의도에 따라 판단되는가?
- ④ 범죄 억제력이 있는 형벌도 정당하지 않은 경우가 있는가?
- ⑤ 형벌은 오직 범죄자의 인격 교화가 목적인 정언 명령인가?

19. 표는 갑이 1,000만 원으로 구성된 자산 포트폴리오이다. 이에 대한 설명으로 옳은 것만을 <보기>에서 있는 대로 고른 것은? [1.5점]

금융 상품	금액(만 원)
㉠ 정기 예금	200
㉡ 주식	700
㉢ 채권	100

— <보 기> —  
 가. ㉠, ㉡은 국가나 지방 자치 단체가 발행할 수 있는 상품이다.  
 나. ㉢은 시세 차익을 기대할 수 있다.  
 다. 갑이 구성된 포트폴리오에서 이자 수익을 기대할 수 있는 금융 상품의 비중은 20%이다.

- ① 가      ② 나      ③ 다      ④ 가, 나      ⑤ 나, 다

[20-21] 다음 자료에 대한 물음에 답하시오.

시각 장애인 A의 어머니 B는 전쟁을 피해 갑국으로 이주해 온 난민이었다. B는 갑국 사람들과 구분되는 민족적 특성과 여성이라는 이유로 취업이 힘들었으나, 갑국 정부에서 이민자 집단의 문화를 기존의 문화와 차별하지 않고 대등하게 인정하는 정책을 시행하면서 차별이 완화되었다. A도 장애인이라는 이유로 차별을 받았다. 그런데 시각 장애인만 안마사가 될 수 있도록 한 △△법이 시행되면서 A는 안마사로 일하게 되었다. 같은 시기 비장애인인 C는 해당 법 조항을 위반하였다는 이유로 기소되어 유죄 판결을 받아 항소하였다. C는 항소심 계속 중 해당 법률 조항들이 직업의 자유를 침해한다며 ○○법원에 위헌 법률 심판 제청 신청을 하였고, ○○법원은 헌법재판소에 위헌 법률 심판을 제청하였다. 이에 헌법재판소는 해당 법률 조항들이 과잉 금지의 원칙에 위반되지 않는다고 결정하였다.

20. 다음 자료에 대한 설명으로 옳은 것만을 <보기>에서 있는 대로 고른 것은? [2.5점]

— <보 기> —  
 가. A와 B는 권력의 열세로 인해 차별받았다.  
 나. C는 사회적 소수자의 불리한 위치를 개선하기 위한 적극적 평등 실현 조치의 적용을 받았다.  
 다. 갑국 정부는 사회 통합성을 높이는 문화 정책을 추진해야 한다고 보았다.  
 리. 갑국에서는 다양한 문화들이 사회 내에서 평등하게 공존하는 정책을 추진했다.

- ① 가, 나                      ② 가, 리                      ③ 나, 다
- ④ 가, 다, 리                ⑤ 나, 다, 리

21. 다음 사례에 대한 옳은 법적 판단만을 <보기>에서 있는 대로 고른 것은? [2점]

— <보 기> —  
 가. 갑이 침해당했다고 주장하는 기본권은 적극적 성격의 권리이다.  
 나. ○○법원은 해당 법률 조항들이 헌법에 위반된다고 판단하였다.  
 다. 헌법재판소는 해당 법률 조항에 대해 위헌 심사형 헌법 소원 심판을 하였다.

- ① 가      ② 나      ③ 다      ④ 가, 나      ⑤ 나, 다

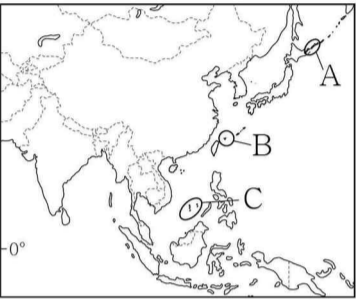
22. 다음 자료에 대한 설명으로 옳은 것은? [2점]

**< 동아시아 역사 갈등 >**

(가) 중국 국가 박물관이 고구려를 뺀 한국사 연대표를 전시하여 논란이다. 철기 시대는 고조선 후기부터 신라-백제-가야-통일신라-고려-조선 순서로 구분하였지만 현재 ㉠동북 3성 지역에 위치했던 고구려와 발해는 보이지 않았다.

(나) 제 2차 세계 대전 이후 동아시아에서는 수많은 작은 섬의 영유권 문제를 둘러싸고 영토 분쟁이 일어났다.

㉡은/는 일본이 실효 지배 중이지만, 중국 역시 자국 영토라는 입장을 굽히지 않아 두 국가의 긴장감이 조성되고 있다.



교사: 자료를 읽고 탐구한 내용을 발표해 보세요.  
 갑: (가)에서 고구려와 발해를 중국 지방 정권이라고 주장한 것을 알 수 있습니다.  
 을: (나)의 ㉡은 쿠릴 열도입니다.  
 병:  ㉢

교사: 세 사람 중 한 사람만 옳게 발표했네요.

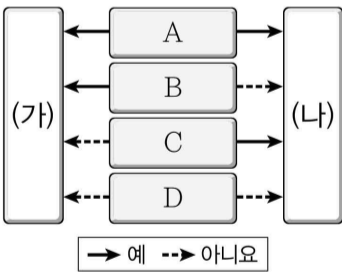
- ① (가)의 ㉠에는 한족보다 조선족이 많이 거주하고 있다.
- ② A는 현재 일본이 실효 지배하고 있다.
- ③ B, C 모두 분쟁 당사국에 중국이 포함된다.
- ④ C의 분쟁 원인은 종교 갈등이다.
- ⑤ ㉢에는 'A는 C보다 분쟁 당사국의 수가 많다.'가 들어갈 수 없다.

23. (가), (나) 경제 체제의 특징을 그림과 같이 표현할 때, A~D의 내용으로 옳은 것만을 <보기>에서 고른 것은? (단, (가), (나)는 각각 계획 경제 체제, 시장 경제 체제 중 하나임.) [2점]

**<경제 체제의 특징>**

◦ (가)와 구별되는 (나)의 특징:  
경제 문제 해결 과정에서 정부의 명령을 중요시한다.

◦ (나)와 구별되는 (가)의 특징:  
가격 기구의 기능을 중요시한다.



- < 보 기 > —
- ㄱ. A: 사유 재산권이 보장되는가?
  - ㄴ. B: 자원 배분의 형평성보다 효율성이 강조되는가?
  - ㄷ. C: '보이지 않는 손'의 기능을 중시하는가?
  - ㄹ. D: 희소성에 의한 경제 문제가 발생하지 않는가?

- ① ㄱ, ㄴ    ② ㄱ, ㄷ    ③ ㄴ, ㄷ    ④ ㄴ, ㄹ    ⑤ ㄷ, ㄹ

24. 다음 자료에 대한 분석으로 옳은 것은? [2.5점]

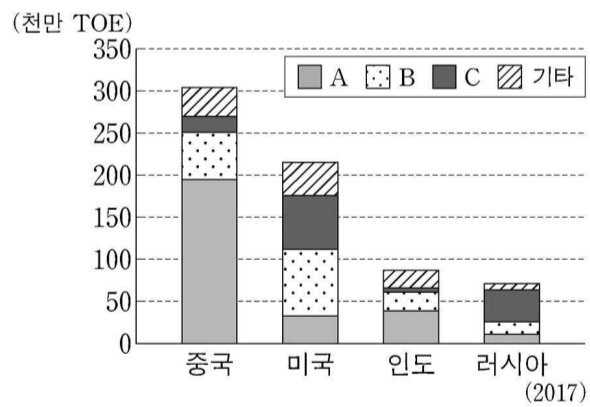
갑국과 을국은 노동만을 생산 요소로 사용하여 직선인 생산 가능 곡선상에서 X재와 Y재만을 생산한다. 양국은 비교 우위를 갖는 재화에만 특화하여 모두 이익이 발생하는 교환 비율에 따라 교역한다. 교역 전 갑국은 전체 노동량의 1/3을 X재에 투입하였고, Y재에 2/3을 투입하였다. 이후 을국과 교역함에 따라 X재에 특화하였다. 표는 갑국의 교역 전 소비량과 교역 후 소비량을 나타낸다. 단, 생산된 X재와 Y재는 전량 소비되며, 교역은 거래 비용 없이 양국 간에만 이루어진다.

(단위:개)

구분	갑국	
	X재	Y재
교역 전 소비량	20	40
교역 후 소비량	40	80

- ① 갑국의 X재 최대 생산 가능량은 80개이다.
- ② 갑국의 X재 1개 생산의 기회비용은 Y재 2개이다.
- ③ 갑국은 X재 40개와 Y재 30개를 동시에 생산할 수 있다.
- ④ 양국 간 X재와 Y재의 교환 비율은 1:4이다.
- ⑤ 교역 후 을국의 Y재 1개 소비의 기회비용은 교역 전에 비해 감소한다.

25. 그래프는 네 국가의 1차 에너지원별 공급량을 나타낸 것이다. (가)~(다) 화석 에너지를 그래프의 A~C에서 고른 것은? (단, A~C (가)~(다)는 각각 석유, 석탄, 천연가스 중 하나임.) [2점]



현재 세계 1차 에너지 소비에서 가장 높은 비율을 차지합니까? 예 → (가) / 아니오 ↓

냉동 액화 기술의 발달로 소비량이 급증하였습니까? 예 → (나) / 아니오 ↓

(다)

- |   | (가) | (나) | (다) |   | (가) | (나) | (다) |
|---|-----|-----|-----|---|-----|-----|-----|
| ① | A   | B   | C   | ② | A   | C   | B   |
| ③ | B   | A   | C   | ④ | B   | C   | A   |
| ⑤ | C   | B   | A   |   |     |     |     |