

통합사회1

2단원 인간, 사회, 환경과 행복

1

2024 수능대비예시_평가원1

행복에 대한 서양 사상이 갑, 을의 입장으로 옳은 것만을 <보기>에서 있는 대로 고른 것은?

최고선인 행복이 무엇인지 알려면 인간의 고유한 기능을 알아야 합니다. 인간의 고유한 기능은 이성을 동반하는 정신 활동입니다. 그런데 기능을 잘 수행할 수 있는 품성 상태가 덕이므로 행복이란 덕에 따르는 정신의 활동입니다.



갑

쾌락은 행복의 시작이자 끝입니다. 우리가 추구할 만한 쾌락은 몸에 고통이 없고 마음에 동요가 없는 상태입니다. 그런데 덕은 본성적으로 쾌락의 향유와 연결되므로 사려 깊고 훌륭하고 정의롭게 살지 않고서는 쾌락을 누릴 수 없습니다.



을

— < 보 기 > —

- ㄱ. 갑: 행복은 인간의 모든 행위의 궁극적인 목적이다.
- ㄴ. 갑: 유덕함이 행복을 증진하지만 행복의 필수 조건은 아니다.
- ㄷ. 을: 모든 고통이 제거되면 쾌락은 더 이상 증가하지 않는다.
- ㄹ. 갑과 을: 이성의 능력을 발휘해야 행복에 이를 수 있다.

- ① ㄱ, ㄴ ② ㄱ, ㄹ ③ ㄴ, ㄷ
④ ㄱ, ㄷ, ㄹ ⑤ ㄴ, ㄷ, ㄹ

2

유사 문항 연습

고대 서양 사상이 갑, 을의 입장으로 옳은 것만을 <보기>에서 고른 것은?

갑: 쾌락은 우리가 행하는 모든 선택과 회피의 출발점이자 목표이며, 행복한 삶의 근원이다. 쾌락은 자연스러운 첫 번째 선이다. 그러나 참된 쾌락은 방탕한 자들의 쾌락, 육체적 쾌락이 아니라 몸의 고통과 마음의 불안으로부터의 자유이다.

을: 인간만이 지닌 특별한 기능은 이성적 활동 능력이다. 인간의 기능을 훌륭하게 수행하는 것은 바로 이성적 활동을 잘 수행하는 것이다. 어떠한 활동이 잘 수행되는 것은 그것에 알맞은 덕을 가지고 수행될 때이다. 그러므로 행복이란 덕에 따르는 정신의 활동이라고 할 수 있다.

— < 보 기 > —

- ㄱ. 갑: 고통을 제거하기보다 쾌락을 적극적으로 추구해야 한다.
- ㄴ. 갑: 정신적 쾌락의 증진을 위해서는 모든 육체적 쾌락의 제거가 필수적이다.
- ㄷ. 을: 인간의 좋음 중 자족적 좋음이자 완전한 좋음은 행복뿐이다.
- ㄹ. 갑과 을: 행복해지려면 유덕해야 하고 유덕하면 행복해진다.

- ① ㄱ, ㄴ ② ㄱ, ㄷ ③ ㄴ, ㄷ ④ ㄴ, ㄹ ⑤ ㄷ, ㄹ

통합사회1

3단원 자연환경과 인간

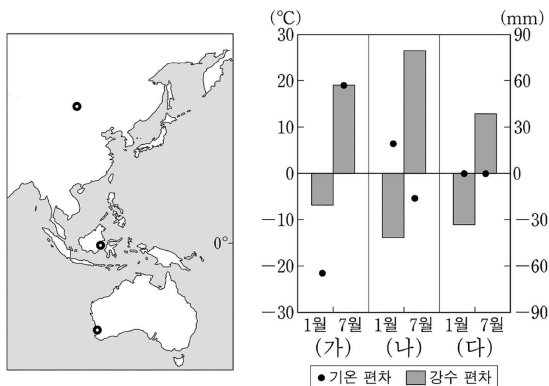
3

2025 수능대비예시_평가원5

다음 자료의 (가)~(다) 지역에 대한 설명으로 옳은 것은?
(단, (가)~(다)는 각각 지도에 표시된 세 지역 중 하나임.) [2.5점]

지도에 표시된 세 지역에서 나타나는 전통적인 생활 모습의 특징은 다음과 같다. 한 지역에서는 양, 염소 등을 기르는 유목 생활을, 또 다른 지역에서는 지면의 열기와 습기를 차단하기 위한 고상 가옥을, 마지막 한 지역에서는 올리브 등을 재배하는 수목 농업을 볼 수 있다. 이렇게 지역별로 주민 생활이 다르게 나타나는 이유는 기온과 강수량 등 그 지역의 독특한 기후 특성의 영향을 받기 때문이다. 이러한 기후 특성을 보여 주는 지표 중 기온 편차와 강수 편차는 다음과 같이 계산할 수 있다.

- 월 기온 편차 = 월평균 기온 - 연평균 기온
- 월 강수 편차 = 월 강수량 - $\left(\frac{\text{연 강수량}}{12} \right)$



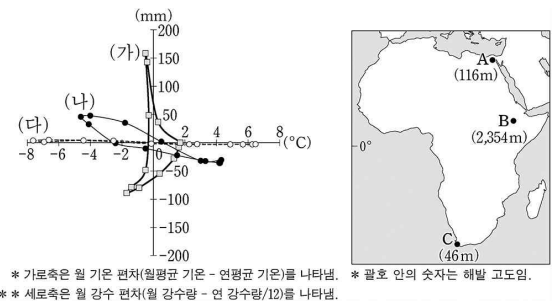
- ① (가)는 남반구에 위치한다.
- ② (나)가 위치한 국가의 전통 가옥은 이동 생활에 유리한 게르이다.
- ③ (다)가 위치한 국가의 전통 음식은 향신료가 들어간 볶음밥이다.
- ④ (다)는 (가)보다 기온의 연교차가 크다.
- ⑤ (가)와 (나)는 모두 여름 강수량이 겨울 강수량보다 많다.

4

유사 문항 연습

그래프는 세 지역의 월 기온 편차와 월 강수 편차를 나타낸 것이다. 이에 대한 설명으로 옳은 것은? (단, (가)~(다)는 각각 지도에 표시된 A~C 지역 중 하나임.)

지도에 표시된 세 지역에서는 각기 다른 전통적인 생활 방식이 나타난다. 한 지역에서는 올리브, 오렌지, 포도 등을 재배하는 수목 농업을 하며, 다른 지역에서는 해발고도가 높아 연중 봄과 같은 기후가 나타나고 감자나 옥수수 등을 재배한다. 마지막 한 지역에서는 오아시스 농업과 관개 농업을 통해 대추야자, 밀 등을 재배한다. 이렇게 지역별로 주민 생활이 다르게 나타나는 이유는 기온과 강수량 등 그 지역의 독특한 기후 특성의 영향을 받기 때문이다. 이러한 차이를 보다 명확히 이해하기 위해서는 각 지역의 기후 그래프를 살펴볼 필요가 있다. 그래프의 가로축은 월 기온 편차(월평균 기온 - 연평균 기온)를 나타내고, 세로축은 월 강수 편차(월 강수량 - 연 강수량/12)를 나타낸 것이다. 기온과 강수량의 특징에 대한 이해를 통해 각 지역의 기후와 생활 양식을 이해할 수 있다.



- ① (가)는 (나)보다 고위도에 위치한다.
- ② (다)는 (가)보다 해발 고도가 높다.
- ③ A는 연 강수량이 연 증발량보다 많다.
- ④ B는 C보다 기온의 연교차가 크다.
- ⑤ (가)는 B, (나)는 C, (다)는 A이다.

통합사회1

4단원 문화와 다양성

5

2025 수능대비예시_평가원7

다음 자료에 대한 설명으로 옳은 것은? [2점]

통합사회 온라인 수업 교실

활동 과제: A~C 사례에 나타난 문화 변동의 요인과 양상에 대해 설명하기

A	B	C
유럽인들이 현지 음악뿐만 아니라 SNS를 통해 확산된 한국 대중 음악도 일상적으로 즐기게 되었다.	(가)	만주족이 한족을 정복하여 한족 남성에게 변발을 강요하자 한족 남성의 상투 문화가 변발 문화로 대체되었다.

학생: A는 ㉠(으)로 인해 문화 동화가 나타난 사례입니다.
 ↳ 교사: 문화 변동의 요인만 옳게 설명했습니다. 문화 변동의 양상은 문화 동화가 아니라 ㉡입니다.

학생: B는 직접 전파로 인한 문화 융합의 사례에 해당합니다.
 ↳ 교사: 문화 변동의 요인과 양상 모두 옳게 설명했습니다.

학생: C에는 (나)이/가 나타나 있습니다.
 ↳ 교사: 문화 변동의 요인과 양상 모두 옳게 설명했습니다.

- ① A와 달리 C는 발견에 의한 문화 변동의 사례이다.
- ② ㉠에는 ‘직접 전파’가 들어간다.
- ③ ㉡에는 ‘문화 융합’이 들어간다.
- ④ (가)에는 ‘멕시코에서 토착 신앙과 에스파냐인이 들어온 가톨릭교가 결합하여 새로운 형태의 성모상이 탄생하였다.’가 들어갈 수 있다.
- ⑤ (나)에는 ‘자극 전파로 인한 문화 병존’이 들어갈 수 있다.

6

유사 문항 연습

다음은 통합사회 형성 평가에 대한 두 학생의 답안과 교사의 채점 결과이다. 이에 대한 설명으로 옳은 것은?

- 표는 문화 변동의 요인 A, B와 문화 접변의 결과 C, D에 관한 질문이다. 각 질문에 해당하는 답을 작성하시오. (옳은 답을 쓰면 1점, 틀린 답을 쓰면 0점임.)

구분	질문	답변	채점 결과
문화 변동의 요인	A는 내재적 요인에 해당하는가?	아니요	0점
	A와 B는 모두 기존에 없었던 새로운 문화 요소를 창조하는가?	예	1점
	(가)	아니요	㉠
문화 변동의 결과	C와 D는 모두 자문화의 정체성이 보존되었는가?	예	0점
	C는 외래문화 요소가 자문화 요소와 결합되지 않은 상태로 정착되었는가?	예	㉡
	(나)	아니요	1점

- ① ‘갑국 학자가 을국 전통 염색 기법에서 아이디어를 얻어 새로운 천연 염료 성분을 찾아낸 것’은 A의 사례이다.
- ② (가)가 ‘B는 A와 달리 한 사회의 문화 요소를 다양하게 하는 요인인가?’일 경우, ㉠은 0점이다.
- ③ ㉡이 ‘1점’이라면, ‘아프리카 음악과 유럽식 악기가 결합하여 재즈가 생겨난 것’은 C의 사례이다.
- ④ ㉡이 ‘0점’이라면, ‘외래 종교로 인해 토착 종교가 사라지는 것’은 D의 사례이다.
- ⑤ (나)가 ‘D는 문화 동화에 해당하는가?’일 경우, ㉡은 ‘0점’이다.

통합사회1

5단원 생활 공간과 사회

7

2024 수능대비예시_평가원5

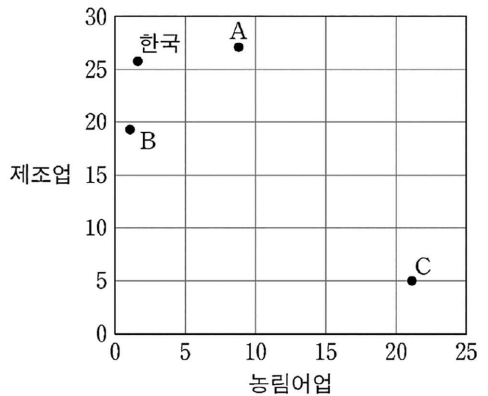
다음은 도시화와 산업화에 대한 자료이다. 이에 대한 설명으로 옳은 것은? (단, 그래프의 A~C는 각각 네팔, 일본, 타이 중 하나임.)

일반적으로 도시화 과정은 초기-가속화-종착의 3단계로 진행되고, 단계마다 도시화율과 도시 인구 증가율이 다르게 나타난다. 반면 도시화의 속도와 구체적 시기는 국가별로 다르다. 따라서 각 국가의 도시화 단계는 도시화율과 도시 인구 증가율을 통해 알 수 있다. 예를 들어 2022년 기준으로 도시화율은 일본, 한국, 타이, 네팔 순으로 높고, 도시 인구 증가율은 반대로 네팔, 타이, 한국, 일본 순으로 높다. 네팔은 도시화율이 21.5%로 가장 낮지만, 연평균 도시 인구 증가율은 3.8%로 가장 높아 가속화 단계에 진입하였음을 알 수 있다.

또한 도시화는 산업화 수준과도 밀접하게 관련되어 있다. 산업화가 고도화될수록 더 많은 사람들이 도시에 살게 되기 때문이다. 다음 그래프는 앞에서 언급한 네 나라의 2022년 경제 부문별 국내 총생산(GDP) 비율을 나타낸 것이다. 이 그래프를 통해 각 국가의 산업 부문별 비중을 알 수 있다.

〈4개국의 경제 부문별 국내 총생산 비율〉

(단위: %)



World Bank(2022)

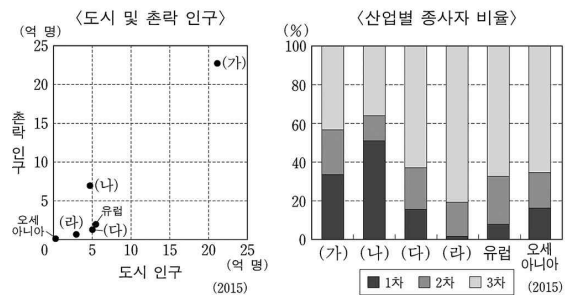
- ① A의 제조업 총부가가치액은 한국보다 많다.
- ② B는 한국보다 도시 인구수가 많다.
- ③ C는 도시 인구수가 총인구수보다 많다.
- ④ A는 B보다 산업화가 시작된 시기가 이른다.
- ⑤ 타이는 일본보다 국내 총생산에서 서비스업이 차지하는 비율이 높다.

8

유사 문항 연습

다음은 도시화와 산업화에 대한 자료이다. 이에 대한 설명으로 옳은 것은?

도시화율은 전체 인구 중에서 도시에 거주하는 인구의 비율로 국가 내 도시 인구와 총인구로 알 수 있다. 도시화 과정은 도시화율에 따라 초기 단계, 가속화 단계, 종착 단계의 3단계로 구분되며, 산업이 고도화됨에 따라 도시화는 전 세계적으로 진행되고 있다. 다음 그래프는 대륙별 인구 특성을 나타낸 그래프이다. 이를 통해 도시화율과 산업화 수준을 파악할 수 있다. 2015년 기준 대륙별 도시화율은 <앵글로아메리카><라틴아메리카><유럽><오세아니아><아시아><아프리카> 순으로 높게 나타난다.



- ① (가)는 도시화의 종착 단계에 있다.
- ② (나)는 도시화율이 50% 미만이다.
- ③ (다)는 (라)보다 산업화가 시작된 시기가 이른다.
- ④ (라)는 (가)보다 이촌향도 현상이 뚜렷하게 나타난다.
- ⑤ (라)는 (가)보다 3차 산업 종사자 수가 많다.

통합사회2

1단원 인권 보장과 헌법

9

2025 수능대비예시_평가원11

다음 자료에 대한 설명으로 옳은 것은? [2점]

- 군사 훈련을 받던 갑은 훈련소 측으로부터 종교 행사에 참여하도록 강요받았다. 갑은 거부 의사를 밝혔으나 강압적 조치에 의해 결국 종교 행사에 참여할 수밖에 없었다. 이에 갑은 종교 활동을 자유롭게 할 수 있다는 내용의 ㉠ 기본권을 침해받았으며 헌법재판소에 심판을 청구하였다.
- 국회의원이 꿈이었던 을은 검정고시에 합격하고 국립 ○○ 대학교의 수시 모집에 지원하고자 하였다. 하지만 법률에 근거하여 규정된 국립 ○○ 대학교 수시 모집 요강에서는 검정고시 출신자의 응시 자격을 제한하였다. 이에 을은 능력에 따라 균등하게 교육받을 수 있다는 내용의 ㉡ 기본권을 침해 받았으며 헌법재판소에 심판을 청구하였다.

- ① ㉠은 국가로부터 간섭받지 않을 권리로서의 기본권에 해당한다.
- ② ㉡은 국가의 정치적 의사 결정 과정에 참여할 수 있는 권리로서의 기본권에 해당한다.
- ③ ㉠과 ㉡ 모두 정당한 목적이 있다면 법률적 근거가 없어도 제한될 수 있다.
- ④ 갑과 달리 을은 기본권 보장을 위한 수단적 성격을 지닌 기본권을 행사하였다.
- ⑤ 을과 달리 갑은 헌법 소원 심판을 청구하였다.

10

유사 문항 연습

다음 사례에 대한 분석으로 옳은 것은?

갑은 ○○법이 2050년까지 탄소 중립을 달성하겠다는 목표를 설정했음에도 불구하고 2031~2049년의 구체적인 온실가스 감축 목표 수치를 제시하지 않아 자신을 포함한 미래 세대의 기본권을 침해한다며 헌법 소원 심판을 청구하였다. 이에 대해 헌법 재판소는 ○○법이 기본권을 침해한다고 판단하고 헌법 불합치 결정을 내렸다. 구치소에 수용중인 을은, 구치소장이 수용자 거실에 설치한 폐쇄 회로 텔레비전(CCTV)으로 인해 기본권을 침해당했다며, 헌법 소원 심판을 청구하였다. 이에 헌법 재판소는 목적이 정당하고, 목적 달성에 적합한 수단이며, 피해의 최소성과 법익의 균형성을 갖추었다고 판단하여 기각 결정을 내렸다.

- ① 갑이 침해당했다고 주장하는 기본권은 실질적 평등 실현을 위해 등장한 현대적 권리이다.
- ② 을이 침해당했다고 주장하는 기본권은 합리적 이유 없이 차별을 받지 않을 권리이다.
- ③ 갑과 을이 침해당한 기본권은 기본권 제한의 요건과 한계를 준수하더라도 제한될 수 없는 본질적 권리이다.
- ④ 헌법 재판소는 구치소장의 행위가 과잉 금지 원칙을 위배했다고 판단하였다.
- ⑤ 갑과 을이 청구한 심판은 법률의 위헌 여부가 재판의 전제가 된 경우에 이루어진다.

통합사회2

2단원 사회 정의와 불평등

11

2025 수능대비예시_평가원16

그림의 강연자가 지지할 입장으로 가장 적절한 것은?

[2점]

형벌은 결코 범죄자 자신의 선(善)을 비롯한 어떤 다른 선을 증진하기 위해 가해질 수는 없고, 오직 범죄자가 범죄를 저질렀기 때문에 가해져야 합니다. 인간은 물건처럼 타인의 의도를 위한 수단으로 취급될 수 없을 뿐만 아니라 자신이 의욕한 행위에 대해 책임지는 존엄한 존재이기 때문입니다. 또한 형벌의 본질은 범죄 행위에 대한 응당한 보복을 가하는 것에 있으며, 공적 정의가 원리와 표준으로 삼아야 하는 것은 동등성의 원리입니다. 만약 어떤 사람이 살인을 했다면 그는 죽어야만 합니다. 제아무리 고통 가득한 생이라 해도 생과 사 사이에 동등성은 없기 때문입니다.



- ① 살인범이라 하더라도 그의 존엄성은 마땅히 존중되어야 한다.
- ② 형벌은 개인의 선이 아니라 공동체 전체의 선을 증진하기 위한 수단이다.
- ③ 범죄자가 자신이 저지른 범죄 행위에 대해 책임지도록 하는 형벌은 없다.
- ④ 범죄자가 형벌로 인해 받는 고통은 그가 범죄로 인해 끼친 해악을 능가해야 한다.
- ⑤ 살인에 대한 사형 이외의 형벌은 범죄 예방 효과가 감소하므로 교정적 정의에 부합하지 않는다.

12

유사 문항 연습

(가)의 갑, 을 사상가들의 입장을 (나) 그림으로 표현할 때, A~C에 해당하는 적절한 진술만을 <보기>에서 고른 것은?

(가)	<p>갑: 오직 보복법만이 형벌의 질과 양을 명확하게 제시할 수 있다. 공적 정의가 원리와 표준으로 삼는 것은 어느 쪽으로도 더 기울지 않는 동등성의 원리이다.</p> <p>을: 형벌은 범법 행위를 억제하기에 충분한 정도의 가혹성만 갖춰야 한다. 종신 노역형은 사형보다 범죄 의도를 제지하는 데 필요한 엄격함을 더 많이 갖고 있다.</p>
(나)	

— < 보 기 > —

- ㄱ. A: 사형은 살인범을 수단으로서만 대하려는 응분의 보복 행위이다.
- ㄴ. B: 형벌은 사적인 보복이 아니라 공적인 정의를 실현해야만 한다.
- ㄷ. B: 범죄와 형벌 간에 비례 관계가 성립해야 한다.
- ㄹ. C: 범죄 억제력이 있는 형벌도 정당하지 않은 경우가 있다.

- ① ㄱ, ㄴ ② ㄱ, ㄷ ③ ㄴ, ㄷ ④ ㄴ, ㄹ ⑤ ㄷ, ㄹ

통합사회2

3단원 시장 경제와 지속 가능 발전


13

2025 수능대비예시_평가원21

다음 수업 장면에서 <상황 1>, <상황 2>에 대한 설명으로 옳은 것은? [2.5점]

다음 자료에는 X재와 Y재만을 생산하는 갑국과 을국이 각 재화 1단위를 생산하는 데 필요한 노동자 수가 상황별로 제시되어 있습니다. 이 자료를 분석하여 무역의 발생 원리에 대해 알아보시다.

<상황 1>			<상황 2>		
구분	X재	Y재	구분	X재	Y재
갑국	1명	2명	갑국	1명	2명
을국	2명	1명	을국	2명	3명



- ① <상황 1>에서 갑국은 X재와 Y재 생산에 모두 절대 우위를 갖는다.
- ② <상황 2>에서 무역이 발생하는 이유를 절대 우위로 설명할 수 있다.
- ③ <상황 2>에서 X재 1단위 생산을 위해 포기해야 하는 Y재의 양은 갑국이 을국보다 많다.
- ④ <상황 1>과 <상황 2>에서 Y재를 특화해서 생산하는 나라는 모두 갑국이다.
- ⑤ <상황 1>과 <상황 2> 모두에서 무역이 발생하는 이유를 비교 우위로 설명할 수 있다.

14

유사 문항 연습

다음 자료에 대한 설명으로 옳은 것은?

표는 직선인 생산 가능 곡선상에서 X재와 Y재만을 생산하는 갑국과 을국의 교역 전 X재 최대 생산 가능량과 X재 1개 생산의 기회비용을 나타낸다.

구분	갑국	을국
X재 최대 생산 가능량	80개	100개
X재 1개 생산의 기회비용	Y재 1/4개	Y재 4/5개

양국은 비교 우위가 있는 재화만을 생산하여 양국 모두 이익이 발생하는 교환 비율에 따라 교역한다. 교역 후 갑국은 X재 50개와 Y재 15개를 소비하였다. 단, 교역은 거래 비용 없이 양국 간에만 이루어지고, 생산된 재화는 모두 소비된다.

- ① 갑국의 Y재 최대 생산 가능량은 320개이다.
- ② 을국은 X재 생산에 비교 우위를 갖는다.
- ③ 양국 간 X재와 Y재의 교환 비율은 1:2이다.
- ④ 교역 후 을국의 X재 소비량은 30개이다.
- ⑤ 무역이 발생하는 이유를 절대 우위로 설명할 수 있다.

통합사회2

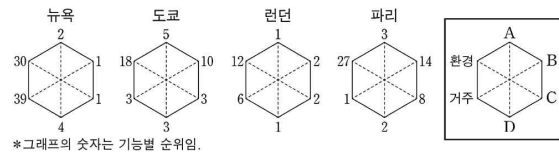
4단원 세계화와 평화

15

2025 수능대비예시_평가원20

다음 자료는 세계 도시에 대한 것이다. A~D 기능에 해당 하는 지표로 옳은 것은? [2점]

세계화로 인해 세계의 중심지 역할을 하는 세계 도시가 출현했다. 세계 도시의 선정 기준과 방법은 조사 기관마다 차이가 있는데, 그중 ○○ 연구소는 2024년에 48개 주요 도시를 대상으로 6가지 기능(거주, 경제, 문화 교류, 연구·개발, 접근성, 환경)을 70개 지표를 활용하여 산출한 점수로 종합 순위를 발표했다. 종합 순위 1위 도시는 '문화 교류'에서 1위를 유지했고 허브 공항 효과로 '접근성'에서도 1위에 올랐다. 종합 순위 2위 도시는 '경제' 및 '연구·개발'에서 1위를 차지했으나, '거주'와 '환경'에서는 30위권으로 밀려났다. 종합 순위 3위 도시는 환율 상승에 따른 해외 관광객 증가로 '문화 교류'에서 3위로 올랐고, '거주'와 '연구·개발'에서도 3위를 차지했다. 종합 순위 4위 도시는 올림픽 개최에 힘입어 '문화 교류'에서 2위로 올랐다.



- | | A | B | C | D |
|----------------|--------------|------------|--------------|--------------|
| ① 국제 직항 노선 수 | 세계 500대 기업 수 | 특허 등록 건수 | 특허 등록 건수 | 외국인 방문자 수 |
| ② 국제 직항 노선 수 | 세계 500대 기업 수 | 외국인 방문자 수 | 특허 등록 건수 | 특허 등록 건수 |
| ③ 세계 500대 기업 수 | 특허 등록 건수 | 외국인 방문자 수 | 국제 직항 노선 수 | 국제 직항 노선 수 |
| ④ 세계 500대 기업 수 | 특허 등록 건수 | 국제 직항 노선 수 | 외국인 방문자 수 | 외국인 방문자 수 |
| ⑤ 외국인 방문자 수 | 국제 직항 노선 수 | 특허 등록 건수 | 세계 500대 기업 수 | 세계 500대 기업 수 |

16

유사 문항 연습

다음 자료는 세계 도시에 대한 것이다. 이에 대한 설명으로 옳은 것은? (단, (가)~(라)는 런던, 싱가포르, 뉴욕, 서울 중 하나임.)

세계 도시의 순위는 선정 지표에 따라 다르게 나타나며, 경제, 접근성, 환경, 주거, 연구·개발, 문화 교류 등을 반영해 매년 발표한다. 이 순위를 종합적으로 분석해보면, 뉴욕, 런던, 도쿄와 같은 최상위 세계 도시에 해당하는 도시의 순위가 높고, 최근에는 서울, 싱가포르 등 아시아 주요 도시의 성장이 나타나고 있다. (가)~(라) 도시 중 뉴욕은 국제 직항 노선 수를 반영하는 기능의 순위가 가장 높고, 서울은 가장 낮다. 한편, 세계 도시 간에는 도시의 영향력 및 기능에 따라 계층적 연계 구조가 형성되는데, 이를 세계 도시 체계라고 한다. 세계 도시는 계층에 따라 최상위 세계 도시, 상위 세계 도시, 하위 세계 도시로 구분되며, 최상위 세계 도시로 갈수록 도시 수는 적어지나, 기능이 많아지고 영향력은 커진다.

〈주요 분야별 세계 도시 순위〉

구분	경제	연구·개발	문화 교류	주거	환경	접근성
(가)	15	6	11	36	14	20
(나)	1	1	2	38	28	3
(다)	4	11	9	35	12	7
(라)	2	2	1	9	11	4

〈도시 간 최단 거리(천 km)〉

(가)			
11.0	(나)		
4.7	15.3	(다)	
8.9	5.6	11.0	(라)

- (가)는 (나)보다 생산자 서비스업 종사자 비율이 높다.
- 싱가포르는 서울보다 '연구·개발'의 순위가 높다.
- (나)는 (다)보다 동일 계층 세계 도시와의 평균 거리가 멀다.
- (라)에는 국제 연합(UN)의 본부가 있다.
- 서울~싱가포르의 최단 거리는 뉴욕~런던의 최단 거리보다 길다.

통합사회2

5단원 미래와 지속가능한 삶

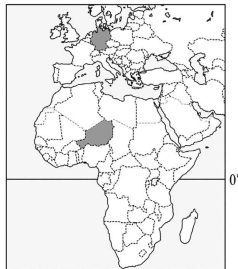
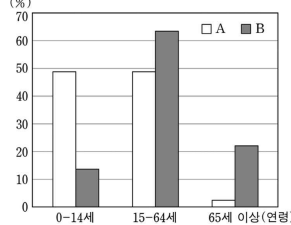
17

2024 수능대비예시_평가원14

다음 자료는 출생률과 경제 수준에 관한 것이다. 이에 대한 설명으로 옳은 것은? (단, 그래프의 A, B는 각각 지도에 표시된 두 국가 중 하나임.)

전 세계적으로 출생률과 사망률이 낮아지는 경향을 보이고 있다. 사망률은 이미 1986년부터 10% 미만으로 충분히 낮아져 안정적으로 유지되고 있는 반면, 출생률은 국가에 따라서 상황이 다르다. 여전히 ㉠ 높은 출생률 문제를 겪고 있는 국가는 경제 수준에 비해 인구 증가율이 높아 인구를 부양하기 쉽지 않으며, ㉡ 낮은 출생률 문제에 당면한 국가는 현재 경제 수준이 높지만 해당 문제가 지속될 경우 국가 유지에 어려움을 겪을 수 있다. 국가별 경제 수준 차이는 결국 이민자의 문제라는 전혀 다른 방향의 인구 문제로 이어진다. 많은 인구로 인해 국민들을 부양하기 어려운 국가에서는 사람들이 일자리를 찾아 선진국으로 이주하려 하고, 자국민 노동력의 부족을 경험하는 선진국에서는 몰려드는 이민자들의 문화적 차이와 자국민과의 일자리 갈등이라는 새로운 문제를 떠안고 있다.

〈A, B의 연령대별 인구 비율〉



- ① 유럽에는 인구 문제 ㉠을 겪는 나라가 ㉡을 겪는 나라보다 많다.
- ② A는 경제 수준에 비해 출생률이 낮은 국가에 해당한다.
- ③ B는 이민자의 문화적 정체성을 유지하기 위해 용광로 이론에 기반한 정책을 강화해왔다.
- ④ A는 초고령 사회에 도달한 국가로 B보다 중위 연령이 높다.
- ⑤ B는 A보다 총부양비(인구 부양비)가 낮다.

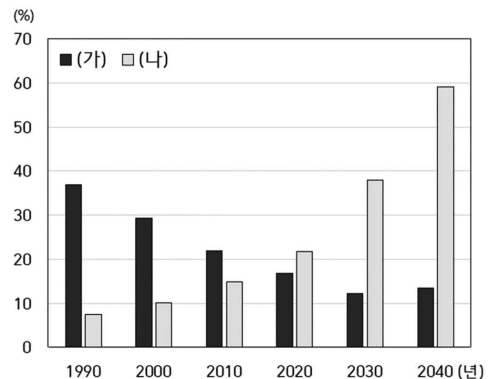
18

유사 문항 연습

다음 자료는 우리나라의 인구 구조 변화와 대응 방안에 관한 것이다. 이에 대한 설명으로 옳은 것은? (단, (가), (나)는 각각 유소년 부양비, 노년 부양비 중 하나임.)

연령별 인구 구조를 살펴보면 우리나라의 현재 인구 현황과 전망을 파악할 수 있다. ㉠생산 연령 인구, 인구 부양비, ㉡노령화 지수 등의 지표를 통해 현재의 인구 문제를 이해하고, 향후 발생할 수 있는 인구 문제를 예측할 수 있다. 우리 정부는 출산 및 양육 지원금을 제공하고 보육 시설을 확충하고 있으며, ㉢기초 연금을 확대하고 지역사회 고령자 돌봄서비스를 확대 시행하고 있다. 또한, 인구 문제의 해결을 위해서는 정부 정책뿐만 아니라 개인과 사회의 인식 변화도 필요하다. 양성평등 문화의 확립을 통해 가족 친화적인 가치관을 형성하고, 현세대와 미래 세대 간의 형평성을 고려하는 세대 간 정의 실현을 위해 노력해야 한다.

〈우리나라의 인구 부양비 추이〉



* 2030년, 2040년은 추정치임.
(통계청)

- ① (가)는 노년 부양비, (나)는 유소년 부양비이다.
- ② 1990년은 2030년보다 ㉠ 비율이 높다.
- ③ 2000년에 ㉡은 100 이상이다.
- ④ 2010~2040년 총부양비는 지속적으로 감소할 것이다.
- ⑤ ㉢은 상호 부조의 원리가 적용되는 제도이다.

INSIGHT 통합사회 문제집에는 단원별 평가원 예시 문항과 제작한 유사 문항이 더 수록되어 있습니다. 꼼꼼한 해설과 양질의 문항을 학습하고 싶다면 추천합니다! 감사합니다.