



기후기환생의 방구석 역사 여행

# 3월 모의고사


세계사  
해설서

제 4 교시 사회탐구 영역(세계사)

성명		수험번호					3			제 ( ) 선택
----	--	------	--	--	--	--	---	--	--	----------

1. (가) 문명에 대한 설명으로 옳은 것은?

이집트 문명



그림은 파라오의 관리를 지낸 사람의 무덤에 그려진 벽화로, 부장품을 배에 싣고 무덤으로 운반하는 모습이 그려져 있다. 나일강 유역에서 발달한 (가) 문명에서는 영혼 불멸과 사후 세계를 믿어 시신을 미라로 처리하고 부장품을 묻었다.

- |                      |             |
|----------------------|-------------|
| ① 콜로세움을 건립하였다.       | ① 로마        |
| ② 피라미드를 축조하였다.       | ② 이집트 문명    |
| ③ 함무라비 법전을 편찬하였다.    | ③ 메소포타미아 문명 |
| ④ 점복의 내용을 갑골에 기록하였다. | ④ 상나라       |
| ⑤ 하라파와 모헨조다로를 건설하였다. | ⑤ 인더스 문명    |

2. 밑줄 친 '황제'에 대한 설명으로 옳은 것은?

진시황

황제는 천하를 나누어 36개 군을 만들고 군마다 관리를 두었다. ... (중략) ... 천하의 병기를 수도 셴양에 모으게 한 후 녹여서 큰 종을 만들어 궁궐 뜰에 두었다. 도량의 길이와 무게를 통일하고, 수레바퀴의 폭을 동일하게 하였으며, 문자를 통일하였다.

- |                  |                |
|------------------|----------------|
| ① 교초를 발행하였다.     | ① 원나라          |
| ② 만리장성을 축조하였다.   | ② 진시황          |
| ③ 9품중정제를 시행하였다.  | ③ 위진 남북조       |
| ④ 장건을 서역에 파견하였다. | ④ 한 무제         |
| ⑤ 전연의 맹약을 체결하였다. | ⑤ (북)송나라 - 요나라 |

3. (가) 왕조에 대한 설명으로 옳은 것은? [3점]

원나라

- (가)의 대칸이 일본에 사신을 보내 교통(交通)하게 하였으나 받아들여지지 않았다. 이에 훈도에게 명하여 일본을 정벌하게 하였으나 큰 성과 없이 돌아왔다.
- (가)의 부대가 고정산에 이르자 남송의 황제가 신하를 파견하여 국새를 지니고 항복해 왔다. 동문병으로 하여금 남송의 궁전에 들어가, 창고에 소장된 물품을 인수하게 하였다.

- |                     |       |
|---------------------|-------|
| ① 동돌궐을 복속시켰다.       | ① 당나라 |
| ② 군기처를 설치하였다.       | ② 청나라 |
| ③ 정화의 함대를 파견하였다.    | ③ 명나라 |
| ④ 맹안 모극제를 실시하였다.    | ④ 금나라 |
| ⑤ 대도(베이징)를 수도로 삼았다. | ⑤ 원나라 |

4. (가) 왕조에서 있었던 사실로 옳은 것은? [3점]

북위

릉면 석굴의 황제예불도를 재현하는 행사가 열렸습니다. 황제예불도의 주인공인 (가)의 효문제는 선비족의 전통적인 복장이 아닌 한족 황제의 복장을 착용하고 있습니다. 이 황제예불도는 효문제의 한화 정책이 반영된 문화유산으로 평가받고 있습니다.



- |                   |                |
|-------------------|----------------|
| ① 균전제가 실시되었다.     | ① 북위, 수나라, 당나라 |
| ② 양세법이 시행되었다.     | ② 당나라          |
| ③ 제자백가가 출현하였다.    | ③ 춘추-전국 시대     |
| ④ 진승·오광의 난이 일어났다. | ④ 진나라          |
| ⑤ 왕안석이 신법을 추진하였다. | ⑤ 송나라          |

5. (가) 막부 시기에 있었던 사실로 옳은 것은?

에도 막부



스미다강에서 벌어졌던 불꽃 축제를 표현한 이 그림은 (가) 시기에 제작된 우키요에이다. 이 축제는 (가)의 쇼군이 재난을 막기 위해 거행한 의례에서 불꽃놀이를 허용하며 시작되었다고 한다. 이 축제는 이후 폭죽 제조업에 종사하는 조닌이 경쟁적으로 참여하며 대규모로 발전하였다.

- |                    |           |
|--------------------|-----------|
| ① 견당사가 파견되었다.      | ① 7C ~ 9C |
| ② 일본서기가 편찬되었다.     | ② 나라 시대   |
| ③ 다이카 개신이 단행되었다.   | ③ 야마토 정권  |
| ④ 수도가 헤이안쿄로 옮겨졌다.  | ④ 헤이안 시대  |
| ⑤ 산킨코타이 제도가 실시되었다. | ⑤ 에도 막부   |

6. 밑줄 친 '황제'에 대한 설명으로 옳은 것은? [3점]

청 강희제

이 그림은 이탈리아 화가가 그린 황제의 초상화입니다. 그의 재위 시기에 활동한 다른 서양인들도 있을까요? **청 강희제**

네, 있습니다. 페르비스트는 황제의 명령에 따라 삼번의 난을 진압할 대포를 제작하였고, 페레이라는 네르친스크 조약 체결 과정에서 통역을 담당하였습니다.



- |                      |                |
|----------------------|----------------|
| ① 수시력을 편찬하였다.        | ① 원나라(곽수경)     |
| ② 분서갱유를 단행하였다.       | ② 진시황          |
| ③ 거란(요)을 정복하였다.      | ③ 금나라 + (북)송나라 |
| ④ 타이완의 반청 세력을 진압하였다. | ④ <b>청 강희제</b> |
| ⑤ 통제거 등의 대운하를 건설하였다. | ⑤ 수 양제         |

7. (가) 왕조에 대한 설명으로 옳은 것은?

아바스 왕조

◦ (가)을/를 개창한 칼리프의 군대는 탈라스 전투에서 당의 군대와 결전을 벌였다. 당의 군대는 거의 전멸하고 고작 수천 명만이 간신히 살아서 탈출하였다.  
◦ (가)의 2대 칼리프 알 만수르는 바그다드를 새로운 수도로 -> **아바스 왕조**  
삼아 제국의 위용에 걸맞는 도시로 탈바꿈시켰다.

- |                         |                    |
|-------------------------|--------------------|
| ① 탄지마트를 추진하였다.          | ① 오스만 제국           |
| ② 시아파의 도움으로 수립되었다.      | ② <b>아바스 왕조</b>    |
| ③ 몽골 제국의 재건을 표방하였다.     | ③ 티무르 왕조           |
| ④ 사산 왕조 페르시아를 정복하였다.    | ④ <b>정통 칼리프 시대</b> |
| ⑤ 카르타고 등의 식민 도시를 건설하였다. | ⑤ 페니키아             |

8. (가) 제국에 대한 설명으로 옳은 것은?

오스만 제국

(가)의 술탄 메(흐)메트 2세의 명령에 따라 콘스탄티노폴리스 성벽 주위에 수많은 대포들이 배치되었다. 그중에는 500킬로그램 정도의 돌을 쏠 수 있을 만큼 거대한 대포도 있었다. ... (중략) ... 50여 일간의 포격전 끝에 심하게 파괴된 북서쪽 성벽으로 총공격이 시작되었다. 비잔티움 제국의 수비대는 격렬히 저항하였지만 연이은 공격을 감당하지 못하였고, 결국 (가)의 군대가 성벽 안으로 진입하였다.  
-> **오스만 제국**

- |                      |                 |
|----------------------|-----------------|
| ① 타지마할을 건설하였다.       | ① 무굴 제국         |
| ② 이스파한을 수도로 삼았다.     | ② 사파비 왕조        |
| ③ 레판토 해전에서 승리하였다.    | ③ 에스파냐          |
| ④ 예니체리 부대를 창설하였다.    | ④ <b>오스만 제국</b> |
| ⑤ 군관구제와 둔전병제를 시행하였다. | ⑤ 비잔티움 제국       |

9. (가) 왕조에 대한 설명으로 옳은 것은?

아케메네스 왕조 페르시아

헤로도토스가 저술한 [역사]에는 "(가)의 전령들보다 빠르게 여행을 완수하는 존재는 없다. 눈도, 비도, 더위도, 어둠도 이들을 늦추지 못한다."라고 기록되어 있습니다. 당시 (가)의 전령들은 -> **아케메네스 왕조 페르시아**  
역참을 활용해 수도인 수사에서 사르디스에 이르는 '왕의 길'을 약 9일 만에 주파할 수 있었다고 합니다.




- |                     |                        |
|---------------------|------------------------|
| ① 카스트제를 시행하였다.      | ① <b>인도 아리아인</b>       |
| ② 티마르제를 실시하였다.      | ② <b>오스만 제국</b>        |
| ③ 페르세폴리스를 건설하였다.    | ③ <b>아케메네스 왕조 페르시아</b> |
| ④ 포에니 전쟁에서 승리하였다.   | ④ 로마                   |
| ⑤ 펠로폰네소스 동맹을 주도하였다. | ⑤ 스파르타                 |

10. 밑줄 친 '이 전쟁' 중에 있었던 사실로 옳은 것은? [3점]

백년 전쟁

이곳은 랭스 대성당입니다. 성당 앞에는 이 전쟁에서 활약한 잔 다르크의 동상이 서 있습니다. 오를레앙 등에서 영국군을 격파한 잔 다르크의 도움으로 샤를 7세는 이곳에서 대관식을 치르고 프랑스 왕으로서의 정통성을 확보할 수 있었습니다.



백년 전쟁 1337년 ~ 1453년

- |                        |                           |
|------------------------|---------------------------|
| ① 델로스 동맹이 결성되었다.       | ① <b>그리스 - 페르시아 전쟁 이후</b> |
| ② 자크리의 난이 발생하였다.       | ② <b>1358년</b>            |
| ③ 카노사의 굴욕 사건이 일어났다.    | ③ <b>1077년</b>            |
| ④ 루터가 95개조 반박문을 게시하였다. | ④ <b>1517년</b>            |
| ⑤ 링컨이 노예 해방 선언을 발표하였다. | ⑤ <b>1863년</b>            |

11. (가) 왕조에 대한 설명으로 옳은 것은?

굽타 왕조

인도에서 디왈리(빛의 축제)가 시작되었습니다. 디왈리는 (가) 시기에 산스크리트어로 정리된 라마야나의 줄거리에서 -> 굽타 왕조

비롯된 것으로, 빛을 상징하는 영웅 라마가 악마를 물리치고 귀환하는 것을 축하하는 축제라고 합니다. 축제 기간 동안 불빛으로 가득한 거리에서 다양한 행사를 즐겨 보시길 바랍니다. 다음 포스팅에서는 (가)의 문화를 대표하는 칼리다사의 샤쿤탈라를 현대적으로 각색한 공연 소식이 이어집니다.

- ① 다마스쿠스를 수도로 삼았다.      ① **우마이야 왕조**
- ② 쿠트브 미나르를 건설하였다.      ② **벨리 술탄 왕조**
- ③ 에프탈의 침략으로 쇠퇴하였다.      ③ **굽타 왕조**
- ④ 마라타 동맹의 반란을 진압하였다.      ④ **무굴 제국**
- ⑤ 아소카 왕 시기에 전성기를 누렸다.      ⑤ **마우리아 왕조**

12. 밑줄 친 '노예 무역'에 대한 탐구 활동으로 가장 적절한 것은?

대서양 삼각 무역

[3점]

그림은 서인도 제도의 세인트키츠섬에 있는 사탕수수 농장의 흑인 아이를 설탕으로 그린 작품이다. 신항로를 개척하고 아메리카 지역을 정복한 유럽인들은 노예 무역을 통해 아프리카의 흑인들을 강제로 이주시키고, 사탕수수 등 유럽에서 수요가 많은 상업 작물을 대규모로 재배하게 하였다. 그 결과 많은 흑인들이 아메리카 지역에 거주하게 되었다.

- ① 한자 동맹이 결성된 시기를 알아본다.
  - ② **대서양 삼각 무역의 전개 양상을 파악한다.**
  - ③ 상파뉴 정기시가 번성하게 된 배경을 살펴본다.
  - ④ 대공황을 극복하기 위한 각국의 대응책을 찾아본다.
  - ⑤ 로마와 한 왕조 사이의 중계 무역으로 번성한 국가를 조사한다.
- ① **중세 유럽**
  - ② **대서양 삼각 무역**
  - ③ **중세 유럽**
  - ④ **1930년대**
  - ⑤ **쿠산, 파르티아**

13. (가) 인물에 대한 설명으로 옳은 것은? [3점]

크롬웰

세계사 신문

내전의 승리자, 호국경의 자리에 오르다

의회를 해산한 (가)이/가 초대 호국경에  
-> 크롬웰

올랐다. 왕당파와 의회파의 내전 당시 그는 의회파를 이끌고 네이즈비에서 결정적인 승리를 견인하였다. 또한 찰스 1세가 처형되고 공화정이 수립된 이후에는 왕당파의 거점이었던 아일랜드를 정복하였다. 호국경 취임 이후 그가 보일 행보에 이목이 집중되고 있다.

- ① **항해법을 공포하였다.**      ① **크롬웰**
- ② 권리 장전을 승인하였다.      ② **메리&윌리엄**
- ③ 대륙 봉쇄령을 발표하였다.      ③ **나폴레옹 1세**
- ④ 테르미도르 반동으로 실각하였다.      ④ **로베스피에르**
- ⑤ 에스파냐의 무적함대를 격파하였다.      ⑤ **엘리자베스 1세**

14. (가) 인물에 대한 설명으로 옳은 것은?

알렉산드로스

마케도니아의 왕 필리포스 2세의 뒤를 이은 (가)은/는 이소  
-> 알렉산드로스

스에서 아케메네스 왕조 페르시아의 다리우스 3세를 패퇴시켰다. 또한 이집트를 정복한 후 지중해 연안의 작은 어촌이던 라코티스에 자신의 이름을 딴 도시를 건설하였다.

- ① 성 소피아 성당을 세웠다.      ① **유스티니아누스**
- ② 크리스트교를 공인하였다.      ② **콘스탄티누스**
- ③ 서로마 황제의 관을 받았다.      ③ **카롤루스 대제**
- ④ 악티움 해전에서 승리하였다.      ④ **옥타비아누스**
- ⑤ 인더스강 유역까지 진출하였다.      ⑤ **알렉산드로스**

15. (가) 국가에 대한 설명으로 옳은 것은? [3점]

미국

4년 전 막부와 화친 조약을 맺었던 (가)은/는 텐진 조약 체결  
-> 미국


소식과 함께 영국과 프랑스가 일본을 침략할 수도 있다는 정보를 가지고 시모다에 함대를 보냈다. 그곳에 있던 (가)의 **총영사 해리스는 곧바로 에도로 갔다.** 그는 군항 내항 정보를 이용하여 수호 통상 조약의 조인을 막부에 강요하였다.

- ① 플라시 전투에서 승리하였다.      ① **영국**
- ② 스웨덴과 북방 전쟁을 벌였다.      ② **러시아**
- ③ 파쇼다에서 영국과 충돌하였다.      ③ **프랑스**
- ④ **하와이 제도와 광섬을 차지하였다.**      ④ **미국**
- ⑤ 모로코 지배권을 두고 프랑스와 대립하였다.      ⑤ **독일**

16. (가)의 통일 과정에서 있었던 사실로 옳은 것은?

이탈리아 통일

**영화 산책**



이 영화는 (가)의 통일 운동을 -> 이탈리아 다루고 있다. 주인공 가리발디는 붉은 셔츠대를 이끌고 시칠리아와 나폴리를 점령한다. 가리발디가 이 점령지를 국왕 비토리오 에마누엘레 2세에게 헌납하면서 통일 운동은 새로운 국면을 맞이하게 된다.

- ① 렉싱턴 전투가 벌어졌다.                      ① 미국 혁명
- ② 루이 16세가 처형되었다.                      ② 프랑스 혁명
- ③ 베스트팔렌 조약이 체결되었다.              ③ 30년 전쟁
- ④ 카보우르가 재상으로 활동하였다.              ④ 이탈리아 통일
- ⑤ 드골이 영국에 망명 정부를 세웠다.              ⑤ 2차 세계 대전

17. 다음 격문을 발표한 운동에 대한 설명으로 옳은 것은? [3점]

태평천국 운동

만주인은 머리를 깎고 한 가닥의 긴 꼬리를 뒤로 젖히도록 강제하고 있다. 이는 우리를 금수로 바꾸는 것이다. …(중략)… 만주인은 탐관오리를 방치하여 인민의 뺏속까지 빨아먹고 있다. 지금 다행히 천도(天道)는 바르게 회복되었고, 만주인은 반드시 멸망할 징조가 있다. 여기는 이제 황상제의 큰 은혜 덕분에 천왕(天王) 홍수전이 다스리는 곳이 되었다. 어찌 만주인이 오랫동안 우리 중국을 혼란시킬 수 있겠는가?

-> 태평천국 운동

- ① 천조전무 제도를 발표하였다.                      ① 태평천국 운동
- ② 메이지 유신의 영향을 받았다.                      ② 변법자강 운동
- ③ 8개국 연합군에 의해 진압되었다.                      ③ 의화단 운동
- ④ 일본의 21개조 요구 철폐를 주장하였다.              ④ 5·4 운동
- ⑤ 우창의 신군이 봉기하면서 본격화되었다.              ⑤ 신해혁명

18. 자료에 나타난 시기를 연표에서 옳게 고른 것은? [3점]

베를린 장벽 붕괴


모든 동독 시민이 국경을 넘어 여행하는 것이 가능하고, 여행이나 친지 방문 목적의 비자 발급이 가능하다는 뉴스가 오늘 저녁 방송에서 보도되었다. 그 즉시 방송국에는 이 사실을 확인하는 전화가 빗발쳤다. 몇몇 베를린 시민들은 망치 등을 들고 나와 베를린 장벽을 부수기 시작하였다.

-> 베를린 장벽 붕괴 1989년

(가)	(나)	(다)	(라)	(마)
트루먼 독트린 발표	중화인민 공화국 수립	반동 회의 개최	닉슨 독트린 발표	고르바초프 집권
1947년	1949년	1955년	1969년	1985년
① (가)	② (나)	③ (다)	④ (라)	⑤ (마)

19. 밑줄 친 '이 전쟁' 중에 있었던 사실로 옳은 것은? [3점]

이탈리아 통일



'황제 퇴위'라고 적혀 있음.


독일 황제 빌헬름 2세를 중심으로 영국, 프랑스, 미국 등 연합국 주요 인물들의 사진이 실려 있음.

사진은 독일 황제 빌헬름 2세의 퇴위를 보도하는 당시 신문의 1면이다. 이 전쟁 중에 쾰른 군항 해군들의 봉기를 시작으로 -> 1차 세계 대전 1914년 ~ 1918년 독일에서 혁명이 발생하여 빌헬름 2세가 퇴위하고 공화국이 선포되었다. 이후 연합국 측과 독일은 베르사유 조약을 체결하였다.

- ① 튀르키예 공화국이 수립되었다.                      ① 1923년
- ② 제2차 국공 합작이 이루어졌다.                      ② 1937년
- ③ 독소 불가침 조약이 체결되었다.                      ③ 1939년
- ④ 노르망디 상륙 작전이 전개되었다.                      ④ 1944년
- ⑤ 볼셰비키가 주도한 혁명이 발생하였다.              ⑤ 1917년

20. (가) 국제 기구에 대한 설명으로 옳은 것은?

국제 연합(UN)



사진은 대서양 헌장의 전후 평화 수립 원칙을 바탕으로 창립된 (가)을/를 상징하는 포스터이다. 여기에는 가입국들의 국기를 형상화한 잎사귀가 달린 나무를 심는 모습이 묘사되어 있다. 이는 제2차 세계 대전 종결 직후 공식 출범한 (가)에서 여러 국가들이 국제 평화와 번영을 위해 협력하는 것을 상징한다.

- ① 유럽의 단일 통화 사용을 결의하였다.
- ② 빈 체제를 유지하기 위해 결성되었다.
- ③ 5개 상임 이사국에 거부권을 부여하였다.
- ④ 국제 통화 기금(IMF)의 설립을 결정하였다.
- ⑤ 북대서양 조약 기구(NATO)의 결성에 대항하였다.
- ① 유럽 연합(EU)
- ② 신성 동맹, 4국 동맹
- ③ 국제 연합(UN)
- ④ 브레턴우즈 회의
- ⑤ 바르샤바 조약 기구(WTO)