



기환기환생의 방구석 역사 여행

3월 모의고사

동아시아사

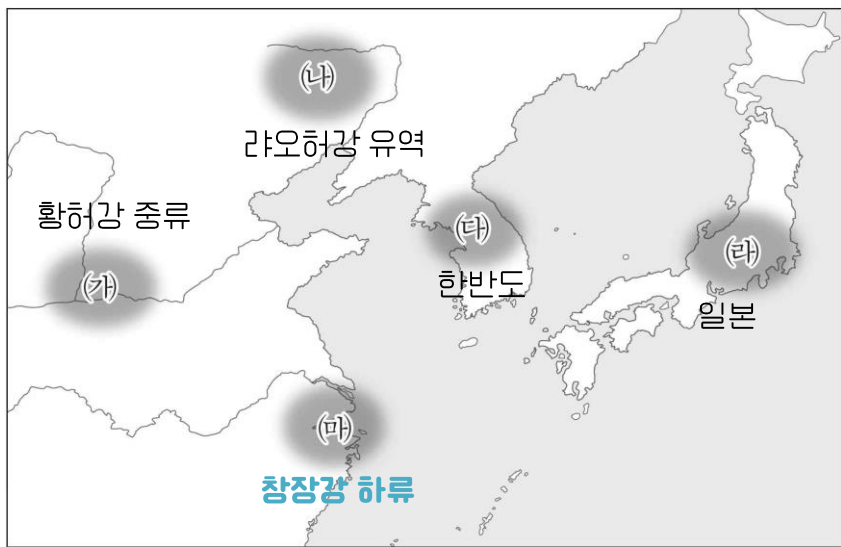
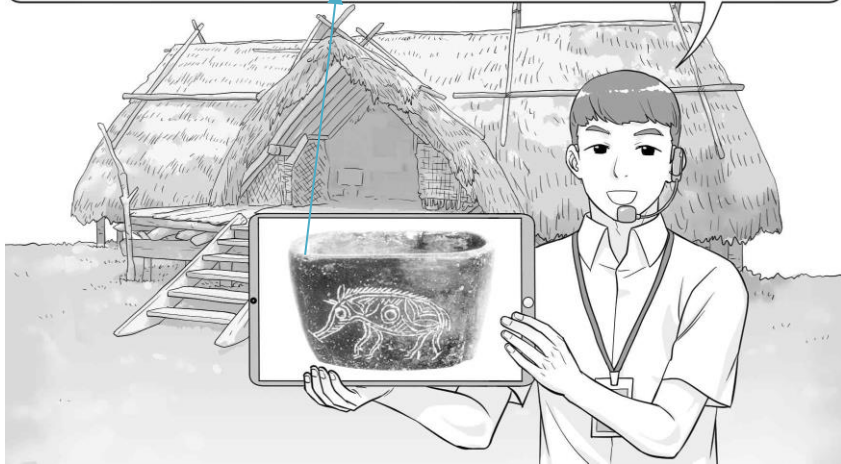
해설서

제 4 교시 사회탐구 영역(동아시아사)

성명		수험번호					3			제 () 선택
----	--	------	--	--	--	--	---	--	--	----------

1. 밑줄 친 '이 문화'가 발달한 지역을 지도에서 옳게 고른 것은?
허무두 문화

이것은 이 문화의 유물인 돼지 그림 토기입니다. 이 문화의 사람들은 벼 이삭이나 가족의 모습 등을 새겨 토기를 제작하였습니다. 뒤편의 가옥은 그들이 거주했던 고상 가옥을 복원한 것입니다.
허무두 문화 IN 창장강 하류



- ① (가) ② (나) ③ (다) ④ (라) ⑤ (마)

2. 밑줄 친 '난리'가 끼친 영향으로 가장 적절한 것은? [3점]
(서)진 멸망

강통이 주장하기를, “관중*의 인구 100여만 명 가운데 그 비율로 따지면 오랑캐가 절반에 이르고 그중 홍노족의 무리는 호구 수가 수만에 달합니다. 천성이 날래고 사나운 데다가 말 타고 활 쏘는 것이 저족이나 강족보다 배나 능숙합니다. 이들이 반란을 일으키게 되면 크게 혼란에 빠질 것입니다. 이들을 잘 타일러 본래의 고향으로 돌아가게 만들어야 합니다.”라고 하였다. 하지만 진(晉)의 황제는 이 주장을 받아들이지 않았고, 그로부터 10년도 지나지 않아 홍노족 등이 난리를 일으켜 수도가 함락되고 천하가 혼란에 휩싸였다. → (서)진 멸망
* 관중 : 현재 산시성 중부 지역으로 한, 당 등의 수도가 있었다.

- ① 위만이 준왕을 몰아내었다. ① 위만 조선
- ② 소가씨 세력이 축출되었다. ② 다이카 개신
- ③ 이자성이 베이징을 점령하였다. ③ 명나라 멸망
- ④ 거란(요)이 연운 16주를 차지하였다. ④ 요나라
- ⑤ 한족이 강남으로 이동하여 동진을 세웠다. ⑤ (서)진 멸망 후 동진 건국

3. 밑줄 친 '우리 나라'의 대외 관계에 대한 설명으로 옳은 것은?
당나라

일찍이 태종 황제께서는 백성을 위해 전쟁을 그치게 하고자 토번과의 통혼을 허락하고 문성 공주를 보내 우호 관계를 여셨다. 그리하여 수십 년간 평화가 유지되었다. 하지만 이후 상황이 바뀌어 군대가 변경에 자주 파견되었으며 백성의 생활은 피폐해졌다. …(중략)… 근래에 토번이 다시 화친을 위해 우리나라에 혼인을 맺자는 청원을 해 왔다. 이에 짐은 → 당나라
그들의 정성스러운 청원을 윤택하여 금성 공주를 보내 우호 관계를 다시고자 한다.

- ① 가마쿠라 막부를 침략하였다. ① 원나라
- ② 일본에 통신사를 파견하였다. ② 조선
- ③ 신라와 연합하여 백제를 멸망시켰다. ③ 당나라
- ④ 야마타이국의 히미코 여왕을 책봉하였다. ④ 위나라
- ⑤ 왜구의 근거지인 쓰시마섬을 토벌하였다. ⑤ 고려, 조선

4. (가) 국가에 대한 설명으로 옳은 것은? [3점]
금나라

몽골의 공격을 피해 (가)의 선종이 중도(연경)에서 황허강 이남으로 천도하였고, 변방의 군대는 무너져 흩어졌다. 그 이후에 군사력은 더욱 약해져 25명을 1모극으로 하고 4모극을 1맹안으로 조직하였다. 매 모극의 전투 요원은 기수(旗手)와 고수(鼓手), 취사병 등을 제외하면 고작 18명이었다. 대오를 이루기도 부족하여 다만 명목만 남은 상태였다.

- ① 카이펑을 함락하였다. ① 금나라
- ② 전연의 맹약을 맺었다. ② (북)송나라 - 요나라
- ③ 독서삼품과를 시행하였다. ③ 통일 신라
- ④ 다이호 율령을 반포하였다. ④ 일본
- ⑤ 타이완의 정씨 세력을 진압하였다. ⑤ 청나라

5. 밑줄 친 '황제'에 대한 설명으로 옳은 것은?
한 무제

음식으로 보는 동아시아사 - 석류편
오늘날 달콤한 맛과 다양한 효능으로 사랑받는 석류는 ○ 왕조 시기에 중국으로 전해졌다. 기록에 따르면 황제의 명으로 서역에 → 한 무제
파견된 장군이 석류씨를 가져왔으며, 황제는 그가 가져온 석류씨를 황실 정원인 상림원에 심게 하였다고 한다.

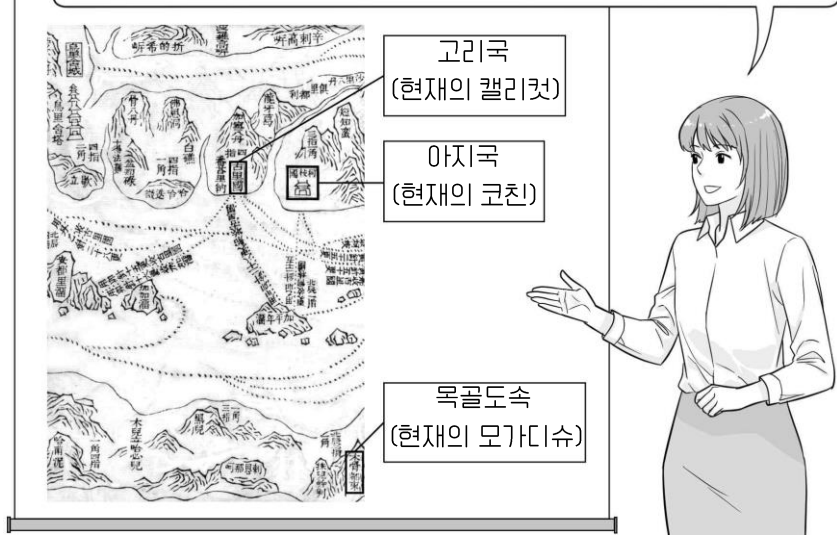
- ① 분서갱유를 일으켰다. ① 진시황
- ② 고조선을 멸망시켰다. ② 한 무제
- ③ 별무반을 편성하였다. ③ 고려
- ④ 다이카 개신을 단행하였다. ④ 일본
- ⑤ 왜의 노국왕에게 금인을 내려 주었다. ⑤ 후한 광무제

6. (가) 국가에 대한 설명으로 옳은 것은?

명나라

명나라

이것은 무비지에 수록된 항해도의 일부로, (가)에서 추진한 **정화의 항해**를 바탕으로 제작되었습니다. 지도에는 인도와 아프리카 동부 지역의 지명이 기록되어 있고 점선으로 항대의 이동 경로가 표시되어 있습니다.



- | | |
|-----------------------|-----------|
| ① 팔기제를 시행하였다. | ① 후금, 청나라 |
| ② 좌현왕과 우현왕을 두었다. | ② 흉노 |
| ③ 중앙에 신기관을 설치하였다. | ③ 일본 |
| ④ 난징에서 베이징으로 천도하였다. | ④ 명나라 |
| ⑤ 교육 기관으로 주자감을 설립하였다. | ⑤ 발해 |

7. 자료에 나타난 시기에 볼 수 있는 모습으로 가장 적절한 것은?

감진 8C

[3점]

좌보산릉에서 치러진 쇼무 상황의 장례 의식은 부처를 받드는 것과 같았다. 이날 천황이 명하기를, “상황께서는 출가해서 부처에 귀의하셨으므로 시호를 올리지 말라.”라고 하였다. 이후 태정관이 명하기를, “상황께 바치는 쌀과 소금 같은 것은 마땅히 중국에서 온 승려 **감진** 등에게 주어 공양하게 하라.”라고 하였다. → 감진 8C

- | | |
|-----------------------|-------------|
| ① 오닌의 난에 가담하는 무사 | ① 15C ~ 16C |
| ② 백강 전투에 참전하는 왜군 | ② 7C |
| ③ 북위에 사신을 보내는 고구려왕 | ③ 5C ~ 6C |
| ④ 사고전서 편찬에 참여하는 학자 | ④ 청나라 |
| ⑤ 수도 헤이조쿄에서 업무를 보는 관리 | ⑤ 나라 시대 8C |

8. 밑줄 친 ‘이 조약’의 결과로 옳은 것은? [3점]

시모노세키 조약

유럽에 파견된 공사의 전보에 따르면 러시아, 프랑스, 독일 등의 강력한 간섭을 피할 수 없을 것으로 보입니다. 이는 이 조약의 체결 과정에서 우리가 청국에 라오둥반도를 요구한 → 시모노세키 조약 1895년
사실을 처음부터 이들 국가에 알려 주지 않았기 때문으로 보입니다. 총리대신의 생각은 어떠하든지 기탄없이 알려주시기 바랍니다.

- | | |
|--------------------------|-------------|
| ① 홍콩이 영국에 할양되었다. | ① 난징 조약 |
| ② 일본이 타이완을 차지하였다. | ② 시모노세키 조약 |
| ③ 시모다와 하코다테가 개항되었다. | ③ 미·일 화친 조약 |
| ④ 대한 제국이 외교권을 박탈당하였다. | ④ 을사조약 |
| ⑤ 서양 외교관의 베이징 주재가 허용되었다. | ⑤ 텐진·베이징 조약 |

9. (가) 인물에 대한 설명으로 옳은 것은?

주희

자료로 보는 동아시아 사상가

책을 읽을 때는 먼저 [논어]와 [맹자]를 읽은 뒤에 역사책을 읽어야 하니, 그렇게 하면 마치 여기 있는 밝은 거울에 곱거나 미운 것이 비침을 피할 수 없는 것과 같다. 만약 철저하게 [논어], [맹자], [중용], [대학]을 읽지 않고 바로 역사책을 읽는다면, 마음속에 일정한 기준이 없어 대부분 사람이 미혹되게 된다.

자료는 (가)이/가 역사책을 읽기 전에 사서(四書)를 먼저 → 주희

읽기를 권하는 내용이다. 그는 사서를 강조하였으며, 사서에 대한 새로운 주석을 달아 사서집주를 편찬하였다.

- | | |
|------------------------|----------|
| ① 성리학을 집대성하였다. | ① 주희 |
| ② 왕오천축국전을 저술하였다. | ② 혜초 |
| ③ 쇼토쿠 태자의 스승이 되었다. | ③ 혜자 |
| ④ 후지와라 세이카와 교류하였다. | ④ 강항 |
| ⑤ 에도 막부의 의례 정비를 주도하였다. | ⑤ 하야시 라잔 |

10. 밑줄 친 ‘침략’의 영향으로 가장 적절한 것은?

병자호란

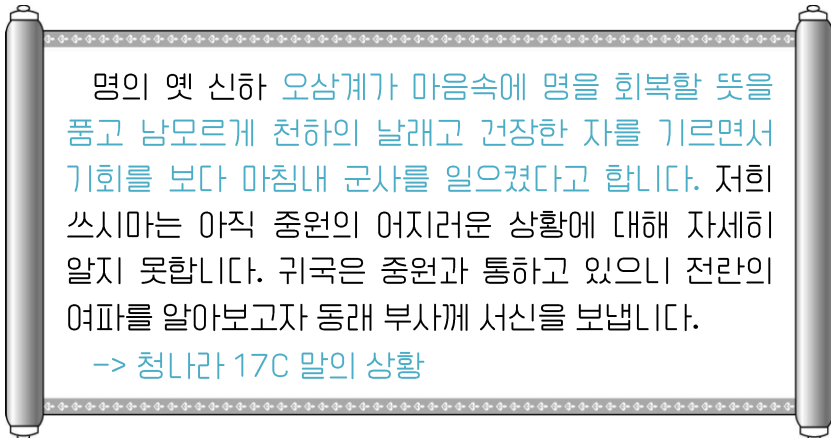
병자호란



- | | |
|---------------------|------------|
| ① 남송이 멸망하였다. | ① 원 쿠빌라이 칸 |
| ② 장거정이 개혁을 시행하였다. | ② 북로남왜 |
| ③ 무로마치 막부가 쇠퇴하였다. | ③ 오닌의 난 |
| ④ 조선에서 북벌론이 대두하였다. | ④ 병자호란 이후 |
| ⑤ 누르하치가 여진족을 통합하였다. | ⑤ 1616년 |

11. 다음 편지가 작성된 시기에 볼 수 있는 모습으로 가장 적절한 것은? [3점]

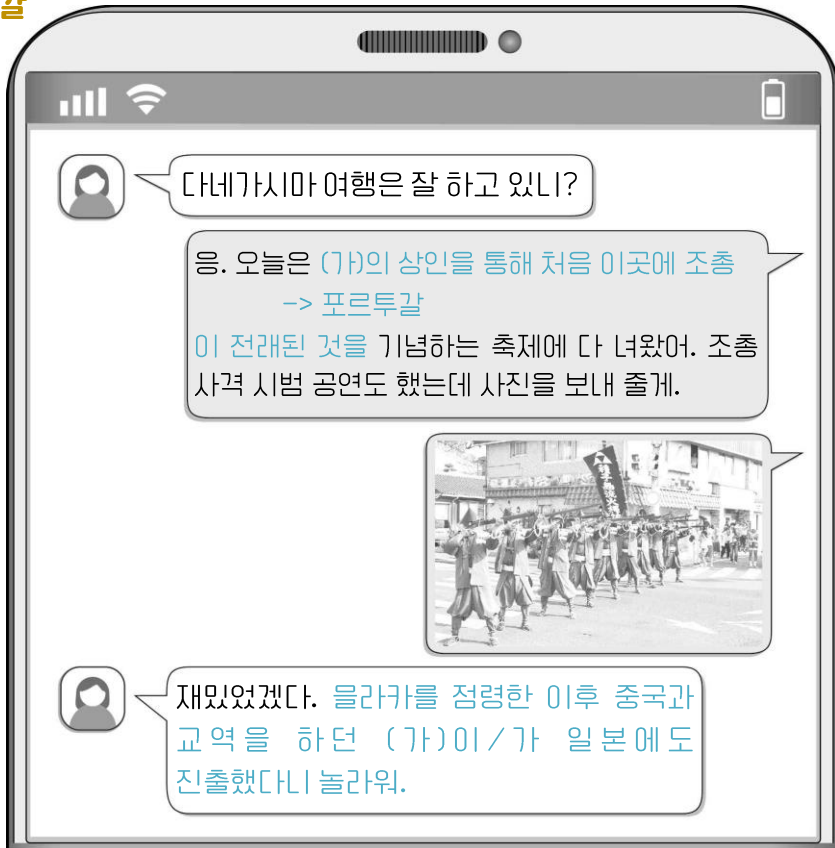
청나라



- ① 왜관에서 교역하는 상인 ① **15C ~ 19C**
- ② 토목보에서 포위당한 황제 ② **15C**
- ③ 해적을 소탕하는 청해진 병사 ③ **9C**
- ④ 나가시노 전투에서 활약하는 무사 ④ **16C**
- ⑤ 몽골의 침략에 맞서는 찐 왕조의 장군 ⑤ **13C**

12. (가) 국가에 대한 설명으로 옳은 것은? [3점]

포르투갈



- ① 연행사를 파견하였다. ① **조선**
- ② 매카트니 사절단을 보냈다. ② **영국**
- ③ 제1차 사이공 조약을 체결하였다. ③ **프랑스 - 베트남**
- ④ 마카오를 교역의 거점으로 삼았다. ④ **포르투갈**
- ⑤ 무역 통제를 위해 신패를 발급하였다. ⑤ **에도 막부**

13. 자료를 활용한 탐구 활동으로 가장 적절한 것은?


난학

여러 증상의 원인은 해부를 하지 않으면 알 수 없다. 네덜란드의 의학이 발달한 것도 바로 해부학에서 비롯된 것이다. 그래서 나는 네덜란드 서적 가운데 이 책을 골라 번역하여 초학자의 모범으로 삼았다. ... (중략) ... '아나토미'는 '해체'라고 번역하였다. 그래서 이 책의 제목을 [해체신서]라고 하였다.
-> 난학

- ① 호한 융합의 사례를 조사한다. ① **북위**
- ② 사회 진화론이 끼친 영향을 분석한다. ② **일본 제국주의 침략**
- ③ 난학의 발달이 본격화된 계기를 알아본다. ③ **네덜란드 학문 유입**
- ④ 왕수인이 집대성한 학문의 특징을 살펴본다. ④ **양명학**
- ⑤ 제자백가가 활동하던 시기의 상황을 파악한다. ⑤ **춘추·전국 시대**

14. 밑줄 친 '이 전쟁'의 배경으로 가장 적절한 것은?

1차 아편 전쟁



그림은 **이 전쟁** 중에 그려진 삽화로 광저우 인근에서 증기선 네메시스호가 청의 전함을 공격하는 모습이다. 이후 네메시스호는 창장강을 거슬러 올라가 대운하의 길목을 장악하였다. **결국 전함이 불리해진 청은 난징 조약을 체결하였다.**

그림은 이 전쟁 중에 그려진 삽화로 광저우 인근에서 증기선 네메시스호가 청의 전함을 공격하는 모습이다. 이후 네메시스호는 창장강을 거슬러 올라가 대운하의 길목을 장악하였다. 결국 전함이 불리해진 청은 난징 조약을 체결하였다.

- ① 루거우차오 사건이 발생하였다. ① **중·일 전쟁**
- ② 페리 함대가 무력시위를 벌였다. ② **미·일 화친 조약**
- ③ 임칙서가 아편 밀무역을 단속하였다. ③ **1차 아편 전쟁**
- ④ 동학 농민군이 전주성을 장악하였다. ④ **청·일 전쟁**
- ⑤ 도요토미 히데요시가 센고쿠 시대를 통일하였다. ⑤ **센고쿠 시대 통일**

15. 밑줄 친 '학제'를 제정한 정부에 대한 설명으로 옳은 것은?

메이지 정부 근대 학제

[3점]

사람은 배우지 않을 수 없다. 이에 이번에 **문부성**에서 처음으로 **학제**를 제정하여 포고하니 화족(華族)과 사족(士族)뿐만 아니라 농민, 상인, 부녀자까지 배우지 않는 자가 없기를 기대한다. ... (중략) ... **아동은 남녀 구별 없이 의무적으로 소학교에 다니게 해야 할 것이다.**

- ① 광무개혁을 추진하였다. ① **대한 제국**
- ② 금릉 기기국을 설립하였다. ② **양무운동**
- ③ 경사 대학당을 설치하였다. ③ **청나라**
- ④ 자유 민권 운동을 탄압하였다. ④ **메이지 정부**
- ⑤ 신헌법(평화 헌법)을 제정하였다. ⑤ **1946년**

16. (가) 운동에 대한 설명으로 옳은 것은?

의화단 운동



그림은 (가)을/를 소재로 한 것이다. 권투 장갑을 낀 중국인이 열강의 연합군과 대치하는 모습이 묘사되어 있다. (가)은/는
-> 의화단 운동
열강의 이런 침탈 등에 반발하여 일어 났지만, 연합군을 구성한 열강의 공격으로 실패하였다. 이후 신축 조약이 체결되는 결과를 가져왔다.

- | | |
|-------------------------|-----------|
| ① 부청멸양을 내세웠다. | ① 의화단 운동 |
| ② 홍수전 등이 주도하였다. | ② 태평천국 운동 |
| ③ 3·1 운동의 영향을 받았다. | ③ 5·4 운동 |
| ④ 청일 전쟁의 패배로 한계를 드러내었다. | ④ 양무운동 |
| ⑤ 서양식 입헌 제도의 도입을 요구하였다. | ⑤ 변법자강 운동 |

17. 밑줄 친 ‘이 전쟁’에 대한 탐구 활동으로 가장 적절한 것은?

베트남 전쟁

박정희 정부가 추가 파병을 추진하고 있다. 자유 수호라는 미명 아래 유독 우리만 더 많은 피를 흘릴 수는 없다. 자유 진영인 영국, 프랑스, 서독 등도 이 전쟁을 방관하고 있다. 우리는 준전시국으로 북한, 중국과 대립하고 있으며 이미 많은 군인을 이 전쟁에 파병하였다. 우리는 할 일을 다했고 명분도 세웠다. -> 베트남 전쟁

- | | |
|------------------------------|-----------|
| ① 파리 평화 협정의 주요 내용을 분석한다. | ① 베트남 전쟁 |
| ② 중화 인민 공화국의 수립 과정을 파악한다. | ② 국·공 내전 |
| ③ 제1차 국공 합작이 결렬된 원인을 알아본다. | ③ 상하이 쿠데타 |
| ④ 일본이 국제 연맹을 탈퇴한 배경을 조사한다. | ④ 만주 사변 |
| ⑤ 인천 상륙 작전이 전세에 끼친 영향을 살펴본다. | ⑤ 6·25 전쟁 |

18. (가) 사건이 전개된 시기에 있었던 사실로 옳은 것은? [3점]

문화 대혁명

(가)을/를 지지하는 홍위병이 지난 몇 달간 마오쩌둥 주석의 -> 문화 대혁명 1966년 ~ 1976년
호소에 열렬히 호응하고 자신을 단련하였다. 당내의 자본주의 노선을 추종하는 소수의 당권파와 자산 계급에 대해 투쟁을 전개하였다. 이제 우리 나라의 (가)은/는 새로운 단계로 접어들었다. 홍위병은 자신의 고향과 학교로 돌아가 활동을 이어 가야 한다.

- | | |
|----------------------|---------|
| ① 55년 체제가 붕괴되었다. | ① 1993년 |
| ② 경찰 예비대가 창설되었다. | ② 1950년 |
| ③ 도이머이 정책이 채택되었다. | ③ 1986년 |
| ④ 6월 민주 항쟁이 전개되었다. | ④ 1987년 |
| ⑤ 닉슨 대통령이 중국을 방문하였다. | ⑤ 1972년 |

19. (가) 국가에 대한 설명으로 옳은 것만을 <보기>에서 고른 것은?

[3점] **중일 전쟁**

상하이 전투에는 양측 모두 막대한 병력을 투입하였다. 그러나 (가)의 본토에서 증파된 병력이 중국군의 측면과 배후를 공격함으로써 전세는 (가) 쪽으로 크게 기울었고, 11월
-> 일본

중순에 조계를 제외한 상하이 전체가 함락되었다. 상하이가 함락되자 국민 정부는 장기적인 항전을 도모하고자 수도를 난징에서 충칭으로 이전한다고 발표하였다. 상하이에 이어 난징도 함락되었고 수많은 사람들이 학살당하였다.

< 보기 >

- | | |
|------------------------|---------------|
| 가. 만주 사변을 일으켰다. | 가. 일본 |
| 나. 알타 회담에 참가하였다. | 나. 미국, 영국, 소련 |
| 다. 포츠머스 조약을 체결하였다. | 다. 일본 - 러시아 |
| 라. 히로시마에 원자 폭탄을 투하하였다. | 라. 미국 |

- ① 가, 나 ② 가, 다 ③ 나, 다 ④ 나, 라 ⑤ 다, 라

20. 다음 연설이 이루어진 시기를 연표에서 옳게 고른 것은?

타이완 천수이볜 총통 당선

[3점]

우리 국민은 민주적 투표를 통해 역사적인 정권 교체를 완성하였습니다. 이는 중화민국 역사상 처음으로 뿐만 아니라, 우리 사회의 획기적인 이정표가 될 것입니다. 이번 총통 선거 결과는 개인의 승리나 민진당의 승리가 아니라 국민의 승리이자 민주주의의 승리입니다.

-> 타이완 천수이볜 총통 당선 2000년



	(가)	(나)	(다)	(라)	(마)
	6·25 전쟁 발발	한·일 기본 조약 체결	유신 헌법 제정	미·중 수교	한·중 수교
	1950년	1965년	1972년	1979년	1992년
				일본, 민주당 정권 출범	2009년

- ① (가) ② (나) ③ (다) ④ (라) ⑤ (마)