

문항 출처 : 220603

3. $\pi < \theta < \frac{3}{2}\pi$ 인 θ 에 대하여 $\tan \theta = \frac{12}{5}$ 일 때, $\sin \theta + \cos \theta$ 의 값은? [3점]

- ① $-\frac{17}{13}$ ② $-\frac{7}{13}$ ③ 0 ④ $\frac{7}{13}$ ⑤ $\frac{17}{13}$

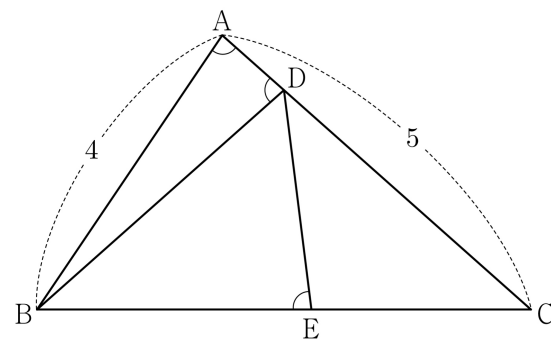
문항 출처 : 220612

12. 그림과 같이 $\overline{AB} = 4$, $\overline{AC} = 5$ 이고 $\cos(\angle BAC) = \frac{1}{8}$ 인

삼각형 ABC가 있다. 선분 AC 위의 점 D와 선분 BC 위의 점 E에 대하여

$$\angle BAC = \angle BDA = \angle BED$$

일 때, 선분 DE의 길이는? [4점]



- ① $\frac{7}{3}$ ② $\frac{5}{2}$ ③ $\frac{8}{3}$ ④ $\frac{17}{6}$ ⑤ 3

문항 출처 : 220615

15. $-1 \leq t \leq 1$ 인 실수 t 에 대하여 x 에 대한 방정식

$$\left(\sin \frac{\pi x}{2} - t\right)\left(\cos \frac{\pi x}{2} - t\right) = 0$$

의 실근 중에서 집합 $\{x | 0 \leq x < 4\}$ 에 속하는 가장 작은 값을 $\alpha(t)$, 가장 큰 값을 $\beta(t)$ 라 하자. <보기>에서 옳은 것만을 있는 대로 고른 것은? [4점]

—<보 기>—

ㄱ. $-1 \leq t < 0$ 인 모든 실수 t 에 대하여 $\alpha(t) + \beta(t) = 5$ 이다.ㄴ. $\{t | \beta(t) - \alpha(t) = \beta(0) - \alpha(0)\} = \left\{t \mid 0 \leq t \leq \frac{\sqrt{2}}{2}\right\}$ ㄷ. $\alpha(t_1) = \alpha(t_2)$ 인 두 실수 t_1, t_2 에 대하여
$$t_2 - t_1 = \frac{1}{2}$$
이면 $t_1 \times t_2 = \frac{1}{3}$ 이다.

- ① ㄱ ② ㄱ, ㄴ ③ ㄱ, ㄷ
 ④ ㄴ, ㄷ ⑤ ㄱ, ㄴ, ㄷ

문항 출처 : 220906

6. $\frac{\pi}{2} < \theta < \pi$ 인 θ 에 대하여 $\frac{\sin \theta}{1 - \sin \theta} - \frac{\sin \theta}{1 + \sin \theta} = 4$ 일 때,
 $\cos \theta$ 의 값은? [3점]

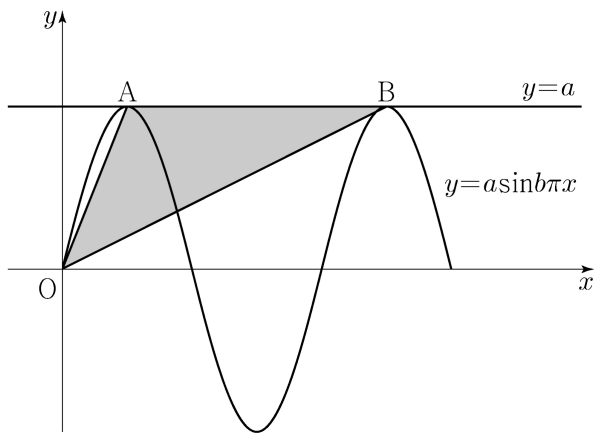
- ① $-\frac{\sqrt{3}}{3}$ ② $-\frac{1}{3}$ ③ 0 ④ $\frac{1}{3}$ ⑤ $\frac{\sqrt{3}}{3}$

문항 출처 : 220910

10. 두 양수 a, b 에 대하여 곡선 $y = a \sin b \pi x$ ($0 \leq x \leq \frac{3}{b}$)이

직선 $y = a$ 와 만나는 서로 다른 두 점을 A, B라 하자.
삼각형 OAB의 넓이가 5이고 직선 OA의 기울기와
직선 OB의 기울기의 곱이 $\frac{5}{4}$ 일 때, $a+b$ 의 값은?
(단, O는 원점이다.) [4점]

- ① 1 ② 2 ③ 3 ④ 4 ⑤ 5

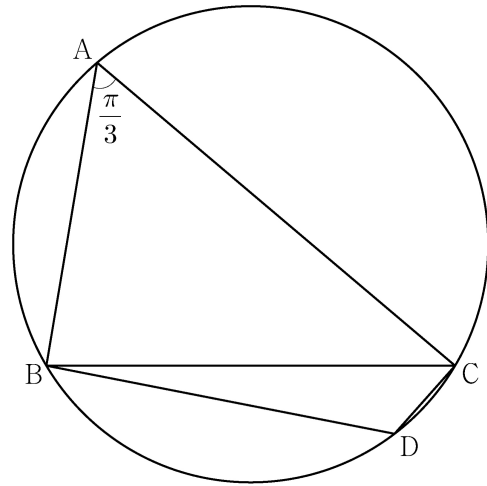


문항 출처 : 220912

12. 반지름의 길이가 $2\sqrt{7}$ 인 원에 내접하고 $\angle A = \frac{\pi}{3}$ 인

삼각형 ABC가 있다. 점 A를 포함하지 않는 호 BC 위의 점 D에
대하여 $\sin(\angle BCD) = \frac{2\sqrt{7}}{7}$ 일 때, $\overline{BD} + \overline{CD}$ 의 값은? [4점]

- ① $\frac{19}{2}$ ② 10 ③ $\frac{21}{2}$ ④ 11 ⑤ $\frac{23}{2}$



문항 출처 : 221107

7. $\pi < \theta < \frac{3}{2}\pi$ 인 θ 에 대하여 $\tan \theta - \frac{6}{\tan \theta} = 1$ 일 때,

$\sin \theta + \cos \theta$ 의 값은? [3점]

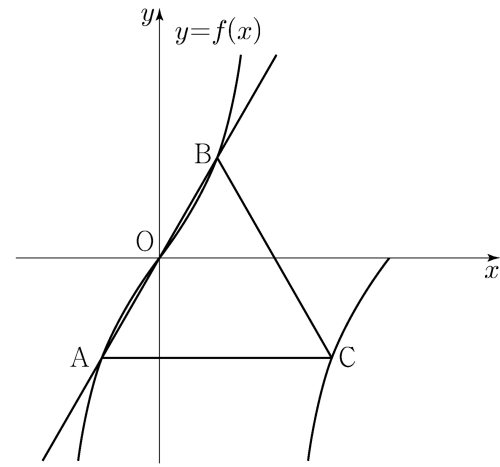
- ① $-\frac{2\sqrt{10}}{5}$ ② $-\frac{\sqrt{10}}{5}$ ③ 0
 ④ $\frac{\sqrt{10}}{5}$ ⑤ $\frac{2\sqrt{10}}{5}$

문항 출처 : 221111

11. 양수 a 에 대하여 집합 $\left\{x \mid -\frac{a}{2} < x \leq a, x \neq \frac{a}{2}\right\}$ 에서 정의된 함수

$$f(x) = \tan \frac{\pi x}{a}$$

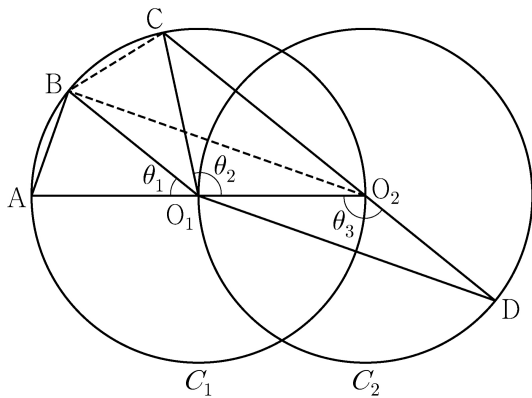
가 있다. 그림과 같이 함수 $y=f(x)$ 의 그래프 위의 세 점 O, A, B를 지나는 직선이 있다. 점 A를 지나고 x 축에 평행한 직선이 함수 $y=f(x)$ 의 그래프와 만나는 점 중 A가 아닌 점을 C라 하자. 삼각형 ABC가 정삼각형일 때, 삼각형 ABC의 넓이는? (단, O는 원점이다.) [4점]



- ① $\frac{3\sqrt{3}}{2}$ ② $\frac{17\sqrt{3}}{12}$ ③ $\frac{4\sqrt{3}}{3}$
 ④ $\frac{5\sqrt{3}}{4}$ ⑤ $\frac{7\sqrt{3}}{6}$

문항 출처 : 221115

15. 두 점 O_1, O_2 를 각각 중심으로 하고 반지름의 길이가 $\overline{O_1O_2}$ 인 두 원 C_1, C_2 가 있다. 그림과 같이 원 C_1 위의 서로 다른 세 점 A, B, C 와 원 C_2 위의 점 D 가 주어졌고, 세 점 A, O_1, O_2 와 세 점 C, O_2, D 가 각각 한 직선 위에 있다. 이때 $\angle BO_1A = \theta_1, \angle O_2O_1C = \theta_2, \angle O_1O_2D = \theta_3$ 이라 하자.



다음은 $\overline{AB} : \overline{O_1D} = 1 : 2\sqrt{2}$ 이고 $\theta_3 = \theta_1 + \theta_2$ 일 때, 선분 AB와 선분 CD의 길이의 비를 구하는 과정이다.

$\angle CO_2O_1 + \angle O_1O_2D = \pi$ 이므로 $\theta_3 = \frac{\pi}{2} + \frac{\theta_2}{2}$ 이고
 $\theta_3 = \theta_1 + \theta_2$ 에서 $2\theta_1 + \theta_2 = \pi$ 이므로 $\angle CO_1B = \theta_1$ 이다.
 이때 $\angle O_2O_1B = \theta_1 + \theta_2 = \theta_3$ 이므로 삼각형 O_1O_2B 와 삼각형 O_2O_1D 는 합동이다.
 $\overline{AB} = k$ 라 할 때
 $\overline{BO_2} = \overline{O_1D} = 2\sqrt{2}k$ 이므로 $\overline{AO_2} = \boxed{\text{(가)}}$ 이고,
 $\angle BO_2A = \frac{\theta_1}{2}$ 이므로 $\cos \frac{\theta_1}{2} = \boxed{\text{(나)}}$ 이다.
 삼각형 O_2BC 에서
 $\overline{BC} = k, \overline{BO_2} = 2\sqrt{2}k, \angle CO_2B = \frac{\theta_1}{2}$ 이므로
 코사인법칙에 의하여 $\overline{O_2C} = \boxed{\text{(다)}}$ 이다.
 $\overline{CD} = \overline{O_2D} + \overline{O_2C} = \overline{O_1O_2} + \overline{O_2C}$ 이므로
 $\overline{AB} : \overline{CD} = k : \left(\frac{\boxed{\text{(가)}}}{2} + \boxed{\text{(다)}} \right)$ 이다.

위의 (가), (다)에 알맞은 식을 각각 $f(k), g(k)$ 라 하고, (나)에 알맞은 수를 p 라 할 때, $f(p) \times g(p)$ 의 값은? [4점]

- ① $\frac{169}{27}$ ② $\frac{56}{9}$ ③ $\frac{167}{27}$ ④ $\frac{166}{27}$ ⑤ $\frac{55}{9}$

문항 출처 : 230603

3. $\frac{\pi}{2} < \theta < \pi$ 인 θ 에 대하여 $\cos^2 \theta = \frac{4}{9}$ 일 때, $\sin^2 \theta + \cos \theta$ 의 값은? [3점]

- ① $-\frac{4}{9}$ ② $-\frac{1}{3}$ ③ $-\frac{2}{9}$ ④ $-\frac{1}{9}$ ⑤ 0

문항 출처 : 230607

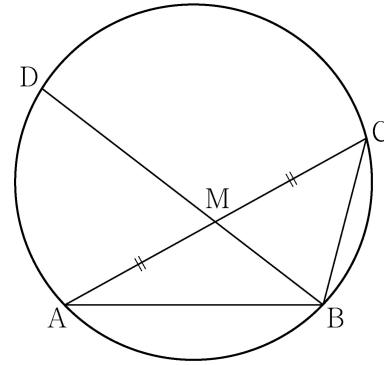
7. 닫힌구간 $[0, \pi]$ 에서 정의된 함수 $f(x) = -\sin 2x$ 가 $x = a$ 에서 최댓값을 갖고 $x = b$ 에서 최솟값을 갖는다. 곡선 $y = f(x)$ 위의 두 점 $(a, f(a)), (b, f(b))$ 를 지나는 직선의 기울기는? [3점]

- ① $\frac{1}{\pi}$ ② $\frac{2}{\pi}$ ③ $\frac{3}{\pi}$ ④ $\frac{4}{\pi}$ ⑤ $\frac{5}{\pi}$

문항 출처 : 230610

10. 그림과 같이 $\overline{AB} = 3, \overline{BC} = 2, \overline{AC} > 3$ 이고

$\cos(\angle BAC) = \frac{7}{8}$ 인 삼각형 ABC가 있다. 선분 AC의 중점을 M, 삼각형 ABC의 외접원이 직선 BM과 만나는 점 중 B가 아닌 점을 D라 할 때, 선분 MD의 길이는? [4점]



- ① $\frac{3\sqrt{10}}{5}$ ② $\frac{7\sqrt{10}}{10}$ ③ $\frac{4\sqrt{10}}{5}$
 ④ $\frac{9\sqrt{10}}{10}$ ⑤ $\sqrt{10}$

문항 출처 : 230903

3. $\sin(\pi - \theta) = \frac{5}{13}$ 이고 $\cos\theta < 0$ 일 때, $\tan\theta$ 의 값은? [3점]

- ① $-\frac{12}{13}$ ② $-\frac{5}{12}$ ③ 0 ④ $\frac{5}{12}$ ⑤ $\frac{12}{13}$

문항 출처 : 230909

9. 닫힌구간 $[0, 12]$ 에서 정의된 두 함수

$$f(x) = \cos \frac{\pi x}{6}, \quad g(x) = -3 \cos \frac{\pi x}{6} - 1$$

이 있다. 곡선 $y=f(x)$ 와 직선 $y=k$ 가 만나는 두 점의 x 좌표를 α_1, α_2 라 할 때, $|\alpha_1 - \alpha_2| = 8$ 이다. 곡선 $y=g(x)$ 와 직선 $y=k$ 가 만나는 두 점의 x 좌표를 β_1, β_2 라 할 때, $|\beta_1 - \beta_2|$ 의 값은? (단, k 는 $-1 < k < 1$ 인 상수이다.) [4점]

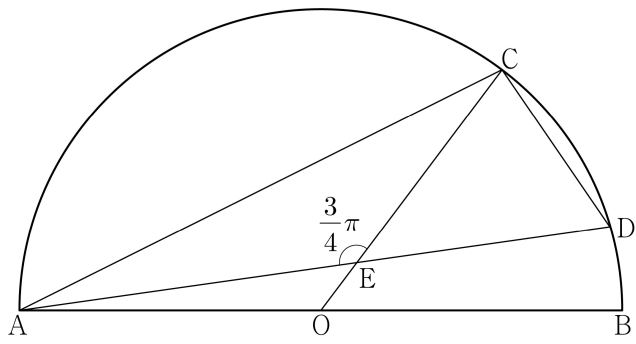
- ① 3 ② $\frac{7}{2}$ ③ 4 ④ $\frac{9}{2}$ ⑤ 5

문항 출처 : 230913

13. 그림과 같이 선분 AB를 지름으로 하는 반원의 호 AB 위에 두 점 C, D가 있다. 선분 AB의 중점 O에 대하여 두 선분 AD, CO가 점 E에서 만나고,

$$\overline{CE} = 4, \quad \overline{ED} = 3\sqrt{2}, \quad \angle CEA = \frac{3}{4}\pi$$

이다. $\overline{AC} \times \overline{CD}$ 의 값은? [4점]



- ① $6\sqrt{10}$ ② $10\sqrt{5}$ ③ $16\sqrt{2}$
 ④ $12\sqrt{5}$ ⑤ $20\sqrt{2}$

문항 출처 : 231105

5. $\tan \theta < 0$ 이고 $\cos\left(\frac{\pi}{2} + \theta\right) = \frac{\sqrt{5}}{5}$ 일 때, $\cos \theta$ 의 값은? [3점]

- ① $-\frac{2\sqrt{5}}{5}$ ② $-\frac{\sqrt{5}}{5}$ ③ 0
 ④ $\frac{\sqrt{5}}{5}$ ⑤ $\frac{2\sqrt{5}}{5}$

문항 출처 : 231109

9. 함수

$$f(x) = a - \sqrt{3} \tan 2x$$

가 닫힌구간 $\left[-\frac{\pi}{6}, b\right]$ 에서 최댓값 7, 최솟값 3을 가질 때, $a \times b$ 의 값은? (단, a, b 는 상수이다.) [4점]

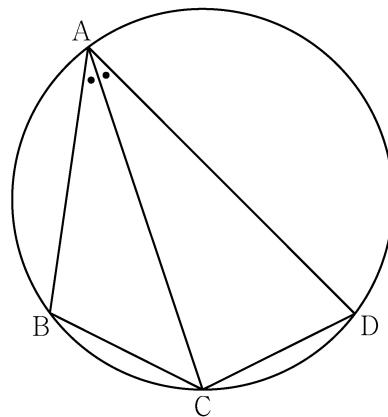
- ① $\frac{\pi}{2}$ ② $\frac{5\pi}{12}$ ③ $\frac{\pi}{3}$ ④ $\frac{\pi}{4}$ ⑤ $\frac{\pi}{6}$

문항 출처 : 231111

11. 그림과 같이 사각형 ABCD가 한 원에 내접하고

$$\overline{AB} = 5, \overline{AC} = 3\sqrt{5}, \overline{AD} = 7, \angle BAC = \angle CAD$$

일 때, 이 원의 반지름의 길이는? [4점]



- ① $\frac{5\sqrt{2}}{2}$ ② $\frac{8\sqrt{5}}{5}$ ③ $\frac{5\sqrt{5}}{3}$
 ④ $\frac{8\sqrt{2}}{3}$ ⑤ $\frac{9\sqrt{3}}{4}$

문항 출처 : 240606

6. $\cos\theta < 0$ 이고 $\sin(-\theta) = \frac{1}{7}\cos\theta$ 일 때, $\sin\theta$ 의 값은? [3점]

- ① $-\frac{3\sqrt{2}}{10}$ ② $-\frac{\sqrt{2}}{10}$ ③ 0
- ④ $\frac{\sqrt{2}}{10}$ ⑤ $\frac{3\sqrt{2}}{10}$

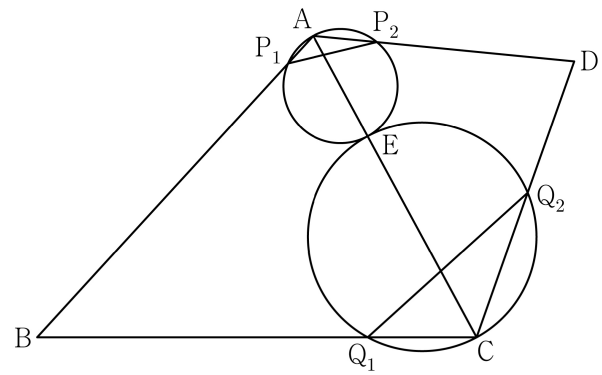
문항 출처 : 240613

13. 그림과 같이

$$\overline{BC} = 3, \overline{CD} = 2, \cos(\angle BCD) = -\frac{1}{3}, \angle DAB > \frac{\pi}{2}$$

인 사각형 ABCD에서 두 삼각형 ABC와 ACD는 모두 예각삼각형이다. 선분 AC를 1:2로 내분하는 점 E에 대하여 선분 AE를 지름으로 하는 원이 두 선분 AB, AD와 만나는 점 중 A가 아닌 점을 각각 P_1, P_2 라 하고, 선분 CE를 지름으로 하는 원이 두 선분 BC, CD와 만나는 점 중 C가 아닌 점을 각각 Q_1, Q_2 라 하자.

$\overline{P_1P_2} : \overline{Q_1Q_2} = 3 : 5\sqrt{2}$ 이고 삼각형 ABD의 넓이가 2일 때, $\overline{AB} + \overline{AD}$ 의 값은? (단, $\overline{AB} > \overline{AD}$) [4점]



- ① $\sqrt{21}$ ② $\sqrt{22}$ ③ $\sqrt{23}$ ④ $2\sqrt{6}$ ⑤ 5

문항 출처 : 240619

19. 두 자연수 a, b 에 대하여 함수

$$f(x) = a \sin bx + 8 - a$$

가 다음 조건을 만족시킬 때, $a+b$ 의 값을 구하시오. [3점]

(가) 모든 실수 x 에 대하여 $f(x) \geq 0$ 이다.

(나) $0 \leq x < 2\pi$ 일 때, x 에 대한 방정식 $f(x) = 0$ 의 서로 다른 실근의 개수는 4이다.

문항 출처 : 240903

3. $\frac{3}{2}\pi < \theta < 2\pi$ 인 θ 에 대하여 $\cos \theta = \frac{\sqrt{6}}{3}$ 일 때, $\tan \theta$ 의 값은? [3점]

- ① $-\sqrt{2}$ ② $-\frac{\sqrt{2}}{2}$ ③ 0 ④ $\frac{\sqrt{2}}{2}$ ⑤ $\sqrt{2}$

문항 출처 : 240909

9. $0 \leq x \leq 2\pi$ 일 때, 부등식

$$\cos x \leq \sin \frac{\pi}{7}$$

를 만족시키는 모든 x 의 값의 범위는 $\alpha \leq x \leq \beta$ 이다.
 $\beta - \alpha$ 의 값은? [4점]

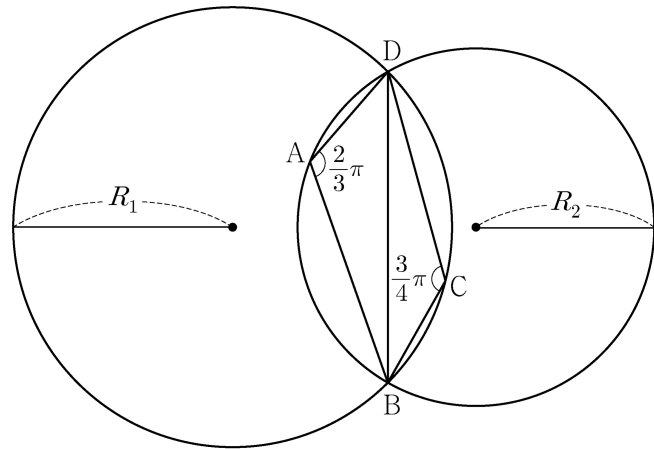
- ① $\frac{8}{7}\pi$ ② $\frac{17}{14}\pi$ ③ $\frac{9}{7}\pi$ ④ $\frac{19}{14}\pi$ ⑤ $\frac{10}{7}\pi$

문항 출처 : 240920

20. 그림과 같이

$$\overline{AB} = 2, \overline{AD} = 1, \angle DAB = \frac{2}{3}\pi, \angle BCD = \frac{3}{4}\pi$$

인 사각형 ABCD가 있다. 삼각형 BCD의 외접원의 반지름의 길이를 R_1 , 삼각형 ABD의 외접원의 반지름의 길이를 R_2 라 하자.



다음은 $R_1 \times R_2$ 의 값을 구하는 과정이다.

삼각형 BCD에서 사인법칙에 의하여

$$R_1 = \frac{\sqrt{2}}{2} \times \overline{BD}$$

이고, 삼각형 ABD에서 사인법칙에 의하여

$$R_2 = \boxed{\text{(가)}} \times \overline{BD}$$

이다. 삼각형 ABD에서 코사인법칙에 의하여

$$\overline{BD}^2 = 2^2 + 1^2 - \boxed{\text{(나)}}$$

이므로

$$R_1 \times R_2 = \boxed{\text{(다)}}$$

이다.

위의 (가), (나), (다)에 알맞은 수를 각각 p, q, r 이라 할 때,
 $9 \times (p \times q \times r)^2$ 의 값을 구하시오. [4점]

문항 출처 : 241103

3. $\frac{3}{2}\pi < \theta < 2\pi$ 인 θ 에 대하여 $\sin(-\theta) = \frac{1}{3}$ 일 때,

$\tan \theta$ 의 값은? [3점]

- ① $-\frac{\sqrt{2}}{2}$ ② $-\frac{\sqrt{2}}{4}$ ③ $-\frac{1}{4}$ ④ $\frac{1}{4}$ ⑤ $\frac{\sqrt{2}}{4}$

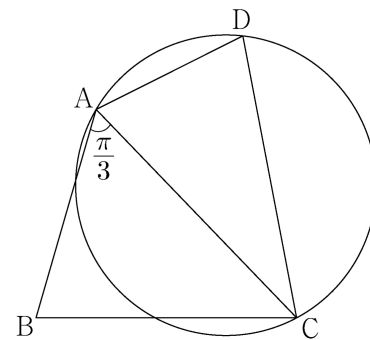
문항 출처 : 241113

13. 그림과 같이

$$\overline{AB} = 3, \overline{BC} = \sqrt{13}, \overline{AD} \times \overline{CD} = 9, \angle BAC = \frac{\pi}{3}$$

인 사각형 ABCD가 있다. 삼각형 ABC의 넓이를 S_1 , 삼각형 ACD의 넓이를 S_2 라 하고, 삼각형 ACD의 외접원의 반지름의 길이를 R 이라 하자.

$S_2 = \frac{5}{6}S_1$ 일 때, $\frac{R}{\sin(\angle ADC)}$ 의 값은? [4점]



- ① $\frac{54}{25}$ ② $\frac{117}{50}$ ③ $\frac{63}{25}$ ④ $\frac{27}{10}$ ⑤ $\frac{72}{25}$

문항 출처 : 241119

19. 함수 $f(x) = \sin \frac{\pi}{4}x$ 라 할 때, $0 < x < 16$ 에서 부등식

$$f(2+x)f(2-x) < \frac{1}{4}$$

을 만족시키는 모든 자연수 x 의 값의 합을 구하시오. [3점]

문항 출처 : 250606

6. $\pi < \theta < \frac{3}{2}\pi$ 인 θ 에 대하여 $\sin\left(\theta - \frac{\pi}{2}\right) = \frac{3}{5}$ 일 때,

$\sin \theta$ 의 값은? [3점]

- ① $-\frac{4}{5}$ ② $-\frac{3}{5}$ ③ $\frac{3}{5}$ ④ $\frac{3}{4}$ ⑤ $\frac{4}{5}$

문항 출처 : 250610

10. 다음 조건을 만족시키는 삼각형 ABC의 외접원의 넓이가 9π 일 때, 삼각형 ABC의 넓이는? [4점]

(가) $3 \sin A = 2 \sin B$

(나) $\cos B = \cos C$

- ① $\frac{32}{9} \sqrt{2}$ ② $\frac{40}{9} \sqrt{2}$ ③ $\frac{16}{3} \sqrt{2}$
 ④ $\frac{56}{9} \sqrt{2}$ ⑤ $\frac{64}{9} \sqrt{2}$

문항 출처 : 250620

20. 5 이하의 두 자연수 a, b 에 대하여 열린구간 $(0, 2\pi)$ 에서 정의된 함수 $y = a \sin x + b$ 의 그래프가 직선 $x = \pi$ 와 만나는 점의 집합을 A 라 하고, 두 직선 $y = 1, y = 3$ 과 만나는 점의 집합을 각각 B, C 라 하자. $n(A \cup B \cup C) = 3$ 이 되도록 하는 a, b 의 순서쌍 (a, b) 에 대하여 $a+b$ 의 최댓값을 M , 최솟값을 m 이라 할 때, $M \times m$ 의 값을 구하시오. [4점]

문항 출처 : 250906

6. $\frac{\pi}{2} < \theta < \pi$ 인 θ 에 대하여 $\cos(\pi + \theta) = \frac{2\sqrt{5}}{5}$ 일 때,
 $\sin\theta + \cos\theta$ 의 값은? [3점]

- ① $-\frac{2\sqrt{5}}{5}$ ② $-\frac{\sqrt{5}}{5}$ ③ 0
 ④ $\frac{\sqrt{5}}{5}$ ⑤ $\frac{2\sqrt{5}}{5}$

문항 출처 : 250910

10. $\angle A > \frac{\pi}{2}$ 인 삼각형 ABC의 꼭짓점 A에서 선분 BC에
 내린 수선의 발을 H라 하자.

$$\overline{AB} : \overline{AC} = \sqrt{2} : 1, \quad \overline{AH} = 2$$

- 이고, 삼각형 ABC의 외접원의 넓이가 50π 일 때,
 선분 BH의 길이는? [4점]

- ① 6 ② $\frac{25}{4}$ ③ $\frac{13}{2}$ ④ $\frac{27}{4}$ ⑤ 7

문항 출처 : 250920

20. 닫힌구간 $[0, 2\pi]$ 에서 정의된 함수

$$f(x) = \begin{cases} \sin x - 1 & (0 \leq x < \pi) \\ -\sqrt{2}\sin x - 1 & (\pi \leq x \leq 2\pi) \end{cases}$$

가 있다. $0 \leq t \leq 2\pi$ 인 실수 t 에 대하여 x 에 대한 방정식 $f(x) = f(t)$ 의 서로 다른 실근의 개수가 3이 되도록 하는

모든 t 의 값의 합은 $\frac{q}{p}\pi$ 이다. $p+q$ 의 값을 구하시오.

(단, p 와 q 는 서로소인 자연수이다.) [4점]

문항 출처 : 251106

6. $\cos\left(\frac{\pi}{2} + \theta\right) = -\frac{1}{5}$ 일 때, $\frac{\sin\theta}{1 - \cos^2\theta}$ 의 값은? [3점]

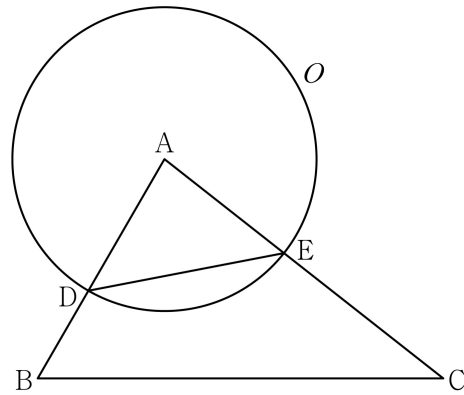
- ① -5 ② $-\sqrt{5}$ ③ 0 ④ $\sqrt{5}$ ⑤ 5

문항 출처 : 251110

10. 닫힌구간 $[0, 2\pi]$ 에서 정의된 함수 $f(x) = a\cos bx + 3$ 이 $x = \frac{\pi}{3}$ 에서 최댓값 13을 갖도록 하는 두 자연수 a, b 의 순서쌍 (a, b) 에 대하여 $a+b$ 의 최솟값은? [4점]
- ① 12 ② 14 ③ 16 ④ 18 ⑤ 20

문항 출처 : 251114

14. 그림과 같이 삼각형 ABC에서 선분 AB 위에 $\overline{AD} : \overline{DB} = 3 : 2$ 인 점 D를 잡고, 점 A를 중심으로 하고 점 D를 지나는 원 O, 원 O와 선분 AC가 만나는 점을 E라 하자. $\sin A : \sin C = 8 : 5$ 이고, 삼각형 ADE와 삼각형 ABC의 넓이의 비가 $9 : 35$ 이다. 삼각형 ABC의 외접원의 반지름의 길이가 7일 때, 원 O 위의 점 P에 대하여 삼각형 PBC의 넓이의 최댓값은? (단, $\overline{AB} < \overline{AC}$) [4점]



- ① $18 + 15\sqrt{3}$ ② $24 + 20\sqrt{3}$ ③ $30 + 25\sqrt{3}$
 ④ $36 + 30\sqrt{3}$ ⑤ $42 + 35\sqrt{3}$

정답표

페이지	위치	문항 출처	정답
1	좌측	220603	①
1	우측	220612	③
2	좌측	220615	②
2	우측	220906	①
3	좌측	220910	③
3	우측	220912	②
4	좌측	221107	①
4	우측	221111	③
5	좌측	221115	②
5	우측	230603	④
6	좌측	230607	④
6	우측	230610	③
7	좌측	230903	②
7	우측	230909	③
8	좌측	230913	⑤
8	우측	231105	⑤
9	좌측	231109	③
9	우측	231111	①
10	좌측	240606	④
10	우측	240613	①
11	좌측	240619	8
11	우측	240903	②
12	좌측	240909	③
12	우측	240920	98
13	좌측	241103	②
13	우측	241113	①
14	좌측	241119	32
14	우측	250606	①
15	좌측	250610	⑤
15	우측	250620	24
16	좌측	250906	②
16	우측	250910	①

페이지	위치	문항 출처	정답
17	좌측	250920	15
17	우측	251106	⑤
18	좌측	251110	③
18	우측	251114	④