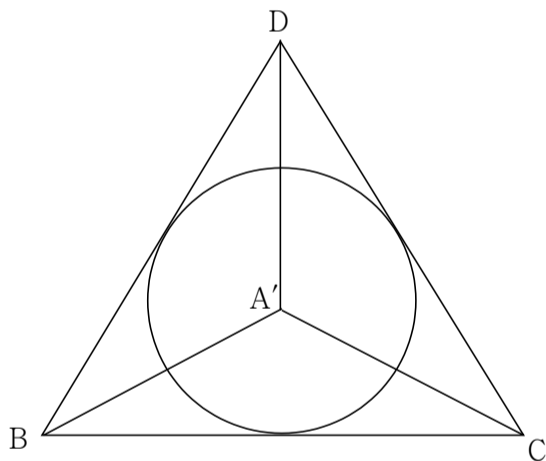
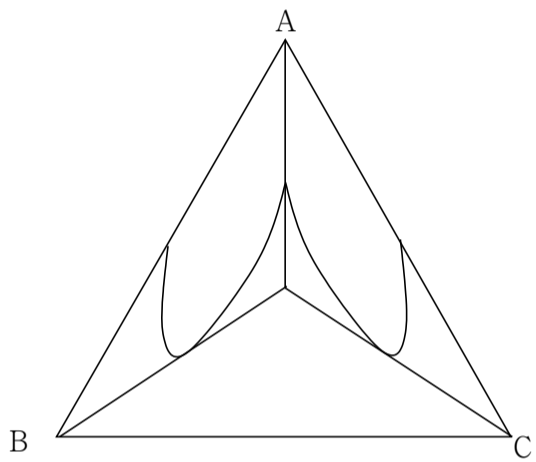


베르테르 모의고사 4회 정답표

1번. ①	2번. ④	3번. ①	4번. ①	5번. ①
6번. ④	7번. ③	8번. ②	9번. ②	10번. ①
11번. ③	12번. ④	13번. ④	14번. ⑤	15번. ⑤
16번. ④	17번. ⑤	18번. ③	19번. ③	20번. ⑤
21번. ①	22번. 12	23번. 6	24번. 300	25번. 3
26번. 30	27번. 400	28번. 95	29번. 102	30번. 170

10번 해설

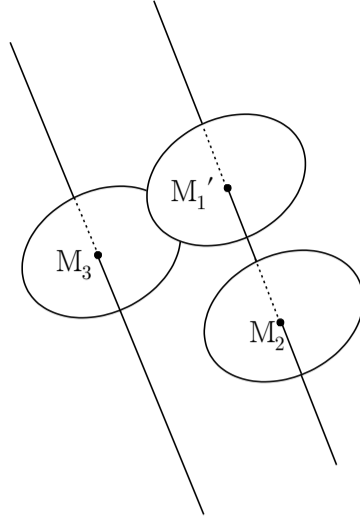


$S \cos \theta = S \times \frac{1}{3} = \pi$ 이고 (S 는 선분 CA, AD 와 곡선으로 둘러싸인 넓이) 평면 ACD, ABC 가 이루는 이면각의 크기에 대한 코사인값은 $\frac{1}{3}$ 이다. 고로 $3\pi \times \frac{1}{3} = \pi$ 이므로 이것에 두 배를 곱한 ①번이 정답입니다.

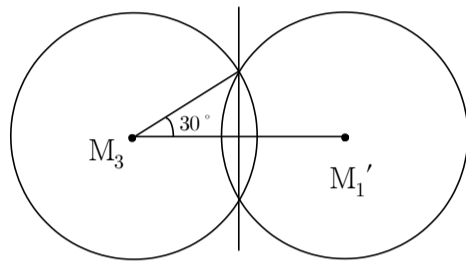
13번 해설

삼각형 AB, BC, CA 의 각 중점을 M_1, M_2, M_3 라 하면, $\overline{CA} // \overline{M_1 M_2}$ 이므로 다음 그림과 같습니다.

그림과 같이 두 원판 M_1', M_2 가 겹치는 부분의 넓이를 구하면 됩니다. 점 M_1' 는 평행이동한 점입니다.

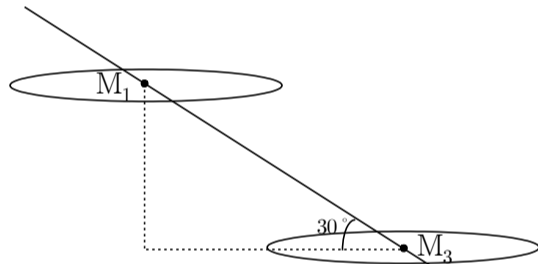


$\overline{M_1' M_3} = 2 \cos 30^\circ$ 이므로 선분 $M_1' M_3$ 의 절반은 $\cos 30^\circ$ 가 됩니다.



선분 CA 와 지면의 법선과 이루는 각을 α 라 하면

$(\frac{5}{3}\pi + \frac{\sqrt{3}}{2}) \times \frac{1}{\cos \alpha} = S_1, (\cos \alpha = \frac{3}{2\sqrt{3}+2})$ 이고 직선 $M_1 M_3$ 는 선분 BC 와 평행하므로, 직선 $M_1 M_3$ 은 지면과 30° 의 각을 이룹니다.

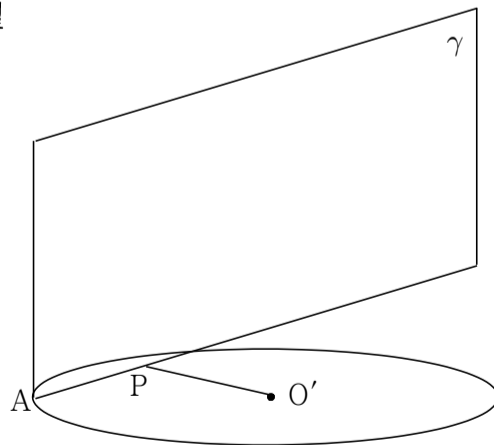


고로 $S_2 = (\frac{5}{3}\pi + \frac{\sqrt{3}}{2}) + \pi$ 가 됩니다. 따라서 정답은 ④이 되고,

(선분 $M_1 M_2$ 의 정사영의 길이가 2보다 크기 때문에 원판 M_2 의 지면 위의 그림자는 겹치는 부분이 없기 때문에 원의 넓이와 같습니다.)

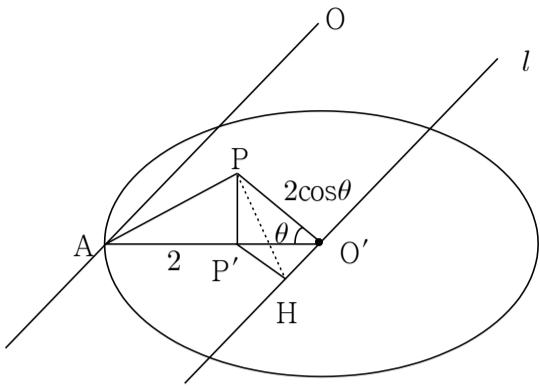
14번 역시 직선 $M_2 M_3$ 와 직선 AB 가 서로 평행합니다. 똑같은 방식으로 풀어주시면 되겠습니다.

15번 해설

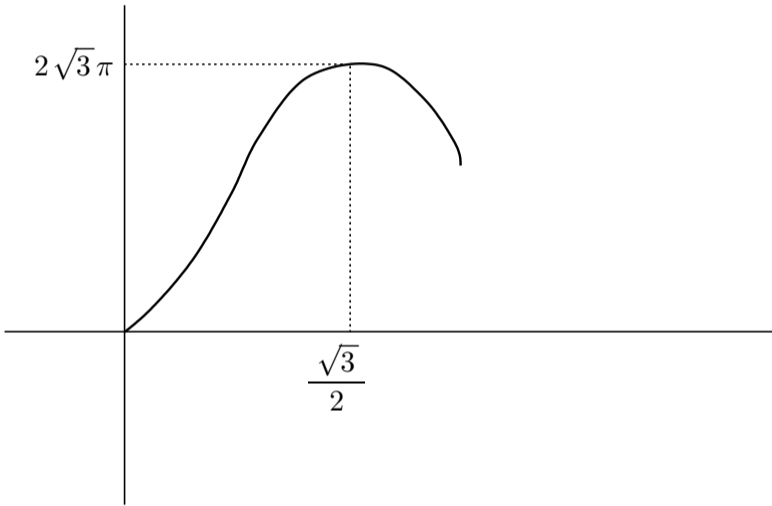


평면 β 와 수직이면서 점 A 를 포함하는 평면 γ 라 하고, 점 O 의 평면 β 위로의 정사영을 O' 라 합니다. 점 O' 의 평면 γ 위로의 정사영을 P 라 하면, 다음과 같습니다.

그림과 같이 $\angle PO'A = \theta$ 라 하면 점P에서 평면OO'A과 직선l에 내린 수선의 발을 각각 P', H라 합니다. 여기서 직선l은 α 의 법선입니다. (그러니 직선 OA와 평행합니다.) 즉, $\cos \angle PO'H$ 가 두 평면 α, γ 가 이루는 이면각에 대한 코사인값입니다.



$\overline{O'H} = \frac{2}{3} \overline{O'P'}$, $\overline{O'P'} = 2\cos\theta \times \cos\theta$, $\cos \angle PO'H = \frac{\overline{O'H}}{\overline{O'P}} = \frac{4}{3} \times \frac{\cos^2\theta}{2\cos\theta}$ 입니다. 원C의 넓이는 $(9 - 4\cos^2\theta)\pi$ 이므로 정사영의 넓이는 $(9 - 4\cos^2\theta)\pi \times \frac{2}{3} \cos\theta$ 이다 $\cos\theta = x$ 로 치환하여 최대 최소를 구합니다. $0 < x \leq 1$ 라 하면 최댓값은 $2\sqrt{3}\pi$ 입니다.



16번 해설

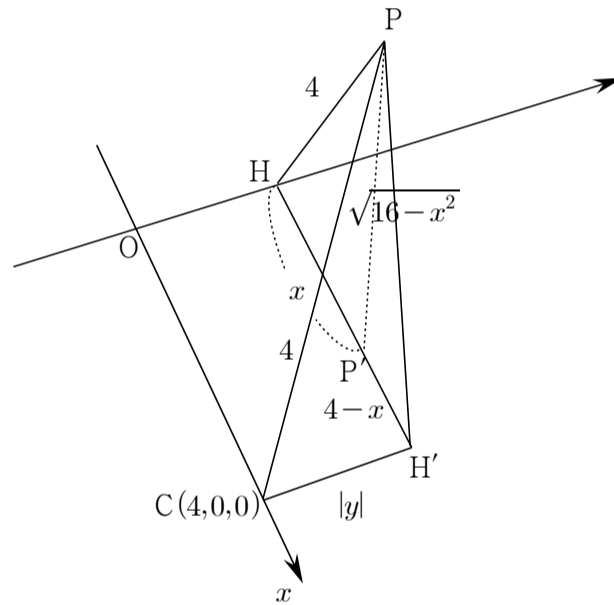
$\overline{PA} \perp \overline{PC}$ 이므로 점 C의 직선 위로의 수선의 발이 점P가 됩니다. 점P좌표는 $(\sqrt{2}, \sqrt{2}, 2)$ 이고, 점P의 좌표를 알고 있으므로 선분PC의 길이를 구하면 4가 나옵니다. 고로 $\overline{PA} = 4$ 가 되며 $A(t, t, \sqrt{2}t)$ 라 하면, $4(t - \sqrt{2})^2 = 16$ 이고 $t > 0$ 이므로 $t = 2 + \sqrt{2}$ 가 됩니다. 평면 ABCD의 법선은 선분CA의 중점을 M이라 할 때 직선PM이 법선이 됩니다. 즉, 선분CA의 중점의 좌표를 구하고 직선PM의 방향 벡터를 구하시면 됩니다. $\vec{d} = (\sqrt{2} + 1, 1 - \sqrt{2}, \sqrt{2})$ 이므로 평면 ABCD와 xy 평면이 이루는 각 θ 에 대하여

$$\cos\theta = \frac{|\sqrt{2}|}{\sqrt{3 + 2\sqrt{2} + 3 - 2\sqrt{2} + 2}} = \frac{1}{2} \text{이므로 } 16\cos\theta = 16 \times \frac{1}{2} = 8 \text{이 됩니다. 답은 ④이 됩니다.}$$

17번 해설

점P의 xy 평면 위로의 정사영을 P'라 하면 점P'의 자취는 2가지 방법으로 구해보도록 하겠습니다.

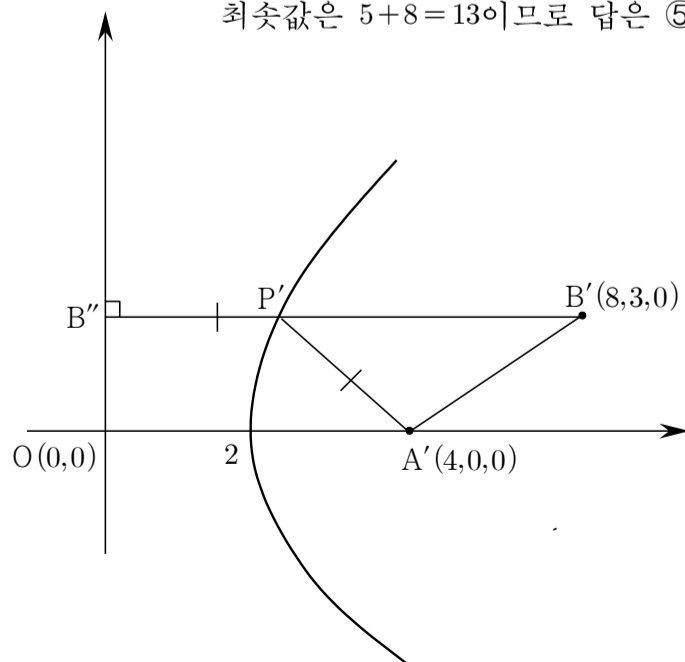
$$\overline{PH}^2 + |y|^2 = \overline{PC}^2 = 16, y^2 = 8(x - 2) \text{ (단, } 2 \leq x \leq 4) \text{ 가 됩니다.}$$



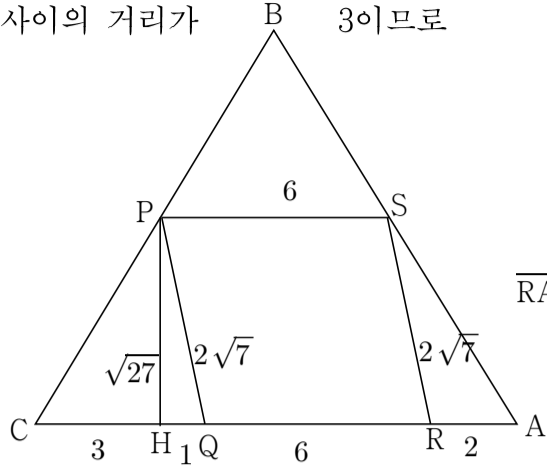
아니면 방정식을 연립하여 생각해도 좋습니다. $x^2 + z^2 = 16$ 과 구의 방정식 $(x - 4)^2 + y^2 + z^2 = 16$ 을 연립하여 P'(x, y, 0)의 자취의 방정식을 구하여도 상관없습니다.

포물선이 되므로 $\overline{A'B'} + \overline{PA'} + \overline{PB'}$ 의 최솟값은 다음과 같습니다.

최솟값은 $5 + 8 = 13$ 이므로 답은 ⑤

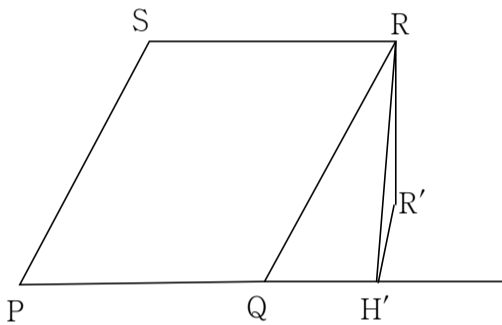


18번 해설. $\overline{CH} = 6\cos 60^\circ = 3$ 이므로 $\overline{HQ} = 1$ 입니다. 사각형PQRS는 평행사변형이고, $\overline{PS} = \overline{QR} = 6$, $\overline{PQ} = \overline{RS} = \sqrt{1+27} = 2\sqrt{7}$ 입니다. 점B와 평면 α 사이의 거리가 3이므로



$\overline{RA} = 12 - \overline{QR} - \overline{CQ} = 2$

점B와 평면 β 사이의 거리를 a 라 하면 AB의 중점이 평면 β 위에 있으므로 점A와 평면 β 사이의 거리도 a 입니다. 선분AQ의 1:3 내분점 역시 평면 β 위에 있으므로 점Q와 평면 β 사이의 거리는 $3a$ 가 됩니다. 고로 $3+a=3a$ 이므로 $a = \frac{3}{2}$ 가 됩니다. 따라서 $d = \frac{9}{2}$

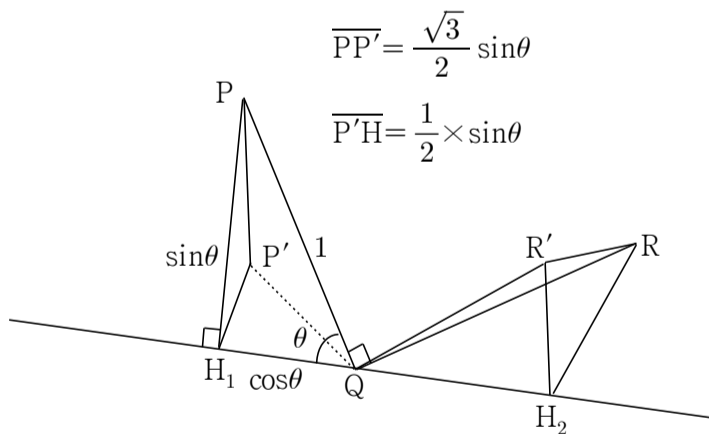


$\angle PQH = \angle PQH'$ 이므로 $\overline{RH'} = 6 \times \sin \angle PQH = \frac{9\sqrt{3}}{\sqrt{7}}$ 이므로

$(\overline{PH'})^2 = 81(\frac{3}{7} - \frac{1}{4}) = 81 \times \frac{5}{28}, 81 \times \frac{5}{28} \times 28 \times \frac{4}{81} = 20$ 답은 ③

19번 해설

점P에서 직선 l 에 내린 수선의 발을 H_1 라 하고 선분PQ, QR의 길이를 편의상 1이라고 하면



$\overline{PP'} = \frac{\sqrt{3}}{2} \sin \theta$

$\overline{P'H} = \frac{1}{2} \times \sin \theta$

$\angle QRH_2 = \angle P'QH_1$ 이므로 $\overline{QH_2} = \frac{\sin \theta}{\sqrt{4-3\sin^2 \theta}}$ 입니다. 선분

$\overline{R'H_2} = \frac{\cos \theta}{\sqrt{4-3\sin^2 \theta}}$ 이므로 $\cos \theta_1 = \frac{\sqrt{4-3\sin^2 \theta}}{2}, \cos \theta_2 = \frac{1}{\sqrt{4-3\sin^2 \theta}}$

입니다. 고로 $2(\cos \theta_1 + \cos \theta_2) \geq 2\sqrt{2}$ 가 되므로 정답은 ③이 됩니다.

산술기하평균을 이용해도 좋고, $\sqrt{4-3\sin^2 \theta}$ 을 치환하여 미분 등의 다른 방법으로 최솟값을 구해도 좋습니다.

20번 해설

직선 l 위의 점R에 대하여 점R에서 x 축에 내린 수선의 길이가 1인 점R에 좌표를 구하면 됩니다. $R(4\sqrt{3}t, \sqrt{3}t + \frac{1}{4}, -t + \frac{\sqrt{3}}{4})$ 에서

$(\sqrt{3}t + \frac{1}{4})^2 + (-t + \frac{\sqrt{3}}{4})^2 = 1, t = \pm \frac{\sqrt{3}}{4}$ 이므로

$A(-3, -\frac{1}{2}, \frac{\sqrt{3}}{2}), B(3, 1, 0)$ 를 중심으로 하는 두 원임을 알 수 있습니다. $\overline{PQ} \cdot \overline{AB} = (\overline{PA} + \overline{AB} + \overline{BQ}) \cdot \overline{AB} = |\overline{AB}|^2 + \overline{AB} \cdot (\overline{PA} + \overline{BQ})$ 이므로 최댓값은 $39 + 3\sqrt{17}$ 이 됩니다.

21번 해설.

점P(t, t, t)와 점Q($2s, -s+2, -s-2$)에서 $\overline{PQ} = \sqrt{14}$ 이므로 $(t-2s)^2 + (t+s-2)^2 + (t+s+2)^2 = 3t^2 + 6s^2 + 8 = 14$

$\frac{t^2}{2} + s^2 = 1 \dots \dots \dots (1)$

$\overline{PQ} = (2s-t, -t-s+2, -t-s-2)$ 이고, 평면 $x+4y+z=6$ 의 법선벡터 $\vec{h} = (1, 4, 1)$ 이고, $|\overline{PQ}| = \sqrt{14}$

$\cos \theta = \frac{|\overline{PQ} \cdot \vec{h}|}{|\overline{PQ}| \sqrt{1+16+1}} = \frac{|-6t-3s+6|}{\sqrt{14} \times 3\sqrt{2}} = \frac{|2t+s-2|}{2\sqrt{7}}$

$2t+s-2 = k$ 라 하면, $s = -2t+2+k$

(1)에 의한 기울기가 -2인 타원의 접선의 방정식은

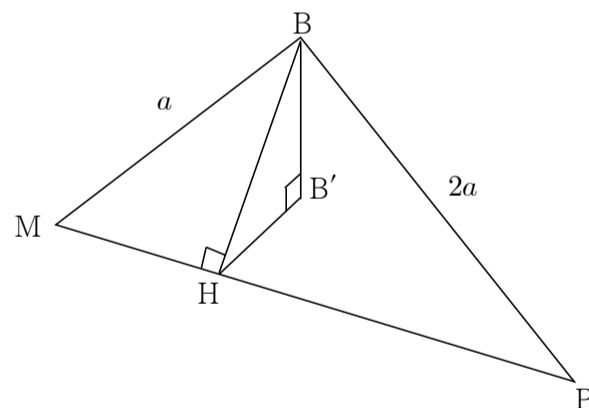
$s = -2t \pm \sqrt{2 \times 4 + 1}$ 이므로 $-5 \leq k \leq 1$ 이고, $|k|$ 의 최댓값은 5가 됩니다.

$\cos \theta (0 < \theta < \frac{\pi}{2})$ 가 최대일 때 $\sin \theta$ 최소, $1 - \cos^2 \theta = \sin^2 \theta$ 이므로

$\sqrt{14} \sin \theta = \sqrt{14} \times \sqrt{1 - \frac{25}{28}}$

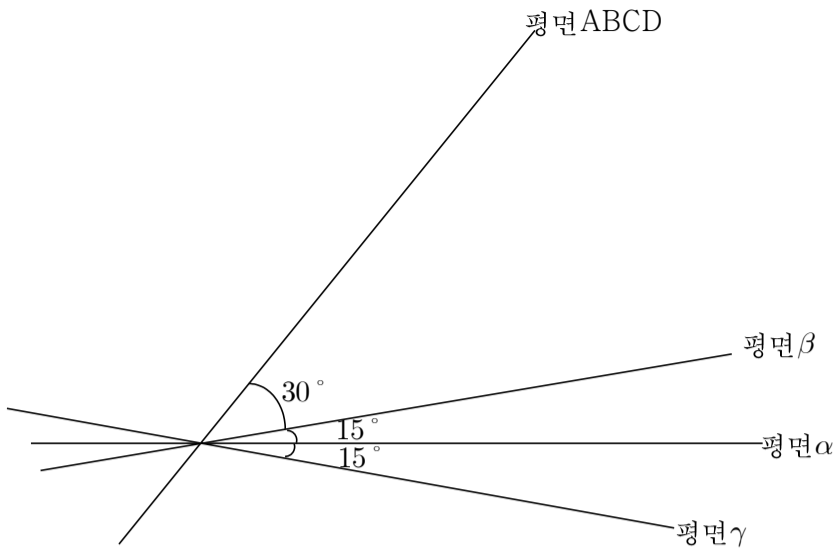
정답은 ①이 됩니다.

27번 해설. 직선AB가 평면 α 와 만나는 교점을 P라 하면 다음과 같습니다. 정사각형 한변의 길이를 $2a$ 라 하면, $\overline{B'M} = \frac{\sqrt{15}}{5}a$ 이므로



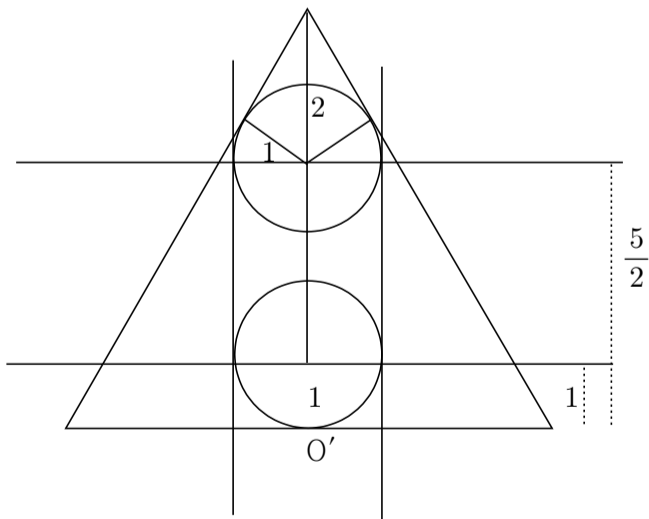
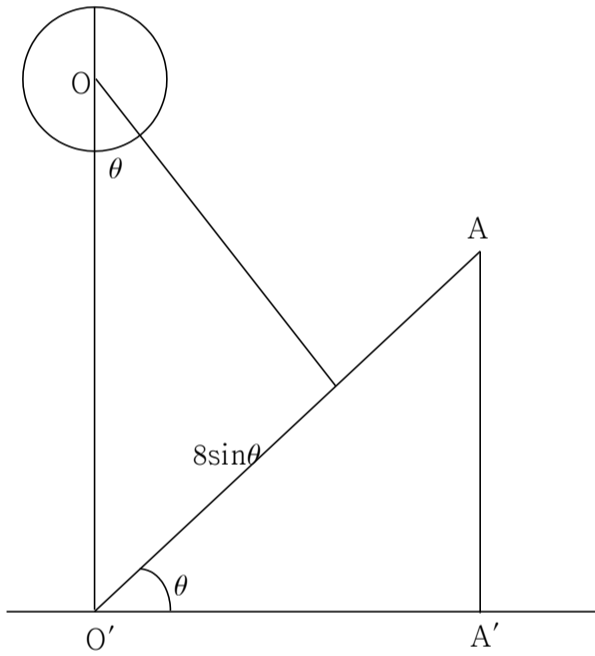
$\overline{BB'} = \frac{\sqrt{2}}{\sqrt{5}}a$ 이고, $\overline{BH} = \frac{2}{\sqrt{5}}a$ 이므로 평면ABCD가 평면 α 와 이루는 각의 크기는 45° 가 되고 (나) 조건을 이용하면 정사각형의 한변의 길이는 $\sqrt{30}$ 이 됩니다.

이것을 직선DM이 점으로 보이도록 단면화하면 다음과 같습니다.



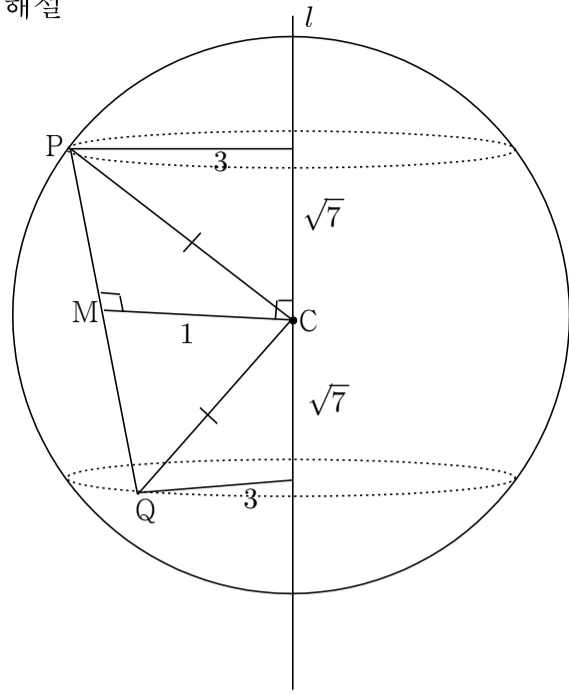
따라서 $\frac{300+900}{3} = \frac{1200}{3} = 400$ 이므로 정답은 400이 됩니다.

28번 해설.



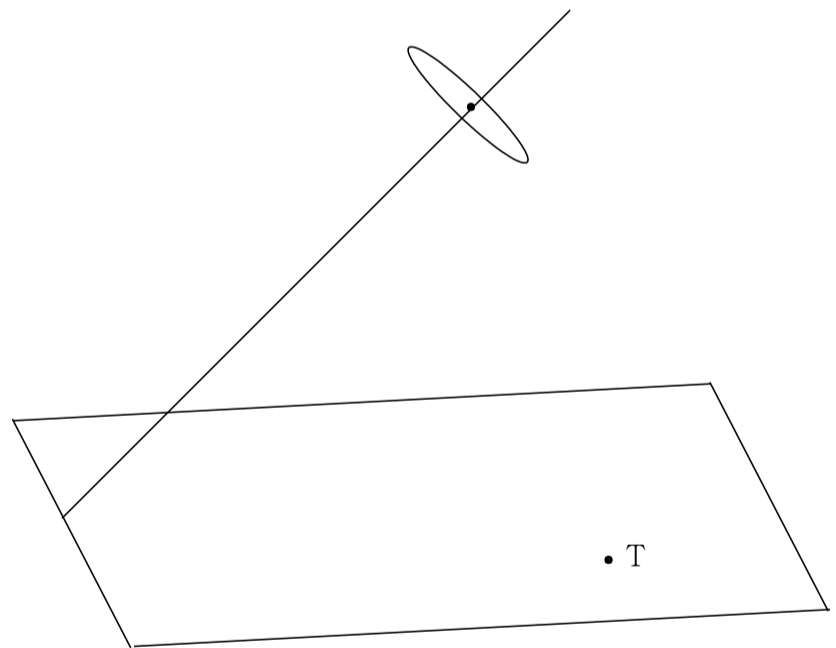
고로 $1 \leq 8\sin\theta \leq \frac{5}{2}$ 이므로 $\frac{9}{16} \leq \frac{9}{2}\sin\theta \leq \frac{45}{32}$ 이므로 정답은 95가 됩니다.

29번 해설



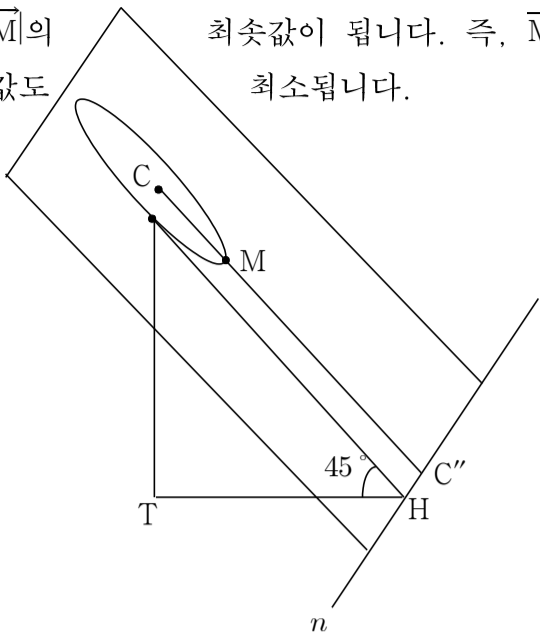
직선 l 에 내린 수선의 발의 길이가 3인데, 직선 l 이 구의 중심을 지나므로 그림과 같은 두 점 P, Q 는 반지름의 길이가 3인 원 위에 있게 됩니다. 구의 중심을 C 라 하고, 점 Q 를 중심으로 하는 원을 포함하는 평면 β 라 하면 삼각형 PQC 는 이등변삼각형이므로 $\overline{PQ} \perp \overline{CM}$ 이 됩니다. 그런데 선분 PQ 의 중점의 평면 β 와의 거리는 점 C 와 평면 β 사이의 거리와 같습니다. 즉, 선분 CM 은 평면 β 와 평행한 것입니다. 그런데 평면 β 는 직선 l 에 수직이므로 평면 β 의 법선 l 은 선분 CM 과 수직이 되며, $\overline{CM} \perp l$ 이 되면서 선분 CM 의 길이가 1이 되도록 두 점 P, Q 가 움직입니다. 점 C 에서 두 원을 포함하는 평면에 이르는 거리는 각각 $\sqrt{16-9} = \sqrt{7}$ 이 됩니다.

29번에서 $\overline{TP} \cdot \overline{TQ} = (\overline{TM} + \overline{MP}) \cdot (\overline{TM} + \overline{MQ})$ 이므로 $4|\overline{TM}|^2 - 60$ 의 최솟값을 구하면 됩니다. 점 M 과 점 T 사이의 거리의 최솟값을 구하면 됩니다.



점 M 의 자취는 점 C 를 중심으로 하고 반지름의 길이가 1인 원입니다. 이 원을 품는 평면을 γ 라고 하면 다음과 같습니다.

평면 γ 와 xy 평면이 만나서 생기는 교선을 n 이라고 하면, $\overline{MH}\sin 45^\circ$ 의 최솟값이 $|\overline{TM}|$ 의 최솟값이 됩니다. 즉, \overline{MH} 가 최소가 될 때, $|\overline{TM}|$ 의 값도 최소됩니다.



점C와 xy 평면 사이의 거리가 $5\sqrt{2}$ 이므로 선분 CC'' 의 길이는 10이 되고 $\overline{CC''}-1=\overline{C''M}=9$ 입니다. 따라서 정답은 $162-60=102$ 가 됩니다.

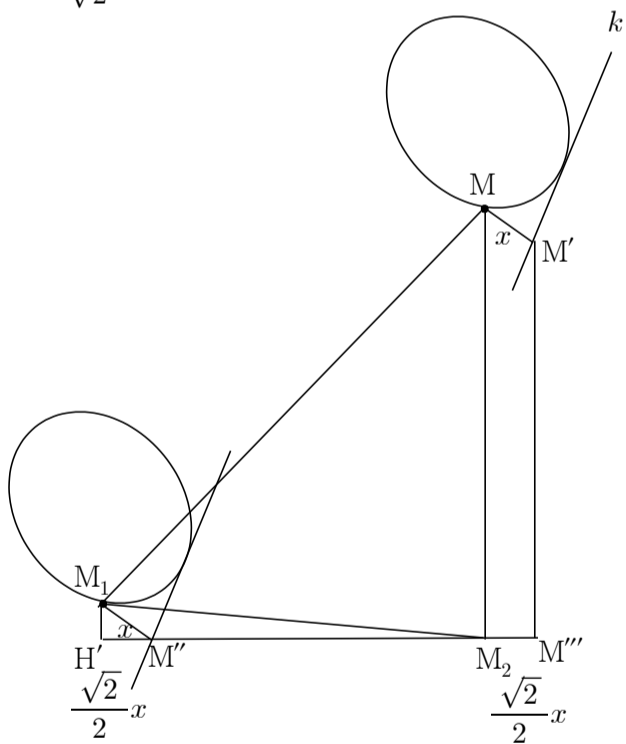
30번 해설. 점M의 두 평면 $\alpha, z=0$ 위로의 정사영을 각각 M_1, M_2 라 하면,

$$|\overline{P_1C} + \overline{CQ_2} + \overline{Q_1C} + \overline{CP_2}| = 2|\overline{CM_2} - \overline{CM_1}| = 2|\overline{M_1M_2}| \text{이 됩니다.}$$

두 평면의 교선과 평행하고 원과 접하는 직선 k 라 하고, 점M에서 직선 k 에 내린 수선의 발을 M' 라 할 때, $\overline{MM'}=x$ 라 하면

$$\overline{M_2M''} = \overline{M''H'} = \frac{x}{\sqrt{2}} \text{이고, 점} M_1 \text{의 } xy \text{평면 위로의 정사영을 } H' \text{라}$$

$$\text{하면, } \overline{M_1H'} = \frac{x}{\sqrt{2}}, \overline{H'M_2} = \frac{9\sqrt{2}}{2} - \frac{\sqrt{2}x}{2} + \frac{\sqrt{2}x}{2} = \frac{9\sqrt{2}}{2} \text{입니다.}$$



고로 $4|\overline{M_1M_2}|^2 = 162 + 2x^2$ 이고 $0 \leq x \leq 2$ 이므로 최댓값은 170이 됩니다. 정답은 170