



제 4 교시

사회탐구 영역(세계지리)

성명  수험 번호

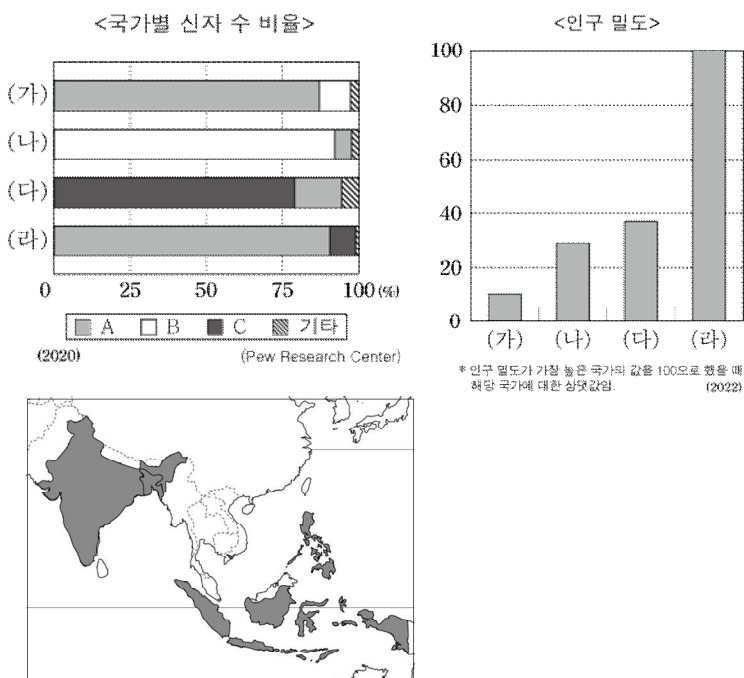
1. 다음 자료는 유럽의 도시 브랜딩 사례이다. (가)~(나)에 해당하는 지역을 지도의 A~E에서 고른 것은?

(가)	(나)
코펜하겐은 도시의 영문명 일부를 활용하여 '당신에게 열려있는(OPEN for you) 코펜하겐'이라는 슬로건으로 개방성을 표방하는 도시 브랜딩에 성공하였다. 도시에서 열리는 축제, 행사, 기념일 등에 맞게 도시 로고를 활용하기도 한다.	스톡홀름은 스칸디나비아 반도의 최대 도시이자 매년 노벨 시상식이 개최되는 곳이다. 또한 넓은 수면과 운하로 북방의 베네치아로 불리기도 한다. 이러한 특징을 살려 '스칸디나비아의 수도(The Capital of Scandinavia)'라는 슬로건을 사용하고 있다.
	



- |   | (가) | (나) |
|---|-----|-----|
| ① | B   | C   |
| ② | B   | D   |
| ③ | D   | A   |
| ④ | D   | B   |
| ⑤ | E   | B   |

2. 다음 자료의 (가)~(라) 국가에 대한 설명으로 옳은 것은? (단, (가)~(라)는 각각 지도에 표시된 네 국가 중 하나이며, A~C는 각각 크리스티교, 이슬람교, 힌두교 중 하나임.) [3점]



- ① (가)와 (나)는 영어를 공용어로 사용한다.
- ② (다)는 세계에서 이슬람교 신자 수가 가장 많다.
- ③ (라)는 파키스탄과 국경선이 접한다.
- ④ A, B는 보편 종교, C는 민족 종교에 해당한다.
- ⑤ 전 세계 신자 수는 A>B>C 순으로 많다.

3. 표의 (가)~(라) 지역에 대한 설명으로 옳은 것은? (단, (가)~(라)는 각각 지도에 표시된 네 지역 중 하나이며, A 시기는 1월, 7월 중 하나임.) [3점]

구분	(가)	(나)	(다)	(라)
A 시기 강수량(mm)	82	159	96.5	14.7
런던과의 경도 차	18°33'	115°58'	74°03'	12°36'

\* 런던과의 경도 차는 동경-서경이 아닌, 경도 차이의 절댓값을 나타냄.



<보 기>

- ㄱ. (가)와 (다)는 남반구에 위치해 있다.
- ㄴ. (나)는 (라)보다 A 시기의 낮 길이가 짧다.
- ㄷ. (다)는 (나)보다 국제 금융에서의 영향력이 크다.
- ㄹ. (라)는 (가)보다 북극과의 직선거리가 더 가깝다.

- |           |           |        |
|-----------|-----------|--------|
| ① ㄱ, ㄷ    | ② ㄴ, ㄷ    | ③ ㄴ, ㄹ |
| ④ ㄱ, ㄴ, ㄷ | ⑤ ㄴ, ㄷ, ㄹ |        |

4. (가)~(나)에 대한 설명으로 옳은 것만을 <보기>에서 있는 대로 고른 것은?

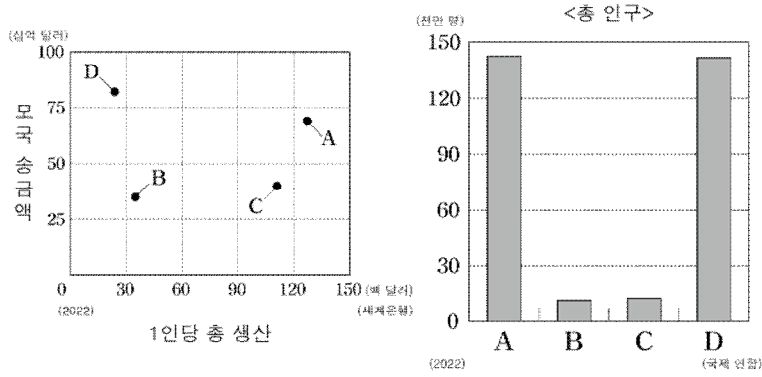
협장지(strip)는 좁고 길게 튀어나온 형태의 땅을 의미한다. 협장지는 다양한 이유로 만들어진다. (가) 은(는) 협장지가 있는 대표적인 국가이다. 아프리카의 대서양 연안에 위치한 (가) 은(는) 매우 건조하여 사막이 나타난다. (가) 을(를) 식민지배하던 독일이 다른 식민지와 땅을 잇기 위해 영국과 협상한 결과 협장지가 형성되었다. (나) 에서도 협장지를 볼 수 있다. (나) 을(를) 소유하던 러시아가 따뜻한 남쪽으로 세력을 확장하기 위해 캐나다를 소유한 영국과의 협상으로 협장지가 형성되었다. 현재 (나) 에는 석유와 천연가스 등 다양한 지하자원이 발견되어 (나) 을(를) 소유한 미국에 큰 경제적 이익을 가져다주고 있다.

<보 기>

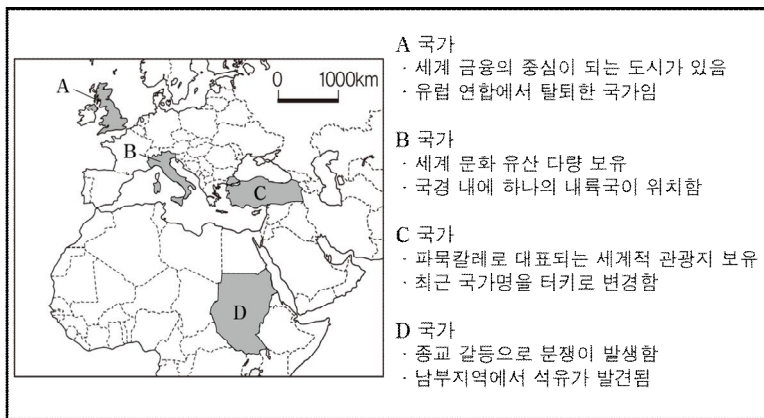
- ㄱ. (가)는 콩고 민주 공화국과 국경이 맞닿아 있다.
- ㄴ. (나)에는 건물 붕괴 방지를 위한 고상 가옥이 나타난다.
- ㄷ. (가)는 (나)보다 최한월 평균 기온이 높다.

- |     |     |     |        |        |
|-----|-----|-----|--------|--------|
| ① ㄱ | ② ㄴ | ③ ㄷ | ④ ㄱ, ㄴ | ⑤ ㄴ, ㄷ |
|-----|-----|-----|--------|--------|

5. 다음 자료의 A~D에 대한 설명으로 옳은 것은? (단, A~D는 각각 멕시코, 인도, 중국, 필리핀 중 하나임.)



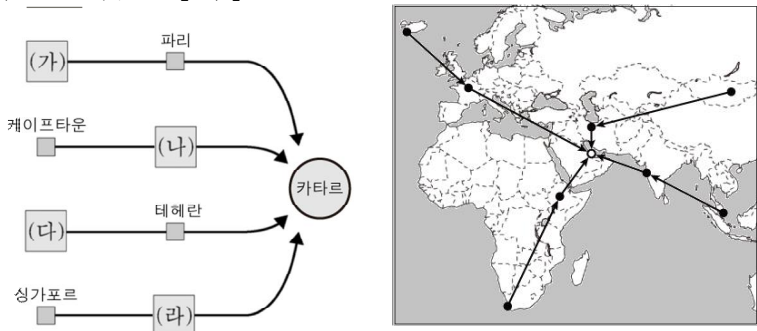
- ① A의 수도는 B의 수도보다 저위도에 위치한다.
  - ② B는 D보다 일출 시간이 늦다.
  - ③ C에는 중주 도시화 현상이 나타난다.
  - ④ D의 신자 수 1위 종교는 보편 종교이다.
  - ⑤ 국내 총생산이 높은 순서대로 나열하면 A>D>B>C이다.
6. 다음은 어떤 학생의 발표 자료이다. 이 자료의 틀린 내용에 대해 올바른 답변을 한 학생만을 모두 고른 것은? [3점]



<보 기>

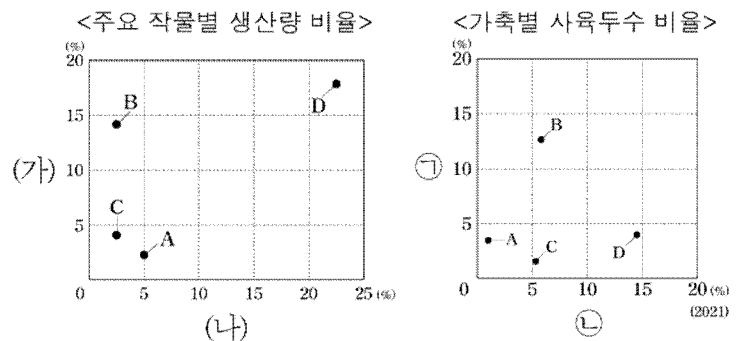
갑: A 국가는 유럽 연합에서 탈퇴하지 않았어요.  
 을: B 국가의 국경 내에는 하나가 아니라 두 개의 내륙국이 위치해요.  
 병: C 국가는 최근 국가명을 '튀르키예'로 변경하였어요.  
 정: D 국가는 현재 두 개의 국가로 분리되었어요.

- ① 갑, 병                      ② 을, 병                      ③ 병, 정
  - ④ 갑, 을, 병                ⑤ 을, 병, 정
7. 다음 자료는 지도에 표시된 도시의 공항에서 카타르의 국제공항으로 가는 안내의 일부이다. (가)~(라) 도시에 대한 설명으로 옳지 않은 것은? [3점]



- ① (가)는 판이 발산하는 경계에 위치하여 화산 활동이 활발하다.
- ② (나)는 전기와 우기가 뚜렷하며, 최한월 18°C 이상이다.
- ③ (다)에는 유목을 하기 쉬운 형태인 이동식 가옥이 나타난다.
- ④ (라)는 뮤지컬 요소가 어우러진 영화산업이 발달하였다.
- ⑤ 7월 낮 길이는 (가), (다), (라), (나) 순으로 길다.

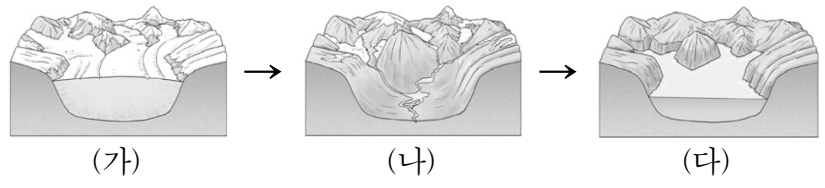
8. 그래프는 지도에 표시된 A~D 네 국가의 주요 식량 작물별 생산량 비율과 가축의 사육 두수 비율을 나타낸 것이다. 이에 대한 설명으로 옳은 것은? (단, (가), (나)는 각각 쌀, 밀, 옥수수 중 하나이며, ㉠, ㉡은 각각 소, 돼지, 양 중 하나임.) [3점]



- ① (나)는 (가)보다 내한성과 내건성이 높다.
  - ② ㉡은 ㉠보다 세계 사육 두수가 많다.
  - ③ A, C는 남반구에 위치한다.
  - ④ B의 수도는 A의 수도보다 7월의 밤 길이가 길다.
  - ⑤ D는 C보다 석탄 수출량이 더 많다.
9. 다음은 (가) 국가에 관한 인터넷 백과사전의 내용 중 일부이다. 이에 대한 설명으로 옳은 것은? [3점]

국토 형태	국가명	(가)
	㉠수도의 위치	36°50'45"S, 174°45'22"E
	㉡국토 면적	268,021km <sup>2</sup>
	㉢총인구	5,198,200명 (2023)
	국토의 특징	북섬과 남섬의 큰 두 섬으로 나누어져 있다.
	아오테아로아 (Aotearoa)	길고 흰 구름의 땅이라는 ㉣원주민식 표현. (가) 국가의 ㉤만년설을 보고 지어진 이름이다.

- ① ㉠과 ㉡은 속성 정보에 해당한다.
  - ② (가) 국가의 ㉢은 우리나라보다 많다.
  - ③ ㉣의 명칭은 애버리지니이다.
  - ④ (가) 국가에서 ㉤은 주로 북섬보다 남섬에서 잘 나타난다.
  - ⑤ (가) 국가는 남아메리카 대륙에 속한다.
10. 다음 자료는 어떤 빙하지형의 형성 과정을 나타낸 모식도이다. 이에 대한 설명으로 옳은 것을 <보기>에서 모두 고른 것은?

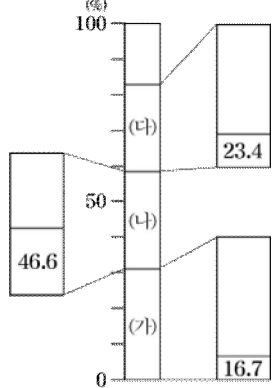


<보 기>

㉠. (가) 시기는 현재보다 지구 온도가 낮았을 것이다.  
 ㉡. (나)는 많은 유량에 의해 침식되어 U자곡이 형성되었다.  
 ㉢. (다)는 최종 빙기에 물이 고여 형성되었다.

- ① ㉠                      ② ㉡                      ③ ㉢                      ④ ㉠, ㉡                      ⑤ ㉠, ㉢

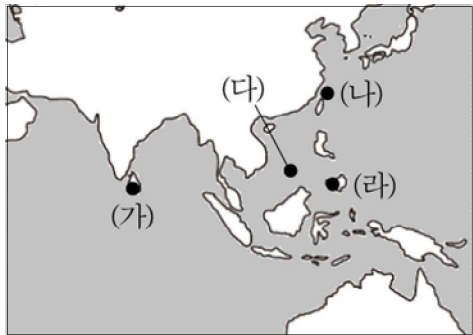
11. 다음 자료는 1차 에너지원별 생산량 비율과 각 에너지원별 생산량 1위 국가의 생산량 비율을 나타낸 것이다. 이에 대한 설명으로 옳은 것을 모두 고른 것은? (단, (가)~(다)는 각각 석유, 석탄, 천연가스 중 하나임.) [3점]



<보 기>  
 ㄱ. (가) 생산량 1위 국가와 (다) 생산량 1위 국가는 같다.  
 ㄴ. (나) 생산량 1위 국가는 1차 에너지 소비량이 가장 많다.  
 ㄷ. (가)는 (나)보다 국제 이동량이 많다.  
 ㄹ. (다)는 (나)보다 대기 오염 물질 배출량이 많다.

- ① ㄱ, ㄷ                      ② ㄴ, ㄷ                      ③ ㄴ, ㄹ
- ④ ㄱ, ㄴ, ㄷ                ⑤ ㄴ, ㄷ, ㄹ

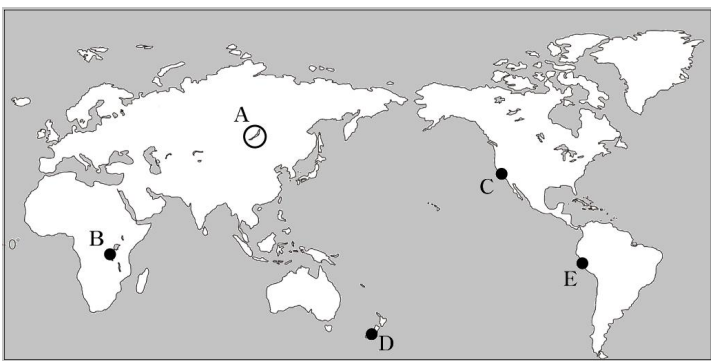
12. 지도에 표시된 (가)~(라)는 세계의 주요 분쟁 지역을 나타낸 것이다. 이에 대한 설명으로 옳은 것은? [3점]



<보 기>  
 ㄱ. (가)와 (라)는 이슬람교와 관련된 분쟁이다.  
 ㄴ. (나)는 에너지 자원 분쟁, (라)는 민족·종교 분쟁에 해당한다.  
 ㄷ. (나)의 분쟁 국가는 모두 (다)의 분쟁 국가에 포함된다.

- ① ㄱ                      ② ㄴ                      ③ ㄷ                      ④ ㄱ, ㄴ                      ⑤ ㄴ, ㄷ

13. 지도에 표시된 A~E에 대한 설명으로 옳은 것은?



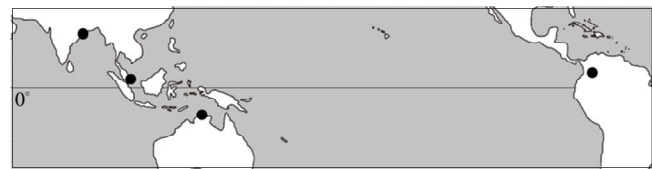
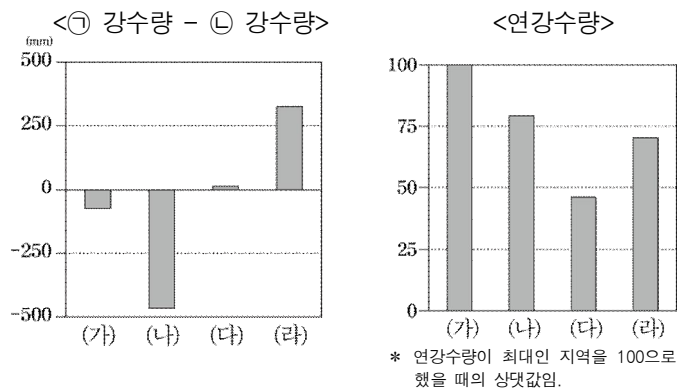
- ① A는 바닷물보다 염도가 낮다.
- ② B는 판이 충돌하는 곳으로, 지진 활동이 빈번하게 일어난다.
- ③ C는 판과 판이 갈라지는 곳으로, 지각이 확장되고 있다.
- ④ D는 열점에서 마그마가 분출되어 형성된 화산섬이다.
- ⑤ E는 고생대 조산운동으로 형성되어 석탄 매장량이 많다.

14. (가)~(라) 국가에 대한 설명으로 옳지 않은 것은?

사하라 이남 아프리카의 국가들에는 다양한 산업이 공존한다. 인도양과 국경이 접한 (가) 은(는) 상품 수출 구조 중 차, 커피와 같은 플랜테이션 작물이 상품 수출 구조에서 가장 큰 비중을 차지한다. 반면, 나미비아와 짐바브웨 사이에 위치한 (나) 은(는) 상품 수출 구조에서 다이아몬드가 압도적인 비중을 차지한다. 아프리카에서 가장 인구가 많은 (다) 은(는) 석유가 발견되어 원유 및 석유 제품이 가장 많은 수출 비중을 차지한다.

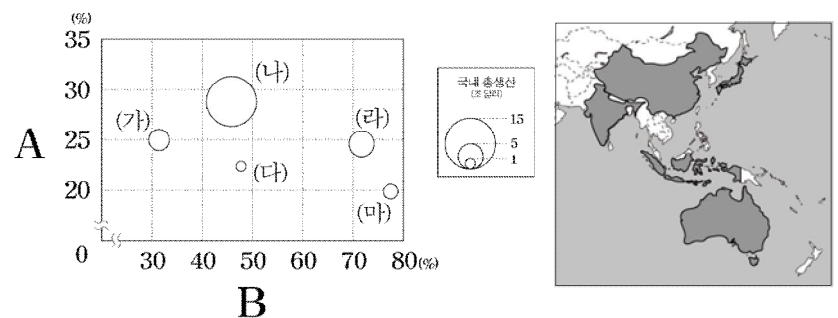
- ① (가)의 신자 수 1위 종교는 크리스티교이다.
- ② (나)는 남아프리카 공화국과 국경이 접한다.
- ③ (다)는 멕시코보다 총 인구수가 많다.
- ④ (나)와 (다)는 바다와 접하지 않는 내륙국이다.
- ⑤ 인구수가 많은 순서대로 나열하면 (다)>(가)>(나)이다.

15. 그래프는 지도에 표시된 네 지역의 시기별 강수량 차이와 연강수량을 나타낸 것이다. 이에 대한 설명으로 옳은 것은? (단, (가)~(라)는 지도에 표시된 네 지역 중 하나이며, ㉠, ㉡은 각각 1월, 7월 중 하나임.)



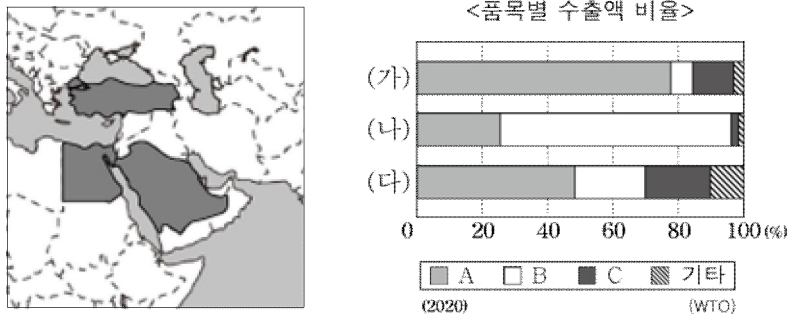
- ① (가)는 (나)보다 ㉡시기 정오의 태양 고도가 높다.
- ② (다)는 (라)보다 건기와 우기의 구분이 뚜렷하다.
- ③ (라)는 (다)보다 평균 해발 고도가 높다.
- ④ (나)는 (라)보다 7월의 밤 길이가 길다.
- ⑤ 일출 시간은 (다), (나), (가), (라) 순으로 빠르다.

16. 그래프는 산업별 종사자 비율을 나타낸 것이다. 이에 대한 설명으로 옳은 것은? (단, (가)~(마)는 각각 지도에 표시된 다섯 국가 중 하나이며, A, B는 각각 1차 산업, 2차 산업, 3차 산업 중 하나임.)



- ① (다)는 (가)보다 총인구가 많다.
- ② (라)는 (나)보다 1인당 총생산이 적다.
- ③ (마)는 (다)보다 1차 산업 종사자 비율이 높다.
- ④ (라)는 (가)보다 3차 산업 종사자 비율이 높다.
- ⑤ A는 1차 산업, B는 3차 산업이다.

17. 그래프는 지도에 나타난 세 국가의 품목별 수출액 비율을 나타낸 것이다. 이에 대한 설명으로 옳은 것은? (단, (가)~(다)는 지도에 표시된 세 국가 중 하나이며, A~C는 공업 제품, 광물 및 에너지 자원, 농림축수산물 중 하나임.) [3점]



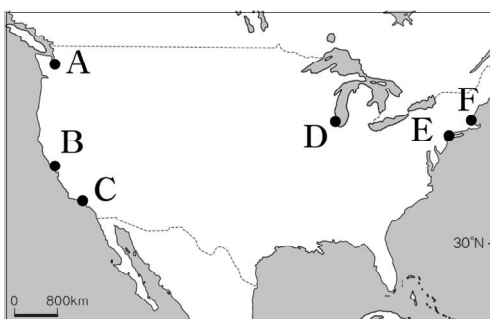
- ① (가)는 (나)보다 광물 및 에너지 자원 수출액 비율이 높다.
- ② (나)는 (다)보다 농림축수산물 수출액 비율이 높다.
- ③ (다)는 (가)보다 총인구가 많다.
- ④ (다)는 (나)보다 청·장년층 인구의 성비가 높다.
- ⑤ (다)의 B에 해당하는 주요 수출품으로 대추야자가 있다.

18. 다음은 신문 기사의 일부이다. 기사의 (가), (나)에 해당하는 지역을 지도의 A~F에서 고른 것은?

△△신문 2000년 0월 0일

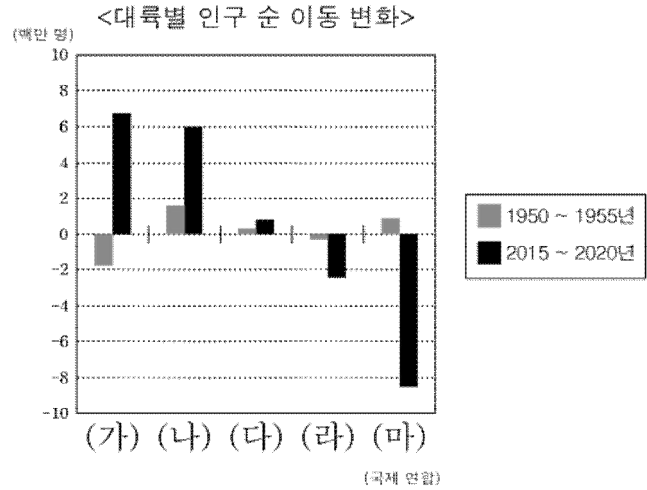
**이젠 스포츠도 한류의 시대!**

미국 메이저리그 소속의 A팀은 최근 거액의 금액을 지불하고 한국인 선수를 영입했다. 이 팀이 위치해 있는 (가) 지역은 인근 실리콘 밸리를 중심으로 한 컴퓨터 관련 산업이 발달한 것으로 유명하다. 금문교와 같은 다양한 관광지 또한 (가) 지역의 자랑이다. 한편, A팀과 라이벌 관계이며, (나) 지역에 위치한 B팀은 일본인 선수를 역대 최대 규모 계약으로 영입하여 큰 화제를 모았다. (나) 지역은 첨단 산업 뿐만 아니라, '할리우드'라고 불리는 영화 산업이 발달하여 세계적으로 유명한 도시 중 하나이다.



- |   |     |     |
|---|-----|-----|
|   | (가) | (나) |
| ① | A   | D   |
| ② | B   | E   |
| ③ | B   | C   |
| ④ | C   | B   |
| ⑤ | C   | F   |

19. 그래프는 대륙별 인구 순 이동 변화를 나타낸 것이다. 이에 대한 설명으로 옳은 것은? (단, (가)~(마)는 각각 북부 아메리카, 중·남부 아메리카, 아시아, 오세아니아, 유럽 중 하나임.)



- ① (나)는 (가)보다 노령화 지수가 높다.
- ② (나)는 (다)보다 화석 에너지의 총 생산량이 많다.
- ③ (다)는 (라)보다 도시화율이 높다.
- ④ (라)는 (마)보다 총인구가 많다.
- ⑤ (마)는 아프리카보다 중위 연령이 낮다.

20. 다음 자료는 수행 평가 내용에 대한 학생 답변과 교사의 채점 결과이다. 이에 대한 설명으로 옳은 것만을 <보기>에서 고른 것은? [3점]

◎ 중·남부 아메리카의 A~D 국가 특성에 대한 내용이 맞으면 '예', 틀리면 '아니요'로 답하시오.

질 문	답 변	
	갑	을
A에서 가장 비중이 높은 민족(인종)은 원주민이다.	예	예
B에서 가장 비중이 높은 민족(인종)은 유럽계이다.	아니요	예
(가)	아니요	㉠
(나)	아니요	㉡
점 수	2점	4점

\* 교사는 각 답변이 옳으면 1점, 틀리면 0점을 줌.

- <보 기>
- ㉠. (가)가 'A는 C보다 구리 생산량이 많다.'이면, ㉡은 '아니요'이다.
  - ㉡. (나)가 'D에서 가장 비중이 높은 민족(인종)은 유럽계이다.'이면, ㉠은 '아니요'이다.
  - ㉢. ㉠이 '예'이면, (나)에는 'A의 수도는 평균 해발고도가 2,000m 이상이다.'가 들어갈 수 있다.
  - ㉣. ㉡이 '아니요'이면, (가)에는 'B에는 중주 도시화가 나타나지 않는다.'가 들어갈 수 있다.

- ① ㉠, ㉡    ② ㉠, ㉢    ③ ㉡, ㉣    ④ ㉠, ㉡, ㉢    ⑤ ㉡, ㉢, ㉣

\* 확인 사항

○ 답안지의 해당란에 필요한 내용을 정확히 기입(표기)했는지 확인하시오.