

[도형의 변화율]

| 강재욱

일산 나다어

6평에 도형의 변화율 안 나오면 평가원이 이상한거임

유튜브 [재욱북음수학] 인스타 [dangerousunidentifiedcybermath]

| 한동훈

5A ACADEMY

6평에 삼도극 나오면 어찌지..

유튜브 [미적부장관 한동훈] 인스타 [minister_cal]

| 한성은

5A ACADEMY

변화율 밝으실 수 있죠?ㅎ

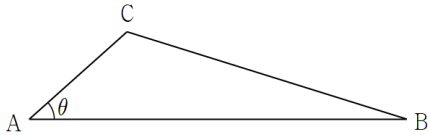
유튜브 [한성은] 인스타 [hansungeun2]

| CCL

- 허락 없이 문제를 쓰실 수 있지만, 출처를 반드시 표시해 주세요.
- 자신이 저작자라는 주장을 하지 말아 주세요.

[한성은 ZQ2116번]

1. $\overline{AB}=2$, $\overline{CB}=\sqrt{5}\times\overline{CA}$, $\angle CAB=\theta$ 를 만족시키는 삼각형 ABC의 넓이를 $S(\theta)$ 라 하자. $S'\left(\frac{\pi}{4}\right)$ 의 값은?



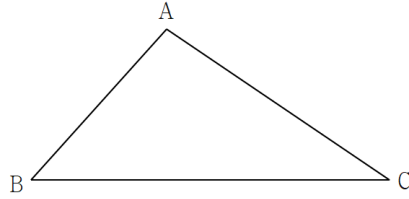
- ① $\frac{1}{3}$ ② $\frac{2}{3}$ ③ 1
 ④ $\frac{4}{3}$ ⑤ $\frac{5}{3}$

[한성은 VA8719번]

2. $\overline{BC}=5$ 인 삼각형 ABC와 실수 x 에 대하여

$$\overline{AB}=x, \quad \overline{AC}=x+1$$

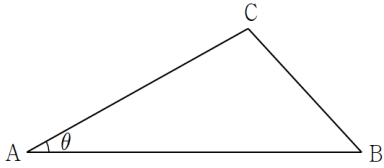
이다. 삼각형 ABC의 넓이를 $S(x)$ 라 할 때, $S'(3)$ 의 값은? (단, $x > 2$)



- ① 2 ② $\frac{5}{2}$ ③ 3
 ④ $\frac{7}{2}$ ⑤ 4

[한성은 HV2898번]

3. $\overline{AB}=2$, $\overline{BC}=1$, $\angle CAB = \theta$, $\angle CBA < \frac{\pi}{2}$ 를 만족시키는 삼각형 ABC의 넓이를 $S(\theta)$ 라 하자. $\tan \alpha = \frac{1}{2}$ 일 때, $S'(\alpha)$ 의 값은? (단, $0 < \theta < \frac{\pi}{6}$ 이다.)

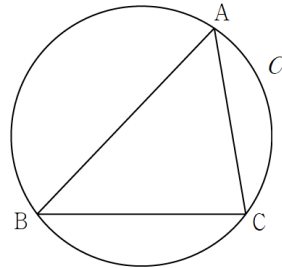


- ① $\frac{4}{5}$ ② $\frac{6}{5}$ ③ $\frac{8}{5}$
 ④ 2 ⑤ $\frac{12}{5}$

[한성은 WT9929번]

4. 반지름의 길이가 5인 원 C 위의 세 점 A, B, C에 대하여 $\overline{BC}=8$, $\overline{AC}=x$

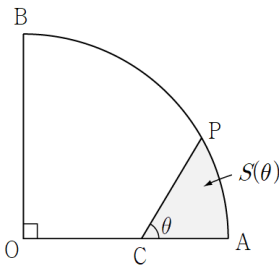
일 때, 삼각형 ABC의 넓이를 $S(x)$ 라 하자. $S'(5\sqrt{2})$ 의 값은?



- ① $\frac{3\sqrt{2}}{5}$ ② $\frac{6\sqrt{2}}{5}$ ③ $\frac{9\sqrt{2}}{5}$
 ④ $\frac{12\sqrt{2}}{5}$ ⑤ $3\sqrt{2}$

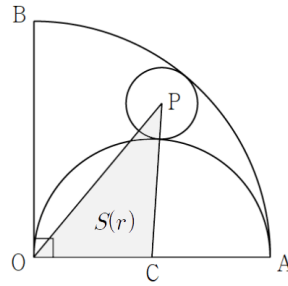
[한성은 UX4166번]

5. 그림과 같이 중심이 O , 반지름의 길이가 $\sqrt{3}$ 이고 중심각의 크기가 $\frac{\pi}{2}$ 인 부채꼴 OAB 가 있다. 선분 OA 위의 점 C 를 $\overline{OC}=1$ 이 되도록 잡고, 호 AB 위의 점 P 에 대하여 $\angle PCA = \theta$ 라 하자. 두 선분 AC , CP 와 호 AP 로 둘러싸인 도형의 넓이를 $S(\theta)$ 라 할 때, $60 \times S'(\frac{\pi}{3})$ 의 값을 구하여라. (단, $0 < \theta < \frac{\pi}{2}$)



[한성은 VU8723번]

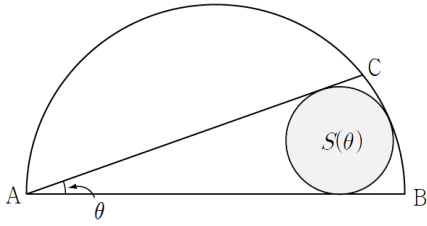
6. 그림과 같이 중심이 O , 반지름의 길이가 2이고 중심각의 크기가 $\frac{\pi}{2}$ 인 부채꼴 OAB 와 선분 OA 를 지름으로 하는 반원이 있다. 선분 OA 의 중점 C , 호 AB 와 호 OA 에 동시에 접하고 반지름의 길이가 r 인 원의 중심 P 에 대하여 삼각형 OCP 의 넓이를 $S(r)$ 이라 할 때, $S'(\frac{1}{3})$ 의 값은?



- ① $\frac{1}{2}$ ② 1 ③ $\frac{3}{2}$
 ④ 2 ⑤ $\frac{5}{2}$

[한성은 OM8441번]

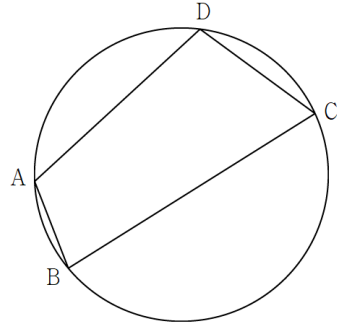
7. 그림과 같이 길이가 2인 선분 AB를 지름으로 하는 반원 위에 점 C를 잡고 $\angle BAC = \theta$ 라 하자. 호 BC와 두 선분 AB, AC에 동시에 접하는 원의 넓이 $S(\theta)$ 에 대하여 $\tan \frac{\alpha}{2} = \frac{1}{3}$ 일 때, $S'(\alpha)$ 의 값은?
(단, $0 < \theta < \frac{\pi}{6}$ 이다.)



- ① $\frac{80\pi}{243}$ ② $\frac{82\pi}{243}$ ③ $\frac{28\pi}{81}$
 ④ $\frac{86\pi}{243}$ ⑤ $\frac{88\pi}{243}$

[한동훈 선생님]

8. $\overline{AB} + 2 = \overline{CD}$, $\overline{BC} = 10$, $\overline{DA} = 8$ 을 만족시키는 네 점 A, B, C, D가 한 원 위에 있다. $\overline{AB} = x$ 일 때, 사각형 ABCD의 넓이를 $S(x)$ 라 하자. $S'(3)$ 의 값은?



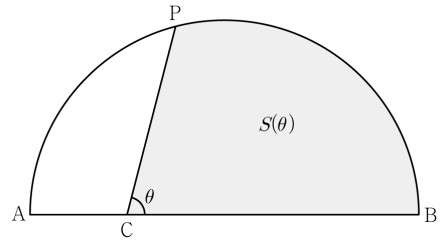
- ① $\frac{4\sqrt{3}}{3}$ ② $\frac{8\sqrt{3}}{3}$ ③ $4\sqrt{3}$
 ④ $\frac{16\sqrt{3}}{3}$ ⑤ $\frac{20\sqrt{3}}{3}$

[한성은 RN9787번]

9. 곡선 $x^2 + y^2 = 25 (x > 0, y > 0)$ 위의 점 P에서 그은 접선이 x축과 만나는 점을 Q라 하자. 점 A(1, 0)에 대하여 $\angle PAQ = \theta$ 라 할 때, $\overline{PQ} = f(\theta)$ 이다. $f'(\frac{\pi}{4}) = \frac{q}{p}$ 일 때, $p+q$ 의 값을 구하여라. (단, p와 q는 서로소인 자연수이다.)

[강재욱 선생님]

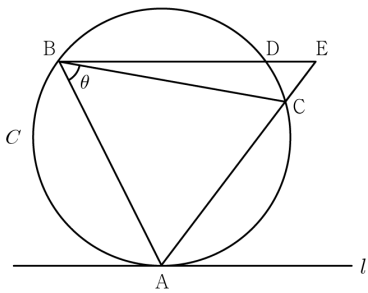
10. 길이가 8인 선분 AB를 지름으로 하는 반원과 선분 AB 위에 $\overline{AC} = 2$ 인 점 C가 있다. 이 반원의 호 AB 위의 점 P를 $\angle PCB = \theta$ 가 되도록 잡는다. 선분 CP, CB와 호 PB로 둘러싸인 부분의 넓이 $S(\theta)$ 에 대하여 $\cos \alpha = \frac{1}{4}$ 일 때, $S'(\alpha)$ 의 값을 구하여라.



[강재욱 선생님]

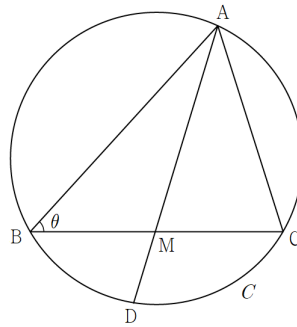
11. 그림과 같이 반지름의 길이가 $\frac{5}{2}$ 인 원 C 위의

세 점 A, B, C 에 대하여 $\overline{AB} = \overline{BC}$ 이고 l 은 원 C 위의 점 A 에서의 접선이다. 점 B 를 지나고 직선 l 과 평행한 직선이 원 C 와 만나는 점을 D , 직선 AC 와 만나는 점을 E 라 하자. $\angle ABC = \theta$ 라 할 때 $\overline{BE} = f(\theta)$ 이고 $\overline{AC} = 4$ 일 때의 θ 의 값이 α 이다. $-4 \times f'(\alpha)$ 의 값을 구하여라.



[2023학년도 강재욱/한성은 모의고사]

12. 반지름의 길이가 6인 원 C 위의 세 점 A, B, C 에 대하여 $\overline{BC} = 6\sqrt{3}$ 이고 선분 BC 의 중점을 M 이라 하자. 직선 AM 과 원 C 가 만나는 점 중 A 가 아닌 점을 D 라 하고, $\angle ABC = \theta$ 라 할 때, 선분 MD 의 길이는 $l(\theta)$ 이다. $-\frac{7\sqrt{21}}{3} \times l'(\frac{\pi}{6})$ 의 값을 구하여라.



[도형의 변화율 정답표]

문항	정답	문항	정답	문항	정답	문항	정답	문항	정답
01	㉔	02	㉔	03	㉕	04	㉔	05	30
06	㉑	07	㉑	08	㉔	09	431	10	8
11	25	12	18						

COMMENT 01

$\overline{CA} = x$ 라 하자. 코사인법칙에서 $\cos\theta = -x - \frac{1}{x}$ 이고 $S(x) = x \sin\theta$ 이다.

$\theta = \frac{\pi}{4}$ 일 때, $x = \frac{\sqrt{2}}{2}$ 이고 $\left. \frac{dx}{d\theta} \right|_{\theta=\frac{\pi}{4}} = \frac{6\sqrt{5}}{5}$ 이다.

※ 두 점 A, B를 고정할 때, 점 C는 원 위의 점이다. (아폴로니우스의 원)

COMMENT 02

[풀이1] $\angle ABC = \theta$ 라 하자. 코사인법칙에서 $\cos\theta = \frac{12-x}{5x}$ 이고 $S(x) = \frac{5}{2}x \sin\theta$ 이다.

$x = 3$ 일 때, $\cos\theta = \frac{3}{5}$ 이고 $\left. \frac{d\theta}{dx} \right|_{x=3} = \frac{1}{3}$ 이다.

[풀이2] $\angle BAC = \theta$ 라 하자. $S(x) = \frac{1}{2}x(x+1)\sin\theta$ 이다. $x = 3$ 일 때 $\theta = \frac{\pi}{2}$ 이고,

$$S'(x) = \frac{1}{2}(2x+1)\sin\theta + \frac{1}{2}x(x+1)\cos\theta \times \frac{d\theta}{dx}$$

에서 $S'(3) = \frac{7}{2}$ 이다.

[풀이3] $\angle ABC = \alpha$, $\angle ACB = \beta$ 라 하자. $\frac{x+1}{\sin\alpha} = \frac{x}{\sin\beta} = \frac{5}{\sin(\alpha+\beta)}$ 이고 $S(x) = \frac{5}{2}x \sin\alpha$ 이다.

$x = 3$ 일 때 $\sin\alpha = \frac{4}{5}$, $\sin\beta = \frac{3}{5}$ 이고 $(x+1)\sin(\alpha+\beta) = 5\sin\alpha$ 에서

$$\sin(\alpha+\beta) + (x+1)\cos(\alpha+\beta) \times \left(\frac{d\alpha}{dx} + \frac{d\beta}{dx} \right) = 5\cos\alpha \times \frac{d\alpha}{dx}$$

이므로 $\left. \frac{d\alpha}{dx} \right|_{x=3} = \frac{1}{3}$ 이다. $S'(x) = \frac{5}{2}\sin\alpha + \frac{5}{2}x\cos\alpha \times \frac{d\alpha}{dx}$ 이므로 $S'(3) = \frac{7}{2}$ 이다.

[풀이4] 점 A에서 선분 BC에 내린 수선의 발을 H라 하고, $\overline{BH} = y$ 라 하자.

$x^2 - y^2 = (x+1)^2 - (5-y)^2$ 에서 $x+5y-12=0$ 이고, $S(x) = \frac{5}{2}\sqrt{x^2-y^2}$ 이다.

$x = 3$ 일 때, $y = \frac{9}{5}$, $\left. \frac{dy}{dx} \right|_{x=3} = -\frac{1}{5}$ 이고, $S'(x) = \frac{5}{2\sqrt{x^2-y^2}} \times \left(x - y \times \frac{dy}{dx} \right)$ 이다.

[풀이5] 헤론의 정리에 의해 (또는 $\frac{1}{2}bc\sin A$ 에 의해)

$$S(x) = \sqrt{6(x-2)(x+3)}$$

이다.

※ [풀이1]이 의도였는데, [풀이2]가 더 좋아서 망한 문항. 그래도 연습용으로 괜찮은 것 같아서 그냥 됐다.

※ [풀이5]와 같이 양함수로 나타낼 수 있지만 (헤론의 정리를 쓰지 않으면) 과정이 만만하지 않다.

양함수로 쓰는 것이 가능하지만 괴롭다는 것이 [2024학년도 9월 30번]이나 [2024년 5월 29번]과 비슷한 부분.

※ 두 점 B, C를 고정할 때, 점 A는 쌍곡선 위의 점이다.

COMMENT 03

$\overline{CA} = x$ 라 하자. 코사인법칙에서 $x^2 - 4\cos\theta \times x + 3 = 0$ 이고 $S(\theta) = x \times \sin\theta$ 이다.

$\theta = \alpha$ 일 때, $x = \frac{3\sqrt{5}}{5}$ 이고 $\left. \frac{dx}{d\theta} \right|_{\theta=\alpha} = \frac{6\sqrt{5}}{5}$ 이다.

COMMENT 04

$\angle BAC = \alpha$, $\angle ABC = \theta$ 라 하자. α 는 상수, θ 는 x 의 함수이다. $x = 10\sin\theta$ 이고, $S(x) = 4x \sin(\theta + \alpha)$ 이다.

$x = 5\sqrt{2}$ 일 때, $\cos\theta = \frac{\sqrt{2}}{2}$, $\cos(\theta + \alpha) = -\frac{\sqrt{2}}{10}$ 이고, $\frac{d\theta}{dx} = \frac{\sqrt{2}}{10}$ 이다. $S'(x) = 4\sin(\theta + \alpha) + 4x\cos(\theta + \alpha) \times \frac{d\theta}{dx}$ 에 대입.

COMMENT 05

$\angle POA = \alpha$ 라 하자. $\frac{\sqrt{3}}{\sin(\pi-\theta)} = \frac{1}{\sin(\theta-\alpha)}$ 이고, $S(\theta) = \frac{3}{2}\alpha - \frac{\sqrt{3}}{2}\sin\alpha$ 이다.

$\theta = \frac{\pi}{3}$ 일 때, $\alpha = \frac{\pi}{6}$ 이고 $\frac{d\alpha}{d\theta} = \frac{2}{3}$, $S'(\theta) = \frac{1}{2}$ 이다.

COMMENT 06

$\overline{OP} = 2-r$, $\overline{CP} = 1+r$ 이다. $\angle POC = \theta$ 라 할 때, $\cos\theta = \frac{2-3r}{2-r}$ 이고 $S(r) = \frac{1}{2}(2-r)\sin\theta$ 이다.

$r = \frac{1}{3}$ 일 때 $\cos\theta = \frac{3}{5}$ 이고, $\left. \frac{d\theta}{dr} \right|_{r=\frac{1}{3}} = \frac{9}{5}$ 이다.

※ 점 P의 자취는 타원이다.

COMMENT 07

작은 원의 반지름의 길이를 r , 선분 AB의 중점을 O, 작은 원의 중심을 P, 작은 원과 선분 AB의 교점을 H라 할 때,

$\overline{OP} = 1-r$, $\overline{PH} = r$, $\overline{OH} = \frac{r}{\tan\frac{\theta}{2}} - 1$ 이다. 피타고라스 정리면, $r = 2\tan\frac{\theta}{2} - 2\tan^2\frac{\theta}{2}$ 이다. $\theta = \alpha$ 일 때, $r = \frac{4}{9}$ 이고 $\frac{dr}{d\theta} = \frac{10}{27}$ 이다.

※ [2016학년도 6월 29번]에서 가져온 문항. 결론만 본다면 양함수로 나타내는 것이 편하지만,

작은 원의 반지름의 길이 r 을 설정하고 r 을 이용하여 식을 세우는 것이 이쪽 변화율 문항들과 공통점.

COMMENT 08

$\angle ABC = \theta$ 라 하자. $\angle ADC = \pi - \theta$ 이므로 $\overline{AC}^2 = x^2 + 20 - 20x\cos\theta = x^2 + 4x + 68 + 16(x+2)\cos\theta$, 정리하면 $8-x = (9x+8)\cos\theta$ 이다.

x 에 대해 미분하면, $-1 = 9\cos\theta - (9x+8)\sin\theta \frac{d\theta}{dx}$ 이다. $S(x) = 5x\sin\theta + 4(x+2)\sin(\pi-\theta) = (9x+8)\sin\theta$ 를 x 에 대하여 미분하면,

$S'(x) = 9\sin\theta + (9x+8)\cos\theta \frac{d\theta}{dx} = 9\sin\theta + \cos\theta \times \frac{9\cos\theta + 1}{\sin\theta} = \frac{9 + \cos\theta}{\sin\theta}$ 이다. $x = 3$ 일 때, $\cos\theta = \frac{1}{7}$ 이고 $S'(3) = \frac{16\sqrt{3}}{3}$ 이다.

※ $\angle DAB = \theta$ 로 놓고 풀면 $\cos\theta = \frac{13}{37}$ 이 나와 계산이 힘들어진다.

※ 브라마굽타 공식을 이용하면 $S(x) = \sqrt{80x(x+2)}$ 로 나타낼 수 있다.

COMMENT 09

$\angle POA = \alpha$ 라 하자. $\frac{5}{\sin(\pi-\theta)} = \frac{1}{\sin(\theta-\alpha)}$ 이므로 $5\sin(\theta-\alpha) = \sin\theta$ 이고, $f(\theta) = 5\tan\alpha$ 이다.

① $\theta = \frac{\pi}{4}$ 일 때, $\sin(\theta-\alpha) = \frac{\sqrt{2}}{10}$ 이고, $\sin\alpha = \frac{3}{5}$ 이다.

② $5\cos(\theta-\alpha) \times \left(1 - \frac{d\alpha}{d\theta}\right) = \cos\theta$ 이고, $f'(\theta) = 5\sec^2\alpha \times \frac{d\alpha}{d\theta}$ 이다.

COMMENT 10

AB의 중점을 O, $\overline{CP} = l$, $\angle CPO = \beta$ 라 하자. 삼각형 PCO에서

$$l^2 + 4\cos\theta - 12 = 0 \dots \textcircled{1}$$

$$\sin\theta = 2\sin\beta \dots \textcircled{2}$$

이고, $S(\theta)$ 를 삼각형 PCO와 부채꼴 POB 넓이의 합으로 표현하면

$$S(\theta) = l\sin\theta + 8(\theta + \beta) \dots \textcircled{3}$$

이다.

$\theta = \alpha$ 를 ①에 대입하면 $l_{\theta=\alpha} = 4$,

$\theta = \alpha$ 를 ②에 대입하면 $\sin\beta_{\theta=\alpha} = \frac{\sqrt{15}}{8}$, $\cos\beta_{\theta=\alpha} = \frac{7}{8}$ 이다.

①, ②, ③을 각각 θ 에 대하여 미분하면

$$2l \frac{dl}{d\theta} + 4\sin\theta \times l - 4\cos\theta \times \frac{dl}{d\theta} = 0 \quad \dots \text{④}$$

$$\cos\theta = 2\cos\beta \times \frac{d\beta}{d\theta} \quad \dots \text{⑤}$$

$$S'(\theta) = \frac{dl}{d\theta} \sin\theta + l \cos\theta + 8 \left(1 + \frac{d\beta}{d\theta} \right) \quad \dots \text{⑥}$$

이다. $\theta = \alpha$ 를 각각 대입하면

$$\left. \frac{dl}{d\theta} \right|_{\theta=\alpha} = -\frac{4}{7} \sqrt{15}, \quad \left. \frac{d\beta}{d\theta} \right|_{\theta=\alpha} = \frac{1}{7}, \quad S'(\alpha) = 8$$

이다.

COMMENT 11

$\angle AEB = \theta$ 이다. 선분 AC의 길이를 s , 선분 AB의 길이를 t , 선분 BE의 길이를 u 라 하자.

$$s = 5\sin\theta \quad \dots \text{①}$$

$$s^2 = 2t^2(1 - \cos\theta) \quad \dots \text{②}$$

$$\text{삼각형 ABC와 삼각형 BEA가 닮음이므로 } t^2 = su \quad \dots \text{③}$$

이다. $s = 4$ 를 ①, ②, ③에 각각 대입하면

$$\sin\theta_{\theta=\alpha} = \frac{4}{5}, \quad \cos\theta_{\theta=\alpha} = \frac{3}{5}, \quad t_{\theta=\alpha} = 2\sqrt{5}, \quad u_{\theta=\alpha} = 5$$

이다. ①, ②, ③을 각각 θ 에 대하여 미분하면

$$\frac{ds}{d\theta} = 5\cos\theta \quad \dots \text{④}$$

$$2s \frac{ds}{d\theta} = 4t \frac{dt}{d\theta} (1 - \cos\theta) + 2t^2 \sin\theta \quad \dots \text{⑤}$$

$$2t \frac{dt}{d\theta} = \frac{ds}{d\theta} u + s \frac{du}{d\theta} \quad \dots \text{⑥}$$

$\theta = \alpha$ 를 대입하면

$$\left. \frac{ds}{d\theta} \right|_{\theta=\alpha} = 3, \quad \left. \frac{dt}{d\theta} \right|_{\theta=\alpha} = -\frac{\sqrt{5}}{2}, \quad \left. \frac{du}{d\theta} \right|_{\theta=\alpha} = -\frac{25}{4}, \quad -4 \left. \frac{du}{d\theta} \right|_{\theta=\alpha} = 25$$

이다.

COMMENT 12

삼각형 ABC에서 사인법칙, $\overline{AB} = 12\sin\left(\frac{2}{3}\pi - \theta\right)$, $\overline{AC} = 12\sin\theta$ 이다. $\overline{AM} = x$ 라 하자.

할선정리로 $\overline{AM} \times \overline{MD} = xl = 27$ 이고 중선정리(또는 코사인법칙)에서 $144\left(\sin^2\theta + \sin^2\left(\frac{2}{3}\pi - \theta\right)\right) = 2(27 + x^2)$ 이다.

$\theta = \frac{\pi}{6}$ 일 때 $x = 3\sqrt{7}$ 이다. $72\left(2\sin\theta\cos\theta - 2\sin\left(\frac{2}{3}\pi - \theta\right)\cos\left(\frac{2}{3}\pi - \theta\right)\right) = 2x \frac{dx}{d\theta}$ 이므로 $\theta = \frac{\pi}{6}$ 일 때 $\frac{dx}{d\theta} = \frac{6\sqrt{3}}{\sqrt{7}}$ 이다.

$x = 3\sqrt{7}$ 일 때 $l = \frac{9}{\sqrt{7}}$ 이고 $\frac{dx}{d\theta} \times l + x \times \frac{dl}{d\theta} = 0$ 이므로 $\frac{dl}{d\theta} = -\frac{18\sqrt{3}}{7\sqrt{7}}$ 이다.