

# 수학 영역

홀수형

성명

수험 번호

- 문제지의 해당란에 성명과 수험 번호를 정확히 쓰시오.
- 답안지의 필적 확인란에 다음의 문구를 정자로 기재하십시오.

변한 것은 내가 아닌 삶의 무게

- 답안지의 해당란에 성명과 수험 번호를 쓰고, 또 수험 번호, 문형(홀수/짝수), 답을 정확히 표시하십시오.
- 단답형 답의 숫자에 '0'이 포함되면 그 '0'도 답란에 반드시 표시하십시오.
- 문항에 따라 배점이 다르니, 각 물음의 끝에 표시된 배점을 참고하십시오. 배점은 2점, 3점 또는 4점입니다.
- 계산은 문제지의 여백을 활용하십시오.

※ 공통과목 및 자신이 선택한 과목의 문제지를 확인하고, 답을 정확히 표시하십시오.

○ 공통과목 ..... 1~8쪽

○ 선택과목

미적분 ..... 9~12쪽

※ 시험이 시작되기 전까지 표지를 넘기지 마시오.

## 출제진

송승혁(M.I.S)

[1번, 2번, 3번, 5번, 6번, 8번, 13번 원본, 14번, 15번, 19번, 23번, 24번, 25번, 26번, 30번]

박재윤(소우주수학)

[4번, 7번, 9번, 10번, 11번, 12번, 13번 마감, 16번, 17번, 18번, 20번, 21번, 22번, 28번, 29번]

강동현

[27번]

## 검토진

이민정 강사님

곽찬의

이서빈

주서연

제 2 교시

수학 영역

5지선다형

1.  $\sqrt[3]{2 \times 4^6}$ 의 값은? [2점]

- ① 2      ②  $2\sqrt{2}$       ③ 4      ④  $4\sqrt{2}$       ⑤ 8

$$2^{\frac{1}{3}} \times 2^{\frac{5}{3}} = 2^2 = 4$$

2. 함수  $f(x) = x^3 - 9x^2 + 7x + 1$ 에 대하여  $\lim_{x \rightarrow 2} \frac{f(x) - f(2)}{x - 2}$ 의 값은? [2점]

- ① -20      ② -19      ③ -18      ④ -17      ⑤ -16

$$f'(x) = 3x^2 - 18x + 7$$

$$f'(2) = 12 - 36 + 7 = -17$$

3. 실수 전체의 집합에서 연속인 함수  $f(x)$ 가

$$\lim_{x \rightarrow 3} f(x) = 2 + \frac{6}{7}f(3)$$

를 만족시킬 때,  $f(3)$ 의 값은? [3점]

- ① 12      ② 14      ③ 16      ④ 18      ⑤ 20

$$f(3) = 2 + \frac{6}{7}f(3)$$

$$\frac{1}{7}f(3) = 2 \quad \therefore f(3) = 14$$

4. 등차수열  $\{a_n\}$ 에 대하여

$$a_2 + a_5 = 1, \quad \sum_{n=2}^6 a_n = 2$$

일 때,  $a_1$ 의 값은? [3점]

- ① 1      ②  $\frac{3}{2}$       ③ 2      ④  $\frac{5}{2}$       ⑤ 3

$$a_2 + a_5 = 2a + 5d = 1$$

$$\sum_{n=2}^6 a_n = \frac{5(2a + 6d)}{2} = 5a + 15d = 2$$

$$\therefore a = 1$$

출제자의 별해) 첨자의 합에서 등차중항을 눈치채셨다면 이렇게 푸셔도 괜찮았을거예요. 4번이니만큼 어떻게 푸셔도 무방합니다.

$$\sum_{n=1}^6 a_n = 6 \times \frac{a_2 + a_5}{2} \rightarrow 1$$

$$\frac{1}{8}$$

$$= \sum_{n=2}^6 a_n + a_1$$

$$\therefore a_1 = 6 \cdot \frac{1}{2} - 2 = 1$$

5.  $\frac{3}{2}\pi < \theta < 2\pi$ 인  $\theta$ 에 대하여  $\sin\theta = -\frac{12}{13}$ 일 때,  
 $\cos\theta$ 의 값은? [3점]

- ①  $\frac{5}{13}$       ②  $\frac{12}{13}$       ③  $-\frac{5}{12}$

- ④  $-\frac{5}{13}$       ⑤  $-\frac{12}{13}$

$\frac{144}{169} + C^2 = 1$

$\therefore C^2 = \frac{25}{169} \Rightarrow \cos\theta = \frac{5}{13}$

6. 함수  $f(x) = 2x^3 - 9x^2 - 24x$ 의 극댓값과 극솟값의 차는? [3점]

- ① 27      ② 64      ③ 125      ④ 216      ⑤ 343

$f'(x) = 6x^2 - 18x - 24$

$6(x-4)(x+1) = 0$

$\therefore f(4) = -112, f(-1) = 13$

$\Rightarrow 13 + 112 = 125$

7. 수열  $\{a_n\}$ 의 첫째항부터 제  $n$ 항까지의 합을  $S_n$ 이라 하자.  
 모든 자연수  $n$ 에 대하여

$S_n = \log_2\left(1 + \frac{1}{n}\right) = \log_2\left(\frac{n+1}{n}\right)$

일 때,  $\sum_{n=1}^6 (S_n + a_{n+1})$ 의 값은? [3점]

- ① 1      ② 2      ③ 3      ④ 4      ⑤ 5

$a_n = S_n - S_{n-1}$   
 $= \log_2 \frac{n+1}{n} - \log_2 \frac{n}{n-1}$   
 $= \log_2 \frac{(n+1)(n-1)}{n^2} \quad (n \geq 2)$

$\Rightarrow a_{n+1} = \log_2 \frac{(n+2) \cdot n}{(n+1)^2}$

$\sum_{n=1}^6 (S_n + a_{n+1}) = \sum_{n=1}^6 \log_2 \frac{n+2}{n+1}$   
 $= \log_2 \left(\frac{3}{2} \times \frac{4}{3} \times \dots \times \frac{8}{7}\right)$   
 $= \log_2 4 = 2$

8.  $t=0$ 일 때 원점을 출발하여 수직선 위를 움직이는 점 P의 시각  $t(t \geq 0)$ 에서의 속도  $v(t)$ 가

$$v(t) = 3t^2 - 2t - 1$$

이다. 시각  $t=4$ 에서 점 P의 위치는? [3점]

- ① 41      ② 42      ③ 43      ④ 44      ⑤ 45

$$\int_0^4 3t^2 - 2t - 1 dt = [t^3 - t^2 - t]_0^4 = 44$$

9. 등비수열  $\{a_n\}$ 에 대하여 네 개의 수

$$a_2, a_3, 15, a_5$$

가 이 순서대로 공차가 양수인 등차수열을 이룰 때,  $a_6$ 의 값은? [4점]

- ① -6      ② 12      ③ -24      ④ 36      ⑤ -48

$$2a_3 = a_2 + 15 \Rightarrow 2ar^2 = ar + 15$$

$$30 = a_3 + a_5 \Rightarrow 30 = ar^2 + ar^4$$

$$4ar^2 - 2ar = ar^2 + ar^4$$

$$r(r+2)(r-1)^2 = 0$$

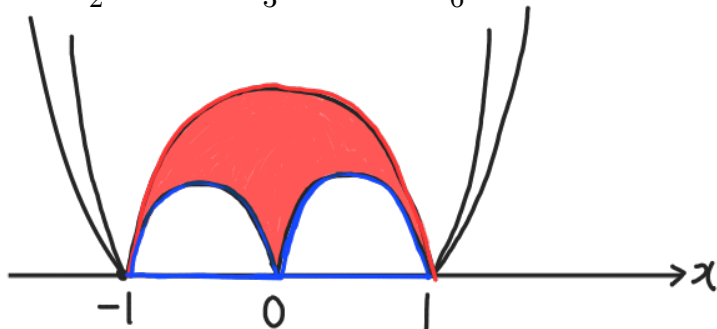
$$\therefore r = -2, a = \frac{3}{2} \Rightarrow a_6 = -48$$

10. 최고차항의 계수가 양수인 삼차함수  $f(x)$ 에 대하여 함수

$$g(x) = |f(x)| - |x^2 - 1|$$

가 오직  $x=0$ 에서만 미분가능하지 않을 때, 곡선  $y=g(x)$ 와  $x$ 축으로 둘러싸인 부분의 넓이는? [4점]

- ①  $\frac{1}{2}$       ②  $\frac{2}{3}$       ③  $\frac{5}{6}$       ④ 1      ⑤  $\frac{7}{6}$



$$f(-1) = f(1) = f(0) = 0, f'(1) = 2, f'(-1) = 2$$

$$f(x) = x \cdot (x-1)(x+1) = x^3 - x$$

$$\text{Red Area} = \frac{1}{6} \times 2^3 = \frac{4}{3}$$

$$\text{Blue Area} = \int_0^1 -x^3 + x dx = [-\frac{1}{4}x^4 + \frac{1}{2}x^2]_0^1 = \frac{1}{4}$$

$$\therefore \text{넓이} = \frac{4}{3} - 2 \times \frac{1}{4} = \frac{5}{6}$$

출제자의 첨언) 삼차함수와 이차함수의 넓이공식을 쓰셔도 좋습니다.

11. 최고차항의 계수가 1인 삼차함수  $f(x)$ 가 다음 조건을 만족시킨다.

곡선  $y = f(x)$  위의 점  $(3, f(3))$ 에서의 접선의 방정식은  $y = f'(5)(x - 6) + 6$ 이다.

$f(0) = 0$ 일 때,  $f'(4)$ 의 값은? [4점]

- ① -12    ② -11    ③ -10    ④ -9    ⑤ -8

$$\begin{aligned} y &= f'(3)(x - 3) + f(3) \\ &= f'(3)x - 3f'(3) + f(3) \\ &= f'(5)x - 6f'(5) + 6 \end{aligned}$$

$\Rightarrow f'(3) = f'(5)$  ,  $-3f'(3) + f(3) = -6f'(5) + 6$

$$\begin{aligned} \hookrightarrow f'(x) &= 3(x-3)(x-5) + k \\ &= 3x^2 - 24x + 45 + k \end{aligned}$$

$$f(x) = x^3 - 12x^2 + (45+k)x$$

$$f(3) = 3k + 54$$

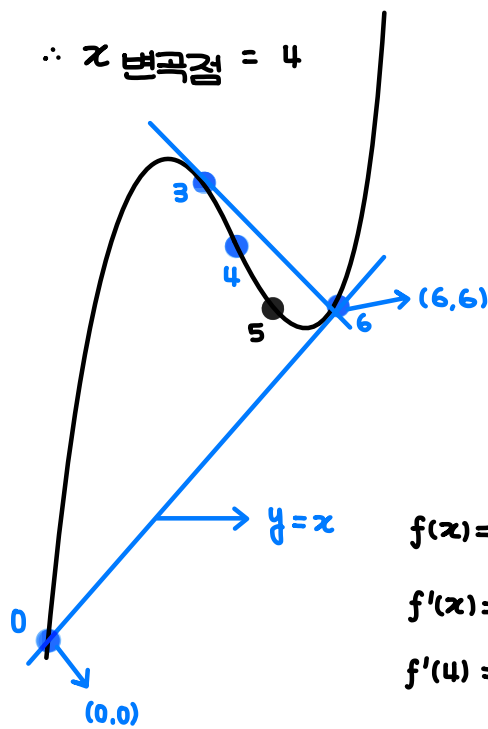
$$\Rightarrow -3k + 3k + 54 = -6k + 6$$

$$\therefore k = -8 \Rightarrow f'(4) = -11$$

출제자의 별해) 삼차함수의 비율관계는 다들 잘 알고 계실 거라 믿어요. 이 문항에서 주어진 모든 점이 절대 대충 막 주어진 것이 아니라는 점을 변곡점 x좌표가 4임에서 알아내셔서 푸셔도 좋아요. 물론 정석적인 계산풀이도 정말 훌륭합니다!

$$f'(3) = f'(5)$$

$$\therefore x \text{ 변곡점} = 4$$



$$f(x) = x(x-6)^2 + x$$

$$f'(x) = 3(x-2)(x-6) + 1$$

$$f'(4) = -11$$

12. 두 양수  $a(a > 1)$ ,  $b$ 에 대하여  $x$ 축 위의 점  $(-6, 0)$ 을 지나고 기울기가  $\frac{\sqrt{3}}{3}$ 인 직선이 곡선

$$y = \log_a(bx + 1)$$

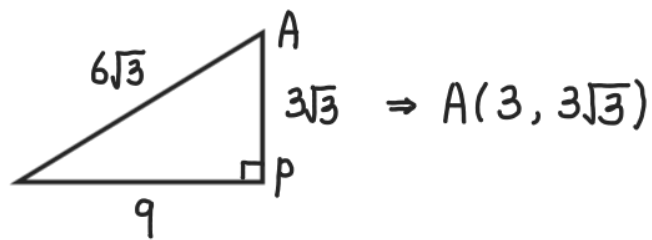
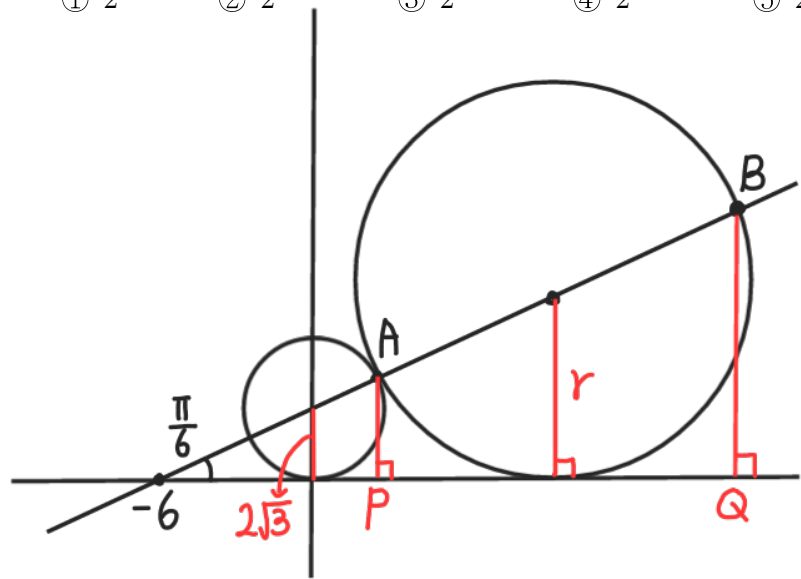
과 만나는 두 점을  $x$ 좌표가 작은 순서대로 A, B라 하자.

선분 AB를 지름으로 하는 원을  $C_1$ , 점 A에서 원  $C_1$ 에 접하고

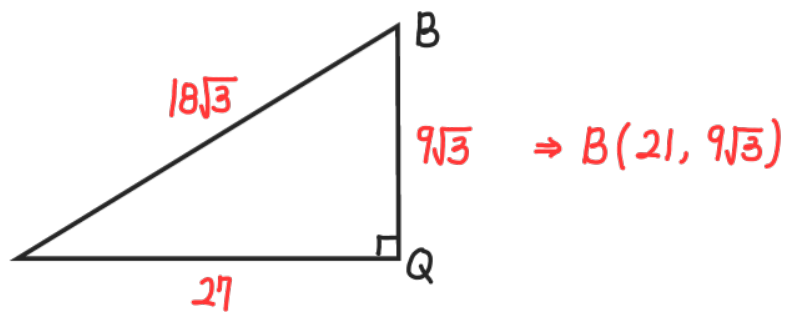
원점을 지나는 원을  $C_2$ 라 하자. 두 원  $C_1, C_2$ 가 모두  $x$ 축에

접할 때,  $a^{\sqrt{b}}$ 의 값은? [4점]

- ① 2    ②  $2^{\frac{2}{3}}$     ③  $2^{\frac{1}{3}}$     ④  $2^{\frac{1}{6}}$     ⑤  $2^{\frac{1}{9}}$



$$2r = r + 6\sqrt{3} \quad \therefore r = 6\sqrt{3}$$



$$a^{3\sqrt{3}} = 3b + 1, \quad a^{9\sqrt{3}} = 21b + 1$$

$$a^{3\sqrt{3}} = k \Rightarrow k^3 - 7k + 6 = 0$$

$$\therefore k = 2 = a^{3\sqrt{3}}, \quad b = \frac{1}{3}$$

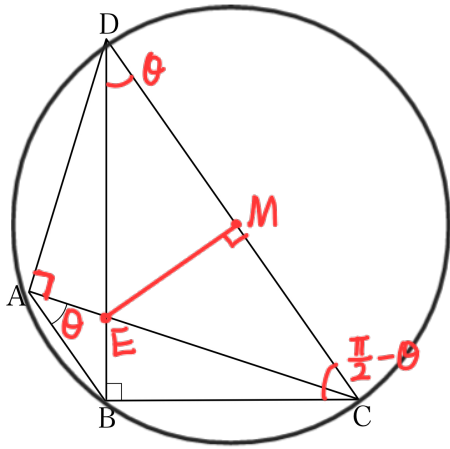
$$a^{\sqrt{b}} = a^{\frac{\sqrt{3}}{3}} = (a^{3\sqrt{3}})^{\frac{1}{9}} = 2^{\frac{1}{9}}$$

13.  $\overline{AB} = 5$ ,  $\cos(\angle BAD) = -\frac{3}{5}$ 인 사각형 ABCD가 있다.

직선 AB와 직선 CD가 서로 평행하고

$$\overline{BC} = \overline{CD} \times \sin(\angle BAC), \angle CBD = \frac{\pi}{2}$$

일 때, 선분 AC의 길이는? [4점]



- ① 10    ②  $\frac{80}{7}$     ③  $\frac{90}{7}$     ④  $\frac{100}{7}$     ⑤  $\frac{110}{7}$

$$\frac{\overline{BC}}{\overline{CD}} = \cos(\angle BCD) = \sin(\angle BAC)$$

$$\Rightarrow \angle BAC = \theta, \angle BCD = \frac{\pi}{2} - \theta$$

$$\therefore \angle BDC = \theta$$

$$\cos(\angle BAD) = \cos(\frac{\pi}{2} + \theta) = -\sin\theta = -\frac{3}{5}$$

$$\therefore \sin\theta = \frac{3}{5}, \cos\theta = \frac{4}{5}$$

$$\overline{ME} = 3k, \overline{DE} = 5k, \overline{EB} = \frac{7}{5}k$$

$$\Rightarrow 5 : 8k = 7 : 25 \Rightarrow 8k = \frac{125}{7}$$

$$\therefore \overline{AC} = \frac{32}{5}k = \frac{100}{7}$$

출제자의 첨언) 사다리꼴이 원에 내접하기 위해서는 등변해야한다는 점을 알고 계셨다면 계산이 좀 더 쉬웠을 수 있겠어요. 하지만 이를 꼭 알아야 풀리는 문항은 아니니 다양한 풀이의 가능성을 열어놓고 싶어요.

14. 최고차항의 계수가  $a(a \neq 0)$ 이고  $f(1) = 0, f(2) = 2$ 인 삼차함수  $f(x)$ 에 대하여 함수  $g(x)$ 를

$$g(x) = \begin{cases} \frac{1}{2} \int_x^{x+2} \{|f(t)| + f(t)\} dt & (x \geq 1) \\ a & (x < 1) \end{cases}$$

라 하자. 함수  $g(x)$ 가 실수 전체의 집합에서 연속이고

$$\{x | g(x) \leq 4\} = \{x | x \leq 1\}$$

일 때, <보기>에서 옳은 것만을 있는 대로 고른 것은? [4점]

<보 기>

A.  $f(3) > 4 = 4$   
 B.  $x > 1$ 인 모든 실수  $x$ 에 대하여  $g(x) > g(1)$ 이다.  
 C.  $g(2) = a^2$

- ① A    ② B    ③ C    ④ B, C    ⑤ A, B, C

$$g(1) = a = 4$$

$$= \frac{1}{2} \cdot \int_1^3 \{|f(t)| + f(t)\} dt = 4$$

$$= 8$$

$x > 1$ 에서  $f(x) \geq 0$

$$\therefore \int_1^3 \{|f(t)| + f(t)\} dt = \int_1^3 2f(t) dt = 8$$

$$f(x) = 4(x-1)(x^2 + ax + b)$$

$$\Rightarrow \int_1^3 f(x) dx = [x^4 + \frac{4}{3}(a-1)x^3 + 2(b-a)x^2 - 4bx]_1^3$$

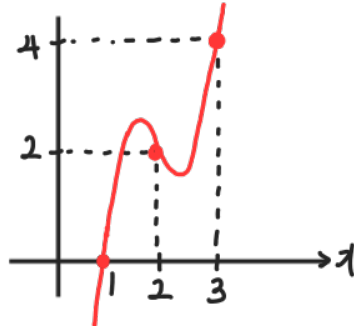
$$= 80 + \frac{104}{3}(a-1) + 16(b-a) - 8b = 4$$

$$\therefore 14a + 6b = -31$$

$$f(2) = 4(4 + 2a + b) = 2$$

$$\therefore 2a + b = -\frac{7}{2} \Rightarrow a = -5, b = \frac{13}{2}$$

$$f(x) = 4(x-1)(x^2 - 5x + \frac{13}{2}) \Rightarrow f'(x) = 12(x-2)^2 + \square$$



A.  $f(3) = 4$  (X)

B.  $x > 1 \Rightarrow g(x) = \int_x^{x+2} f(x) dx$   
 $\therefore g(x) > g(1)$  (O)

C.  $g(2) = \int_2^4 f(x) dx$

$$= [x^4 - 8x^3 + 23x^2 - 26x]_2^4$$

$$= 240 - 448 + 276 - 52$$

$$= 16 = a^2$$
 (O)

15. 함수

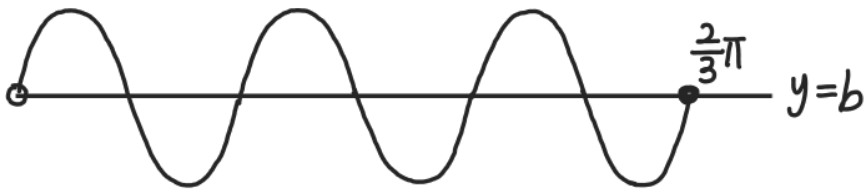
$$f(x) = 4\sin ax + b \Rightarrow M = 4 + b, m = -4 + b$$

가 다음 조건을 만족시키도록 하는 두 실수  $a, b$ 에 대하여 모든  $a+b$ 의 값을 작은 수부터 크기순으로 나열한 것을  $\alpha_1, \alpha_2, \dots, \alpha_m$  ( $m$ 은 자연수)라 할 때,  $m + \alpha_m - \alpha_2$ 의 값은? [4점]

(가) 모든 실수  $x$ 에 대하여  $f(x) = f(x + \frac{2}{3}\pi)$ 이다.  
 (나) 구간  $(0, \frac{2}{3}\pi]$ 에서 방정식  $|f(x)| = 2$ 의 서로 다른 실근의 개수는 3이다.  $\hookrightarrow f(x) = -2, 2$

- ① 28    ② 30    ③ 32    ④ 34    ⑤ 36

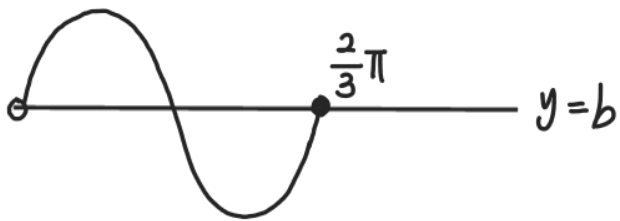
i)  $|a| = 9$



$$4 + b = -2 \quad \text{or} \quad -4 + b = 2$$

$$\therefore b = -6, 6$$

ii)  $|a| = 3$



$$4 + b = 2 \quad \text{or} \quad -4 + b = -2$$

$$\therefore b = -2, 2$$

$$\alpha: -15, -5, -3, -1, 1, 3, 5, 15$$

$$\therefore m = 8, \alpha_m = 15, \alpha_2 = -5$$

$$\Rightarrow m + \alpha_m - \alpha_2 = 28$$

출제자의 첨언) (가) 조건이 문항을 구성하는 핵심입니다.  $\frac{2}{3}\pi$ 가 주기가 아닐 수도 있다는 점과  $a$ 가 음수일 수도 있다는 점을 모두 고려해야 답을 구할 수 있는 만큼 꽤나 까다롭고 아름답습니다.

단답형

16. 부등식  $\log_2 x + \log_2(x+1) \leq 1$ 을 만족시키는 정수  $x$ 의 개수를 구하시오. [3점]

$$\log_2(x^2 + x) \leq 1$$

$$x^2 + x - 2 \leq 0$$

$$(x+2)(x-1) \leq 0$$

$$-2 \leq x \leq 1$$

$$\Rightarrow 0 < x \leq 1 \quad (\because \text{진수조건 } x > 0)$$

$$\therefore \underline{1 \text{ 개}}$$

17. 다항함수  $f(x)$ 에 대하여 함수  $g(x)$ 를

$$g(x) = x^2 f(x)$$

라 하자. 곡선  $y = f(x)$  위의 점  $(1, f(1))$ 에서의 접선의 방정식이  $y = 2x - 1$ 일 때,  $g'(1)$ 의 값을 구하시오. [3점]

$$f'(1) = 2, f(1) = 1$$

$$g'(x) = 2x f(x) + x^2 f'(x)$$

$$g'(1) = 2f(1) + f'(1) = \underline{4}$$



18. 수열  $\{a_n\}$  에 대하여

$$\sum_{n=1}^5 na_n = 10, \quad \sum_{n=1}^5 (a_n - n)^2 = 100$$

일 때,  $\sum_{n=1}^5 (a_n)^2$  의 값을 구하시오. [3점]

$$\begin{aligned} & \sum_{n=1}^5 (a_n^2 - 2n \cdot a_n + n^2) \\ &= \sum_{n=1}^5 a_n^2 - 2 \cdot \sum_{n=1}^5 na_n + \sum_{n=1}^5 n^2 \\ &= \sum_{n=1}^5 a_n^2 - 20 + 55 = 100 \\ &\therefore \sum_{n=1}^5 a_n^2 = 65 \end{aligned}$$

19. 최고차항의 계수가 1인 삼차함수  $f(x)$  에 대하여

$$\lim_{x \rightarrow 2} \frac{|f(x) - 2|}{x - 2} = f'(4)$$

일 때,  $f(6)$  의 값을 구하시오. [3점]

$$f(2) = 2, \quad f'(2) = f'(4) = 0$$

$$f'(x) = 3x^2 - 18x + 24$$

$$f(x) = x^3 - 9x^2 + 24x + C$$

$$f(2) = 20 + C = 2 \quad \therefore C = -18$$

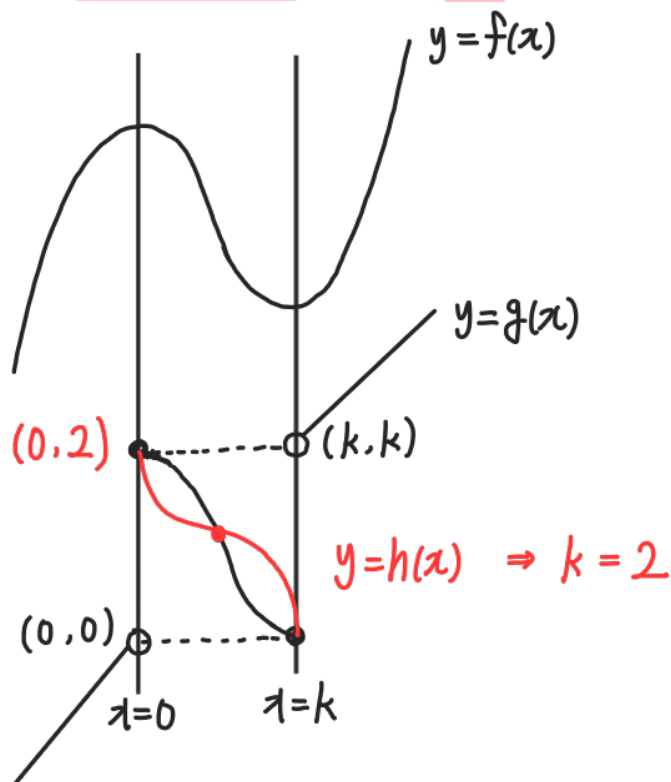
$$\Rightarrow f(6) = 18$$

20.  $x = 0$  에서 극대인 삼차함수  $f(x)$  에 대하여 함수

$$g(x) = \begin{cases} x & (f'(x) > 0) \\ f(x) & (f'(x) \leq 0) \end{cases}$$

가 실수 전체의 집합에서 정의된 역함수  $h(x)$  를 갖는다.

함수  $h(x)$  가 극값 2 를 가질 때,  $f(5)$  의 값을 구하시오. [4점]



$$f'(x) = ax(x-2) = ax^2 - 2ax$$

$$f(x) = \frac{1}{3}ax^3 - ax^2 + C$$

$$f(0) = C = 2, \quad f(2) = -\frac{4}{3}a + 2 = 0$$

$$\therefore a = \frac{3}{2}$$

$$f(x) = \frac{1}{2}x^3 - \frac{3}{2}x^2 + 2 \Rightarrow f(5) = 27$$

출제자의 첨언) 역함수가 존재하기 위한 조건은 일대일 대응입니다. 이는 증가감소 및 연속과는 무관합니다. 다만 연속함수이면 증가하거나 감소하기만 하여야 역함수가 존재한다고 잘 알려져 있어서 많이 사용합니다. 이 문항에서는 그러한 상투적인 개념의 허를 찌르면서, 역함수가 극값을 갖는다는 조건으로 함수가 연속일 수 없음을 내비쳐 난이도를 20번에 걸맞도록 쉽게 조절하였습니다.

21. 다음 조건을 만족시키는 모든 수열  $\{a_n\}$ 에 대하여

$\sum_{n=1}^{10} |a_n|$ 의 최댓값을 구하시오. [4점]

- (가)  $a_1 + a_{10} = 0$
- (나) 모든 자연수  $n$ 에 대하여  $\sum_{k=1}^n a_k = \frac{(a_n + 2)^2}{8}$ 이다.

(4)  $n=1 \Rightarrow a^2 = \frac{(a+2)^2}{8} \quad \therefore a=2$   
 $\Rightarrow a_{10} = -2$

$$a_n = S_n - S_{n-1}$$

$$= \frac{(a_n + 2)^2}{8} - \frac{(a_{n-1} + 2)^2}{8}$$

$$a_n^2 - 4a_n - a_{n-1}^2 - 4a_{n-1} = 0$$

$$(a_n + a_{n-1})(a_n - a_{n-1} - 4) = 0$$

$$\therefore a_n = -a_{n-1} \text{ or } a_{n-1} + 4$$

$$a_1 = 2$$

$$a_2 = -2 \quad 6$$

$$a_3 = 2 \quad -6 \quad 10$$

$$a_4 = -2 \quad 6 \quad 6 \quad -2 \quad -10 \quad 14$$

⋮

$\sum_{n=1}^{10} |a_n|$  최대가 되려면

$$a_n = 2 \quad 6 \quad 10 \quad 14 \quad 18 \quad -18 \quad -14 \quad -10 \quad -8 \quad -2$$

$$\therefore \sum_{n=1}^{10} |a_n| = 2 \times 50 = 100$$

$F(x) = \int_0^x \{f(t) - t^2\} dt$

$y = f(x) - x^2 = 2x^3 - 18x^2 + \dots$

$F(x) = \frac{1}{2}x^4 - 6x^3 + \dots$

$= \frac{1}{2}x(x-\alpha)(x-5)^2$

$= \frac{1}{2}(x^4 - (0+\alpha+5+5)x^3 + \dots)$

$\therefore 0 + \alpha + 5 + 5 = 12$

$\therefore \alpha = 2$

$F'(2) = f(2) - 4$

$= 9 \quad f(2) = 13$

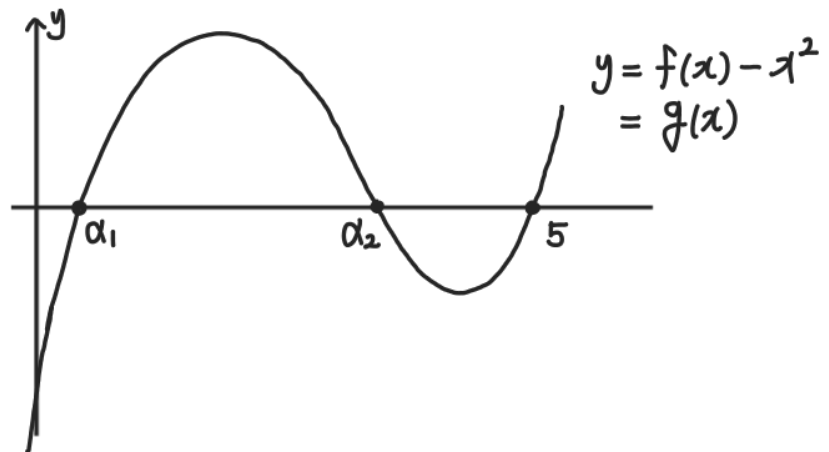
22. 최고차항의 계수가 2인 삼차함수  $f(x)$ 가 다음 조건을 만족시킨다.

방정식  $f(x) = x^2$ 은 서로 다른 세 실근  $\alpha_1, \alpha_2, 5$ 를 갖고  $\alpha_1 + \alpha_2 = 4$ 이다.

두 곡선  $y = f(x), y = x^2$ 과  $y$ 축으로 둘러싸인 부분의 넓이를  $S_1$ , 두 곡선  $y = f(x), y = x^2$ 으로 둘러싸인 두 부분의 넓이를 각각  $S_2, S_3$ 이라 하자.

$$S_1 = |S_2 - S_3|$$

일 때,  $f(2)$ 의 값을 구하시오. (단,  $0 < \alpha_1 < 3 < \alpha_2 < 5$ ) [4점]



$$S_1 = \int_0^{\alpha_1} -g(x) dx, S_2 = \int_{\alpha_1}^{\alpha_2} g(x) dx, S_3 = \int_{\alpha_2}^5 -g(x) dx$$

$$\int_0^{\alpha_1} -g(x) dx = \int_{\alpha_1}^5 g(x) dx$$

$$\therefore \int_0^5 g(x) dx = 0$$

$$g(x) = 2(x-5)(x^2 - 4x + k)$$

$$\left[ \frac{1}{2}x^4 - 6x^3 + (k+20)x^2 - 10kx \right]_0^5 = 0$$

$$-25k + \frac{125}{2} = 0 \quad \therefore k = \frac{5}{2}$$

$$f(x) = 2(x-5)(x^2 - 4x + \frac{5}{2}) + x^2$$

$$\therefore f(2) = 13$$

출제자의 별해) 한 부정적분의 함수값 차이로 정적분을 해석하고 삼차함수와 사차함수에서 근과 계수의 관계를 활용하여 풀이를 진행하셨다면 적분 계산 없이 문제를 해결하실 수도 있어요.

\* 확인 사항

- 답안지의 해당란에 필요한 내용을 정확히 기입(표기)했는지 확인 하시오.

제 2 교시

수학 영역(미적분)

5지선다형

23. 곡선  $3x^2 + 2xy = y^2$  위의 점  $(2, 6)$ 에서의 접선의 기울기는?  
[2점]

- ① 3    ② 4    ③ 6    ④ 9    ⑤ 12

$$6x + 2y + 2x \cdot \frac{dy}{dx} = 2y \cdot \frac{dy}{dx}$$

$$\frac{dy}{dx} = \frac{-3x - y}{x - y} \Rightarrow \frac{-12}{-4} = 3$$

24.  $\sin 2\alpha = \frac{4}{5}$ ,  $\cos 2\beta = \frac{15}{17}$  일 때,  $\cos^2 \alpha + \sin^2 \beta$ 의 최솟값은?

[3점]

- ①  $\frac{16}{85}$     ②  $\frac{18}{85}$     ③  $\frac{4}{17}$     ④  $\frac{22}{85}$     ⑤  $\frac{24}{85}$

$$\cos 2\beta = 2 \cdot \cos^2 \beta - 1 = \frac{15}{17}$$

$$\Rightarrow \cos^2 \beta = \frac{16}{17}, \sin^2 \beta = \frac{1}{17}$$

$$\sin 2\alpha = 2 \sin \alpha \cos \alpha = \frac{4}{5}$$

$$\sin \alpha = \frac{2}{5 \cdot \cos \alpha}$$

$$\Rightarrow \frac{4}{25 \cos^2 \alpha} + \cos^2 \alpha = 1$$

$$\cos^2 \alpha = C \Rightarrow 25C^2 - 25C + 4 = 0$$

$$(5C - 1)(5C - 4) = 0$$

$$\therefore C = \frac{1}{5}, \frac{4}{5}$$

$$\cos^2 \alpha + \sin^2 \beta = \cos^2 \alpha + \frac{1}{17} \text{ 최솟값} = \frac{1}{5} + \frac{1}{17}$$

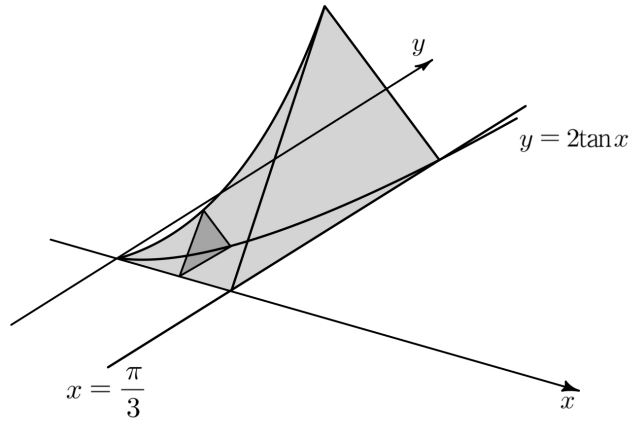
$$= \frac{22}{85}$$

# 2

## 수학 영역(미적분)

25. 그림과 같이 곡선  $y = 2\tan x$ 와  $x$ 축,  $y$ 축 및 직선  $x = \frac{\pi}{3}$ 로

둘러싸인 부분을 밑면으로 하는 입체도형이 있다.  
이 입체도형을  $x$ 축에 수직인 평면으로 자른 단면이 모두 정삼각형일 때, 이 입체도형의 부피는? [3점]



- ①  $\sqrt{3} - \frac{\pi}{3}$       ②  $3 - \frac{\pi}{3}$        ③  $3 - \frac{\sqrt{3}}{3}\pi$

- ④  $3\sqrt{3} - \frac{\sqrt{3}}{3}\pi$       ⑤  $3\sqrt{3} - \pi$

$$\int_0^{\frac{\pi}{3}} \sqrt{3} \cdot \tan^2 x \, dx = \int_0^{\frac{\pi}{3}} \sqrt{3} \cdot (\sec^2 x - 1) \, dx$$

$$= \left[ \sqrt{3} \cdot (\tan x - x) \right]_0^{\frac{\pi}{3}}$$

$$= 3 - \frac{\sqrt{3}}{3}\pi$$

출제자의 첨언) 일러스트를 못 써서 그림그리느라 힘들었습니다.

26. 양수  $t$ 에 대하여  $x = 0$ 에서  $x = 1$ 까지 곡선

$$y = \frac{e^{tx}}{2} + \frac{1}{2t^2 e^{tx}}$$

의 길이를  $f(t)$ 라 할 때,  $\lim_{t \rightarrow 0^+} tf(t)$ 의 값은? [3점]

- ①  $\frac{1}{4}$        ②  $\frac{1}{2}$       ③ 1      ④ 2      ⑤ 4

$$y' = \frac{1}{2} t \cdot e^{tx} - \frac{1}{2t} \cdot e^{-tx}$$

$$f(t) = \int_0^1 \sqrt{1 + (y')^2} \, dx$$

$$= \int_0^1 \frac{1}{2} t e^{tx} + \frac{1}{2t} e^{-tx} \, dx$$

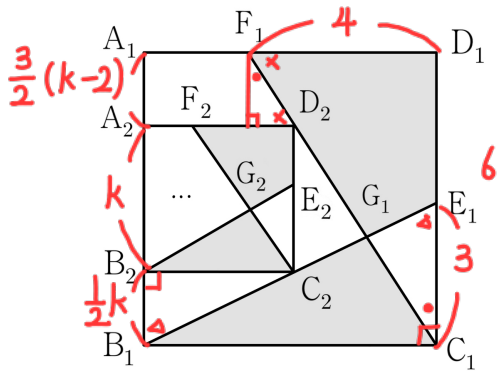
$$= \left[ \frac{1}{2} e^{tx} - \frac{1}{2t^2} e^{-tx} \right]_0^1$$

$$= \frac{1}{2} e^t - \frac{1}{2t^2} e^{-t} - \frac{1}{2} + \frac{1}{2t^2}$$

$$\lim_{t \rightarrow 0^+} \frac{1}{2} t \cdot (e^t - 1) + \frac{1 - e^{-t}}{2t} = \frac{1}{2}$$

출제자의 첨언) 교과서적인 소재인 곡선의 길이를 3점에 알맞는 난이도로 출제하면서, 한 문항 안에서 미분 적분 극한의 다양한 평가요소를 요구하여 완성도 있는 비킬러라고 생각합니다.

27. 그림과 같이 한 변의 길이가 6인 정사각형  $A_1B_1C_1D_1$ 이 있다. 선분  $C_1D_1$ 의 중점을  $E_1$ , 선분  $A_1D_1$ 을 1:2로 내분하는 점을  $F_1$ 이라 하자. 선분  $B_1E_1$ 이 선분  $C_1F_1$ 과 만나는 점을  $G_1$ 이라 할 때, 사각형  $F_1G_1E_1D_1$ 의 넓이를  $a_1$ , 삼각형  $B_1C_1G_1$ 의 넓이를  $b_1$ 이라 하자. 선분  $A_1B_1$  위의 두 점  $A_2, B_2$ 와 선분  $B_1C_1$  위의 점  $C_2$ , 선분  $G_1F_1$  위의 점  $D_2$ 를 사각형  $A_2B_2C_2D_2$ 가 정사각형이 되도록 잡는다.  $a_1, b_1$ 의 값을 얻은 것과 같은 방법으로 두 점  $F_2, G_2$ 를 정하고 사각형  $F_2G_2E_2D_2$ 의 넓이를  $a_2$ , 삼각형  $B_2C_2G_2$ 의 넓이를  $b_2$ 라 하자. 이와 같은 과정을 계속하여  $n$ 번째 얻은 사각형  $F_nG_nE_nD_n$ 의 넓이를  $a_n$ , 삼각형  $B_nC_nG_n$ 의 넓이를  $b_n$ 이라 할 때,  $\sum_{n=1}^{\infty} (a_n - b_n)$ 의 값은? [3점]



$$a_1 - b_1 = \Delta F_1D_1C_1 - \Delta B_1E_1C_1 = 12 - 9 = 3$$

- ① 2    ②  $\frac{5}{2}$     ③ 3    ④  $\frac{7}{2}$     ⑤ 4

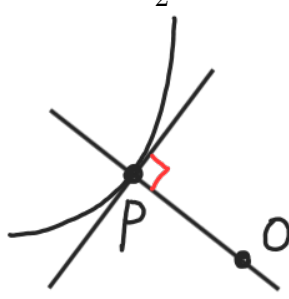
$$\frac{3}{2}(k-2) + k + \frac{1}{2}k = 6$$

$$\therefore k = 3 \Rightarrow r = \left(\frac{1}{2}\right)^2 = \frac{1}{4}$$

$$\sum_{n=1}^{\infty} (a_n - b_n) = \frac{4}{3} \cdot 3 = 4$$

28. 양수  $t$ 와 곡선  $y = te^{-x}$  위를 움직이는 점  $P$ 에 대하여 원점과 점  $P$  사이의 거리가 최소일 때, 점  $P$ 의  $x$ 좌표를  $f(t)$ 라 하면  $f(t)$ 는 미분가능한 함수이다.  $f(\alpha) = 2$ 인 양수  $\alpha$ 에 대하여  $\int_e^\alpha t^2 f'(t) dt$ 의 값은? [4점]

- ①  $\frac{3e^4 - e^2}{4}$     ②  $\frac{3e^4 - e^2}{2}$     ③  $\frac{2e^4 - e^2}{4}$   
 ④  $\frac{2e^4 - e^2}{2}$     ⑤  $\frac{e^4 - e^2}{4}$



$$P(p, t \cdot e^{-p}), \text{ 접기} = -t \cdot e^{-p}$$

$$\overline{OP} \text{ 기울기} = \frac{t \cdot e^{-p}}{p}$$

$$\therefore \frac{t \cdot e^{-p}}{p} \times -t \cdot e^{-p} = -1$$

$$\Rightarrow t^2 = p \cdot e^{2p}, p = f(t)$$

$$f(\alpha) = 2 \Rightarrow t = \alpha, p = 2$$

$$dp = f'(t) dt, t = \alpha \rightarrow p = 2, t = e \rightarrow p = 1$$

$$\int_e^\alpha t^2 f'(t) dt = \int_1^2 p \cdot e^{2p} dp$$

$$= \left[ \frac{1}{2} p e^{2p} - \frac{1}{4} e^{2p} \right]_1^2$$

$$= \frac{3e^4 - e^2}{4}$$

출제자의 첨언)  $f'(t)dt$ 가  $df(t)$ 로 바로 묶여 치환적분으로 해결할 수 있습니다.  $f$ 는 어디선가 여러 번 본 듯한 상투적인 함수이지만, 이를 적분으로 틀어 매력적인 문항으로 만들어진 것 같습니다.

단답형

29. 상수  $p$ 와 모든 항이 실수인 수열  $\{a_n\}$ 이 모든 자연수  $n$ 에 대하여 다음 조건을 만족시킨다.

- (가)  $0 < a_n < 6$
- (나)  $a_{n+1} = a_n \times (a_n - 6) + p$

$\sum_{k=1}^{\infty} \log_2 a_k = 3$ 일 때,  $80 \times a_1$ 의 값을 구하시오. [4점]

$$\lim_{n \rightarrow \infty} \log_2 a_n = 0 \Rightarrow \lim_{n \rightarrow \infty} a_n = 1 \quad \therefore p = 6$$

$$(4) \quad a_n = \frac{a_{n+1} - 6}{a_n - 6}$$

$$\sum_{k=1}^{\infty} \log_2 a_k = \lim_{n \rightarrow \infty} \sum_{k=1}^n \log_2 \frac{a_{k+1} - 6}{a_k - 6}$$

$$= \lim_{n \rightarrow \infty} \left( \log_2 \frac{a_2 - 6}{a_1 - 6} \cdot \frac{a_3 - 6}{a_2 - 6} \cdot \dots \cdot \frac{a_{n+1} - 6}{a_n - 6} \right)$$

$$= \lim_{n \rightarrow \infty} \log_2 \frac{a_{n+1} - 6}{a_1 - 6}$$

$$= \log_2 \frac{-5}{a_1 - 6} = 3$$

$$\frac{-5}{a_1 - 6} = 8 \quad \therefore a_1 = \frac{43}{8}$$

$$\Rightarrow 80a_1 = \underline{430} \star$$

출제자의 첨언) 교과서적인 소재를 물었지만, 발상을 떠올리기 쉽지 않다는 점이 살짝 아쉽습니다. 6월 평가원의 형식의 탈피와 당황스러운 느낌을 구현하기 위해 수록하였습니다.

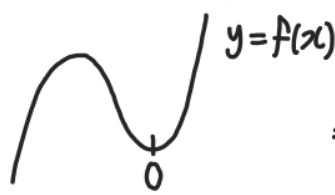
30. 최고차항의 계수가 1이고  $f(1) = 5$ 인 삼차함수  $f(x)$ 에 대하여 함수

$$g(x) = \sin\{\pi f(x)\}$$

는  $x=0$ 에서 극댓값 0을 갖는다.  $|f(0) - f(-2)| = 4$ 일 때, 모든  $f(6)$ 의 값의 합을 구하시오. [4점]

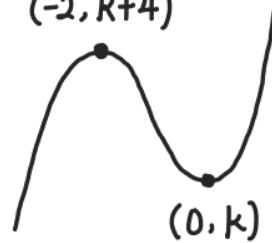
$$g(0) = \sin(\pi f(0)) = 0 \Rightarrow f(0) = \text{정수}$$

$$g'(0) = \underbrace{\cos(\pi f(0))}_{\neq 0} \cdot \pi \cdot f'(0) = 0 \Rightarrow f'(0) = 0$$



$$\Rightarrow g(0) = \text{극댓값} \quad \therefore f(0) = \text{홀수}$$

i)  $f(-2) = f(0) + 4$   
 $(-2, k+4)$



$$f(x) = x^2(x - \alpha) + k$$

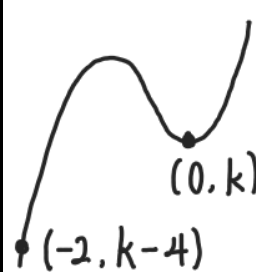
$$f(-2) = -8 - 4\alpha + k = k + 4$$

$$\therefore \alpha = -3$$

$$f(1) = 4 + k = 5 \quad \therefore k = 1$$

$$f(x) = x^2(x + 3) + 1 \Rightarrow f(6) = 325$$

ii)  $f(-2) = f(0) - 4$



$$f(x) = x^2(x - \alpha) + k$$

$$f(-2) = -8 - 4\alpha + k = k - 4$$

$$\therefore \alpha = -1$$

$$f(1) = 2 + k = 5 \quad \therefore k = 3$$

$$f(x) = x^2(x + 1) + 3 \Rightarrow f(6) = 255$$

$$\therefore \oplus = 325 + 255 = \underline{580} \star$$

\* 확인 사항

○ 답안지의 해당란에 필요한 내용을 정확히 기입(표기)했는지 확인하시오.



※시험이 시작되기 전까지 표지를 넘기지 마시오.