

2023학년도 관리능력평가 대비 모의고사 문제지 1회

로보토미 영역

성명		직원 번호																		
----	--	-------	--	--	--	--	--	--	--	--	--	--	--	--	--	--	--	--	--	--

- 문제지의 해당란에 성명과 직원 번호를 정확히 쓰시오.
- 답안지의 필적 확인란에 다음의 문구를 정자로 기재하십시오.

삶을 이어나갈 것이라는 용기

- 답안지의 해당란에 성명과 직원 번호를 쓰고, 또 직원 번호, 답을 정확히 표시하십시오.
- 문항에 따라 배점이 다릅니다. 3점 문항에는 점수가 표시되어 있습니다. 점수 표시가 없는 문항은 모두 2점입니다.

※ 시험이 시작되기 전까지 표지를 넘기지 마시오.

제 1 교시

로보토미 영역

성명		직원 번호									
----	--	-------	--	--	--	--	--	--	--	--	--

1. 다음은 어떤 부서에 대한 설명 중 일부이다.

신입 직원들을 훈련시키고 각종 비상 상황들을 예측하거나 대비하여 작전을 수립하는 부서입니다. 환상체들의 폭주, 발작, 탈출 및 직원들의 패닉 상황 등 돌발적인 사태를 위한 작전을 수립하고 각종 규칙들을 제정합니다.

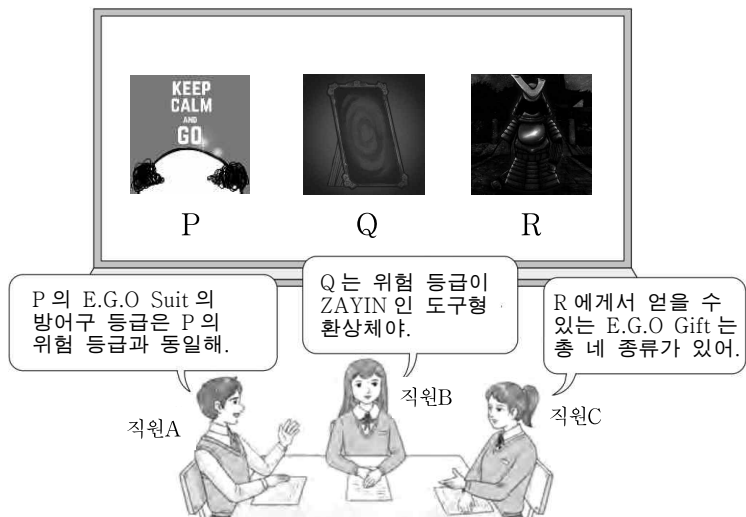
이 부서에 대한 설명으로 옳은 것만을 <보기>에서 모두 고른 것은?

<보 기>

ㄱ. 지휘팀에 대한 설명이다.
 ㄴ. 위치한 층은 'ASIYAH'이다.
 ㄷ. 부서 근무 효과로 직원의 가치관을 높일 수 있다.

- ① ㄱ ② ㄴ ③ ㄱ, ㄷ ④ ㄴ, ㄷ ⑤ ㄱ, ㄴ, ㄷ

2. 다음은 환상체 P, Q, R에 대하여 직원 A, B, C가 나눈 대화를 나타낸 것이다.



제시한 내용이 옳은 직원만을 있는 대로 고른 것은?

- ① A ② C ③ A, B ④ B, C ⑤ A, B, C

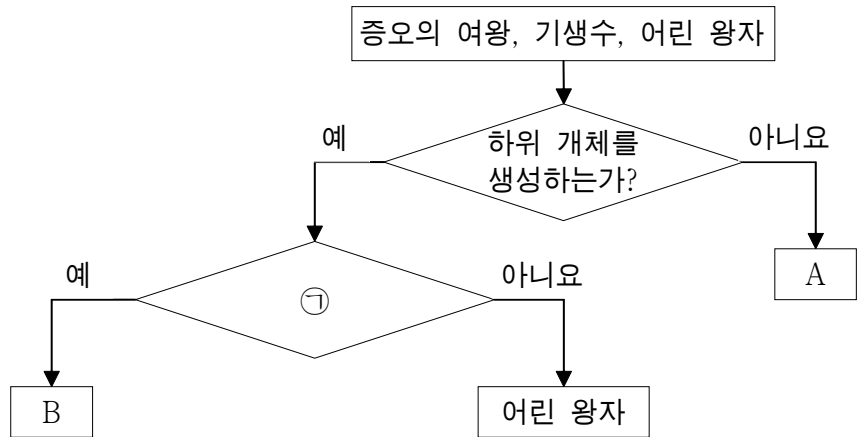
3. 다음은 관리 진행 중 일어난 어떤 사건에 대한 자료이다.

(1) HE 등급의 E.G.O Suit를 착용한 직원 A가 '절정의 몸부림'의 제압 도중 피해를 입었다.
 (2) '절정의 몸부림'을 제압한 후 생성된 하위 개체에 의해 직원 A가 피해를 입었다.
 (3) (2)에서의 하위 개체를 제압한 후 생성된 또다른 하위 개체가 폭발하여 직원 A가 피해를 입었다.

직원 A가 (1), (2), (3)에서 받은 피해량이 모두 같다고 할 때, (1), (2), (3)에서 등급 보정이 적용되기 전의 피해량의 값의 비를 올바르게 구한 것은?

- ① 1 : 1 : 1 ② 4 : 4 : 5 ③ 4 : 5 : 5
 ④ 4 : 5 : 6 ⑤ 7 : 7 : 10

4. 그림은 환상체 중 증오의 여왕, 기생수, 어린 왕자를 구분하는 과정을 나타낸 것이다. A와 B는 각각 증오의 여왕과 기생수 중 하나이다.



이에 대한 설명으로 옳은 것만을 <보기>에서 모두 고른 것은?

<보 기>

ㄱ. A는 클리포트 카운터가 2 이상이다.
 ㄴ. '직원을 매혹하는가?'는 ㉠에 해당한다.
 ㄷ. B는 관찰 레벨이 증가하여도 표기되는 이름이 바뀌지 않는다.

- ① ㄱ ② ㄷ ③ ㄱ, ㄴ ④ ㄴ, ㄷ ⑤ ㄱ, ㄴ, ㄷ

5. 다음은 어떤 환상체 기록의 일부이다.

㉠나는 프로야, 나한테 의뢰를 부탁하면 너희들을 도와줄게. 한 때 비싼 몸이었지만 이 곳에선 값싸게 쳐줄게. 한 가지 조건을 제시하지. ㉡그 끔찍하고 교활한 놈을 마주치는 날에는 나한테 넘겨줘. 그 머리통을 침대 위에 매달 거야. 그럼 나는 아침마다 악몽을 꾸지 않은 채로 잠에서 깨겠지.

이에 대한 설명으로 옳은 것만을 <보기>에서 모두 고른 것은?

<보 기>

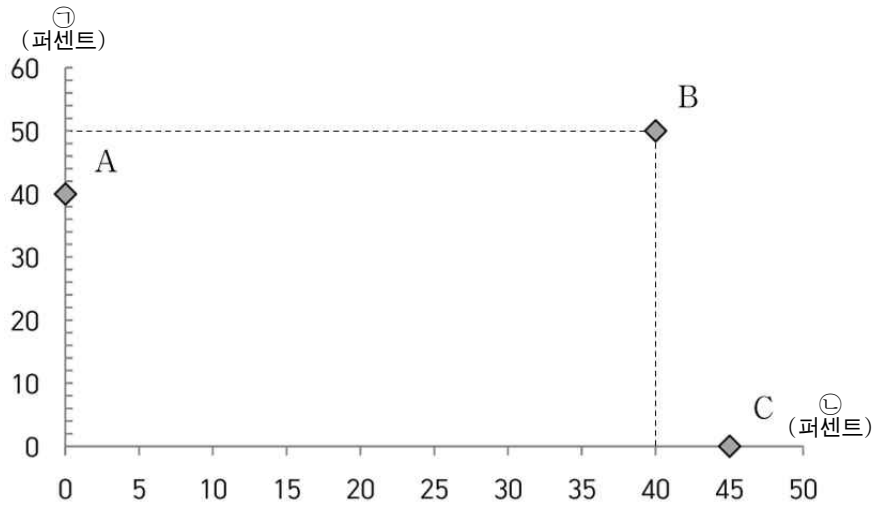
ㄱ. ㉠이 탈출할 때 ㉠의 클리포트 카운터가 감소한다.
 ㄴ. ㉠에게 일반적인 작업 외에 특수한 작업을 할 수 있다.
 ㄷ. ㉠과 ㉡의 E.G.O Weapon은 모두 사용자의 체력이 일정 수준 이하일 때 특수한 효과가 발동된다.

- ① ㄱ ② ㄴ ③ ㄱ, ㄷ ④ ㄴ, ㄷ ⑤ ㄱ, ㄴ, ㄷ

2 (로봇도미)

로봇도미 영역

6. 다음은 환상체의 작업 효율을 나타낸 것이며, ㉠과 ㉡은 본능 작업 효율, 통찰 작업 효율을 순서 없이 나타낸 것이다. A, B, C는 검열삭제, 아무 것도 없는, 고요한 오케스트라를 순서 없이 나타낸 것이고, A와 B는 클리포트 카운터가 2이다.



이에 대한 설명으로 옳은 것만을 <보기>에서 모두 고른 것은? (단, 회사 내의 다른 환상체에 대해서는 고려하지 않으며, 작업 효율은 모두 V등급의 직원이 작업하였을 때를 기준으로 한다.) [3점]

<보 기>

- ㄱ. A~C는 작업 중 공격 유형이 모두 다르다.
- ㄴ. B에게서 E.G.O Suit를 추출할 수 없다.
- ㄷ. C의 E.G.O Weapon은 피격 시 피해량의 일부를 회복한다.

- ① ㄱ ② ㄴ ③ ㄱ, ㄴ ④ ㄴ, ㄷ ⑤ ㄱ, ㄷ

7. 표 (가)는 환상체 A, B, C에서 특징 ㉠, ㉡, ㉢의 유무를, (나)는 ㉠~㉢를 순서 없이 나타낸 것이다. A~C는 각각 노래하는 기계, 포큐버스, 빨간 구두를 순서 없이 나타낸 것이다.

특징 \ 환상체	㉠	㉡	㉢
A	○	?	○
B	○	×	?
C	?	○	○

특징(㉠~㉢)
 · 작업 중 공격 유형이 RED 피해이다.
 · 환상체의 E.G.O Weapon이 사용자에게 피해를 줄 수 있다.
 · 작업하는 직원의 절제 능력치를 고려하여 특수한 효과를 발생시킨다.

(가)

(나)

이에 대한 설명으로 옳은 것만을 <보기>에서 모두 고른 것은? [3점]

<보 기>

- ㄱ. ㉠은 '환상체의 E.G.O Weapon이 사용자에게 피해를 줄 수 있다.'이다.
- ㄴ. B는 탈출할 수 있는 환상체이다.
- ㄷ. A는 작업하는 직원의 용기 능력치를 고려하여 특수한 효과를 발생시킨다.

- ① ㄱ ② ㄴ ③ ㄱ, ㄷ ④ ㄴ, ㄷ ⑤ ㄱ, ㄴ, ㄷ

8. 다음은 환상체의 도감 개방을 위해 진행한 탐구이다.

[탐구 과정]

- (가) 직원 A에게 도구형 환상체 ㉠의 착용을 명령하였다. 착용 직후 ㉠의 반납을 명령하자 직원 A는 사망하였다.
- (나) 장비와 능력치, 등급이 같은 직원 B와 C에게 차례로 환상체 ㉡의 억압 작업을 명령하였다. 작업 결과는 모두 '보통'이었으나, 직원 C가 작업을 완료한 이후 ㉡은 격리실에서 탈출하였다. 여러 일차 동안 동일한 과정을 반복하였지만 결과는 항상 같았다.
- (다) 직원 D에게 환상체 ㉢의 작업을 명령하였고, 작업 결과는 '보통'이었다. 작업 완료 직후 직원 D에게 다른 환상체의 작업을 명령하자 직원 D는 사망하였다.

㉠, ㉡, ㉢에 들어갈 수 있는 환상체로 옳은 것은? (단, 회사 내의 다른 환상체에 대해서는 고려하지 않는다.) [3점]

- | | | | |
|---|--------------|------------|---------|
| | ㉠ | ㉡ | ㉢ |
| ① | 미쳐버린 연구원의 수첩 | 죽은 나비들의 장례 | 은하수의 아이 |
| ② | 열망하는 심장 | 푸른 별 | 요정의 축제 |
| ③ | 행동교정 | 미녀와 야수 | 은하수의 아이 |
| ④ | 열망하는 심장 | 죽은 나비들의 장례 | 래티씨아 |
| ⑤ | 미쳐버린 연구원의 수첩 | 푸른 별 | 요정의 축제 |

9. 다음은 직원 P, Q, R에 대한 자료이다.

- 표는 직원 P, Q, R의 현재 체력, 현재 정신력, E.G.O 장비, 그리고 ㉠은 시체들의 산' 환상체의 토사물 공격에 피격된 후의 상태를 나타낸 것이다. ㉠, ㉡, ㉢는 '사망', '패닉', '이상 없음'을 순서 없이 나타낸 것이다.
- 토사물 공격의 피해량은 등급 보정 1배, 보통 내성(X1.0)을 가진 대상을 기준으로 150의 BLACK 대미지로 한다.
- 직원 R은 '백야' 환상체의 E.G.O Gift를 착용하였으며, 현재 회사 내에는 백야가 존재하지 않는다.
- ㉠, ㉡는 자연수이며, $\frac{㉡}{㉠} < \frac{5}{4}$ 이다.

직원	현재 체력	현재 정신력	E.G.O Suit	㉠
P	?	55	분홍	㉠
Q	㉡	72	별의 소리	㉡
R	80	㉢	실낙원	㉢

자료에 대한 설명으로 옳은 것만을 <보기>에서 모두 고른 것은? (자료와 <보기>에 주어진 조건 이외에는 고려하지 않는다.) [3점]

<보 기>

- ㄱ. 직원 P의 현재 체력은 60보다 작거나 같다.
- ㄴ. ㉢은 '이상 없음'이다.
- ㄷ. 회사 내에 백야가 존재하고, 직원 R이 '절망의 기사' 환상체로부터 '가호'를 받은 상태라면 직원 R은 토사물 공격의 피해를 흡수할 것이다.

- ① ㄱ ② ㄴ ③ ㄷ ④ ㄱ, ㄴ ⑤ ㄴ, ㄷ

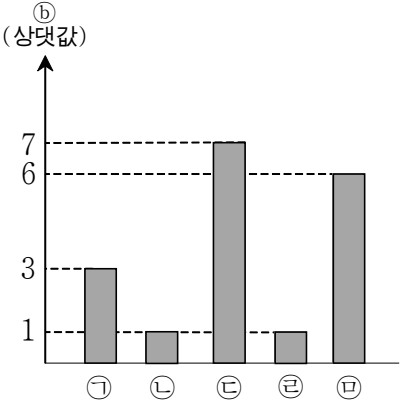
10. 다음은 관리 진행 중 일어난 어떤 사건에 대한 자료이다.

(가) 어떤 ALEPH 등급 환상체 X가 격리실에서 탈출하여 직원 A~E가 위치한 부서 로비 내로 이동하였다. 직원 A~E는 X와 조우하였다.

(나) X에 대응하기 위하여 HP-N 탄환을 사용하고자 하였으나, 잘못하여 처분 탄환을 사용하여 ㉠어떤 직원이 처분되었다. ㉠은 직원 A~C 중 하나이다.

· 다음은 직원 A~E의 등급을 나타낸 것과, 직원 ㉡~㉤이 (가)와 (나)로 입은 ㉢전체 정신력 대비 공포 피해 비율의 합을 상대적으로 나타낸 것이다. ㉡~㉤은 A~E를 순서 없이 나타낸 것이다.

직원	등급
A	?
B	3
C	4
D	2
E	?



자료에 대한 설명으로 옳은 것만을 <보기>에서 모두 고른 것은? (단, 자료와 <보기>에 주어진 조건 이외에는 고려하지 않는다.) [3점]

<보 기>

ㄱ. ㉠은 직원 B이다.

ㄴ. $\frac{\text{직원 E가 (가)로 입은 ㉢}}{\text{직원 D가 (나)로 입은 ㉢}} = 1$ 이다.

ㄷ. (가)와 (나) 이후 X가 직원 A~E중 ㉠을 제외한 직원 하나를 살해하였을 때, 나머지 직원들 중에서 적어도 한 명이 패닉에 빠질 확률은 50%이다.

- ① ㄱ ② ㄴ ③ ㄷ ④ ㄱ, ㄴ ⑤ ㄴ, ㄷ

* 확인 사항

- 답안지의 해당란에 필요한 내용을 정확히 기입(표기)했는지 확인 하시오.
- 제작 : Ha_Rua / 검토 : 뭐라하지, 리카코, 허윤