



03 수1

04 로그함수

01 로그함수의 그래프

02 로그함수의 그래프2 (평행이동과 대칭이동)

[출처] 2020 모의\_공공 교육청 고2 06월 8

1. 함수  $y = \log_2 x$ 의 그래프를  $x$ 축의 방향으로  $a$ 만큼,  $y$ 축의 방향으로 1만큼 평행이동한 그래프가 점  $(9, 3)$ 을 지날 때, 상수  $a$ 의 값은?

- ① 5            ② 6            ③ 7
- ④ 8            ⑤ 9

[출처] 2022 모의\_공공 교육청 고2 06월 7

2. 함수  $y = \log_3 x$ 의 그래프를  $x$ 축의 방향으로 2만큼,  $y$ 축의 방향으로 5만큼 평행이동한 그래프가 점  $(5, a)$ 을 지날 때, 상수  $a$ 의 값은?

- ① 6            ② 7            ③ 8
- ④ 9            ⑤ 10

03 수1

04 로그함수

01 로그함수의 그래프

05 로그함수의 그래프의 해석1 (기본)

[출처] 2020 모의\_공공 교육청 고3 04월 6

3. 함수  $y = a + \log_2 x$ 의 그래프가 점 (4, 7)을 지날 때, 상수  $a$ 의 값은?

- ① 1                      ② 2                      ③ 3
- ④ 4                      ⑤ 5

[출처] 2020 모의\_공공 교육청 고2 06월 9

4. 함수  $y = 2^x - 1$ 의 그래프의 점근선과 함수

$y = \log_2(x+k)$ 의 그래프가 만나는 점이  $y$ 축 위에 있을 때, 상수  $k$ 의 값은?

- ①  $\frac{1}{4}$                       ②  $\frac{1}{2}$                       ③  $\frac{3}{4}$
- ④ 1                      ⑤  $\frac{5}{4}$

[출처] 2020 모의\_공공 교육청 고2 06월 29

5. 자연수  $k$  ( $k \leq 39$ )에 대하여 함수

$$f(x) = 2 \log_{\frac{1}{2}}(x - 7 + k) + 2$$

의 그래프와 원  $x^2 + y^2 = 64$ 가 만나는 서로 다른 두 점의  $x$ 좌표를  $a, b$ 라 하자. 다음 조건을 만족시키는  $k$ 의 최댓값과 최솟값을 각각  $M, m$ 이라 할 때,  $M+m$ 의 값을 구하시오.

- (가)  $ab < 0$
- (나)  $f(a)f(b) < 0$

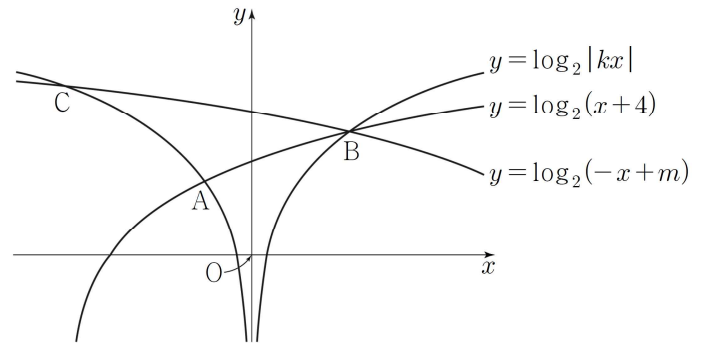
[출처] 2020 모의\_공공 교육청 고2 06월 16

6. 함수  $y = \log_2 x$ 의 그래프 위에 서로 다른 두 점 A, B가 있다. 선분 AB의 중점이  $x$ 축 위에 있고, 선분 AB를 1 : 2로 외분하는 점이  $y$ 축 위에 있을 때, 선분 AB의 길이는?

- ① 1            ②  $\frac{\sqrt{6}}{2}$             ③  $\sqrt{2}$
- ④  $\frac{\sqrt{10}}{2}$        ⑤  $\sqrt{3}$

[출처] 2021 모의\_공공 교육청 고3 04월 공통범위 15

7. 그림과 같이 1보다 큰 실수  $k$ 에 대하여 두 곡선  $y = \log_2 |kx|$ 와  $y = \log_2(x+4)$ 가 만나는 서로 다른 두 점을 A, B라 하고, 점 B를 지나는 곡선  $y = \log_2(-x+m)$ 이 곡선  $y = \log_2 |kx|$ 와 만나는 점 중 B가 아닌 점을 C라 하자. 세 점 A, B, C의  $x$ 좌표를 각각  $x_1, x_2, x_3$ 이라 할 때, <보기>에서 옳은 것만을 있는 대로 고른 것은?  
(단,  $x_1 < x_2$  이고,  $m$ 은 실수이다.)



<보 기>

ㄱ.  $x_2 = -2x_1$  이면  $k=3$  이다.

ㄴ.  $x_2^2 = x_1x_3$

ㄷ. 직선 AB의 기울기와 직선 AC의 기울기의 합이 0일 때,  $m+k^2=19$  이다.

- ① ㄱ            ② ㄷ            ③ ㄱ, ㄴ
- ④ ㄴ, ㄷ       ⑤ ㄱ, ㄴ, ㄷ

[출처] 2021 모의\_공공 평가원 고3 06월 공통범위 10

8.  $n \geq 2$ 인 자연수  $n$ 에 대하여 두 곡선

$$y = \log_n x, y = -\log_n(x+3)+1$$

이 만나는 점의  $x$ 좌표가 1보다 크고 2보다 작도록 하는 모든  $n$ 의 값의 합은?

- ① 30            ② 35            ③ 40
- ④ 45            ⑤ 50

[출처] 2021 모의\_공공 교육청 고2 06월 9

9. 두 상수  $a, b$ 에 대하여 함수  $y = \log_2(x-a)+1$ 의

그래프가 점  $(7, b)$ 를 지나고 점근선이 직선  $x=3$ 일 때,  $a+b$ 의 값은?

- ① 3            ② 4            ③ 5
- ④ 6            ⑤ 7

[출처] 2021 모의\_공공 교육청 고2 06월 28

10. 두 자연수  $a, b$ 에 대하여 좌표평면 위에 두 점

$A(a, \log_4 b), B(1, \log_8 \sqrt[4]{27})$ 이 있다. 선분  $AB$ 를 2 : 1로 외분하는 점이 곡선  $y = -\log_4(3-x)$  위에 있고, 집합

$$\{n \mid b < 2^n \times a \leq 32b, n \text{은 정수}\}$$

의 모든 원소의 합은 25이다.  $a+b$ 의 최댓값을 구하시오.

[출처] 2021 모의\_공공 교육청 고3 10월 공통범위 8

11. 2보다 큰 상수  $k$ 에 대하여 두 곡선

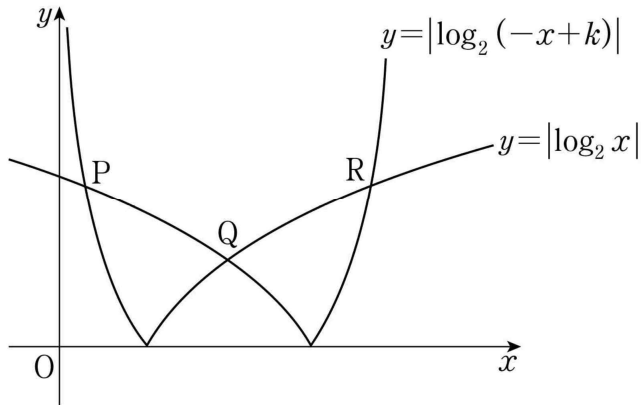
$$y = |\log_2(-x+k)|, y = |\log_2 x|$$

가 만나는 세 점 P, Q, R의  $x$ 좌표를 각각  $x_1, x_2, x_3$ 이라

하자.  $x_3 - x_1 = 2\sqrt{3}$ 일 때,  $x_1 + x_3$ 의 값은?

(단,  $x_1 < x_2 < x_3$ )

- ①  $\frac{7}{2}$             ②  $\frac{15}{4}$             ③ 4
- ④  $\frac{17}{4}$             ⑤  $\frac{9}{2}$



[출처] 2022 모의\_공공 사관학교 고3 07월 공통범위 9

12. 곡선  $y = |\log_2(-x)|$  를  $y$  축에 대하여 대칭이동한 후

$x$  축의 방향으로  $k$ 만큼 평행이동한 곡선을  $y = f(x)$ 라 하자.

곡선  $y = f(x)$ 와 곡선  $y = |\log_2(-x+8)|$  이 세 점에서

만나고 세 교점의  $x$ 좌표의 합이 18일 때,  $k$ 의 값은?

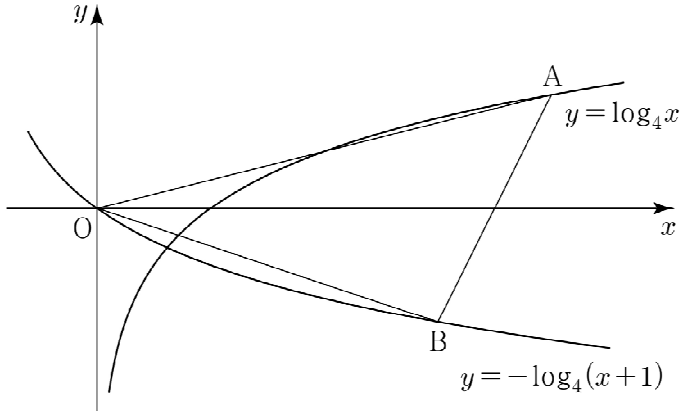
- ① 1                    ② 2                    ③ 3
- ④ 4                    ⑤ 5

[출처] 2022 모의\_공공 교육청 고2 09월 11

13. 그림과 같이 곡선  $y = \log_4 x$  위의 점 A와 곡선

$y = -\log_4(x+1)$  위의 점 B가 있다.

점 A의 y좌표가 1이고, x축이 삼각형 OAB의 넓이를 이등분할 때, 선분 OB의 길이는? (단, O는 원점이다.)



- ①  $\sqrt{6}$       ②  $2\sqrt{2}$       ③  $\sqrt{10}$
- ④  $2\sqrt{3}$       ⑤  $\sqrt{14}$

[출처] 2022 모의\_공공 교육청 고3 10월 공통범위 10

14.  $a > 1$ 인 실수 a에 대하여 두 곡선

$$y = -\log_2(-x), y = \log_2(x+2a)$$

가 만나는 두 점을 A, B라 하자. 선분 AB의 중점이 직선  $4x + 3y + 5 = 0$  위에 있을 때, 선분 AB의 길이는?

- ①  $\frac{3}{2}$       ②  $\frac{7}{4}$       ③ 2
- ④  $\frac{9}{4}$       ⑤  $\frac{5}{2}$

03 수1

04 로그함수

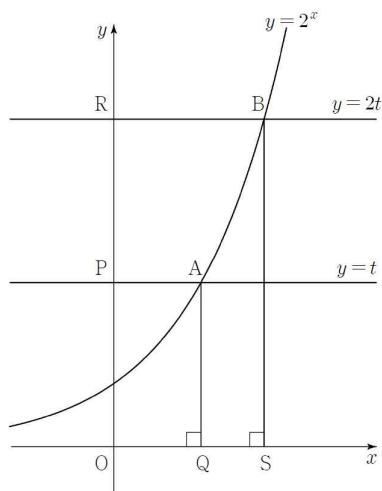
01 로그함수의 그래프

06 로그함수의 그래프의 해석2 (길이와 넓이)

[출처] 2020 모의\_공공 교육청 고2 09월 19

15. 그림과 같이 실수  $t(1 < t < 100)$ 에 대하여 점

$P(0, t)$ 를 지나고  $x$ 축에 평행한 직선이 곡선  $y = 2^x$ 과 만나는 점을 A, 점 A에서  $x$ 축에 내린 수선의 발을 Q라 하자. 점  $R(0, 2t)$ 를 지나고  $x$ 축에 평행한 직선이 곡선  $y = 2^x$ 과 만나는 점을 B, 점 B에서  $x$ 축에 평행한 직선이 곡선  $y = 2^x$ 과 만나는 점을 B, 점 B에서  $x$ 축에 내린 수선의 발을 S라 하자. 사각형 ABRP의 넓이를  $f(t)$ , 사각형 AQSB의 넓이를  $g(t)$ 라 할 때,  $\frac{f(t)}{g(t)}$ 의 값이 자연수가 되도록 하는 모든  $t$ 의 값의 곱은?



- ①  $2^{11}$       ②  $2^{12}$       ③  $2^{13}$
- ④  $2^{14}$       ⑤  $2^{15}$

[출처] 2020 모의\_공공 교육청 고2 06월 20

16. 1보다 큰 실수  $a$ 에 대하여 두 곡선  $y = \log_a x$ ,  $y = \log_{a+2} x$ 가 직선  $y = 2$ 와 만나는 점을 각각 A, B라 하자. 점 A를 지나고  $y$ 축에 평행한 직선이 곡선  $y = \log_{a+2} x$ 와 만나는 점을 C, 점 B를 지나고  $y$ 축에 평행한 직선이 곡선  $y = \log_a x$ 와 만나는 점을 D라 할 때, <보기>에서 옳은 것만을 있는 대로 고른 것은?

<보 기>

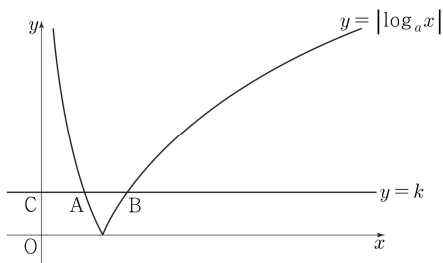
- ㄱ. 점 A의  $x$ 좌표는  $a^2$ 이다.
- ㄴ.  $\overline{AC} = 1$ 이면  $a = 2$ 이다.
- ㄷ. 삼각형 ACB와 삼각형 ABD의 넓이를 각각  $S_1, S_2$ 라 할 때,  $\frac{S_2}{S_1} = \log_a(a+2)$ 이다.

- ① ㄱ                      ② ㄷ                      ③ ㄱ, ㄴ
- ④ ㄴ, ㄷ                ⑤ ㄱ, ㄴ, ㄷ

[출처] 2020 모의\_공공 교육청 고3 04월 28

17. 그림과 같이 1보다 큰 실수  $a$ 에 대하여 곡선

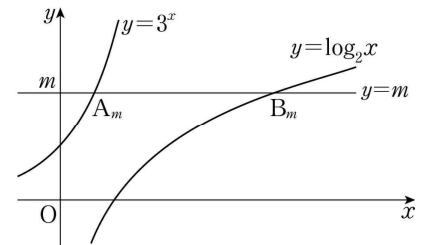
$y = |\log_a x|$ 가 직선  $y = k (k > 0)$ 과 만나는 두 점을 각각 A, B라 하고, 직선  $y = k$ 가  $y$ 축과 만나는 점을 C라 하자.  $\overline{OC} = \overline{CA} = \overline{AB}$ 일 때, 곡선  $y = |\log_a x|$ 와 직선  $y = 2\sqrt{2}$ 가 만나는 두 점 사이의 거리는  $d$ 이다.  $20d$ 의 값을 구하시오. (단, O는 원점이고, 점 A의  $x$ 좌표는 점 B의  $x$ 좌표보다 작다.)



[출처] 2020 모의\_공공 교육청 고3 03월 16

18. 그림과같이 자연수  $m$ 에 대하여 두 함수  $y = 3^x$ ,

$y = \log_2 x$ 의 그래프와 직선  $y = m$ 이 만나는 점을 각각  $A_m, B_m$ 이라 하자. 선분  $A_m B_m$ 의 길이 중 자연수인 것을 작은 수부터 크기순으로 나열하여  $a_1, a_2, a_3, \dots$ 이라 할 때,  $a_3$ 의 값은?

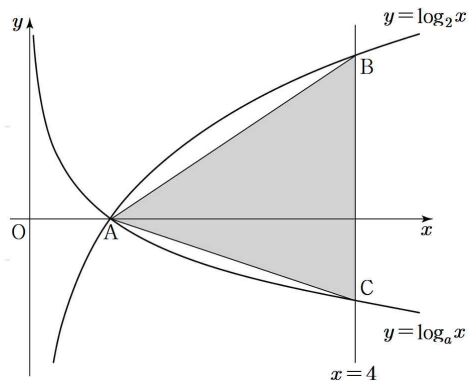


- ① 502                      ② 504                      ③ 506
- ④ 508                      ⑤ 510



[출처] 2020 모의\_공공 교육청 고3 07월 10

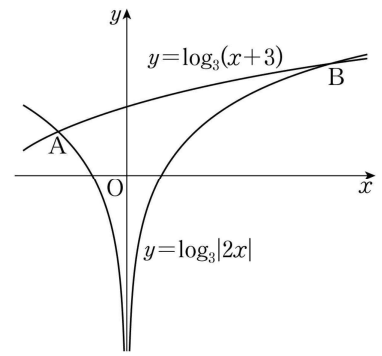
19. 두 곡선  $y = \log_2 x$ ,  $y = \log_a x (0 < a < 1)$ 이  $x$ 축 위의 점 A에서 만난다. 직선  $x = 4$ 가 곡선  $y = \log_2 x$ 와 만나는 점을 B, 곡선  $y = \log_a x$ 와 만나는 점을 C라 하자. 삼각형 ABC의 넓이가  $\frac{9}{2}$ 일 때, 상수  $a$ 의 값은?



- ①  $\frac{1}{16}$       ②  $\frac{1}{8}$       ③  $\frac{3}{16}$
- ④  $\frac{1}{4}$       ⑤  $\frac{5}{16}$

[출처] 2020 모의\_공공 교육청 고3 03월 14

20. 함수  $y = \log_3 |2x|$ 의 그래프와 함수  $y = \log_3(x+3)$ 의 그래프가 만나는 서로 다른 두 점을 각각 A, B라 하자. 점 A를 지나고 직선 AB와 수직인 직선이  $y$ 축과 만나는 점을 C라 할 때, 삼각형 ABC의 넓이는?  
(단, 점 A의  $x$ 좌표는 점 B의  $x$ 좌표보다 작다.)



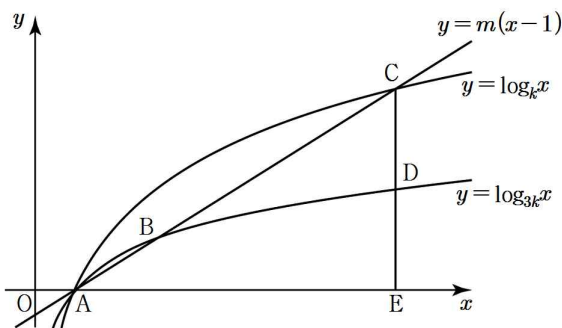
- ①  $\frac{13}{2}$       ② 7      ③  $\frac{15}{2}$
- ④ 8      ⑤  $\frac{17}{2}$

[출처] 2020 모의\_공공 교육청 고3 07월 27

21.  $k > 1$ 인 실수  $k$ 에 대하여 두 곡선  $y = \log_{3k}x$ ,  $y = \log_kx$ 가 만나는 점을 A라 하자. 양수  $m$ 에 대하여 직선  $y = m(x-1)$ 이 두 곡선  $y = \log_{3k}x$ ,  $y = \log_kx$ 와 제 1사분면에서 만나는 점을 각각 B, C라 하자. 점 C를 지나고  $y$ 축에 평행한 직선이 곡선  $y = \log_{3k}x$ ,  $x$ 축과 만나는 점을 각각 D, E라 할 때, 세 삼각형 ADB, AED, BDC가 다음 조건을 만족시킨다.

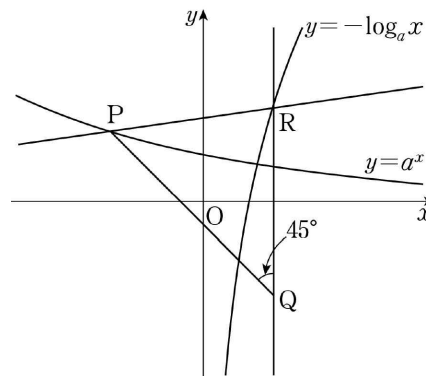
- (가) 삼각형 BDC의 넓이는 삼각형 ADB의 넓이의 3배이다.
- (나) 삼각형 BDC의 넓이는 삼각형 AED의 넓이의  $\frac{3}{4}$ 배이다.

$\frac{k}{m}$ 의 값을 구하시오.



[출처] 2020 모의\_공공 교육청 고3 10월 15

22. 그림과 같이 좌표평면에서 곡선  $y = a^x$  ( $0 < a < 1$ )위의 점 P가 제 2사분면에 있다. 점 P를 직선  $y = x$ 에 대하여 대칭이동시킨 점 Q와 곡선  $y = -\log_a x$  위의 점 R에 대하여  $\angle PQR = 45^\circ$ 이다.  $\overline{PR} = \frac{5\sqrt{2}}{2}$  이고 직선 PR의 기울기가  $\frac{1}{7}$ 일 때, 상수  $a$ 의 값은?



- ①  $\frac{\sqrt{2}}{3}$
- ②  $\frac{\sqrt{3}}{3}$
- ③  $\frac{2}{3}$
- ④  $\frac{\sqrt{5}}{3}$
- ⑤  $\frac{\sqrt{6}}{3}$

[출처] 2020 모의\_공공 평가원 고3 11월 13

[출처] 2020 모의\_공공 평가원 고3 11월 18

23.  $\frac{1}{4} < a < 1$ 인 실수  $a$ 에 대하여 직선  $y=1$ 이 두 곡선  $y=\log_a x$ ,  $y=\log_{4a} x$ 와 만나는 점을 각각 A, B라 하고, 직선  $y=-1$ 이 두 곡선  $y=\log_a x$ ,  $y=\log_{4a} x$ 와 만나는 점을 각각 C, D라 하자. <보기>에서 옳은 것만을 있는 대로 고른 것은?

— <보 기> —

ㄱ. 선분 AB를 1 : 4로 외분하는 점의 좌표는 (0, 1)이다.

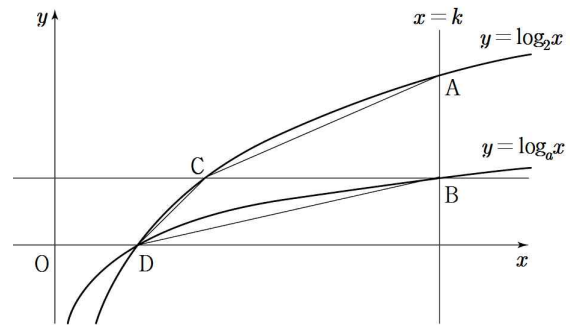
ㄴ. 사각형 ABCD가 직사각형이면  $a = \frac{1}{2}$ 이다.

ㄷ.  $\overline{AB} < \overline{CD}$ 이면  $\frac{1}{2} < a < 1$ 이다.

- ① ㄱ      ② ㄷ      ③ ㄱ, ㄴ  
 ④ ㄴ, ㄷ      ⑤ ㄱ, ㄴ, ㄷ

[출처] 2021 모의\_공공 교육청 고2 06월 16

24. 상수  $k$ 에 대하여 그림과 같이 직선  $x=k(k > 1)$ 이 두 함수  $y=\log_2 x$ ,  $y=\log_a x (a > 2)$ 의 그래프와 만나는 점을 각각 A, B라 하고, 점 B를 지나고  $x$ 축에 평행한 직선이 함수  $y=\log_2 x$ 의 그래프와 만나는 점을 C라 하자. 함수  $y=\log_2 x$ 의 그래프가  $x$ 축과 만나는 점을 D라 할 때, 삼각형 ACB와 삼각형 BCD의 넓이의 비는 3 : 2이다. 상수  $a$ 의 값은?



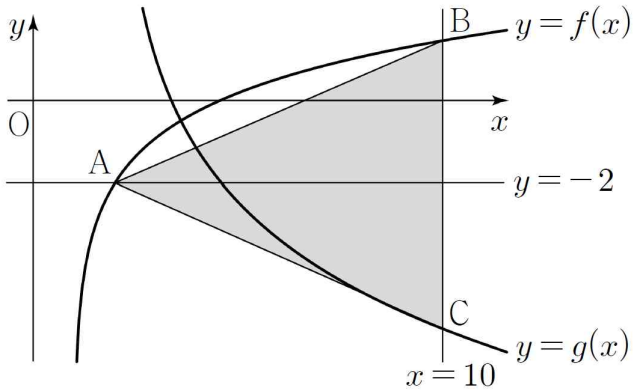
- ①  $2\sqrt{2}$       ② 4      ③  $4\sqrt{2}$   
 ④ 8      ⑤  $8\sqrt{2}$

[출처] 2021 모의\_공공 교육청 고3 07월 공통범위 11

25.  $a > 1$ 인 실수  $a$ 에 대하여 두 함수

$$f(x) = \frac{1}{2} \log_a(x-1) - 2, \quad g(x) = \log_{\frac{1}{a}}(x-2) + 1$$

이 있다. 직선  $y = -2$ 와 함수  $y = f(x)$ 의 그래프가 만나는 점을 A라 하고, 직선  $x = 10$ 과 두 함수  $y = f(x)$ ,  $y = g(x)$ 의 그래프가 만나는 점을 각각 B, C라 하자. 삼각형 ACB의 넓이가 28일 때,  $a^{10}$ 의 값은?



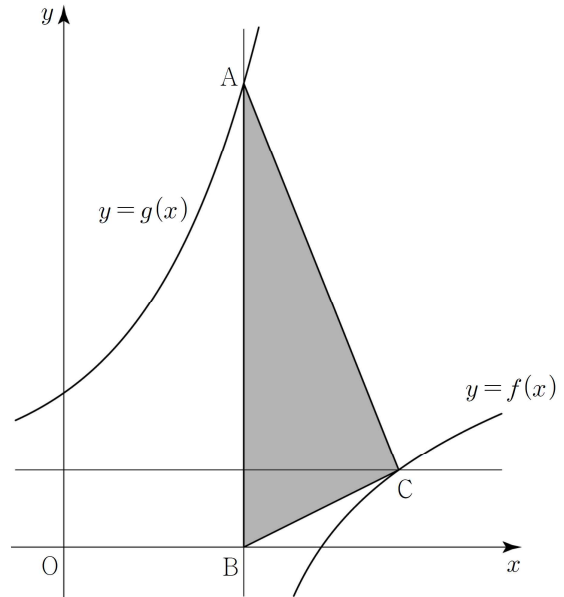
- ① 15                      ② 18                      ③ 21
- ④ 24                      ⑤ 27

[출처] 2021 모의\_공공 교육청 고2 09월 11

26. 양수  $p$ 에 대하여 두 함수

$$f(x) = \log_2(x-p), \quad g(x) = 2^x + 1$$

이 있다. 곡선  $y = f(x)$ 의 점근선이 곡선  $y = g(x)$ ,  $x$ 축과 만나는 점을 각각 A, B라 하고, 곡선  $y = g(x)$ 의 점근선이 곡선  $y = f(x)$ 와 만나는 점을 C라 하자. 삼각형 ABC의 넓이가 6일 때,  $p$ 의 값은?



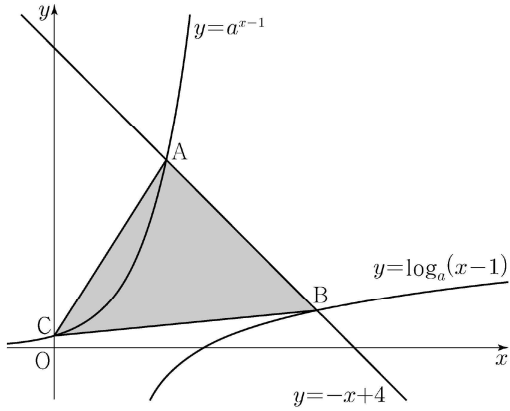
- ① 2                      ②  $\log_2 5$                       ③  $\log_2 6$
- ④  $\log_2 7$                       ⑤ 3

[출처] 2021 모의\_공공 평가원 고3 09월 공통범위 21

27.  $a > 1$ 인 실수  $a$ 에 대하여 직선  $y = -x + 4$ 가 두 곡선

$$y = a^{x-1}, y = \log_a(x-1)$$

과 만나는 점을 각각 A, B라 하고, 곡선  $y = a^{x-1}$ 이  $y$ 축과 만나는 점을 C라 하자.  $\overline{AB} = 2\sqrt{2}$ 일 때, 삼각형 ABC의 넓이는  $S$ 이다.  $50 \times S$ 의 값을 구하시오.



[출처] 2021 모의\_공공 교육청 고2 09월 20

28. 그림과 같이 기울기가  $\frac{1}{3}$ 인 직선  $l$ 이 곡선

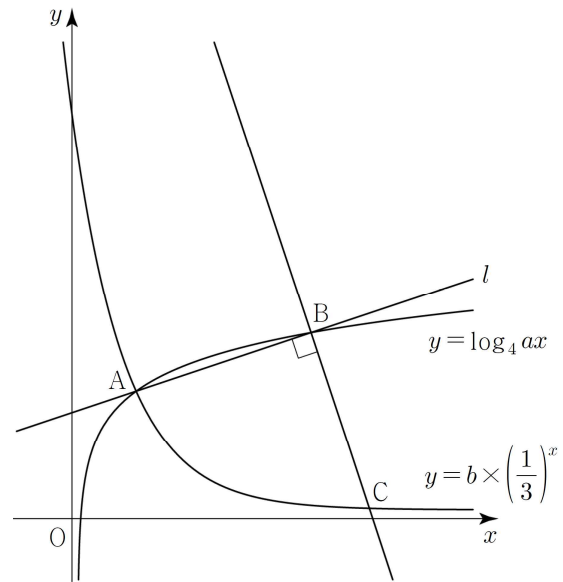
$y = \log_4 ax$ 와 서로 다른 두 점  $A(x_1, y_1), B(x_2, y_2)$ 에서

만나고, 곡선  $y = b \times \left(\frac{1}{3}\right)^x$ 이 점 A를 지난다. 점 B를 지나고

직선  $l$ 에 수직인 직선이 곡선  $y = b \times \left(\frac{1}{3}\right)^x$ 과 만나는 점을

$C(x_3, y_3)$ 이라 하자.  $\overline{AB} = \overline{BC} = \sqrt{10}$ 일 때, <보기>에서 옳은 것만을 있는 대로 고른 것은? (단,  $a, b$ 는 양수이고

$x_1 < x_2 < x_3$ 이다.)



<보 기>

㉠.  $x_2 - x_1 = 3$

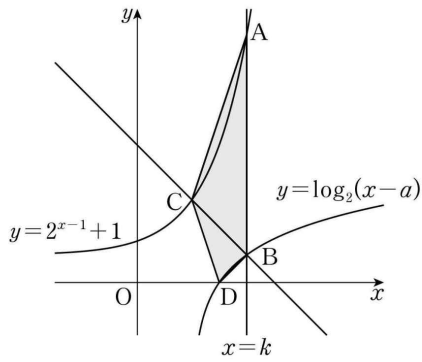
㉡.  $x_3 - x_1 = 2(y_1 - y_3)$

㉢.  $a^2 = 4^b$

- ① ㉠                      ② ㉠, ㉡                      ③ ㉠, ㉢
- ④ ㉡, ㉢                      ⑤ ㉠, ㉡, ㉢

[출처] 2022 모의\_공공 교육청 고3 03월 공통범위 11

29. 그림과 같이 두 상수  $a, k$ 에 대하여 직선  $x=k$ 가 두 곡선  $y=2^{x-1}+1, y=\log_2(x-a)$ 와 만나는 점을 각각 A, B라 하고, 점 B를 지나고 기울기가  $-1$ 인 직선이 곡선  $y=2^{x-1}+1$ 과 만나는 점을 C라 하자.  $\overline{AB}=8, \overline{BC}=2\sqrt{2}$ 일 때, 곡선  $y=\log_2(x-a)$ 가  $x$ 축과 만나는 점 D에 대하여 사각형 ACDB의 넓이는? (단,  $0 < a < k$ )

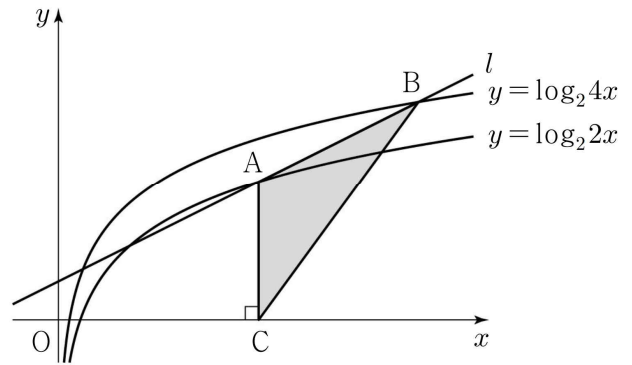


- ① 14
- ② 13
- ③ 12
- ④ 11
- ⑤ 10

[출처] 2022 모의\_공공 교육청 고3 07월 공통범위 11

30. 기울기가  $\frac{1}{2}$ 인 직선  $l$ 이 곡선  $y=\log_2 2x$ 와 서로 다른 두 점에서 만날 때, 만나는 두 점 중  $x$ 좌표가 큰 점을 A라 하고, 직선  $l$ 이 곡선  $y=\log_2 4x$ 와 만나는 두 점 중  $x$ 좌표가 큰 점을 B라 하자.  $\overline{AB}=2\sqrt{5}$ 일 때, 점 A에서  $x$ 축에 내린 수선의 발 C에 대하여 삼각형 ACB의 넓이는?

- ① 5
- ②  $\frac{21}{4}$
- ③  $\frac{11}{2}$
- ④  $\frac{23}{4}$
- ⑤ 6



03 수1

04 로그함수

02 로그함수의 최대와 최소

01 Mml (기본 그래프)

[출처] 2020 모의\_공공 교육청 고2 11월 23

31.  $1 \leq x \leq 7$ 에서 정의된 함수  $y = \log_2(x+1)+2$ 의 최댓값을 구하시오.

[출처] 2020 모의\_공공 평가원 고3 06월 9

32. 함수  $f(x) = 2\log_{\frac{1}{2}}(x+k)$ 가 닫힌구간  $[0, 12]$ 에서

최댓값  $-4$ , 최솟값  $m$ 을 갖는다.  $k+m$ 의 값은? (단,  $k$ 는 상수이다.)

- ①  $-1$                       ②  $-2$                       ③  $-3$
- ④  $-4$                       ⑤  $-5$

03 수1

04 로그함수

02 로그함수의 최대와 최소

02 Mm2 (진수가 함수식)

[출처] 2021 모의\_공공 교육청 고2 09월 14

33.  $0 \leq x \leq 5$ 에서 함수

$$f(x) = \log_3(x^2 - 6x + k) \quad (k > 9)$$

의 최댓값과 최솟값의 합이  $2 + \log_3 4$ 가 되도록 하는 상수  $k$ 의 값은?

- ① 11            ② 12            ③ 13
- ④ 14            ⑤ 15

03 수1

04 로그함수

02 로그함수의 최대와 최소

03 Mm3 (치환)

[출처] 2020 모의\_공공 평가원 고3 09월 17

34.  $\angle A = 90^\circ$  이고  $\overline{AB} = 2\log_2 x$ ,  $\overline{AC} = \log_4 \frac{16}{x}$  인 삼각형

ABC의 넓이를  $S(x)$ 라 하자.  $S(x)$ 가  $x = a$ 에서 최댓값  $M$ 를 가질 때,  $a + M$ 의 값은? (단,  $1 < x < 16$ )

- ① 6            ② 7            ③ 8
- ④ 9            ⑤ 10



03 수1

04 로그함수

03 지수함수와 로그함수의 역함수 관계

01 역함수1 (역함수의 함숫값)

[출처] 2020 모의\_공공 교육청 고3 04월 20

35. 두 함수

$$f(x)=2^x, g(x)=2^{x-2}$$

에 대하여 두 양수  $a, b(a < b)$ 가 다음 조건을 만족시킬 때,  $a+b$ 의 값은?

(가) 두 곡선  $y=f(x), y=g(x)$ 와 두 직선  $y=a, y=b$ 로 둘러싸인 부분의 넓이가 6이다.  
 (나)  $g^{-1}(b)-f^{-1}(a)=\log_2 6$

- ① 15            ② 16            ③ 17
- ④ 18            ⑤ 19

[출처] 2020 모의\_공공 교육청 고2 06월 14

36. 함수  $y=3^x - a$ 의 역함수의 그래프가 두 점  $(3, \log_3 b), (2b, \log_3 12)$ 를 지나도록 하는 두 상수  $a, b$ 에 대하여  $a+b$ 의 값은?

- ① 7            ② 8            ③ 9
- ④ 10          ⑤ 11

[출처] 2020 모의\_공공 교육청 고2 11월 13

37. 함수  $f(x)=\log_2(x+a)+b$ 의 역함수를  $g(x)$ 라 하자.

곡선  $y=g(x)$ 의 점근선이  $y=1$ 이고, 곡선  $y=g(x)$ 가 점  $(3, 2)$ 를 지날 때,  $a+b$ 의 값은? (단,  $a, b$ 는 상수이다.)

- ① 1            ② 2            ③ 3
- ④ 4            ⑤ 5

[출처]

2022 모의\_공공 교육청 고2 09월 8

38. 함수  $y = \log_3(2x+1)$ 의 역함수의 그래프가 점  $(4, a)$ 를

지날 때,  $a$ 의 값은?

- ① 40            ② 42            ③ 44  
 ④ 46            ⑤ 48

## 03 수1

04 로그함수

03 지수함수와 로그함수의 역함수 관계

03 역함수3 ( $y=x$ 대칭)

[출처]

2021 모의\_공공 교육청 고2 06월 26

39. 함수  $y=f(x)$ 의 그래프는 함수  $y=\log_2x$ 의 그래프를  $x$ 축의 방향으로  $m$ 만큼 평행이동한 후 직선  $y=x$ 에 대하여 대칭이동한 그래프와 일치한다. 함수  $y=f(x)$ 의 그래프가 점  $(1, 5)$ 를 지날 때,  $f(m)$ 의 값을 구하시오.  
 (단,  $m$ 은 상수이다.)

03 수1

04 로그함수

03 지수함수와 로그함수의 역함수 관계

04 역함수4 ( $y=x$ 대칭의 발견)

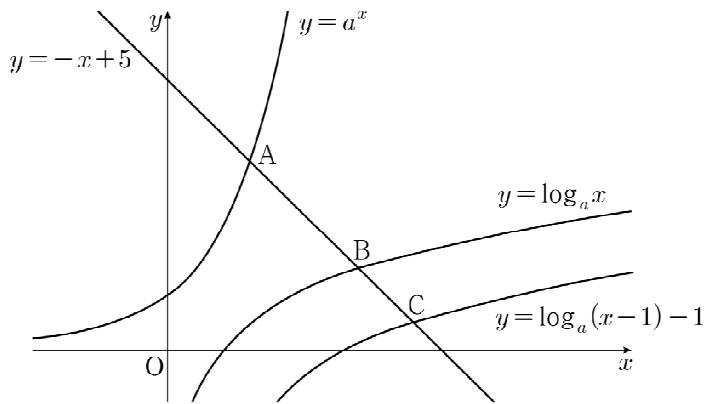
[출처] 2022 모의\_공공 교육청 고2 06월 27

40.  $a > 2$ 인 실수  $a$ 에 대하여 그림과 같이 직선

$y = -x + 5$ 가

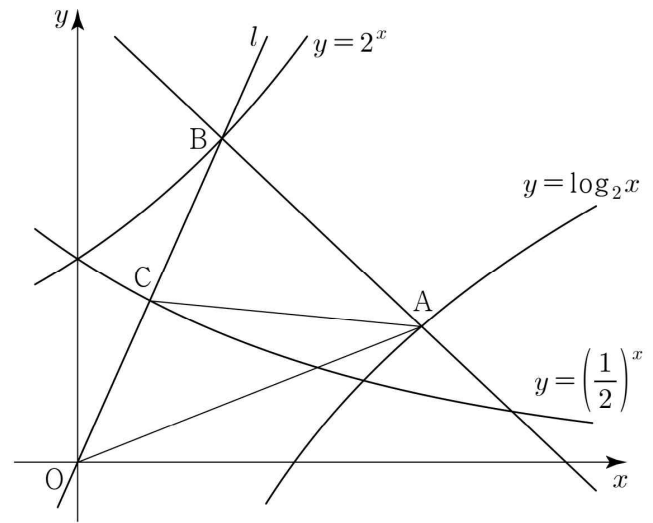
세 곡선  $y = a^x$ ,  $y = \log_a x$ ,  $y = \log_a(x-1) - 1$ 과 만나는 점을 각각 A, B, C라 하자.

$\overline{AB} : \overline{BC} = 2 : 1$ 일 때,  $4a^3$ 의 값을 구하시오.



[출처] 2022 모의\_공공 교육청 고2 09월 19

41. 그림과 같이 곡선  $y = \log_2 x$  위의 한 점  $A(x_1, y_1)$ 을 지나고 기울기가  $-1$ 인 직선이 곡선  $y = 2^x$ 과 만나는 점을  $B(x_2, y_2)$ 라 하고, 두 점 B, O를 지나는 직선  $l$ 이 곡선  $y = \left(\frac{1}{2}\right)^x$ 과 만나는 점을  $C(x_3, y_3)$ 이라 하자. 삼각형 OAB의 넓이가 삼각형 OAC의 넓이의 2배일 때, <보기>에서 옳은 것만을 있는 대로 고른 것은?  
(단,  $x_1 > 1$ 이고, O는 원점이다.)



<보 기>

- ㄱ.  $\overline{OC} = \frac{1}{2}\overline{OA}$
- ㄴ.  $x_2 + y_1 = 4x_3$
- ㄷ. 직선  $l$ 의 기울기는  $3 \times \left(\frac{1}{2}\right)^{\frac{1}{3}}$ 이다.

- ① ㄱ                      ② ㄱ, ㄴ                      ③ ㄱ, ㄷ
- ④ ㄴ, ㄷ                      ⑤ ㄱ, ㄴ, ㄷ

## 03 수1

04 로그함수

03 지수함수와 로그함수의 역함수 관계

05 역함수5 (원함수와 역함수의 교점)

[출처] 2021 모의\_공공 사관학교 고3 07월 공통범위 19

42. 함수  $f(x) = \log_2 kx$ 에 대하여 곡선  $y = f(x)$ 와 직선  $y = x$ 가 두 점 A, B에서 만나고  $\overline{OA} = \overline{AB}$ 이다. 함수  $f(x)$ 의 역함수를  $g(x)$ 라 할 때,  $g(5)$ 의 값을 구하시오.  
(단,  $k$ 는 0이 아닌 상수이고, O는 원점이다.)

## 03 수1

04 로그함수

04 로그방정식과 부등식

01 로그방정식1 (기본)

[출처] 2020 모의\_공공 교육청 고2 06월 23

43. 방정식  $\log_2(x+5) = 4$ 의 해를 구하시오.

[출처] 2020 모의\_공공 평가원 고3 09월 24

44. 방정식  $\log_2 x = 1 + \log_4(2x-3)$ 을 만족시키는 모든 실수  $x$ 의 값의 곱을 구하시오.

[출처] 2020 모의\_공공 경찰대 고3 07월 1

45.  $\log_3(\log_{27}x) = \log_{27}(\log_3x)$ 가 성립할 때,  $(\log_3x)^2$ 의 값은?

- ①  $\frac{1}{9}$       ②  $\frac{1}{27}$       ③ 3
- ④ 9      ⑤ 27

[출처] 2021 모의\_공공 교육청 고2 06월 23

46. 방정식  $\log_3(x-2)=1$ 의 해를 구하시오.

[출처] 2021 모의\_공공 교육청 고2 11월 24

47. 방정식  $2\log_4(x-3)+\log_2(x-10)=3$ 을 만족시키는 실수  $x$ 의 값을 구하시오.

[출처] 2021 모의\_공공 경찰대 고3 07월 21

48. 방정식  $\log_2(x+4)+\log_{\frac{1}{2}}(x-4)=1$ 을 만족시키는 실수  $x$ 의 값을 구하시오.

[출처] 2022 모의\_공공 교육청 고2 06월 23

49. 방정식  $\log_5(x+1)=2$ 의 해를 구하시오.

[출처] 2022 모의\_공공 평가원 고3 06월 공통범위 16

50. 방정식  $\log_2(x+2) + \log_2(x-2) = 5$ 를 만족시키는 실수  $x$ 의 값을 구하시오.

[출처] 2022 모의\_공공 평가원 고3 09월 공통범위 16

52. 방정식  $\log_3(x-4) = \log_9(x+2)$ 를 만족시키는 실수  $x$ 의 값을 구하시오.

[출처] 2022 모의\_공공 평가원 고3 11월

51. 방정식

$$\log_2(3x+2) = 2 + \log_2(x-2)$$

를 만족시키는 실수  $x$ 의 값을 구하시오.

03 수1

04 로그함수

04 로그방정식과 부등식

03 로그방정식3 (연립방정식)

[출처] 2022 모의\_공공 경찰대 고3 07월 22

53. 실수  $a, b, c$ 가

$$\log \frac{ab}{2} = (\log a)(\log b),$$

$$\log \frac{bc}{2} = (\log b)(\log c),$$

$$\log (ca) = (\log c)(\log a)$$

를 만족시킬 때,  $a+b+c$ 의 값을 구하시오.

(단,  $a, b, c$ 는 모두 10보다 크다.)

03 수1

04 로그함수

04 로그방정식과 부등식

05 로그방정식5 (해석)

[출처] 2021 모의\_공공 교육청 고2 06월 14

54.  $x > 0$ 에서 정의된 함수

$$f(x) = \begin{cases} 0 & (0 < x \leq 1) \\ \log_3 x & (x > 1) \end{cases}$$

에 대하여  $f(t) + f\left(\frac{1}{t}\right) = 2$ 를 만족시키는 모든 양수  $t$ 의 값의 합은?

- ①  $\frac{76}{9}$       ②  $\frac{79}{9}$       ③  $\frac{82}{9}$
- ④  $\frac{85}{9}$       ⑤  $\frac{88}{9}$

03 수1

04 로그함수

04 로그방정식과 부등식

06 로그부등식1 (기본)

[출처] 2020 모의\_공공 교육청 고3 03월 6

55. 부등식  $\log_{18}(n^2 - 9n + 18) < 1$ 을 만족시키는 모든

자연수  $n$ 의 값의 합은?

- ① 14            ② 15            ③ 16
- ④ 17            ⑤ 18

[출처] 2020 모의\_공공 사관학교 고3 07월 24

56. 부등식  $2 + \log_{\frac{1}{3}}(2x - 5) > 0$ 을 만족시키는 모든 정수

$x$ 의 개수를 구하시오.

[출처]

2020 모의\_공공 교육청 고2 11월 6

57. 부등식  $\log_3 x < 2$ 를 만족시키는 정수  $x$ 의 최댓값은?

- ① 31            ② 33            ③ 35
- ④ 37            ⑤ 39

[출처]

2020 모의\_공공 교육청 고3 10월 8

58. 부등식  $\log_2(x^2 - 7x) - \log_2(x + 5) \leq 1$ 을 만족시키는

모든 정수  $x$ 의 값의 합은?

- ① 22            ② 24            ③ 26
- ④ 28            ⑤ 30



[출처] 2021 모의\_공공 교육청 고2 09월 27

59. 부등식

$$\log|x-1| + \log(x+2) \leq 1$$

을 만족시키는 모든 정수  $x$ 의 값의 합을 구하시오.

[출처] 2022 모의\_공공 교육청 고2 06월 12

60. 부등식

$$\log_3(x+5) < 8\log_9 2$$

를 만족시키는 정수  $x$ 의 최댓값과 최솟값의 합은?

- ① 6                    ② 7                    ③ 8
- ④ 9                    ⑤ 10

[출처] 2022 모의\_공공 교육청 고3 04월 공통범위 5

61. 부등식  $\log_2 x \leq 4 - \log_2(x-6)$ 을 만족시키는 모든

정수  $x$ 의 값의 합은?

- ① 15                    ② 19                    ③ 23
- ④ 27                    ⑤ 31

03 수1

04 로그함수

04 로그방정식과 부등식

09 로그부등식4 (해의 조건)

[출처] 2020 모의\_공공 사관학교 고3 07월 8

62.  $x$ 에 대한 연립부등식

$$\begin{cases} \left(\frac{1}{2}\right)^{1-x} \geq \left(\frac{1}{16}\right)^{x-1} \\ \log_2 4x < \log_2(x+k) \end{cases}$$

의 해가 존재하지 않도록 하는 양수  $k$ 의 최댓값은?

① 3            ② 4            ③ 5

④ 6            ⑤ 7

03 수1

04 로그함수

04 로그방정식과 부등식

10 로그부등식5 (해석)

[출처] 2020 모의\_공공 교육청 고2 09월 15

63.  $-1 \leq x \leq 1$ 에서 정의된 함수  $f(x) = -\log_3(mx+5)$ 에

대하여  $f(-1) < f(1)$ 이 되도록 하는 모든 정수  $m$ 의 개수는?

① 1            ② 2            ③ 3

④ 4            ⑤ 5

03 수1

04 로그함수

05 로그함수의 활용

02 활용2 (방정식의 실근 조건, 치환)

[출처] 2022 모의\_공공 교육청 고3 03월 공통범위 21

64. 상수  $k$ 에 대하여 다음 조건을 만족시키는 좌표평면의 점  $A(a, b)$ 가 오직 하나 존재한다.

- (가) 점  $A$ 는 곡선  $y = \log_2(x+2) + k$  위의 점이다.
- (나) 점  $A$ 를 직선  $y = x$ 에 대하여 대칭이동한 점은 곡선  $y = 4^{x+k} + 2$  위에 있다.

$a \times b$ 의 값을 구하시오. (단,  $a \neq b$ )

03 수1

04 로그함수

05 로그함수의 활용

04 활용4 (부등식의 성립조건)

[출처] 2021 모의\_공공 교육청 고3 03월 공통범위 17

65. 모든 실수  $x$ 에 대하여 이차부등식

$$3x^2 - 2(\log_2 n)x + \log_2 n > 0$$

이 성립하도록 하는 자연수  $n$ 의 개수를 구하시오.

03 수1

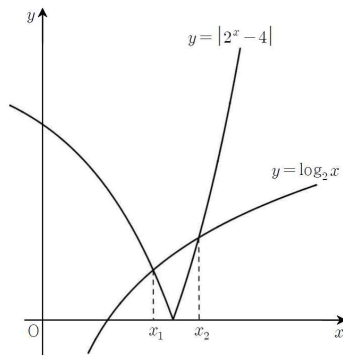
04 로그함수

05 로그함수의 활용

05 활용5 (그래프를 이용한 대소비교)

[출처] 2020 모의\_공공 사관학교 고3 07월 21

66. 두 곡선  $y = |2^x - 4|$ ,  $y = \log_2 x$ 가 만나는 두 점의  $x$ 좌표를  $x_1, x_2$  ( $x_1 < x_2$ )라 할 때, 보기에서 옳은 것만을 있는 대로 고른 것은?



<보 기>

- ㉠.  $\log_2 3 < x_1 < x_2 < \log_2 6$
- ㉡.  $(x_2 - x_1)(2^{x_2} - 2^{x_1}) < 3$
- ㉢.  $2^{x_1} + 2^{x_2} > 8 + \log_2(\log_3 6)$

- ① ㉠      ② ㉠, ㉡      ③ ㉠, ㉢
- ④ ㉡, ㉢      ⑤ ㉠, ㉡, ㉢

[출처] 2020 모의\_공공 교육청 고3 10월 21

67. 두 곡선  $y = 2^{-x}$ 과  $y = |\log_2 x|$ 가 만나는 두 점을  $(x_1, y_1), (x_2, y_2)$ 라 하자.  $x_1 < x_2$ 일 때, <보기>에서 옳은 것만을 있는 대로 고른 것은?

<보 기>

- ㉠.  $\frac{1}{2} < x_1 < \frac{\sqrt{2}}{2}$
- ㉡.  $\sqrt[3]{2} < x_2 < \sqrt{2}$
- ㉢.  $y_1 - y_2 < \frac{3\sqrt{2} - 2}{6}$

- ① ㉠      ② ㉠, ㉡      ③ ㉠, ㉢
- ④ ㉡, ㉢      ⑤ ㉠, ㉡, ㉢

[출처] 2022 모의\_공공 교육청 고2 06월 20

68.  $1 < a < 4$ 인 실수  $a$ 에 대하여 함수  $y = \log_a x$ 의

그래프와 함수  $y = \frac{1}{x}$ 의 그래프가 만나는 점을  $A(p, q)$ 라 할

때, <보기>에서 옳은 것만을 있는 대로 고른 것은?

<보 기>

- ㉠.  $pq = 1$
- ㉡.  $a = 2$ 일 때,  $p > \sqrt{2}$ 이다.
- ㉢. 원점  $O$ 와 점  $B(p+q, 0)$ 에 대하여 삼각형  $AOB$ 의 넓이를  $S(p)$ 라 할 때,  $S(p) < \frac{a+1}{2a}$ 이다.

- ① ㉠                      ② ㉠, ㉡                      ③ ㉠, ㉢
- ④ ㉡, ㉢                      ⑤ ㉠, ㉡, ㉢

03 수1

04 로그함수

05 로그함수의 활용

06 활용6 (추론과 해석)

[출처] 2020 모의\_공공 교육청 고2 09월 21

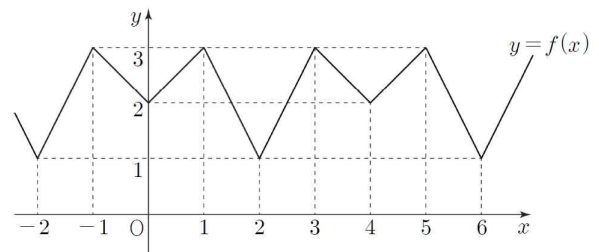
69. 실수 전체의 집합에서 정의된 함수  $f(x)$ 가 다음

조건을 만족시킨다.

$$(가) f(x) = \begin{cases} x+2 & (0 \leq x < 1) \\ -2+5 & (1 \leq x \leq 2) \end{cases}$$

(나) 모든 실수  $x$ 에 대하여  $f(-x) = f(x)$ 이고  $f(x) = f(x+4)$ 이다.

$n$ 이 자연수일 때, 함수  $y = \log_2(x+2n)$ 의 그래프와 함수  $y = f(x)$ 의 그래프가 만나는 서로 다른 모든 점의 개수를  $a_n$ 이라 하자.  $a_1 + a_2 + a_3$ 의 값은?



- ① 532                      ② 535                      ③ 538
- ④ 541                      ⑤ 544

[출처] 2020 모의\_공공 교육청 고3 04월 16

70. 두함수  $f(x)=x^2-6x+11$ ,  $g(x)=\log_3x$ 가 있다. 정수  $k$ 에 대하여

$$k < (g \circ f)(n) < k+2$$

를 만족시키는 자연수  $n$ 의 개수를  $h(k)$ 라 할 때,  $h(0)+h(3)$ 의 값은?

- ① 11                      ② 13                      ③ 15
- ④ 17                      ⑤ 19

[출처] 2021 모의\_공공 교육청 고2 06월 20

71. 자연수  $n$ 에 대하여 직선  $y=1$ 이 곡선  $y=2^x-1$ , 직선  $y=-(1+\log_2n)x+7$ 과 만나는 점을 각각 A, B라 하자. 두 점 A, B 사이의 거리를  $f(n)$ 이라 할 때, <보기>에서 옳은 것만을 있는 대로 고른 것은?

<보 기>

ㄱ.  $f(2)=2$

ㄴ.  $f(n) \geq 1$ 을 만족시키는  $n$ 의 개수는 4이다.

ㄷ.  $|f(n)-1| \geq \frac{2}{3}$ 를 만족시키는  $n$ 의 개수는 245이다.

- ① ㄴ                      ② ㄷ                      ③ ㄱ, ㄴ
- ④ ㄱ, ㄷ                ⑤ ㄱ, ㄴ, ㄷ

[출처] 2022 모의\_공공 평가원 고3 11월

72. 자연수  $n$ 에 대하여 함수  $f(x)$ 를

$$f(x) = \begin{cases} |3^{x+2} - n| & (x < 0) \\ |\log_2(x+4) - n| & (x \geq 0) \end{cases}$$

이라 하자. 실수  $t$ 에 대하여  $x$ 에 대한 방정식  $f(x)=t$ 의 서로 다른 실근의 개수를  $g(t)$ 라 할 때, 함수  $g(t)$ 의 최댓값이 4가 되도록 하는 모든 자연수  $n$ 의 값의 합을 구하시오.

03 수1

04 로그함수

05 로그함수의 활용

07 활용7 (격자점 문제)

[출처] 2021 모의\_공공 교육청 고2 06월 21

73. 상수  $k$ 에 대하여 정의역과 공역이 각각 실수 전체의 집합인 함수

$$f(x) = \begin{cases} 2^{-x-2} & (x < k) \\ -\log_2(x+2) - 2 & (x \geq k) \end{cases}$$

가 일대일대응이다. 함수  $g(x)$ 를

$$g(x) = \begin{cases} \log_2(2-x) + 2 & (x < -k) \\ -2^{x-2} + 2 & (x \geq -k) \end{cases}$$

라 할 때,  $f(a) \leq b \leq g(a)$ 를 만족시키는 정수  $a, b$ 의 모든 순서쌍  $(a, b)$ 의 개수는? (단,  $-2 \leq a \leq 2$ )

- ① 31            ② 33            ③ 35
- ④ 37            ⑤ 39

[수학1] [4로그함수] 교사평경 최근 3개년(빠른 정답)

년도별경향

2022.12.27

- |  |  |
|--|--|
| <p>1. [정답] ①<br/>                 2. [정답] ①<br/>                 3. [정답] ⑤<br/>                 4. [정답] ②<br/>                 5. [정답] <b>24</b></p> <p>6. [정답] ②<br/>                 7. [정답] ③<br/>                 8. [정답] ②<br/>                 9. [정답] ④<br/>                 10. [정답] <b>15</b></p> <p>11. [정답] ③<br/>                 12. [정답] ④<br/>                 13. [정답] ③<br/>                 14. [정답] ⑤<br/>                 15. [정답] ③</p> <p>16. [정답] ⑤<br/>                 17. [정답] <b>75</b><br/>                 18. [정답] ⑤<br/>                 19. [정답] ④<br/>                 20. [정답] ⑤</p> <p>21. [정답] <b>12</b><br/>                 22. [정답] ⑤<br/>                 23. [정답] ③<br/>                 24. [정답] ③<br/>                 25. [정답] ④</p> <p>26. [정답] ②<br/>                 27. [정답] <b>192</b><br/>                 28. [정답] ②<br/>                 29. [정답] ⑤<br/>                 30. [정답] ⑤</p> <p>31. [정답] <b>5</b><br/>                 32. [정답] ④<br/>                 33. [정답] ②<br/>                 34. [정답] ①</p> | <p>35. [정답] ①<br/>                 36. [정답] ①<br/>                 37. [정답] ②<br/>                 38. [정답] ①<br/>                 39. [정답] <b>11</b><br/>                 40. [정답] <b>49</b></p> <p>41. [정답] ⑤<br/>                 42. [정답] <b>16</b><br/>                 43. [정답] <b>11</b><br/>                 44. [정답] <b>12</b><br/>                 45. [정답] ⑤</p> <p>46. [정답] <b>5</b><br/>                 47. [정답] 11<br/>                 48. [정답] 12<br/>                 49. [정답] 24<br/>                 50. [정답] 6</p> <p>51. [정답] 10<br/>                 52. [정답] 7<br/>                 53. [정답] <b>250</b><br/>                 54. [정답] ③<br/>                 55. [정답] ⑤</p> <p>56. [정답] <b>4</b><br/>                 57. [정답] ②<br/>                 58. [정답] ③<br/>                 59. [정답] <b>4</b><br/>                 60. [정답] ①</p> <p>61. [정답] ①<br/>                 62. [정답] ①<br/>                 63. [정답] ④<br/>                 64. [정답] 12<br/>                 65. [정답] 6</p> <p>66. [정답] ②<br/>                 67. [정답] ⑤<br/>                 68. [정답] ⑤<br/>                 69. [정답] ②<br/>                 70. [정답] ③</p> <p>71. [정답] ③</p> |
|--|--|



72. [정답] 33

73. [정답] ①

[수학1] [4로그함수] 교사평경 최근 3개년(해설)

년도별경향

2022.12.27

1) [정답] ①

[해설]

함수  $y = \log_2 x$ 의 그래프를  $x$ 축의 방향으로  $a$ 만큼,  $y$ 축의 방향으로 1만큼 평행이동한 그래프를 나타내는 함수는  $y = \log_2(x-a)+1$ 이다.

이 함수의 그래프가 점  $(9, 3)$ 을 지나므로  $3 = \log_2(9-a)+1$ 에서  $2 = \log_2(9-a)$ 이다.

따라서  $9-a=4, a=5$

2) [정답] ①

[해설]

함수  $y = \log_3 x$ 의 그래프를  $x$ 축의 방향으로 2만큼,  $y$ 축의 방향으로 5만큼 평행이동한 그래프를 나타내는 함수는  $y = \log_3(x-2)+5$ 이다.

이 함수의 그래프가 점  $(5, a)$ 을 지나므로  $a = \log_3(5-2)+5$ 에서  $a = 1+5$ 이다.

따라서  $a=6$

3) [정답] ⑤

[해설]

$7 = a + \log_2 4 = a + 2$ 에서  $a = 5$

4) [정답] ②

[해설]

함수  $y = 2^x - 1$ 의 그래프의 점근선의 방정식이  $y = -1$ 이므로  $y$ 축과의 교점의 좌표는  $(0, -1)$ 이다.

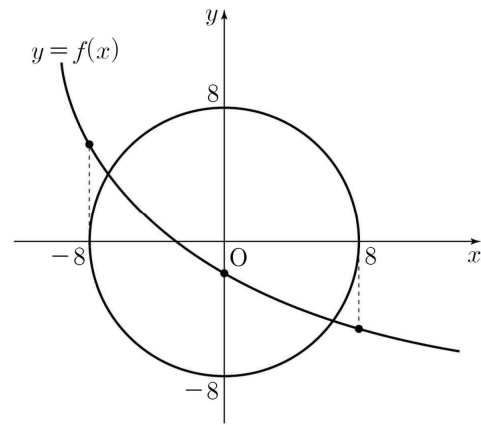
따라서 함수  $y = \log_2(x+k)$ 의 그래프는 점  $(0, -1)$ 을 지난다.

그러므로  $-1 = \log_2 k$ 이고  $k = \frac{1}{2}$ 이다.

5) [정답] 24

[해설]

$x$ 의 값이 증가할 때  $f(x)$ 의 값은 감소하므로 조건 (가)와 (나)를 만족하기 위해서는 두 교점이 제 2사분면과 제 4사분면에 각각 한 개씩 존재해야 한다.



따라서  $-8 < f(0) < 8, f(-8) > 0, f(8) < 0$

(i)  $-8 < f(0) < 8$ 일 때,

$f(0) = 2\log_{\frac{1}{2}}(-7+k)+2$ 이므로

$-8 < 2\log_{\frac{1}{2}}(-7+k)+2 < 8$ 에서  $\frac{57}{8} < k < 39$

(ii)  $f(-8) > 0$ 일 때,

$f(-8) = 2\log_{\frac{1}{2}}(-15+k)+2$ 이므로

$2\log_{\frac{1}{2}}(-15+k)+2 > 0$ 에서  $k < 17$

(iii)  $f(8) < 0$ 일 때,

$f(8) = 2\log_{\frac{1}{2}}(1+k)+2$ 이므로  $2\log_{\frac{1}{2}}(1+k)+2 < 0$ 에서

$k > 1$

(i), (ii), (iii)에 의해서  $\frac{57}{8} < k < 17$ 이다.

따라서  $k$ 의 최댓값  $M=16$ , 최솟값  $m=8$ 이므로

$$M+m=24$$

6) [정답] ②

[해설]

두 양수  $a, b$ 에 대하여  $A(a, \log_2 a), B(b, \log_2 b)$ 라 하자.

선분 AB의 중점  $\left(\frac{a+b}{2}, \frac{\log_2 a + \log_2 b}{2}\right)$ 가  $x$ 축 위에

있으므로  $\frac{\log_2 a + \log_2 b}{2} = 0$ 이다.

따라서  $\log_2 ab = 0$ 이고  $ab = 1$ 이다.

선분 AB를 1 : 2로 외분하는 점  $\left(\frac{b-2a}{1-2}, \frac{\log_2 b - 2\log_2 a}{1-2}\right)$ 가

y축 위에 있으므로  $\frac{b-2a}{1-2} = 0$ 이고  $b = 2a$ 이다.

따라서  $a = \frac{\sqrt{2}}{2}$ ,  $b = \sqrt{2}$  이고,  $A\left(\frac{\sqrt{2}}{2}, -\frac{1}{2}\right)$ ,

$B\left(\sqrt{2}, \frac{1}{2}\right)$ 이다.

그러므로 선분 AB의 길이는  $\frac{\sqrt{6}}{2}$ 이다.

7) [정답] ③

[해설]

ㄱ.  $\log_2 |kx_1| = \log_2(x_1 + 4)$ 에서  $x_1 < 0$ 이므로

$$-kx_1 = x_1 + 4, x_1 = \frac{-4}{k+1}$$

$\log_2 |kx_2| = \log_2(x_2 + 4)$ 에서  $x_2 > 0$ 이므로

$$kx_2 = x_2 + 4, x_2 = \frac{4}{k-1}$$

$x_2 = -2x_1$ 에서

$$\frac{4}{k-1} = \frac{8}{k+1}, k+1 = 2k-2, k=3 \text{ (참)}$$

ㄴ.  $\log_2 |kx_2| = \log_2(-x_2 + m)$ 에서  $x_2 > 0$ 이므로

$$kx_2 = -x_2 + m,$$

$$m = (k+1)x_2 = \frac{4(k+1)}{k-1}$$

$\log_2 |kx_3| = \log_2(-x_3 + m)$ 에서  $x_3 < 0$ 이므로

$$-kx_3 = -x_3 + m,$$

$$x_3 = \frac{-m}{k-1} = \frac{-4(k+1)}{(k-1)^2}$$

그러므로

$$x_1 x_3 = \frac{-4}{k+1} \times \frac{-4(k+1)}{(k-1)^2} = \left(\frac{4}{k-1}\right)^2 = x_2^2 \text{ (참)}$$

ㄷ.  $x_2^2 = x_1 x_3$ 에서  $\frac{x_2}{x_1} = \frac{x_3}{x_2}$

$$\frac{x_2}{x_1} = \frac{-k-1}{k-1} = -1 - \frac{2}{k-1} < -1$$

$$\frac{x_2}{x_1} = r (r < -1) \text{이라 하면 } x_2 = x_1 r, x_3 = x_1 r^2$$

세 점 A, B, C의 y좌표를 각각  $y_1, y_2, y_3$ 이라 하면

두 직선 AB, AC의 기울기의 합이 0이므로

$$\begin{aligned} & \frac{y_2 - y_1}{x_2 - x_1} + \frac{y_3 - y_1}{x_3 - x_1} \\ &= \frac{\log_2 |kx_2| - \log_2 |kx_1|}{x_1(r-1)} + \frac{\log_2 |kx_3| - \log_2 |kx_1|}{x_1(r^2-1)} \end{aligned}$$

$$= \frac{\log_2 \left| \frac{x_2}{x_1} \right|}{x_1(r-1)} + \frac{\log_2 \left| \frac{x_3}{x_1} \right|}{x_1(r^2-1)}$$

$$= \frac{\log_2(-r)}{x_1(r-1)} + \frac{2\log_2(-r)}{x_1(r^2-1)} = 0$$

$$\text{에서 } 1 + \frac{2}{r+1} = 0, r = -3$$

$x_2 = x_1 r$ 에서

$$\frac{4}{k-1} = \frac{12}{k+1}, k+1 = 3k-3, k=2 \text{이고,}$$

$$m = \frac{4(k+1)}{k-1} = 12 \text{이므로 } m+k^2 = 16 \text{ (거짓)}$$

따라서 옳은 것은 ㄱ, ㄴ

8) [정답] ②

[해설]

$y = \log_n x, y = -\log_n(x+3)+1$ 을 연립하면

$$\log_n x = -\log_n(x+3)+1, \log_n x + \log_n(x+3) = 1$$

$$\log_n x(x+3) = 1$$

즉,  $x(x+3) = n$ 이므로  $x^2 + 3x - n = 0$

$f(x) = x^2 + 3x - n$ 이라 하면 문제 조건에서 함수  $y = f(x)$ 의 근이 1보다 크고 2보다 작은 근이 존재한다는 의미이므로  $f(1) < 0, f(2) > 0$ 이어야 한다.

따라서  $f(1) = 4 - n < 0, f(2) = 4 + 6 - n > 0$

즉,  $n > 4, n < 10$ 이므로 만족하는  $n$ 의 범위는  $4 < n < 10$

따라서 만족하는 자연수  $n$ 의 값은  $n = 5, 6, 7, 8, 9$

구하고자 하는  $n$ 의 값의 합은  $5+6+7+8+9 = 35$

9) [정답] ④

[해설]

함수  $y = \log_2(x-a)+1$ 의 그래프가 점  $(7, b)$ 를 지나므로  $b = \log_2(7-a)+1$ 이다.

함수  $y = \log_2(x-a)+1$ 의 그래프의 점근선이  $x = 3$ 이므로

$a=3$ 이고,  $b=\log_2(7-3)+1=3$ 이다.

따라서  $a+b=6$

10) [정답] 15

[해설]

선분 AB를 2 : 1로 외분하는 점의 좌표는

$$\left(\frac{2-a}{2-1}, \frac{2\log_8\sqrt[4]{27}-\log_4b}{2-1}\right)$$

$$\begin{aligned} 2\log_8\sqrt[4]{27}-\log_4b &= \log_8\sqrt{27}-\log_4b \\ &= \log_43-\log_4b \\ &= \log_4\frac{3}{b} \end{aligned}$$

이므로  $\left(\frac{2-a}{2-1}, \frac{2\log_8\sqrt[4]{27}-\log_4b}{2-1}\right) = \left(2-a, \log_4\frac{3}{b}\right)$ 이다.

이 점이 곡선  $y=-\log_4(3-x)$  위에 있으므로

$$\log_4\frac{3}{b} = -\log_4(a+1) = \log_4\frac{1}{a+1}$$

따라서  $b=3(a+1)$ 이다.

집합  $\{n \mid b < 2^n \times a \leq 32b, n \text{은 정수}\}$ 의 원소의 개수는 5이다.

$$\begin{aligned} &\{n \mid b < 2^n \times a \leq 32b, n \text{은 정수}\} \\ &= \{m, m+1, m+2, m+3, m+4\} (m \text{은 정수}) \end{aligned}$$

라 하면  $m+(m+1)+(m+2)+(m+3)+(m+4)=25$ 이므로  $m=3$ 이다.

그러므로  $2 \leq \log_2\frac{b}{a} < 3$ 이다.

$$4 \leq \frac{b}{a} < 8 \text{이고 } b=3(a+1) \text{이므로 } \frac{3}{5} < a \leq 3 \text{이다.}$$

그러므로  $a=1, b=6$  또는  $a=2, b=9$

또는  $a=3, b=12$ 이다.

따라서  $a+b$ 의 최댓값은 15

11) [정답] ③

[해설]

점 P는 두 곡선  $y=\log_2(-x+k), y=-\log_2x$ 의 교점 이므로

$$\log_2(-x_1+k) = -\log_2x_1, -x_1+k = \frac{1}{x_1}$$

즉,  $x_1^2 - kx_1 + 1 = 0$  ..... ㉠

점 R는 두 곡선  $y=-\log_2(-x+k), y=\log_2x$ 의 교점 이므로

$$-\log_2(-x_3+k) = \log_2x_3, \frac{1}{-x_3+k} = x_3$$

즉,  $x_3^2 - kx_3 + 1 = 0$  ..... ㉡

㉠, ㉡에 의해  $x_1, x_3$ 은 이차방정식  $x^2 - kx + 1 = 0$ 의 서로 다른 두 실근이다.

이차방정식의 근과 계수의 관계에서  $x_1x_3 = 1$

그러므로  $x_3 - x_1 = 2\sqrt{3}$ 에서

$$(x_1 + x_3)^2 = (x_3 - x_1)^2 + 4x_1x_3 = (2\sqrt{3})^2 + 4 \times 1 = 16$$

따라서  $x_1 + x_3 = 4$

12) [정답] ④

[해설]

$f(x) = |\log_2(x-k)|$  이므로

$$|\log_2(x-k)| = |\log_2(-x+8)| \text{ ..... ㉠}$$

(i)  $\log_2(x-k) = \log_2(-x+8)$ 일 때,

$$x-k = -x+8$$

$$\therefore x = \frac{k+8}{2}$$

(ii)  $\log_2(x-k) = -\log_2(-x+8)$ 일 때,

$$\log_2(x-k)(-x+8) = 0$$

$$-x^2 + (k+8)x - 8k = 1$$

$$x^2 - (k+8)x + 8k - 1 = 0 \text{ ..... ㉡}$$

곡선  $y=f(x)$ 와 곡선  $y=|\log_2(-x+8)|$ 이 세 점에서

만나기 위해서는 방정식 ㉠이 서로 다른 세 실근을

가져야 하므로 이차방정식 ㉡이 서로 다른 두 실근을

갖는다. 이 두 실근을 각각  $\alpha, \beta$ 라 하면 근과 계수의

관계에서

$$\alpha + \beta = k+8$$

(i), (ii)에서 세 실근의 합이 18을 만족해야 하므로

$$\frac{k+8}{2} + (k+8) = 18, k+8 = 12$$

$$\therefore k = 4$$

[다른 풀이]

$f(x) = |\log_2(x-k)|$  이므로  $y = |\log_2(-x+8)|$ 과

$x = \frac{k+8}{2}$ 에 대하여 대칭이다.

곡선  $y=f(x)$ 와 곡선  $y=|\log_2(-x+8)|$ 이 세 점에서

만나므로 교점의  $x$ 좌표를 각각  $\alpha, \beta, \gamma$  ( $\alpha < \beta < \gamma$ )라 하면

$$\beta = \frac{k+8}{2}, \frac{\alpha+\gamma}{2} = k+8$$

을 만족한다.

따라서  $\alpha + \beta + \gamma = \frac{3}{2}(k+8) = 18, k+8 = 12$

$\therefore k = 4$

13) [정답] ③

[해설]

곡선  $y = \log_4 x$  위의 점 A의 y좌표가 1이므로 점 A의 좌표는 (4, 1)

선분 AB와 x축이 만나는 점을 C라 하면 x축이 삼각형 OAB의 넓이를 이등분하므로 점 C는 선분 AB의 중점이다.

점 B의 y좌표는 -1이고

점 B는 곡선  $y = -\log_4(x+1)$  위의 점이므로

점 B의 좌표는 (3, -1)

따라서  $\overline{OB} = \sqrt{(3-0)^2 + (-1-0)^2} = \sqrt{10}$

14) [정답] ⑤

[해설]

두 점 A, B의 좌표를 각각  $(x_1, y_1), (x_2, y_2)$ 라 하자.

$-\log_2(-x) = \log_2(x+2a)$ 에서

$\log_2(x+2a) + \log_2(-x) = 0$

$\log_2\{-x(x+2a)\} = 0$

$-x(x+2a) = 1$

$x^2 + 2ax + 1 = 0 \dots\dots \textcircled{1}$

이차방정식 ①의 두 실근이  $x_1, x_2$ 이므로

근과 계수의 관계에 의하여

$x_1 + x_2 = -2a, x_1x_2 = 1$

이다. 이때

$y_1 + y_2 = -\log_2(-x_1) - \log_2(-x_2)$

$= -\log_2 x_1 x_2$

$= -\log_2 1 = 0$

이므로 선분 AB의 중점의 좌표는  $(-a, 0)$ 이다.

선분 AB의 중점이 직선  $4x + 3y + 5 = 0$  위에 있으므로

$-4a + 5 = 0$ 에서  $a = \frac{5}{4}$

$a = \frac{5}{4}$ 를 ①에 대입하면

$x^2 + \frac{5}{2}x + 1 = 0, 2x^2 + 5x + 2 = 0$

$(x+2)(2x+1) = 0$

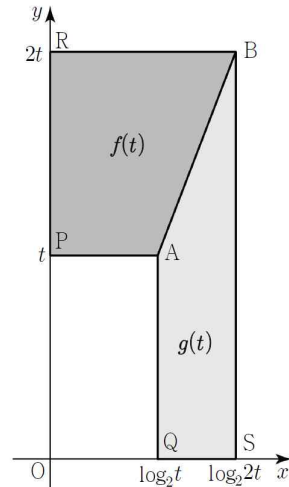
$x = -2$  또는  $x = -\frac{1}{2}$

따라서 두 교점의 좌표는  $(-2, -1), (-\frac{1}{2}, 1)$ 이고

$\overline{AB} = \sqrt{\left(\frac{3}{2}\right)^2 + 2^2} = \frac{5}{2}$

15) [정답] ③

[해설]



두 점 A, B의 좌표는  $(\log_2 t, t), (\log_2 2t, 2t)$ 이므로 두 사각형의 넓이  $f(t), g(t)$ 는

$f(t) = \frac{1}{2}(\log_2 t + \log_2 2t)(2t - t) = \frac{t}{2} \log_2 2t^2$

$g(t) = \frac{1}{2}(t + 2t)(\log_2 2t - \log_2 t) = \frac{3}{2}t$

$\frac{f(t)}{g(t)} = \frac{1}{3} \log_2 2t^2$

$\frac{1}{3} \log_2 2t^2 = n$  ( $n$ 은 자연수)라 하면  $2t^2 = 2^{3n}$ 이므로

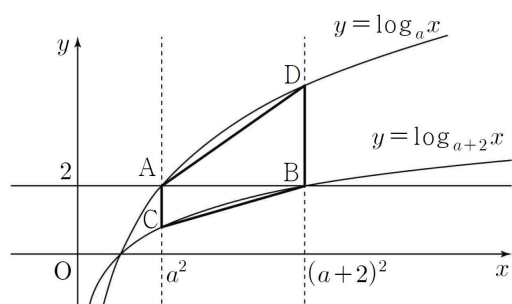
$t = 2^{\frac{3n-1}{2}}$

$1 < t < 100$ 을 만족시키는 자연수  $n$ 의 값은 1, 2, 3, 4

따라서  $t$ 의 값은  $2, 2^{\frac{5}{2}}, 2^4, 2^{\frac{11}{2}}$ 이므로 모든  $t$ 의 값의 곱은  $2^{13}$

16) [정답] ⑤

[해설]



ㄱ. 곡선  $y = \log_a x$ 와 직선  $y = 2$ 가 점 A에서 만나므로  $\log_a x = 2$ 이고  $x = a^2$ 이다. (참)

ㄴ.  $A(a^2, 2), C(a^2, \log_{a+2} a^2)$ 에서  $1 = \overline{AC} = 2 - \log_{a+2} a^2$ 이므로  $\log_{a+2} a^2 = 1$ 이다.

$a+2 = a^2, a^2 - a - 2 = 0$ 에서  $a = -1$  또는  $a = 2$ 이고  $a > 1$ 이므로  $a = 2$ 이다. (참)

ㄷ.  $A(a^2, 2), B((a+2)^2, 2), C(a^2, \log_{a+2} a^2), D((a+2)^2, \log_a(a+2)^2)$ 에서  $\log_a(a+2) = t$ 라 하면

$$\begin{aligned} \frac{S_2}{S_1} &= \frac{\frac{1}{2} \times \overline{AB} \times \overline{BD}}{\frac{1}{2} \times \overline{AB} \times \overline{AC}} = \frac{\overline{BD}}{\overline{AC}} \\ &= \frac{2\log_a(a+2) - 2}{2 - 2\log_{a+2} a} \\ &= \frac{\log_a(a+2) - 1}{1 - \log_{a+2} a} \\ &= \frac{t - 1}{1 - \frac{1}{t}} \\ &= \frac{t(t-1)}{(t-1)} \\ &= t \\ &= \log_a(a+2) \end{aligned} \quad (\text{참})$$

따라서 옳은 것은 ㄱ, ㄴ, ㄷ이다.

17) [정답] 75

[해설]

$\overline{OC} = \overline{CA} = \overline{AB}$ 이므로 점 A의 좌표는  $(k, k)$ 이고, 점 B의 좌표는  $(2k, k)$ 이다.

점 A는 곡선  $y = -\log_a x$  위의 점이므로

$$k = -\log_a k \quad \dots\dots \textcircled{㉠}$$

점 B는 곡선  $y = -\log_a x$  위의 점이므로

$$k = \log_a 2k \quad \dots\dots \textcircled{㉡}$$

㉠과 ㉡을 연립하면  $\log_a 2k^2 = 0$ 에서  $2k^2 = 1$ 이므로  $k = \frac{\sqrt{2}}{2}$

곡선  $y = |\log_a x|$ 와 직선  $y = 2\sqrt{2}$ 가 만나는 두 점의 x좌표를 각각  $\alpha, \beta (\alpha < \beta)$ 라 하면  $-\log_a \alpha = 2\sqrt{2}$ 에서  $\alpha = a^{-2\sqrt{2}}$

$\log_a \beta = 2\sqrt{2}$ 에서  $\beta = a^{2\sqrt{2}}$

㉢에서  $a^k = 2k$ 이므로  $a = (\sqrt{2})^{\sqrt{2}} = 2^{\frac{\sqrt{2}}{2}}$

$$\begin{aligned} d = \beta - \alpha &= a^{2\sqrt{2}} - a^{-2\sqrt{2}} \\ &= \left(2^{\frac{\sqrt{2}}{2}}\right)^{2\sqrt{2}} - \left(2^{\frac{\sqrt{2}}{2}}\right)^{-2\sqrt{2}} \\ &= 2^2 - 2^{-2} = \frac{15}{4} \end{aligned}$$

따라서  $20d = 20 \times \frac{15}{4} = 75$

18) [정답] ⑤

[해설]

$m = 3^x$ 에서  $x = \log_3 m$ 이므로  $A_m(\log_3 m, m)$

$m = \log_2 x$ 에서  $x = 2^m$ 이므로  $B_m(2^m, m)$

그러므로  $\overline{A_m B_m} = 2^m - \log_3 m$

$\overline{A_m B_m}$ 이 자연수이기 위해서는  $m$ 과  $2^m$ 이 자연수이므로  $\log_3 m$ 이 음이 아닌 정수이다.

그러므로  $m = 3^k$ (단,  $k$ 는 음이 아닌 정수이다.)

$m = 3^0$ 일 때,  $a_1 = 2^1 - \log_3 1 = 2$

$m = 3^1$ 일 때,  $a_2 = 2^3 - \log_3 3 = 7$

$m = 3^2$ 일 때,  $a_3 = 2^9 - \log_3 9 = 510$

따라서  $a_3 = 510$

[보충 설명]

위의 풀이에서  $\overline{A_m B_m}$ 이 자연수이기 위해서는  $m = 3^k$  꼴임을 알 수 있다. 이제  $m$ 의 값이  $3^{n-1}$ 에서  $3^n$ 으로 증가하면  $2^m - \log_3 m$ 의 값도 증가함을 보이자.

모든 자연수  $n$ 에 대하여

$$\begin{aligned} &(2^{3^n} - n) - \{2^{3^{n-1}} - (n-1)\} \\ &= 2^{3^n} - 2^{3^{n-1}} - 1 \\ &= 2^{3^{n-1}}(2^3 - 1) - 1 \\ &= 7 \times 2^{3^{n-1}} - 1 \end{aligned}$$

$3^{n-1} \geq 1$ 이므로  $2^{3^{n-1}} \geq 2$ 이다.

그러므로  $7 \times 2^{3^{n-1}} - 1 > 0$

따라서  $2^{3^{n-1}} - (n-1) < 2^{3^n} - n$ 이 성립한다.

19) [정답] ④

[해설]

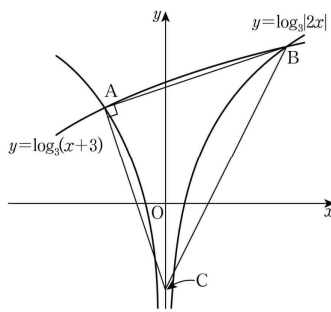
A(1, 0), B(4, 2), C(4,  $\log_a 4$ )에서 삼각형 ABC의 넓이는

$$\frac{1}{2} \times (4-1) \times (2 - \log_a 4) = \frac{9}{2}$$

$\log_a 4 = -1$ 이므로  $a = \frac{1}{4}$

20) [정답] ⑤

[해설]



$x < 0$ 일 때의 교점 A의  $x$ 좌표는 방정식  $\log_3(-2x) = \log_3(x+3)$ 의 근이므로

$$-2x = x+3, 3x = -3, x = -1$$

따라서 점 A의 좌표는 A(-1,  $\log_3 2$ )

$x > 0$ 일 때의 교점 B의  $x$ 좌표는 방정식  $\log_3 2x = \log_3(x+3)$ 의 근이므로  $2x = x+3, x = 3$

따라서 점 B의 좌표는 B(3,  $\log_3 6$ )이다.

두 점 A(-1,  $\log_3 2$ ), B(3,  $\log_3 6$ )에 대하여 직선 AB의 기울기는

$$\frac{\log_3 6 - \log_3 2}{3 - (-1)} = \frac{\log_3 \frac{6}{2}}{4} = \frac{1}{4}$$

이므로 점 A를 지나고 직선 AB와 수직인 직선의 방정식은

$$y - \log_3 2 = -4(x+1)$$

$$y = -4x - 4 + \log_3 2 \quad \dots \textcircled{1}$$

직선 ①이  $y$ 축과 만나는 점 C의 좌표는 C(0,  $-4 + \log_3 2$ )이다.

이때  $\overline{AB} = \sqrt{4^2 + (\log_3 6 - \log_3 2)^2} = \sqrt{17}$ ,

$\overline{AC} = \sqrt{(-1)^2 + 4^2} = \sqrt{17}$ 이므로 직각삼각형 ABC의 넓이를  $S$ 라 하면

$$S = \frac{1}{2} \times \overline{AB} \times \overline{AC} = \frac{1}{2} \times \sqrt{17} \times \sqrt{17} = \frac{17}{2}$$

21) [정답] 12

[해설]

조건 (가)에 의하여 삼각형 ADB의 넓이를  $S$ 라 하면 삼각형 BDC의 넓이는  $3S$ 이다.

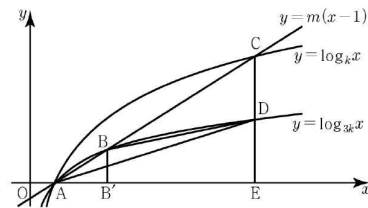
$\overline{AB} : \overline{BC} = 1 : 3$ 에서  $\overline{BC} = 3\overline{AB}$ 이고 점 B에서  $x$ 축에 내린 수선의 발을 B'이라 하면  $\overline{B'E} = 3\overline{AB'}$ 이다.

$\overline{AB'} = a$ 라 하면  $\overline{B'E} = 3a$ 이므로

$$B(a+1, \log_{3k}(a+1)), C(4a+1, \log_k(4a+1)),$$

$$D(4a+1, \log_{3k}(4a+1))$$

이다.



조건 (나)에 의하여 삼각형 AED의 넓이는  $4S$ 이고 삼각형 AEC의 넓이는  $8S$ 이므로 D는 선분 CE의 중점이다.

$$\log_k(4a+1) = 2\log_{3k}(4a+1)$$

$$\frac{\log_k(4a+1)}{\log_k k} = \frac{2\log_k(4a+1)}{\log_k 3k}$$

$\log_k 3k = 2$ 에서  $k^2 = 3k$ 이므로  $k = 3$

세 점 A, B, C가 직선  $y = m(x-1)$ 위에 있으므로

$$m = \frac{\log_9(a+1) - 0}{(a+1) - 1} = \frac{\log_3(4a+1) - 0}{(4a+1) - 1}$$

$$2\log_3(a+1) = \log_3(4a+1)$$

$$(a+1)^2 = 4a+1, a^2 - 2a = 0$$

$a > 0$ 이므로  $a = 2$

$$m = \frac{\log_9 3}{2} = \frac{1}{4}$$

따라서  $\frac{k}{m} = 12$

22) [정답] ⑤

[해설]

점 P의 좌표를  $P(t, a^t)$  ( $t < 0$ )이라 하면 점 P를 직선  $y=x$ 에 대하여 대칭이동시킨 점 Q의 좌표는  $(a^t, t)$ 이다.  $\angle PQR=45^\circ$ 이고 직선 PQ의 기울기가  $-1$ 이므로 두 점 Q, R의  $x$ 좌표는 같다.

즉 점 R의 좌표는  $(a^t, -t)$ 이다.

직선 PR의 기울기는  $\frac{1}{7}$ 이므로  $\frac{a^t+t}{t-a^t} = \frac{1}{7}$ 에서

$$a^t = -\frac{3}{4}t \quad \dots\dots \textcircled{㉑}$$

$$\overline{PR} = \frac{5\sqrt{2}}{2} \text{이므로 } \sqrt{(t-a^t)^2 + (a^t+t)^2} = \frac{5\sqrt{2}}{2}$$

$$a^{2t} + t^2 = \frac{25}{4} \quad \dots\dots \textcircled{㉒}$$

$\textcircled{㉑}, \textcircled{㉒}$ 에서  $t^2=4$ 이고  $t < 0$ 이므로  $t=-2$

$$\textcircled{㉑} \text{에 대입하면 } \frac{1}{a^2} = \frac{3}{2} \text{이고 } a > 0 \text{이므로 } a = \frac{\sqrt{6}}{3}$$

23) [정답] ③

[해설]

ㄱ. 점 A의  $x$ 좌표는  $\log_a x = 1$ 에서  $x=a$ 이므로  $A(a, 1)$   
 또 점 B의  $x$ 좌표는  $\log_{4a} x = 1$ 에서  $x=4a$ 이므로  $B(4a, 1)$

그러므로 선분 AB를 1:4로 외분하는 점의 좌표는  $\left(\frac{1 \times 4a - 4 \times a}{1-4}, \frac{1 \times 1 - 4 \times 1}{1-4}\right)$ , 즉  $(0, 1)$ 이다. (참)

ㄴ. 사각형 ABCD가 직사각형이면 선분 AB가  $x$ 축과 평행하므로 두 점 A, D의  $x$ 좌표는 같아야 한다.

한편, 점 D의  $x$ 좌표는  $\log_{4a} x = -1$ 에서  $x = \frac{1}{4a}$ 이므로

$$D\left(\frac{1}{4a}, -1\right)$$

이때  $A(a, 1)$ 이고  $\frac{1}{4} < a < 1$ 이므로

$$a = \frac{1}{4a}, a^2 = \frac{1}{4}, a = \frac{1}{2} \text{ (참)}$$

ㄷ. 점 C의  $x$ 좌표는  $\log_a x = -1$ 에서  $x = \frac{1}{a}$ 이므로

$$C\left(\frac{1}{a}, -1\right)$$

그러므로  $\overline{AB} < \overline{CD}$ 이면

$$4a - a < \frac{1}{a} - \frac{1}{4a}, 3a < \frac{3}{4a}, a^2 < \frac{1}{4}$$

이때  $\frac{1}{4} < a < 1$ 이므로  $\frac{1}{4} < a < \frac{1}{2}$  (거짓)

이상에서 옳은 것은 ㄱ, ㄴ이다.

24) [정답] ③

[해설]

직선  $x=k$ 가  $x$ 축과 만나는 점을 E라 하면 삼각형 ACB와 삼각형 BCD의 넓이의 비가 3:2이므로

$$\frac{1}{2} \times \overline{CB} \times \overline{AB} : \frac{1}{2} \times \overline{CB} \times \overline{BE} = 3 : 2 \text{이다.}$$

$$\overline{AB} : \overline{BE} = 3 : 2 \text{이므로 } \overline{BE} = \frac{2}{5} \overline{AE} \text{이다.}$$

$$\overline{BE} = \log_a k, \overline{AE} = \log_2 k \text{이므로}$$

$$\log_a k = \frac{2}{5} \log_2 k \text{에서 } a = 2^{\frac{5}{2}} = 4\sqrt{2}$$

25) [정답] ④

[해설]

직선  $y=-2$ 와 함수  $y=f(x)$ 의 그래프가 만나는 점이 A이므로

$$-2 = \frac{1}{2} \log_a(x-1) - 2 \text{에서 } x=2$$

즉,  $A(2, -2)$

$B\left(10, \frac{1}{2} \log_a 9 - 2\right), C(10, -\log_a 8 + 1)$ 이고, 점 A와 직선

$x=10$  사이의 거리는 8이므로 삼각형 ACB의 넓이는

$$\frac{1}{2} \times 8 \times \left\{ \left( \frac{1}{2} \log_a 9 - 2 \right) - (-\log_a 8 + 1) \right\} \\ = 4 \times (\log_a 24 - 3) = 28$$

따라서  $\log_a 24 = 10$ 이므로  $a^{10} = 24$

26) [정답] ②

[해설]

두 곡선  $y=f(x), y=g(x)$ 의 점근선의 방정식은 각각  $x=p, y=1$ 이므로

$$A(p, 2^p + 1), B(p, 0), C(p+2, 1)$$

$$(\text{삼각형 ABC의 넓이}) = \frac{1}{2} \times (2^p + 1) \times 2 = 2^p + 1$$

삼각형 ABC의 넓이가 6이므로

$$2^p + 1 = 6, 2^p = 5$$

따라서  $p = \log_2 5$



27) [정답] 192

[해설]

곡선  $y = a^{x-1}$ 은 곡선  $y = a^x$ 을  $x$ 축의 방향으로 1만큼 평행이동한 것이고, 곡선  $y = \log_a(x-1)$ 은 곡선  $y = \log_a x$ 를  $x$ 축의 방향으로 1만큼 평행이동한 것이므로 두 곡선  $y = a^{x-1}$ ,  $y = \log_a(x-1)$ 은 직선  $y = x-1$ 에 대하여 대칭이다.

즉, 두 직선  $y = -x+4$ ,  $y = x-1$ 의 교점을 M이라 하면 점 M의 좌표는  $M\left(\frac{5}{2}, \frac{3}{2}\right)$ 이고, 점 M은 선분 AB의 중점이므로  $\overline{AM} = \sqrt{2}$ 이다.

점 A의 좌표를  $(k, -k+4)$ 라 하면  $\left(k - \frac{5}{2}\right)^2 + \left(-k + \frac{5}{2}\right)^2 = 2$ 에서  $k = \frac{3}{2}$

즉,  $A\left(\frac{3}{2}, \frac{5}{2}\right)$ 이므로

$$\frac{5}{2} = a^{\frac{3}{2}-1}, a^{\frac{1}{2}} = \frac{5}{2}, a = \frac{25}{4}$$

이때 점 C의 좌표는  $\left(0, \frac{1}{a}\right)$ , 즉  $\left(0, \frac{4}{25}\right)$ 이고, 점 C에서 직선  $y = -x+4$ 에 내린 수선의 발을 H라 하면 선분 CH의 길이는 점 C와 직선  $y = -x+4$  사이의 거리와 같으므로

$$\overline{CH} = \frac{\left|0 + \frac{4}{25} - 4\right|}{\sqrt{2}} = \frac{48\sqrt{2}}{25}$$

따라서 삼각형 ABC의 넓이는

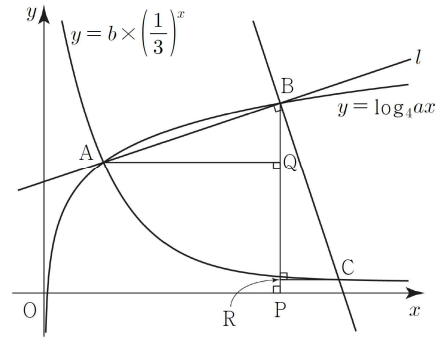
$$\begin{aligned} S &= \frac{1}{2} \times \overline{AB} \times \overline{CH} \\ &= \frac{1}{2} \times 2\sqrt{2} \times \frac{48\sqrt{2}}{25} \\ &= \frac{96}{25} \end{aligned}$$

이므로  $50 \times S = 50 \times \frac{96}{25} = 192$

28) [정답] ②

[해설]

점 B에서  $x$ 축에 내린 수선의 발을 P, 점 A에서 선분 BP에 내린 수선의 발을 Q, 점 C에서 선분 BP에 내린 수선의 발을 R라 하자.



ㄱ. 직선  $l$ 의 기울기가  $\frac{1}{3}$ 이므로

$$\frac{\overline{BQ}}{\overline{AQ}} = \frac{y_2 - y_1}{x_2 - x_1} = \frac{1}{3}, y_2 - y_1 = \frac{1}{3}(x_2 - x_1)$$

$$\overline{AB} = \sqrt{(x_2 - x_1)^2 + (y_2 - y_1)^2} = \sqrt{10}$$

$$\frac{10}{9}(x_2 - x_1)^2 = 10, (x_2 - x_1)^2 = 9$$

$x_1 < x_2$ 이므로  $x_2 - x_1 = 3$  (참)

ㄴ.  $\angle AQB = \angle BRC = \frac{\pi}{2}$ 이고

$\angle ABQ + \angle CBR = \angle CBR + \angle BCR = \frac{\pi}{2}$ 이므로

$$\angle ABQ = \angle BCR$$

$\overline{AB} = \overline{BC} = \sqrt{10}$ 이므로 두 삼각형 ABQ와 BCR는 합동이다.

$$\overline{AQ} = \overline{BR} = 3, \overline{BQ} = \overline{CR} = 1$$

$$x_3 - x_1 = \overline{AQ} + \overline{CR} = 3 + 1 = 4$$

$$y_1 - y_3 = \overline{QR} = \overline{BR} - \overline{BQ} = 3 - 1 = 2$$

$$x_3 - x_1 = 2(y_1 - y_3) = 4$$
 (참)

ㄷ. ㄱ에 의하여  $A(x_1, y_1)$ ,  $B(x_1+3, y_1+1)$

두 점 A, B는 곡선  $y = \log_4 ax$ 위에 있으므로

$$y_1 = \log_4 ax_1 \quad \dots \textcircled{㉠}$$

$$y_1 + 1 = \log_4 a(x_1 + 3) \quad \dots \textcircled{㉡}$$

점 A는 곡선  $y = b \times \left(\frac{1}{3}\right)^x$ 위에 있으므로

$$y_1 = \frac{b}{3^{x_1}} \quad \dots \textcircled{㉢}$$

㉠, ㉡을 연립하면  $1 = \log_4 \frac{x_1+3}{x_1}$ ,  $x_1 = 1$

㉠, ㉢에 의하여  $\log_4 a = \frac{b}{3}$ ,  $a = 4^{\frac{b}{3}}$

$$a^2 = 4^{\frac{2}{3}b} \quad (\text{거짓})$$

따라서 옳은 것은 ㄱ, ㄴ이다.

[참고]

점  $C(x_1+4, y_1-2)$ 는 곡선  $y = b \times \left(\frac{1}{3}\right)^x$ 위에 있고  $x_1 = 1$ ,

$$y_1 = \frac{b}{3} \text{이므로 } \frac{b}{3} - 2 = b \times 3^{-5} \text{에서 } b = \frac{243}{40}$$

$$a = 4^{\frac{b}{3}} = 4^{\frac{81}{40}} = 2^{\frac{81}{20}}$$

29) [정답] ⑤

[해설]

점 A의 좌표는  $(k, 2^{k-1} + 1)$ 이고  $\overline{AB} = 8$ 이므로 점 B의 좌표는  $(k, 2^{k-1} - 7)$ 이다.

직선 BC의 기울기가  $-1$ 이고  $\overline{BC} = 2\sqrt{2}$ 이므로 두 점 B, C의  $x$ 좌표의 차와  $y$ 좌표의 차는 모두 2이다.

따라서 점 C의 좌표는  $(k-2, 2^{k-1} - 5)$ 이다.

한편 점 C는 곡선  $y = 2^{x-1} + 1$  위의 점이므로

$$2^{k-3} + 1 = 2^{k-1} - 5$$

$$\frac{1}{2} \times 2^k - \frac{1}{8} \times 2^k = 6, 2^k = 16$$

$$k = 4$$

즉,  $A(4, 9), B(4, 1), C(2, 3)$ 이다.

점 B가 곡선  $y = \log_2(x-a)$  위의 점이므로  $1 = \log_2(4-a)$ ,

$$4-a=2, a=2$$

점 D의  $x$ 좌표는  $x-2=1$ 에서 3

사각형 ACDB의 넓이는 두 삼각형 ACB, CDB의 넓이의

합이고  $\overline{BC} \perp \overline{BD}$ 이므로

$$\frac{1}{2} \times 8 \times 2 + \frac{1}{2} \times 2\sqrt{2} \times \sqrt{2} = 10$$

30) [정답] ⑤

[해설]

두 점 A, B의 좌표를 각각

$A(a, \log_2 2a), B(b, \log_2 4b) (a < b)$ 라 하자.

직선 AB의 기울기가  $\frac{1}{2}$ 이므로

$$\frac{\log_2 4b - \log_2 2a}{b-a} = \frac{1}{2} \text{에서}$$

$$\log_2 4b - \log_2 2a = \frac{1}{2}(b-a)$$

$$\overline{AB} = \sqrt{(b-a)^2 + (\log_2 4b - \log_2 2a)^2}$$

$$= \sqrt{(b-a)^2 + \frac{1}{4}(b-a)^2}$$

$$= \frac{\sqrt{5}}{2} \times (b-a) = 2\sqrt{5}$$

$$b-a=4 \quad \dots\dots \textcircled{1}$$

$$\log_2 4b - \log_2 2a = \log_2 \frac{2b}{a} = 2, b=2a \dots\dots \textcircled{2}$$

두 식 ①, ②을 연립하면  $a=4, b=8$

$A(4, 3), B(8, 5), C(4, 0)$

따라서 삼각형 ACB의 넓이는  $\frac{1}{2} \times 3 \times 4 = 6$

31) [정답] 5

[해설]

함수  $y = \log_2(x+1) + 2$ 는  $x$ 의 값이 증가하면  $y$ 의 값도 증가한다.

따라서 함수  $y = \log_2(x+1) + 2$ 는  $x=7$ 일 때 최댓값 5를 갖는다.

32) [정답] ④

[해설]

함수  $f(x) = 2\log_{\frac{1}{2}}(x+k)$ 는 감소함수이므로

단현구간  $[0, 12]$ 에서 함수  $f(x)$ 의 최댓값은  $f(0)$ , 최솟값은  $f(12)$ 이다.

$$f(0) = 2\log_{\frac{1}{2}} k = -4 \text{이므로 } \log_{\frac{1}{2}} k = -2, k = \left(\frac{1}{2}\right)^{-2} = 4$$

$$f(12) = 2\log_{\frac{1}{2}}(12+4) = -2\log_2 16 = -8 \text{이므로 } m = -8$$

따라서  $k+m = 4 + (-8) = -4$

33) [정답] ②

[해설]

$0 \leq x \leq 5$ 에서 함수  $f(x) = \log_3\{(x-3)^2 + k-9\}$ 는

$x=0$ 일 때, 최댓값  $\log_3 k$ ,

$x=3$ 일 때, 최솟값  $\log_3(k-9)$ 를 갖는다.

$$\log_3 k + \log_3(k-9) = 2 + \log_3 4$$

$$\log_3 k(k-9) = \log_3 36$$

$$k^2 - 9k - 36 = 0, (k-12)(k+3) = 0$$

$k > 9$ 이므로  $k=12$

34) [정답] ①

[해설]

$\angle A = 90^\circ$  이고  $\overline{AB} = 2\log_2 x, \overline{AC} = \log_4 \frac{16}{x}$  인 삼각형 ABC의

넓이를  $S(x)$ 는

$$\begin{aligned}
 S(x) &= \frac{1}{2} \times \overline{AB} \times \overline{AC} \\
 &= \frac{1}{2} \times 2\log_2 x \times \log_4 \frac{16}{x} \\
 &= \frac{1}{2} \times 2\log_2 x \times \frac{1}{2} (\log_2 16 - \log_2 x) \\
 &= \frac{1}{2} \times \log_2 x \times (4 - \log_2 x) \quad (1 < x < 16)
 \end{aligned}$$

식에서  $\log_2 x = t$ 로 치환하면

$$\begin{aligned}
 f(t) &= \frac{1}{2} t(4-t) \quad (0 < t < 4) \\
 &= \frac{1}{2} (t-2)^2 + 2
 \end{aligned}$$

따라서  $t=2$ 일 때,  $f(t)$ 가 최댓값 2를 갖는다.

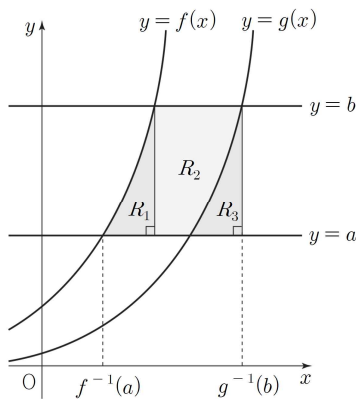
즉  $\log_2 x = 2$ ,  $x=4$ 일 때,  $S(x)$ 는 최댓값 2를 갖는다.

따라서  $a=4$ ,  $M=2$ 이므로  $a+M=6$

35) [정답] ①

[해설]

두 함수  $f(x)=2^x$ ,  $g(x)=2^{x-2}$ 의 그래프는 다음과 같다.



세 영역  $R_1, R_2, R_3$ 의 넓이를 각각  $S_1, S_2, S_3$ 이라 하자.

함수  $g(x)$ 의 그래프는 함수  $f(x)$ 의 그래프를  $x$ 축의 방향으로 2만큼 평행이동한 것이므로  $S_1 = S_3$

조건 (가)에서

$$S_1 + S_2 = S_3 + S_2 = 2 \times (b-a) = 6$$

$$b-a=3 \quad \dots\dots \textcircled{1}$$

조건 (나)에서

$f^{-1}(a)=p$ ,  $g^{-1}(b)=q$  ( $p, q$ 는 실수)라 하면

$$2^p = a, \quad 2^{q-2} = b$$

$$p = \log_2 a, \quad q = \log_2 b + 2 = \log_2 4b$$

$$q-p = \log_2 4b - \log_2 a = \log_2 \frac{4b}{a} = \log_2 6$$

$$3a = 2b \quad \dots\dots \textcircled{2}$$

①, ②을 연립하여 풀면  $a=6$ ,  $b=9$

$$a+b=15$$

36) [정답] ①

[해설]

함수  $y=3^x - a$ 의 역함수의 그래프가 두 점  $(3, \log_3 b)$ ,  $(2b, \log_3 12)$ 를 지나므로 함수  $y=3^x - a$ 의 그래프는 두 점  $(\log_3 b, 3)$ ,  $(\log_3 12, 2b)$ 를 지난다.

따라서  $3=3^{\log_3 b} - a$ ,  $2b=3^{\log_3 12} - a$ 이다.

$3=b-a$ ,  $2b=12-a$ 에서  $a=2$ 이고  $b=5$ 이다.

$$\therefore a+b=7$$

37) [정답] ②

[해설]

함수  $g(x)$ 는 함수  $f(x)=\log_2(x+a)+b$ 의 역함수이므로

$$g(x) = 2^{x-b} - a$$

곡선  $y=g(x)$ 의 점근선이 직선  $y=-a$ 이므로

$$a=-1$$

곡선  $y=g(x)$ 가 점  $(3, 2)$ 를 지나므로

$$g(3) = 2^{3-b} + 1 = 2 \text{에서}$$

$$b=3$$

따라서  $a+b=-1+3=2$

38) [정답] ①

[해설]

함수  $y=\log_3(2x+1)$ 의 그래프가 점  $(a, 4)$ 를 지나므로

$$4 = \log_3(2a+1), \quad 2a+1 = 3^4$$

따라서  $a=40$

39) [정답] 11

[해설]

함수  $y = \log_2 x$ 의 그래프를  $x$ 축의 방향으로  $m$ 만큼  
 평행이동한 그래프는  $y = \log_2(x-m)$ 이고 이 그래프를 직선  
 $y = x$ 에 대하여 대칭이동한 그래프는  $y = 2^x + m$ 이다.

$f(x) = 2^x + m$ 이고 함수  $y = f(x)$ 의 그래프는 점 (1, 5)를  
 지나므로  $5 = 2 + m$ 에서  $m = 3$ 이다.

따라서  $f(3) = 2^3 + 3 = 11$

40) [정답] 49

[해설]

직선  $y = -x + 5$ 의 기울기가  $-1$ 이고 곡선  $y = \log_a x$ 를  $x$ 축의  
 방향으로 1만큼,  $y$ 축의 방향으로  $-1$ 만큼 평행이동한 것이  
 곡선  $y = \log_a(x-1) - 1$ 이므로 점 B를  $x$ 축의 방향으로 1만큼,  
 $y$ 축의 방향으로  $-1$ 만큼 평행이동한 점이 C이다.

$\overline{BC} = \sqrt{2}$ 이고  $\overline{AB} : \overline{BC} = 2 : 1$ 이므로  $\overline{AB} = 2\sqrt{2}$ 이다.

점 A의  $x$ 좌표를  $t$ 라 하면  $A(t, 5-t)$ 이고 두 함수  $y = a^x$ ,  
 $y = \log_a x$ 는 역함수 관계이므로  $B(5-t, t)$ 이다. 그런데  
 $\overline{AB} = 2\sqrt{2}$ 이므로 두 점 A, B의  $x$ 좌표의 차는 2이고

$(5-t) - t = 2$ , 즉  $t = \frac{3}{2}$ 이다.

점  $A(\frac{3}{2}, \frac{7}{2})$ 이 곡선  $y = a^x$  위의 점이므로

$a^{\frac{3}{2}} = \frac{7}{2}$ , 즉  $a^3 = \frac{49}{4}$ 이다.

따라서  $4a^3 = 49$

41) [정답] ⑤

[해설]

ㄱ. 두 곡선  $y = 2^x$ 과  $y = \log_2 x$ 는

직선  $y = x$ 에 대하여 서로 대칭이므로

$x_1 = y_2, y_1 = x_2, OA = OB$

삼각형 OAB의 넓이가 삼각형 OAC의 넓이의 2배이므로

$\overline{OC} = \frac{1}{2}\overline{OB} = \frac{1}{2}\overline{OA}$  (참)

ㄴ. 점 C는 선분 OB의 중점이므로

$x_3 = \frac{1}{2}x_2, y_3 = \frac{1}{2}y_2$

$x_2 = y_1 = 2x_3$

$x_2 + y_1 = 2y_1 = 4x_3$  (참)

ㄷ.  $y_2 = 2^{x_2}, y_3 = (\frac{1}{2})^{x_3}$

세 점 O, B, C는 직선  $l$  위의 점이므로

직선  $l$ 의 기울기는  $\frac{y_2}{x_2} = \frac{y_3}{x_3}, \frac{2^{x_2}}{x_2} = \frac{(\frac{1}{2})^{x_3}}{x_3}$

㉠에서  $x_2 = 2x_3$ 이므로

$\frac{2^{2x_3}}{2x_3} = \frac{2^{-x_3}}{x_3}, 2^{2x_3-1} = 2^{-x_3}$

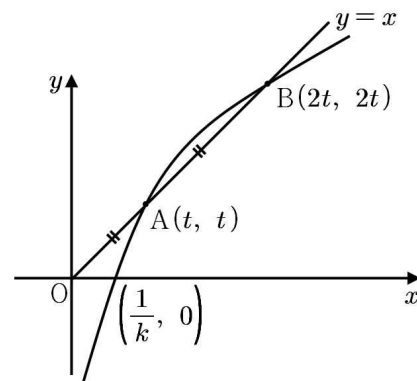
$2x_3 - 1 = -x_3$ 이므로  $x_3 = \frac{1}{3}$

직선  $l$ 의 기울기는  $\frac{y_3}{x_3} = \frac{(\frac{1}{2})^{x_3}}{x_3} = 3 \times (\frac{1}{2})^{\frac{1}{3}}$  (참)

따라서 옳은 것은 ㄱ, ㄴ, ㄷ

42) [정답] 16

[해설]



그림과 같이  $\overline{OA} = \overline{OB}$ 이고, 두 점 A, B가  $y = x$  위의  
 점이므로

두 점 A, B의 좌표는  $A(t, t), B(2t, 2t)$ 이다.

$y = \log_2 kt$ 에 점  $(t, t), (2t, 2t)$ 를 대입하면

$t = \log_2 kt$  ..... ㉠

$2t = \log_2 2kt$  ..... ㉡

㉠×2를 하면  $2t = 2\log_2 kt$

$\therefore 2t = \log_2 (kt)^2$  ..... ㉢

㉡과 ㉢를 연립하면  $\log_2 2kt = \log_2 (kt)^2$ ,

$(kt)^2 = 2kt, kt = 2 (\because kt > 0)$

㉠에서  $kt = 2$ 이므로  $t = \log_2 2 = 1$

$\therefore k = 2$

$\therefore f(x) = \log_2 2x$

$g(x)$ 는  $f(x)$ 의 역함수이므로  $g(5) = a$ 로 놓으면

$f(a) = 5$ 이므로

$\log_2 2a = 5, 2a = 2^5$

$\therefore a = 16$

따라서  $g(5) = 16$

43) [정답] 11

[해설]

방정식  $\log_2(x+5)=4$ 에서  $x+5=2^4$ 이다.  
 $x=16-5$ 이므로  $x=11$ 이다.

44) [정답] 12

[해설]

진수 조건에 의하여  $x > 0$ 이고  $2x-3 > 0$ 이므로

$$x > \frac{3}{2} \quad \dots\dots \textcircled{1}$$

$\log_2 x = 1 + \log_4(2x-3)$ 에서

$$\log_4 x^2 = \log_4 4(2x-3)$$

$$x^2 = 4(2x-3), \quad x^2 - 8x + 12 = 0$$

$$(x-2)(x-6) = 0$$

따라서  $\textcircled{1}$ 을 만족하는  $x$ 의 값은  $x=2$  또는  $6$ 이므로 실수  $x$ 의 값의 곱은  $2 \times 6 = 12$

45) [정답] ⑤

[해설]

$\log_3 x = t$ 라 하면  $\log_{27} x = \frac{1}{3}t$ 이므로

$$(\text{좌변}) = \log_3(\log_{27} x) = \log_3\left(\frac{1}{3}t\right) = \log_{27}\left(\frac{1}{3}t\right)^3$$

$$(\text{우변}) = \log_{27} t$$

$$\therefore \frac{1}{27}t^3 = t, \quad t^2 = 27$$

$$\therefore (\log_3 x)^2 = 27$$

46) [정답] 5

[해설]

$\log_3(x-2)=1$ 에서  $x-2=3$ 이다.

따라서  $x=5$

47) [정답] 11

[해설]

$x-3, x-10$ 은 로그의 진수이므로

$$x-3 > 0, \quad x-10 > 0 \text{에서 } x > 10$$

방정식  $2\log_4(x-3) + \log_2(x-10) = 3$ 에서

$$\log_2(x-3) + \log_2(x-10) = \log_2 8$$

$$\log_2(x-3)(x-10) = \log_2 8$$

$$(x-3)(x-10) = 8$$

$$(x-2)(x-11) = 0 \text{에서 } x=2 \text{ 또는 } x=11$$

따라서  $x > 10$ 이므로  $x=11$

48) [정답] 12

[해설]

진수 조건에 의해  $x+4 > 0, x-4 > 0$

$$\therefore x > 4$$

$$\log_2(x+4) + \log_{\frac{1}{2}}(x-4) = \log_2(x+4) - \log_2(x-4)$$

$$= \log_2 \frac{x+4}{x-4} = 1$$

$$\text{따라서 } \frac{x+4}{x-4} = 2 \text{이므로 } 2x-8 = x+4$$

$$\therefore x = 12$$

49) [정답] 24

[해설]

진수 조건에 의해  $x > -1$ 이고

$$\log_5(x+1) = 2 \text{에서 } x+1 = 5^2 \text{이므로 } x = 24$$

50) [정답] 6

[해설]

진수조건에서

$$x+2 > 0 \text{이고 } x-2 > 0$$

이어야 하므로

$$x > 2 \dots \textcircled{1}$$

$$\log_2(x+2) + \log_2(x-2)$$

$$= \log_2(x+2)(x-2)$$

$$= \log_2(x^2-4)$$

$$= 5$$

에서

$$x^2-4 = 2^5$$

$$x^2 = 36 \dots \textcircled{2}$$

㉠, ㉡에서

$$x = 6$$

51) [정답] 10

[해설]

$$\log_2(3x+2) = 2 + \log_2(x-2) \text{에서}$$

$$3x+2 > 0, x-2 > 0 \text{ 이므로 } x > 2$$

$$\log_2(3x+2) = \log_2 2^2 + \log_2(x-2)$$

$$\log_2(3x+2) = \log_2 4(x-2)$$

이므로

$$3x+2 = 4(x-2)$$

$$\therefore x = 10$$

52) [정답] 7

[해설]

$$\log_3(x-4) = \log_9(x+2) \text{에서 진수 조건은 } x > 4, x > -2 \text{이다.}$$

$$\text{따라서 } x > 4$$

$$\text{로그의 성질에 의하여 } \log_3(x-4) = \log_{3^2}(x-4)^2 \text{이므로}$$

$$\log_9(x-4)^2 = \log_9(x+2) \text{에서}$$

$$(x-4)^2 = (x+2)$$

$$x^2 - 9x + 14 = 0$$

$$(x-2)(x-7) = 0$$

$$\text{따라서 } x = 7 (\because x > 4)$$

53) [정답] 250

[해설]

$$\log a = A, \log b = B, \log c = C \text{라 하고 준 식을 정리하면}$$

$$A + B - \log 2 = AB \quad \dots\dots \text{㉠}$$

$$B + C - \log 2 = BC \quad \dots\dots \text{㉡}$$

$$C + A = CA \quad \dots\dots \text{㉢}$$

$$(\text{단, } A > 1, B > 1, C > 1)$$

$$\text{㉠}-\text{㉡에서 } A - C = B(A - C) \text{이므로 } A = C (\because B > 1)$$

$$\text{㉢에 대입하면 } 2C = C^2 \text{ 즉, } C = 2 (\because C > 1)$$

$$\therefore A = 2$$

$$\text{㉠에 대입하면 } 2 + B - \log 2 = 2B$$

$$\therefore B = \log 50$$

$$\log a = 2 \text{에서 } a = 100$$

$$\log b = \log 50 \text{에서 } b = 50$$

$$\log c = 2 \text{에서 } c = 100$$

$$\therefore a + b + c = 250$$

[다른 풀이]

$$\log a = A, \log b = B, \log c = C \text{라 하면}$$

$$\log \frac{ab}{2} = (\log a)(\log b) \text{에서}$$

$$A + B - \log 2 = AB, (A - 1)(B - 1) = \log 5 \quad \dots\dots \text{㉠}$$

$$\log \frac{bc}{2} = (\log b)(\log c) \text{에서}$$

$$B + C - \log 2 = BC, (B - 1)(C - 1) = \log 5 \quad \dots\dots \text{㉡}$$

$$\log(ca) = (\log c)(\log a) \text{에서}$$

$$C + A = CA, (C - 1)(A - 1) = 1 \quad \dots\dots \text{㉢}$$

㉠, ㉡, ㉢을 변끼리 곱하면

$$\{(A - 1)(B - 1)(C - 1)\}^2 = (\log 5)^2$$

$$A > 1, B > 1, C > 1 \text{이므로}$$

$$(A - 1)(B - 1)(C - 1) = \log 5 \quad \dots\dots \text{㉣}$$

$$\text{㉣} \div \text{㉠을 하면 } C - 1 = 1, \log c = 2$$

$$\therefore c = 100$$

$$\text{㉣} \div \text{㉡을 하면 } A - 1 = 1, \log a = 2$$

$$\therefore a = 100$$

$$\text{㉣} \div \text{㉢을 하면 } B - 1 = \log 5, \log b = \log 50$$

$$\therefore b = 50$$

$$\text{이상에서 } a + b + c = 250$$

54) [정답] ③

[해설]

$$(i) 0 < t < 1 \text{일 때, } \frac{1}{t} > 1 \text{이므로}$$

$$f(t) + f\left(\frac{1}{t}\right) = 0 + \log_3 \frac{1}{t} = 2 \text{에서 } t = \frac{1}{9} \text{이다.}$$

$$(ii) t = 1 \text{일 때, } f(t) + f\left(\frac{1}{t}\right) = 0 \neq 2$$

$$(iii) t > 1 \text{일 때, } 0 < \frac{1}{t} < 1 \text{이므로}$$

$$f(t) + f\left(\frac{1}{t}\right) = \log_3 t + 0 = 2 \text{에서 } t = 9 \text{이다.}$$

따라서  $f(t) + f\left(\frac{1}{t}\right) = 2$ 를 만족시키는 모든 양수  $t$ 의 값의 합은

$$\frac{1}{9} + 9 = \frac{82}{9}$$

55) [정답] ⑤

[해설]

진수 조건에 의해

$$n^2 - 9n + 18 > 0, (n-6)(n-3) > 0$$

$$n < 3 \text{ 또는 } n > 6 \quad \dots\dots \textcircled{㉠}$$

$\log_{18}(n^2 - 9n + 18) < 1$ 에서  $n^2 - 9n + 18 < 18$ 이므로

$$n^2 - 9n < 0, n(n-9) < 0$$

$$0 < n < 9 \quad \dots\dots \textcircled{㉡}$$

$\textcircled{㉠}, \textcircled{㉡}$ 을 모두 만족시키는  $n$ 의 값의 범위는

$$0 < n < 3 \text{ 또는 } 6 < n < 9$$

이를 만족시키는 자연수는 1, 2, 7, 8이므로 구하는 모든 자연수  $n$ 의 값의 합은  $1+2+7+8=18$

56) [정답] 4

[해설]

$\log_{\frac{1}{3}}(2x-5)$ 에서 진수조건에 의해  $2x-5 > 0$ 이므로  $x > \frac{5}{2}$

$2 + \log_{\frac{1}{3}}(2x-5) > 0$ 이므로  $\log_{\frac{1}{3}}(2x-5) > -2$

$$2x-5 < 9, 2x < 14$$

$$\therefore x < 7$$

$$\therefore \frac{5}{2} < x < 7$$

따라서 만족하는 정수  $x$ 는 3, 4, 5, 6 이고, 개수는 4 개다.

57) [정답] ②

[해설]

$$\log 3x < 2, \log 3x < \log 100$$

상용로그의 밑이 1보다 크므로

$$0 < 3x < 100, 0 < x < \frac{100}{3}$$

따라서 정수  $x$ 의 최댓값은 33

58) [정답] ③

[해설]

$\log_2(x^2 - 7x) - \log_2(x+5) \leq 1$ 의 진수조건에서

$$-5 < x < 0 \text{ 또는 } x > 7 \quad \dots\dots \textcircled{㉠}$$

$\log_2(x^2 - 7x) \leq \log_2(x+5)$ 이므로

$$x^2 - 7x \leq 2x+10, x^2 - 9x - 10 \leq 0$$

$$(x-10)(x+1) \leq 0, -1 \leq x \leq 10 \quad \dots\dots \textcircled{㉡}$$

$\textcircled{㉠}, \textcircled{㉡}$ 에서  $-1 \leq x < 0$  또는  $7 < x \leq 10$

따라서 부등식을 만족시키는 정수  $x$ 는 -1, 8, 9, 10이므로 그 합은 26이다.

59) [정답] 4

[해설]

$|x-1|$ 과  $x+2$ 는 로그의 진수이므로

$$|x-1| > 0, x+2 > 0$$

$$\therefore x \neq 1, x > -2$$

(i)  $-2 < x < 1$ 인 경우

$$\log(-x+1) + \log(x+2) \leq 1$$

$$(-x+1)(x+2) \leq 10, x^2 + x - 2 \geq -10$$

$$x^2 + x + 8 = \left(x + \frac{1}{2}\right)^2 + \frac{31}{4} \geq 0$$

$-2 < x < 1$ 인 모든 실수  $x$ 에 대하여 항상 성립한다.

$x$ 는 정수이므로  $x = -1$  또는  $x = 0$

(ii)  $x > 1$ 인 경우

$$\log(x-1) + \log(x+2) \leq 1$$

$$(x-1)(x-2) \leq 10, (x+4)(x-3) \leq 0$$

$$-4 \leq x \leq 3$$

$x > 1$ 이므로  $1 < x \leq 3$

$x$ 는 정수이므로  $x = 2$  또는  $x = 3$

(i), (ii)에 의하여 모든 정수  $x$ 의 값의 합은

$$(-1) + 0 + 2 + 3 = 4$$

60) [정답] ①

[해설]

진수 조건에서  $x+5 > 0$ , 즉  $x > -5 \dots\dots \textcircled{㉠}$

$\log_3(x+5) < 8\log_3 2$ 에서

$$\log_3(x+5) < \log_3 2^8$$

$$x+5 < 16, \text{ 즉 } x < 11 \quad \dots\dots \textcircled{㉡}$$

$\textcircled{㉠}, \textcircled{㉡}$ 에 의하여  $-5 < x < 11$ 이므로 정수  $x$ 의 최댓값은 10, 최솟값은 -4이다.

따라서 정수  $x$ 의 최댓값과 최솟값의 합은 6이다.

61) [정답] ①



[해설]

$x, x-6$ 은 로그의 진수이므로  $x > 0, x-6 > 0$ 에서  
 $x > 6 \dots \text{㉠}$

$$\log_2 x \leq 4 - \log_2(x-6)$$

$$\log_2 x(x-6) \leq \log_2 16$$

$$x^2 - 6x - 16 \leq 0 \text{에서 } -2 \leq x \leq 8 \dots \text{㉡}$$

㉠, ㉡에 의하여  $6 < x \leq 8$

따라서 모든 정수  $x$ 의 값의 합은  $7+8=15$

62) [정답] ①

[해설]

$$\left(\frac{1}{2}\right)^{1-x} \geq \left(\frac{1}{2}\right)^{4x-4} \text{에서 } 1-x \leq 4x-4$$

$$\therefore x \geq 1 \dots \text{㉠}$$

$$\log_2 4x < \log_2(x+k) \text{에서 } 0 < 4x < x+k$$

$$\therefore 0 < x < \frac{k}{3} \dots \text{㉡}$$

㉠, ㉡을 동시에 만족하는  $x$ 가 존재하지 않으므로

$$\text{양수 } k \text{는 } 0 < \frac{k}{3} \leq 1 \therefore 0 < k \leq 3$$

따라서 최대가 되는  $k$ 의 값은 3

63) [정답] ④

[해설]

함수  $f(x) = -\log_3(mx+5)$ 는  $-1 \leq x \leq 1$ 에서 정의되므로

$$-5 < m < 5$$

$$f(-1) < f(1) \text{이므로 } m < 0$$

따라서  $-5 < m < 0$ 인 모든 정수  $m$ 의 개수는 4

64) [정답] 12

[해설]

점  $A(a, b)$ 를 직선  $y=x$ 에 대하여 대칭이동한 점을  $B$ 라 하면  $B(b, a)$ 이다.

조건 (가)에서 점  $A(a, b)$ 가 곡선  $y = \log_2(x+2) + k$

위의 점이므로

$$b = \log_2(a+2) + k \dots \text{㉠}$$

조건 (나)에서 점  $B(b, a)$ 가 곡선  $y = 4^{x+k} + 2$  위의

점이므로

$$a = 4^{b+k} + 2 \dots \text{㉡}$$

㉠에서

$$b - k = \log_2(a+2), 2^{b-k} = a+2$$

$$a = 2^{b-k} - 2 \dots \text{㉢}$$

㉡, ㉢을 연립하여 정리하면

$$4^{b+k} + 2 = 2^{b-k} - 2$$

$$4^k \times 4^b - 2^{-k} \times 2^b + 4 = 0 \dots \text{㉣}$$

조건을 만족시키는 점  $A$ 가 오직 하나이므로 방정식

㉣을 만족시키는 실수  $b$ 는 오직 하나이고

$2^b = t (t > 0)$ 으로 놓으면  $t$ 에 대한 이차방정식

$$4^k t^2 - 2^{-k} t + 4 = 0 \dots \text{㉤}$$

은 오직 하나의 양의 실근을 갖는다.  $t$ 에 대한 이차방정식

㉤의 두 근의 곱은  $\frac{4}{4^k} = 4^{1-k} > 0$ 이므로  $t$ 에 대한

이차방정식 ㉤이 오직 하나의 양의 실근을 가지려면 ㉤의 판별식을  $D$ 라 할 때  $D=0$ 이어야 한다.

$$D = (-2^{-k})^2 - 4 \times 4^k \times 4$$

$$= 4^{-k} - 16 \times 4^k = 0$$

위의 방정식의 양변에  $4^k$ 을 곱하여 정리하면

$$2^{4k+4} = 1, k = -1$$

㉤에 대입하여 정리하면

$$\frac{1}{4}t^2 - 2t + 4 = 0, \frac{1}{4}(t-4)^2 = 0$$

$$t = 4$$

즉,  $2^b = 4$ 에서  $b = 2$ 이다.

$k = -1, b = 2$ 를 ㉡에 대입하여 정리하면

$$a = 4^{2+(-1)} + 2 = 6$$

따라서  $a \times b = 6 \times 2 = 12$

65) [정답] 6

[해설]

이차방정식  $3x^2 - 2(\log_2 n)x + \log_2 n = 0$ 의 판별식을  $D$ 라 할 때, 모든 실수  $x$ 에 대하여 주어진 이차부등식이 성립하기 위해서는

$$\frac{D}{4} = (\log_2 n)^2 - 3 \times \log_2 n < 0,$$

$$(\log_2 n - 3) \log_2 n < 0, 0 < \log_2 n < 3, 1 < n < 8$$

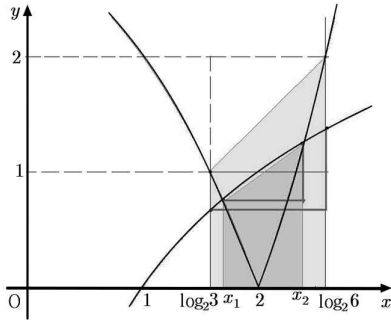
$n$ 은 자연수이므로  $n = 2, 3, 4, 5, 6, 7$

따라서 조건을 만족하는 자연수  $n$ 의 개수는 6



66) [정답] ②

[해설]



ㄱ. 그림에서  $\log_2 3 < x_1 < x_2 < \log_2 6$ 이 성립한다. (참)

ㄴ. 그림에서 색칠한 사다리꼴의 넓이에서

$$\frac{1}{2}(x_2 - x_1)(2^{x_2} - 2^{x_1}) < \frac{3}{2} \quad (\text{참})$$

ㄷ. 그림에서 빨간 직각삼각형의 높이에서

$$(2^{x_2} - 4) - (4 - 2^{x_1}) < \log_2(\log_2 6) - \log_2(\log_2 3)$$

$$2^{x_1} + 2^{x_2} < 8 + \log_2(\log_3 6)$$

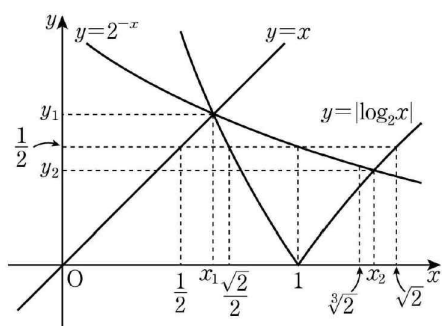
(거짓)

따라서 옳은 것은 ㄱ, ㄴ이다.

67) [정답] ⑤

[해설]

$y=2^{-x}$ ,  $y=|\log_2 x|$ ,  $y=x$ 의 그래프는 그림과 같다.



ㄱ.  $0 < x < 1$ 일 때,

두 곡선  $y=2^{-x}$ ,  $y=-\log_2 x$ 의 교점은 직선  $y=x$  위에 있으므로  $x_1 = y_1$ 이고  $x_1 < 1$ ,  $y_1 < 1$

그림에서  $y=2^{-x}$ 은 감소함수이므로

$$2^{-1} < 2^{-x_1} = y_1$$

$$\text{즉, } \frac{1}{2} < y_1 = x_1$$

한편,  $-\log_2 \frac{\sqrt{2}}{2} = \frac{1}{2} < y_1 = -\log_2 x_1$ 이고

$$y = -\log_2 x \text{는 감소함수이므로 } x_1 < \frac{\sqrt{2}}{2}$$

$$\text{그러므로 } \frac{1}{2} < x_1 < \frac{\sqrt{2}}{2} \quad (\text{참})$$

$$\text{ㄴ. } 2^{-\sqrt{2}} = \frac{1}{2^{\sqrt{2}}} \text{이고 } \log_2 \sqrt[3]{2} = \frac{1}{3}$$

$$\text{그런데 } 8 < 9 \text{이므로 } 2^{\frac{3}{2}} < 3$$

..... ㉠

$$\sqrt[3]{2} \text{와 } \frac{3}{2} \text{을 각각 세제곱하면 } (\sqrt[3]{2})^3 < \left(\frac{3}{2}\right)^3 \text{이므로}$$

$$\sqrt[3]{2} < \frac{3}{2} \text{ 즉, } 2^{\sqrt{2}} < 2^{\frac{3}{2}} \quad \text{..... ㉡}$$

$$\text{㉠, ㉡에서 } 2^{\sqrt{2}} < 2^{\frac{3}{2}} < 3 \text{이므로}$$

$$\log_2 \sqrt[3]{2} < 2^{-\sqrt{2}}$$

$$\text{그러므로 } \sqrt[3]{2} < x_2$$

$$\text{또, } \log_2 \sqrt{2} = \frac{1}{2}, 2^{-\sqrt{2}} = \frac{1}{2^{\sqrt{2}}}$$

$$\frac{1}{2} > \frac{1}{2^{\sqrt{2}}} \text{이므로 } \log_2 \sqrt{2} > 2^{-\sqrt{2}}$$

$$\text{그림에서 } x_2 < \sqrt{2}$$

$$\text{그러므로 } \sqrt[3]{2} < x_2 < \sqrt{2} \quad (\text{참})$$

$$\text{ㄷ. } y_1 = x_1 \text{이므로 ㄱ에서 } \frac{1}{2} < y_1 < \frac{\sqrt{2}}{2}$$

$$y_2 = \log_2 x_2 \text{이고 } \sqrt[3]{2} < x_2 < \sqrt{2},$$

$$\log_2 \sqrt[3]{2} < \log_2 x_2 < \log_2 \sqrt{2} \text{이므로}$$

$$\frac{1}{3} < y_2 < \frac{1}{2}$$

$$\text{그러므로 } y_1 - y_2 < \frac{\sqrt{2}}{2} - \frac{1}{3} < \frac{3\sqrt{2} - 2}{6} \quad (\text{참})$$

따라서 옳은 것은 ㄱ, ㄴ, ㄷ이다.

68) [정답] ⑤

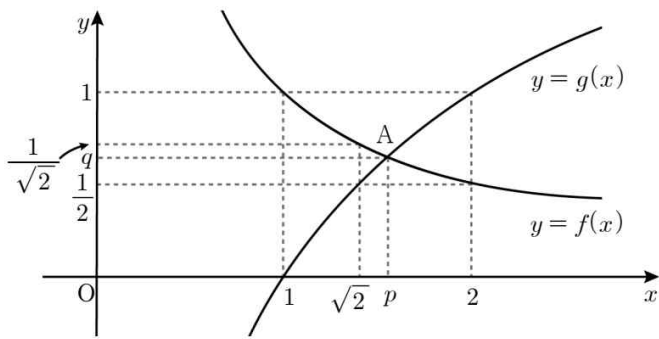
[해설]

$$f(x) = \frac{1}{x}, g(x) = \log_a x \text{라 하자.}$$

ㄱ. 점  $A(p, q)$ 는 함수  $y=f(x)$ 의 그래프 위의 점이므로

$$q = \frac{1}{p}, \text{ 즉 } pq = 1 \quad (\text{참})$$

ㄴ.  $f(x) > g(x)$ 이면  $0 < x < p$ 이고  $f(x) < g(x)$ 이면  $x > p$ 이다.



$f(\sqrt{2}) = \frac{1}{\sqrt{2}}$  이고  $a=2$ 이므로  $g(\sqrt{2}) = \frac{1}{2}$ 이다.

$f(\sqrt{2}) > g(\sqrt{2})$ 이다.

따라서  $p > \sqrt{2}$  (참)

ㄷ. 점  $B(p+q, 0)$ 에 대하여 삼각형 AOB의 넓이  $S(p)$ 는

$$S(p) = \frac{1}{2} \times (p+q) \times q = \frac{pq}{2} + \frac{q^2}{2} = \frac{1}{2} + \frac{1}{2p^2}$$

이다.

한편,  $f(\sqrt{a}) = \frac{1}{\sqrt{a}}$  이고  $g(\sqrt{a}) = \frac{1}{2}$ 이다.

$1 < \sqrt{a} < 2$ 이므로  $f(\sqrt{a}) > g(\sqrt{a})$ 이다.

따라서  $p > \sqrt{a}$  이고,  $\frac{1}{p} < \frac{1}{\sqrt{a}}$ 이다.

그러므로  $S(p) = \frac{1}{2} + \frac{1}{2p^2} < \frac{1}{2} + \frac{1}{2a} = \frac{a+1}{2a}$  (참)

69) [정답] ②

[해설]

$$f(x) = \begin{cases} x+2 & (0 \leq x < 1) \\ -2x+5 & (1 \leq x \leq 2) \end{cases}$$

$f(-x) = f(x)$ ,  $f(x) = f(x+4)$ 이므로 함수  $y=f(x)$ 의 그래프는  $y$ 축에 대하여 대칭이고 주기는 4이다.

$1 \leq f(x) \leq 3$ 이므로

$$\log_2(x+2n) = 1, x+2n = 2^n, x = 2^n - 2n$$

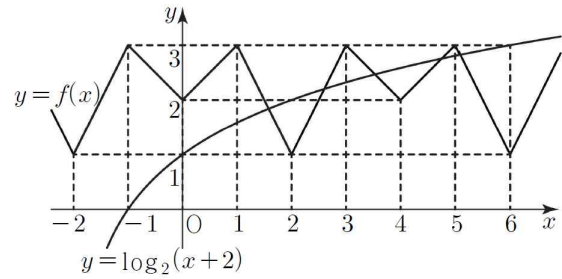
$$\log_2(x+2n) = 2, x+2n = 2^{2n}, x = 2^{2n} - 2n$$

$$\log_2(x+2n) = 3, x+2n = 2^{3n}, x = 2^{3n} - 2n$$

함수  $y = \log_2(x+2n)$ 의 그래프는 세 점  $(2^n - 2n, 1)$ ,  $(2^{2n} - 2n, 2)$ ,  $(2^{3n} - 2n, 3)$ 을 지난다.

(i)  $n=1$ 일 때, 함수  $y = \log_2(x+2)$ 의 그래프는 세 점  $(0, 1)$ ,  $(2, 2)$ ,  $(6, 3)$ 을 지난다.

함수  $y=f(x)$ 의 그래프와 함수  $y = \log_2(x+2)$ 의 그래프가 만나는 점의 개수는 5

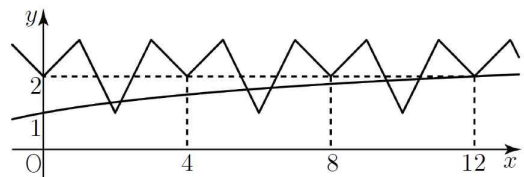


따라서  $a_1 = 5$

(ii)  $n=2$ 일 때, 함수  $y = \log_4(x+4)$ 의 그래프는 세 점  $(0, 1)$ ,  $(12, 2)$ ,  $(60, 3)$ 을 지난다.

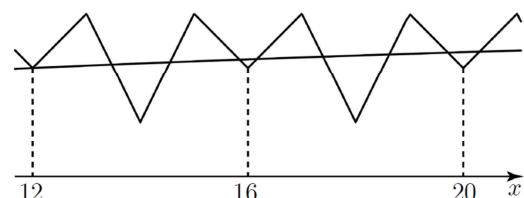
$1 \leq f(x) < 2$ 일 때,  $0 \leq x < 4$ 에서 함수  $y=f(x)$ 의 그래프와 만나는 점의 개수는 2이고 함수  $y=f(x)$ 는 주기가 4이므로  $0 \leq x < 12$ 에서 함수  $y=f(x)$ 의 그래프와 함수  $y = \log_4(x+4)$ 의 그래프가 만나는 모든 점의 개수는

$$2 \times \frac{12}{4} = 6$$



$2 \leq f(x) \leq 3$ 일 때,  $12 \leq x \leq 16$ 에서 함수  $y=f(x)$ 의 그래프와 함수  $y = \log_4(x+4)$ 의 그래프가 만나는 점의 개수는 4이고 함수  $y=f(x)$ 는 주기가 4이므로  $12 \leq x \leq 60$ 에서 함수  $y=f(x)$ 의 그래프와 함수  $y = \log_4(x+4)$ 의 그래프가 만나는 모든 점의 개수는

$$4 \times \frac{60-12}{4} = 48$$



따라서  $a_2 = 6 + 48 = 54$

(iii)  $n=3$ 일 때, 함수  $y = \log_8(x+6)$ 의 그래프는 세 점  $(2, 1)$ ,  $(58, 2)$ ,  $(506, 3)$ 을 지난다.

$1 \leq f(x) < 2$ 일 때  $2 \leq x \leq 6$ 에서 함수  $y=f(x)$ 의 그래프와 함수  $y = \log_8(x+6)$ 의 그래프가 만나는 점의 개수는 2이고 함수  $y=f(x)$ 는 주기가 4이므로  $2 \leq x < 58$ 에서 함수  $y=f(x)$ 의 그래프와 함수  $y = \log_8(x+6)$ 의 그래프와 만나는 모든 점의 개수는

$$2 \times \frac{58-2}{4} = 28$$

$2 \leq f(x) \leq 3$ 일 때,  $58 \leq x \leq 62$ 에서 함수  $y=f(x)$ 의 그래프와 함수  $y = \log_8(x+6)$ 의 그래프가 만나는 점의 개수는 4이고 함수  $y=f(x)$ 는 주기가 4이므로  $58 \leq x \leq 506$ 에서 함수  $y=f(x)$ 의 그래프와 함수

$y = \log_8(x+6)$ 의 그래프가 만나는 모든 점의 개수는

$$4 \times \frac{506-58}{4} = 448$$

따라서  $a_3 = 28 + 448 = 476$

(i), (ii), (iii)에 의하여

$$a_1 + a_2 + a_3 = 5 + 54 + 448 = 476$$

70) [정답] ③

[해설]

정수  $k$ 에 대하여  $k < \log_3 f(n) < k+2$

밑 3이 1보다 크므로  $3^k < (n-3)^2 + 2 < 3^{k+1}$ 을 만족시키는 자연수  $n$ 의 개수가  $h(k)$ 이다.

(i)  $k=0$ 인 경우

$$1 < (n-3)^2 + 2 < 9, \quad -1 < (n-3)^2 < 7 \text{에서}$$

$$n = 1, 2, 3, 4, 5 \text{이므로 } h(0) = 5$$

(ii)  $k=3$ 인 경우

$$27 < (n-3)^2 + 2 < 243, \quad 25 < (n-3)^2 < 241 \text{에서}$$

$$n = 9, 10, \dots, 18 \text{이므로 } h(3) = 10$$

따라서  $h(0) + h(3) = 15$

71) [정답] ③

[해설]

ㄱ.  $n=2$ 일 때, A(1, 1), B(3, 1)이므로

$$f(2) = 2 \quad (\text{참})$$

ㄴ. 점 B의 좌표는  $(\frac{6}{1+\log_2 n}, 1)$ 이므로  $f(n) \geq 1$ 을

만족시키는  $f(n)$ 은  $f(n) = \frac{6}{1+\log_2 n} - 1$ 이다.

$$\frac{6}{1+\log_2 n} - 1 \geq 1 \text{에서 } 1 + \log_2 n \leq 3 \text{이므로}$$

$1 \leq n \leq 4$ 이다. 따라서  $f(n) \geq 1$ 을 만족시키는 자연수  $n$ 의 개수는 4 (참)

ㄷ.  $|f(n)-1| \geq \frac{2}{3}$ 에서  $f(n) \geq \frac{3}{5}$  또는  $0 \leq f(n) \leq \frac{1}{3}$ 이다.

(i)  $f(n) \geq \frac{5}{3}$ 를 만족시키는  $f(n)$ 은

$$f(n) = \frac{6}{1+\log_2 n} - 1 \text{이다. } \frac{6}{1+\log_2 n} - 1 \geq \frac{5}{3} \text{에서}$$

$$\frac{6}{1+\log_2 n} \geq \frac{8}{3} \text{이므로 } \log_2 n \leq \frac{5}{4} \text{이다. 따라서}$$

$1 \leq n \leq 2^{\frac{5}{4}}$ 이고  $2 < 2^{\frac{5}{4}} < 3$ 이므로 자연수  $n$ 은 1, 2이다.

(ii)  $0 \leq f(n) \leq \frac{1}{3}$ 을 만족시키는  $f(n)$ 은

$$f(n) = \left| \frac{6}{1+\log_2 n} - 1 \right| \text{이다.}$$

$$0 \leq \left| \frac{6}{1+\log_2 n} - 1 \right| \leq \frac{1}{3} \text{에서}$$

$$\frac{2}{3} \leq \frac{6}{1+\log_2 n} \leq \frac{4}{3} \text{이므로 } \frac{7}{2} \leq \log_2 n \leq 8 \text{이다.}$$

따라서  $2^{\frac{7}{2}} \leq n \leq 2^8$ 이고  $11 < 2^{\frac{7}{2}} < 12$ 이므로 자연수  $n$ 은 12, 13, 14, ..., 256이다.

(i), (ii)에서  $n = 1, 2, 12, 13, 14, \dots, 256$ 이므로

$|f(n)-1| \geq \frac{2}{3}$ 를 만족시키는 자연수  $n$ 의 개수는 247

(거짓)

따라서 옳은 것은 ㄱ, ㄴ이다.

72) [정답] 33

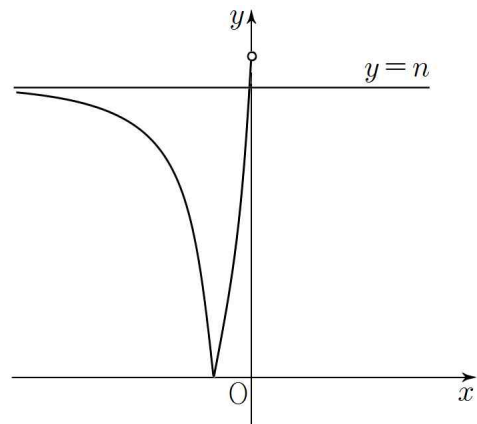
[해설]

(i)  $x < 0$ 일 때

함수  $y = 3^{x+2} - n$ 의 그래프는 함수  $y = 3^x$ 의 그래프를  $x$ 축의 방향으로  $-2$ 만큼,  $y$ 축의 방향으로  $-n$ 만큼 평행이동한 그래프이다.

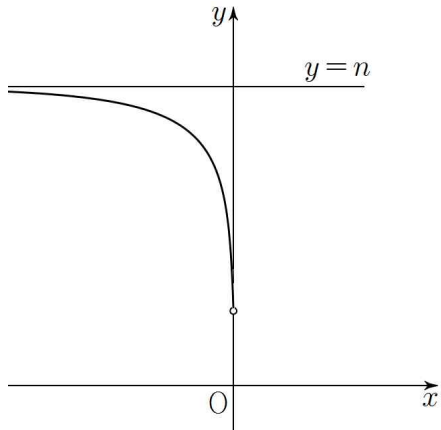
자연수  $n$ 의 값에 따른 함수  $y = |3^{x+2} - n|$ 의 그래프는 다음과 같다.

(1)  $9-n > 0$ 일 때



따라서 방정식  $f(x) = t$ 의 실근의 개수의 최댓값은 2이다.

(2)  $9-n \leq 0$ 일 때



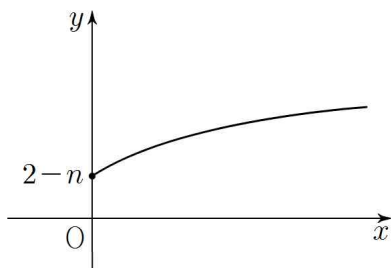
따라서 방정식  $f(x)=t$ 의 실근의 개수의 최댓값은 1이다.

(ii)  $x \geq 0$ 일 때

함수  $y = \log_2(x+4) - n$ 의 그래프는 함수  $y = \log_2 x$ 의 그래프를  $x$ 축의 방향으로  $-4$ 만큼,  $y$ 축의 방향으로  $-n$ 만큼 평행 이동한 그래프이다.

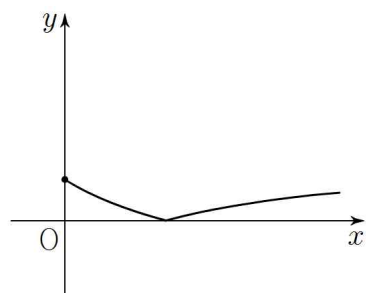
자연수  $n$ 의 값에 따른 함수  $y = |\log_2(x+4) - n|$ 의 그래프는 다음과 같다.

(1)  $2 - n \geq 0$ 일 때



따라서 방정식  $f(x)=t$ 의 실근의 개수의 최댓값은 1이다.

(2)  $2 - n < 0$ 일 때



따라서 방정식  $f(x)=t$ 의 실근의 개수의 최댓값은 2이다.

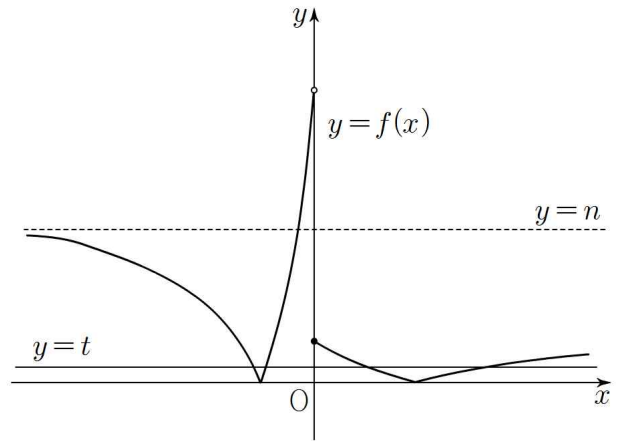
함수  $g(t)$ 의 최댓값이 4이므로  $9 - n > 0$ 이고  $2 - n < 0$ 이어야 한다.

즉,  $2 < n < 9$ 이므로 자연수  $n$ 의 값은

3, 4, 5, 6, 7, 8

이고, 그 합은

$$3 + 4 + 5 + 6 + 7 + 8 = 33$$

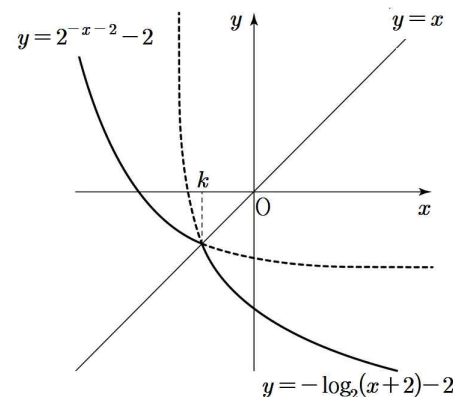


73) [정답] ①

[해설]

두 곡선  $y = -\log_2(x+2) - 2$ 와  $y = 2^{-x-2} - 2$ 는 직선  $y = x$ 에 대하여 대칭이다.

정의역과 공역이 각각 실수 전체의 집합인 함수  $f(x)$ 가 일대일 대응이므로 상수  $k$ 의 값은 두 곡선의 교점의  $x$ 좌표이다.



곡선  $y = -\log_2(x+2) - 2$ 와  $x$ 축의 교점의  $x$ 좌표가  $-\frac{7}{4}$ 이므로  $k > -\frac{7}{4}$ 이다.

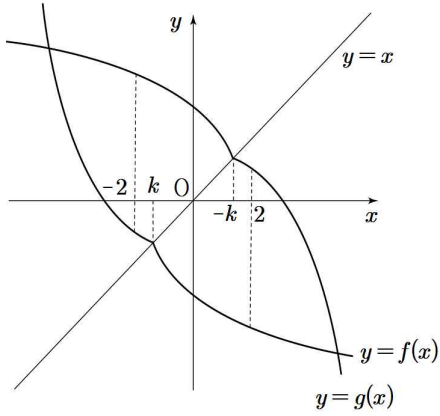
$k \geq -1$ 이라 가정하면  $k = -\log_2(k+2) - 2$ 이므로

$$k = -\log_2(k+2) - 2 \leq -\log_2\{(-1)+2\} - 2 = -2$$

가 되어 모순이므로  $k < -1$ 이다.

따라서  $k$ 의 값의 범위는  $-\frac{7}{4} < k < -1$ 이다.

두 함수  $y = f(x)$ 와  $y = g(x)$ 의 그래프는 그림과 같다.



(i)  $-2 \leq x < k$ 일 때,

$$f(x) = 2^{-x-2} - 2, \quad g(x) = \log_2(2-x) + 2 \text{이고}$$

$$f(-2) = -1, \quad g(-2) = 4 \text{이므로}$$

$$(-2, -1), (-2, 0), (-2, 1), (-2, 2), (-2, 3),$$

$$(-2, 4) : 6 \text{개}$$

(ii)  $k \leq x < -k$ 일 때,

$$f(x) = -\log_2(x+2) - 2, \quad g(x) = \log_2(2-x) + 2 \text{이고}$$

①  $f(-1) = -2, \quad 3 < g(-1) < 4$ 이므로

$$(-1, -2), (-1, -1), (-1, 0), (-1, 1),$$

$$(-1, 2), (-1, 3) : 6 \text{개}$$

②  $f(0) = -3, \quad g(0) = 3$ 이므로

$$(0, -3), (0, -2), (0, -1), (0, 0), (0, 1),$$

$$(0, 2), (0, 3) : 7 \text{개}$$

③  $-4 < f(1) < -3, \quad g(1) = 2$ 이므로

$$(1, -3), (1, -2), (1, -1), (1, 0), (1, 1),$$

$$(1, 2) : 6 \text{개}$$

(iii)  $-k \leq x \leq 2$ 일 때,

$$f(x) = -\log_2(x+2) - 2, \quad g(x) = -2^{x-2} + 2 \text{이고}$$

$$f(2) = -4, \quad g(2) = 1 \text{이므로}$$

$$(2, -4), (2, -3), (2, -2), (2, -1),$$

$$(2, 0), (2, 1) : 6 \text{개}$$

(i), (ii), (iii)에서  $6+6+7+6+6=31$

따라서  $f(a) \leq b \leq g(a)$ 를 만족시키는 정수  $a, b$ 의 모든 순서쌍  $(a, b)$ 의 개수는 31