



03 수1

06 삼각함수의 그래프

01 삼각함수의 그래프

01 그래프1 (주기)

[출처] 2020 모의_공공 교육청 고2 11월 2

1. 함수 $y = \tan \frac{x}{4}$ 의 주기는?

- ① π ② 2π ③ 3π
- ④ 4π ⑤ 5π

[출처] 2020 모의_공공 교육청 고3 04월 15

2. 두 함수

$$f(x) = \cos(ax) + 1, \quad g(x) = |\sin 3x|$$

의 주기가 서로 같을 때, 양수 a 의 값은?

- ① 5 ② 6 ③ 7
- ④ 8 ⑤ 9

[출처] 2021 모의_공공 교육청 고3 04월 공통범위 6

3. 양수 a 에 대하여 함수 $f(x) = \sin\left(ax + \frac{\pi}{6}\right)$ 의 주기가

4π 일 때, $f(\pi)$ 의 값은?

- ① 0 ② $\frac{1}{2}$ ③ $\frac{\sqrt{2}}{2}$
- ④ $\frac{\sqrt{3}}{2}$ ⑤ 1

[출처] 2021 모의_공공 교육청 고2 09월 3

4. 함수 $y = \cos \frac{x}{3}$ 의 주기는?

- ① 2π ② 3π ③ 4π
- ④ 5π ⑤ 6π

[출처] 2021 모의_공공 교육청 고3 10월 공통범위 3

5. 함수 $y = \tan \left(\pi x + \frac{\pi}{2} \right)$ 의 주기는?

- ① $\frac{1}{2}$ ② $\frac{\pi}{4}$ ③ 1
- ④ $\frac{3}{2}$ ⑤ $\frac{\pi}{2}$

03 수1 06 삼각함수의 그래프

01 삼각함수의 그래프

02 그래프2 (삼각함수의 그래프)

[출처] 2020 모의_공공 교육청 고2 06월 25

6. 함수 $y = k \sin \left(x + \frac{\pi}{2} \right) + 10$ 의 그래프가 점 $\left(\frac{\pi}{3}, 14 \right)$ 을

지날 때, 상수 k 의 값을 구하시오.

[출처] 2020 모의_공공 교육청 고3 03월 28

7. $0 < a < \frac{4}{7}$ 인 실수 a 와 유리수 b 에 대하여 닫힌구간

$\left[-\frac{\pi}{a}, \frac{2\pi}{a} \right]$ 에서 정의된 함수 $f(x) = 2\sin(ax) + b$ 가 있다.

함수 $y = f(x)$ 의 그래프가 두 점 $A\left(-\frac{\pi}{2}, 0\right), B\left(\frac{7}{2}\pi, 0\right)$ 을

지날 때, $30(a+b)$ 의 값을 구하시오.

[출처] 2021 모의_공공 교육청 고2 06월 25

8. 함수 $y = 2\sin\left(x - \frac{\pi}{3}\right) + k$ 의 그래프가 점 $\left(\frac{\pi}{6}, 2\right)$ 를 지날 때, 상수 k 의 값을 구하시오.

[출처] 2022 모의_공공 교육청 고2 06월 25

9. 함수 $y = 3\sin(x + \pi) + k$ 의 그래프가 점 $\left(\frac{\pi}{6}, \frac{5}{2}\right)$ 를 지날 때, 상수 k 의 값을 구하시오.

03 수1

06 삼각함수의 그래프

01 삼각함수의 그래프

04 그래프4 (표준형 그래프에서 Mm)

[출처] 2020 모의_공공 사관학교 고3 07월 23

[출처] 2020 모의_공공 사관학교 고3 07월 22

10. 함수 $f(x) = 5\sin\left(\frac{\pi}{2}x + 1\right) + 3$ 의 주기를 p , 최댓값을 M 이라 할 때, $p + M$ 의 값을 구하시오.

[출처] 2020 모의_공공 평가원 고3 06월 22

11. 함수 $f(x) = 5\sin x + 1$ 의 최댓값을 구하시오.

[출처] 2020 모의_공공 평가원 고3 11월 4

12. 함수 $f(x) = 4\cos x + 3$ 의 최댓값은?

- ① 6 ② 7 ③ 8
- ④ 9 ⑤ 10

[출처] 2020 모의_공공 교육청 고3 07월 5

13. 두양수 a, b 에 대하여 함수 $f(x) = a\cos bx + 3$ 이 있다.

함수 $f(x)$ 는 주기가 4π 이고 최솟값이 -1 일 때, $a+b$ 의 값은?

- ① $\frac{9}{2}$ ② $\frac{11}{2}$ ③ $\frac{13}{2}$
- ④ $\frac{15}{2}$ ⑤ $\frac{17}{2}$

[출처] 2021 모의_공공 교육청 고2 11월 11

14. 두 상수 a, b 에 대하여 함수 $f(x) = 4\cos \frac{\pi}{a}x + b$ 의

주기가 4이고 최솟값이 -1 일 때, $a+b$ 의 값은? (단, $a > 0$)

- ① 5 ② 7 ③ 9
- ④ 11 ⑤ 13

[출처] 2022 모의_공공 평가원 고3 06월 공통범위 7

15. 닫힌구간 $[0, \pi]$ 에서 정의된 함수 $f(x) = -\sin 2x$ 가

$x = a$ 에서 최댓값을 갖고 $x = b$ 에서 최솟값을 갖는다. 곡선 $y = f(x)$ 위의 두 점 $(a, f(a)), (b, f(b))$ 를 지나는 직선의 기울기는?

- ① $\frac{1}{\pi}$ ② $\frac{2}{\pi}$ ③ $\frac{3}{\pi}$
- ④ $\frac{4}{\pi}$ ⑤ $\frac{5}{\pi}$

[출처]

2022 모의_공공 평가원 고3 11월

16. 함수

$$f(x) = a - \sqrt{3} \tan 2x$$

가 닫힌구간 $[-\frac{\pi}{6}, b]$ 에서 최댓값 7, 최솟값 3을 가질 때, $a \times b$ 의 값은? (단, a, b 는 상수이다.)

- ① $\frac{\pi}{2}$ ② $\frac{5\pi}{12}$ ③ $\frac{\pi}{3}$
- ④ $\frac{\pi}{4}$ ⑤ $\frac{\pi}{6}$

03 수1

06 삼각함수의 그래프

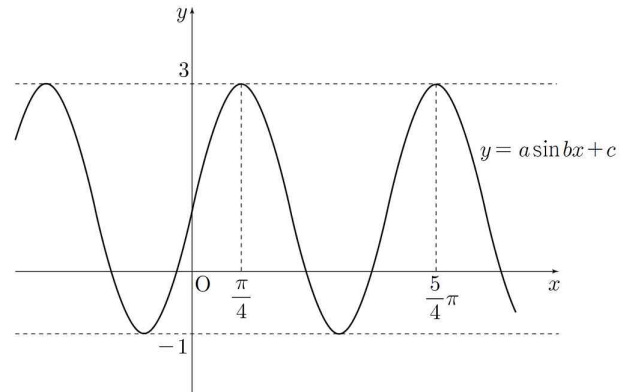
01 삼각함수의 그래프

05 그래프5 (그래프 조건)

[출처]

2020 모의_공공 교육청 고2 06월 10

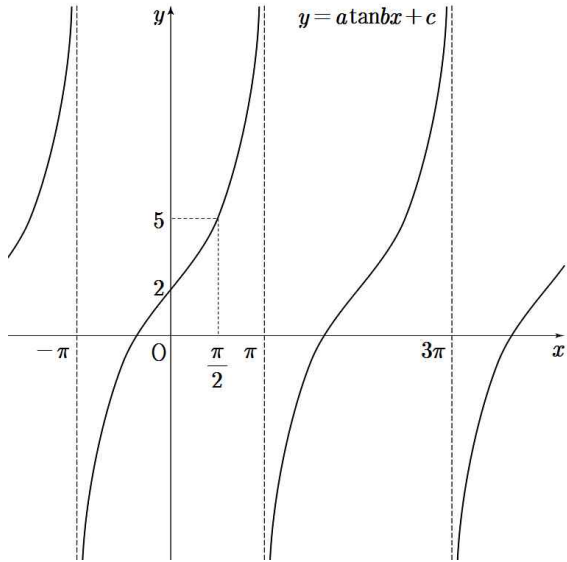
17. 세상수 a, b, c 에 대하여 함수 $y = a \sin bx + c$ 의 그래프가 그림과 같을 때, $a + b + c$ 의 값은? (단, $a > 0, b > 0$)



- ① 4 ② 5 ③ 6
- ④ 7 ⑤ 8

[출처] 2021 모의_공공 교육청 고2 06월 10

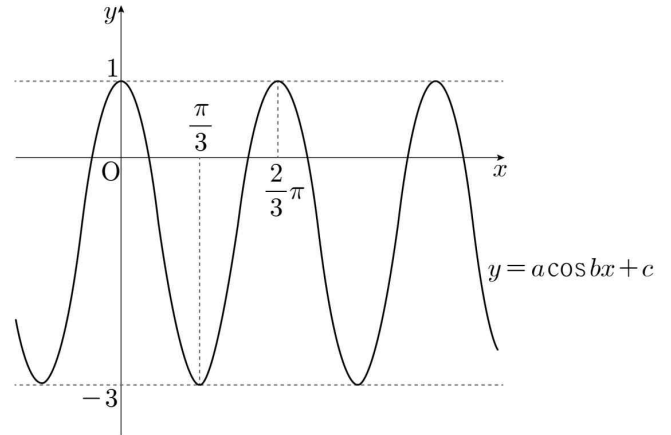
18. 세 양수 a, b, c 에 대하여 함수 $y = a \tan bx + c$ 의 그래프가 그림과 같을 때, $a \times b \times c$ 의 값은?



- ① 1 ② 2 ③ 3
- ④ 4 ⑤ 5

[출처] 2022 모의_공공 교육청 고2 06월 10

19. 세 상수 a, b, c 에 대하여 함수 $y = a \cos bx + c$ 의 그래프가 그림과 같을 때, $a \times b \times c$ 의 값은? (단, $a > 0, b > 0$)



- ① -10 ② -8 ③ -6
- ④ -4 ⑤ -2

03 수1

06 삼각함수의 그래프

02 삼각함수의 그래프 활용

01 활용1 (대칭성과 길이 또는 넓이)

[출처] 2021 모의_공공 평가원 고3 09월 공통범위 10

20. 두 양수 a, b 에 대하여 곡선

$$y = a \sin b \pi x \left(0 \leq x \leq \frac{3}{b} \right)$$

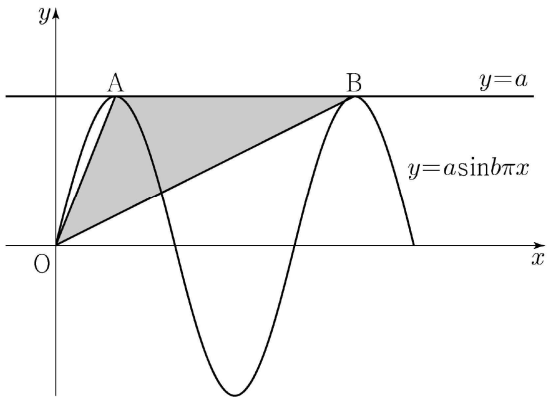
이 직선 $y = a$ 와 만나는 서로 다른

두 점을 A, B라 하자.

삼각형 OAB의 넓이가 5이고 직선 OA의 기울기와 직선

OB의 기울기의 곱이 $\frac{5}{4}$ 일 때, $a+b$ 의 값은?

(단, O는 원점이다.)



- ① 1 ② 2 ③ 3
- ④ 4 ⑤ 5

03 수1

06 삼각함수의 그래프

02 삼각함수의 그래프 활용

02 활용2 (그래프의 활용)

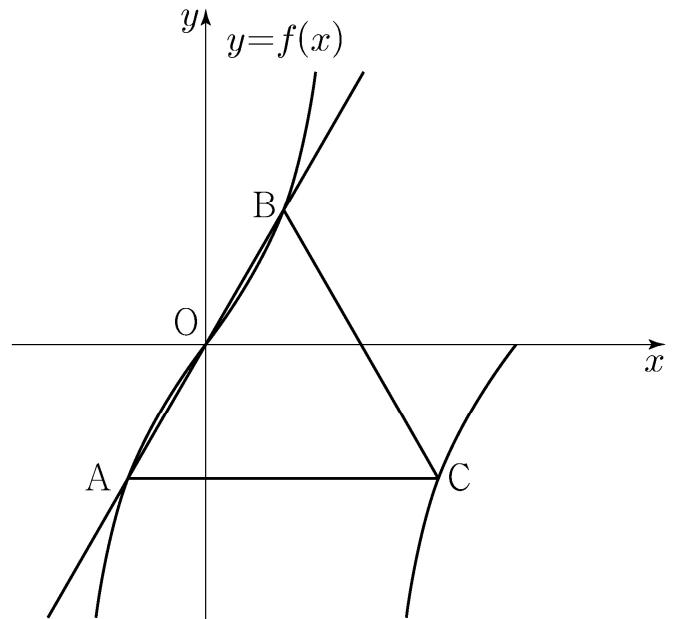
[출처] 2021 모의_공공 평가원 고3 11월 11

21. 양수 a 에 대하여 집합 $\left\{ x \mid -\frac{a}{2} < x \leq a, x \neq \frac{a}{2} \right\}$ 에서

정의된 함수

$$f(x) = \tan \frac{\pi x}{a}$$

가 있다. 그림과 같이 함수 $y = f(x)$ 의 그래프 위의 세 점 O, A, B를 지나는 직선이 있다. 점 A를 지나고 x 축에 평행한 직선이 함수 $y = f(x)$ 의 그래프와 만나는 점 중 A가 아닌 점을 C라 하자. 삼각형 ABC가 정삼각형일 때, 삼각형 ABC의 넓이는? (단, O는 원점이다.)



- ① $\frac{3\sqrt{3}}{2}$ ② $\frac{17\sqrt{3}}{12}$ ③ $\frac{4\sqrt{3}}{3}$
- ④ $\frac{5\sqrt{3}}{4}$ ⑤ $\frac{7\sqrt{3}}{6}$

[출처]

2022 모의_공공 교육청 고2 06월 18

22. 자연수 n 에 대하여 $-\frac{\pi}{2n} < x < \frac{\pi}{2n}$ 에서 정의된 함수

$f(x) = 3\sin 2nx$ 가 있다. 원점 O 를 지나고 기울기가 양수인 직선과 함수 $y = f(x)$ 의 그래프가 서로 다른 세 점 $O, A,$

B 에서 만날 때, 점 $C\left(\frac{\pi}{2n}, 0\right)$ 에 대하여 넓이가 $\frac{\pi}{12}$ 인 삼각형

ABC 가 존재하도록 하는 n 의 최댓값은?

- ① 12 ② 14 ③ 16
- ④ 18 ⑤ 20

03 수1

06 삼각함수의 그래프

02 삼각함수의 그래프 활용

03 활용3 (치환을 이용한 Mm)

[출처]

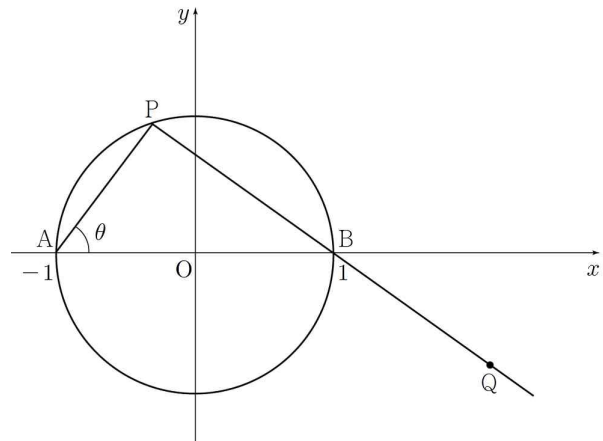
2020 모의_공공 교육청 고2 06월 19

23. 그림과 같이 두 점 $A(-1, 0), B(1, 0)$ 과 원

$x^2 + y^2 = 1$ 이 있다. 원 위의 점 P 에 대하여

$\angle PAB = \theta$ ($0 < \theta < \frac{\pi}{2}$)라 할 때, 반직선 PB 위에 $\overline{PQ} = 3$ 인

점 Q 를 정한다. 점 Q 의 x 좌표가 최대가 될 때, $\sin^2 \theta$ 의 값은?



- ① $\frac{7}{16}$ ② $\frac{1}{2}$ ③ $\frac{9}{16}$
- ④ $\frac{5}{8}$ ⑤ $\frac{11}{16}$

[출처] 2021 모의_공공 사관학교 고3 07월 공통범위 7

24. 함수 $f(x) = \cos^2 x - 4\cos\left(x + \frac{\pi}{2}\right) + 3$ 의 최댓값은?

- ① 1 ② 3 ③ 5
- ④ 7 ⑤ 9

03 수1

06 삼각함수의 그래프

03 삼각방정식과 부등식

01 삼각방정식1 (일차식꼴)

[출처] 2020 모의_공공 교육청 고2 06월 4

25. $\frac{\pi}{2} \leq x \leq \pi$ 일 때, 방정식 $\sin x = \frac{1}{2}$ 의 해는?

- ① $\frac{\pi}{2}$ ② $\frac{2}{3}\pi$ ③ $\frac{3}{4}\pi$
- ④ $\frac{5}{6}\pi$ ⑤ π

[출처] 2020 모의_공공 사관학교 고3 07월 10

26. $0 \leq x < 2\pi$ 일 때, 방정식 $|\sin 2x| = \frac{1}{2}$ 의 모든 실근의

합은?

- ① 4π ② 6π ③ 8π
 ④ 10π ⑤ 12π

[출처] 2022 모의_공공 교육청 고2 06월 4

28. $\frac{\pi}{2} < x < \frac{3}{2}\pi$ 일 때, 방정식 $\tan x = 1$ 의 해는?

- ① $\frac{2}{3}\pi$ ② $\frac{3}{4}\pi$ ③ $\frac{5}{6}\pi$
 ④ $\frac{5}{4}\pi$ ⑤ $\frac{4}{3}\pi$

[출처] 2021 모의_공공 교육청 고2 06월 4

27. $\frac{\pi}{2} \leq x \leq \pi$ 일 때, 방정식 $\cos x = -\frac{1}{2}$ 의 해는?

- ① $\frac{\pi}{2}$ ② $\frac{2}{3}\pi$ ③ $\frac{3}{4}\pi$
 ④ $\frac{5}{6}\pi$ ⑤ π

03 수1

06 삼각함수의 그래프

03 삼각방정식과 부등식

02 삼각방정식2 (이차식꼴)

[출처] 2020 모의_공공 사관학교 고3 07월 10

29. $0 \leq x < 2\pi$ 일 때, 방정식 $\cos^2 3x - \sin 3x + 1 = 0$ 의 모든 실근의 합은?

- ① $\frac{3}{2}\pi$ ② $\frac{7}{4}\pi$ ③ 2π
- ④ $\frac{9}{4}\pi$ ⑤ $\frac{5}{2}\pi$

[출처] 2020 모의_공공 평가원 고3 11월 16

30. $0 \leq x \leq 4\pi$ 일 때, 방정식

$$4\sin^2 x - 4\cos\left(\frac{\pi}{2} + x\right) - 3 = 0$$

의 모든 해의 합은?

- ① 5π ② 6π ③ 7π
- ④ 8π ⑤ 9π

[출처] 2020 모의_공공 교육청 고3 10월 11

31. $0 \leq x < 2\pi$ 일 때, 방정식 $\sin x = \sqrt{3}(1 + \cos x)$ 의 모든 해의 합은?

- ① $\frac{\pi}{3}$ ② $\frac{2}{3}\pi$ ③ π
- ④ $\frac{4}{3}\pi$ ⑤ $\frac{5}{3}\pi$

[출처] 2021 모의_공공 교육청 고3 04월 공통범위 11

32. $0 < x < 2\pi$ 일 때, 방정식 $2\cos^2 x - \sin(\pi+x) - 2 = 0$ 의

모든 해의 합은?

- ① π ② $\frac{3}{2}\pi$ ③ 2π
 ④ $\frac{5}{2}\pi$ ⑤ 3π

[출처] 2021 모의_공공 평가원 고3 11월 7

33. $\pi < \theta < \frac{3}{2}\pi$ 인 θ 에 대하여 $\tan\theta - \frac{6}{\tan\theta} = 1$ 일 때,

$\sin\theta + \cos\theta$ 의 값은?

- ① $-\frac{2\sqrt{10}}{5}$ ② $-\frac{\sqrt{10}}{5}$ ③ 0
 ④ $\frac{\sqrt{10}}{5}$ ⑤ $\frac{2\sqrt{10}}{5}$

03 수1

06 삼각함수의 그래프

03 삼각방정식과 부등식

03 삼각방정식3 (교점)

[출처] 2020 모의_공공 교육청 고3 10월 7

34. $0 \leq x < 2\pi$ 일 때, 두 함수 $y = \sin x$ 와

$y = \cos\left(x + \frac{\pi}{2}\right) + 1$ 의 그래프가 만나는 모든 점의 x 좌표의

합은?

- ① $\frac{\pi}{2}$ ② π ③ $\frac{3}{2}\pi$
 ④ 2π ⑤ $\frac{5}{2}\pi$

[출처] 2021 모의_공공 평가원 고3 예비 공통범위 8

35. 함수 $y = 6\sin \frac{\pi}{12}x (0 \leq x \leq 12)$ 의 그래프와 직선

$y = 3$ 이 만나는 두 점을 각각 A, B라 할 때, 선분 AB의 길이는?

- ① 6 ② 7 ③ 8
- ④ 9 ⑤ 10

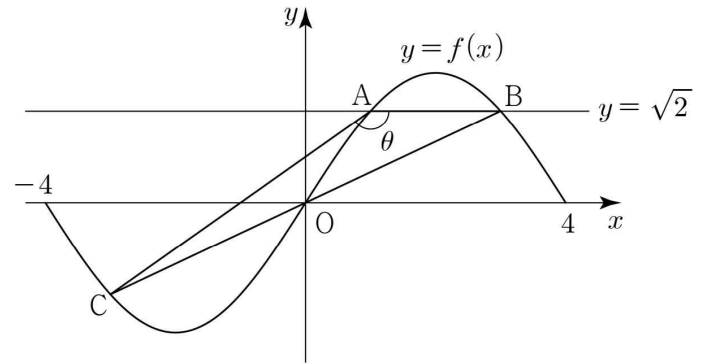
[출처] 2022 모의_공공 교육청 고2 09월 16

36. 집합 $\{x | -4 \leq x \leq 4\}$ 에서 정의된 함수

$$f(x) = 2\sin \frac{\pi x}{4}$$

가 있다. 그림과 같이 함수 $y = f(x)$ 의 그래프가 직선 $y = \sqrt{2}$ 와 만나는 서로 다른 두 점을 A, B라 하고, 두 점 B, O를 지나는 직선이 함수 $y = f(x)$ 의 그래프와 만나는 점 중 B와 O가 아닌 점을 C라 하자.

$\angle BAC = \theta$ 라 할 때, $\sin \theta$ 의 값은? (단, 점 B의 x 좌표는 점 A의 x 좌표보다 크고, O는 원점이다.)



- ① $\frac{\sqrt{3}}{3}$ ② $\frac{7\sqrt{3}}{18}$ ③ $\frac{4\sqrt{3}}{9}$
- ④ $\frac{\sqrt{3}}{2}$ ⑤ $\frac{5\sqrt{3}}{9}$

03 수1

06 삼각함수의 그래프

03 삼각방정식과 부등식

04 삼각방정식4 (대칭성과 실근)

[출처] 2020 모의_공공 교육청 고2 09월 14

37. $0 \leq x < \pi$ 일 때, x 에 대한 방정식

$$\sin nx = \frac{1}{5} \quad (n \text{은 자연수})$$

의 모든 해의 합을 $f(n)$ 이라 하자. $f(2)+f(5)$ 의 값은?

- ① $\frac{3}{2}\pi$ ② 2π ③ $\frac{5}{2}\pi$
- ④ 3π ⑤ $\frac{7}{2}\pi$

[출처] 2020 모의_공공 교육청 고2 06월 17

38. 상수 $k(0 < k < 1)$ 에 대하여 $0 \leq x < 2\pi$ 일 때, 방정식

$$\sin x = k \text{의 두 근을 } \alpha, \beta (\alpha < \beta) \text{라 하자. } \sin \frac{\beta - \alpha}{2} = \frac{5}{7} \text{ 일}$$

때, k 의 값은?

- ① $\frac{2\sqrt{6}}{7}$ ② $\frac{\sqrt{26}}{7}$ ③ $\frac{2\sqrt{7}}{7}$
- ④ $\frac{\sqrt{30}}{7}$ ⑤ $\frac{4\sqrt{2}}{7}$

[출처] 2021 모의_공공 사관학교 고3 07월 공통범위 17

39. $0 \leq x < 8$ 일 때, 방정식 $\sin \frac{\pi x}{2} = \frac{3}{4}$ 의 모든 해의 합을

구하시오.

[출처] 2021 모의_공공 교육청 고3 07월 공통범위 10

40. $0 \leq x < 2\pi$ 일 때, 방정식

$$3\cos^2 x + 5\sin x - 1 = 0$$

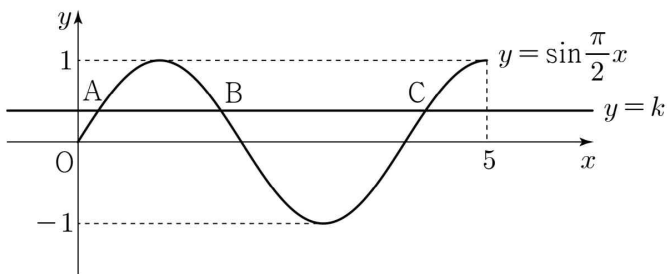
의 모든 해의 합은?

- ① π ② $\frac{3}{2}\pi$ ③ 2π
- ④ $\frac{5}{2}\pi$ ⑤ 3π

[출처] 2022 모의_공공 교육청 고3 07월 공통범위 10

41. 곡선 $y = \sin \frac{\pi}{2}x$ ($0 \leq x \leq 5$)가 직선 $y = k$ ($0 < k < 1$)과 만나는 서로 다른 세 점을 y 축에서 가까운 순서대로 A, B, C라 하자. 세 점 A, B, C의 x 좌표의 합이 $\frac{25}{4}$ 일 때, 선분 AB의 길이는?

- ① $\frac{5}{4}$ ② $\frac{11}{8}$ ③ $\frac{3}{2}$
- ④ $\frac{13}{8}$ ⑤ $\frac{7}{4}$

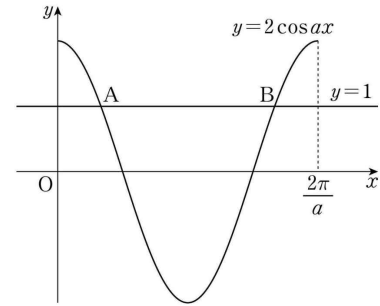


[출처] 2022 모의_공공 교육청 고3 03월 공통범위 8

42. 그림과 같이 양의 상수 a 에 대하여 곡선

$$y = 2\cos ax \left(0 \leq x \leq \frac{2\pi}{a}\right) \text{와 직선 } y = 1 \text{이 만나는 두 점을}$$

각각 A, B라 하자. $\overline{AB} = \frac{8}{3}$ 일 때, a 의 값은?



- ① $\frac{\pi}{3}$ ② $\frac{5\pi}{12}$ ③ $\frac{\pi}{2}$
- ④ $\frac{7\pi}{12}$ ⑤ $\frac{2\pi}{3}$

[출처] 2022 모의_공공 평가원 고3 09월 공통범위 9

43. 닫힌구간 $[0, 12]$ 에서 정의된 두 함수

$$f(x) = \cos \frac{\pi x}{6}, \quad g(x) = -3 \cos \frac{\pi x}{6} - 1$$

이 있다. 곡선 $y=f(x)$ 와 직선 $y=k$ 가 만나는 두 점의 x 좌표를 α_1, α_2 라 할 때, $|\alpha_1 - \alpha_2|=8$ 이다. 곡선 $y=g(x)$ 와 직선 $y=k$ 가 만나는 두 점의 x 좌표를 β_1, β_2 라 할 때, $|\beta_1 - \beta_2|$ 의 값은? (단, k 는 $-1 < k < 1$ 인 상수이다.)

- ① 3 ② $\frac{7}{2}$ ③ 4
- ④ $\frac{9}{2}$ ⑤ 5

[출처] 2022 모의_공공 교육청 고2 06월 21

44. 자연수 $k(1 < k < 12)$ 에 대하여 $0 \leq x \leq 12$ 에서 정의된 함수 $f(x)$ 를

$$f(x) = \begin{cases} \frac{1}{2} \sin \pi x & (0 \leq x < k) \\ \left(\frac{2}{3}\right)^{x-k} - 1 & (k \leq x \leq 12) \end{cases}$$

라 하자. 실수 $a(0 < a \leq \frac{1}{2})$ 에 대하여 방정식

$$f(x) + a = 0$$

의 모든 실근의 합이 46일 때, $\frac{k}{a}$ 의 값은?

- ① 24 ② 27 ③ 30
- ④ 33 ⑤ 36

[출처] 2022 모의_공공 교육청 고3 10월 공통범위 12

45. 양수 a 에 대하여 함수

$$f(x) = \left| 4\sin\left(ax - \frac{\pi}{3}\right) + 2 \right| \left(0 \leq x < \frac{4\pi}{a} \right)$$

의 그래프가 직선 $y=2$ 와 만나는 서로 다른 점의 개수는 n 이다. 이 n 개의 점의 x 좌표의 합이 39 일 때, $n \times a$ 의 값은?

- ① $\frac{\pi}{2}$ ② π ③ $\frac{3\pi}{2}$
- ④ 2π ⑤ $\frac{5\pi}{2}$

03 수1

06 삼각함수의 그래프

03 삼각방정식과 부등식

05 삼각방정식5 (실근의 개수)

[출처] 2020 모의_공공 교육청 고3 03월 7

46. $0 \leq x < 2\pi$ 일 때, 두 곡선 $y = \cos\left(x - \frac{\pi}{2}\right)$ 와

$y = \sin 4x$ 가 만나는 점의 개수는?

- ① 2 ② 4 ③ 6
- ④ 8 ⑤ 10

[출처] 2020 모의_공공 경찰대 고3 07월 21

47. 자연수 n 에 대하여 $0 \leq x \leq 2\pi$ 에서 방정식

$|\sin nx| = \frac{2}{3}$ 의 서로 다른 실근의 개수를 a_n , 서로 다른

모든 실근의 합을 b_n 이라 할 때, $a_5 b_6 = k\pi$ 이다. 자연수 k 의 값을 구하시오.

[출처] 2020 모의_공공 교육청 고3 04월 26

48. $0 \leq x \leq 2\pi$ 에서 정의된 함수 $y = a\sin 3x + b$ 의 그래프가 두 직선 $y = 9$, $y = 2$ 와 만나는 점의 개수가 각각 3, 7이 되도록 하는 두 양수 a , b 에 대하여 $a \times b$ 의 값을 구하시오.

[출처] 2020 모의_공공 교육청 고2 06월 15

49. $0 \leq x \leq 2$ 에서 함수 $y = \tan \pi x$ 의 그래프와 직선 $y = -\frac{10}{3}x + n$ 이 서로 다른 세 점에서 만나도록 하는 자연수 n 의 최댓값은?
 ① 2 ② 3 ③ 4
 ④ 5 ⑤ 6

[출처] 2020 모의_공공 교육청 고3 10월 26

50. 함수 $y = \tan\left(nx - \frac{\pi}{2}\right)$ 의 그래프가 직선 $y = -x$ 와 만나는 점의 x 좌표가 구간 $(-\pi, \pi)$ 에 속하는 점의 개수를 a_n 이라 할 때, $a_2 + a_3$ 의 값을 구하시오.

[출처] 2020 모의_공공 교육청 고2 06월 21

51. 자연수 n 에 대하여 $0 < x < \frac{n}{12}\pi$ 일 때, 방정식 $\sin^2(4x) - 1 = 0$ 의 실근의 개수를 $f(n)$ 이라 하자. $f(n) = 33$ 이 되도록 하는 모든 n 의 값의 합은?
 ① 295 ② 297 ③ 299
 ④ 301 ⑤ 303

[출처] 2020 모의_공공 교육청 고2 11월 30

52. 두 실수 $a(a \neq 0)$, b 에 대하여 함수 $f(x)$ 를

$$f(x) = a \sin \frac{\pi}{6}(x-1) + b$$

라 하고, 양수 t 에 대하여 $0 < x < t$ 에서 함수 $y = |f(x)|$ 의 그래프가 직선 $y = 4$ 와 만나는 점의 개수를 $g(t)$ 라 하자.

$f(0) = 8$, $g(18) = 5$ 일 때, $g(\alpha) = |a - b|$ 를 만족시키는 양수 α 의 최댓값을 구하시오.

[출처] 2021 모의_공공 교육청 고3 03월 공통범위 3

53. $0 \leq x < 2\pi$ 일 때, 방정식 $\sin 4x = \frac{1}{2}$ 의 서로 다른

실근의 개수는?

- ① 2 ② 4 ③ 6
- ④ 8 ⑤ 10

[출처] 2021 모의_공공 경찰대 고3 07월 19

54. 두 함수 $f(x)$ 와 $g(x)$ 가

$$f(x) = \begin{cases} \cos x & (\cos x \geq \sin x) \\ \sin x & (\cos x < \sin x) \end{cases}, g(x) = \cos ax$$

($a > 0$ 인 상수)

이다. 닫힌구간 $\left[0, \frac{\pi}{4}\right]$ 에서 두 곡선 $y = f(x)$ 와 $y = g(x)$ 의 교점의 개수가 3이 되도록 하는 a 의 최솟값을 p 라 하자.

닫힌구간 $\left[0, \frac{11}{12}\pi\right]$ 에서 두 곡선 $y = f(x)$ 와 $y = \cos px$ 의

교점의 개수를 q 라 할 때, $p + q$ 의 값은?

- ① 16 ② 17 ③ 18
- ④ 19 ⑤ 20

[출처] 2021 모의_공공 교육청 고2 06월 30

55. 두 자연수 a, b 에 대하여 세 함수

$$f(x) = \cos \pi x, g(x) = \sin \pi x, h(x) = ax + b$$

가 다음 조건을 만족시킨다.

(가) $0 \leq x \leq 4$ 일 때, 방정식 $(f \circ h)(x) = (h \circ g)\left(\frac{3}{2}\right)$ 의 서로 다른 실근의 개수는 홀수이다.

(나) $0 \leq x \leq 4$ 일 때, 방정식 $(f \circ h)(x) = (h \circ g)(t)$ 의 서로 다른 모든 실근의 합이 56이 되도록 하는 실수 t 가 존재한다.

$\frac{a \times b}{\cos^2 \pi t}$ 의 값을 구하시오.

[출처] 2021 모의_공공 교육청 고3 10월 공통범위 11

56. 닫힌구간 $[0, 2\pi]$ 에서 정의된 함수 $f(x)$ 는

$$f(x) = \begin{cases} \sin x & \left(0 \leq x \leq \frac{k}{6}\pi\right) \\ 2\sin\left(\frac{k}{6}\pi\right) - \sin x & \left(\frac{k}{6}\pi < x \leq 2\pi\right) \end{cases}$$

이다. 곡선 $y = f(x)$ 와 직선 $y = \sin\left(\frac{k}{6}\pi\right)$ 의 교점의 개수를

a_k 라 할 때, $a_1 + a_2 + a_3 + a_4 + a_5$ 의 값은?

- ① 6 ② 7 ③ 8
- ④ 9 ⑤ 10

[출처] 2022 모의_공공 경찰대 고3 07월 6

57. 두 정수 a, b 에 대하여

$$a^2 + b^2 \leq 13, \cos \frac{(a-b)\pi}{2} = 0$$

을 만족시키는 모든 순서쌍 (a, b) 의 개수는?

- ① 16 ② 20 ③ 24
- ④ 28 ⑤ 32

[출처] 2022 모의_공공 교육청 고3 04월 공통범위 11

58. 자연수 k 에 대하여 $0 \leq x < 2\pi$ 일 때, x 에 대한 방정식

$\sin kx = \frac{1}{3}$ 의 서로 다른 실근의 개수가 8이다. $0 \leq x < 2\pi$ 일

때, x 에 대한 방정식 $\sin kx = \frac{1}{3}$ 의 모든 해의 합은?

- ① 5π ② 6π ③ 7π
- ④ 8π ⑤ 9π

[출처] 2022 모의_공공 경찰대 고3 07월 17

59. 두 자연수 a, b 에 대하여 함수

$$f(x) = \sin(ax) + 2b \quad (0 \leq x \leq 1)$$

이 있다. 집합 $\{x \mid \log_2 f(x) \text{는 정수}\}$ 의 원소의 개수가 8이 되도록 하는 서로 다른 모든 a 의 값의 합은?

- ① 12 ② 15 ③ 18
- ④ 21 ⑤ 24

[출처] 2022 모의_공공 교육청 고2 09월 18

60. 집합 $\{x \mid -\pi \leq x \leq \pi\}$ 에서 정의된 함수

$$f(x) = \left| \sin 2x + \frac{2}{3} \right|$$

가 있다. 양수 k 에 대하여 함수 $y = f(x)$ 의 그래프가 두 직선 $y = 3k, y = k$ 와 만나는 서로 다른 점의 개수를 각각 m, n 이라 할 때, $|m - n| = 3$ 을 만족시킨다. $-\pi \leq x \leq \pi$ 일 때, x 에 대한 방정식 $f(x) = k$ 의 모든 실근의 합은?

- ① $\frac{3}{2}\pi$ ② 2π ③ $\frac{5}{2}\pi$
- ④ 3π ⑤ $\frac{7}{2}\pi$

[출처] 2022 모의_공공 사관학교 고3 07월 공통범위 15

61. 함수

$$f(x) = \left| 2a \cos \frac{b}{2}x - (a-2)(b-2) \right|$$

가 다음 조건을 만족시키도록 하는 10 이하의 자연수 a, b 의 모든 순서쌍 (a, b) 의 개수는?

- (가) 함수 $f(x)$ 는 주기가 π 인 주기함수이다.
- (나) $0 \leq x \leq 2\pi$ 에서 함수 $y = f(x)$ 의 그래프와 직선 $y = 2a - 1$ 의 교점의 개수는 4이다.

- ① 11
- ② 13
- ③ 15
- ④ 17
- ⑤ 19

03 수1

06 삼각함수의 그래프

03 삼각방정식과 부등식

06 삼각부등식1 (일차식꼴)

[출처] 2020 모의_공공 교육청 고3 04월 9

62. $0 < x \leq 2\pi$ 일 때, 방정식 $\sin^2 x = \cos^2 x + \cos x$ 와

부등식 $\sin x > \cos x$ 를 동시에 만족시키는 모든 x 의 값의 합은?

- ① $\frac{4}{3}\pi$
- ② $\frac{5}{3}\pi$
- ③ 2π
- ④ $\frac{7}{3}\pi$
- ⑤ $\frac{8}{3}\pi$

[출처] 2021 모의_공공 교육청 고2 06월 13

63. $0 \leq x \leq 2\pi$ 일 때, 부등식 $3\sin x - 2 > 0$ 의 해가

$\alpha < x < \beta$ 이다. $\cos(\alpha + \beta)$ 의 값은?

- ① -1 ② $-\frac{1}{2}$ ③ 0
- ④ $\frac{1}{2}$ ⑤ 1

03 수1

06 삼각함수의 그래프

03 삼각방정식과 부등식

08 방부등식의 활용1 (이차함수의 활용)

[출처] 2020 모의_공공 평가원 고3 06월 14

64. $0 \leq \theta < 2\pi$ 일 때, x 에 대한 이차방정식

$$x^2 - (2\sin\theta)x - 3\cos^2\theta - 5\sin\theta + 5 = 0$$

이 실근을 갖도록 하는 θ 의 최솟값과 최댓값을 각각 α, β 라 하자. $4\beta - 2\alpha$ 의 값은?

- ① 3π ② 4π ③ 5π
- ④ 6π ⑤ 7π

03 수1

06 삼각함수의 그래프

03 삼각방정식과 부등식

09 방부등식의 활용2 (부등식의 성립조건)

[출처] 2020 모의_공공 교육청 고2 09월 12

65. $0 \leq x < 2\pi$ 일 때, x 에 대한 부등식

$$\sin^2 x - 4\sin x - 5k + 5 \geq 0$$

이 항상 성립하도록 하는 실수 k 의 최댓값은?

- ① $\frac{2}{5}$ ② $\frac{1}{2}$ ③ $\frac{3}{5}$
 ④ $\frac{7}{10}$ ⑤ $\frac{4}{5}$

[출처]

2021 모의_공공 교육청 고2 11월 26

66. $0 \leq x < 2\pi$ 에서 x 에 대한 부등식

$$(2a+6)\cos x - a\sin^2 x + a + 12 < 0$$

의 해가 존재하도록 하는 자연수 a 의 최솟값을 구하시오.

[출처]

2022 모의_공공 경찰대 고3 07월 24

67. 모든 실수 x 에 대하여 부등식

$$(a\sin^2 x - 4)\cos x + 4 \geq 0$$

을 만족시키는 실수 a 의 최댓값과 최솟값의 합을 구하시오.

03 수1

06 삼각함수의 그래프

03 삼각방정식과 부등식

11 방부등식의 활용4 (추론과 해석)

[출처] 2020 모의_공공 교육청 고3 04월 21

68. 자연수 k 에 대하여 집합 A_k 를

$$A_k = \left\{ \sin \frac{2(m-1)}{k} \pi \mid m \text{은 자연수} \right\}$$

라 할 때, <보기>에서 옳은 것만을 있는 대로 고른 것은?

— <보 기> —

ㄱ. $A_3 = \left\{ -\frac{\sqrt{3}}{2}, 0, \frac{\sqrt{3}}{2} \right\}$

ㄴ. 1이 집합 A_k 의 원소가 되도록 하는 두 자리 자연수 k 의 개수는 22이다.

ㄷ. $n(A_k) = 11$ 을 만족시키는 모든 k 의 값의 합은 33이다.

- ① ㄱ ② ㄱ, ㄴ ③ ㄱ, ㄷ
- ④ ㄴ, ㄷ ⑤ ㄱ, ㄴ, ㄷ

[출처] 2020 모의_공공 평가원 고3 09월 21

69. 닫힌구간 $[-2\pi, 2\pi]$ 에서 정의된 두 함수

$$f(x) = \sin kx + 2, \quad g(x) = 3\cos 12x$$

에 대하여 다음 조건을 만족시키는 자연수 k 의 개수는?

실수 a 가 두 곡선 $y=f(x), y=g(x)$ 의 교점의 y 좌표이면

$$\{x \mid f(x) = a\} \subset \{x \mid g(x) = a\}$$

이다.

- ① 3 ② 4 ③ 5
- ④ 6 ⑤ 7

[출처] 2020 모의_공공 교육청 고2 06월 30

70. 두 실수 $a(0 < a < 2\pi)$ 와 k 에 대하여 $0 \leq x \leq 2\pi$ 에서

정의된 함수 $f(x)$ 는

$$f(x) = \begin{cases} \sin x - \frac{1}{2} & (0 \leq x < a) \\ k \sin x - \frac{1}{2} & (a \leq x \leq 2\pi) \end{cases}$$

이고, 다음 조건을 만족시킨다.

- (가) 함수 $|f(x)|$ 의 최댓값은 $\frac{1}{2}$ 이다.
- (나) 방정식 $f(x) = 0$ 의 실근의 개수는 3이다.

방정식 $|f(x)| = \frac{1}{4}$ 의 모든 실근의 합을 S 라 할 때,

$20\left(\frac{a+S}{\pi} + k\right)$ 의 값을 구하시오.

[출처] 2021 모의_공공 평가원 고3 06월 공통범위 15

71. $-1 \leq t \leq 1$ 인 실수 t 에 대하여 x 에 대한 방정식

$$\left(\sin \frac{\pi x}{2} - t\right)\left(\cos \frac{\pi x}{2} - t\right) = 0$$

의 실근 중에서 집합 $\{x \mid 0 \leq x < 4\}$ 에 속하는 가장 작은 값을 $\alpha(t)$, 가장 큰 값을 $\beta(t)$ 라 하자. <보기>에서 옳은 것만을 있는 대로 고른 것은?

— <보 기> —

- ㄱ. $-1 \leq t < 0$ 인 모든 실수 t 에 대하여 $\alpha(t) + \beta(t) = 5$ 이다.
- ㄴ. $\{t \mid \beta(t) - \alpha(t) = \beta(0) - \alpha(0)\} = \left\{t \mid 0 \leq t \leq \frac{\sqrt{2}}{2}\right\}$
- ㄷ. $\alpha(t_1) = \alpha(t_2)$ 인 두 실수 t_1, t_2 에 대하여 $t_2 - t_1 = \frac{1}{2}$ 이면 $t_1 \times t_2 = \frac{1}{3}$ 이다.

- ① ㄱ
- ② ㄱ, ㄴ
- ③ ㄱ, ㄷ
- ④ ㄴ, ㄷ
- ⑤ ㄱ, ㄴ, ㄷ

[출처] 2022 모의_공공 교육청 고2 06월 30

72. 두 실수 a, b 와 두 함수

$$f(x) = \sin x, g(x) = a \cos x + b$$

에 대하여 $0 \leq x \leq 2\pi$ 에서 정의된 함수

$$h(x) = \frac{|f(x) - g(x)| + f(x) + g(x)}{2}$$

가 다음 조건을 만족시킨다.

(가) 함수 $h(x)$ 의 최솟값은 $-\frac{\sqrt{3}}{2}$ 이다.

(나) $0 < c < \frac{\pi}{2}$ 인 어떤 실수 c 에 대하여

$$h(c) = h(c + \pi) = \frac{1}{2}$$

상수 $k \left(k > \frac{1}{2} \right)$ 에 대하여 방정식 $h(x) = k$ 가 서로 다른 세

실근을 가질 때, $a + 20 \left(\frac{k}{b} \right)^2$ 의 값을 구하시오.

[수학1] [6삼각함수의 그래프] 교사평경
최근 3개년 (빠른 정답)

년도별경향

2022.12.27

1. [정답] ④
2. [정답] ②
3. [정답] ④
4. [정답] ⑤
5. [정답] ③
6. [정답] 8
7. [정답] 40
8. [정답] 3
9. [정답] 4
10. [정답] 12
11. [정답] 6
12. [정답] ②
13. [정답] ①
14. [정답] ①
15. [정답] ④
16. [정답] ③
17. [정답] ②
18. [정답] ③
19. [정답] ③
20. [정답] ③
21. [정답] ③
22. [정답] ④
23. [정답] ③
24. [정답] ④
25. [정답] ④
26. [정답] ③
27. [정답] ②
28. [정답] ④
29. [정답] ⑤
30. [정답] ②
31. [정답] ⑤
32. [정답] ③
33. [정답] ①
34. [정답] ②
35. [정답] ③
36. [정답] ①
37. [정답] ⑤
38. [정답] ①
39. [정답] 12
40. [정답] ⑤
41. [정답] ③
42. [정답] ③
43. [정답] ③
44. [정답] ②
45. [정답] ④
46. [정답] ④
47. [정답] 480
48. [정답] 14
49. [정답] ⑤
50. [정답] 10
51. [정답] ②
52. [정답] 49
53. [정답] ④
54. [정답] ②
55. [정답] 686
56. [정답] ④
57. [정답] ③
58. [정답] ③
59. [정답] ①
60. [정답] ②
61. [정답] ⑤
62. [정답] ①
63. [정답] ①
64. [정답] ①
65. [정답] ①
66. [정답] 7
67. [정답] 14
68. [정답] ②
69. [정답] ②
70. [정답] 110
71. [정답] ②

72. [정답] 59

[수학1] [6삼각함수의 그래프] 교사평경
최근 3개년 (해설)

년도별경향

2022.12.27

1) [정답] ④

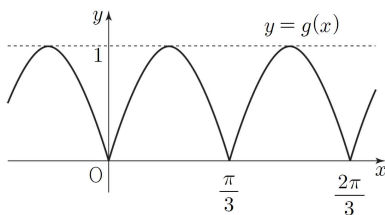
[해설]

함수 $y = \tan \frac{x}{4}$ 의 주기는 $\frac{\pi}{\left|\frac{1}{4}\right|} = 4\pi$

2) [정답] ②

[해설]

함수 $g(x) = |\sin 3x|$ 의 그래프는 다음과 같다.



함수 $g(x)$ 의 주기는 $\frac{\pi}{3}$

함수 $f(x)$ 의 주기는 $\frac{2\pi}{|a|}$

두 함수 $f(x), g(x)$ 의 주기가 서로 같으므로 $\frac{2\pi}{|a|} = \frac{\pi}{3}$

a 는 양수이므로 $a=6$

3) [정답] ④

[해설]

양수 a 에 대하여 함수 $f(x) = \sin\left(ax + \frac{\pi}{6}\right)$ 의 주기는

$\frac{2\pi}{a}$ 이므로 $\frac{2\pi}{a} = 4\pi$ 에서 $a = \frac{1}{2}$

따라서 $f(\pi) = \sin\left(\frac{\pi}{2} + \frac{\pi}{6}\right) = \cos \frac{\pi}{6} = \frac{\sqrt{3}}{2}$

4) [정답] ⑤

[해설]

함수 $y = \cos ax$ 의 주기는 $\frac{2\pi}{|a|}$ 이므로 함수 $y = \cos \frac{x}{3}$ 의 주기는

$$\frac{2\pi}{\frac{1}{3}} = 6\pi$$

5) [정답] ③

[해설]

$$\tan\left(\pi x + \frac{\pi}{2}\right) = \tan\left(\pi x + \frac{\pi}{2} + \pi\right) = \tan\left\{\pi(x+1) + \frac{\pi}{2}\right\}$$

따라서 $y = \tan\left(\pi x + \frac{\pi}{2}\right)$ 의 주기는 1

6) [정답] 8

[해설]

함수 $y = k \sin\left(x + \frac{\pi}{2}\right) + 10 = k \cos x + 10$ 의 그래프가 점

$\left(\frac{\pi}{3}, 14\right)$ 를 지나므로 $14 = k \cos \frac{\pi}{3} + 10$ 이고

$$14 = \frac{1}{2}k + 10 \text{이다.}$$

따라서 $k=8$

7) [정답] 40

[해설]

단현구간 $\left[-\frac{\pi}{a}, \frac{2\pi}{a}\right]$ 에서 $0 < a < \frac{4}{7}$ 이므로 $-\frac{\pi}{a} < -\frac{7}{4}\pi$,

$\frac{7\pi}{2} < \frac{2\pi}{a}$ 이다.

함수 $f(x) = 2\sin(ax) + b$ 의 그래프가 두 점 $A\left(-\frac{\pi}{2}, 0\right)$,

$B\left(\frac{7}{2}\pi, 0\right)$ 을 지나므로

$$f\left(-\frac{\pi}{2}\right) = 2\sin\left(-\frac{a}{2}\pi\right) + b = -2\sin\left(\frac{a}{2}\pi\right) + b = 0$$

$$f\left(\frac{7\pi}{2}\right) = 2\sin\left(\frac{7a}{2}\pi\right) + b = 0$$

따라서 $\sin\left(\frac{7a\pi}{2}\right) = -\sin\left(\frac{a}{2}\pi\right)$

$0 < a < \frac{4}{7}$ 에서 $0 < \frac{a}{2}\pi < \frac{2}{7}\pi$, $0 < \frac{7a}{2}\pi < 2\pi$ 이므로

$$\frac{7a\pi}{2} = 2\pi - \frac{a}{2}\pi \quad \text{또는} \quad \frac{7a\pi}{2} = \pi + \frac{a}{2}\pi$$

따라서 $a = \frac{1}{2}$ 또는 $a = \frac{1}{3}$

(i) $a = \frac{1}{2}$ 일 때

$$f(x) = 2\sin\left(\frac{1}{2}x\right) + b \text{에서}$$

$$\begin{aligned} f\left(-\frac{\pi}{2}\right) &= 2\sin\left(-\frac{\pi}{4}\right) + b \\ &= 2 \times \left(-\frac{\sqrt{2}}{2}\right) + b \\ &= -\sqrt{2} + b = 0 \end{aligned}$$

이므로 $b = \sqrt{2}$

이는 b 는 유리수라는 조건을 만족시키지 않는다.

(ii) $a = \frac{1}{3}$ 일 때

$$f(x) = 2\sin\left(\frac{1}{3}x\right) + b \text{에서}$$

$$\begin{aligned} f\left(-\frac{\pi}{2}\right) &= 2\sin\left(-\frac{\pi}{6}\right) + b \\ &= 2 \times \left(-\frac{1}{2}\right) + b \\ &= -1 + b = 0 \end{aligned}$$

이므로 $b = 1$

이때 $f\left(\frac{7}{2}\pi\right) = 0$ 이다.

(i), (ii)에서 $a = \frac{1}{3}$, $b = 1$ 이고

$$30(a+b) = 30 \times \left(\frac{1}{3} + 1\right) = 40$$

8) [정답] 3

[해설]

함수 $y = 2\sin\left(x - \frac{\pi}{3}\right) + k$ 의 그래프가 점 $\left(\frac{\pi}{6}, 2\right)$ 를 지나므로

$$2 = 2\sin\left(\frac{\pi}{6} - \frac{\pi}{3}\right) + k \text{이다.}$$

따라서 $2 = 2\sin\left(-\frac{\pi}{6}\right) + k$ 에서 $k = 3$

9) [정답] 4

[해설]

함수 $y = 3\sin(x + \pi) + k$ 의 그래프가 점 $\left(\frac{\pi}{6}, \frac{5}{2}\right)$ 를 지나므로

$$\frac{5}{2} = 3\sin\left(\frac{\pi}{6} + \pi\right) + k = 3 \times \left(-\sin\frac{\pi}{6}\right) + k \text{이다. 따라서}$$

$$-\frac{3}{2} + k = \frac{5}{2}, \quad \text{즉 } k = 4$$

10) [정답] 12

[해설]

함수 $f(x) = 5\sin\left(\frac{\pi}{2}x + 1\right) + 3$ 에서 주기는 $p = \frac{2\pi}{\frac{\pi}{2}} = 4$ 이고

최댓값은 $M = 5 + 3 = 8$ 이므로 $p + M = 12$

11) [정답] 6

[해설]

$-1 \leq \sin x \leq 1$ 에서 $-5 \leq 5\sin x \leq 5$ 이므로

$$-5 + 1 \leq 5\sin x + 1 \leq 5 + 1$$

$$\therefore -4 \leq 5\sin x + 1 \leq 6$$

즉, $f(x) = 5\sin x + 1$ 의 최댓값은 6

12) [정답] ②

[해설]

$-1 \leq \cos x \leq 1$ 이므로 $f(x) = 4\cos x + 3$ 에서

$$-1 \leq 4\cos x + 3 \leq 7$$

즉, $-1 \leq f(x) \leq 7$ 이므로 $f(x)$ 의 최댓값은 7이다.

13) [정답] ①

[해설]

함수 $f(x)$ 의 주기가 4π 이므로

$$\frac{2\pi}{|b|} = \frac{2\pi}{b} = 4\pi \text{에서 } b = \frac{1}{2}$$

최솟값이 -1 이므로 $-|a| + 3 = -1$ 에서 $a = 4$

따라서 $a + b = \frac{9}{2}$

14) [정답] ①

[해설]

함수 $f(x) = 4\cos \frac{\pi}{a}x + b$ 의 주기가 4이므로

$$\frac{2\pi}{\left|\frac{\pi}{a}\right|} = 4$$

$a > 0$ 이므로 $a = 2$

함수 $f(x)$ 의 최솟값이 -1 이므로

$$-4 + b = -1 \text{에서 } b = 3$$

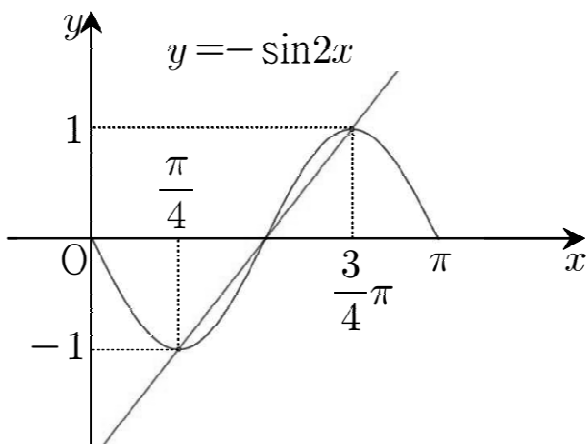
따라서 $a + b = 5$

15) [정답] ④

[해설]

함수 $f(x) = -\sin 2x$ 의 주기는 $\frac{2\pi}{2} = \pi$ 이

므로 함수 $y = f(x)$ 의 그래프는 다음과 같다.



함수 $f(x)$ 는 $x = \frac{\pi}{4}$ 일 때 최솟값

$$f\left(\frac{\pi}{4}\right) = -\sin \frac{\pi}{2} = -1$$

을 갖고, $x = \frac{3}{4}\pi$ 일 때 최댓값

$$f\left(\frac{3}{4}\pi\right) = -\sin \frac{3}{2}\pi = 1$$

을 갖는다.

따라서 $a = \frac{3\pi}{4}$, $b = \frac{\pi}{4}$ 이므로 두 점

$\left(\frac{3}{4}\pi, 1\right)$, $\left(\frac{\pi}{4}, -1\right)$ 을 지나는 직선의

기울기는

$$\frac{1 - (-1)}{\frac{3}{4}\pi - \frac{\pi}{4}} = \frac{2}{\frac{\pi}{2}} = \frac{4}{\pi}$$

16) [정답] ③

[해설]

함수 $f(x) = a - \sqrt{3}\tan 2x$ 의 그래프의 주기는 $\frac{\pi}{2}$ 이다.

함수 $f(x)$ 가 닫힌구간 $\left[-\frac{\pi}{6}, b\right]$ 에서 최댓값과 최솟값을 가지므로

$$-\frac{\pi}{6} < b < \frac{\pi}{4}$$

한편, 함수 $y = f(x)$ 의 그래프는 구간 $\left[-\frac{\pi}{6}, b\right]$ 에서 x 의 값이 증가할 때, y 의 값은 감소한다.

함수 $f(x)$ 는 $x = -\frac{\pi}{6}$ 에서 최댓값 7을 가지므로

$$f\left(-\frac{\pi}{6}\right) = a - \sqrt{3}\tan\left(-\frac{\pi}{3}\right) = 7 \text{에서}$$

$$a + \sqrt{3}\tan \frac{\pi}{3} = 7$$

$$a + 3 = 7, \quad a = 4$$

함수 $f(x)$ 는 $x = b$ 에서 최솟값 3을 가지므로

$$f(b) = 4 - \sqrt{3}\tan 2b = 3 \text{에서}$$

$$\tan 2b = \frac{\sqrt{3}}{3}$$

이때, $-\frac{\pi}{3} < 2b < \frac{\pi}{2}$ 이므로

$$2b = \frac{\pi}{6}, \quad b = \frac{\pi}{12}$$

$$\therefore a \times b = 4 \times \frac{\pi}{12} = \frac{\pi}{3}$$

17) [정답] ②

[해설]

주어진 삼각함수 $y = a\sin bx + c$ ($a > 0$, $b > 0$)의 최댓값이 3, 최솟값이 -1 이므로

$$a + c = 3, \quad -a + c = 1$$

$$\therefore a = 2, \quad c = 1$$

한편, 주어진 그래프에서 삼각함수의 주기가

$$\frac{5}{4}\pi - \frac{1}{4}\pi = \pi \text{이므로 } \frac{2\pi}{b} = \pi \text{이고 } b = 2 \text{이다.}$$

따라서 $a + b + c = 5$

18) [정답] ③

[해설]

함수 $y = a \tan bx + c$ 의 주기가 2π 이고 $b > 0$ 이므로

$$\frac{\pi}{b} = 2\pi \text{에서 } b = \frac{1}{2} \text{이다.}$$

함수 $y = a \tan \frac{x}{2} + c$ 의 그래프가 점 $(0, 2)$ 를 지나므로

$$2 = a \tan 0 + c \text{에서 } c = 2 \text{이다.}$$

함수 $y = a \tan \frac{x}{2} + 2$ 의 그래프가 점 $(\frac{\pi}{2}, 5)$ 를 지나므로

$$5 = a \tan \frac{\pi}{4} + 2 \text{에서 } a = 3 \text{이다.}$$

$$\text{따라서 } a \times b \times c = 3$$

19) [정답] ③

[해설]

주어진 삼각함수 $y = a \cos bx + c (a > 0, b > 0)$ 의 최댓값이 $a + c$, 최솟값이 $-a + c$ 이므로 $a + c = 1, -a + c = -3$ 에서 $a = 2, c = -1$ 이다. 한편, 주어진 그래프에서 삼각함수의

주기가 $\frac{2}{3}\pi$ 이므로 $\frac{2\pi}{b} = \frac{2}{3}\pi$, 즉 $b = 3$ 이다. 따라서

$$a \times b \times c = -6$$

20) [정답] ③

[해설]

함수 $y = a \sin b\pi x$ 의 주기는 $\frac{2\pi}{b\pi} = \frac{2}{b}$ 이므로 두 점 A, B의

$$\text{좌표는 } A\left(\frac{1}{2b}, a\right), B\left(\frac{5}{2b}, a\right)$$

따라서 삼각형 OAB의 넓이가 5이므로

$$\frac{1}{2} \times a \times \left(\frac{5}{2b} - \frac{1}{2b}\right) = 5, \frac{a}{b} = 5$$

$$a = 5b \quad \dots\dots \textcircled{1}$$

직선 OA의 기울기와 직선 OB의 기울기의 곱이 $\frac{5}{4}$ 이므로

$$\frac{a}{\frac{1}{2b}} \times \frac{a}{\frac{5}{2b}} = 2ab \times \frac{2ab}{5}$$

$$= \frac{4a^2b^2}{5} = \frac{5}{4}$$

$$a^2b^2 = \frac{25}{16}, ab = \frac{5}{4} \quad \dots\dots \textcircled{2}$$

①, ②에서 $a = \frac{5}{2}, b = \frac{1}{2}$ 이므로

$$a + b = 3$$

21) [정답] ③

[해설]

$$\frac{\pi}{\frac{\pi}{a}} = a \text{이므로}$$

함수 $f(x)$ 의 주기는 a 이다.

직선 AB는 원점을 지나고 기울기가 $\sqrt{3}$ 인 직선이므로 양수 t 에 대하여 $B(t, \sqrt{3}t)$ 로 놓으면 $A(-t, -\sqrt{3}t)$ 이고, $\overline{AB} = 4t$ 이다.

이때, 함수 $f(x)$ 의 주기가 a 이므로 $\overline{AC} = 4t = a$ 이고, $C(-t+a, -\sqrt{3}t)$, 즉 $C(3t, -\sqrt{3}t)$ 이다.

점 C가 곡선 $y = \tan \frac{\pi x}{a} = \tan \frac{\pi x}{4t}$ 위의 점이므로

$$-\sqrt{3}t = \tan \frac{\pi \times 3t}{4t}$$

$$-\sqrt{3}t = \tan \frac{3\pi}{4} \text{에서}$$

$$t = \frac{1}{\sqrt{3}}$$

따라서 삼각형 ABC의 넓이는

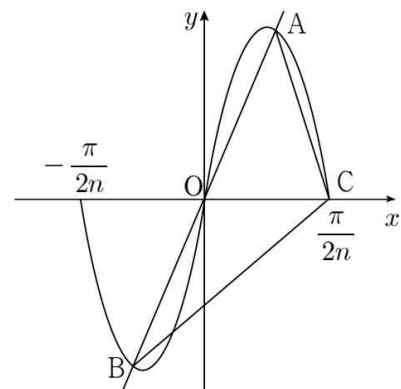
$$\frac{\sqrt{3}}{4} \times (4t)^2 = \frac{\sqrt{3}}{4} \times \left(\frac{4}{\sqrt{3}}\right)^2$$

$$= \frac{4}{\sqrt{3}}$$

$$= \frac{4\sqrt{3}}{3}$$

22) [정답] ④

[해설]



함수 $y = 3 \sin 2nx$ 의 주기는 $\frac{2\pi}{2n} = \frac{\pi}{n}$ 이다.

원점을 지나고 기울기가 양수인 직선이 $-\frac{\pi}{2n} < x < \frac{\pi}{2n}$ 에서

함수 $y = 3 \sin 2nx$ 의 그래프와 만나는 원점이 아닌 두 점 A와 B는 원점에 대하여 대칭이다. 따라서 실수

$t \left(-\frac{\pi}{2n} < t < \frac{\pi}{2n}, t \neq 0\right)$ 에 대하여 점 A의 좌표를

$(t, 3\sin 2nt)$ 라 하면 점 B의 좌표는 $(-t, -3\sin 2nt)$ 이다.
삼각형 AOC의 넓이와 삼각형 BOC의 넓이가 같으므로
삼각형 ABC의 넓이는

$$2 \times \frac{1}{2} \times \frac{\pi}{2n} \times 3|\sin 2nt| = \frac{\pi}{12}$$

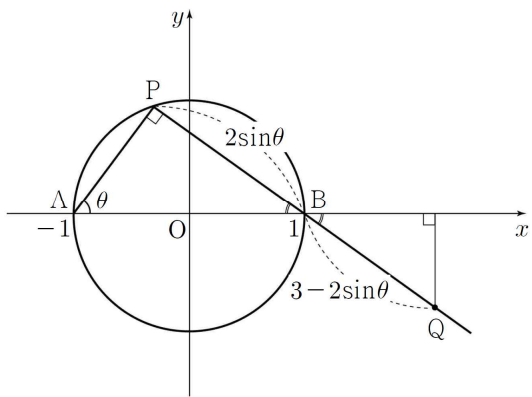
이고 $|\sin 2nt| = \frac{n}{18}$ 이다.

$0 < |\sin 2nt| \leq 1$ 이므로 $0 < \frac{n}{18} \leq 1$ 이다.

따라서 n 의 최댓값은 18이다.

23) [정답] ③

[해설]



$\angle APB = \frac{\pi}{2}$ 이므로 $\angle PBA = \frac{\pi}{2} - \theta$ 이고, $\overline{BP} = 2\sin\theta$ 이므로

$$\overline{BQ} = 3 - 2\sin\theta$$

따라서 점 Q의 x 좌표는

$$\begin{aligned} & 1 + \overline{BQ} \times \cos\left(\frac{\pi}{2} - \theta\right) \\ &= 1 + (3 - 2\sin\theta)\sin\theta \\ &= 1 + 3\sin\theta - 2\sin^2\theta \\ &= -2\left(\sin\theta - \frac{3}{4}\right)^2 + \frac{17}{8} \end{aligned}$$

이므로 $\sin\theta = \frac{3}{4}$ 일 때 최대이다.

$$\text{그러므로 } \sin^2\theta = \frac{9}{16}$$

24) [정답] ④

[해설]

$$f(x) = \cos^2 x - 4\cos\left(x + \frac{\pi}{2}\right) + 3$$

$$= \cos^2 x + 4\sin x + 3$$

$$= -\sin^2 x + 4\sin x + 4$$

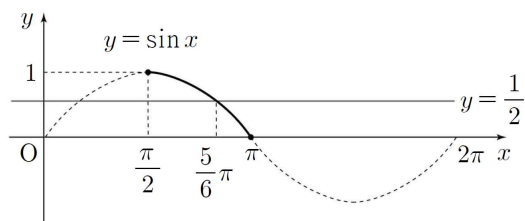
$\sin x = t (-1 \leq t \leq 1)$ 로 치환하면

$$y = -t^2 + 4t + 4$$

이차함수의 축의 방정식이 $t = 2$ 이므로 $t = 1$ 일 때 최댓값 $-1 + 4 + 4 = 7$ 이다.

25) [정답] ④

[해설]

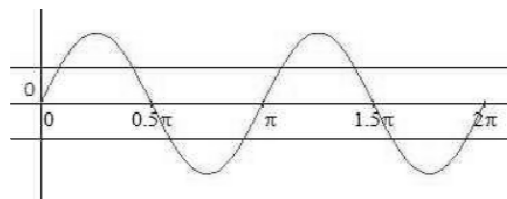


$\sin \frac{\pi}{6} = \frac{1}{2}$ 이므로 $\frac{\pi}{2} \leq x \leq \pi$ 일 때, 함수 $y = \sin x$ 의
그래프와 직선 $y = \frac{1}{2}$ 이 만나는 점의 x 좌표는 $\frac{5}{6}\pi$ 이다.

따라서 방정식 $\sin x = \frac{1}{2}$ 의 해는 $x = \frac{5}{6}\pi$ 이다.

26) [정답] ③

[해설]



$\sin 2x = \frac{1}{2}$ 또는 $-\frac{1}{2}$ 이고, 그림과 같이 8개인데, 서로

$x = \pi$ 에 대하여 대칭이다.

따라서 8개의 근의 합은 8π 이다.

27) [정답] ②

[해설]

$x = \pi - \theta (0 \leq \theta \leq \frac{\pi}{2})$ 라 하면

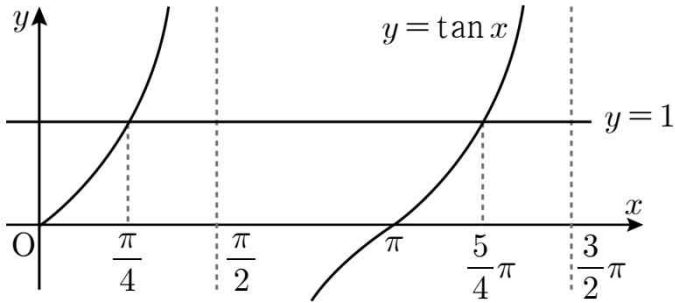
$\cos x = \cos(\pi - \theta) = -\cos\theta = -\frac{1}{2}$ 이므로 $\cos\theta = \frac{1}{2}$ 에서

$\theta = \frac{\pi}{3}$ 이다.

따라서 $x = \pi - \frac{\pi}{3} = \frac{2}{3}\pi$

28) [정답] ④

[해설]



방정식 $\tan x = 1$ 의 해는 함수 $y = \tan x$ 의 그래프와 직선 $y = 1$ 이 만나는 점의 x 좌표와 같다. $\tan \frac{\pi}{4} = 1$ 이고 함수 $y = \tan x$ 의 주기가 π 이므로 구하는 해는 $x = \frac{5}{4}\pi$

29) [정답] ⑤

[해설]

$$(1 - \sin^2 3x) - \sin 3x + 1 = 0$$

$$\sin^2 3x + \sin 3x - 2 = 0$$

$$(\sin 3x + 2)(\sin 3x - 1) = 0$$

$$\sin 3x = 1, 3x = \frac{\pi}{2}, \frac{5}{2}\pi, \frac{9}{2}\pi$$

$$x = \frac{1}{6}\pi, \frac{5}{6}\pi, \frac{9}{6}\pi \text{이므로 그 합은 } \frac{5}{2}\pi$$

30) [정답] ②

[해설]

$$\cos\left(\frac{\pi}{2} + x\right) = -\sin x \text{이므로}$$

$$4\sin^2 x - 4\cos\left(\frac{\pi}{2} + x\right) - 3$$

$$= 4\sin^2 x + 4\sin x - 3$$

$\sin x = t$ 라 하면 t 의 범위는 $0 \leq x \leq 4\pi$ 에 의하여

$$-1 \leq t \leq 1$$

준 식은 $4t^2 + 4t - 3$ 이므로

$$(2t - 1)(2t + 3) = 0$$

$$\therefore t = \frac{1}{2}, -\frac{3}{2}$$

$$\therefore t = \frac{1}{2} (\because -1 \leq t \leq 1)$$

즉, $0 \leq x \leq 4\pi$ 에서 $\sin x = \frac{1}{2}$ 를 만족하는 x 의 값은

$$x = \frac{\pi}{6}, \pi - \frac{\pi}{6}, 2\pi + \frac{\pi}{6}, 3\pi - \frac{\pi}{6}$$

따라서 모든 해의 합은 6π

31) [정답] ⑤

[해설]

$$\sin x = \sqrt{3}(1 + \cos x), \sin^2 x = 1 - \cos^2 x \text{이므로}$$

$$1 - \cos^2 x = 3(1 + \cos x)^2, 2(1 + \cos x)(2\cos x + 1) = 0$$

(i) $\cos x = -1$ 일 때, $\sin x = 0$ 이고 $x = \pi$

(ii) $\cos x = -\frac{1}{2}$ 일 때, $\sin x = \frac{\sqrt{3}}{2}$ 이고 $x = \frac{2}{3}\pi$

(i), (ii)에서 방정식의 모든 해의 합은 $\frac{5}{3}\pi$ 이다.

32) [정답] ③

[해설]

$$2\cos^2 x - \sin(\pi + x) - 2 = 2(1 - \sin^2 x) + \sin x - 2$$

$$= -2\sin^2 x + \sin x$$

$$= -\sin x(2\sin x - 1) = 0$$

$$\sin x = 0 \text{ 또는 } \sin x = \frac{1}{2}$$

$0 < x < 2\pi$ 이므로

$\sin x = 0$ 에서 $x = \pi$

$\sin x = \frac{1}{2}$ 에서 $x = \frac{\pi}{6}$ 또는 $x = \frac{5}{6}\pi$

따라서 모든 해의 합은 2π 이다.

33) [정답] ①

[해설]

$$\tan \theta - \frac{6}{\tan \theta} = 1 \text{이므로}$$

양변에 $\tan \theta$ 를 곱하면

$$\tan^2 \theta - 6 = \tan \theta$$

$$\tan^2 \theta - \tan \theta - 6 = 0$$

$$(\tan \theta + 2)(\tan \theta - 3) = 0$$

$$\tan \theta = -2 \text{ 또는 } \tan \theta = 3$$

이때, $\pi < \theta < \frac{3}{2}\pi$ 이므로

$$\tan \theta = 3$$

이때,

$$\frac{\sin \theta}{\cos \theta} = 3,$$

$$\sin \theta = 3 \cos \theta$$

이므로

$$\sin^2 \theta + \cos^2 \theta = 1 \text{ 에 대입하면}$$

$$9 \cos^2 \theta + \cos^2 \theta = 1$$

$$10 \cos^2 \theta = 1$$

$$\cos \theta = \frac{1}{\sqrt{10}} \text{ 또는 } \cos \theta = -\frac{1}{\sqrt{10}}$$

이때, $\pi < \theta < \frac{3}{2}\pi$ 이므로

$$\cos \theta = -\frac{1}{\sqrt{10}} \quad \dots\dots \textcircled{㉠}$$

이 값을 $\sin^2 \theta + \cos^2 \theta = 1$ 에 대입하면

$$\sin^2 \theta + \frac{1}{10} = 1$$

$$\sin^2 \theta = \frac{9}{10}$$

$$\sin \theta = \frac{3}{\sqrt{10}} \text{ 또는 } \sin \theta = -\frac{3}{\sqrt{10}}$$

이때, $\pi < \theta < \frac{3}{2}\pi$ 이므로

$$\sin \theta = -\frac{3}{\sqrt{10}} \quad \dots\dots \textcircled{㉡}$$

따라서, ㉠과 ㉡에서

$$\begin{aligned} \sin \theta + \cos \theta &= \left(-\frac{3}{\sqrt{10}}\right) + \left(-\frac{1}{\sqrt{10}}\right) \\ &= -\frac{4}{\sqrt{10}} \\ &= -\frac{2\sqrt{10}}{5} \end{aligned}$$

34) [정답] ②

[해설]

두 함수의 그래프가 만나는 점의 y 좌표가 같으므로

$$\sin x = \cos\left(x + \frac{\pi}{2}\right) + 1$$

$$\cos\left(x + \frac{\pi}{2}\right) = -\sin x \text{ 이므로 } 2\sin x = 1$$

$$\text{즉, } \sin x = \frac{1}{2}$$

$$\text{그러므로 } x = \frac{\pi}{6} \text{ 또는 } x = \frac{5}{6}\pi$$

따라서 모든 점의 x 좌표의 합은 π

35) [정답] ③

[해설]

$$6\sin\frac{\pi}{12}x = 3 \text{ 에서 } \sin\frac{\pi}{12}x = \frac{1}{2}$$

$$\frac{\pi}{12}x = \frac{\pi}{6}, \frac{5}{6}\pi$$

$$x = 2, 10, \therefore \overline{AB} = 10 - 2 = 8$$

36) [정답] ①

[해설]

$$\text{방정식 } \sin\frac{\pi x}{4} = \frac{\sqrt{2}}{2} \text{ } (-4 \leq x \leq 4) \text{ 에서}$$

$$\frac{\pi x}{4} = \frac{\pi}{4} \text{ 또는 } \frac{\pi x}{4} = \frac{3}{4}\pi, x = 1 \text{ 또는 } x = 3$$

점 A의 좌표는 $(1, \sqrt{2})$

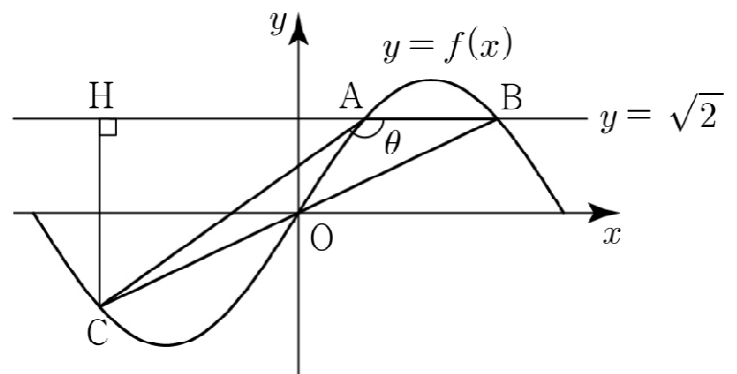
점 B의 좌표는 $(3, \sqrt{2})$

점 B와 점 C는 원점에 대하여 서로 대칭이므로

점 C의 좌표는 $(-3, -\sqrt{2})$

점 C에서 직선 $y = \sqrt{2}$ 에 내린 수선의 발을

H라 하면 점 H의 좌표는 $(-3, \sqrt{2})$



$$\angle CAH = \pi - \theta, \sin \theta = \sin(\pi - \theta)$$

$$\overline{CH} = 2\sqrt{2}$$

$$\overline{AC} = \sqrt{(-3-1)^2 + (-\sqrt{2}-\sqrt{2})^2} = 2\sqrt{6}$$

이므로 직각삼각형 ACH에서

$$\sin(\pi - \theta) = \frac{\overline{CH}}{\overline{AC}} = \frac{2\sqrt{2}}{2\sqrt{6}} = \frac{\sqrt{3}}{3}$$

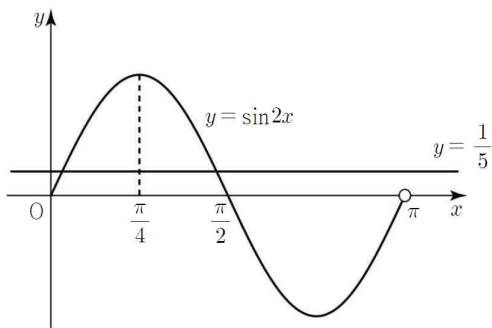
따라서 $\sin\theta = \frac{\sqrt{3}}{3}$

37) [정답] ⑤

[해설]

$y = \sin x$ 의 주기는 $\frac{2\pi}{n}$

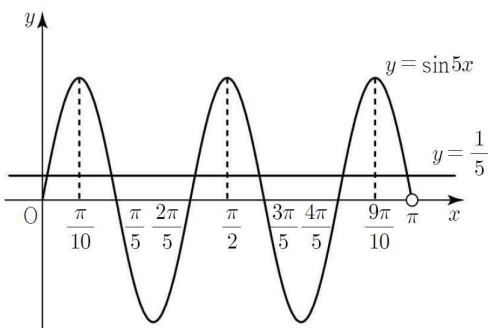
(i) $n=2$ 일 때, $y = 2\sin 2x$ 의 주기는 π



$0 \leq x < \pi$ 에서 방정식 $\sin 2x = \frac{1}{5}$ 은 직선 $x = \frac{\pi}{4}$ 에 대하여 대칭인 해를 2개 가지므로

$$f(2) = \frac{\pi}{4} \times 2 = \frac{\pi}{2}$$

(ii) $n=5$ 일 때, $y = \sin 5x$ 의 주기는 $\frac{2\pi}{5}$



$0 \leq x < \pi$ 에서 방정식 $\sin 5x = \frac{1}{5}$ 은 세 직선

$x = \frac{\pi}{10}$, $x = \frac{\pi}{2}$, $x = \frac{9\pi}{10}$ 에 대하여 각각 대칭인 해를

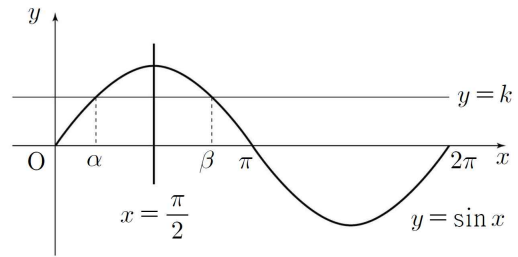
2개씩 가지므로

$$f(5) = \frac{\pi}{10} \times 2 + \frac{\pi}{2} \times 2 + \frac{9\pi}{10} \times 2 = 3\pi$$

(i), (ii)에 의하여 $f(2) + f(5) = \frac{7}{2}\pi$

38) [정답] ①

[해설]



함수 $y = \sin x$ 의 그래프는 직선 $x = \frac{\pi}{2}$ 에 대하여 대칭이므로

함수 $y = \sin x$ 의 그래프와 직선 $y = k$ 가 만나는 두 점의

x 좌표 α , β 에 대하여 $\frac{\alpha + \beta}{2} = \frac{\pi}{2}$, 즉 $\alpha + \beta = \pi$ 이므로

$\beta = \pi - \alpha$ 이다.

$$\frac{\beta - \alpha}{2} = \frac{(\pi - \alpha) - \alpha}{2} = \frac{\pi}{2} - \alpha \text{이므로}$$

$$\sin \frac{\beta - \alpha}{2} = \sin \left(\frac{\pi}{2} - \alpha \right) = \cos \alpha = \frac{5}{7}$$

따라서 $k^2 = \sin^2 \alpha = 1 - \cos^2 \alpha = 1 - \left(\frac{5}{7}\right)^2 = \frac{24}{49}$ 이므로

$$k = \frac{2\sqrt{6}}{7}$$

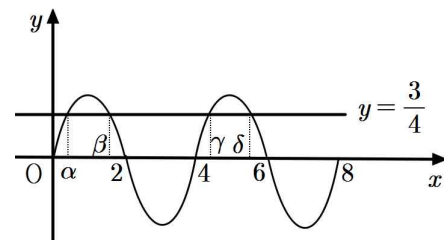
39) [정답] 12

[해설]

$y = \sin \frac{\pi x}{2}$ 는 $\frac{2\pi}{\frac{\pi}{2}}$ 이므로 주기는 4이다.

$0 \leq x \leq 8$ 일 때 $\sin \frac{\pi x}{2} = \frac{3}{4}$ 을 만족시키는 해는 아래

그래프와 같이 α , β , γ , δ 라 하자.



(i) $y = \sin \frac{\pi x}{2}$ 의 그래프와 $y = \frac{3}{4}$ 의 교점의 x 좌표를 α ,

β 라 하면 두 값의 평균은 1이므로 $\frac{\alpha + \beta}{2} = 1$ 에서

$\alpha + \beta = 2$ 이다.

(ii) (i) $y = \sin \frac{\pi x}{2}$ 의 그래프와 $y = \frac{3}{4}$ 의 교점의 x 좌표를

γ , δ 라 하면 두 값의 평균은 5이므로

$$\frac{\gamma + \delta}{2} = 5 \text{에서 } \alpha + \beta = 10 \text{이다.}$$

따라서 $\alpha + \beta + \gamma + \delta = 2 + 10 = 12$

40) [정답] ⑤

[해설]

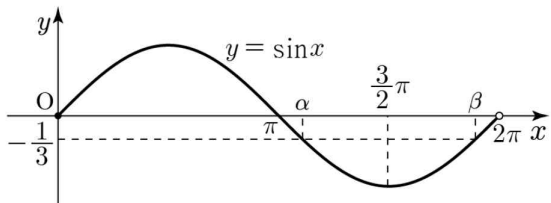
$\cos^2 x = 1 - \sin^2 x$ 이므로

$$3(1 - \sin^2 x) + 5\sin x - 1 = 0,$$

$$3\sin^2 x - 5\sin x - 2 = 0,$$

$$(3\sin x + 1)(\sin x - 2) = 0$$

$-1 \leq \sin x \leq 1$ 이므로 $\sin x = -\frac{1}{3}$ ㉠



㉠을 만족시키는 x 의 값을 $x = \alpha, \beta (\alpha < \beta)$ 라 하면

$$\frac{\alpha + \beta}{2} = \frac{3}{2}\pi \text{이므로 } \alpha + \beta = 3\pi$$

따라서 모든 해의 합은 3π

41) [정답] ③

[해설]

세 점 A, B, C의 x 좌표를 각각 $x_1 (0 < x_1 < 1)$, x_2, x_3 이라

하면 삼각함수 $y = \sin \frac{\pi}{2}x$ 의 주기가 4이므로 $x_2 = 2 - x_1$,

$$x_3 = x_1 + 4$$

$$x_1 + x_2 + x_3 = x_1 + (2 - x_1) + (x_1 + 4)$$

$$= x_1 + 6 = \frac{25}{4}$$

$$x_1 = \frac{1}{4}, x_2 = 2 - x_1 = \frac{7}{4}$$

따라서 $\overline{AB} = x_2 - x_1 = \frac{3}{2}$

42) [정답] ③

[해설]

$0 \leq x \leq \frac{2\pi}{a}$ 에서 $0 \leq ax \leq 2\pi$ 이므로

$$2\cos ax = 1, \text{ 즉 } \cos ax = \frac{1}{2} \text{에서}$$

$$ax = \frac{\pi}{3} \text{ 또는 } ax = \frac{5\pi}{3}, \text{ 즉 } x = \frac{\pi}{3a} \text{ 또는 } x = \frac{5\pi}{3a}$$

두 점 A, B의 좌표가 각각 $(\frac{\pi}{3a}, 1), (\frac{5\pi}{3a}, 1)$ 이고

$$\overline{AB} = \frac{8}{3} \text{이므로}$$

$$\frac{5\pi}{3a} - \frac{\pi}{3a} = \frac{4\pi}{3a} = \frac{8}{3}$$

$$a = \frac{4\pi}{3} \times \frac{3}{8} = \frac{\pi}{2}$$

43) [정답] ③

[해설]

$$f(x) = \cos \frac{\pi x}{6} \text{의 주기는 } \frac{2\pi}{\frac{\pi}{6}} = 12$$

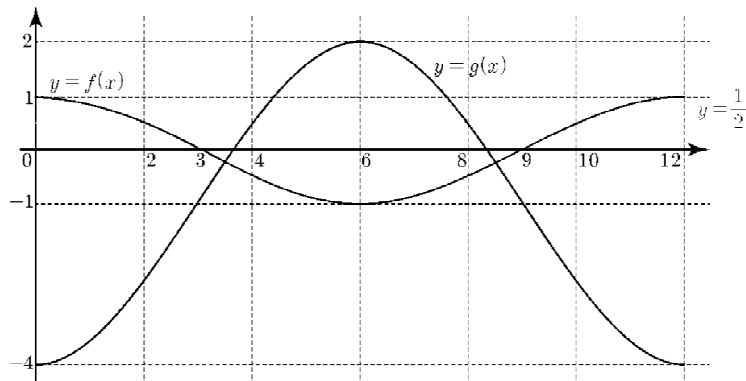
함수 $f(x)$ 는 $x = 6$ 에 대하여 대칭이므로 $\alpha_1 < \alpha_2$ 라 하면

$$\alpha_2 = 12 - \alpha_1$$

$$|\alpha_1 - \alpha_2| = 8 \text{에서 } |2\alpha_1 - 12| = 8$$

$$\alpha_1 = 2 \text{ 또는 } \alpha_1 = 10$$

$\alpha_1 < \alpha_2$ 이므로 $\alpha_1 = 2, \alpha_2 = 10$ 이다.



$f(2) = f(10) = \cos \frac{\pi}{3} = \frac{1}{2}$ 이므로 $k = \frac{1}{2}$ 이다.

곡선 $y = g(x)$ 와 직선 $y = \frac{1}{2}$ 가 만나는 두 점의 x 좌표는

$$-3\cos \frac{\pi x}{6} - 1 = \frac{1}{2}$$

$$\cos \frac{\pi x}{6} = -\frac{1}{2}$$

$$x = 4 \text{ 또는 } x = 8$$

$$\therefore |\beta_1 - \beta_2| = 4$$

44) [정답] ②

[해설]

$0 \leq x < k$ 에서 $-\frac{1}{2} \leq f(x) \leq \frac{1}{2}$ 이고,

함수 $y = \frac{1}{2} \sin \pi x$ 의 주기는 2이다.

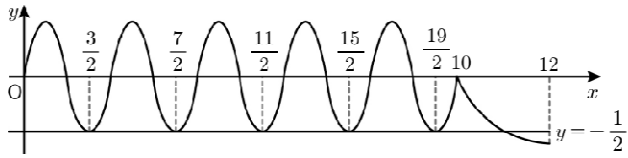
$$f(k) = \left(\frac{2}{3}\right)^{k-k} - 1 = 0 \text{이므로}$$

함수 $y = f(x)$ 의 그래프가 점 $(k, 0)$ 을 지난다.

방정식 $f(x) + a = 0$ 의 실근은 함수 $y = f(x)$ 의 그래프와 직선 $y = -a$ 의 교점의 x 좌표와 같다.

$0 \leq x \leq 12$ 에서 방정식 $f(x)+a=0$ 의 실근의 최댓값이 12이므로 모든 실근의 합이 46이기 위하여 실근의 개수는 4 이상이어야 한다.

(i) $a = \frac{1}{2}$ 인 경우



$k=10$ 일 때 방정식 $f(x)+a=0$ 의 모든 실근의 합이 최대이다. $0 \leq x < 10$ 에서 모든 실근의 합은

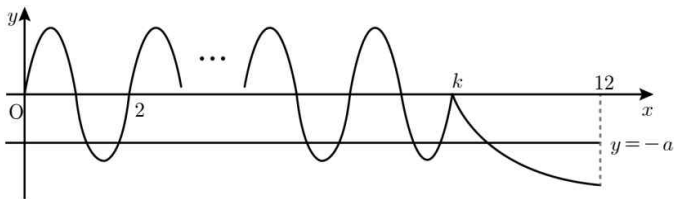
$$\frac{3}{2} + \frac{7}{2} + \frac{11}{2} + \frac{15}{2} + \frac{19}{2} = \frac{55}{2} = 27.5 \text{ 이고}$$

$$f(12) = \left(\frac{2}{3}\right)^{12-10} - 1 = \frac{4}{9} - 1 = -\frac{5}{9} < -\frac{1}{2} \text{ 이므로}$$

$10 \leq x \leq 12$ 에서 방정식 $f(x)+a=0$ 은 오직 하나의 실근을 갖고 그 값은 12보다 작다.

따라서 방정식 $f(x)+a=0$ 의 모든 실근의 합은 39.5보다 작으므로 조건을 만족시키지 않는다.

(ii) $0 < a < \frac{1}{2}$ 인 경우



$k \leq x \leq 12$ 에서 방정식 $\left(\frac{2}{3}\right)^{x-k} - 1 + a = 0$ 의 실근의 개수는 최대 1이고 그 값은 12 이하이다.

$0 \leq x \leq 12$ 에서 방정식 $f(x)+a=0$ 의 모든 실근의 합이 46이기 위하여

$0 \leq x < k$ 에서 방정식 $\frac{1}{2}\sin\pi x + a = 0$ 의 모든 실근의 합이 34 이상이어야 한다.

$0 \leq x < 2$ 에서 함수 $y = \frac{1}{2}\sin\pi x$ 의 그래프와 직선 $y = -a$ 가

만나는 두 점의 x좌표를 각각 α_1, α_2 라 할 때, $\frac{\alpha_1 + \alpha_2}{2} = \frac{3}{2}$,

즉 $\alpha_1 + \alpha_2 = 3$ 이다.

또한, 함수 $y = \frac{1}{2}\sin\pi x$ 의 주기가 2이므로 $2 \leq x < 4$ 에서

방정식 $\frac{1}{2}\sin\pi x + a = 0$ 의

모든 실근의 합은 7,

$4 \leq x < 6$ 에서 방정식 $\frac{1}{2}\sin\pi x + a = 0$ 의

모든 실근의 합은 11,

$6 \leq x < 8$ 에서 방정식 $\frac{1}{2}\sin\pi x + a = 0$ 의

모든 실근의 합은 15,

$8 \leq x < 10$ 에서 방정식 $\frac{1}{2}\sin\pi x + a = 0$ 의

모든 실근의 합은 19,

$10 \leq x < 11$ 에서 방정식 $\frac{1}{2}\sin\pi x + a = 0$ 은 실근을 갖지

않는다.

따라서 다음 세 가지 경우로 나누어 생각할 수 있다.

① $k \leq 7$ 일 때

$0 \leq x < k$ 에서 방정식 $\frac{1}{2}\sin\pi x + a = 0$ 의

모든 실근의 합이 34 미만이므로 조건을 만족시키지 않는다.

② $k=8$ 또는 $k=9$ 일 때

$0 \leq x < k$ 에서 방정식 $\frac{1}{2}\sin\pi x + a = 0$ 의

모든 실근의 합은 $3+7+11+15=36$ 이므로

$k \leq x \leq 12$ 에서 실근이 10이면 조건을 만족시킨다.

$$k=8 \text{ 이면 } f(10)+a = \left(\frac{2}{3}\right)^{10-8} - 1 + a = 0 \text{ 에서}$$

$$a = \frac{5}{9} \text{ 이므로 } 0 < a < \frac{1}{2} \text{ 에 모순이다.}$$

$$k=9 \text{ 이면 } f(10)+a = \left(\frac{2}{3}\right)^{10-9} - 1 + a = 0 \text{ 에서}$$

$$a = \frac{1}{3} \text{ 이므로 } 0 < a < \frac{1}{2} \text{ 을 만족시킨다.}$$

③ $k=10$ 또는 $k=11$ 일 때

$0 \leq x < k$ 에서 모든 실근의 합은

$3+7+11+15+19=55 > 46$ 이므로 조건을 만족시키지 않는다.

(i), (ii) 에 의하여 $a = \frac{1}{3}, k=9$ 이다.

따라서 $\frac{k}{a} = 27$

45) [정답] ④

[해설]

함수 $y=f(x)$ 의 그래프가 직선 $y=2$ 와 만나는 점의 x좌표는

$$0 \leq x < \frac{4\pi}{a} \text{ 일 때 방정식 } \left| 4\sin\left(ax - \frac{\pi}{3}\right) + 2 \right| = 2 \dots\dots \textcircled{1}$$

의 실근과 같다.

$$ax - \frac{\pi}{3} = t \text{ 라 하면 } -\frac{\pi}{3} \leq t < \frac{11\pi}{3} \text{ 이고}$$

$$|4\sin t + 2| = 2 \dots\dots \textcircled{2}$$

에서 $\sin t = 0$ 또는 $\sin t = -1$

$-\frac{\pi}{3} \leq t < \frac{11\pi}{3}$ 일 때, 방정식 ㉔의 실근은

$0, \pi, \frac{3\pi}{2}, 2\pi, 3\pi, \frac{7\pi}{2}$

의 6개이고 이 6개의 실근의 합은 11π 이다.

따라서 $n=6$ 이고 방정식 ㉓의 6개의 실근의 합이 39이므로

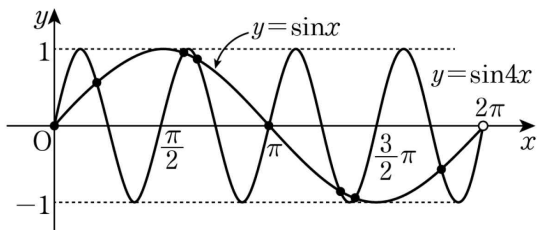
$$39a - \frac{\pi}{3} \times 6 = 11\pi, a = \frac{\pi}{3}$$

$$\text{따라서 } n \times a = 6 \times \frac{\pi}{3} = 2\pi$$

46) [정답] ④

[해설]

함수 $y = \cos\left(x - \frac{\pi}{2}\right)$ 의 그래프는 함수 $y = \sin x$ 의 그래프와 일치하고 함수 $y = \sin 4x$ 의 최댓값은 1, 최솟값은 -1, 주기는 $\frac{\pi}{2}$ 이므로 $0 \leq x < 2\pi$ 에서 두 함수 $y = \sin x$ 와 $y = \sin 4x$ 의 그래프는 다음 그림과 같다.

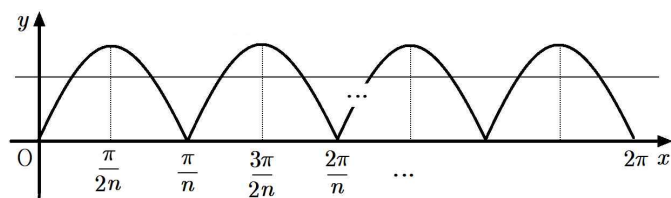


따라서 두 곡선이 만나는 점의 개수는 8

47) [정답] 480

[해설]

$y = |\sin nx|$ 의 그래프는 다음과 같다.



위의 그래프에서 주기는 $\frac{\pi}{n}$ 이고, $0 \leq x < 2\pi$ 까지 $2n$ 개의 그래프가 반복된다.

또, 한 주기 구간마다 2개의 실근을 갖고 각각의 근은 대칭성을 가지므로

제일 작은 근을 α 라 하면

$$\alpha, \frac{\pi}{n} - \alpha, \frac{\pi}{n} + \alpha, \frac{2\pi}{n} - \alpha, \dots, 2\pi - \alpha$$

$$\therefore a_n = 4n, b_n = 4n\pi$$

$$\therefore a_5 b_6 = 20 \times 24\pi = 480\pi$$

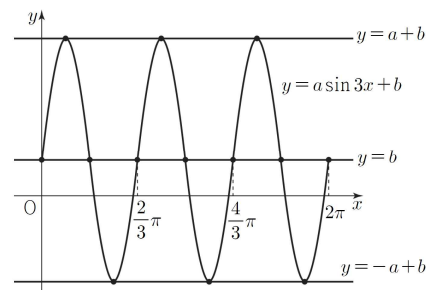
$$\therefore k = 480$$

48) [정답] 14

[해설]

함수 $y = a \sin 3x + b$ 의 그래프의 주기가 $\frac{2}{3}\pi$ 이므로

$0 \leq x < 2\pi$ 에서 함수 $y = a \sin 3x + b$ 의 그래프의 개형은 다음과 같다.



함수 $y = a \sin 3x + b$ 의 그래프가 직선 $y = k$ 와 만나는 점의 개수는 $k = -a + b$ 또는 $k = a + b$ 일 때, 3

$k = b$ 일 때, 7이므로 $b = 2$ 이고, $-a + 2 = 9$ 또는 $a + 2 = 9$

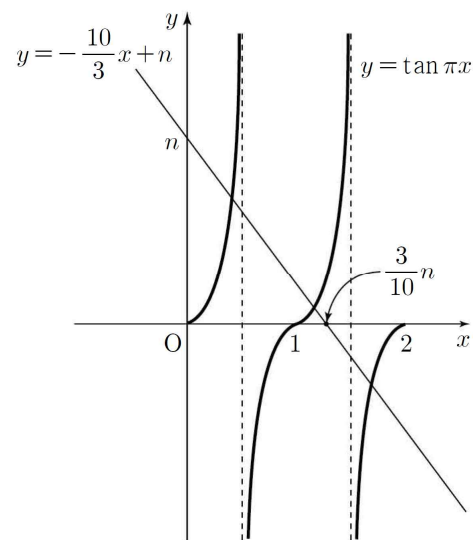
a 가 양수이므로 $a = 7$

$$\text{따라서 } a \times b = 7 \times 2 = 14$$

49) [정답] ⑤

[해설]

$y = \tan \pi x$ 의 주기는 $\frac{\pi}{\pi} = 1$ 이다.



위의 그림과 같이 $0 \leq x < 2$ 에서 함수 $y = \tan \pi x$ 의

그래프와 직선 $y = -\frac{10}{3}x + n$ 이 서로 다른 세 점에서 만나기 위해서는 직선 $y = -\frac{10}{3}x + n$ 의 x 절편 $\frac{3}{10}n$ 이 2보다 작거나 같아야 한다.

즉 $\frac{3}{10}n \leq 2$ 이므로 $n \leq \frac{20}{3}$ 이다.

따라서 자연수 n 의 최댓값은 6이다.

50) [정답] 10

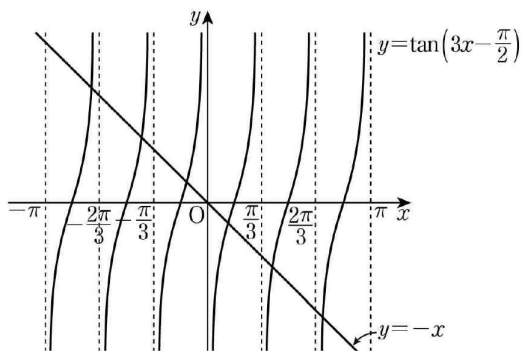
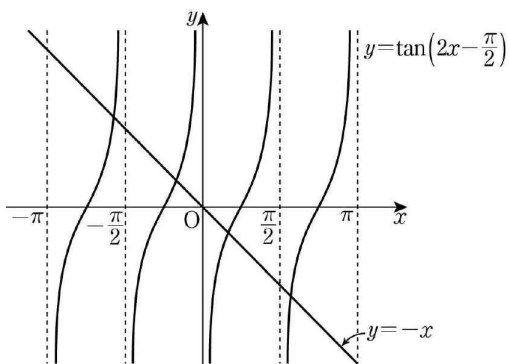
[해설]

$y = \tan\left(nx - \frac{\pi}{2}\right) = \tan n\left(x - \frac{\pi}{2n}\right)$ 의 주기는 $\frac{\pi}{n}$ 이고,

$y = \tan\left(nx - \frac{\pi}{2}\right)$ 의 그래프는 $y = \tan nx$ 의 그래프를 x 축의

방향으로 $\frac{\pi}{2n}$ 만큼 평행이동한 그래프이다.

아래 그림은 $n=2, n=3$ 일 때의 그래프이다.



그러므로 직선 $y = -x$ 와 $y = \tan\left(2x - \frac{\pi}{2}\right)$ 의 그래프의

교점의 개수는 $a_2 = 4$

$y = \tan\left(3x - \frac{\pi}{2}\right)$ 의 그래프의 교점의 개수는 $a_3 = 6$

따라서 $a_2 + a_3 = 4 + 6 = 10$

51) [정답] ②

[해설]

방정식 $\sin^2(4x) - 1 = 0$ 에서 $\sin 4x = 1$ 또는 $\sin 4x = -1$ 이다.

따라서 $0 < x < \frac{n}{12}\pi$ 에서 함수 $y = \sin 4x$ 의 그래프가 직선 $y = 1$ 또는 직선 $y = -1$ 과 만나는 점의 개수가 33이어야 한다.

함수 $y = \sin 4x$ 의 주기는 $\frac{2\pi}{4} = \frac{\pi}{2}$ 이다.

$0 < x \leq \frac{\pi}{4}$ 에서 함수 $y = \sin 4x$ 의 그래프와 직선 $y = 1$ 이

만나는 점의 개수가 1이고, $\frac{\pi}{4} < x \leq \frac{\pi}{2}$ 에서 함수

$y = \sin 4x$ 의 그래프와 직선 $y = -1$ 이 만나는 점의 개수가

1이므로 $0 < x \leq \frac{\pi}{2}$ 에서 함수 $y = \sin 4x$ 의 그래프가 직선

$y = 1$ 또는 직선 $y = -1$ 과 만나는 점의 개수가 2이다.

따라서 $0 < x \leq \frac{\pi}{2} \times 16$ 에서 함수 $y = \sin 4x$ 의 그래프가 직선

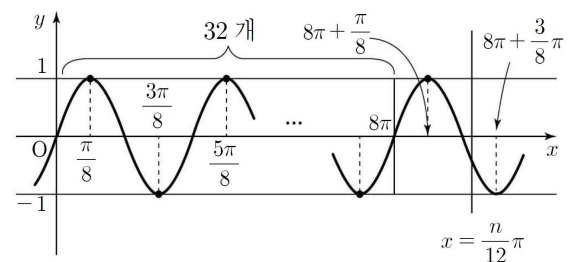
$y = 1$ 또는 직선 $y = -1$ 과 만나는 점의 개수는

$2 \times 16 = 32$ 이다.

그러므로 $0 < x < \frac{n}{12}\pi$ 에서 방정식 $\sin^2(4x) - 1 = 0$ 의 실근의

개수가 33이기 위해 $8\pi < x < \frac{n}{12}\pi$ 에서 함수 $y = \sin 4x$ 의

그래프가 두 직선 $y = 1, y = -1$ 과 만나는 점의 개수가 각각 1, 0이어야 한다.



따라서 $8\pi + \frac{\pi}{8} < \frac{n}{12}\pi \leq 8\pi + \frac{3}{8}\pi$ 이고 $97.5 < n \leq 100.5$ 이다.

그러므로 구하는 자연수 n 의 값은 98, 99, 100이고 합은 297이다.

52) [정답] 49

[해설]

함수 $f(x)$ 의 주기는 $\frac{2\pi}{\frac{\pi}{6}} = 12$ 이고,

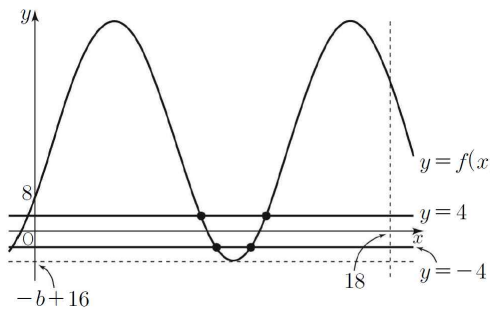
$f(0) = -\frac{1}{2}a + b = 8$ 에서

$a = 2b - 16$

$g(t)$ 의 값은 $0 < x < t$ 에서 함수 $y = |f(x)|$ 의 그래프가 직선 $y = 4$ 와 만나는 점의 개수이므로 $g(t)$ 의 값은 $0 < x < t$ 에서 함수 $y = f(x)$ 의 그래프가 직선 $y = 4$ 와 만나는 점의 개수와 $0 < x < t$ 에서 함수 $y = f(x)$ 의 그래프가 직선 $y = -4$ 와 만나는 점의 개수의 합과 같다.

(i) $a > 0$ 일 때

$b > 8$ 이므로 $f(18) = 2b - 8 > 8$ 이고, 함수 $f(x)$ 의 주기는 12이므로 함수 $y = f(x)$ 의 그래프의 개형은 그림과 같다.

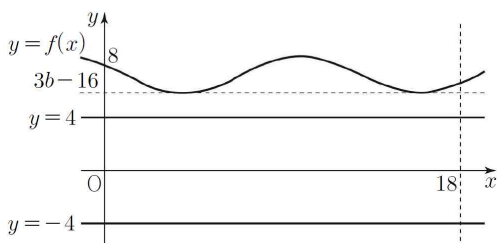


그러므로 함수 $f(x)$ 의 최솟값인 $-b+16$ 이 -4 보다 작을 때 $g(18)$ 의 값은 최대이고 그 값은 4이다. 따라서 $a > 0$ 일 때 $g(18) = 5$ 를 만족시키는 두 실수 a, b 가 존재하지 않는다.

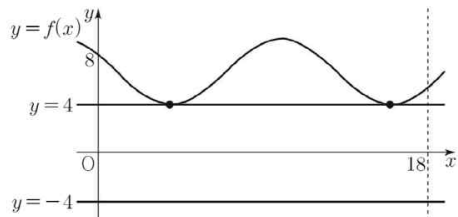
(ii) $a < 0$ 일 때

$b < 8$ 이고, 함수 $f(x)$ 의 최솟값인 $3b-16$ 의 범위에 따른 $g(18)$ 의 값은 다음과 같다.

(a) $4 < 3b-16 < 8$ 일 때 $g(18) = 0$

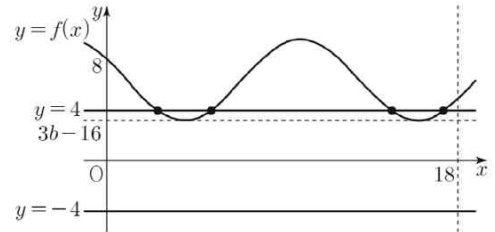


(b) $3b-16 = 4$ 일 때 $g(18) = 2$

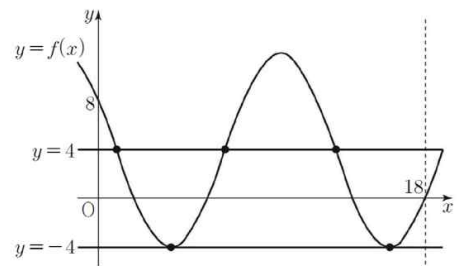


(c) $2 < 3b-16 < 4$ 일 때 $f(18) > 4$ 이므로 $g(18) = 4$

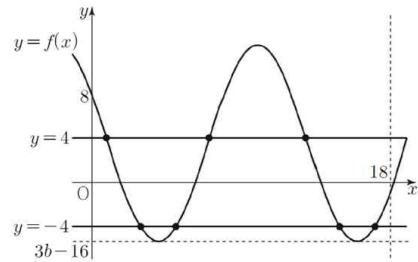
(d) $-4 < 3b-16 \leq 2$ 일 때 $0 < f(18) \leq 4$ 이므로 $g(18) = 3$



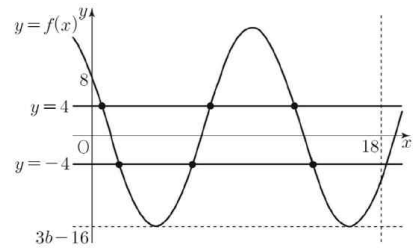
(e) $3b-16 = -4$ 일 때 $f(18) = 0$ 이므로 $g(18) = 5$



(f) $-19 < 3b-16 < -4$ 일 때 $-4 < f(18) < 0$ 이므로 $g(18) = 7$

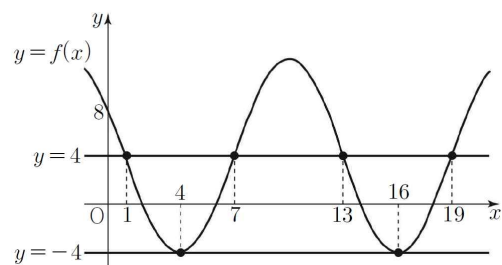


(g) $3b-16 \leq -10$ 일 때 $f(18) \leq -4$ 이므로 $g(18) = 6$



(i), (ii)에서 $3b-16 = -4$, 즉 $a = -8, b = 4$ 일 때 $g(18) = 5$ 이다.

그러므로 $f(x) = -8\sin\frac{\pi}{6}(x-1) + 4$ 이고, 함수 $y = f(x)$ 의 그래프는 그림과 같다.



$f(1)=f(7)=f(13)=4$ 이고 $f(4)=-4$ 이므로 $7 < p \leq 13$ 인 실수 p 에 대하여 $0 < x < p$ 에서 함수 $y=f(x)$ 의 그래프가 두 직선 $y=4$, $y=-4$ 와 만나는 점의 개수는 각각 2, 1이다.

그러므로 $g(\alpha) = |a-b| = 12$, 즉 $0 < x < \alpha$ 에서 함수 $y=f(x)$ 의 그래프가 직선 $y=4$ 와 만나는 점의 개수와 $0 < x < \alpha$ 에서 함수 $y=f(x)$ 의 그래프가 직선 $y=-4$ 와 만나는 점의 개수의 합이 12가 되도록 하는 양수 α 의 값의 범위는

$$7 + 12 \times 3 < \alpha \leq 13 + 12 \times 3$$

$$43 < \alpha \leq 49$$

따라서 양수 α 의 최댓값은 49이다.

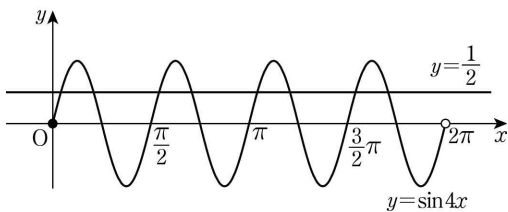
53) [정답] ④

[해설]

$y = \sin 4x$ 의 주기는 $\frac{2\pi}{|4|} = \frac{\pi}{2}$ 이다.

좌표평면에 직선 $y = \frac{1}{2}$ 과 $0 \leq x < 2\pi$ 의 범위에서

함수 $y = \sin 4x$ 의 그래프를 그리면 다음과 같다.



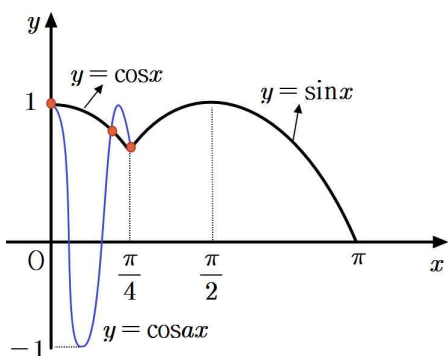
따라서 구하는 서로 다른 실근의 개수는 8

54) [정답] ②

[해설]

$g(x) = \cos ax$ 의 주기 $\frac{2\pi}{a}$, 한 개가 $x < \frac{\pi}{4}$ 의 범위에

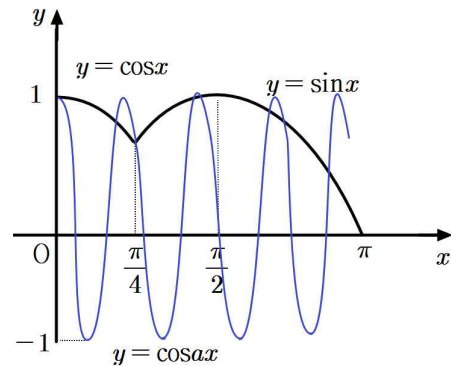
있으면서 그래프는 $x = \frac{\pi}{4}$ 와 만나면 교점의 개수가 3이 된다.



따라서 $\frac{2\pi}{a} < \frac{\pi}{4}$ 을 만족하므로 $a > 8$

즉, $\cos \frac{a}{4}\pi = \frac{\sqrt{2}}{2}$ 를 만족하는 a 의 최솟값은 9

$$\therefore p = 9$$



위의 그래프처럼 주기는 $\frac{2}{9}\pi$ 이며 닫힌구간 $[0, \frac{11}{12}\pi]$ 에는

네 개의 주기 $\frac{2}{9}\pi, \frac{4}{9}\pi, \frac{6}{9}\pi, \frac{8}{9}\pi$ 가 있다.

$x=0$ 에서 한 번 만나며, 세 주기 $\frac{2}{9}\pi, \frac{4}{9}\pi, \frac{6}{9}\pi$ 의 양쪽에서

각각 한 번씩 만나고 $\frac{8}{9}\pi$ 에서는 왼쪽에서 한번 만난다.

즉, 교점의 개수 q 는 $q = 8$

$$\therefore p + q = 17$$

55) [정답] 686

[해설]

$$\begin{aligned} (f \circ h)(x) &= \cos(a\pi x + b\pi) \\ &= \begin{cases} \cos a\pi x & (b \text{는 짝수}) \\ -\cos a\pi x & (b \text{는 홀수}) \end{cases} \end{aligned}$$

이고 $(h \circ g)(x) = a \sin \pi x + b$ 이다.

두 자연수 a, b 에 대하여

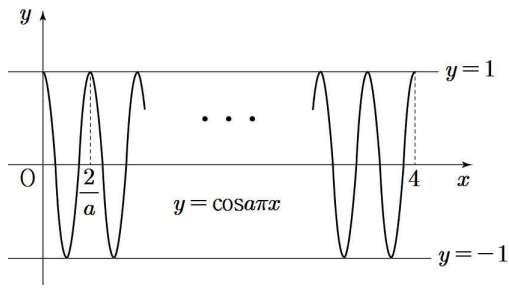
$$(h \circ g)\left(\frac{3}{2}\right) = a \sin \frac{3}{2}\pi + b = -a + b$$

는 정수이므로 조건 (가)의 방정식의 실근이 존재하기 위한 $-a+b$ 의 값은 -1 또는 0 또는 1 이다.

함수 $(f \circ h)(x) = \begin{cases} \cos a\pi x & (b \text{는 짝수}) \\ -\cos a\pi x & (b \text{는 홀수}) \end{cases}$ 의 그래프는

주기가 $\frac{2}{a}$ 이므로

(i) b 가 짝수인 경우



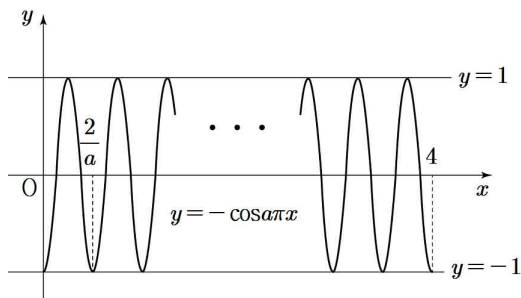
① $-a+b=1$ 일 때
두 함수 $y=(f \circ h)(x)=\cos a\pi x$ 와 $y=-a+b$ 의 그래프의 교점의 개수는 $2a+1$

② $-a+b=0$ 일 때
두 함수 $y=(f \circ h)(x)=\cos a\pi x$ 와 $y=-a+b$ 의 그래프의 교점의 개수는 $4a$

③ $-a+b=-1$ 일 때
두 함수 $y=(f \circ h)(x)=\cos a\pi x$ 와 $y=-a+b$ 의 그래프의 교점의 개수는 $2a$

따라서 두 함수 $y=(f \circ h)(x)=\cos a\pi x$ 와 $y=-a+b$ 의 그래프의 교점의 개수가 홀수이려면 $-a+b=1$ 이다.
 $b=a+1$ 이므로 a 는 홀수이다.

(ii) b 가 홀수인 경우



① $-a+b=1$ 일 때
두 함수 $y=(f \circ h)(x)=\cos a\pi x$ 와 $y=-a+b$ 의 그래프의 교점의 개수는 $2a$

② $-a+b=0$ 일 때
두 함수 $y=(f \circ h)(x)=\cos a\pi x$ 와 $y=-a+b$ 의 그래프의 교점의 개수는 $4a$

③ $-a+b=-1$ 일 때
두 함수 $y=(f \circ h)(x)=\cos a\pi x$ 와 $y=-a+b$ 의 그래프의 교점의 개수는 $2a+1$

따라서 두 함수 $y=(f \circ h)(x)=\cos a\pi x$ 와 $y=-a+b$ 의 그래프의 교점의 개수가 홀수이려면 $-a+b=-1$ 이다.
 $b=a-1$ 이므로 a 는 짝수이다.

조건 (나)에서 방정식 $(f \circ h)(x)=(h \circ g)(t)$ 의 해는

(i) a 가 홀수, b 가 짝수인 경우

$b=a+1$ 이므로 (나)의 방정식은
 $\cos a\pi x = a \sin \pi t + (a+1) = a(\sin \pi t + 1) + 1$

이고 $a(\sin \pi t + 1) + 1 \geq 1$ 이므로 $\cos a\pi t = 1$ 이다.

$0 \leq x \leq 4$ 일 때, 서로 다른 실근의 개수는 $2a+1$ 이고 함수 $y = \cos a\pi x$ 의 그래프는 직선 $x=2$ 에 대하여 대칭이다.

따라서 $0 \leq x \leq 4$ 일 때, 서로 다른 모든 실근의 합은 $(2a+1) \times 2 = 4a+2 = 56$ 이 되어 자연수 a 는 존재하지 않는다.

(ii) a 가 짝수, b 가 홀수인 경우

$b=a-1$ 이므로 (나)의 방정식은

$$-\cos a\pi x = a \sin \pi t + (a-1) = a(\sin \pi t + 1) - 1$$

이고 $a(\sin \pi t + 1) - 1 \geq -1$ 이므로 서로 다른 실근의 개수에

따라 다음과 같이 세 가지 경우로 나눌 수 있다.

① $a \sin \pi t + (a-1) = -1$ 인 경우

$0 \leq x \leq 4$ 일 때, $-\cos a\pi x = -1$ 의 서로 다른 실근의 개수는 $2a+1$ 이고 함수 $y = -\cos a\pi x$ 의 그래프는 직선 $x=2$ 에 대하여 대칭이다.

따라서 $0 \leq x \leq 4$ 일 때, 서로 다른 모든 실근의 합은 $(2a+1) \times 2 = 4a+2 = 56$ 이 되어 자연수 a 는 존재하지 않는다.

② $-1 < a \sin \pi t + (a-1) < 1$ 인 경우

$0 \leq x \leq 4$ 일 때, $-\cos a\pi x = a \sin \pi t + (a-1)$ 의 서로 다른 실근의 개수는 $4a$ 이고 함수 $y = -\cos a\pi x$ 의 그래프는 직선 $x=2$ 에 대하여 대칭이다.

따라서 $0 \leq x \leq 4$ 일 때, 서로 다른 모든 실근의 합은 $4a \times 2 = 8a = 56$ 이 되어 짝수 a 는 존재하지 않는다.

③ $a \sin \pi t + (a-1) = 1$ 인 경우

$0 \leq x \leq 4$ 일 때, $-\cos a\pi x = 1$ 의 서로 다른 실근의 개수는 $2a$ 이고 함수 $y = -\cos a\pi x$ 의 그래프는 직선 $x=2$ 에 대하여 대칭이다.

따라서 $0 \leq x \leq 4$ 일 때, 서로 다른 모든 실근의 합은 $2a \times 2 = 4a = 56$ 이다.

그러므로 $a=14$, $b=13$ 이다.

$(h \circ g)(t) = a \sin \pi t + b = 14 \sin \pi t + 13 = 1$ 에서 방정식

$(f \circ h)(x) = (h \circ g)(t)$ 의 서로 다른 모든 실근의 합이 56이 되도록 하는 실수 t 는 $\sin \pi t = -\frac{6}{7}$ 을 만족시키므로

$$\cos^2 \pi t = \frac{13}{49} \text{이다.}$$

$$\text{따라서 } \frac{a \times b}{\cos^2 \pi t} = \frac{14 \times 13}{\frac{13}{49}} = 686$$

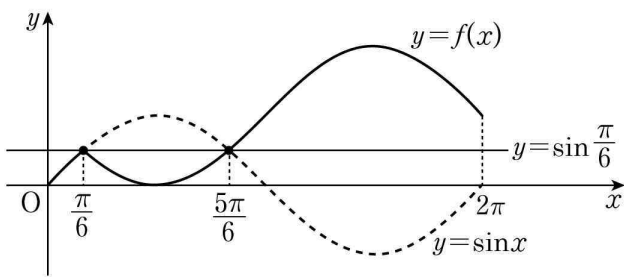
56) [정답] ④

[해설]

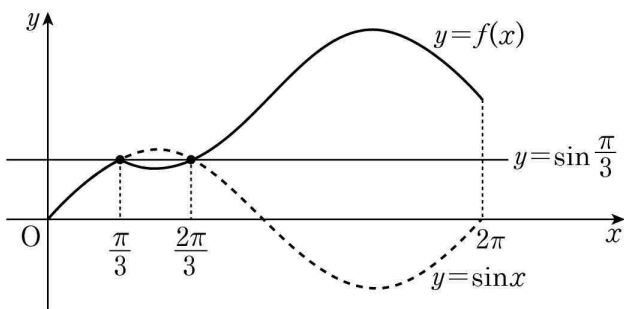
그림은 k 값에 따른 두 곡선 $y=f(x), y=\sin x$ 와 직선 $y=\sin\left(\frac{k}{6}\pi\right)$ 를 좌표평면에 나타낸 것이다.

각 그림에서 곡선 $y=f(x)$ 와 직선 $y=\sin\left(\frac{k}{6}\pi\right)$ 의 교점의 개수 a_k 를 구하면 다음과 같다.

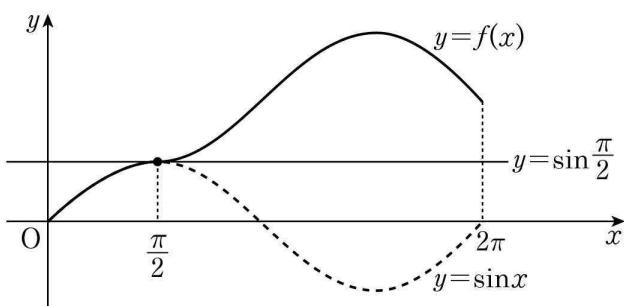
(i) $k=1$ 일 때, $a_1=2$



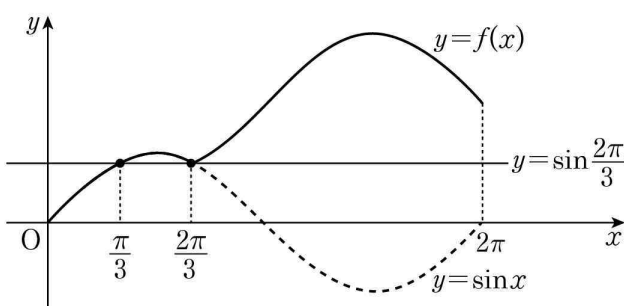
(ii) $k=2$ 일 때, $a_2=2$



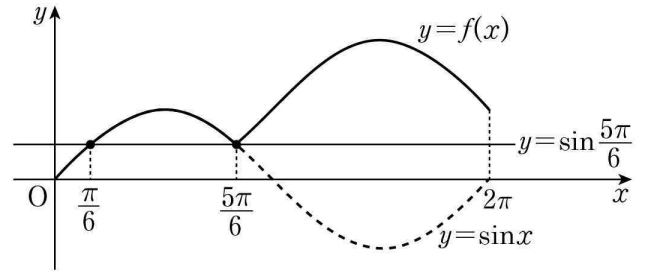
(iii) $k=3$ 일 때, $a_3=1$



(iv) $k=4$ 일 때, $a_4=2$



(v) $k=5$ 일 때, $a_5=2$



따라서 $a_1+a_2+a_3+a_4+a_5=2+2+1+2+2=9$

[다른 풀이]

곡선 $y=f(x)$ 와 직선 $y=\sin\left(\frac{k}{6}\pi\right)$ 의 교점의 개수는 방정식

$f(x)=\sin\left(\frac{k}{6}\pi\right)$ 의 서로 다른 실근의 개수와 같다. 즉,

(i) $0 \leq x \leq \frac{k}{6}\pi$ 일 때, $\sin x = \sin\left(\frac{k}{6}\pi\right)$

(ii) $\frac{k}{6}\pi < x \leq 2\pi$ 일 때,

$$2\sin\left(\frac{k}{6}\pi\right) - \sin x = \sin\left(\frac{k}{6}\pi\right) \text{에서 } \sin x = \sin\left(\frac{k}{6}\pi\right)$$

그러므로 교점의 개수는 구간 $[0, 2\pi]$ 에서 방정식

$\sin x = \sin\left(\frac{k}{6}\pi\right)$ 의 서로 다른 실근의 개수와 같다.

$k=1, k=5$ 일 때, $\sin\left(\frac{k}{6}\pi\right) = \frac{\sqrt{3}}{2}$ 이므로 $\sin x = \frac{\sqrt{3}}{2}$ 의 서로 다른 실근의 개수는 각각 2이다.

$k=3$ 일 때, $\sin\left(\frac{k}{6}\pi\right) = 1$ 이므로 $\sin x = 1$ 의 서로 다른 실근의 개수는 1이다.

따라서 $a_1+a_2+a_3+a_4+a_5=2+2+1+2+2=9$

57) [정답] ③

[해설]

$$\cos \frac{(a-b)\pi}{2} = 0 \text{에서 } \frac{(a-b)\pi}{2} = n\pi + \frac{\pi}{2}$$

$$\therefore a-b = 2n+1 \quad \dots\dots \textcircled{1}$$

①에서 정수 l, m 에 대하여

$$a = 2l \text{일 때, } b = 2m+1$$

$$a = 2l+1 \text{일 때, } b = 2m$$

풀이어야 한다.

따라서 $a^2+b^2 \leq 13$ 을 만족하는 정수 a, b 는 다음과 같다.

(i) $a=0$ 일 때,

$b^2 \leq 13$ 에서 $b = \pm 1, \pm 3$ 이므로 순서쌍 (a, b) 의 개수는 4쌍이다.

(ii) $a = \pm 1$ 일 때,

$b^2 \leq 12$ 에서 $b = 0, \pm 2$ 이므로 순서쌍 (a, b) 의 개수는 $2 \times 3 = 6$ 쌍이다.

(iii) $a = \pm 2$ 일 때,

$b^2 \leq 9$ 에서 $b = \pm 1, \pm 3$ 이므로 순서쌍 (a, b) 의 개수는 $2 \times 4 = 8$ 쌍이다.

(iv) $a = \pm 3$ 일 때,

$b^2 \leq 4$ 에서 $b = 0, \pm 2$ 이므로 순서쌍 (a, b) 의 개수는 $2 \times 3 = 6$ 쌍이다.

이상에서 조건을 만족하는 순서쌍 (a, b) 의 개수는 $4 + 6 + 8 + 6 = 24$ 쌍이다.

58) [정답] ③

[해설]

함수 $y = \sin kx$ 의 주기는 $\frac{2\pi}{k}$

$0 \leq x < 2\pi$ 일 때, 방정식 $\sin kx = \frac{1}{3}$ 의

서로 다른 실근의 개수는

$0 \leq x < 2\pi$ 에서 곡선 $y = \sin kx$ 와 직선 $y = \frac{1}{3}$ 이

만나는 점의 개수와 같다.

$1 \leq l \leq k$ 인 자연수 l 에 대하여

$\frac{2(l-1)}{k}\pi \leq x < \frac{2l}{k}\pi$ 에서 곡선 $y = \sin kx$ 와

직선 $y = \frac{1}{3}$ 이 만나는 점의 개수는 2이고

$0 \leq x < 2\pi$ 에서 곡선 $y = \sin kx$ 와 직선 $y = \frac{1}{3}$ 이

만나는 점의 개수가 8이므로

$2k = 8$ 에서 $k = 4$

$0 \leq x < 2\pi$ 일 때, 방정식 $\sin 4x = \frac{1}{3}$ 의 서로 다른 실근을

작은 수부터 크기순으로 나열한 것을

$\alpha_1, \alpha_2, \alpha_3, \dots, \alpha_8$ 이라 하자.

함수 $y = \sin 4x$ 의 주기는 $\frac{\pi}{2}$ 이므로

$\alpha_2 = \frac{\pi}{4} - \alpha_1, \alpha_3 = \frac{\pi}{2} + \alpha_1, \alpha_4 = \frac{3}{4}\pi - \alpha_1,$

$\alpha_5 = \pi + \alpha_1, \alpha_6 = \frac{5}{4}\pi - \alpha_1, \alpha_7 = \frac{3}{2}\pi + \alpha_1,$

$\alpha_8 = \frac{7}{4}\pi - \alpha_1$

따라서 구하는 모든 해의 합은 7π

59) [정답] ①

[해설]

$\log_2 f(x) = n$ (단, n 은 정수)라 하면 $f(x) = 2^n$

즉, $\sin(a\pi x) + 2b = 2^n$ 에서 $\sin(a\pi x) = 2^n - 2b$ 이다.

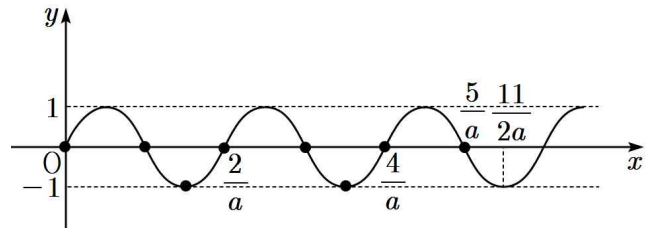
$\sin(a\pi x) = 2^n - 2b$ 를 만족하는 x 의 값이 8개가 되도록 하는 경우는 다음과 같다.

(i) $b = 1$ 일 때,

$\sin(a\pi x) = 2^n - 2$ 에서

$n = 0$ 일 때, $\sin a\pi x = -1$

$n = 1$ 일 때, $\sin a\pi x = 0$



$0 \leq x \leq 1$ 에서 $\sin a\pi x = -1$ 또는 $\sin a\pi x = 0$ 의 해가 8개이기 위해서는 위의 그림과 같이

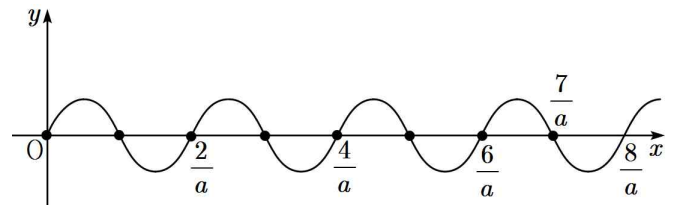
$$\frac{5}{a} \leq 1, \frac{11}{2a} > 1$$

을 만족해야 한다.

따라서 $5 \leq a < \frac{11}{2}$ 이므로 자연수 a 의 값은 5이다.

(ii) $b \geq 2$ 일 때,

(1) $b = 2^{n-1}$ ($n \geq 2$)인 경우 $\sin a\pi x = 0$



$0 \leq x \leq 1$ 에서 $\sin a\pi x = 0$ 의 해가 8개이기 위해서는 위의 그림과 같이

$$\frac{7}{a} \leq 1, \frac{8}{a} > 1$$

을 만족해야 한다.

따라서 $7 \leq a < 8$ 이므로 자연수 a 의 값은 7이다.

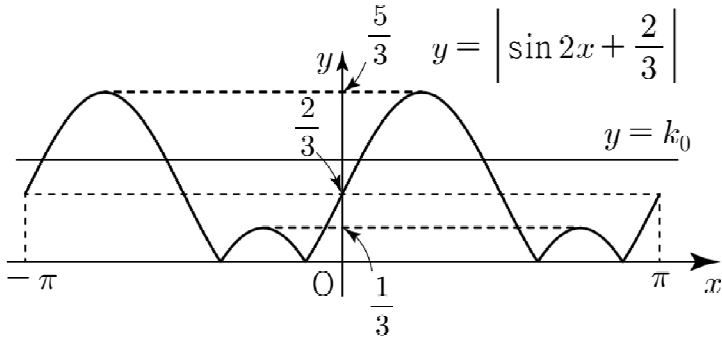
(2) $b \neq 2^{n-1}$ ($n \geq 2$)인 경우 $\sin(a\pi x) = 2^n - 2b$ 의 해는 존재하지 않는다.

이상에서 만족하는 a 의 값은 5 또는 7이므로 모든 a 의 값의 합은 12이다.

60) [정답] ②

[해설]

함수 $y = f(x)$ 의 그래프의 개형은 다음과 같다.



함수 $y=f(x)$ 의 그래프가 직선

$y=k_0(k_0 > 0)$ 과 만나는 서로 다른 점의 개수는

$0 < k_0 < \frac{1}{3}$ 일 때 8, $k_0 = \frac{1}{3}$ 일 때 6

$\frac{1}{3} < k_0 < \frac{2}{3}$ 일 때 4, $k_0 = \frac{2}{3}$ 일 때 5

$\frac{2}{3} < k_0 < \frac{5}{3}$ 일 때 4, $k_0 = \frac{5}{3}$ 일 때 2

$k_0 > \frac{5}{3}$ 일 때 0

$3k > k$ 이므로 $|m-n|=3$ 을 만족시키는

m 과 n 은 $m=2, n=5 \dots \dots \textcircled{1}$

또는 $m=5, n=8$

$m=2$ 이면 $3k = \frac{5}{3}, k = \frac{5}{9}$

$\frac{1}{3} < \frac{5}{9} < \frac{2}{3}$ 에서 $n=4$ 이므로

$\textcircled{1}$ 을 만족시키지 않는다.

$m=5$ 이면 $3k = \frac{2}{3}, k = \frac{2}{9}$

$0 < \frac{2}{9} < \frac{1}{3}$ 에서 $n=8$ 이다.

$-\pi \leq x \leq \pi$ 일 때, 방정식 $|\sin 2x + \frac{2}{3}| = \frac{2}{9}$ 의

모든 실근을 크기순으로 나열한 것을 $\alpha_1, \alpha_2, \alpha_3, \dots, \alpha_8$ 이라 하자.

$$\alpha_1 + \alpha_4 = \alpha_2 + \alpha_3 = 2 \times \left(-\frac{\pi}{4}\right) = -\frac{\pi}{2}$$

$$\alpha_5 + \alpha_8 = \alpha_6 + \alpha_7 = 2 \times \frac{3}{4}\pi = \frac{3}{2}\pi$$

따라서

$$\alpha_1 + \alpha_2 + \dots + \alpha_8 = 2 \times \left(-\frac{\pi}{2}\right) + 2 \times \frac{3}{2}\pi = 2\pi$$

61) [정답] ⑤

[해설]

(i) $(a-2)(b-2)=0$ 일 때,

함수 $f(x) = \left| 2a \cos \frac{b}{2}x \right|$ 의 주기는 $\frac{\pi}{b} = \frac{2\pi}{b}$ 이므로

조건 (가)에서

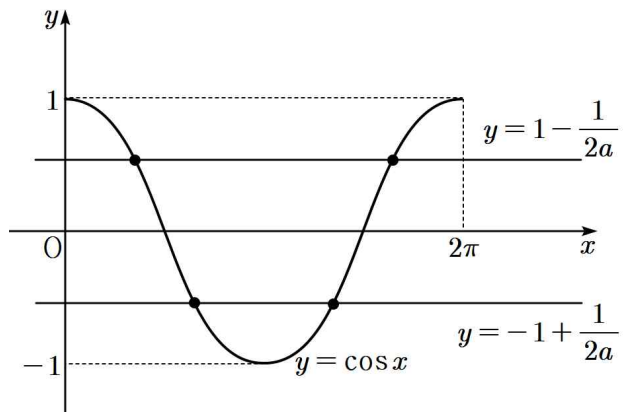
$$\frac{2\pi}{b} = \pi \quad \therefore b = 2$$

$|2a \cos x| = 2a - 1$ 에서

$$2a \cos x = 2a - 1 \quad \text{또는} \quad 2a \cos x = -2a + 1$$

이므로

$$\cos x = 1 - \frac{1}{2a} \quad \text{또는} \quad \cos x = -1 + \frac{1}{2a}$$



자연수 a 에 대하여 $0 < 1 - \frac{1}{2a} < 1$,

$-1 < -1 + \frac{1}{2a} < 0$ 이므로 $0 \leq x \leq 2\pi$ 에서

$\cos x = 1 - \frac{1}{2a}$ 와 $\cos x = -1 + \frac{1}{2a}$ 은 각각 2개의 근을

가지므로 10 이하의 자연수 a 에 대하여 항상 4개의 실근을 갖는다.

따라서 순서쌍 (a, b) 의 개수는 10이다.

(ii) $(a-2)(b-2) \neq 0$ 일 때,

함수 $f(x) = \left| 2a \cos \frac{b}{2}x - (a-2)(b-2) \right|$ 의 주기는

$$\frac{2\pi}{\frac{b}{2}} = \pi \text{에서 } b = 4$$

$f(x) = |2a \cos 2x - 2(a-2)|$ 이므로

$|2a \cos 2x - 2(a-2)| = 2a - 1$ 에서

$$2a \cos 2x - 2a + 4 = -2a + 1 \quad \text{또는}$$

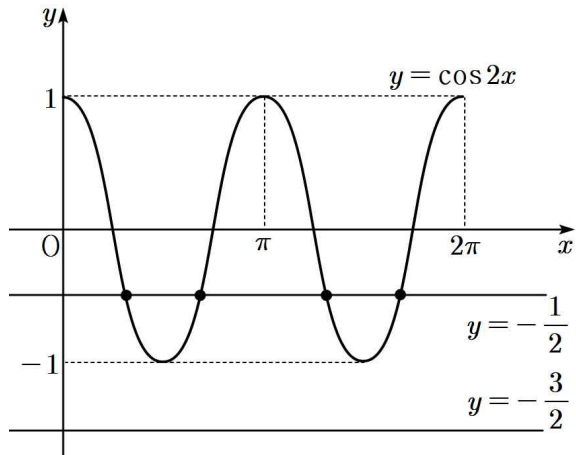
$$2a \cos 2x - 2a + 4 = 2a - 1$$

$$\therefore 2a \cos 2x = -3 \quad \text{또는} \quad 2a \cos 2x = 4a - 5 \quad \dots \dots \textcircled{1}$$

$\textcircled{1}$ 에서

(1) $a = 1$ 일 때,

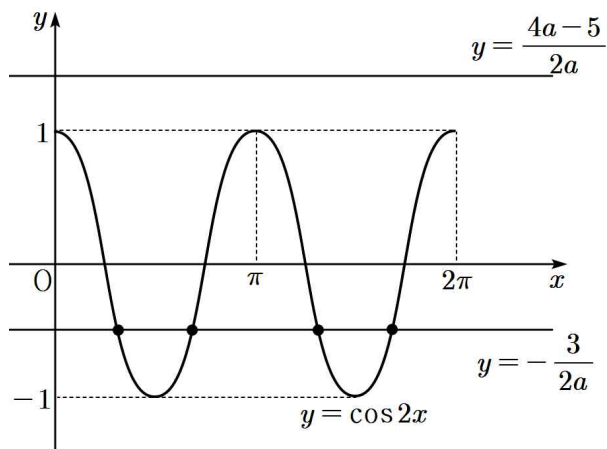
$$\cos 2x = -\frac{3}{2} \quad \text{또는} \quad \cos 2x = -\frac{1}{2}$$



$\cos 2x = -\frac{3}{2}$ 을 만족하는 x 의 값은 존재하지 않고,
 $\cos 2x = -\frac{1}{2}$ 을 만족하는 x 의 값은 4개 존재하므로
 조건을 만족한다.

(2) $a \geq 3$ 일 때,

$$\cos 2x = -\frac{3}{2a} \text{ 또는 } \cos 2x = \frac{4a-5}{2a}$$



$4a-5 > 2a$ 에서 $\frac{4a-5}{2a} > 1$ 이므로

$\cos 2x = \frac{4a-5}{2a}$ 를 만족하는 x 의 값은 존재하지
 않는다.

$2a > 3$ 에서 $-1 < -\frac{3}{2a} < 0$ 이므로 $\cos 2x = -\frac{3}{2a}$ 를
 만족하는 x 의 값은 4개 존재한다.

모두 4개의 실근을 가지므로 조건을 만족한다.

따라서 $b=4$ 이고 $a=1, 3, 4, 5, \dots, 10$ 이므로 순서쌍
 (a, b) 의 개수는 9개다.

(i), (ii)에서 자연수 a, b 의 모든 순서쌍 (a, b) 의 개수는
 $10+9=19$ 개다.

62) [정답] ①

[해설]

$$\sin^2 x = \cos^2 x + \cos x, \quad 1 - \cos^2 x = \cos^2 x + \cos x$$

$$2\cos^2 x + \cos x - 1 = 0$$

$$(2\cos x - 1)(\cos x + 1) = 0 \text{에서}$$

$$\cos x = \frac{1}{2} \text{ 또는 } \cos x = -1$$

$0 < x \leq 2\pi$ 이므로

$$\cos x = \frac{1}{2} \text{에서 } x = \frac{\pi}{3} \text{ 또는 } x = \frac{5\pi}{3}$$

$$\cos x = -1 \text{에서 } x = \pi$$

$$\sin \frac{\pi}{3} > \cos \frac{\pi}{3}, \quad \sin \frac{5\pi}{3} < \cos \frac{5\pi}{3}, \quad \sin \pi > \cos \pi \text{이므로 구하는}$$


$$\text{모든 } x \text{의 값의 합은 } \frac{\pi}{3} + \pi = \frac{4\pi}{3}$$

63) [정답] ①

[해설]

$$3\sin x - 2 > 0 \text{에서 } \sin x > \frac{2}{3} \text{이다.}$$

$0 \leq x < 2\pi$ 에서 함수 $y = \sin x$ 의 그래프와 직선 $y = \frac{2}{3}$ 는
 그림과 같다.



$0 \leq x < 2\pi$ 일 때, 부등식 $3\sin x - 2 > 0$ 의 해가

$\alpha < x < \beta$ 이므로 함수 $y = \sin x$ 의 그래프와 직선 $y = \frac{2}{3}$ 가
 만나는 두 점의 x 좌표는 각각 α, β ($0 < \alpha < \beta < \pi$)이다.

$$\frac{\pi}{2} - \alpha = \beta - \frac{\pi}{2} \text{이므로 } \alpha + \beta = \pi \text{이다.}$$

$$\text{따라서 } \cos(\alpha + \beta) = \cos \pi = -1$$

64) [정답] ①

[해설]

x 에 대한 이차방정식

$$x^2 - (2\sin \theta)x - 3\cos^2 \theta - 5\sin \theta + 5 = 0 \text{이 실근을 가지므로}$$

$$\frac{D}{4} \geq 0 \text{이 성립한다.}$$

$$\frac{D}{4} = \sin^2 \theta - (-3\cos^2 \theta - 5\sin \theta + 5)$$

$$\begin{aligned} &= \sin^2\theta + 3\cos^2\theta + 5\sin\theta - 5 \\ &= 2\cos^2\theta + 5\sin\theta - 4 \\ &= -2\sin^2\theta + 5\sin\theta - 2 \geq 0 \end{aligned}$$

즉, $2\sin^2\theta - 5\sin\theta + 2 \leq 0$ 이므로 $(\sin\theta - 2)(2\sin\theta - 1) \leq 0$

그런데 $-1 \leq \sin\theta \leq 1$ 이므로 $\sin\theta - 2 \leq 0$

$$\therefore 2\sin\theta - 1 \geq 0$$

즉, $\sin\theta \geq \frac{1}{2}$ 이므로 $0 \leq \theta < 2\pi$ 의 범위에서 만족하는 θ 의

$$\text{범위는 } \frac{\pi}{6} \leq \theta \leq \frac{5\pi}{6}$$

따라서 $\alpha = \frac{\pi}{6}$, $\beta = \frac{5\pi}{6}$ 이므로 $4\beta - 2\alpha = 3\pi$

65) [정답] ①

[해설]

$$\sin^2x - 4\sin x - 5k + k \geq 0$$

$\sin x = t (-1 \leq t \leq 1)$ 이라 하면 $t^2 - 4t - 5k + 5 \geq 0$

$$(t-2)^2 - 5k + 1 \geq 0$$

$f(t) = (t-2)^2 - 5k + 1 (-1 \leq t \leq 1)$ 이라 하면 함수 $f(t)$ 는

$t=1$ 에서 최솟값을 가지므로 $1 - 5k + 1 \geq 0$, $k \leq \frac{2}{5}$

따라서 k 의 최댓값은 $\frac{2}{5}$

66) [정답] 7

[해설]

$$(2a+6)\cos x - a\sin^2x + a + 12 < 0$$

$$(2a+6)\cos x - a(1-\cos^2x) + a + 12 < 0$$

$$a\cos^2x + (2a+6)\cos x + 12 < 0$$

$$(a\cos x + 6)(\cos x + 2) < 0 \text{에서}$$

$$\cos x + 2 > 0 \text{이므로 } a\cos x + 6 < 0$$

$$a > 0 \text{이므로 } \cos x < -\frac{6}{a}$$

$0 \leq x < 2\pi$ 에서 부등식 $\cos x < -\frac{6}{a}$ 의 해가 존재하기

위해서는 $-\frac{6}{a} > -1$ 이어야 한다.

따라서 $a > 6$ 이며 자연수 a 의 최솟값은 7

67) [정답] 14

[해설]

$$\begin{aligned} (a\sin^2x - 4)\cos x + 4 &= \{a(1-\cos^2x) - 4\}\cos x + 4 \\ &= -a\cos^3x + (a-4)\cos x + 4 \end{aligned}$$

$\cos x = t$ 라 하면 $-1 \leq t \leq 1$

$$(\text{준 식}) = -at^3 + (a-4)t + 4$$

$$= -(t-1)(at^2 + at + 4)$$

즉, $-1 \leq t \leq 1$ 에서 $-(t-1)(at^2 + at + 4) \geq 0$ 을 만족하는 a 의 범위를 구하면 다음과 같다.

(i) $t=1$ 일 때,

$$0 \geq 0 \text{이므로 성립한다.}$$

(ii) $-1 < t < 1$ 일 때,

$$t-1 < 0 \text{이므로 } at^2 + at + 4 \geq 0 \text{을 만족해야 한다.}$$

(1) $a=0$ 일 때,

$$4 \geq 0 \text{이므로 성립한다.}$$

(2) $a > 0$ 일 때,

$$a\left(t + \frac{1}{2}\right)^2 - \frac{1}{4}a + 4 \geq 0 \text{이므로 } t = -\frac{1}{2} \text{일 때가}$$

최소가 된다.

$$\text{즉, } -\frac{1}{4}a + 4 \geq 0 \text{이므로 } a \leq 16$$

$$\therefore 0 < a \leq 16$$

(3) $a < 0$ 일 때,

$$a\left(t + \frac{1}{2}\right)^2 - \frac{1}{4}a + 4 \geq 0 \text{이므로 } t = 1 \text{일 때가 최소가}$$

된다. 즉, $2a + 4 \geq 0$ 이므로 $a \geq -2$

$$\therefore -2 \leq a < 0$$

(1), (2), (3)에서 만족하는 a 의 범위는 $-2 \leq a \leq 16$

따라서 실수 a 의 최댓값은 16, 최솟값은 -2이므로 최댓값과 최솟값의 합은 14이다.

68) [정답] ②

[해설]

$$f(m) = \sin \frac{2(m-1)}{k} \pi \text{라 하면 함수 } f(m) \text{의 주기가 } k \text{이므로}$$

집합 A_k 는 $A_k = \{f(1), f(2), \dots, f(k)\}$ 이다.

$$\neg. k=3 \text{일 때, } f(1)=0, f(2)=\sin \frac{2}{3}\pi = \frac{\sqrt{3}}{2},$$

$$f(3)=\sin \frac{2 \times 2}{3}\pi = -\frac{\sqrt{3}}{2} \text{이므로}$$

$$A_3 = \left\{ -\frac{\sqrt{3}}{2}, 0, \frac{\sqrt{3}}{2} \right\} \text{(참)}$$

∴ 1이 집합 A_k 의 원소가 되려면 $f(m)=1$ 을 만족시키는

자연수 $m(m=1, 2, \dots, k)$ 가 존재해야 한다.

$$\sin \frac{2(m-1)}{k} \pi = 1 \text{에서 } \frac{2(m-1)}{k} \pi = \frac{\pi}{2}$$

$m=1+\frac{k}{4}$ 이고 m 이 자연수이므로 k 는 4의 배수이어야 한다.

따라서 $k=12, 16, \dots, 96$ 이며 그 개수는 22이다.

(참)

ㄷ. 4이상의 자연수 k 에 대하여

(i) $k=4l$ (l 은 자연수)인 경우

$$f(m) = \sin \frac{2(m-1)}{4l} \pi = \sin \frac{m-1}{2l} \pi \text{이므로}$$

$$m=1 \text{일 때, } f(1) = \sin \frac{1-1}{2l} \pi = \sin 0 = 0$$

$m=l+1$ 일 때,

$$f(l+1) = \sin \frac{l+1-1}{2l} \pi = \sin \frac{\pi}{2} = 1$$

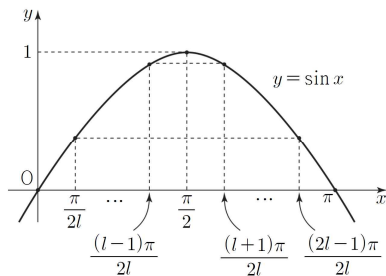
$m=2l+1$ 일 때,

$$f(2l+1) = \sin \frac{2l+1-1}{2l} \pi = \sin \pi = 0$$

$m=\alpha$ ($\alpha=2, 3, \dots, l$)일 때,

$$\pi - \frac{\alpha-1}{2l} \pi = \frac{(2l+2-\alpha)-1}{2l} \pi$$

이므로 $\beta=2l+2-\alpha$ 라 하면 $f(\alpha)=f(\beta)$



그러므로 집합 A_k 의 원소 중 양수는 $f(2), f(3), \dots, f(l+1)$ 이고 그 개수는 l 이다.

같은 방법으로 집합 A_k 의 원소 중 음수의 개수도 l 이다.

따라서 집합 A_k 의 원소의 개수는

$$l+l+1=2l+1$$

(ii) $k=4l+1$ (l 은 자연수)인 경우

$$f(m) = \sin \frac{2(m-1)}{4l+1} \pi \text{이므로}$$

$m=1$ 일 때,

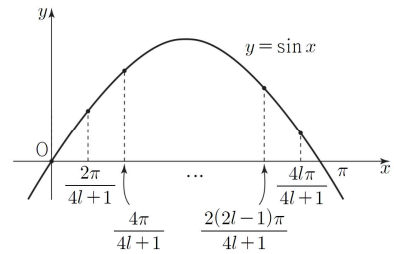
$$f(1) = \sin \frac{2 \times (1-1)}{4l+1} \pi = \sin 0 = 0$$

$4l+1$ 이하의 서로 다른 두 자연수 r, s 에 대하여

$$\frac{2(r-1)}{4l+1} \pi + \frac{2(s-1)}{4l+1} \pi = \frac{2(r+s-2)}{4l+1} \pi \text{에서}$$

$4l+1$ 은 홀수이고 $2(r+s-2)$ 는 짝수이므로

$$\frac{2(r+s-2)}{4l+1} \pi \neq \pi, \frac{2(r+s-2)}{4l+1} \pi \neq 3\pi \text{이다.}$$



따라서 집합 A_k 의 원소의 개수는 $4l+1$

(iii) $k=4l+2$ (l 은 자연수)인 경우

$$f(m) = \sin \frac{2(m-1)}{4l+2} \pi = \sin \frac{m-1}{2l+1} \pi$$

$m=1$ 일 때,

$$f(1) = \sin \frac{1-1}{2l+1} \pi = \sin 0 = 0$$

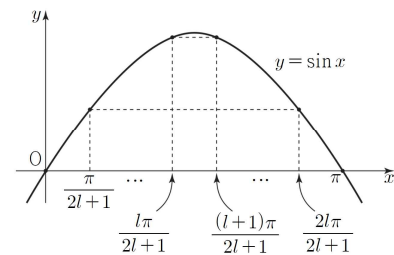
$m=2l+2$ 일 때,

$$f(2l+2) = \sin \frac{2l+2-1}{2l+1} \pi = \sin \pi = 0$$

$m=\alpha$ ($\alpha=2, 3, \dots, l+1$)일 때,

$$\pi - \frac{\alpha-1}{2l+1} \pi = \frac{(2l+3-\alpha)-1}{2l+1} \pi \text{이므로}$$

$\beta=2l+3-\alpha$ 라 하면 $f(\alpha)=f(\beta)$



그러므로 집합 A_k 의 원소 중 양수는 $f(2), f(3), \dots, f(l+1)$ 이고 그 개수는 l 이다.

같은 방법으로 집합 A_k 의 원소 중 음수의 개수도 l 이다.

따라서 집합 A_k 의 원소의 개수는

$$l+l+1=2l+1$$

(iv) $k=4l+3$ (l 은 자연수)인 경우

(ii)와 같은 방법으로 구하면 집합 A_k 의 원소의 개수는 $4l+3$ 이다.

$A_1 = A_2 = \{0\}$ 이고 (i)~(iv)에 의하여

집합 A_k 의 원소의 개수는

$$n(A_k) = \begin{cases} 4l-3 & (k=4l-3) \\ 2l-1 & (k=4l-2) \\ 4l-1 & (k=4l-1) \\ 2l+1 & (k=4l) \end{cases} \quad (l \text{은 자연수})$$

$k=4l-3$ 인 경우 $4l-3=11$ 을 만족시키는 자연수 l 은 존재하지 않는다.

$k=4l-2$ 인 경우 $2l-1=11$ 을 만족시키는 자연수 l 은

6이므로 $k=22$

$k=4l-1$ 인 경우 $4l-1=11$ 을 만족시키는 자연수 l 은

3이므로 $k=11$

$k=4l$ 인 경우 $2l+1=11$ 을 만족시키는 자연수 l 은 5이므로

$k=20$

따라서 $n(A_k)=11$ 을 만족시키는 모든 k 의 값의 합은

$$22+11+20=53 \quad (\text{거짓})$$

따라서 옳은 것은 ㄱ, ㄴ이다.

69) [정답] ②

[해설]

$y=f(x), y=g(x)$ 는 $0 < x < \frac{\pi}{24}$ 에서 적어도 하나의 교점을 가진다. 이 교점의 x 좌표를 α 라 하자.

$y=f(x)$ 는 주기가 $\frac{2\pi}{k}$, $y=g(x)$ 는 주기가 $\frac{\pi}{6}$ 인 함수이므로

$$\begin{aligned} & \{x \mid f(x)=f(\alpha)\} \\ &= \left\{ \alpha, \frac{\pi}{k}-\alpha, \frac{2\pi}{k}+\alpha, \frac{3\pi}{k}-\alpha, \dots \right\} \end{aligned}$$

즉, $A = \left\{ \alpha, \frac{\pi}{k}-\alpha, \frac{2\pi}{k}+\alpha, \frac{3\pi}{k}-\alpha, \dots \right\}$ 라 하고,

$$\begin{aligned} & \{x \mid g(x)=g(\alpha)\} \\ &= \left\{ \alpha, \frac{\pi}{6}-\alpha, \frac{\pi}{6}+\alpha, \frac{2\pi}{6}-\alpha, \dots, \frac{12\pi}{6}-\alpha \right\} \end{aligned}$$

에서 $B = \left\{ \alpha, \frac{\pi}{6}-\alpha, \frac{\pi}{6}+\alpha, \frac{2\pi}{6}-\alpha, \dots, \frac{12\pi}{6}-\alpha \right\}$ 라고

하자.

이때 $A \subset B$ 를 만족하기 위해서는 $\frac{\pi}{k}-\alpha \in B$ 여야 한다.

(i) $\frac{\pi}{k}-\alpha = \frac{n\pi}{6}-\alpha$ 인 경우

$$\frac{1}{k} = \frac{n}{6} \text{에서 } k = \frac{6}{n} \text{이므로 } n=1, n=2, n=3, n=6 \text{일}$$

때 각각 $k=6, k=3, k=2, k=1$ 이다.

즉 4가지

㉠ $k=6$ 일 때

$$A = \left\{ \alpha, \frac{\pi}{6}-\alpha, \frac{2\pi}{6}+\alpha, \frac{3\pi}{6}-\alpha, \frac{4\pi}{6}-\alpha, \dots \right\} \subset B$$

㉡ $k=3$ 일 때

$$A = \left\{ \alpha, \frac{2\pi}{6}-\alpha, \frac{4\pi}{6}+\alpha, \frac{6\pi}{6}-\alpha, \dots \right\} \subset B$$

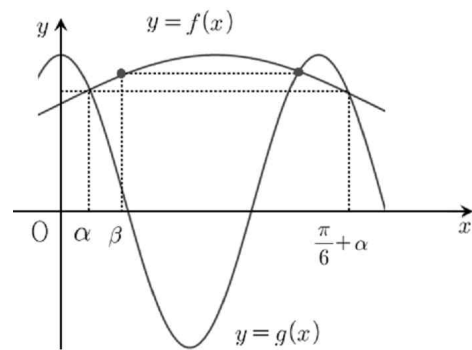
$$\text{㉢ } k=2 \text{일 때 } A = \left\{ \alpha, \frac{3\pi}{6}-\alpha, \frac{6\pi}{6}+\alpha, \frac{9\pi}{6}-\alpha \right\} \subset B$$

$$\text{㉣ } k=1 \text{일 때 } A = \left\{ \alpha, \frac{6\pi}{6}-\alpha \right\} \subset B$$

삼각함수의 대칭성과 주기성에 의하여 $(\alpha, f(\alpha))$ 이외의 교점에 대해서도 같은 방법으로 확인할 수 있다.

(ii) $\frac{\pi}{k}-\alpha = \frac{n\pi}{6}+\alpha$ 인 경우

그림과 같이 $\beta \in A, \beta \notin B$ 가 되는 β 가 존재하므로 조건에 모순이다.



(i), (ii)에 의하여 조건을 만족하는 k 는 4가지다.

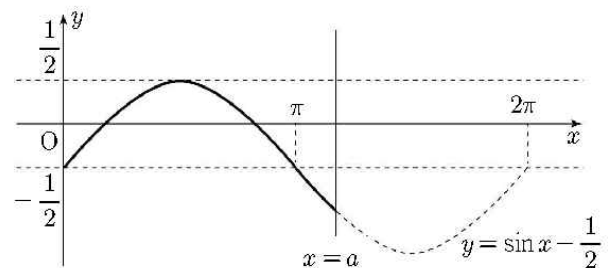
70) [정답] 110

[해설]

$\pi < a < 2\pi$ 라 하면 함수 $y = \sin x - \frac{1}{2}$ 의 그래프에서

$\pi < x < a$ 일 때 $\sin x - \frac{1}{2} < -\frac{1}{2}$ 이므로 $\left| \sin x - \frac{1}{2} \right| > \frac{1}{2}$ 이다.

따라서 조건 (가)를 만족시키지 않는다.

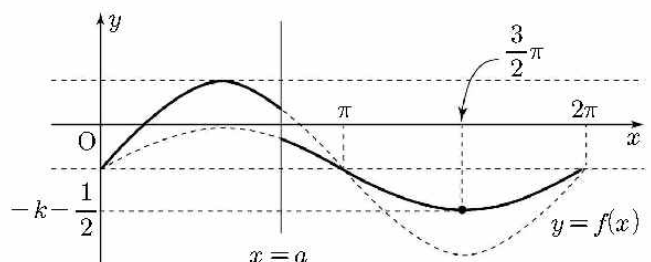


따라서 $0 < a \leq \pi$ 이다.㉠

(i) $k > 0$ 인 경우

$a \leq x \leq 2\pi$ 에서 함수 $y = k \sin x - \frac{1}{2}$ 은 $x = \frac{3}{2}\pi$ 일

때 최솟값 $k \sin \frac{3}{2}\pi - \frac{1}{2} = -k - \frac{1}{2}$ 을 갖는다.

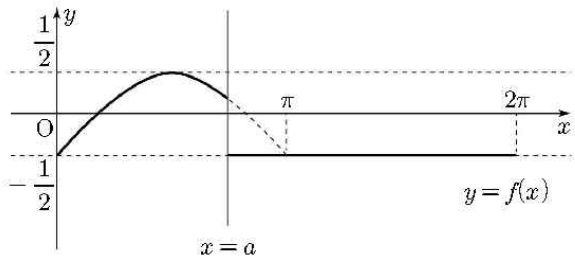


따라서 함수 $|f(x)|$ 의 최댓값은 $k + \frac{1}{2}$ 이고, $k + \frac{1}{2} > \frac{1}{2}$ 이므로 조건 (가)를 만족시키지 않는다.

(ii) $k=0$ 인 경우

$$f(x) = \begin{cases} \sin x - \frac{1}{2} & (0 \leq x < a) \\ -\frac{1}{2} & (a \leq x \leq 2\pi) \end{cases} \text{ 이고}$$

방정식 $f(x)=0$ 의 실근의 개수는 2 이하이므로 조건 (나)를 만족시키지 않는다.



(iii) $k < 0$ 인 경우

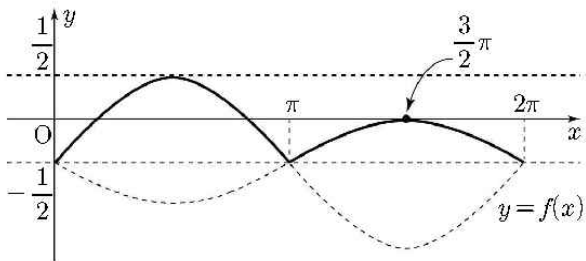
$0 < a < \pi$ 이면 $\sin a > 0$ 이므로

$$f(a) = k \sin a - \frac{1}{2} < -\frac{1}{2} \text{ 이다.}$$

따라서 $|f(a)| > \frac{1}{2}$ 이고 조건 (가)를 만족시키지 않

으므로 ㉠에 의해 $a = \pi$ 이다.

조건 (나)에 의해 방정식 $f(x)=0$ 의 서로 다른 실근의 개수가 3이므로 $f(\frac{3}{2}\pi) = 0$ 이다.

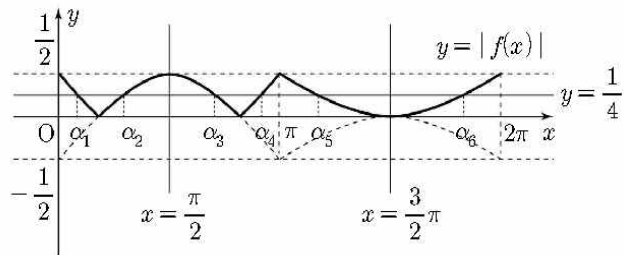


즉 $k \times (-1) - \frac{1}{2} = 0$ 이므로 $k = -\frac{1}{2}$ 이다. 따라서 구하는 함수 $f(x)$ 는

$$f(x) = \begin{cases} \sin x - \frac{1}{2} & (0 \leq x < \pi) \\ -\frac{1}{2} \sin x - \frac{1}{2} & (\pi \leq x \leq 2\pi) \end{cases}$$

이다.

함수 $y = |f(x)|$ 의 그래프와 직선 $y = \frac{1}{4}$ 이 만나는 점의 x좌표를 작은 수부터 크기순으로 $\alpha_1, \alpha_2, \alpha_3, \alpha_4, \alpha_5, \alpha_6$ 이라고 하자.



$$\frac{\alpha_1 + \alpha_4}{2} = \frac{\pi}{2}, \quad \frac{\alpha_2 + \alpha_3}{2} = \frac{\pi}{2}, \quad \frac{\alpha_5 + \alpha_6}{2} = \frac{3\pi}{2} \text{ 이므로}$$

$$S = \alpha_1 + \alpha_2 + \alpha_3 + \alpha_4 + \alpha_5 + \alpha_6 = \pi + \pi + 3\pi = 5\pi$$

이다. 따라서

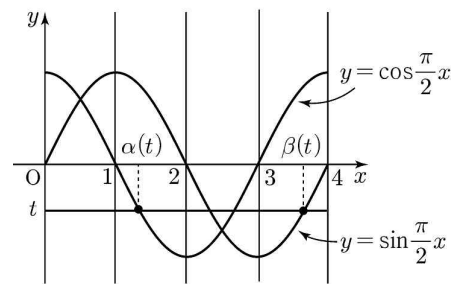
$$20 \left(\frac{a+S}{\pi} + k \right) = 20 \left(\frac{\pi+5\pi}{\pi} - \frac{1}{2} \right) = 20 \times \frac{11}{2} = 110$$

이다.

71) [정답] ②

[해설]

ㄱ. $-1 \leq t < 0$ 인 모든 실수 t 에 대하여 $\alpha(t)$ 와 $\beta(t)$ 의 위치는 아래 그림과 같다.



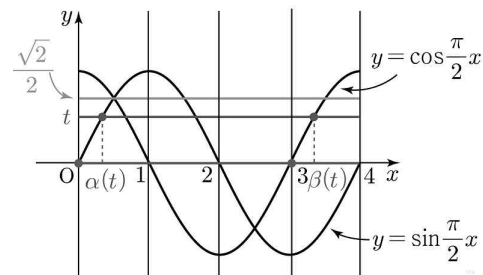
주어진 t 의 범위에서 점 $(t, \alpha(t))$ 는 곡선 $y = \sin \frac{\pi x}{2}$ 위에

있고 점 $(t, \beta(t))$ 는 곡선 $y = \cos \frac{\pi x}{2}$ 에 있다.

이때, $\alpha(t)$ 와 $\beta(t)$ 는 직선 $x = \frac{5}{2}$ 에 대해 대칭이므로

$$\frac{\alpha(t) + \beta(t)}{2} = \frac{5}{2} \text{ 이므로 } \alpha(t) + \beta(t) = 5 \text{ 이다. (참)}$$

ㄴ. $t=0$ 일 때, $\alpha(0)=0, \beta(0)=3$ 이다.



이때, $t > \frac{\sqrt{2}}{2}$ 일 때는 $\beta(t) - \alpha(t) > 3$ 이므로

$\beta(t) - \alpha(t) = 3$ 을 만족하는 t 의 범위는 $0 \leq t \leq \frac{\sqrt{2}}{2}$ 이다.

(참)

ㄷ. $\alpha(t_1) = \alpha(t_2) = k$ 라 하면, t_1 과 t_2 는 $\sin \frac{k\pi}{2}$ 또는

$$\cos \frac{k\pi}{2} \text{이다.}$$

이때, $\sin \frac{k\pi}{2} = t_1$, $\cos \frac{k\pi}{2} = t_2$ 라 하면,

$t_2 - t_1 = \cos \frac{k\pi}{2} - \sin \frac{k\pi}{2} = \frac{1}{2}$ 이고, 양변을 제곱하면

$$\left\{ \cos \frac{k\pi}{2} \right\}^2 - 2 \cos \frac{k\pi}{2} \sin \frac{k\pi}{2} + \left\{ \sin \frac{k\pi}{2} \right\}^2 = \frac{1}{4}$$

$$\cos \frac{k\pi}{2} \sin \frac{k\pi}{2} = \frac{3}{8} = t_2 \times t_1$$

즉, $t_1 \times t_2 = \frac{3}{8}$ 이다. (거짓)

따라서 옳은 것은 ㄱ, ㄴ이다.

72) [정답] 59

[해설]

$f(x) = \sin x$ 이고 $g(x) = a \cos x + b$ 이다.

함수 $h(x)$ 는

$$h(x) = \begin{cases} g(x) & (f(x) \leq g(x)) \\ f(x) & (f(x) > g(x)) \end{cases} \text{이다.}$$

조건 (나)에서 $0 < c < \frac{\pi}{2}$ 인 어떤 실수 c 에 대하여

$$h(c) = h(c + \pi) = \frac{1}{2} \text{이므로}$$

$$f(c) = \frac{1}{2} \text{ 또는 } g(c) = \frac{1}{2} \text{이고}$$

$$f(c + \pi) = \frac{1}{2} \text{ 또는 } g(c + \pi) = \frac{1}{2} \text{이다.}$$

한편, $0 < c < \frac{\pi}{2}$ 이면

$$f(c + \pi) = \sin(c + \pi) = -\sin c < 0 \text{이므로}$$

$$f(c + \pi) \neq \frac{1}{2} \text{이다.}$$

따라서 $g(c + \pi) = \frac{1}{2}$ 이다.㉠

함수 $y = g(x)$ 의 그래프는 직선 $x = \pi$ 에 대하여

대칭이므로 $g(\pi - c) = \frac{1}{2}$ 이다.㉡

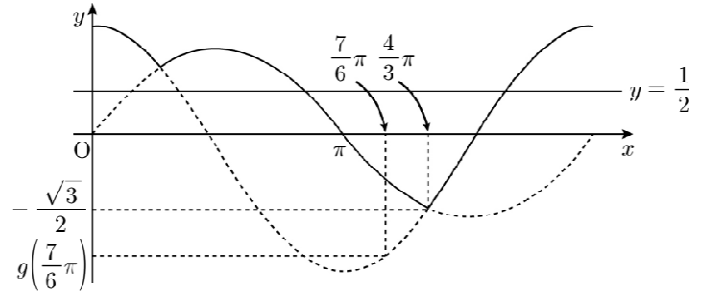
$0 \leq x \leq 2\pi$ 에서 방정식 $g(x) = \frac{1}{2}$ 의 실근의 개수는

최대 2이므로 ㉠, ㉡에 의하여 $g(c) \neq \frac{1}{2}$ 이다.

따라서 $f(c) = \frac{1}{2}$ 이고 $\sin c = \frac{1}{2}$ 에서 $c = \frac{\pi}{6}$ 이다.

㉠에 의하여 $g\left(\frac{7}{6}\pi\right) = \frac{1}{2}$ 이다.㉢

(i) $a > 0$ 인 경우



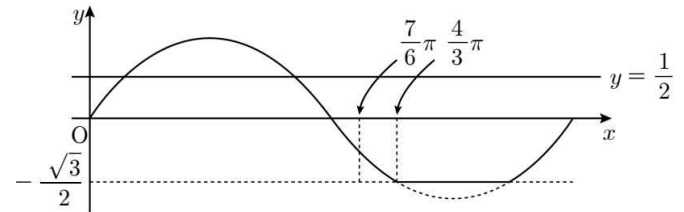
함수 $h(x)$ 의 최솟값이 $-\frac{\sqrt{3}}{2}$ 이 되기 위하여 함수

$y = g(x)$ 의 그래프가 점 $\left(\frac{4}{3}\pi, -\frac{\sqrt{3}}{2}\right)$ 을 지나야 한다.

$g\left(\frac{4}{3}\pi\right) = -\frac{\sqrt{3}}{2}$ 이고 $a > 0$ 일 때 $g\left(\frac{4}{3}\pi\right) > g\left(\frac{7}{6}\pi\right)$ 이므로

$g\left(\frac{7}{6}\pi\right) < -\frac{\sqrt{3}}{2}$ 이다. 이는 ㉢과 모순이다.

(ii) $a = 0$ 인 경우 ($g(x) = b$)



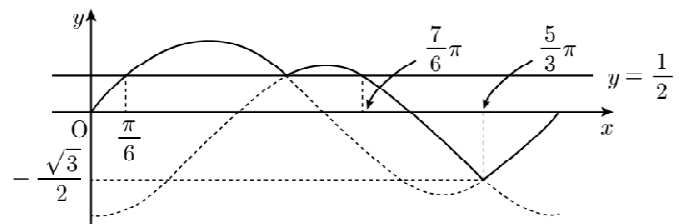
함수 $h(x)$ 의 최솟값이 $-\frac{\sqrt{3}}{2}$ 이 되기 위하여 함수

$y = g(x)$ 의 그래프가 점 $\left(\frac{4}{3}\pi, -\frac{\sqrt{3}}{2}\right)$ 을 지나야 하므로

$g(x) = -\frac{\sqrt{3}}{2}$ 이다. 함수 $g(x)$ 가 상수함수이므로

$g\left(\frac{7}{6}\pi\right) = -\frac{\sqrt{3}}{2}$ 이다. 이는 ㉢과 모순이다.

(iii) $a < 0$ 인 경우



함수 $h(x)$ 의 최솟값이 $-\frac{\sqrt{3}}{2}$ 이 되기 위하여 함수

$y = g(x)$ 의 그래프가 점 $\left(\frac{5}{3}\pi, -\frac{\sqrt{3}}{2}\right)$ 을 지나야 한다. 즉

$g\left(\frac{5}{3}\pi\right) = -\frac{\sqrt{3}}{2}$ 이다.㉣

㉢, ㉣에 의하여 연립방정식

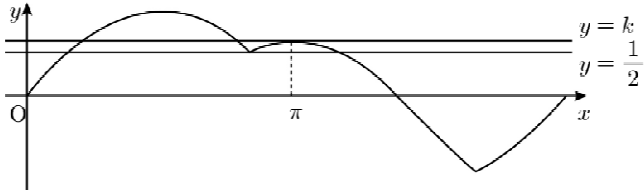
$$\begin{cases} a \cos\left(\frac{7\pi}{6}\right) + b = \frac{1}{2} \\ a \cos\left(\frac{5\pi}{3}\right) + b = -\frac{\sqrt{3}}{2} \end{cases}$$

을 풀면 $a = -1$, $b = \frac{1 - \sqrt{3}}{2}$ 이다.

따라서 $g(x) = -\cos x + \frac{1-\sqrt{3}}{2}$ 이다.

(i), (ii), (iii)에 의하여

방정식 $h(x) = k$ ($k > \frac{1}{2}$)가 서로 다른 세 실근을 가지는 경우는 그림과 같이 직선 $y = k$ 가 점 $(\pi, g(\pi))$ 를 지날 때이다.



$$g(\pi) = -\cos\pi + \frac{1-\sqrt{3}}{2} = \frac{3-\sqrt{3}}{2}$$

즉 $k = \frac{3-\sqrt{3}}{2}$ 이다. 따라서

$$\frac{k}{b} = \frac{\frac{3-\sqrt{3}}{2}}{\frac{1-\sqrt{3}}{2}} = \frac{2\sqrt{3}}{-2} = -\sqrt{3}$$

$$\text{이므로 } a + 20\left(\frac{k}{b}\right)^2 = -1 + 20 \times 3 = 59$$