

2015.6 분석 및 해제

3

[수능적 해법]

$$\cos 2\theta = 1 - 2\sin^2\theta = 1 - \frac{8}{9} = \frac{1}{9} \dots 1)$$

[정답] ②

4

[수능적 해법]

$$f'(x) = 3e^{3x} + 10 \text{에서 } f'(0) = 13$$

[정답] ⑤

5

[수능적 해법]

$$f(x) = \sqrt{5} \sin x + 2\cos x + a = \sqrt{(\sqrt{5})^2 + 2^2} \sin(x + \alpha) + a$$

$$= 3\sin(x + \alpha) + a \quad (\text{단, } \tan \alpha = \frac{2}{\sqrt{5}})$$

이므로 최댓값은 $3 + a$ 임을 알 수 있다. 즉, $3 + a = 7$ 에서 $a = 4$

[스피드 해법]

$a \sin \theta + b \cos \theta$ 의 최댓값은 $\sqrt{a^2 + b^2}$ 임을 외우고 있다면 편하다. ... 2)

$$\text{즉, 최댓값은 } \sqrt{(\sqrt{5})^2 + 2^2} + a = 3 + a = 7 \text{이므로 } a = 4$$

[정답] ④

6

[수능적 해법]

$\int_e^{e^3} \frac{\ln x}{x} dx$ 에서 $\frac{1}{x}$ 은 $\ln x$ 의 도함수이므로 $\ln x = t$ 라 치환하여 치환적분을 하자.

$$\int_1^3 t dt = \left[\frac{1}{2} t^2 \right]_1^3 = \frac{9-1}{2} = 4$$

[정답] ④

9

[수능적 해법]

두 곡선 $y = e^x$ 와 $y = ax$ 에 $x = 1$ 을 대입해보면 $e > a$ 임을 알 수 있으므로

그래프를 그려보면 오른쪽과 같다. ... 3)

따라서 곡선 $y = e^x$ 와 x 축, y 축 및 직선 $x = 1$ 로 둘러싸인 넓이는

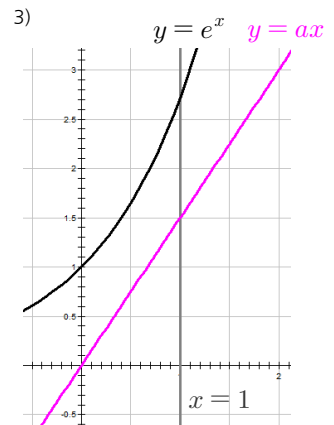
직선 $y = ax$ 와 x 축 및 직선 $x = 1$ 로 둘러싸인 넓이의 2배임을 알 수 있다.

1) 코사인 배각 공식 3개

$$\begin{aligned} \cos 2\theta &= \cos^2\theta - \sin^2\theta \\ &= 2\cos^2\theta - 1 \\ &= 1 - 2\sin^2\theta \end{aligned}$$

2) $a \sin \theta + b \cos \theta$ 에서

최댓값은 $\sqrt{a^2 + b^2}$ 이고
최솟값은 $-\sqrt{a^2 + b^2}$ 이다.



$$\int_0^1 e^x dx = [e^x]_0^1 = e - 1, \int_0^1 ax dx = \left[\frac{1}{2} ax^2 \right]_0^1 = \frac{a}{2}$$

이므로 $2 \times \left(\frac{a}{2} \right) = e - 1$ 에서 $a = e - 1$ 임을 알 수 있다.

[정답] ③

11

[수능적 해법]

변환 g^{-1} 을 나타내는 행렬은 주어진 행렬 $\begin{pmatrix} 2 & 0 \\ 0 & 3 \end{pmatrix}$ 의 역행렬 $\frac{1}{6} \begin{pmatrix} 3 & 0 \\ 0 & 2 \end{pmatrix}$ 이다.

즉, 합성변환 $g^{-1} \circ f$ 를 나타내는 행렬은 $\frac{1}{6} \begin{pmatrix} 3 & 0 \\ 0 & 2 \end{pmatrix} \begin{pmatrix} 2 & a \\ b & 1 \end{pmatrix}$ 이므로

$$\frac{1}{6} \begin{pmatrix} 3 & 0 \\ 0 & 2 \end{pmatrix} \begin{pmatrix} 2 & a \\ b & 1 \end{pmatrix} \begin{pmatrix} 1 \\ 2 \end{pmatrix} = \frac{1}{6} \begin{pmatrix} 6 & 3a \\ 2b & 2 \end{pmatrix} \begin{pmatrix} 1 \\ 2 \end{pmatrix} = \frac{1}{6} \begin{pmatrix} 6+6a \\ 2b+4 \end{pmatrix} = \begin{pmatrix} 1+a \\ \frac{1}{3}b + \frac{2}{3} \end{pmatrix} = \begin{pmatrix} 5 \\ 1 \end{pmatrix}$$

에서 $a = 4, \frac{b}{3} + \frac{2}{3} = 1$ 에서 $b = 1$ 이다. 즉, $a + b = 4 + 1 = 5$

[정답] ⑤

12

[수능적 해법]

A(4, 1)에서의 접선은 위의 점을 알 때 접선공식¹⁾에 대입하면 $\frac{4x}{8} - y = 1,$

$y = \frac{x}{2} - 1$ 임을 알 수 있다. 따라서 x 축과 만나는 점은 $\frac{x}{2} - 1 = 0$ 에서 $x = 2$

이므로 B(2, 0)이고, 두 초점 중 x 좌표가 양수인 점을 F는 $\sqrt{8+1} = 3$ 에서 F(3, 0)임을 알 수 있다.

즉, 삼각형 FAB의 밑변은 $3 - 2 = 1$ 이고 높이도 (4, 1)에서 1임을 알 수 있다.

넓이는 $\frac{1}{2}(1)(1) = \frac{1}{2}$ 이다.

[정답] ②

14

[수능적 해법]

주어진 부등식의 우변을 이항하고 통분하면 $\frac{(x-3)-f(x)}{f(x)} \geq 0$ 이다.

동치변형하면 $f(x)\{f(x)-(x-3)\} \leq 0$ ($f(x) \neq 0$)

$f(x)$ 는 $x = 2, 6$ 에서 부호가 변하고 $f(x)-(x-3)$ 의 부호변화를 알기 위해

방정식 $f(x) = x - 3$ 을 풀어보자. $x < 4$ 에서 $f(x) = 4 - 2x$ 이므로

1) 쌍곡선 $\frac{x^2}{a^2} - \frac{y^2}{b^2} = 1$

① 위의 점 (x_1, y_1) 에서의 접선

의 방정식은 $\frac{x_1x}{a^2} - \frac{y_1y}{b^2} = 1$

② 기울기가 m 인 접선의 방정식

은 $y = mx \pm \sqrt{a^2m^2 - b^2}$

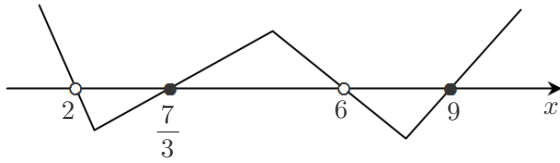
2015.6 분석 및 해제

$4 - 2x = x - 3$ 에서 $x = \frac{7}{3}$ 이고 $x \geq 4$ 에서 $f(x) = 2x - 12$ 이므로

$2x - 12 = x - 3$ 에서 $x = 9$ 이다.

즉, $f(x) - (x - 3)$ 은 $x = \frac{7}{3}$, 9에서 부호가 바뀐다.

$f(x)\{f(x) - (x - 3)\} \leq 0$ 의 부호 변화를 나타내는 그래프를 그려보면 다음과 같다.



따라서 $\frac{f(x) - (x - 3)}{f(x)} \leq 0$ 을 만족하는 자연수는 7, 8, 9임을 알 수 있다.

즉, $7 + 8 + 9 = 24$

[스피드 해법]

동치변형을 하지 않더라도 부호변화는 같으므로 $\frac{f(x) - (x - 3)}{f(x)} \leq 0$ 에서 바로

부호 변화를 나타내는 그래프를 그려서 문제를 풀어도 된다.

[정답] ③

17

[수능적 해법]¹⁾

타원의 장축의 길이는 $2 \times \sqrt{49} = 14$ 이므로 타원의 정의에 의하여

$\overline{FP} + \overline{F'P} = 14$ 에서 $\overline{FP} = 9$ 를 대입하면 $\overline{F'P} = 5$ 임을 알 수 있다.

삼각형 PHF에서 피타고라스의 정리를 활용하면 $9^2 - (6\sqrt{2})^2 = 81 - 72 = 9$

이므로 $\overline{PH} = \sqrt{9} = 3$ 이다. 즉, $\overline{HF'} = 5 - 3 = 2$ 이므로 삼각형 HF'F에서

피타고라스의 정리를 활용하면 $\overline{FF'}^2 = (6\sqrt{2})^2 + 2^2 = 72 + 4 = 76$

이다. $\overline{FF'} = \sqrt{76} = 2\sqrt{19}$ 에서 $\overline{OF} = \sqrt{19}$ 이므로 $49 - a = (\sqrt{19})^2$,

$a = 49 - 19 = 30$ 임을 알 수 있다.

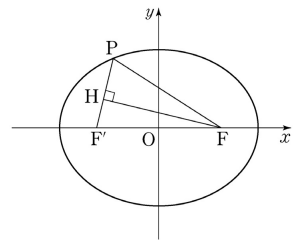
[정답] ②

18

[수능적 해법]

∴ 그래프에서 $\lim_{x \rightarrow 1-0} f(x) = 0$, $\lim_{x \rightarrow 1+0} f(x) = 1$ 임을 알 수 있다. (참)

1) 문제 원본 그림



$$\begin{aligned} \text{ㄷ. } \lim_{t \rightarrow \infty} f\left(\frac{1}{t}\right) &= \lim_{x \rightarrow +0} f(x) = 1 \quad (\text{참}) \dots 1) \\ \text{ㄹ. } f(f(3)) &= f(2) = 1, \quad \lim_{x \rightarrow 3+0} f(f(x)) = \lim_{t \rightarrow 2-0} f(t) = 1, \\ \lim_{x \rightarrow 3-0} f(f(x)) &= \lim_{t \rightarrow 2+0} f(t) = 3 \text{이므로 불연속이다. (거짓)} \end{aligned}$$

[정답] ③

20

[수능적 해법]

(나) 조건에서 세 점이 한 직선 위에 있으려면 임의의 두 점을 지나는 기울기가 같아야 한다. 기울기가 같을 조건을 풀어보면

$$\frac{b-a}{2-1} = \frac{c-b}{3-2} \Leftrightarrow b-a = c-b \Leftrightarrow 2b = a+c$$

이므로 $a+b+c=6$ 이면서 동시에 $2b \neq a+c$ 인 음이 아닌 정수 a, b, c 의 모든 순서쌍을 찾으면 된다.

$$a+b+c=6 \text{을 만족시키는 순서쌍의 개수는 } {}_3H_6 = {}_8C_6 = \frac{8 \times 7}{2!} = 28$$

이다. 또한 $a+b+c=6$ 이면서 $2b = a+c$ 인 순서쌍의 개수를 찾아서 빼면 되므로 대입해보면 $3b=6$, $b=2$ 에서 $b=2$ 이면서 $a+c=4$ 인 순서쌍의 개수를 찾으면 되는 것을 알 수 있다.

$$a+c=4 \text{를 만족하는 개수는 } {}_2H_4 = {}_5C_4 = 5 \dots 2)$$

이므로 $28 - 5 = 23$ 이다.

[정답] ⑤

21

[수능적 해법]

그림에서 색칠된 부분의 넓이이므로 부채꼴의 넓이에서 삼각형의 넓이를 빼

서 구하면 된다. 즉, $g(\theta) = \frac{1}{2}(1)^2(2\theta - \sin 2\theta) = \theta - \frac{1}{2}\sin 2\theta$ 이다.

$$(가) = \frac{1}{2}\sin 2\theta \rightarrow h_1\left(\frac{\pi}{4}\right) = \frac{1}{2}\sin \frac{\pi}{2} = \frac{1}{2}$$

또한 $t = \tan \theta$ 일 때 $g(\theta) = f(t) = f(\tan \theta)$ 의 양변을 미분하면 합성함수 미분법에 의하여 $g'(\theta) = f'(\tan \theta) \times (\tan \theta)' = f'(\tan \theta) \sec^2 \theta = 1 - \cos 2\theta$ 이다.

$$(나) = \sec^2 \theta \rightarrow h_2\left(\frac{\pi}{4}\right) = \frac{1}{\cos^2\left(\frac{\pi}{4}\right)} = 2$$

1) $x = \frac{1}{t}$ 로 치환한 것이다.

t 에 대한 함수 $\frac{1}{t}$ 을 좌표평면에

그려보면 $t \rightarrow \infty$ 일 때 함수값은 $+0$ 으로 가는 것을 쉽게 알 수 있다.

2) $(a, 2, c)$ 꼴의 순서쌍의 개수가 5개인 것이다.

2015.6 분석 및 해제

$\tan\theta = 2$, $\cos\theta = \frac{1}{\sqrt{5}}$ 인 θ 를 위의 식에 대입하면 $\cos 2\theta = 2\cos^2\theta - 1$

에서 $f'(2) \times 5 = 1 - \left(2 \times \frac{1}{5} - 1\right) = 1 - \left(-\frac{3}{5}\right) = \frac{8}{5}$ 이다.

즉, $f'(2) = \frac{8}{25}$ 임을 알 수 있고, $a = \frac{8}{25}$

$$a \times h_1\left(\frac{\pi}{4}\right) \times h_2\left(\frac{\pi}{4}\right) = \frac{8}{25} \times \frac{1}{2} \times 2 = \frac{8}{25}$$

[정답] ①

22

[수능적 해법]

$$\lim_{x \rightarrow 0} \frac{\ln(1+7x)}{x} = \lim_{x \rightarrow 0} \frac{\ln(1+7x)}{7x} \times 7 = 1 \times 7 = 7$$

[정답] 7

23

[수능적 해법]

$$\left(ax + \frac{1}{x}\right)^4 = \sum_{r=0}^4 {}_4C_r (ax)^r \left(\frac{1}{x}\right)^{4-r} = \sum_{r=0}^4 {}_4C_r a^r x^{2r-4}$$

이므로 $2r - 4 = 0$ 에서 $r = 2$ 일 때 상수항임을 알 수 있다. 따라서 ${}_4C_2 a^2 = 6a^2 = 54$, $a^2 = 9$

에서 $a = 3$ 이다.

[정답] 3

24

[수능적 해법]

$$f(3X_1 + X_2) = f(3X_1) + f(X_2) = 3f(X_1) + f(X_2) = 3\left(\frac{4}{1}\right) + \left(-\frac{1}{3}\right)$$

$$= \left(\frac{12}{3}\right) + \left(-\frac{1}{3}\right) = \left(\frac{11}{6}\right)$$

이므로 $a + b = 11 + 6 = 17$

[정답] 17

26

[수능적 해법]

$y = f(x)$ 위의 점 조건에서 $f(e) = -e$ 임을 알 수 있다.

마찬가지로 $g(e) = -4e$ 인데, 두 접선이 수직이므로 $f'(e)g'(e) = -1$ 이다.

주어진 식을 미분하면 $g'(x) = f'(x)\ln x^4 + \frac{4f(x)}{x}$ 이므로 양변에 $x = e$ 를

대입하면 $g'(e) = 4f'(e) + \frac{4f(e)}{e}$ 이다. 문제에서 묻는 것이 $f'(e)$ 이므로

$f'(e)$ 에 대하여 식을 정리하기 위해 $g'(e) = \frac{-1}{f'(e)}$, $f(e) = -e$ 를 대입하면

$$\frac{-1}{f'(e)} = 4f'(e) - 4, \quad 4\{f'(e)\}^2 - 4f'(e) + 1 = 0, \quad \{2f'(e) - 1\}^2 = 0$$

이므로 $f'(e) = \frac{1}{2}$ 이다. 즉, $100f'(e) = 50$

[정답] 50

27

[수능적 해법]

주어진 식의 양변을 제곱하면

$$g(x) + g(x) - \{f(x)\}^2 - 2\sqrt{\{g(x)\}^2 - g(x)\{f(x)\}^2} = \{f(x)\}^2$$

$$\Leftrightarrow g(x) - \{f(x)\}^2 = \sqrt{\{g(x)\}^2 - g(x)\{f(x)\}^2}$$

\Rightarrow

$$\{f(x)\}^4 + \{g(x)\}^2 - 2g(x)\{f(x)\}^2 = \{g(x)\}^2 - g(x)\{f(x)\}^2$$

$$\Leftrightarrow \{f(x)\}^4 = g(x)\{f(x)\}^2 \Leftrightarrow \{f(x)\}^2\{\{f(x)\}^2 - g(x)\} = 0$$

$$\Leftrightarrow \{f(x)\}^2 = 0 \text{ or } \{f(x)\}^2 = g(x)$$

① $\{f(x)\}^2 = 0$ 에서 $f(x) = 0$, $-x + 2 = 0$, $x = 2$ 이다.

주어진 식에 $x = 2$ 를 대입해보면 좌변은 $\sqrt{g(x)} - \sqrt{g(x) - 0} = 0$ 이고

우변은 $f(2) = 0$ 이므로 성립한다. 즉, $x = 2$ 는 실근이 된다.

$$\textcircled{2} \{f(x)\}^2 = g(x), \quad x^2 - 4x + 4 = \frac{1}{2}(x - 1), \quad 2x^2 - 9x + 9 = 0,$$

$$(2x - 3)(x - 3) = 0, \quad x = \frac{3}{2} \text{ or } x = 3$$

$$\{f(x)\}^2 = g(x) \text{이면 좌변은 } \sqrt{g(x)} - \sqrt{g(x) - g(x)} = \sqrt{g(x)}$$

이므로 주어진 식은 $\sqrt{g(x)} = f(x)$ 인 상태에서 생각할 수 있다.

그런데, $x = \frac{3}{2}$ 이면 $g\left(\frac{3}{2}\right) = \frac{1}{4}$, $f\left(\frac{3}{2}\right) = \frac{1}{2}$ 이므로 만족하고

$x = 3$ 이면 $g(3) = 1$, $f(3) = -1$ 이므로 만족하지 않는다.¹⁾

따라서 만족하는 실근은 $x = 2$ 와 $x = \frac{3}{2}$ 이다. 즉, $10\left(2 + \frac{3}{2}\right) = 35$

[정답] 35

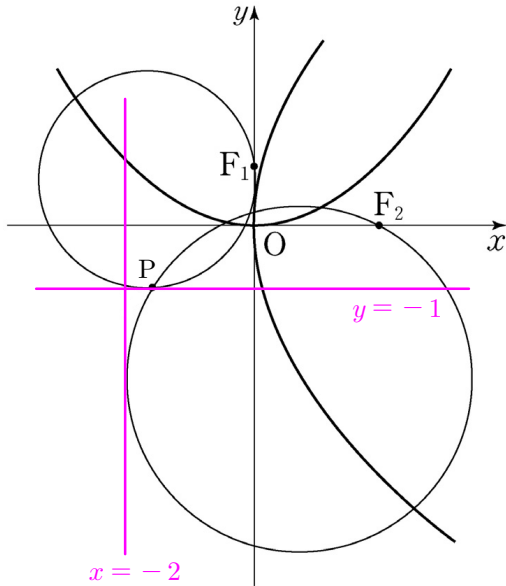
1) 이와 같이 무연근을 확인할 때에는 반드시 주어진 첫 식에 대입해야 실수할 확률을 최소화할 수 있다.

2015.6 분석 및 해제

28

[수능적 해법]

포물선의 정의를 활용하기 위해 그림에서 각 포물선에 대한 준선을 그려보면 다음과 같이 준선들이 원에 접하는 직선임을 알 수 있다.



점 P의 좌표를 (a, b) 라 하면 그림 상에서 $-2 \leq a \leq 0, -1 \leq b \leq 0$

이 참이 됨을 추론할 수 있는데, 여기서 $0 \leq a^2 + b^2 = \overline{OP}^2 \leq 5$

를 만족한다. 그런데 $(a, b) = (-2, -1)$ 인 순간이 존재한다는 것을 증명해야 최댓값이 5가 될 수 있다. ... ¹⁾

그림에서 두 원이 준선에 접하는 접점이 모두 $(-2, -1)$ 인 순간에

점 P가 $(-2, -1)$ 이 됨을 자명하게 알 수 있다. ... ²⁾

즉, 최댓값은 5이다.

1) 여기서 논리적으로 하기 위해서는 최대한 순간이 존재하는지 반드시 확인해야 한다.

2) 원은 준선에 접하면서 움직인다고 생각해보면 그러한 순간은 반드시 존재하는 것을 쉽게 알 수 있다.

[정답] 5

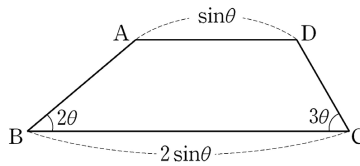
29

[수능적 해법]

사다리꼴의 넓이를 구하기 위해서는

높이만 구하면 된다. 즉, 사다리꼴의

높이를 h 라 하자. 밑변과 윗변의 관계식에서



$$2\sin\theta = \sin\theta + \frac{h}{\tan 2\theta} + \frac{h}{\tan 3\theta} \Leftrightarrow \sin\theta = h \left(\frac{1}{\tan 2\theta} + \frac{1}{\tan 3\theta} \right)$$

$$\Leftrightarrow \sin\theta = h \left(\frac{\tan 2\theta + \tan 3\theta}{\tan 2\theta \tan 3\theta} \right) \Leftrightarrow \frac{\sin\theta \times \tan 2\theta \times \tan 3\theta}{\tan 2\theta + \tan 3\theta} = h$$

임을 알 수 있다.

따라서 사다리꼴의 넓이는

$$\frac{1}{2}(\sin\theta + 2\sin\theta) \left(\frac{\sin\theta \times \tan 2\theta \times \tan 3\theta}{\tan 2\theta + \tan 3\theta} \right) = \frac{3\sin^2\theta \times \tan 2\theta \times \tan 3\theta}{2(\tan 2\theta + \tan 3\theta)}$$

$$\begin{aligned} \lim_{\theta \rightarrow +0} \frac{S(\theta)}{\theta^3} &= \lim_{\theta \rightarrow +0} \frac{1}{\theta^3} \times \frac{3\sin^2\theta \times \tan 2\theta \times \tan 3\theta}{2(\tan 2\theta + \tan 3\theta)} \\ &= \lim_{\theta \rightarrow +0} \frac{3 \left(\frac{\sin\theta}{\theta} \right)^2 \times \left(\frac{\tan 2\theta}{\theta} \right) \times \left(\frac{\tan 3\theta}{\theta} \right)}{2 \left(\frac{\tan 2\theta}{\theta} + \frac{\tan 3\theta}{\theta} \right)} = \frac{3(1)^2(2)(3)}{2(2+3)} = \frac{9}{5} \end{aligned}$$

이므로 $p+q = 5+9 = 14$ 이다.

[스피드 해법]

$$S(\theta) = \frac{3\sin^2\theta \times \tan 2\theta \times \tan 3\theta}{2(\tan 2\theta + \tan 3\theta)} \text{에서 } \theta \rightarrow 0 \text{일 때, } \sin\theta = \tan\theta = \theta$$

라는 간단한 근사를 활용하면 $S(\theta) = \frac{9\theta^4}{5\theta} = \frac{9}{5}\theta^3$ 임을 알 수 있다. 따라서

극한값은 $\frac{9}{5}$

[정답] 14

30

[수능적 해법]

먼저 (나)의 조건이 가장 접근하기

쉬우므로 (나)의 조건에

$\dots, n=0, n=1, \dots$ 을 대입하면서

그래프에 점을 찍으면 오른쪽 그림과

같다.

문제에서 구하는 적분구간이

3~6이므로 3~6에서의 그래프를 알아내야

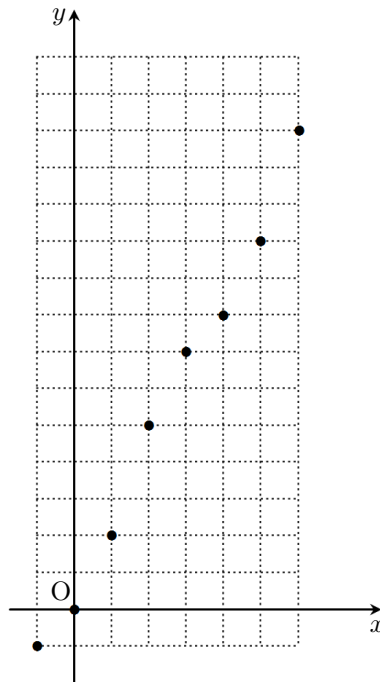
하는 것을 알 수 있다.

또한 (다)조건에서 $[0, 1], [2, 3], [4, 5]$

\dots 에서는 이차함수임을 알 수 있다.

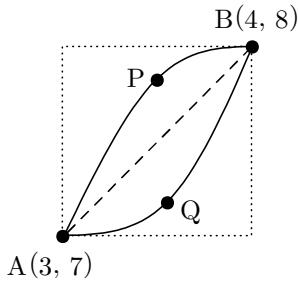
여기서 아직 활용하지 않은 조건은

(가)이고 전혀 그래프의 정체를 알 수 없는



2015.6 분석 및 해제

구간은 $[3, 4]$ 와 $[5, 6]$ 이다.
그림에서 $(3, 7)$, $(4, 8)$ 의 구간을
확대해보면 다음과 같다.



그림과 같이 그래프가 직선 AB 위에
그려지는 부분이 있으면 그 부분 위의 점
P에 대하여 직선 PB의 기울기가
1보다 작아서 평균값의 정리에 의하여
 $f'(c) < 1$ 인 c 가 반드시 구간에서 존재하게
된다. 즉 (가)의 조건에 모순이다.

마찬가지로 그래프가 직선 AB 아래에 그려지는 부분이 있으면 그 부분 위
의 점 Q에 대하여 직선 AQ의 기울기가 1보다 작아서 평균값의 정리에
의하여 $f'(c) < 1$ 인 c 가 반드시 구간에서 존재하게 된다. 즉, 구간 $[3, 4]$ 에
서는 반드시 직선 AB의 그래프가 될 수밖에 없다. 구간 $[5, 6]$ 에서도 마
찬가지로 평균값의 정리를 활용하면
직선의 그래프가 되는 것을 알 수 있다.

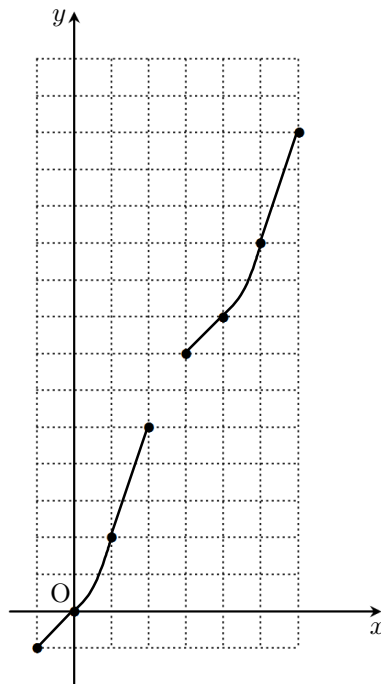
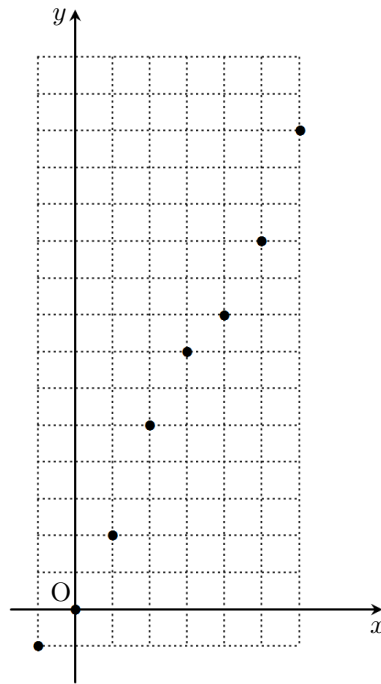
이처럼 이차함수의 그래프의 일부가 되는
구간 $[2k, 2k+1]$ 을 제외하고
나머지 구간은 모두 직선이 되는 것을
알 수 있다.

즉, 오른쪽 그림의 구간 $[3, 4]$ 에서 두
점 $(3, 7)$, $(4, 8)$ 을 지나고 점 $(3, 7)$ 에서
미분가능한(접선의 기울기가 1인)
이차함수의 그래프를 찾아서 적분하면
되는 것을 알 수 있다.¹⁾

그런데 곧 그 그래프는 구간 $[0, 1]$ 에서
의 이차함수 그래프와 모양이 같은 것을
알 수 있으므로 계산의 편의를 위해

$[0, 1]$ 에서 찾자. 즉, 두 점 $(0, 0)$,

$(1, 2)$ 를 지나고 $(0, 0)$ 에서 접선의 기울기가 1인 이차함수를 찾으면 된다.



1) 이차함수는 일반적으로

$$f(x) = ax^2 + bx + c$$

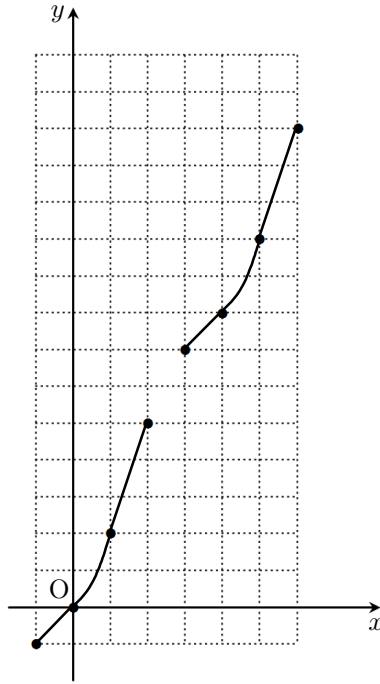
이므로 세 개의 식을 알면
하나로 결정된다.

즉, 일직선 위에 있지 않은 세 점
을 지나는 이차함수는 유일하게
결정되며 이 문제와 같이 두 점을
지나고, 접선의 기울기를 아는 이
차함수도 유일하게 결정된다.

(0, 0)을 지나므로 이차함수를 $f(x) = ax^2 + bx$ ($0 \leq x \leq 1$)라 할 수 있다.

이제 $x=0$ 에서 접선의 기울기가 1이어야 하므로 $f'(x) = 2ax + b$ 에서 $f'(0) = b = 1$ 이므로 $f(x) = ax^2 + x$ 이다. 그런데 (1, 2)를 지나야 하므로 $a = 1$ 임을 알 수 있다.

즉, 이차함수는 $f(x) = x^2 + x$ ($0 \leq x \leq 1$)임을 알 수 있다.



즉, $\int_3^6 f(x)dx$ 에서 $\int_4^5 f(x)dx$ 을 구할 때에는 앞서 구한 이차함수를 이용하자.¹⁾

$$\int_3^4 f(x)dx = 1 \times 7 + \frac{1}{2} = \frac{15}{2}$$

$$\int_4^5 f(x)dx = 1 \times 8 + \int_0^1 (x^2 + x)dx = 8 + \frac{5}{6} = \frac{53}{6}$$

$$\int_5^6 f(x)dx = 1 \times 10 + \frac{3}{2} = \frac{23}{2}$$

에서 $\int_3^6 f(x)dx = \frac{15}{2} + \frac{53}{6} + \frac{23}{2} = \frac{167}{6}$ 이다. 즉, $6a = 167$

[정답] 167

1) 넓이를 구할 때, 사다리꼴의 넓이를 먼저 구한 후 이차함수의 그래프와 일차함수의 그래프로 둘러싸인 부분의 넓이 공식인 $\left| \frac{a}{6}(\beta - \alpha)^3 \right|$ 을 활용하여 계산해서 빼는 것도 방법이다.

$$\int_4^5 f(x)dx = 9 - \frac{1}{6}(1)^3 = \frac{53}{6}$$