


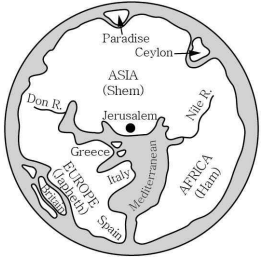
제 4 교시

사회탐구 영역(세계지리)

성명 수험번호 3 제 () 선택

1. 다음은 지리 모듈 학습지의 일부이다. 세 항목에 대해 모두 옳게 답한 학생을 고른 것은?

<모듈 학습지>
※ 두 지도의 공통점만을 있는 대로 골라 '✓' 표시하세요.

항목	학생	답				
		갑	을	병	정	무
지도의 위쪽이 남쪽이다.			✓	✓		
아프리카 대륙이 표현되어 있다.		✓		✓		✓
종교적 세계관이 반영되어 있다.		✓	✓		✓	

- ① 갑 ② 을 ③ 병 ④ 정 ⑤ 무

2. 다음 자료를 토대로 하나의 국가를 선택하여 농업 기술을 지원하고자 한다. 가장 적합한 국가를 지도의 A~E에서 고른 것은? (단, 합산 점수가 가장 높은 국가를 선택하며, 합산 점수가 같은 경우에는 6·25 전쟁 시 대한민국 지원 국가를 선택함.) [3점]

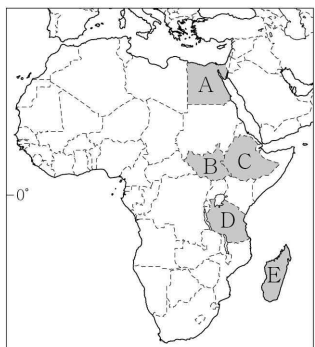
<평가 기준>

항목 점수	1인당 곡물 생산량(kg/명)	도시화율 (%)	6·25 전쟁 시 대한민국 지원 여부
1점	200 이상	40 이상	미지원
2점	100 ~ 200	30 ~ 40	지원(물자)
3점	100 미만	30 미만	지원(병력)

<국가 정보>

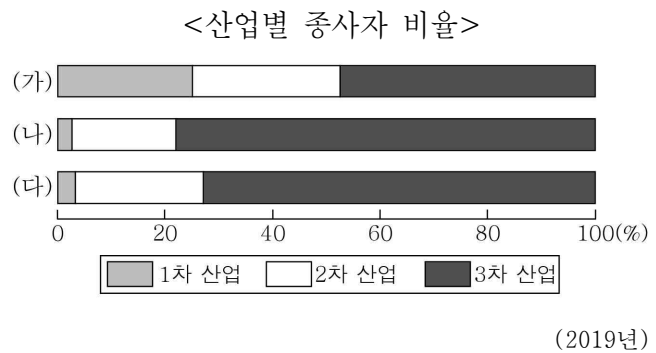
항목 국가	1인당 곡물 생산량(kg/명)	도시화율 (%)	6·25 전쟁 시 대한민국 지원 여부
남수단	73	20	미지원
마다가스카르	161	39	미지원
에티오피아	258	22	지원(병력)
이집트	235	43	지원(물자)
탄자니아	174	35	미지원

* 1인당 곡물 생산량은 2019년, 도시화율은 2020년 기준임.



- ① A
② B
③ C
④ D
⑤ E

3. 다음 자료의 (가)~(다) 국가로 옳은 것은?




<품목별 수출액 비율(%)>

(가)		(나)		(다)	
품목	비율	품목	비율	품목	비율
전기·전자 장비	27	광물	36	자동차	19
기계류	17	석유, 석탄 등	14	기계류	19
가구, 건축 자재	4	금속, 귀금속	8	전기·전자 장비	16
플라스틱	4	육류	4	광학, 의료 기기	6
기타	48	기타	38	기타	40

(2020년)

- | | | |
|-----------|---------|---------|
| (가) | (나) | (다) |
| ① 일본 | 오스트레일리아 | 중국 |
| ② 중국 | 일본 | 오스트레일리아 |
| ③ 중국 | 오스트레일리아 | 일본 |
| ④ 오스트레일리아 | 일본 | 중국 |
| ⑤ 오스트레일리아 | 중국 | 일본 |

4. 다음 자료의 ㉠ 지역에 대한 설명으로 옳은 것은? [3점]



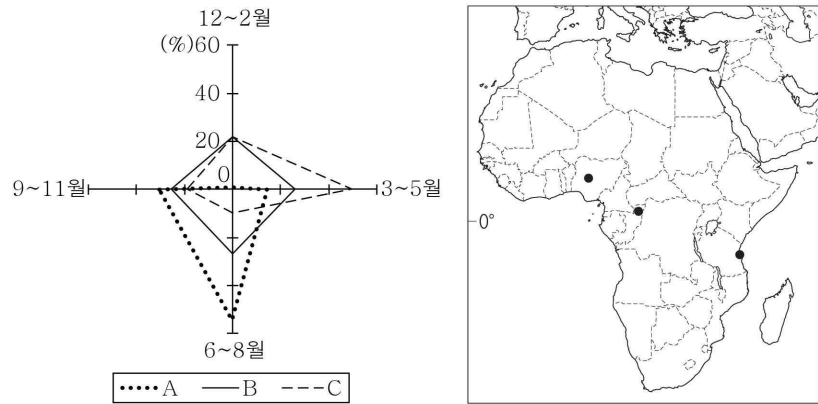
<몽마르트 언덕의 풍차와 채소밭(1887년)>

빈센트 반 고흐의 작품에는 그가 활동한 지역의 기후 특성이 드러난 그림들이 많다. 그의 대표적인 화풍인 '눈부신 색감과 강렬한 대조'도 여름철 태양이 강렬한 프랑스 남부 아를에서의 활동 시기와 관계가 깊다.

위 그림은 그가 프랑스 북부 파리를 중심으로 활동한 시기의 작품으로, ㉠비가 자주 내리는 그 지역의 기후 특성이 그림 속 우중충한 하늘에 잘 드러나 있다.

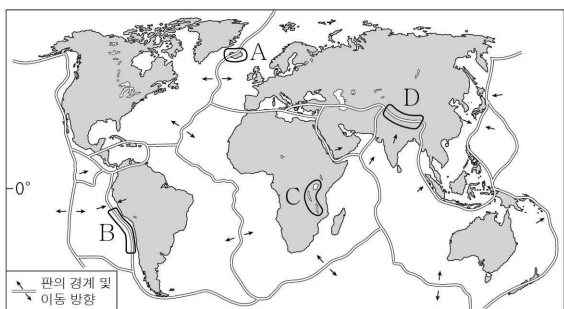
- ① 연중 적도 수렴대의 영향을 받는다.
 ② 열대 저기압으로 인한 풍수해가 잦다.
 ③ 식량 작물로 카사바, 양 등을 주로 재배한다.
 ④ 계절풍의 영향을 받아 여름 강수 집중률이 높다.
 ⑤ 가축 사육과 식량 및 사료 작물 재배가 함께 이루어진다.

5. 그래프는 지도에 표시된 세 지역의 시기별 강수 비율을 나타낸 것이다. A ~ C 지역에 대한 설명으로 옳은 것은? [3점]



- ① A는 기온의 연교차가 기온의 일교차보다 크다.
- ② C에는 상록 활엽수가 여러 층을 이룬 밀림이 주로 나타난다.
- ③ A는 C보다 1월의 낮이 길다.
- ④ B는 A보다 강수의 계절 차이가 크다.
- ⑤ C는 B보다 7월에 아열대 고압대의 영향을 많이 받는다.

6. 지도의 A ~ D에 대한 설명으로 옳지 않은 것은? [3점]



- ① A의 섬은 지열 발전에 유리하다.
- ② B에서는 해양판과 대륙판이 충돌한다.
- ③ C의 지구대에는 단층호가 분포한다.
- ④ A, C는 모두 판이 갈라지는 경계이다.
- ⑤ D는 B보다 화산 활동이 활발하다.

7. 다음 글의 (가)~(다) 종교에 대한 설명으로 옳은 것은? (단, (가)~(다)는 각각 불교, 이슬람교, 크리스티교 중 하나임.)

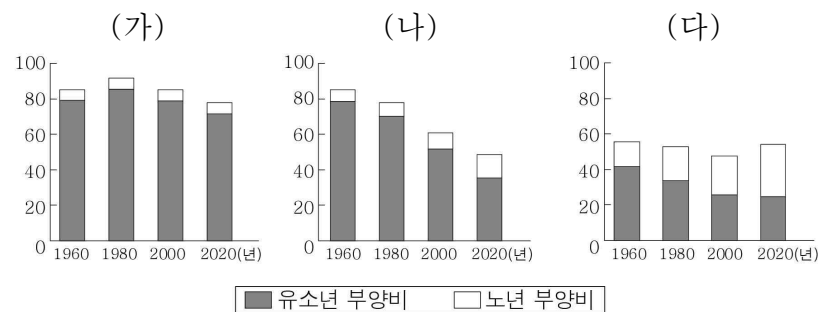
종교에 따라 특별하게 여기는 과일이 있다. 사과는 중앙아시아 및 터키 동부가 원산지, (가)의 경전에 나오는 에덴동산의 선악과로 알려져 있다.

석류의 원산지는 서남아시아의 '비옥한 초승달 지역'인 메소포타미아 지방이다. (나)의 경전인 쿠란에 따르면 석류는 신의 정원에 자라는 천상의 과일이다.

(다)의 창시자가 나무 아래에서 깨달음을 얻은 후, 그 나무를 '보리수'라고도 부른다. '보리'는 산스크리트어로, '깨달음'이라는 뜻이다. 흔히 반얀나무를 '보리수'라고 하지만, 망고나무가 '보리수'라는 견해도 있다. 그래서일까? 망고를 깨달음의 과일이라고도 한다.

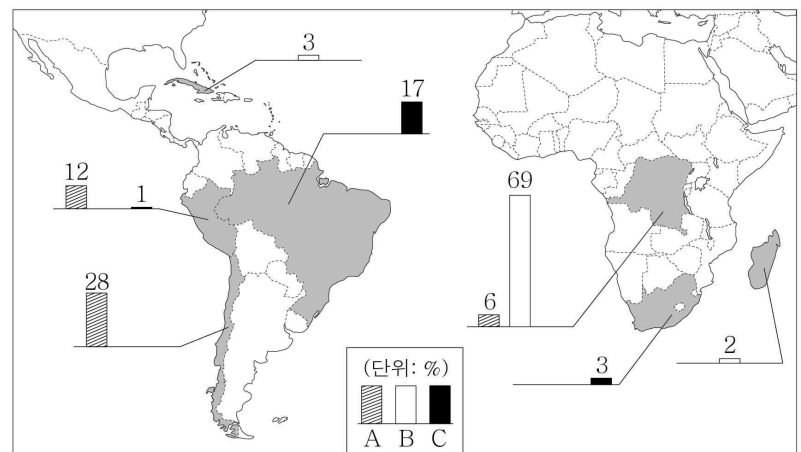
- ① (가)의 성지에는 부다가야, 룸비니 등이 있다.
- ② (나)의 대표적인 경관은 십자가와 종탑이다.
- ③ (다)는 라마단이라는 금식 기간을 중시한다.
- ④ (가)는 (나)보다 기원한 시기가 이른다.
- ⑤ (다)는 (가)보다 세계 신자가 많다.

8. 그래프는 세 지역(대륙)의 유소년 및 노년 부양비 변화를 나타낸 것이다. (가)~(다)에 대한 설명으로 옳은 것은? (단, (가)~(다)는 각각 라틴 아메리카, 아프리카, 유럽 중 하나임.) [3점]



- ① (나)는 1960년부터 청장년층 인구 비율이 높아지는 추세이다.
- ② (다)의 2020년 인구 구조는 피라미드형이다.
- ③ (가)는 (나)보다 2020년 노령화 지수가 높다.
- ④ (다)는 (가)보다 합계 출산율이 높다.
- ⑤ (가)는 유럽, (나)는 아프리카, (다)는 라틴 아메리카이다.

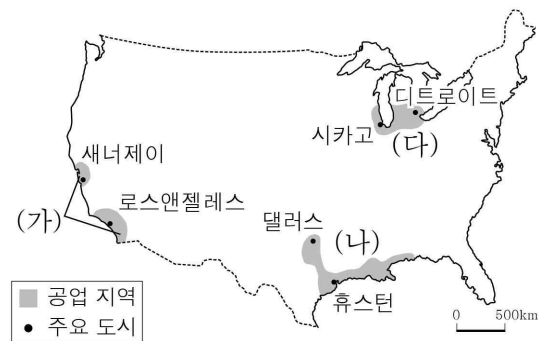
9. 지도는 세 자원의 국가별 생산량 비율을 나타낸 것이다. A ~ C 자원으로 옳은 것은?



* 라틴 아메리카와 아프리카 내 생산량 상위 3개 국가만 나타냄.
** 수치는 세계 생산량에서 각 국가가 차지하는 비율임. (2019년)

- | | | | | | |
|-------|-----|-----|-------|-----|-----|
| A | B | C | A | B | C |
| ① 구리 | 철광석 | 코발트 | ② 구리 | 코발트 | 철광석 |
| ③ 철광석 | 코발트 | 구리 | ④ 코발트 | 구리 | 철광석 |
| ⑤ 코발트 | 철광석 | 구리 | | | |

10. (가)~(다) 공업 지역에 대한 설명으로 옳은 것은?



- ① (가)는 제조업의 쇠퇴로 인구가 감소하고 있다.
- ② (나)는 러스트 벨트에 위치하며 철강 산업이 발달하였다.
- ③ (다)에는 정보 통신 산업의 중심지인 실리콘 벨리가 있다.
- ④ (가)는 (다)보다 공업 지역의 형성 시기가 이른다.
- ⑤ (나)는 (다)보다 석유 화학 및 정유 산업의 생산액이 많다.

11. 다음 글의 ㉠ ~ ㉥에 대한 설명으로 옳은 것은?


○ 아마존 분지에서는 2020년 8월부터 1년 동안 ㉠ 열대림 면적이 예전에 비해 큰 폭으로 감소하였는데, 이는 ㉡ 당시 브라질 정부의 정책과 관련이 깊다. 안데스 산지에서는 기후 변화로 ㉢ 많은 생물들의 서식지가 해발 고도가 더 높은 곳으로 바뀌고 있다. 이러한 변화로 이들 지역에서는 생태계 전반에 큰 혼란이 일어나고 있다.

○ 지구 생태계 보호를 위해 ㉣ 유해 폐기물의 국가 간 이동이나 불법 거래를 규제하는 국제 협약 개정안이 2021년부터 발효되었다. 이 개정안은 폐플라스틱을 수출입 통제 대상 폐기물로 관리하고, ㉤ 폐기물 발생을 최소화하며, 폐기물을 발생지 인근 장소에서 처리하는 것을 권장한다.


- ① ㉠으로 인해 아마존 숲의 이산화 탄소 흡수 기능이 강화되었다.
- ② ㉡은 경제 성장보다 환경 보호에 중점을 두었다.
- ③ ㉢의 주요 원인은 지구 온난화에 따른 기온 상승이다.
- ④ ㉣은 람사르 협약이다.
- ⑤ ㉤을 위해 일회용 플라스틱 용기의 사용을 확대해야 한다.

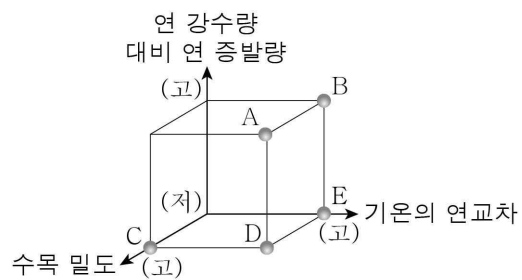
12. (가) 지역과 비교한 (나) 지역의 상대적 특징을 그림의 A ~ E에서 고른 것은? [3점]

(가) 천연 에어컨이라 할 수 있는 바드기르가 설치된 가옥이 많다. 바드기르는 탑 위 높은 곳의 시원한 바람을 집안으로 끌어들이 실내의 더운 공기를 위로 밀어내는 구조이다.



(나) 주민들이 주변에 흔한 통나무로 만든 반야에서 전통 사우나를 즐긴다. 뜨겁게 달군 자갈에 물을 뿌려 생긴 수증기로 추위를 떨쳐 내고, 물에 적신 자작나무 가지로 몸을 두드리며 피로를 푼다.



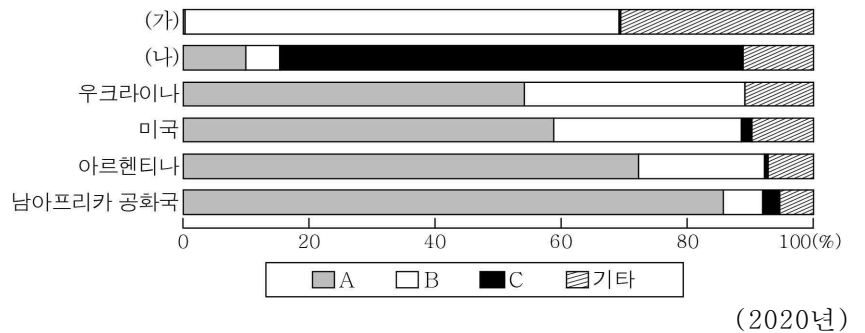


- ① A
- ② B
- ③ C
- ④ D
- ⑤ E

* '고'는 '많음, 높음, 큼'을 의미하고, '저'는 '적음, 낮음, 작음'을 의미함.

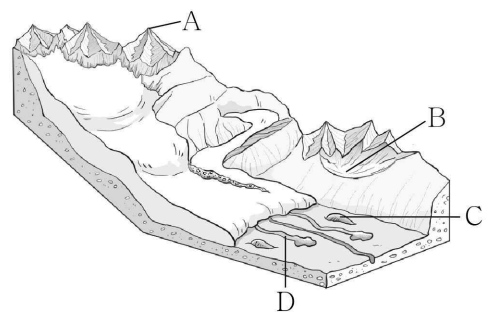
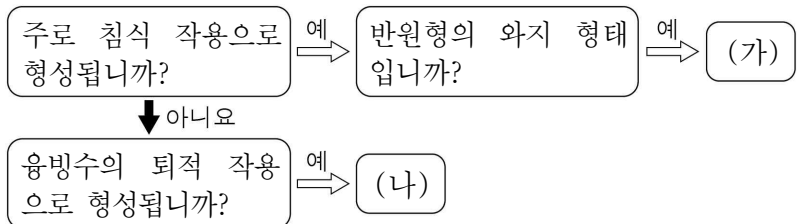
13. 그래프에 대한 설명으로 옳은 것은? (단, (가), (나)는 각각 오스트레일리아, 인도 중 하나이고, A ~ C는 각각 밀, 쌀, 옥수수 중 하나임.) [3점]

<지역(대륙)별 곡물 수출량 1위 국가의 곡물별 수출량 비율>



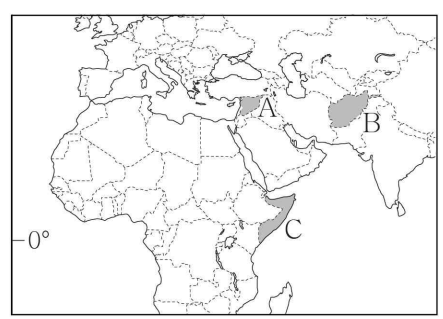
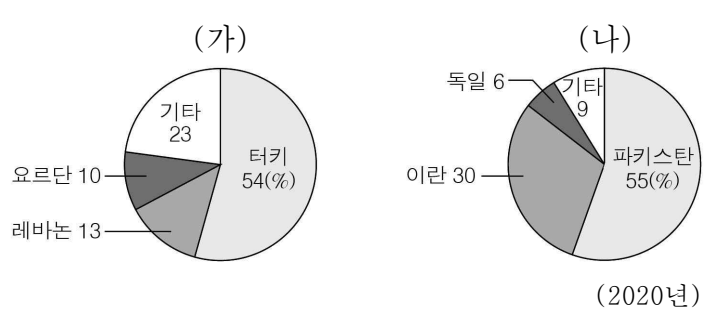
- ① (가)는 아시아, (나)는 오세아니아에 위치한다.
- ② A의 기원지는 아메리카이다.
- ③ B는 C보다 단위 면적당 생산량이 많다.
- ④ C는 A보다 국제 이동량이 많다.
- ⑤ 미국은 밀 수출량이 옥수수 수출량보다 많다.

14. (가), (나) 빙하 지형을 그림의 A ~ D에서 고른 것은? (단, A ~ D는 각각 권곡, 드럼린, 에스커, 호른 중 하나임.) [3점]



- | | (가) | (나) |
|---|-----|-----|
| ① | A | C |
| ② | A | D |
| ③ | B | C |
| ④ | B | D |
| ⑤ | C | D |

15. 그래프는 (가), (나) 국가에서 발생한 난민의 국가별 거주 비율을 나타낸 것이다. (가), (나)를 지도의 A ~ C에서 고른 것은?



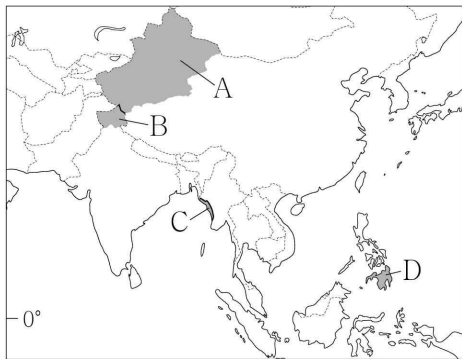
- | | (가) | (나) |
|---|-----|-----|
| ① | A | B |
| ② | A | C |
| ③ | B | A |
| ④ | B | C |
| ⑤ | C | A |

16. 다음 글의 (가), (나) 에너지에 대한 설명으로 옳은 것은?
(단, (가), (나)는 각각 석탄, 천연가스 중 하나임.)

2021년 세계 곳곳에서 에너지 위기가 고조되었다. (가)의 세계 최대 수출국인 러시아가 우크라이나와 크림반도 영유권 및 북대서양 조약 기구(NATO) 가입 문제로 갈등을 빚으며 유럽으로 향하는 (가)의 수송로를 차단하였다.
중국은 오스트레일리아에서 많은 양의 (나)을/를 수입하여 전력 생산에 이용했는데, 외교 갈등으로 수입이 중단되면서 심각한 전력난을 겪었다. 이로 인해 중국이 다른 국가로부터 (나)의 수입량을 늘리자 이 자원의 국제 가격이 상승하였다.



- ① (가)는 냉동 액화 기술의 발달로 수요가 급증하였다.
- ② (나)는 신기 조산대에 주로 매장되어 있다.
- ③ (나)는 육상 구간 수송 시 주로 파이프라인이 이용된다.
- ④ (가)는 (나)보다 상용화된 시기가 이른다.
- ⑤ (나)는 (가)보다 연소 시 대기 오염 물질의 배출량이 적다.

17. 지도의 A ~ D 지역에 대한 설명으로 옳은 것은?



- ① A에서는 불교 신자들이 중심이 되어 독립을 주장하고 있다.
- ② B의 주요 분쟁 원인은 석유 확보를 둘러싼 갈등이다.
- ③ C의 이슬람교 신자들은 중앙 정부로부터 차별받고 있다.
- ④ D는 필리핀과 베트남 간의 영유권 분쟁 지역이다.
- ⑤ A는 인도, B는 중국으로부터의 분리 독립 움직임이 활발하다.

18. (가), (나) 세계 도시에 대한 설명으로 옳은 것은? [3점]

(가)	(나)
	
<p>템스강에 1894년 완공된 중세 고딕 양식의 유명한 다리가 있다. 이 다리는 도시를 대표하는 랜드마크로 '셜록 홈즈' 등의 영화에 등장한다.</p>	<p>허드슨강에 1883년 세계 최초로 철 케이블로 만든 현수교가 있다. 도시의 랜드마크인 이 다리는 브루클린과 맨해튼을 연결한다.</p>


- ① (가)에는 국제 연합(UN) 본부가 있다.
- ② (나)에는 유럽 연합(EU) 본부가 있다.
- ③ (가)는 (나)보다 도시의 역사가 짧다.
- ④ (나)는 (가)보다 도심과 주변 지역 간 건물 높이 차이가 크다.
- ⑤ (가), (나)는 모두 해당 국가의 수도이다.

19. 다음은 사이버 학습 화면이다. 답글 ㉠ ~ ㉣ 중 옳은 내용만을 고른 것은?

사이버 학습

http://www.OOO.hs.kr

아랍 에미리트(UAE)의 아부다비, 두바이 등은 황량한 사막에서 서남아시아의 금융·문화 중심지로 변화하고 있습니다. 다음 영상을 시청한 후, 석유 개발이 이 나라의 변화에 미친 영향을 답글로 달아 보세요.



답글(4)

- ↳ 유목 종사자가 증가했어요.....㉠
- ↳ 외국인 노동자가 증가했어요.....㉡
- ↳ 1인당 국내 총생산이 증가했어요.....㉢
- ↳ 도시와 촌락의 빈부 격차가 줄어들었어요.....㉣

- ① ㉠, ㉡ ② ㉠, ㉢ ③ ㉡, ㉢ ④ ㉡, ㉣ ⑤ ㉢, ㉣

20. 다음 자료는 동남아시아 관광 안내문의 일부이다. ㉠ ~ ㉣에 대한 옳은 설명만을 <보기>에서 고른 것은? [3점]

	<ul style="list-style-type: none"> ▶ 각양각색의 독특한 ㉠ 탐 카르스트가 늘어서 있는 푸른 바다 ▶ 크메르어로 담수호라는 뜻을 가진 ㉡ 동남아시아 최대의 호수 ▶ 현지 주민과 고기잡이를 체험할 수 있는 ㉢ 담나이 석호 ▶ 스노클링의 명소 코타키나발루의 형형색색 ㉣ 산호초
---	---

< 보 기 >

㉠. ㉠의 기반암은 석회암이다.
 ㉡. ㉡의 평균 수위는 1월이 7월보다 높다.
 ㉢. ㉢은 사주의 성장으로 만들어진 호수이다.
 ㉣. ㉣은 고위도의 수온이 낮은 해역에 주로 분포한다.

- ① ㉠, ㉡ ② ㉠, ㉢ ③ ㉡, ㉢ ④ ㉡, ㉣ ⑤ ㉢, ㉣

*** 확인 사항**

- 답안지의 해당란에 필요한 내용을 정확히 기입(표기)했는지 확인하십시오.