

2023학년도 대학수학능력시험 대비

국어영역 사회탐구교과 배경지식

Directed by Jcos

정치학 법학
경제학 사회학

제 1 교시

2015학년도 교육과정 탐구영역 배경지식

국어 영역 (정치와 법)

성명		수험 번호									
----	--	-------	--	--	--	--	--	--	--	--	--

- 문제지의 해당란에 성명과 수험번호를 정확히 쓰시오.
- 답안지의 필적 확인란에 다음의 문구를 정자로 기재하시오.

법은 권리 위에 잠자는 자를 보호하지 않는다.

- 답안지의 해당란에 성명과 수험번호를 쓰고, 또 수험번호와 답을 정확히 표시하시오.
- 문항에 따라 배점이 다르니, 각 물음의 끝에 표시된 배점을 참고하시오.
배점은 2점 또는 3점입니다.

※ 시험이 시작되기 전까지 표지를 넘기지 마시오.

제 1 교시

국어 영역

1. 민주 정치와 법

정치는 일상생활 속에서 다양한 의미로 사용되지만 크게 좁은 의미의 정치와 넓은 의미의 정치로 구분할 수 있다.

좁은 의미의 정치는 국가와 관련된 활동, 즉 정치권력의 획득과 유지 및 행사 과정과 관련된 활동을 뜻한다. 선거에 출마하거나 투표에 참여하는 것, 대통령의 국정 운영, 국회 의원의 입법 활동 등이 이에 해당한다.

넓은 의미의 정치는 국가가 물론 사회 구성원 간 이해관계의 대립과 갈등을 합리적으로 조정하고 해결해 가는 과정을 뜻한다. 사회 속에서 사람들이 저마다 자신이 원하는 바를 얻기 위해 행동하다 보면 대립과 갈등이 발생할 수밖에 없다. 학급 규칙 제정을 둘러싼 친구들 간의 의견 대립, 한정된 예산 배분을 둘러싼 지역 간의 갈등, 공공시설의 설치 지역 선정을 둘러싼 지방 자치 단체 간의 갈등 등이 그 사례이다. 이러한 문제를 그대로 놓아두면 사회는 혼란에 빠지고 무질서해져서 결국 개인이나 공동체의 삶이 위태로워질 수 있다. 따라서 이와 같은 대립과 갈등을 조정하고 해결하는 과정이 필요한데, 이것이 바로 넓은 의미의 정치이다.

정치의 가장 중요한 기능은 개인이나 집단 간의 다양한 대립과 갈등을 조정, 해결하여 질서를 유지하고 사회 통합을 실현하는 것이다. 정치는 개인 간의 사소한 다툼이나 마찰을 비롯하여 원자력 발전소의 건설, 개발 제한 구역의 해제를 둘러싼 갈등 등 사회의 중요한 문제를 조정하고 해결함으로써 혼란을 막고 사회 질서를 유지한다.

또한 정치는 부, 권력, 명예 등과 같은 **사회적 희소가치**를 배분하는 기능을 한다. 정치는 사회적 희소가치를 합리적으로 배분할 수 있는 규칙과 제도를 만들고 구성원이 이를 수용하게 함으로써 사회가 안정적으로 유지될 수 있도록 한다.

그리고 정치는 사회 구성원이 공동체의 발전을 위해 목표를 설정하게 하고 이의 달성을 위한 노력을 이끌어 냄으로써 **사회 발전을 도모**하는 기능을 한다. 국민의 삶의 질 향상을 위해 쾌적하고 깨끗한 환경에서 살아갈 수 있도록 환경 관련 법과 제도를 만들고 구성원들이 이를 준수하게 하는 노력 등이 이에 해당한다.

정치 활동을 통해 대립이나 갈등을 해소하기 위해서는 사회적으로 합의된 기준이 필요한데, 이를 **사회 규범**이라고 한다. 사회 규범에는 관습, 도덕, 법 등이 있는데, 그중 **법**은 국가에서 정한 사회 규범으로 도덕이나 관습과 달리 **강제력**이 있다. 따라서 이를 지키지 않는 경우 국가는 법을 적용하여 제재를 가할 수 있다.

정의는 **법이 추구하는 궁극적 이념**이다. 일반적으로 정의는 모든 사람이 인간으로서 동등한 대접을 받고 각자가 노력한 만큼의 몫을 얻는 것을 의미하며, 우리가 마땅히 지켜 나가야 하는 원칙으로서 옳고 그름의 판단 근거로 작용한다. 따라서 법은 정의에 따라 사회 질서를 어지럽힌 사람에게는 벌을 주고, 다른 사람에게 손해를 끼친 사람은 배상하게 하며, 노력한 사람에게는 노력한 만큼의 합당한 보상을 받을 수 있도록 한다. 이처럼 법의 이념으로서 정의는 법 제정의 방향을 결정하는 것이자 법이 실현하고자 하는 궁극적 목표를 의미한다. 정

의는 법이 추구하는 궁극적 이념이지만 그 의미와 내용이 추상적이다. 따라서 정의가 법을 통해 실현될 수 있도록 방향을 설정해 주는 기준이 필요한데, 이것이 바로 합목적성이다. 즉 합목적성은 법이 **그 사회가 추구하는 가치나 목적에 구체적으로 합치되는 것**을 의미한다. 예를 들어 근대 자유방임 국가에서는 국가 권력으로부터 개인의 자유와 권리를 보장하는 것을 중시하여 이를 법에 반영하였고, 오늘날은 복지 국가를 지향하면서 공공복지의 내용을 법에 반영하고 있다.

법적 안정성이란 **국민이 법의 권위를 믿고 법에 따라 안심하고 생활할 수 있는 상태**를 의미한다. 법이 국민으로부터 신뢰를 얻고 안정적으로 기능하기 위해서는 법의 내용이 명확히 규정되어야 하고, 실현 가능성이 있어야 한다. 또한 법이 쉽게 폐지되거나 자주 변경되지 않아야 하며, 일반인의 법의식에 부합하여야 한다. 그러나 법적 안정성을 지나치게 강조하면 정의가 훼손될 수 있으므로 법적 안정성은 정의의 틀 안에서 추구되어야 한다. 법적 안정성을 중시하는 제도에는 법률 불소급의 원칙과 시효 제도 등이 있다.

I. (가), (나)는 정치를 보는 관점이다. 이에 대한 옳은 설명을 <보기>에서 고른 것은?

- (가) 정치권력을 획득하고 유지하며 행사하는 것은 국가의 고유한 기능이다. 정치는 물리적 강제력을 독점한 국가가 사회적 갈등을 해결하고 질서를 유지하는 과정에서 나타나는 현상이다.
- (나) 다양한 집단에서 나타나는 이해관계의 대립과 갈등을 조정하고 해결해 가는 과정이 정치이다. 정치는 국가를 포함한 모든 사회 집단에서 권력을 형성하고 배분하며 행사하는 것과 관련된 현상이다

< 보 기 >

- ㄱ. (가)는 (나)보다 정치를 넓은 의미로 이해한다.
- ㄴ. (가)는 (나)보다 공동의 문제를 해결하는 과정에 참여하는 주체가 다양하다고 본다.
- ㄷ. (나)는 (가)와 달리 아파트 쓰레기 처리 문제를 해결하기 위해 주민 회의를 하는 것을 정치라고 본다.
- ㄹ. (가), (나) 모두 국무 회의에서 주요 정책을 심의하는 것을 정치라고 본다.

- ① ㄱ, ㄴ ② ㄱ, ㄷ ③ ㄴ, ㄷ ④ ㄴ, ㄹ ⑤ ㄷ, ㄹ

2. 정치를 바라보는 관점 A, B에 대한 질문에 모두 옳게 응답한 학생은?

A는 국가 공동체의 의사를 결정하고 갈등을 해결해 나가는 국가 고유의 활동만을 정치라고 봅니다. 반면 B는 국가뿐만 아니라 다양한 사회 집단 내에서 구성원 간의 이해관계를 조정하고 갈등을 해결하는 활동도 정치라고 봅니다.



(○: 예, ×: 아니요)

질문	학생	갑	을	병	정	무
A는 국가 형성 이전의 정치 현상을 설명하기에 적합한가?		×	×	×	○	×
B는 국가의 정치 현상과 국가 이외 사회 집단의 정치 현상이 본질적으로 다르다고 보는가?		×	○	×	×	×
A에 비해 B는 다원화된 현대 사회의 정치 현상을 설명하기에 적합한가?		○	×	○	×	×
B와 달리 A는 정치권력을 획득하고 유지·행사하는 활동을 정치라고 보는가?		×	×	○	○	×

- ① 갑 ② 을 ③ 병 ④ 정 ⑤ 무

3. 정치를 바라보는 관점 A, B에 대한 질문에 모두 옳게 응답한 학생은?

복장 규정을 둘러싼 학교 내 갈등을 해결하기 위해 학교 구성원이 모여 의견을 수렴하고 조율하여 교칙을 개정하려고 합니다. 이러한 과정을 정치라고 할 수 있을까요?

정치는 국가 권력이 사회 질서를 유지하기 위하여 갈등을 해결해 나가는 국가 고유의 활동입니다. 따라서 학교 내에서 교칙을 개정하는 과정은 정치라고 할 수 없습니다.

정치는 다양한 사회 집단 내에서 구성원의 서로 다른 의견을 조정하여 갈등을 해결해 나가는 과정입니다. 따라서 교칙을 개정하는 과정 역시 정치라고 할 수 있습니다.

- ① 갑의 관점은 국가 형성 이전에 나타나는 정치 현상을 설명하는 데 적합하다.
- ② 을의 관점은 국가의 정치 현상과 사회 집단의 정치 현상이 본질적으로 다르다고 본다.
- ③ 갑의 관점은 을에 비해 정치 문제를 해결하는 과정에 참여하는 주체가 다양하다고 본다.
- ④ 을의 관점은 갑에 비해 다원화된 현대 사회의 갈등 해결 양상을 설명하기에 용이하다.
- ⑤ 갑, 을의 관점 모두 시민 단체가 정부 정책에 대하여 문제를 제기하는 것은 정치가 아니라고 본다.

2. 민주주의와 법치주의

민주주의는 고대 그리스어의 민중(demos)과 지배 (kratos)라는 단어의 합성어로, 한 사람이나 소수에 의한 지배가 아닌 다수의 민중이 지배하는 정치 형태, 즉 **모든 국민이 나라의 주인인 정치 형태**를 의미한다. 민주주의 국가에서는 주권이 국민에게 있으므로 국가의 주요한 의사 결정이 국민의 뜻에 따라 이루어지며, 정치권력은 국민의 동의와 지지를 바탕으로 한다.

민주주의가 처음 시작된 곳은 고대 그리스의 아테네이다. 아테네는 공동체에 속한 모든 시민이 정치에 직접 참여하는 **직접 민주 정치**를 실시하였다. 아테네는 의회 역할을 하는 민회, 행정 기구인 평의회, 사법 기구인 재판소 등을 통해 운영되었는데, 모든 시민은 민회에 참여하여 법률을 제정하고 주요 정책을 심의, 결정하였으며, 추천제와 운번제를 통해 누구나 공직에 참여할 수 있었다. 이로써 아테네의 시민은 다스림을 받는 자와 다스리는 자가 일치하는 정치 형태를 실현하였다.

그러나 모든 사람이 정치에 참여할 권리를 가진 것은 아니었다. 자유민인 성인 남성만 민회에 참여할 수 있었고 여성, 노예, 외국인 등은 정치에 참여할 권리를 갖지 못했다. 따라서 아테네는 평등의 원리를 중요시하는 오늘날의 민주주의와는 거리가 멀며, 이러한 의미에서 아테네의 민주 정치는 **제한적 민주주의**라는 한계를 갖는다.

고대 아테네 이후 절대 왕정 시기 동안 흐름이 단절되었던 민주주의는 근대 시민 혁명을 거치면서 다시 등장하였다. **시민 혁명**은 근대 초기 상공업에 종사하면서 크게 성장한 시민 계급이 신분제에 근거한 봉건 제도의 모순을 극복하고 국가 권력으로부터 자유와 권리를 획득하여 자유롭고 평등한 사회를 건설하려 한 정치적, 사회적 대변혁 운동이었다.

시민 혁명은 인간의 권리는 하늘로부터 부여받은 것으로서 누구도 이를 침해할 수 없다는 **천부 인권 사상**, 무지와 미신을 타파하고 합리적인 이성에 따라 낡고 모순된 제도를 개혁해야 한다는 **계몽사상**, 국가는 개인의 자연권 보장을 위해 사람들 간의 계약으로 형성되었다는 **사회 계약설**의 직접적인 영향을 받았다. 대표적 시민 혁명으로 의회 정치를 확립한 **영국의 명예혁명**, 식민지에서 벗어나기 위한 미국의 독립 혁명, 절대 군주체에 항거한 **프랑스 혁명**을 들 수 있으며, 이들 시민 혁명을 통해 시민은 정치적 자유와 법 앞의 평등을 확보하고 경제 활동의 자유를 보장받았으며, 이후 유럽 사회에 개인주의와 자유주의가 확산하는 계기가 마련되었다.

시민 혁명으로 확립된 **대의 민주제**를 통해 시민은 국가의 주인으로서 주권을 행사하고, 또한 인간의 존엄성, 자유와 평등 같은 민주주의의 이념이 확립될 수 있었다. 하지만 시민 혁명 이후의 근대 민주주의하에서 모든 사람이 정치에 참여할 기회를 부여받은 것은 아니었다. 즉 노동자, 여성 등에게는 참정권이 부여되지 않아 국가의 정책 결정 과정에서 부유한 시민 계급의 의사만 반영될 가능성이 컸다.

근대 시민 사회의 정치 과정에서 소외되었던 노동자, 여성 등은 참정권 획득을 위해 끊임없이 투쟁하였다. 노동자층의 **차티스트 운동**, 여성 참정권 운동, 흑인 참정권 운동 등을 통해 20세기에 들어와서는 대부분 국가에서 성별, 신분, 재산 등의 제한 없이 모든 사회 구성원에게 선거권을 부여하는 **보통 선거제**가 시행되었다. 이처럼 모든 사람이 사회의 주인이 되는 민주 사회의 건설은 시민이 스스로 권리를 쟁취하려는 노력과

투쟁의 산물이었다.

보통 선거를 통해 온전한 국민 주권주의를 실현한 현대 민주주의 국가는 **대의 민주제**를 바탕으로 한다. 그러나 대의 민주제는 선출된 대표자들이 국민의 의사를 제대로 반영하지 않거나, 국민이 정치에 무관심해질 수 있다는 한계를 갖는다. 이러한 한계를 극복하고 국민의 의사를 정확하게 반영하기 위해 국민 투표제, 국민 소환제, 국민 발안제 등의 **직접 민주 정치 요소**를 도입하여 시행하고 있다.

근대 민주주의가 정착되기 이전에는 국가 권력의 행사가 국왕의 뜻에 따라 이루어졌다. 이는 국왕의 자의적인 지배로 국민의 자유와 권리를 침해하는 결과를 가져왔다. 그래서 근대 시민 혁명 이후 민주 국가는 법치주의를 국가 권력 행사의 근본 원리로 채택하였다. **법치주의**란 국가가 국민의 자유와 권리를 제한하거나 국민에게 의무를 부과할 때에는 반드시 국민의 대표 기관인 의회에서 제정한 법률로써 해야하고, 국가 권력의 행사도 법률에 근거를 두어야 한다는 원칙이다. 법치주의에 따르면 법률에 규정되지 않은 내용에 대해서는 국가가 강제력을 행사할 수 없으며, 모든 국민은 법에 근거한 국가의 통치만을 받는다. 결국 법치주의는 사람의 지배가 아닌 **법의 지배**를 의미한다.

법치주의는 17세기 영국 왕실 법원의 판사였던 에드워드 쿡(Coke, E.)이 제임스 1세에게 “국왕이라 할지라도 신과 법 아래에 있다.”라고 주장한 데서 비롯된다. 이 주장은 절대 군주의 권력을 견제하여 군주의 자의적 통치를 제한하고 국민의 대표 기관인 의회에서 제정된 법률에 따라 통치하려는 데 그 의의가 있다.

에드워드 쿡의 주도하에 1628년 권리 청원이 작성되고, 1689년 권리 장전이 채택되면서 영국에서는 ‘법의 지배’, 즉 법치주의가 확립되어 시민의 자유와 권리를 보호하였다. 이후 18세기 미국의 독립 선언 및 프랑스의 인권 선언(인간과 시민의 권리 선언) 역시 법치주의의 발전에 이바지하였다.

법치주의가 실현되면서 권력자의 자의적인 지배가 아닌, 의회가 제정한 법률에 따른 지배가 이루어졌다. 그러나 초기의 법치주의에서는 형식과 절차의 합법성만 강조되었다. 즉 국가 권력의 행사가 법률의 형식에 적합하지만 하면 그 내용이나 목적을 문제 삼지 않았는데, 이를 **형식적 법치주의**라고 한다. 형식적 법치주의에 따르면 의회가 적합한 절차를 거쳐 법을 제정하고 그 법에 따라 통치가 이루어지면 법의 내용이 무엇이든 법적 정당성을 인정받는다. 이에 따라 법률에 근거한 합법적 독재가 가능해졌는데, 그 대표적인 예가 히틀러에 의한 나치스 정권의 수권법이다.

이에 대한 반성으로 현대 민주 국가에서는 법률의 형식뿐만 아니라 그 내용까지 정당해야 한다는 실질적 법치주의가 등장하였다. **실질적 법치주의**는 형식적 법치주의에 더하여 법의 목적과 내용도 인간의 존엄과 가치, 자유와 평등을 보장하는 헌법의 이념에 부합해야 한다는 것을 강조한다. 또한 정의의 실현을 내용으로 하는 법의 지배가 이루어짐으로써 법적 안정성의 유지뿐만 아니라 인간의 존엄이나 실질적 평등을 구현하기 위한 정의의 실천을 강조한다. 이처럼 실질적 법치주의는 형식적 합법성과 더불어 법의 내용이 법의 목적을 충족하여 실질적인 정당성을 확보하고 있는지에 주목한다.

‘국민의 지배’를 의미하는 민주주의는 인간 존엄성의 바탕

위에서 모든 사람이 평등하게 대우받으며 자유롭게 살아가는 것을 이념으로 한다. 또한 ‘법의 지배’를 의미하는 법치주의는 국가 작용이 헌법과 법률을 통해 이루어지게 함으로써 국민의 자유와 권리를 보장한다. 민주 국가에서 권력 행사의 근거가 되는 법률은 국민의 대표로 구성된 입법부에서 제정된다. 따라서 법률에 따른 지배는 곧 국민의 지배이며, 법치주의가 민주주의 이념을 실현해 준다는 점에서 민주주의와 법치주의는 상호 보완적인 관계라고 할 수 있다.

한편 국민의 의사는 시대와 상황에 따라 변화하므로 국민의 의사에 따라 이루어지는 민주주의는 동적인 성격을 갖는다. 이에 비해 법치주의는 법이라는 제도적 틀 안에서 사회 질서를 유지하려는 정적인 성격을 지닌다. 이로 인해 변화를 바라는 여론과 기존의 법질서가 일치하지 않아 민주주의와 법치주의 간에 대립이 발생할 수도 있다. 그러나 국민의 대표가 모인 의회에서 법을 제정하거나 개정함으로써 민주주의가 법치주의의 틀 안에서 실현되도록 하여 이러한 긴장과 갈등을 해소할 수 있다.

이처럼 민주주의와 법치주의 간에는 **상호 보완적인 관계와 긴장과 대립의 관계가 공존**하지만, 법치주의는 민주주의의 실현을 목적으로 하고, 민주주의는 법치주의의 틀 안에서 운영됨으로써 양측이 조화롭게 발전할 수 있다.

4. (가), (나)는 민주 정치의 참여 방식이다. 이에 대한 설명으로 옳지 않은 것은?

- (가) 민주 정치에서 주권자인 국민은 선거를 통한 대표 기관 구성권을 보유하고, 그들이 선출한 대표에게 국가 의사 및 정책의 결정권을 전적으로 위임한다.
- (나) 대의제하에서는 국민의 다양한 의사를 정치 과정에 투입하는 데 한계가 있다. 그러므로 국민 투표, 국민 발안, 국민 소환 제도를 도입하여 대의제를 보완한다.

- ① (가)는 국민이 직접 모든 국가 의사를 결정하는 것이 비현실적이라고 본다.
- ② (나)는 간접 민주제에 직접 민주제의 요소를 가미한 것이다.
- ③ (가)보다 (나)에서 국민의 정치 참여 기회는 확대된다.
- ④ (나)보다 (가)에서 특정 사안에 대해 국민이 직접 결정할 수 있는 권한이 확대된다.
- ⑤ (가), (나) 모두 국민 주권을 바탕으로 한다.

5. (가), (나)는 민주 정치 형태에 관한 주장이다. 이에 대한 설명으로 옳은 것은?

(가) 국민 모두가 대부분의 결정에 직접 참여하는 것은 불가능하고, 국민이 직접 참여하여 결정한 결과가 반드시 옳은 것도 아니다. 따라서 국민은 능력과 자격을 갖춘 대표를 선출하고 대표로 하여금 다양한 이해관계를 조정하며 공익을 추구하는 결정을 하도록 믿고 맡기는 것이 바람직하다.

(나) 국민이 대표만 직접 선출하고 중대 사안의 결정을 대표에게만 맡기는 것은 부당하다. 대표가 국민의 의사를 제대로 반영하지 못하기도 하고, 국민 대다수가 방관자로 남기 때문이다. 따라서 국민이 직접 참여하여 결정하는 다양한 제도를 시행해야 한다.

- ① 국민 투표는 (가)에서 유래한 제도이다.
- ② (가)는 대표의 정치적 전문성을 중시한다.
- ③ (나)는 엘리트 정치를 옹호한다.
- ④ (나)는 다수결의 원리를 반대한다.
- ⑤ (가), (나) 모두 대표가 국민 의사를 반영하는 원리를 불신한다.

6. 법치주의의 유형 A, B에 대한 설명으로 옳지 않은 것은?

민주주의에서 국가 권력은 주권자의 의사가 집약된 법률에 따라 행사되어야 한다. 주권자인 국민이 스스로 만든 법에 의해 구속되는, 국민의 자기 지배가 곧 법치주의이다. 그러나 바이마르 공화국에서 나치의 행태가 보여 주었듯이 당시 나치 독일은 법률의 형식과 절차만을 강조하는 를 통해 비민주적인 체제로 이행하였다. 이후 법치의 본래 의미에 대한 성찰이 이루어지는 과정에서 법치주의는 국가 권력을 단순히 형식적인 합법성에 구속시키는 것이 아니라, 민주주의에서 요청되는 인간의 존엄성 존중, 국민의 자유와 권리 보장을 목적과 내용으로 하는 로 확대되었다.


- ① A는 의회에서 적법한 절차를 거쳐 법률이 제정되었다면 국가 기관과 국민을 구속할 수 있다고 본다.
- ② B를 실현하기 위해 우리나라에서는 과잉 금지 원칙을 적용하여 기본권 제한의 한계를 설정하고 있다.
- ③ A는 B와 달리 국가 권력의 자의적인 통치를 초래할 수 있다는 비판을 받는다.
- ④ B는 A와 달리 법의 목적과 내용이 정의에 부합해야 국가 권력이 정당성을 확보한다는 점을 강조한다.
- ⑤ A, B 모두 위헌 법률 심사제의 도입을 반대할 것이다.

7. 밑줄 친 ㉠~㉣에 대한 설명으로 옳은 것은?

- 국민은 정부에서 운영하는 ㉠ 온라인 국민 참여 플랫폼을 통해 정책을 제안할 수 있으며, 해당 제안이 일정 수 이상 국민의 추천을 받으면 정책에 반영되기도 한다.
- 국회 의원 선거 당일 투표가 어려운 유권자는 별도의 신고 없이 선거일 전 5일부터 2일 동안 운영되는 사전 투표소에 가서 ㉡ 사전 투표에 참여할 수 있다.
- 국민은 자신의 정책 아이디어를 ㉢ 정책 선거 관련 홈페이지에 희망 공약으로 제안할 수 있고, 이를 반영하여 공약으로 제시한 후보자가 선거에서 당선되면 해당 제안은 정책으로 실현되기도 한다.

- ① ㉡은 전체 유권자의 수를 확대하는 효과가 있다.
- ② ㉡과 달리 ㉢은 정치권력에 정당성을 부여하는 기능을 한다.
- ③ ㉢과 달리 ㉠은 국민의 정치적 효능감 향상에 기여할 수 있다.
- ④ ㉠, ㉡ 모두 직접 민주주의를 실현하는 방법이다.
- ⑤ ㉠, ㉢ 모두 정치 참여의 시·공간적 제약을 완화할 수 있는 방법이다.

8. 법치주의의 유형 A, B에 대한 설명으로 옳은 것은?



적법 절차의 원칙은 원래 신체의 자유를 보장하기 위한 것으로 공권력에 의한 기본권 제한 시 법률이 정한 절차의 준수만을 요구하였습니다. 이는 통치의 합법성만을 강조하는 A에 해당한다고 볼 수 있습니다. 그러나 오늘날 적법 절차의 원칙은 입법, 행정, 사법의 모든 국가 작용을 구속할 뿐만 아니라 공권력 행사의 근거가 되는 법률의 실제적 내용도 정당성을 갖추어야 한다는 원칙으로 발전했습니다. 이는 B에 해당한다고 볼 수 있습니다.

- ① A와 달리 B는 국가 권력으로부터 기본권을 보장하는 것을 목적으로 한다.
- ② A와 달리 B는 법률로 금지되는 행위와 그 법적 제재를 미리 규정하도록 하여 법적 안정성을 보장한다.
- ③ B와 달리 A는 공권력에 의해 신체의 자유를 제한하는 경우 법률에 정해진 절차에 따라야 한다고 본다.
- ④ B와 달리 A는 공권력 행사가 법률에 따를 것만을 강조하여 입법자에 의한 기본권 침해의 가능성을 간과한다.
- ⑤ B와 달리 A는 정의에 부합하는 법률에 따라 국가 권력이 행사되어야 기본권의 실질적 보장이 가능해진다고 본다.

3. 헌법의 의의와 기본 원리

헌법은 국가의 통치 조직과 통치 작용의 원리를 규정하고, 국민의 기본권을 보장하는 국가의 **기본법**이자 **근본법**이다. 또한 헌법은 한 국가의 법체계에서 가장 상위에 있는 **최고법**으로 모든 법령의 제정 근거인 동시에 법령의 정당성을 평가하는 기준이 된다. 따라서 모든 국가 작용은 헌법에 기초를 두고 헌법에 따라 이루어져야 하며 헌법에 어긋나는 국가 작용은 효력을 가질 수 없다. 오늘날 우리나라를 포함한 민주 국가의 헌법은 국민의 자유와 권리 보장, 민주주의와 법치주의의 원리, 국민의 정치 참여 수단, 국가의 통치 구조와 작용 원리, 국가 권력의 남용 방지 등을 주요 내용으로 담고 있다.

오늘날 우리나라를 포함한 민주 국가의 헌법은 국민의 자유와 권리 보장, 민주주의와 법치주의의 원리, 국민의 정치 참여 수단, 국가의 통치 구조와 작용 원리, 국가 권력의 남용 방지 등을 주요 내용으로 담고 있다.

절대 군주와의 투쟁을 통해 형성된 근대 민주 사회는 국가로부터 국민의 기본적 인권을 보장하기 위해 입헌주의를 확립하였다. **입헌주의**는 헌법을 통해 국민의 자유와 권리를 명확히 규정하고, 국가 권력이 국민의 자유와 권리를 부당하게 침해하지 않도록 헌법에 따라 국가 권력을 제한하는 통치 원리를 가리킨다.

따라서 입헌주의는 헌법을 통해 민주주의와 법치주의를 구현하는 원리로 볼 수 있다. 주권자인 국민에 의해 헌법이 제정되고 헌법에 민주주의의 근본이념인 인간의 존엄성, 자유와 평등을 명확히 규정하고 있으며, 국가 권력의 남용을 막기 위해 모든 국가 작용의 근거를 헌법에서 찾음으로써 법치주의를 구현하고 있기 때문이다.

헌법의 의미는 역사적 흐름에 따라 고유한 의미의 헌법, 근대 입헌주의 헌법, 현대 복지 국가의 헌법으로 변천해 왔다. **고유한 의미의 헌법**은 국가의 통치 조직을 구성하고 그 권한과 상호 관계 및 국가와 국민의 관계에 관한 기본 원칙을 정한 기본법을 말한다. 이러한 의미의 헌법은 동서양을 막론하고 국가가 존재하는 곳이면 반드시 존재한다고 볼 수 있다. 조선 시대의 경국대전은 고유한 의미의 헌법에 해당한다.

근대 입헌주의 헌법은 고유한 의미의 헌법에서 나아가 국가 통치 기관의 존립 근거이자 국가 권력을 제한하는 근본 규범으로서의 헌법을 말한다. “권리의 보장이 확보되지 않고, 권력 분립이 규정되어 있지 않은 사회는 헌법을 가진 것이라고 할 수 없다.”라고 선언한 프랑스 인권 선언(인간과 시민의 권리 선언) 제16조는 근대 입헌주의 헌법의 특징을 잘 보여 준다. 근대 입헌주의 헌법은 국민 주권, 기본권 보장, 권력 분립 등을 기본 원리로 한다.

현대 복지 국가 헌법은 근대 입헌주의 헌법에서 나아가 국민의 인간다운 생활 보장을 추구하는 헌법을 말한다. 1919년에 제정된 2일 바이마르 헌법이 그 최초의 형태로서, 근대 입헌주의 헌법이 형식적 평등과 재산권의 절대성을 강조한 반면, 현대 복지 국가 헌법은 실질적 평등과 국민의 사회적 기본권 보장을 강조한다.

최상위의 근본 규범인 헌법은 다음과 같은 다양한 기능을 수행한다. 첫째, 헌법은 **국가 창설의 토대로** 기능한다. 헌법은 공동체의 구성원이 일정한 질서 속에서 삶을 영위할 수 있도록 정치적 공동체의 구성 원리를 제시한다. 이를 위해 헌법은

국가 성립에 필요한 국민의 자격, 영토의 범위, 국가 권력의 소재와 행사 절차 등을 규정한다.

둘째, 헌법은 **조직 수권 기능**을 한다. 수권이란 권한을 준다는 의미로 헌법은 국가 기구를 구성하고 각 조직에 일정한 권한을 부여함으로써 국가 권력 조직의 정당성이 헌법에 근거하도록 한다. 따라서 모든 권력 기관은 헌법에서 부여한 권한만을 행사할 수 있다.

셋째, 헌법은 **권력 제한 기능**을 한다. 국가 기관 상호 간의 견제와 균형을 통해 국가 권력의 자의적 행사나 남용을 엄격하게 통제하여 국민의 기본권을 실질적으로 보장하는 기능을 한다.

넷째, 헌법은 **국민적 합의 도출 기능**을 수행한다. 헌법은 변화된 상황에서 국가 운영 형태와 기본적 가치 질서 등에 대한 새로운 합의를 끌어내는 기능을 한다. 헌법이 국가의 중요 정책을 국민 투표로 결정하도록 한 것은 국민적 합의 도출을 위한 제도적 장치이다.

다섯째, 헌법은 **정치 생활을 주도하는 기능**을 한다. 헌법은 정치 생활의 큰 흐름이 헌법에 따라 주도되고 규제되도록 하여 정치적 혼란을 막고 힘의 논리가 정치를 지배하지 못하게 한다. 헌법을 정치 규범이라고 부르는 이유는 이 때문이다.

헌법의 기본 원리는 헌법의 이념적 기초인 동시에 헌법을 지배하는 지도 원리이다. 이는 헌법 및 법률 등을 해석하는 지침이 되며, 입법이나 정책 결정의 기본 방향을 제시한다. 또한 기본권을 해석하거나 제한하는 입법의 심사 기준으로 작용한다. 우리 헌법은 국민 주권주의, 자유 민주주의, 복지 국가의 원리, 국제 평화주의, 문화 국가의 원리, 평화 통일의 지향 등을 기본 원리로 하고 있다.

국민 주권주의는 국가의 최고 의사를 결정하는 주권이 국민에게 있고, 모든 국가 권력의 근거가 국민에게 있다는 원리이다. 헌법 제1조 제1항에서는 우리나라가 민주 공화국임을 밝혀 국민에게 주권이 있음을 명시하고 있으며, 제2항 역시 국민 주권을 규정하고 있다. 그리고 헌법 전문에 국민 투표로 헌법이 개정되었음을 밝혀 국민 주권주의를 천명하고 있음을 알 수 있다.

국민 주권주의를 실현하기 위해 우리 헌법은 민주적 선거 제도와 국민 투표제를 규정하고 있으며, 국민이 자유롭게 다양한 정치적 의사를 형성하고 표출할 수 있도록 언론, 출판, 집회, 결사의 자유 및 복수 정당제 등을 보장하고 있다.

자유 민주주의는 자유주의와 민주주의가 결합한 정치 원리이다. **자유주의**는 개인의 자유와 권리를 가장 중시하는 원리이며, **민주주의**는 국가 권력의 창출과 통치 과정이 국민의 동의와 합의에 근거해야 한다는 원리이다. 즉 **자유 민주주의**는 인간의 존엄성을 바탕으로 국민의 자유와 권리를 보호하고, 민주적 절차를 통해 선출된 대표자들이 국민 주권주의에 입각해서 통치하는 원리를 말한다.

자유 민주주의의 핵심 요소는 기본적 인권의 보장이다. 이의 실현을 위해 우리 헌법은 법치주의와 권력 분립, 의회 제도, 복수 정당제를 바탕으로 한 자유로운 정당 활동 보장, 사유 재산제와 자유 시장 경제를 기본으로 하는 경제 질서, 사법권의 독립 등을 규정하고 있다.

근대 헌법의 등장 이후 개인은 국가로부터 자유와 권리를

보장받았지만, 자본주의의 발달에 따라 빈부 격차가 커지는 등 심각한 사회 문제가 발생하면서 복지 국가의 원리가 등장하였다. **복지 국가**는 모든 국민에게 안정적이고 인간다운 생활을 영위할 수 있도록 생존에 필요한 기본적인 수요를 충족하여 주는 동시에 그에 대한 요구가 국민의 권리로서 인정되는 국가를 말한다. 따라서 **복지 국가의 원리**란 국민 복지에 대한 책임을 국가에 부여하고, **사회권**을 국민의 기본권으로 보장하는 원리를 가리킨다.

우리 헌법은 복지 국가의 원리를 실현하기 위해 국가에 사회 보장 및 사회 복지의 증진 의무를 부여하고, 국민이 인간다운 생활을 할 권리를 국가에 요구할 수 있도록 규정하고 있다. 근로자에 대한 최저 임금제 실시, 여성 및 연소 근로자의 특별 보호 등도 복지 국가의 원리를 실현하는 방안이 해당한다.

제1, 2차 세계 대전을 치르면서 인류는 전쟁의 참혹성을 체험하였고, 이에 대한 반성에서 국제 평화주의가 등장하였다. 국제 평화주의는 국제 질서를 존중하고 세계 평화와 인류의 번영을 위해 노력한다는 원리로, 세계 각국은 **국제 평화주의**를 헌법의 기본 원리로 채택하고 있으며 우리나라 역시 이를 헌법에 규정하고 있다.

국제 평화주의를 실현하기 위해 우리 헌법은 침략 전쟁을 부인하고, 법에 따라 체결, 공포된 조약과 일반적으로 승인된 국제 법규에 국내법과 같은 효력을 인정하고 있다. 외국인에 대해서는 국제법과 조약이 정하는 바에 따라 그 지위를 보장하는 상호주의 원칙을 규정하고 있다.

문화 국가의 원리는 국가로부터 문화의 자유가 보장되고 국가가 문화를 보호, 지원하는 것을 내용으로 한다. 우리 헌법은 제헌 헌법 이래 문화 국가의 원리를 채택하고 있는데, 현행 헌법 제9조에서 국가의 문화 진흥 의무를 규정하고, 대통령 취임 선서문에 '민족 문화의 창달에 노력하여 대통령으로서의 직책을 성실히 수행할 것'을 명시하여 이 의무를 다시 한번 확인시키고 있다.

문화 국가의 원리를 실현하기 위해 우리 헌법은 종교, 학문, 예술 활동의 자유를 보장하고, 평생 교육 진흥, 무상 의무 교육 시행 등을 규정하고 있다.

평화 통일 지향은 자유 민주적 기본 질서에 입각한 평화적 통일을 추구한다는 원리이다. 우리 헌법 제4조는 대한민국이 통일을 지향하며 평화적인 통일 정책을 수립하기 위해 노력해야 한다고 밝히, 평화 통일 지향이 대한민국의 국가적 목표임을 분명히 하고 있다.

평화 통일을 실현하기 위해 우리 헌법은 대통령이 조국의 평화 통일을 위해 노력할 의무를 지고 있음을 명시하고 있으며, 평화 통일 정책의 수립에 관한 대통령의 자문에 응하기 위하여 민주 평화 통일 자문 회의를 둘 수 있다고 규정하고 있다.

9. 다음 자료에서 공통적으로 부각되는 우리나라 헌법의 기본 원리를 실현하기 위한 방안으로 가장 적절한 것은?

- 국회는 노인 장기 요양 보험법을 제정하면서 장기 요양 급여가 원활하게 제공될 수 있도록 충분한 수의 요양 기관을 확충하여야 할 국가 및 지방 자치 단체의 책무를 규정하였다.
- 헌법 재판소는 영유아 보육법의 직장 보육 지원 조항이 근로자들의 안정적 육아 및 고용 안정을 이루어 가정 복지 증진에 기여한다고 보았다.

- ① 언론·출판·집회·결사의 자유를 보장한다.
- ② 대통령 선거에서 재외 국민에게 선거권을 부여한다.
- ③ 복수 정당제를 기반으로 민주적인 정당 활동을 보장한다.
- ④ 상호주의에 근거해 국내 거주 외국인에게 지위를 보장한다.
- ⑤ 근로자의 생활 안정과 노동력의 질적 향상을 위해 최저 임금제를 시행한다.

10. 우리나라 헌법의 기본 원리 A에 대한 옳은 설명을 <보기>에서 고른 것은?

국가와 지방 자치 단체가 생활 유지 능력이 없는 사람의 질병·부상·출산에 대해 의료 급여를 제공하는 것은 A에 의하여 정당화된다. 국가와 지방 자치 단체는 이 원리에 따라 경제적 약자에 대해 의료 급여를 제공할 수 있을 뿐만 아니라 제공할 의무가 있다.

< 보 기 >

- ㄱ. 실질적 평등보다 형식적 평등을 실현하기 위한 것이다.
- ㄴ. 국민의 생존권 보장을 위한 국가의 적극적 역할을 강조한 것이다.
- ㄷ. 개인의 운택한 삶에 필요한 문화적 환경을 조성하기 위한 것이다.
- ㄹ. 자본주의 발달로 인하여 발생한 빈부 격차와 같은 현대 사회의 문제를 해결하기 위한 것이다.

- ① ㄱ, ㄴ ② ㄱ, ㄷ ③ ㄴ, ㄷ ④ ㄴ, ㄹ ⑤ ㄷ, ㄹ

11. 다음 대화에 나타난 우리 헌법의 기본 원리 (가)에 대한 설명으로 옳은 것은?



- ① (가)는 사유 재산권의 절대성을 강조한다.
- ② (가)는 근대 입헌주의 국가에서부터 강조되었다.
- ③ 국제 평화 유지군 활동에 대한 지원은 (가)를 실현하기 위한 것이다.
- ④ (가)는 국가가 시민의 자율적인 문화생활을 진흥하되 지나치게 간섭할 수 없다는 원리이다.
- ⑤ (가)에 따라 국가는 적절한 소득의 분배를 유지하기 위하여 경제에 관한 규제와 조정을 할 수 있다.

12. 다음에서 공통으로 파악할 수 있는 우리나라 헌법의 기본 원리를 실현하는 방안으로 가장 적절한 것은?

- 국가는 여자와 연소자의 근로에 대해 특별한 보호를 위한 정책을 실시하여야 한다.
- 국가는 균형 있는 국민 경제의 성장 및 안정을 위하여 경제에 관한 규제와 조정을 할 수 있다.

- ① 영유아 보육을 위해 국가의 지원을 확대한다.
- ② 개발도상국가에 대한 대외 원조를 확대한다.
- ③ 문화재 관리를 위해 국가의 지원을 확대한다.
- ④ 투표율을 높이기 위해 사전 투표제를 확대한다.
- ⑤ 사생활과 관련된 개인 정보 보호 정책을 강화한다.

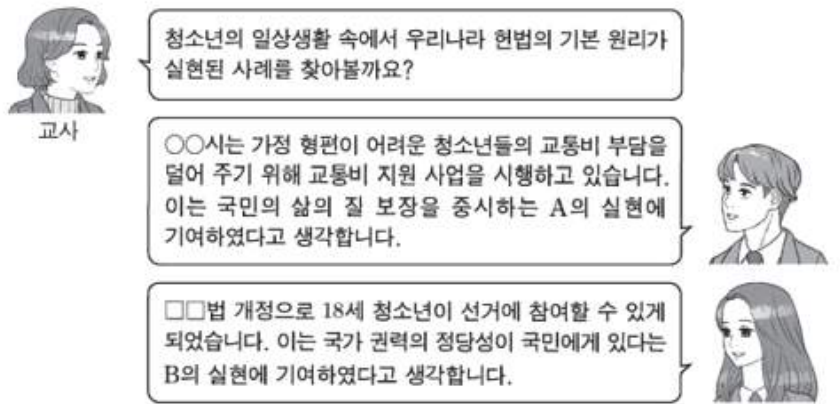
13. 우리나라 헌법의 기본 원리 (가), (나)에 대한 옳은 설명을 <보기>에서 고른 것은?

20세기에 발생한 세계 대전을 통해 인류는 국가 간의 평화 질서 내에서만 인간의 존엄성을 보장할 수 있다는 교훈을 얻게 되었다. 이로 인해 우리나라 헌법 전문에서도 "...인류 공영에 이바지함으로써..."라고 하여 (가)을/를 천명하고 있다. 한편 제2차 세계 대전 이후 한반도에서는 남북이 분단되어 군사적인 대치 상황과 이산가족 문제 등으로 많은 고통을 겪어왔다. 이에 우리나라 헌법은 (나)을/를 기본 원리로 받아들이고 있다.

- < 보 기 > —
- ㄱ. (가)에 따라 우리나라 헌법은 외국인의 지위 보장에 대해 상호주의를 택하고 있다.
 - ㄴ. (가)의 실현 방안으로 '재외 국민의 선거권 보장'이 적절하다.
 - ㄷ. (나)에 따라 우리나라 헌법은 자유 민주적 기본 질서에 입각한 평화 통일 정책을 추진하도록 하고 있다.
 - ㄹ. (나)의 실현 방안으로 '모든 유형의 전쟁을 금지하는 법률 제정'이 적절하다.

- ① ㄱ, ㄴ ② ㄱ, ㄷ ③ ㄴ, ㄷ ④ ㄴ, ㄹ ⑤ ㄷ, ㄹ

14. 우리나라 헌법의 기본 원리 A, B에 대한 설명으로 가장 적절한 것은?



- ① A에 따라 국가 기관 간 견제와 균형이 이루어지도록 하고 있다.
- ② B에 따라 국민 투표를 통해 국민이 직접 국가 안위에 관한 중요 정책을 결정할 수 있도록 하고 있다.
- ③ A와 달리 B는 국민의 사회권 보장을 통한 실질적 평등의 실현을 강조한다.
- ④ B와 달리 A는 법률 제정과 정책 결정의 방향을 제시한다.
- ⑤ A, B 모두 근대 입헌주의 헌법에서부터 강조되었다.

4. 기본권의 보장과 제한

피부색, 성별, 나이, 장애의 유무 등에 상관없이 사람이라면 누구나 누려야 하는 권리를 **인권**이라고 하며, 인권이 보장될 때 우리는 인간으로서의 존엄과 가치를 누릴 수 있다. 하지만 역사적으로 모든 사람에게 인권이 보장되기 시작한 것은 그리 오래되지 않았다.

근대에 이르러 인간은 태어나면서부터 인간으로서의 권리, 즉 인권을 가진다는 생각이 널리 퍼지게 되었는데 이를 **천부인권 사상**이라고 한다. 이 사상에 따라 생명권, 자유권 등을 천부 인권으로 간주하였으며 이는 국가뿐만 아니라 그 무엇에 의해서도 침해될 수 없는 **불가침의 권리**이다. 즉 인권은 국가 성립 이전부터 인간이 가지는 **초국가적 권리**이고, 국가는 이러한 권리를 보장하기 위한 수단인 것이다. 이런 견해를 바탕으로 근대 국가는 천부 인권을 더욱 확고하게 보장하기 위해 이를 헌법에 구체화하였는데 이를 **기본권**이라고 한다.

우리 헌법 제10조는 “국가는 개인이 가지는 불가침의 권리를 확인하고 이를 보장할 의무를 진다.”라고 규정하고 있다. 이러한 규정은 기본권이 천부적 권리라는 인식을 바탕으로, 국가에 의해 국민의 자유와 권리가 침해되어서는 안되고 나아가 국민의 기본권을 보장하는 것이 국가의 의무임을 명시한 것이다.

헌법 제10조는 우리 헌법에서 보장하는 모든 기본권의 출발점이다. 헌법 제10조에서 모든 국민이 인간으로서의 존엄과 가치를 갖는다는 것은 인간을 수단이 아니라 목적으로 대해야 한다는 것을 의미한다. **인간의 존엄과 가치**는 헌법상 모든 기본권의 근거이자 원천이며, 국가 권력 행사의 기준이 된다. **행복 추구권**은 물질적, 정신적으로 안락하고 만족스러운 삶을 추구할 수 있는 권리이다. 행복 추구권은 인간의 존엄과 가치를 보장하기 위한 **본질적 기본권**으로 인간으로서 누려야 할 행복을 충족할 수 있는 모든 자유와 권리의 내용을 담고 있는 **포괄적 권리**이다.

평등권은 사회생활에서 합리적 이유 없이 불평등한 대우를 받지 않을 권리로 **다른 기본권 보장의 전제 조건**이 된다. 우리 헌법은 제11조 제1항에서 “모든 국민은 법 앞에 평등하다.”라고 규정하고 있는데, 여기에서의 평등은 개인의 선천적, 후천적 차이를 고려하지 않는 절대적, 획일적 평등이 아니라, 처

한 상황이나 여건에 따라 각 개인을 달리 대우하는 **상대적, 비례적 평등**을 의미한다. 즉 법 앞의 평등은 어떠한 차별 대우도 허용될 수 없다는 의미가 아니라 합리적인 이유가 없는 차별을 금지한다는 의미이다.

자유권은 역사가 가장 오래된 기본권으로서 개인이 자신의 선택과 결정에 따라 삶을 살아 나갈 수 있고, 국가의 간섭이나 침해를 받지 않을 권리이다. 이는 국가의 부당한 권력 행사에서 벗어나기 위한 **소극적, 방어적 권리**이자 구체적 내용이 헌법에 열거되지 않아도 경시되어서는 안 되는 권리이다.

자유권은 크게 신체의 자유, 정신적 자유, 사회, 경제적 자유로 분류된다. **신체의 자유**는 자유권을 비롯한 모든 기본권의 핵심이 되는 권리로, 이를 보장하기 위해 우리 헌법은 국민의 자유를 제한하는 경우에는 반드시 적법한 절차와 국회가 정한 법률에 근거해야 한다는 적법 절차의 원리, 고문 금지 및 진술 거부권 보장, 영장 제도 등을 규정하고 있다. **정신적 자유**를 보장하기 위해서는 양심의 자유, 종교의 자유, 언론, 출판, 집

회, 결사의 자유를 두고 있으며, **사회 경제적 자유**를 보장하기 위해서는 거주, 이전의 자유, 직업 선택의 자유, 사생활의 비밀과 자유, 통신의 자유, 재산권 행사의 자유 등을 규정하고 있다.

참정권은 국민이 국가의 정치 과정에 적극적으로 참여할 수 있는 권리로 **능동적 권리**에 해당한다. 참정권은 국민 주권의 원리를 실현하는 데 필수적인 권리로, 시민 혁명 이후의 근대 민주 국가에서는 재산 등에 따라 참정권을 제한하였으나 선거권이 확대된 오늘날 대부분의 민주 국가에서는 모든 국민의 참정권을 보장하고 있다.

우리 헌법이 보장하는 참정권에는 대통령, 국회 의원 등을 선출할 수 있는 권리인 **선거권**, 국가 및 공공 단체의 구성원으로 직무를 담당할 수 있는 **공무 담임권**, 국가 주요 정책의 결정이나 헌법 개정안 확정을 위한 국민 투표에 참여할 수 있는 **국민 투표권** 등이 있다.

자본주의가 발달하면서 물질적으로는 풍요로운 사회가 도래하였지만 빈부 격차 심화, 노동자들의 삶의 질 악화 등이 심각한 사회 문제로 등장하였다. 이에 모든 사회 구성원이 최소한의 **인간다운 삶과 실질적 평등**을 누릴 수 있어야 한다는 인식이 확산되면서 사회권이 등장하였다. 사회권은 1919년 독일의 바이마르 헌법에서 최초로 규정되었다.

사회권은 국민이 국가에 대해 인간다운 생활의 보장을 요구한다는 점에서 **적극적 권리**이며, 인간의 존엄성을 구현하기 위한 최소한의 필요 조건을 국가에 요구할 수 있는 법적 근거가 된다.

우리 헌법은 사회권의 보장을 위해 인간다운 생활을 할 권리, 교육을 받을 권리, 근로의 권리, 최저 임금제의 실시, 건강하고 쾌적한 환경에서 생활할 권리 등을 규정하고 있다.

청구권은 국민이 국가에 대해 일정한 행위를 요구하거나 국민의 기본권이 국가나 타인에 의해 침해당하였을 때 그 구제를 청구할 수 있는 권리이다. 청구권은 **적극적 권리**로서 **기본권 보장을 위한 기본권**의 성격을 가지며, 앞의 다른 기본권은 그 자체가 목적인 데 비해 청구권은 **수단적 권리**로서의 성격을 지닌다.

우리 헌법은 개인의 기본권이 침해되었을 때 이를 구제하기 위하여 다양한 종류의 청구권을 보장하고 있다. 국가 기관에 대해 자신의 의견이나 희망 사항을 문서로 제출할 수 있는 청원권, 법적 분쟁에 대해 재판을 받을 수 있는 재판 청구권, 범죄 피해자 구조 청구권, 형사 보상 청구권, 국가 배상 청구권 등이 이에 해당한다.

서로 다른 주체 간의 권익이 충돌할 때 이들이 각자 자신의 기본권 보장을 국가에 요구하는 것을 **기본권 충돌**이라고 한다. 이의 집단이 자유롭게 시위를 할 수 있는 권리와 인근 상점이 시위에 방해받지 않고 영업할 권리가 충돌하는 것을 예로 들 수 있다. 이 경우 국가는 국민의 기본권을 보장하기 위해 이해 당사자 간에 충돌하는 기본권을 객관적으로 파악하여 합리적 원칙에 따라 문제를 해결해야 한다.

기본권 충돌을 해결하기 위한 원리로는 충돌하는 기본권의 법적 이익을 비교해서 보호 가치가 더 우위에 있는 기본권을 먼저 보호해 주는 **법익 형량의 원칙**, 대립하는 기본권을 양립, 조화시켜 균형을 이루도록 해석하여 상충하는 기본권 모두가 최대한 보장될 수 있도록 하는 **규범 조화적 해석의 원칙** 등이

있다. 기본권은 헌법으로 보장되는 불가침의 인권이지만 어떠한 경우에도 무한하게 보장되는 절대적 권리는 아니다. 표현의 자유를 보장한다고 해서 타인에 대한 허위 사실을 유보하는 것까지 허용하는 것은 아니며, 재산권 행사의 자유를 보장한다고 해서 타인의 생명을 돈으로 사는 것까지 허용하는 것은 아니다. 즉 어떤 사람의 기본권 행사가 다른 사람의 기본권을 침해하거나 공동체의 이익을 훼손할 우려가 있을 때 국가는 국민의 기본권을 제한할 수 있다.

헌법 제37조 제2항은 기본권 제한의 요건과 한계를 명확히 규정하고 있다. 이에 따라 기본권은 헌법이 정한 엄격한 요건에 의해서만 제한된다.

먼저, 기본권은 국가 안전 보장, 질서 유지, 공공복리를 위한 목적 이외에는 제한할 수 없다. 예를 들어 「도로 교통법」은 사회 질서 유지를 목적으로 개인의 기본권을 제한한 것이며, 「개발 제한 구역의 지정 및 관리에 관한 특별 조치법」은 무분별한 개발 제한, 쾌적한 환경의 유지와 같은 공공복리를 위해서 개인의 기본권을 제한한 것이다.

또한 기본권의 제한은 국민의 대표 기관인 국회가 제정한 법률을 통해서만 가능하다. 법률의 근거가 없거나 위임 없이 명령, 조례, 규칙 등을 통해서도 국민의 기본권을 제한할 수 없음을 밝혀 국민의 기본권이 국가에 의해 함부로 침해되지 않도록 보장하고 있다.

그리고 과잉 금지의 원칙에 따라 목적의 정당성, 법익의 균형성, 방법의 적절성, 피해의 최소성 등을 준수해야 한다. 필요한 최소한의 범위 안에서만 기본권 제한이 이루어지도록 하는 것이다.

이러한 모든 요건을 충족하더라도 기본권의 본질적인 내용은 침해할 수 없다. 예를 들어 환경 보호라는 공공복리를 위해 개발 제한 구역을 지정해서 개인의 재산권을 제한할 수는 있지만, 재산권의 사용, 수익, 처분 등의 본질적인 내용까지 침해할 수는 없다.

헌법이 이러한 기본권 제한 조항에 엄격한 요건과 한계를 둔 이유는 국가 권력의 남용을 막아 국민의 기본권을 보장하기 위해서이다.

15. 기본권 A~C에 대한 설명으로 옳은 것은? (단, A~C는 각각 자유권, 평등권, 청구권 중 하나이다.)

갑은 일정한 범죄로 확정 판결을 받은 사람의 디엔에이(DNA) 시료를 영장에 의해 채취하도록 한 ○○법에 따라 시료를 채취당하였다. 갑은 ○○법 조항이 입법 목적에 부합하는 구체적 채취 요건의 규정 없이 본인의 의사에 반해 구강 등에서 시료를 채취하도록 하여 신체의 안정성과 자율적 활동에 관한 A를 침해한다고 보았다. 또한, 갑은 해당 조항이 강력 범죄자와 경미한 범죄자를 합리적 이유 없이 동일하게 취급하여 B를 침해하고, 채취 대상자의 의견 진술 기회와 사후 불복 및 구제 절차를 마련하지 않아 C를 침해한다고 판단하여 헌법 소원 심판을 청구하였다.

- ① A는 현대 복지 국가 헌법에서부터 보장된 기본권이다.
- ② B는 국가에 특정 행위를 요구할 수 있는 절차적 권리이다.
- ③ C는 민주주의 이념 중 하나로 다른 기본권 보장의 전제 조건이다.
- ④ A는 소극적·방어적 권리, C는 적극적 권리에 해당한다.
- ⑤ A는 B와 C의 보장과 실현을 위한 수단적 성격의 권리이다.

16. 기본권 유형 A~D에 대한 설명으로 옳은 것은?

외국인에게 기본권을 인정해야 하는가의 문제는 기본권의 성질에 따라 결정하여야 한다. 기본권 중 행복 추구권은 인간이라면 누구나 누릴 수 있는 권리이므로 외국인에게도 인정된다. 한편 신체의 자유로 대표되는 A와 재판 청구권과 같은 B도 원칙적으로 외국인에게 인정되지만 일정한 경우에 제한될 수 있다. 그러나 교육을 받을 권리와 같은 C와 국민 투표권과 같은 D는 원칙적으로 외국인에게 인정되기 어려운 점이 있다.

- ① B는 C보다 우월한 가치가 있는 기본권이다.
- ② C는 A보다 최근에 등장한 현대적인 권리이다.
- ③ D는 A보다 수동적이고 방어적인 권리이다.
- ④ A와 C는 국가 성립 이전부터 인정되는 권리이다.
- ⑤ B와 D는 헌법에 열거되지 않아도 보장받을 수 있는 포괄적 권리이다.

17. 다음의 헌법 조항에 대한 설명으로 가장 적절한 것은?

제37조 ② 국민의 모든 자유와 권리는 국가 안전 보장·질서 유지 또는 공공복리를 위하여 필요한 경우에 한하여 법률로써 제한할 수 있으며, 제한하는 경우에도 자유와 권리의 본질적인 내용을 침해할 수 없다

- ① 사회적 기본권은 다른 기본권보다 우월하다는 점을 보여 준다.
- ② 개인의 기본권 보장과 공동체의 이익은 조화될 수 없음을 보여 준다.
- ③ 국가 권력이 국민의 기본권을 효과적으로 제한하기 위한 규정이다.
- ④ 기본권은 천부적 권리가 아니라 실정법상 권리라는 점을 보여 준다.
- ⑤ 기본권 제한은 정당한 목적을 위해 필요한 범위 안에서만 행해져야 한다는 점을 보여 준다.

18. 다음 사례에 대한 분석으로 옳은 것은?

구치소에 수용 중인 갑은, 구치소장이 수용자 거실에 설치한 폐쇄 회로 텔레비전(CCTV)으로 인해 기본권을 침해당했다며, 헌법 재판소에 권리 구제형 헌법 소원 심판을 청구하였다. 이에 대해 헌법 재판소는 구치소장의 해당 행위는 갑을 보호하기 위한 것으로 그 목적이 정당하고, 교도관의 감시만으로는 사고 발생을 막는 데 한계가 있으므로 목적 달성에 적합한 수단이며, 수용자가 입게 되는 피해를 최소화하기 위한 조치를 취하고 있다는 점에서 피해의 최소성을 갖추었다고 보았다. 또한 이로 인해 갑의 사생활의 비밀 및 자유가 제한되더라도, 이를 통해 보호하려는 공익이 더 크기 때문에 법익의 균형성을 갖추었다고 판단하여 기각 결정을 내렸다.

- ① 갑이 침해당했다고 주장하는 기본권은 '기본권 침해를 구제받기 위한 수단적 성격'을 가진다.
- ② 갑이 청구한 심판은 법률의 위헌 여부가 재판의 전제가 된 경우에 이루어진다.
- ③ 갑의 헌법 소원 심판 청구는 사회권적 기본권의 행사에 해당한다.
- ④ 헌법 재판소는 구치소장의 행위가 과잉 금지 원칙을 위배하지 않았다고 판단하였다.
- ⑤ 헌법 재판소는 보호하려는 공익보다 침해되는 사익이 더 작다고 할 수 없으므로 기본권 제한의 한계를 넘었다고 판단하였다.

5. 정부 형태

오늘날 대부분의 민주 국가는 국민이 선거를 통해 대표자를 선출하고 선출된 대표자들이 국가의 정책을 결정하고 집행하는 대의 민주제를 채택하고 있다. 동시에 대의 민주제에서 나타날 수 있는 대표자들의 권력 독점과 남용을 막기 위해 국가 권력을 입법부, 행정부, 사법부에 분산하여 서로 견제하고 균형을 이루도록 하고 있다.

현대 민주 국가의 정부 형태는 이들 국가 기관 중 특히 입법부와 행정부가 어떤 관계를 맺고 있는냐에 따라 크게 의원 내각제와 대통령제로 구분된다. 의원 내각제는 입법부에 의해 행정부가 구성되어 입법부와 행정부가 상호 밀접한 관계를 유지하면서 국정을 운영하는 정부 형태이고, 대통령제는 입법부와 행정부가 별도의 선거를 통해 구성되어 엄격하게 분리되고 상호 견제와 균형을 원리에 충실한 정부 형태이다.

의원 내각제는 영국에서 비롯한 정부 형태이다. 영국 의회는 오랜 기간 국왕과 갈등을 겪어 오다가 명예혁명(1688)과 권리 장전(1689)을 통해 국왕에 대한 의회의 우위를 확립하였다. 그 결과 “국왕은 군림하되 통치하지 않는다.”라는 원칙이 세워졌으며, 의회 내 다수당의 대표가 총리로서 내각을 이끌고 국정을 운영하는 의원 내각제가 성립하였다.

의원 내각제에서는 국민의 직접 선거를 통해 입법부인 의회가 구성되며, 행정부인 내각은 원칙적으로 의회 다수당의 대표가 총리가 되고 총리가 소속 정당 의원들을 내각의 각료로 임명함으로써 구성된다. 임명된 각료는 총리와 함께 내각의 의사 결정에 참여한다.

대통령제는 미국에서 비롯한 정부 형태이다. 미국은 영국 식민지 시대를 거치면서 영국과 마찬가지로 의회를 중심으로 하는 권력 구조를 가지고 있었다. 하지만 미국이 영국으로부터 독립한 후, 미국 독립의 주도자들은 국가 기관 간에 더욱 엄격한 견제와 균형을 원리를 구현함으로써 권력의 집중을 막고 국민의 자유와 권리를 보장할 수 있는 새로운 정치 체제를 구상하였다. 그 결과 입법부와 행정부의 엄격한 분립에 바탕을 둔 대통령제가 성립하였다.

대통령제에서 국민은 별도의 선거를 통해 입법부인 의회 의원과 행정부 수반인 대통령을 각각 선출하며, 행정부는 대통령 및 대통령이 임명하는 각료들로 구성된다. 이러한 특징으로 인해 행정부의 최종적인 권한과 책임은 원칙적으로 대통령에게 있다.

의원 내각제에서는 의회에서 선출된 총리가 내각을 구성하며, 총리와 각료는 의회 의원을 겸하기 때문에 입법부와 행정부의 관계가 매우 밀접하다. 이에 반해 대통령제에서는 의회 의원과 대통령이 각각 별도의 선거로 선출되기 때문에 입법부와 행정부의 관계가 독립적이다.

의원 내각제에서는 의회 의원과 내각 모두 **법률안 제출권**을 갖는다. 그러나 대통령제에서는 의회 의원만 법률안 제출권을 가지며, 행정부는 법률안 제출권이 없다.

한편 의원 내각제에서 의회는 **내각 불신임권**을, 내각은 **의회 해산권**을 행사함으로써 서로를 견제할 수 있다. 그러나 대통령제에서는 의회와 행정부가 별도의 선거로 구성되므로 서로를 불신임하거나 해산할 수 없다. 다만 대통령제에서 대통령은 의회가 의결한 법률안에 대해 **법률안 거부권**을 행사할 수 있으

며, 의회는 고위 공무원에 대한 임명 동의권 등 각종 동의, 승인권과 대통령을 비롯한 주요 공직자에 대한 탄핵 소추권을 행사함으로써 서로를 견제할 수 있다.

그리고 의원 내각제에서는 상징적 존재로서의 국가 원수와 행정부 수반이 분리되어 있는 반면, 대통령제에서는 대통령이 국가 원수와 행정부 수반의 지위를 동시에 가진다. 의원 내각제에서는 의회와 행정부의 긴밀한 협조로 신속하고 능률적인 국정 처리가 가능하며, 의회의 신임을 잃은 내각은 사퇴해야 하므로 내각이 정치적 책임과 국민의 요구에 민감하다. 또한 내각 불신임이나 의회 해산을 통해 의회와 행정부의 정치적 대립이 비교적 신속하게 해결될 수 있다. 그러나 의회 다수당이 과반수 의석을 차지할 경우 **다수당의 횡포**를 견제하기 어렵고, 반대로 과반수 의석을 차지한 정당이 없어 **연립 내각**을 구성할 경우 정치적 책임 소재가 불명확해질 수 있다.

대통령제에서는 원칙적으로 대통령의 임기가 보장되기 때문에 대통령은 의원 내각제의 총리에 비해 국가 정책을 지속해서 추진할 수 있다. 또한 대통령의 법률안 거부권 행사로 의회 다수당의 횡포를 방지할 수 있다는 장점이 있다. 반면 대통령이 국민의 요구에 둔감할 수 있고 대통령에게 권한이 집중될 경우 독재 정치가 출현할 우려가 있으며, 의회와 행정부가 대립할 때 이를 해결하기 어렵다는 단점도 있다.

우리나라는 1945년 해방 이후 제헌 의회에서 의원 내각제를 전제로 정부 형태를 논의하였지만, 최종적으로 대통령제 정부 형태를 채택하였다. 이 때문에 1948년에 수립된 대한민국 정부 형태는 대통령제를 중심으로 하면서도 의원 내각제의 요소가 일부 더해졌다.

이후 초대 대통령의 독재와 장기 집권, 부정 선거 등으로 1960년 4·19 혁명이 일어난 후, 대통령제에 대한 반발로 **의원 내각제** 정부 형태가 도입되었다. 하지만 의원 내각제 정부 형태가 제대로 정착되기도 전에 5·16 군사 정변이 일어나 1962년에는 의원 내각제가 폐지되고 다시 대통령제 정부 형태가 도입되었다. 1972년에는 대의원에 의해 **간선제**로 뽑힌 대통령이 입법부와 사법부 위에 군림하고 국민의 자유와 권리를 심각하게 침해하는 유신 체제라는 권위주의적 정부 형태가 나타났다. 1980년에는 제8차 개헌을 통해 **유신 체제**가 폐지되고 **대통령 단임제**가 시행되었지만, 권위주의적 통치는 여전히 유지되었다. 이러한 상황에 반발하여 계속되던 민주화 운동은 1987년 6월 민주 항쟁으로 이어졌고, 그 결과 1987년에 제9차 개헌을 통해 **대통령 직선제**가 부활한 후 현재까지 이어지고 있다.

위 헌법 조항들은 우리나라가 기본적으로 **대통령제를 채택**하고 있음을 보여준다. 즉 입법부와 행정부의 역할이 명확히 구분되고, 대통령은 국가 원수의 지위와 행정부 수반의 지위를 동시에 가진다. 또한 대통령은 국회가 의결한 **법률안에 거부권을 행사**하여 국회의 활동을 견제할 수 있고, 국회는 **각종 동의권이나 탄핵 소추권의 행사**를 통해 대통령의 권한을 견제할 수 있다.

하지만 우리 헌법은 대통령제 요소 외에 **의원 내각제 요소**에 해당하는 내용도 담고 있다. 우리나라는 전형적인 대통령제와 달리 **행정부의 법률안 제출권을 인정**하고 있으며 국회의 동의를 얻어 대통령이 임명한 국무총리가 대통령의 명을 받아 행정 각부를 통할하도록 하고 있다. 또한 국회의 요구가 있을

때 국무총리나 국무 위원에게 국회에 출석하여 국정 처리 상황에 대해 답변하도록 하고 있다. 그 밖에도 **국회 의원이 국무총리나 국무 위원을 견할 수 있으며** 국회는 **대통령에게 국무총리와 국무 위원의 해임을 건의**할 수 있는데, 이는 모두 의원 내각제 요소에 해당한다.

이처럼 우리나라는 대통령제를 기본으로 하면서도 의원 내각제 요소를 일부 가미한 정부 형태를 채택하고 있다.

19. 표에 대한 옳은 분석 및 추론을 <보기>에서 고른 것은? (단, 갑국과 을국의 정부 형태는 각각 전형적인 대통령제와 의원 내각제 중 하나이다.)

질문 \ 국가	갑국	을국
(가)	예	아니요
행정부 수반 소속 정당이 의회에서 과반 의석을 차지하는가?	아니요	아니요

- < 보 기 > —
- ㄱ. (가)가 ‘의회 의원이 각료를 견직할 수 있는가?’라면 갑국에서는 연립 내각 구성이 필요했을 것이다.
 - ㄴ. (가)가 ‘의회가 행정부 수반을 선출하는가?’라면 을국에서는 의회 내 다수석을 확보하기 위해 행정부 수반이 의회를 해산할 수 있다.
 - ㄷ. 갑국의 행정부 수반이 법률안 제출권을 가진다면 (가)에 ‘의회는 내각에 대한 불신임권을 행사할 수 있는가?’가 들어갈 수 있다.
 - ㄹ. 을국의 행정부 수반이 법률안 거부권을 가진다면 (가)에 ‘국가 원수와 행정부 수반이 동일인인가?’가 들어갈 수 있다.

- ① ㄱ, ㄴ ② ㄱ, ㄷ ③ ㄴ, ㄷ ④ ㄴ, ㄹ ⑤ ㄷ, ㄹ

20. 다음의 헌법 조항에 대한 설명으로 가장 적절한 것은?

정부 형태는 전형적으로 A와 B로 구분할 수 있다. A는 행정부가 의회와 독립적으로 구성되고 존속하는 형태이다. 이에 비해 B는 의회에 의해 행정부가 구성되어 의회와 행정부가 상호 의존하며 존속하는 형태이다. ㉠ A에서 의회와 행정부 간의 견제와 균형의 원리를 실현하는 장치가 있는 것처럼 ㉡ B에서도 의회와 행정부 간의 적절한 균형을 이루기 위한 장치가 존재한다.

- ① 행정부가 의회 해산권을 행사하는 것은 ㉠ 중의 하나이다.
- ② 의회가 의결한 법률안에 대하여 행정부가 거부권을 행사하는 것은 ㉡ 중의 하나이다.
- ③ 의회가 행정부를 불신임한 경우 행정부 수반과 각료가 연대책임을 지는 것은 A에서 나타난다.
- ④ 행정부 수반의 임기가 보장되어 국가 정책의 일관성을 유지할 수 있는 것은 A에서 나타나는 장점이다.
- ⑤ 행정부 수반과 국가 원수의 역할이 1인에게 모두 집중되어 있는 것은 B에서 나타난다.

21. 갑, 을의 주장에 대한 옳은 설명만을 <보기>에서 고른 것은?

사회자 : 우리나라 정부 형태를 어떻게 바꾸어야 한다고 생각하십니까?
 갑 : 정부의 법률안 제출권을 폐지하는 한편, 국회 의원이 국무총리나 국무 위원을 겸직할 수 없도록 해야 합니다.
 을 : 대통령은 상징적인 지위를 갖고, 국회가 선출하는 국무총리가 국정에 관한 전반적인 권한과 책임을 행사하도록 해야 합니다

< 보 기 >
 가. 갑은 권력 분립의 원리가 엄격하게 구현되어야 한다고 본다.
 나. 을은 행정부와 국회 간 더욱 긴밀한 협조가 필요하다고 본다.
 다. 갑은 을과 달리 행정부가 국회에 정치적 책임을 져야 한다고 본다.
 라. 을은 갑과 달리 국가 원수와 행정부의 수반이 일치되어야 한다고 본다.

- ① 가, 나 ② 가, 다 ③ 나, 다 ④ 나, 라 ⑤ 다, 라

22. 다음 자료에 대한 설명으로 옳은 것은?

갑국과 을국의 정부 형태는 각각 전형적인 대통령제와 의원 내각제 중 하나이다. 행정부 수반이 소속된 정당의 의회 의석률은 갑국 35%, 을국 65%이며, 양국 모두 무소속 의원은 존재하지 않는다. 표는 질문에 따라 갑국과 을국을 비교한 것이다.

질문	국가	갑국	을국
(가)		예	아니요
(나)		예	예

- ① (가)에 ‘행정부 수반이 국가 원수의 지위를 동시에 가지는가?’가 들어가면, 갑국의 행정부 수반은 임기가 보장되지 않는다.
 ② (가)에 ‘의회가 내각을 불신임할 수 있는가?’가 들어가면, 갑국과 달리 을국의 의회 의원은 각료를 겸직할 수 있다.
 ③ (나)에 ‘국민이 선거를 통해 행정부 수반을 직접 선출하는가?’가 들어갈 수 있다.
 ④ (나)에 ‘의회 내 과반 의석을 확보한 정당이 존재하는가?’가 들어가면, 을국과 달리 갑국의 행정부 수반은 법률안 거부권을 가진다.
 ⑤ (나)에 ‘의회 의석을 확보한 정당이 2개만 존재하는가?’가 들어가면, (가)에 ‘행정부가 법률안을 제출할 수 있는가?’가 들어갈 수 있다.

6. 우리나라의 국가 기관

국가 권력이 한 개인이나 집단에 집중되면 권력이 남용되기 쉬워 국민의 자유와 권리를 침해할 수 있다. 따라서 국민의 자유와 권리를 보장하기 위해서는 국가 권력을 서로 독립된 국가 기관에 분산하고 이들 기관이 상호 견제하도록 함으로써 국가 권력의 남용을 방지할 필요가 있다. 이처럼 국가 권력을 여러 국가 기관에 분산하고 권력 상호 간에 견제와 균형의 원리를 통하여 국민의 자유와 권리를 보장하는 국가 기관의 조직 원리를 **권력 분립의 원리**라고 한다.

권력 분립의 형태는 나라마다 다양하게 나타날 수 있지만, 일반적으로 오늘날 대부분 민주 국가는 법을 만드는 **입법부**와 법을 집행하는 **행정부**, 법을 적용하는 **사법부**에 국가 권력을 분산하는 삼권 분립 체제를 채택하고 있다. 우리나라 역시 국회와 정부, 법원이 각각 입법권과 행정권, 사법권을 가지고 있음을 헌법에 명시하여 권력 분립의 원리를 실현하고 있다.

국회는 국민이 직접 선출한 대표들로 구성된 **국민의 대표 기관**이자 법률을 제정 혹은 개정하는 **입법 기관**이다. 또한 국정을 감시하고 견제하는 **국정 통제 기관**이기도 하다.

국회는 지역구에 출마한 후보 중에서 선출되는 **지역구 의원**과 각 정당의 득표율에 비례하여 선출되는 **비례 대표 의원**으로 구성되며, 이들의 임기는 4년이다. 국회에는 의장 1인과 부의장 2인이 있으며, 효율적인 의사 진행을 위하여 각종 위원회와 교섭 단체를 운영하고 있다. **위원회**는 본회의에서 심의할 안건을 미리 조사하여 심의하는 합의체로 상임 위원회와 특별 위원회가 있다. **교섭 단체**는 일반적으로 20인 이상의 소속 의원을 가진 정당이 구성하는 원내 단체로, 국회의 의사 진행에 필요한 중요 안건을 협의한다.

국회의 의사를 최종적으로 결정하는 곳은 **본회의**이며, 여기서는 국가의 중요 문제를 논의하고 위원회에서 심사한 안건을 최종적으로 결정한다. 국회의 회의는 정기회와 임시회의 형태로 열린다. **정기회**는 매년 1회 정기적으로 열리며, **임시회**는 대통령 또는 국회 재적 의원 4분의 1 이상의 요구로 열린다. 회의에 올라온 안건은 일반적으로 재적 의원 과반수의 출석과 출석 의원 과반수의 찬성으로 의결된다.

국회는 법률의 제정 및 개정권, 헌법 개정안의 제안 및 의결권, 조약 체결 및 비준에 관한 동의권 등 입법에 관한 권한을 가진다.

법률의 제정 및 개정은 국회 의원 10인 이상이나 위원회의 법률안 발의 또는 정부의 법률안 제출로 시작되며, 국회 재적 의원 과반수의 출석과 출석 의원 과반수의 찬성으로 의결된다. 국회에서 의결한 법률안은 정부로 이송되며 15일 이내에 대통령이 공포하는데, 특별한 규정이 없는 한 공포한 날로부터 20일이 지나면 법률의 효력이 발생한다. 국회에서 의결한 법률안에 대해 대통령이 거부권을 행사할 경우, 법률안을 재의결하기 위해서는 국회 재적 의원 과반수의 출석과 출석 의원 3분의 2 이상의 찬성이 필요하다.

헌법 개정은 국회 재적 의원 과반수 또는 대통령의 발의로 제안된다. 제안된 헌법 개정안은 국회 재적 의원 3분의 2 이상의 찬성으로 의결되며, 의결된 개정안이 국민 투표에서 국회 의원 선거권자 과반수의 투표와 투표자 과반수의 찬성을 얻으면 최종 확정된다.

이 밖에도 국가 안전 보장에 관한 조약 및 국가나 국민에게 중대한 재정적 부담을 지우는 등의 조약을 체결, 비준하기 위해서는 국회의 동의를 받아야 하며, 이러한 조약은 동의 절차를 거친 후 국회에서 제정한 법률과 같은 효력을 가진다.

우리 헌법은 “조세의 종목과 세율은 법률로 정한다.”라고 하여, 국회에서 의결한 법률로서만 과세할 수 있도록 하고 있다. 또한 국회는 정부가 제출한 예산안을 심의, 확정하고, 전년도에 집행한 예산의 결산을 심사할 수 있는 권한 등을 가진다.

국회는 국정을 감시하고 통제하기 위한 다양한 권한을 가진다. 먼저 국회는 매년 정기적으로 국정 전반을 감사할 수 있는 국정 감사권과 국정에 특정한 사안이 생기면 이를 조사할 수 있는 국정 조사권을 가진다. 또한 국무총리, 대법원장과 대법관, 헌법 재판소장, 감사원장의 임명에 동의권을 행사하며, 대통령이나 국무총리 등 법률에 정한 고위직 공무원이 직무를 집행하는 과정에서 헌법이나 법률을 위반하였을 때 탄핵 소추를 의결하고 헌법 재판소에 탄핵 심판을 청구할 수 있다. 이 밖에도 국회는 국무총리 및 국무 위원 해임 건의권, 일반 사면에 대한 동의권 등을 가진다.

행정은 국가의 목적이나 공익을 실현하기 위해 법률을 집행하는 국가 작용을 의미하며, 이를 담당하는 국가 기관을 행정부라고 한다. 근대 초기 행정부의 역할은 국방이나 치안에 한정되었지만, 오늘날에는 사회가 복잡해지고 이해관계가 다양해지면서 행정부의 규모와 역할이 점차 커지게 되었다. 특히 모든 국민의 인간다운 생활 실현을 국가의 중요한 의무로 삼는 현대 복지 국가의 등장 이후 행정부의 역할은 더욱 커지고 있다.

우리나라의 행정부는 대통령을 수반으로 하여 국무총리, 국무 회의, 행정 각부, 감사원 등의 기관으로 구성된다.

우리나라의 대통령은 국민의 직접 선거로 선출되며, 임기는 5년으로 중임할 수 없다. 우리 헌법은 “행정권은 대통령을 수반으로 하는 정부에 속한다.”라고 규정하고 있다. 즉 대통령은 행정부의 수반으로서 행정에 관한 최종적인 책임을 진다. 동시에 헌법은 “대통령은 국가의 원수이며, 외국에 대하여 국가를 대표한다.”라고 규정하고 있다. 이처럼 우리나라의 대통령은 행정부 수반과 국가 원수의 지위를 동시에 가진다.

대통령은 행정부를 지휘, 감독할 권한을 가진다. 구체적으로 공무원을 임면하고 대통령령을 발할 수 있으며, 국무 회의의 의장으로서 국무 회의를 주재하고 국정을 최종적으로 결정하는 역할을 한다.

또한 대통령은 외국에 대하여 국가를 대표하고, 국가의 독립과 영토의 보전, 국가의 계속성과 헌법을 수호할 권한을 가진다. 이와 관련하여 대통령은 외교 사절을 신임, 접수, 파견하고 외국과의 조약을 체결, 비준하며, 선전 포고나 강화를 할 수 있다. 그 밖에 긴급 재정, 경제 처분 및 명령권, 긴급 명령권, 계엄 선포권 등도 가진다.

그리고 대통령은 국정을 조정할 수 있는 권한을 가진다. 구체적으로 국가의 안위에 관한 중요 정책을 국민 투표에 부칠 수 있고, 헌법 개정안을 제안할 수 있다. 국회 임시회 소집권, 국회 출석 발언권, 법률안 거부권 및 공포권 등도 가지며, 사법과 관련하여서는 사면권을 행사할 수 있다.

이 밖에도 대통령은 헌법 기관을 구성할 권한을 가진다. 즉 국무총리, 대법원장, 헌법 재판소장, 감사원장 등을 임명할 수

있다.

위와 같은 대통령의 권한 행사는 신중히 이루어져야 한다. 그래서 대통령이 국정과 관련하여 수행하는 중요한 일은 반드시 국무 회의의 심의를 거치고, 관련 문서에는 부서를 받도록 하고 있다.

국무총리는 국회의 동의를 얻어 대통령이 임명하며, 대통령의 국정 운영을 보좌하고 대통령이 직무를 수행할 수 없을 때 권한을 대행하는 역할을 한다. 또한 행정 각부를 통할하며 총리령을 발하거나 국무 위원에 대한 임명 제청 및 해임 건의권을 행사할 수 있다.

국무 회의는 행정부의 중요 정책을 심의하는 행정부 내 최고 심의 기관으로, 대통령과 국무총리 및 일정 수의 국무 위원으로 구성된다. 국무 회의의 의장은 대통령이며, 부의장은 국무총리가 맡는다.

행정부의 구체적 행정 사무는 행정 각부에 의해 이루어진다. 행정 각부의 장은 국무 위원 중에서 국무총리의 제청으로 대통령이 임명하며, 이들은 소관 사무를 집행하고 소관 사무에 관해 부령을 발할 수 있다.

감사원은 행정 권력의 남용과 부패를 방지하기 위한 행정부의 최고 감사 기관으로, 조직상으로는 대통령에 소속되어 있지만 직무에 관하여는 독립된 지위를 가진다. 감사원의 주요 권한으로는 국가 세입, 세출의 결산 검사, 국가 및 법률이 정한 단체의 회계 검사와 행정 기관 및 공무원의 직무에 관한 감찰 등이 있다.

23. 다음 자료는 우리나라 국회의 활동을 나타낸 것이다. 밑줄 친 ㉠~㉣에 대한 설명으로 옳은 것은?

- 국무총리 후보자 □□□의 ㉠ 임명 동의안 의결
- ◇◇사과의 진상 규명을 위한 ㉡ 국정 조사 실시
- 대통령이 ㉢ 재의 요구한 △△법 ㉣ 개정안 재의결

- ① ㉠은 감사원장 임명 시에도 실시된다.
- ② ㉡은 입법부가 정기적으로 실시하는 행정부 견제 수단이다.
- ③ 대통령은 헌법 개정안에 대해서 ㉢을 할 수 있다.
- ④ △△법 개정안은 ㉣ 이후 국민 투표로 확정된다.
- ⑤ ㉣은 ㉡과 달리 국회의 입법 권한에 해당한다.

24. 밑줄 친 ㉠~㉣에 대한 진술로 적절하지 않은 것은?

법률의 제정 및 개정은 입법부의 대표적인 권한이다. 하지만 우리나라의 경우 ㉠ 정부 제출에 의한 입법이 늘어나고, ㉡ 국회가 제출한 법률 중 ㉢ 의결·통과된 법률의 비율은 상대적으로 줄어들고 있다. ㉣ 이러한 현상이 나타나게 된 것은 현대 사회에 접어들어 국가 기능이 확대되고 ㉤ 입법에 있어 고도의 전문성과 기술성이 요구되면서 행정부에 비해 입법부의 기능이 상대적으로 약화되었기 때문이다.

- ① ㉠에서 우리나라 정부 형태에 의원 내각제 요소가 있음을 알 수 있다.
- ② ㉡은 국회의원 10인 이상 또는 국회 상임 위원회가 할 수 있다.
- ③ ㉢을 위해서는 국회 재적 의원 과반수의 찬성이 있어야 한다.
- ④ ㉣에 대해 국회의 입법 기능이 약화되어 대의제 원리가 제대로 실현되지 못한다는 비판이 제기될 수 있다.
- ⑤ ㉤을 확보하기 위한 예로 국회 입법 조사처의 활동 강화를 들 수 있다.

25. 그림에 나타난 우리나라 헌법 기관 A에 대한 설명으로 옳은 것은?



- ① A의 모든 정책 결정은 국무 회의를 거쳐야 한다.
- ② A는 국회의 동의를 얻어 헌법 개정안을 발의할 수 있다.
- ③ A는 행정부의 수반으로서 국가 예산안을 심의·확정한다.
- ④ A는 법률 집행에 필요한 사항에 대하여 국회의 동의를 얻어 명령을 발할 수 있다.
- ⑤ A는 국가나 국민에게 중대한 재정적 부담을 지우는 조약을 체결·비준할 때 국회의 동의를 얻어야 한다.

26. 다음 자료의 (가)에 들어갈 옳은 진술만을 <보기>에서 있는 대로 고른 것은?

교사 : 현재 갑국 의회의 본회의에는 ○○법 개정 법률안이 상정되어 있습니다. 표는 갑국 의회 재적 의원의 정당별 의석률과 개정 법률안에 대한 입장을 나타낸 것입니다. 이 사례에 우리나라 정부 형태와 입법 절차를 적용했을 때 추론할 수 있는 상황에 대해 발표해 보세요.

구분	A당	B당	C당	D당	E당
의석률(%)	4	20	46	26	4
개정 법률안에 대한 입장	찬성	반대	찬성	반대	찬성

* 갑국 의회 재적 의원은 250명이며, 법률안 의결 과정에서 재적 의원 수의 변화는 없다고 가정함.
 ** 각 정당의 입장은 변경되지 않으며, 본회의 표결 시 각 의원들은 소속 정당의 입장대로만 투표하고, 기권과 무효표는 없음.

학생 : _____ (가)

< 보 기 >

- ㄱ. A당 소속 의원들만으로는 개정 법률안을 발의할 수 없었을 거예요.
- ㄴ. B당, D당, E당 소속 의원들을 제외한 나머지 의원들 모두 본회의에 출석하면 개정 법률안이 가결될 수 있어요.
- ㄷ. A당, E당 소속 의원들을 제외한 나머지 의원들 모두 본회의에 출석하여 투표하면 개정 법률안이 가결될 수 없어요.
- ㄹ. 본회의에서 가결된 개정 법률안에 대해 대통령의 재의 요구가 있을 경우, B당 소속 의원들을 제외한 나머지 의원들 모두 본회의에 출석하여 투표하면 개정 법률안은 법률로서 확정돼요.

- ① ㄱ, ㄴ ② ㄱ, ㄷ ③ ㄷ, ㄹ
- ④ ㄱ, ㄴ, ㄹ ⑤ ㄴ, ㄷ, ㄹ

7. 사법과 지방 자치

사법(司法)이란 공적 및 사적 영역에서 발생하는 분쟁이나 사건에 국가가 법을 적용하여 옳고 그름이나 권리관계 등을 판단하고 밝히는 작용을 가리킨다. 행정은 법의 내용을 적극적으로 실현하려는 작용인 데 반해, 사법은 법질서가 침해되거나 법적 분쟁이 발생하였을 때 법질서를 유지하려는 작용이라는 특징을 지닌다.

우리 헌법은 사법권이 법관으로 구성된 법원에 속한다고 명시하고 있다. 이는 권력 분립을 확인하는 규정이자 **사법권의 독립**을 보장하는 규정이다. 사법권 독립의 궁극적인 목적은 공정한 재판을 실현함으로써 국민의 기본권을 보장하는 것이다.

사법권의 독립을 위해서는 우선 **법원의 독립**이 필요하다. 이를 위해 법원은 입법부, 행정부로부터 독립된 별도의 조직을 가지며, 입법부와 행정부는 법원의 재판에 영향력을 행사할 수 없다. 또한 법원은 위헌 법률 심판 제청권, 행정 재판권 등을 행사하여 입법부와 행정부를 견제함으로써 권력의 균형을 유지할 수 있다.

사법권의 독립을 위해서는 **법관의 신분상 독립** 역시 중요하다. 이를 위해 법관의 자격은 법률로 정하고 있으며, 법관은 탄핵 또는 금고 이상 형의 선고에 의하지 아니하고는 파면되지 않고 징계 처분에 의하지 아니하고는 정직, 감봉 및 기타 불리한 처분을 받지 않는다.

사법권 독립의 핵심은 **법관의 재판상 독립**이라고 볼 수 있다. 즉 법관은 헌법과 법률에 의하여 양심에 따라 독립하여 재판해야 하며, 재판을 진행할 때 다른 국가 기관이나 상급 법원은 물론 정당이나 사회단체, 언론 등으로부터 간섭 받지 않아야 한다.

법원은 최고 법원인 대법원과 각급 법원으로 조직된다. **대법원**은 사법부의 최고 기관으로서 대법원장과 대법관으로 구성되며, 이들은 대통령이 국회의 동의를 얻어 임명한다. 대법원의 주요 권한에는 위헌, 위법 명령 및 규칙, 처분에 대한 최종 심사권, 대통령 및 국회 의원에 대한 선거 소송 재판권 등이 있다.

대법원 아래에는 **고등 법원**이, 고등 법원 아래에는 **지방법원**과 그 지원이 설치되어 있으며, 이들은 일반적인 민사 및 형사 사건을 주로 다룬다. 이 밖에도 전문적 영역의 사건을 다루는 특수 법원으로 **가정 법원, 행정 법원, 특허 법원** 등이 있다.

법원은 공정한 재판을 실현하기 위해 사법권의 독립 외에도 재판 진행과 관련한 구체적 제도와 원칙을 두고 있다. 대표적인 제도로 심급 제도를 들 수 있다. **심급 제도**란 하급 법원의 판결이나 결정, 명령에 불복하는 경우 **상소**하여 상급 법원에서 재판을 받을 수 있도록 하는 제도로, 우리나라의 심급 제도는 원칙적으로 3심제로 운영된다. 1심 판결에 불복하여 2심 재판을 청구하는 것을 **항소**, 2심 판결에 불복하여 3심 재판을 청구하는 것을 **상고**라고 하며, 법원 판결 이외의 결정, 명령에 불복할 경우 **항고, 재항고**를 할 수 있다. 이와 같은 심급 제도는 법관이 잘못된 판결을 내릴 가능성을 최소화하고 공정한 재판을 실현하여 국민의 기본권을 보장하기 위한 것이다.

이 밖에도 재판의 심리와 판결을 원칙적으로 공개하는 **공개 재판주의**나, 사실을 확정할 때에는 증거에 입각하도록 하는 **중**

거 **재판주의** 역시 공정한 재판을 실현하기 위한 중요한 원칙이다.

우리나라에서 일반적인 사법 작용은 법원이 담당하지만, 헌법 관련 심판은 헌법 재판소가 별도로 담당한다. **헌법 재판소**는 헌법 해석과 관련한 분쟁을 해결하는 기관으로, 헌법을 수호하고 국민의 기본권을 보장하는 역할을 한다.

헌법 재판소는 법관의 자격을 가진 9명의 재판관으로 구성된다. 재판관 중 3명은 국회에서 선출하고 3명은 대통령이 지명하며 3명은 대법원장이 지명하는데, 이들에 대한 임명권은 대통령이 갖는다. 헌법 재판소장은 재판관 중 한 명이 맡는데, 대통령이 국회의 동의를 얻어 임명한다.

헌법 재판소에서 이루어지는 심판 중 대부분은 위헌 법률 심판과 헌법 소원 심판이다. **위헌 법률 심판**은 법원의 제청에 따라 재판의 전제가 되는 법률이 헌법에 위반되는지를 판단하는 심판이다. **헌법 소원 심판**은 헌법에 보장된 국민의 기본권이 공권력에 의하여 침해되었을 때 이를 구제하기 위한 심판으로, 권리 구제형 헌법 소원 심판과 위헌 심사형 헌법 소원 심판으로 나눌 수 있다.

이외에도 헌법 재판소는 국회에서 탄핵 소추된 공무원의 파면 여부를 심사하는 **탄핵 심판**, 정부의 제소에 따라 정당의 목적이나 활동이 민주적 기본 질서에 어긋나는지를 판단하여 정당의 해산을 결정하는 **위헌 정당 해산 심판**, 국가 기관 상호 간이나 국가 기관과 지방 자치 단체 간, 지방 자치 단체 상호 간의 권한과 의무에 대한 다툼을 심판하는 **권한 쟁의 심판**도 담당한다.

한 국가의 일을 중앙 정부가 모두 처리하게 되면 국가 안에 있는 각 지역의 특성을 제대로 고려하기 힘들 수 있다. 또한 국가 권력이 중앙 정부에만 집중되면 지역의 문제를 처리하는 과정에서 해당 지역 주민의 의사가 충실히 반영되기 어렵다.

따라서 일정한 지역을 기초로 하는 단체나 지역 주민이 중앙 정부로부터 자율성을 확보하고 해당 지역의 문제를 자신의 의사와 책임에 따라 자주적으로 처리하는 과정이 필요한데, 이를 **지방 자치**라고 한다. 지방 자치는 지역 주민이 중앙 정부로부터 상대적으로 독립된 자치 단체를 구성하는 일에서 출발하며, 이러한 단체가 해당 지역 주민의 의사에 따라 충실히 운영될 때 실현될 수 있다.

지방 자치는 단체 자치와 주민 자치로 구분된다. 중앙 정부로부터 상대적으로 독립된 지위의 지방 자치 단체가 그 지방의 문제를 자주적으로 처리하는 것을 **단체 자치**라 하고, 그 지방의 공공 문제를 주민 의사에 따라 처리하는 것을 **주민 자치**라 한다. 바람직한 지방 자치는 단체 자치와 주민 자치가 모두 시행될 때 실현될 수 있으며, 오늘날 우리나라를 포함한 대부분의 국가에서는 단체 자치와 주민 자치를 결합하여 시행하고 있다.

지방 자치는 다음과 같은 의미를 가진다. 첫째, 지방 자치는 **풀뿌리 민주주의의 실현**에 기여한다. 지역 주민은 정치, 사회, 교육, 문화 등 생활 주변에서 마주치는 다양한 영역의 문제를 자주적으로 해결하는 과정에서 민주주의의 경험을 쌓는 훈련을 할 수 있다. 이를 바탕으로 지방 자치는 해당 지역의 민주주의를 가져올 뿐만 아니라 국가 전체적인 수준에서의 민주주의 발전에도 밑거름이 된다.

둘째, 지방 자치는 근대 민주주의의 기본적 원리 중 하나인

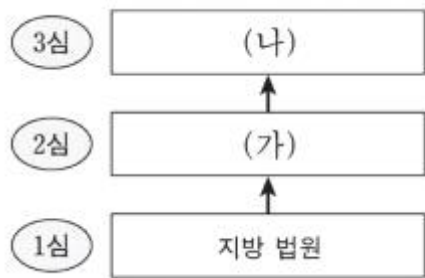
권력 분립 원리의 실현에 기여한다. 민주주의가 발전하기 위해서는 중앙 정부 내에서의 입법부, 행정부, 사법부 간 수평적 권력 분립 못지않게 중앙 정부와 지방 자치 단체 간의 수직적 권력 분립도 중요하다. 지방 자치는 정치권력이 중앙 정부에 지나치게 집중되는 것을 막고 이를 각 지방에 분산하여 수직적 권력 분립의 원리를 실현하는 데 이바지한다.

27. 우리나라 국가 기관 A~C에 대한 설명으로 옳은 것은?

절도죄 혐의로 공소 제기되어 징역 10월을 선고받은 갑은 항소하였고, 항소 법원인 A는 갑에게 형 감경 사유가 있다는 이유로 징역 8월을 선고하였다. 이후 상고한 갑은 상고심 계속 중 사건에 적용된 법률 조항에 대해 위헌 법률 심판 제청 신청을 하였으나 B는 이를 기각하였다. 이에 갑은 해당 법률 조항에 대해 C에 헌법 소원 심판을 청구하였다.

- ① A가 '지방 법원 합의부'라면 B는 '고등 법원'이다.
- ② B는 국회 의원 선거의 효력을 다투는 소송의 재판권을 가진다.
- ③ B의 장(長)은 C의 재판관 3인을 임명한다.
- ④ B는 직권으로 C에 헌법 소원 심판을 청구할 수 있다.
- ⑤ C는 A의 법관을 탄핵 소추할 수 있다.

28. 그림은 우리나라의 사법 제도를 나타낸 것이다. 이에 대한 설명으로 옳은 것은?



- ① 동일 사건에 대해 2심이 항소심이라면 3심은 항고심이다.
- ② (가)에서의 재판이 민사 재판이라면 국민 참여 재판으로 이루어질 수 있다.
- ③ (가)가 지방 법원이라면 (나)는 고등 법원이다.
- ④ (나)는 (가)와 달리 위헌·위법 명령에 대한 심사권을 가진다.
- ⑤ (가), (나)의 법관은 국회에 의해 탄핵 소추될 수 있다.

29. 다음 사례에 대한 옳은 분석만을 <보기>에서 고른 것은?

갑은 중과실에 의한 교통사고로 을에게 중상해를 입혔다. 을은 갑을 ○○법 위반죄로 고소하였으나, 검사는 △△특례법 조항에 따라 갑에 대하여 불기소 처분을 하였다. 이에 을은 해당 처분의 근거가 된 법률 조항이 평등권을 침해했을 뿐만 아니라 형사 재판 절차에서 자신의 피해에 대하여 의견 진술을 할 기회를 보장받을 수 있는 권리인 A도 침해하였다고 주장하면서 헌법 소원 심판을 청구하였다. 이에 대해 헌법 재판소는 △△특례법 조항은 중상해를 입은 피해자의 A행사가 근본적으로 봉쇄됨으로써 교통사고의 신속한 처리 또는 전과자 양산 방지라는 입법 목적을 위하여 피해자의 사익이 현저히 경시된 것으로 법률 조항의 해당 부분이 헌법에 위반된다고 판단하였다.

< 보 기 >

- ㄱ. 을은 검사의 불기소 처분을 대상으로 하여 헌법 소원 심판을 청구하였다.
- ㄴ. 을이 헌법 소원 심판을 청구하기 위해서는 △△특례법 조항의 위헌 여부가 재판의 전제가 되어야 한다.
- ㄷ. A는 국민이 국가에 대하여 적극적으로 특정한 행위를 요구할 수 있는 수단적 성격의 기본권에 해당한다.
- ㄹ. 헌법 재판소는 입법 목적과 그 목적을 달성하기 위한 수단이 적절한 비례 관계를 유지하고 있지 않다고 판단하였다.

- ① ㄱ, ㄴ ② ㄱ, ㄷ ③ ㄴ, ㄷ ④ ㄴ, ㄹ ⑤ ㄷ, ㄹ

8. 우리나라의 지방 자치

우리나라는 1948년 제헌 헌법에서부터 지방 자치 제도를 규정하였다. 지방 자치제 시행의 법률적 근거인 「지방 자치법」은 1949년에 제정되었고, 이에 따라 1952년 최초의 지방 의회가 주민의 직접 선거로 구성되었다. 하지만 지역 주민이 지방 자치 단체장을 직접 선출하는 것은 계속 미루어지다가 4·19 혁명 이후인 1960년에야 처음으로 모든 자치 단체장이 직선제로 선출되었다.

그러나 1961년 5·16 군사 정변으로 집권한 세력이 지방의 회를 폐지하고 지방 자치 단체장 임명제를 시행함으로써 지방 자치제는 오랫동안 형식적으로만 운영되었다. 이후 1991년 주민 선거를 통해 각급 지방 의회를 구성하면서 지방 자치가 부활하였으며, 1995년부터 지방 자치 단체장을 주민이 직접 선거로 선출함으로써 명실상부한 지방 자치 시대를 맞이하였다.

우리나라의 지방 자치 단체는 급별에 따라 광역 지방 자치 단체인 특별시, 광역시, 특별자치시, 도, 특별자치도와 기초 지방 자치 단체인 시·군·자치구로 구분되며, 각 급별로 지방 의회와 지방 자치 단체장을 두고 있다. 또한 교육의 자율성·전문성·독립성을 보장하기 위해 광역 지방 자치 단체에 교육 자치 관련 집행 기관인 교육감을 두고 있다.

지방 의회는 지역 주민이 직접 선출한 대표들로 구성된 주민의 대표 기관이자 지방 업무와 관련한 전반적인 사항을 심의하고 의결하는 최고 의사 결정 기관이다. 또한 지방 자치 단체장을 비롯한 집행 기관의 견제 및 감시 기관이기도하다.

이러한 지위와 관련하여 지방 의회는 자치 행정 운영에 관한 주요 사항을 결정하고 지방 행정이 제대로 수행되고 있는지를 감시·감독하는 역할을 한다. 구체적으로는 조례의 제정 및 개폐, 지방 자치 단체 예산의 심의 확정, 결산의 승인, 지방 행정 사무에 대한 감사와 조사 등을 할 수 있다.

지방 의회는 지역 주민이 직접 선출하는 임기 4년의 지방 의회 의원으로 구성되며, 지방 의회 의원은 지역구 의원과 비례 대표 의원으로 나뉜다. 내부 조직으로는 의장 및 부의장을 두고 있으며, 지방 의회 운영의 효율성과 전문성을 확보하기 위해 조례가 정하는 바에 따라 여러 위원회를 두고 있다.

지방 자치 단체장은 지방 자치 단체를 대표하는 집행 기관으로서 직원을 임명 및 감독하고 소속 행정 기관의 업무 처리 전반을 지휘한다.

지방 자치 단체장은 주민의 직접 선거로 선출되며, 임기는 4년이다. 지방 자치 단체장은 지역의 각종 행정 사무를 처리하는 역할을 하며, 지역 주민의 복리를 위해 법령 또는 조례가 위임한 범위 내에서 규칙을 제정할 수 있는 권한을 가진다. 또한 지방 의회의 의결에 대해 재의 요구권을 행사함으로써 지방 의회를 견제할 수 있는 권한 등도 가진다.

우리나라의 지방 자치는 본격적으로 시작된 지 20여 년밖에 되지 않았지만 그동안 많은 발전을 이루어 왔다. 주민 참여의 측면에서 지역 주민은 주민 공청회, 주민 간담회 등을 통해 자신의 의견을 지방 자치 단체에 전달할 수 있고, 주민 투표제나 주민 소환제, 주민 조례 제정 및 개폐 청구 제도, 주민 참여 예산 제도와 같이 지방 자치 행정에 직접 참여하여 지방 정책의 방향을 결정할 수 있는 다양한 수단을 가지게 되었다.

하지만 우리나라의 지방 자치가 더욱 발전하기 위해서는 다

음과 같은 문제를 해결할 필요가 있다.

먼저 중앙 정부에 대한 경제적 의존도가 높아 지방 자치 단체의 자율성이 제약되는 문제가 있다. 우리나라의 조세 체계는 지방세보다는 국세 중심이어서, 대부분의 지방 자치 단체는 독자적 재원이 부족해 중앙 정부의 경제적 지원에 크게 의존하는 경향이 있다. 그 결과 지방 자치 단체들이 중앙 정부의 요구에 제약되어 지역의 문제를 자율적으로 처리하기 어려울 수 있다.

또한 지방 자치의 발전을 위한 지역 주민의 적극적 참여가 부족하다는 문제도 있다. 이 경우 지방 자치 단체의 활동에 대한 지역 주민의 감시와 통제가 제대로 이루어지지 않아, 지방 행정이 주민의 의사와 어긋나게 운영될 수 있다.

한편 지방 자치가 시행되는 과정에서 지역 이기주의의 문제가 나타나기도 한다. 지역 주민이 사회 전체의 이익을 고려하지 않고 자기 지역의 이익만을 우선시하다 보면 사회적 갈등이 발생할 수 있다.

따라서 우리나라의 지방 자치가 더욱 발전하기 위해서는 우선 지방세의 비중을 높이는 등 조세 제도를 개선하고, 지역 정책을 자율적으로 수립하고 실행할 수 있도록 지방 의회 및 지방 자치 단체의 권한을 확대할 필요가 있다.

또한 지역 주민은 지방 자치의 실현이 자신의 삶을 개선하는 것은 물론 우리 나라 민주주의의 발전에 기여할 수 있음을 인식하고 지방 정치에 적극적으로 참여해야 한다. 지방 자치 단체장 및 지방 의회가 주민 의사에 따라 지역 사무를 처리하는지 지속적으로 감시하여 바람직한 자치 행정이 이루어질 수 있도록 노력하는 것도 중요하다.

이러한 노력과 더불어 지역 주민이 지역 이기주의에 빠지지 않고 사회 전체의 이익까지 함께 고려하는 태도를 지닐 때, 중앙 정부와 지방 자치 단체는 조화로운 관계 속에서 함께 발전할 수 있을 것이다.

30. 우리나라 헌법 기관 A~D에 대한 설명으로 옳은 것은?

A는 국가 기관 상호 간, 국가 기관과 지방 자치 단체 간 및 지방 자치 단체 상호 간의 권한 쟁의에 관한 심판 등을 관장한다. A는 법관의 자격을 가진 9인의 재판관으로 구성되며, 재판관은 B가 임명한다. A의 재판관 중 3인은 C에서 선출하는 자를, 3인은 D의 장(長)이 지명하는 자를 임명한다. 그리고 A의 장(長)은 C의 동의를 얻어 재판관 중에서 B가 임명한다.

- ① A는 위헌 법률 심판 제청권을 가진다.
- ② A는 위헌 정당 해산 제소권을 가진다.
- ③ B는 긴급 재정·경제 처분 및 명령권을 가진다.
- ④ C는 국가의 예산안을 편성하고 심의·확정한다.
- ⑤ D는 국정을 감사하거나 조사할 수 있는 권한을 가진다.

31. 밑줄 친 ㉠~㉣에 대한 설명으로 옳은 것은?

㉠ ○○시 청장년 일자리 보조금 지원 조례
 제1조 (목적) 이 조례는 ㉡ 고용정책 기본법에 따라 ○○시에
 주소를 둔 청장년을 정규직으로 신규 채용하는 관내
 기업에 청장년 일자리 보조금을 지원하는 데 필요한
 사항을 규정함을 목적으로 한다.
 (중략)
 제7조 (사후관리) 제1항 ㉢ ○○시장은 대상기업의 정규직
 신규 채용이 지속적으로 고용되는지 여부를 조사하여
 매년 10월 31일까지 ㉣ △△도지사에게 보고하여야
 한다.

- ① ㉠은 ○○시 주민 투표를 거쳐야 확정된다.
- ② ㉡에 대한 개정 및 폐지 권한은 △△도 의회가 가진다.
- ③ ㉢은 ○○시의 예산을 심의·확정한다.
- ④ ㉣은 ㉢과 달리 주민 소환의 대상이 된다.
- ⑤ ㉢과 ㉣은 모두 지방 자치 단체의 집행 기관이다.

32. 우리나라 지방 자치 단체의 기관 A, B에 대한 설명으로 옳은 것은?

□□군 주민들은 노인 복지를 증진하는 내용을 담은
 ‘○○ 조례안’을 적법한 요건을 갖춰 A에게 제출함으로써
 조례 제정을 청구하였다. A는 주민이 청구한 조례안을 B에
 부의하였다. B는 조례안을 심의·의결하였고, 의결된
 조례안은 A에게 이송되었다.

- ① A는 지방 자치 단체 예산의 심의·확정권을 갖는다.
- ② B는 집행 기관으로서 법령의 범위 안에서 제정한 조례를 집행한다.
- ③ B의 장(長)은 지방 자치 단체를 대표하고 행정 사무를 총괄한다.
- ④ A와 B 간에 수직적 권력 분립이 나타난다.
- ⑤ B는 지방 자치 단체의 사무에 관한 감사·조사권으로 A를 견제할 수 있다.

9. 정치 과정과 정치 참여

우리 사회에는 사회 구성원 간의 다양한 가치와 이해관계를 둘러싼 의견 대립과 갈등이 존재한다. 이처럼 다양한 가치와 이해관계가 걸린 쟁점이나 문제에 대한 국민의 요구나 지지가 정책 결정 기구에 투입되어 정책으로 산출되고 이 정책이 국민에게 평가받는 환류 과정, 즉 투입과 산출, 환류가 이루어지는 일련의 과정을 정치 과정이라고 한다.

시민은 다양한 방법을 통해 정치 과정에서 자신의 요구를 표출하고 이를 정책에 반영하려고 한다. 이처럼 시민이 정치에 관심을 가지고 정치 과정에 영향력을 행사하려는 모든 활동을 정치 참여라고 한다.

대의 민주제에서 시민의 적극적인 정치 참여는 정치권력의 행사나 정부의 정책 결정에 정당성을 부여한다. 또한 이미 결정되어 시행하고 있는 정책이라 하더라도, 시민의 참여에 의한 환류를 통해 의회나 정부가 정책을 더 나은 방향으로 수정하도록 할 수 있다. 이 밖에도 시민은 정치 참여를 통해 공익에 관한 관심과 정치적 책임 의식을 높일 수 있고, 자신의 요구를 정책에 반영시킴으로써 정치적 효능감도 높일 수 있다.

대의 민주제에서 가장 기본적인 시민의 정치 참여 방법은 선거에 참여하는 것이다. 시민은 선거 과정에서 후보자가 내놓은 공약을 지지하거나 반대하는 등 자신의 정치적 견해를 표출하고, 자신의 의사를 가장 잘 대변해 줄 수 있는 후보자를 선택하여 투표한다. 또한 자신이 지지하는 후보를 위해 선거 운동을 하거나, 후보자로 직접 출마함으로써 선거에 참여할 수도 있다.

선거 외에도 시민은 자신이 추구하는 가치나 이해관계에 부합하는 단체를 지지, 후원하거나 해당 단체에서 활동하는 등의 방법을 통해 지속적으로 정치에 참여할 수 있다. 예를 들어 정당에 가입하여 활동함으로써 자신의 정치적 의사를 표출할 수 있으며, 이익 집단에 가입하여 특수 이익의 실현을 추구하고 해당 집단의 전문 지식과 정보를 공유할 수도 있다. 또한 시민 단체의 회원으로 가입하거나 시민 단체가 주관하는 행사에 참여하여 정부의 정책 결정에 영향력을 행사할 수도 있다.

이 밖에도 시민의 정치 참여 방법으로 독자 투고를 통해 자신의 의견을 언론사에 전달하거나 공직자와 접촉하여 문제 해결을 요구하는 방법, 특정 문제에 관한 자신의 견해를 해당 부처에 청원하는 방법, 자신이 지지하는 집회나 시위에 참여하는 방법, 각종 단체나 정부에서 주최하는 공청회나 간담회, 토론회에 참여하는 방법 등이 있다.

이와 같은 시민의 다양한 정치 참여는 오늘날 정보 통신 기술이 발달하면서 전자 민주주의를 통해 더욱 활발히 실현되고 있다. 시민은 인터넷을 통해 자신의 의견을 정부나 언론 등에 언제 어디서든 자유롭게 제시할 수 있고, 가상 공간에서 특정 사안에 대한 여론을 형성하여 정책 결정자에게 영향력을 행사하기도 한다.

현대 민주 정치의 성패는 시민의 정치 참여가 얼마나 바람직하고 활발히 이루어지는지에 달려 있다. 따라서 시민은 다음과 같은 정치 참여 태도를 지니도록 노력해야 한다.

첫째, 정치 과정에 관심을 기울이고 자발적·능동적으로 참여하려는 태도를 지녀야 한다. 정치적 무관심은 정치권력의 부정부패와 국민의 의사에 반하는 정책으로 이어져 민주 정치의

위기를 초래할 수 있다.

둘째, 자신과 견해가 다른 타인을 존중하고 이해하려는 태도를 가져야 한다. 다양한 이해관계가 대립하는 현대 사회에서 각자 사적 이익만을 우선시하면 갈등을 원만하게 해결하기 어렵다. 따라서 자신의 이익 못지않게 다른 사람의 이익을 존중하려는 태도가 필요하다.

셋째, 합법적이고 민주적인 절차를 존중하는 태도를 지녀야 한다. 폭력과 같은 비민주적인 방법을 통해 자신의 이익을 관철하려는 태도는 오히려 사회적 혼란과 갈등을 키워 정치 발전을 저해할 수 있다.

33. 밑줄 친 ㉠~㉣에 대한 설명으로 옳은 것은?

정치 과정은 사회 구성원의 요구와 지지가 ㉠ 정책 결정 기구에 ㉡ 투입되어 정책으로 형성·조정·집행되는 ㉢ 산출의 과정을 거친다. 그러나 모두가 만족하는 정책의 산출은 현실적으로 어려우므로 ㉣ 환류 과정을 통해 기존의 정책이 수정·보완되거나 국민의 요구가 재투입되기도 한다.

- ① 입법부는 ㉠에 해당한다.
- ② 집단과 달리 개인은 ㉡에 참여할 수 없다.
- ③ 시민의 입법 청원 활동은 ㉢의 사례에 해당한다.
- ④ 언론은 ㉣에 참여할 수 없다.
- ⑤ ㉠~㉣은 모두 정치 외적 요소인 경제, 사회, 문화의 영향을 받지 않는다.

34. 밑줄 친 ㉠~㉣에 대한 설명으로 옳지 않은 것은?

어떤 정치학자에 의하면 정치 체계는 국민의 요구와 지지가 ㉠ 정책 결정 기구로 전달되는 ㉡ 투입, 요구와 지지가 정책 결정 기구에 들어가 공공 정책으로 전환되어 나오는 ㉢ 산출, 산출이 투입에 다시 영향을 미치는 ㉣ 환류의 과정으로 이루어진다. 그리고 이러한 과정은 정치 체계를 둘러싼 제반 환경과 영향을 주고받는다.

- ① 입법부와 행정부는 ㉠의 대표적인 예이다.
- ② 시민의 입법 청원 활동은 ㉡의 예이다.
- ③ 언론이 일정한 방향으로 여론을 형성하는 것은 ㉢의 예이다.
- ④ 민주주의 국가에서는 전체주의 국가에서보다 ㉣이 활발하게 나타난다.
- ⑤ 정책 집행 결과에 대한 평가가 이루어지고 그에 따른 정책 수정의 필요성 여부가 제기되는 과정은 ㉣에 해당한다.

10. 선거와 선거 제도

오늘날 대의 민주제 국가에서는 국민이 국가의 모든 일을 직접 결정하지 않고 자신을 대신할 대표자를 뽑아 국가를 운영한다. 이처럼 주권자인 국민이 그들을 대표하여 국가를 운영할 공직자를 투표로 선출하는 행위를 선거라고 한다.

선거는 대의 민주제에서 국민이 주권을 행사하는 가장 중요한 수단이며, 민주 정치의 성공 여부를 결정하는 척도가 된다. 그래서 민주 국가에서는 공정한 선거가 이루어질 수 있도록 보통 선거, 평등 선거, 직접 선거, 비밀 선거를 내용으로 하는 선거의 4원칙을 채택하고 있다.

민주 정치 과정에서 선거는 다양한 기능을 수행한다. 우선 선거는 국민을 대신하여 국정을 수행할 대표자를 선출하며, 선출된 대표자가 정치권력을 획득하고 행사하는 데 민주적 정당성을 부여한다.

또한 선거는 대표자를 정치적으로 통제하는 기능을 한다. 대표자의 업무 수행이 국민의 의사에 어긋난다고 판단되면 국민은 다음 선거에서 정치적 책임을 물어 대표자를 교체할 수 있다.

그리고 선거는 국민의 의사를 반영하는 기능을 한다. 선거 과정에서 후보자들이 제시하는 공약에 대해 국민의 다양한 의사나 요구가 표출되고, 선출된 대표는 이를 정책에 반영하기 때문이다.

선거구란 국민의 대표를 선출하기 위해劃정한 일정한 지역적 단위로, 한 선거구에서 몇 명의 대표자를 선출하느냐에 따라 소선거구제와 중, 대 선거구제로 나뉜다.

소선거구제는 한 개의 선거구에서 한 명의 대표자를 선출하는 제도이다. 소선거구제에서는 유권자가 후보자를 파악하기 쉽고 선거 관리가 용이하다. 또한 주요 정당 중심으로 경쟁이 이루어지기 때문에 다수당의 출현 가능성이 커 정국 안정에 유리하다. 그러나 여러 후보자 중 한 명만 당선되므로 투표가 과다하게 발생할 수 있고, 정당 득표율과 의석률의 격차가 커져 유권자의 의사를 제대로 반영하지 못할 수 있다.

중, 대선거구제는 한 개의 선거구에서 두 명 이상의 대표자를 선출하는 제도이다. 중, 대선거구제에서는 소선거구제에 비해 상대적으로 사표가 적게 발생하고, 군소 정당의 의회 진출 가능성이 커 국민의 다양한 의사를 반영할 수 있다. 또한 하나의 선거구에서 다수의 후보자가 당선될 수 있어 선거 과열을 줄일 수 있다. 그러나 소선거구제에 비해 선거구당 후보자가 많아 유권자가 후보자를 제대로 파악하기 어려울 수 있고, 군소 정당이 난립할 가능성이 커 정국이 불안정해질 우려도 있다.

선거를 통한 대표 결정 방식은 다수 대표제, 비례 대표제 등으로 나눌 수 있다.

다수 대표제는 여러 후보자 중에서 다수의 득표를 한 후보자를 당선자로 결정하는 방식으로, 다수결의 원리에 바탕을 두고 있는 고전적인 대표 결정 방식이다.

다수 대표제는 상대 다수 대표제와 절대 다수 대표제로 구분할 수 있다. 상대 다수 대표제는 가장 많은 표를 얻은 후보자 또는 득표한 순서에 따라 일정 수의 후보자를 당선자로 결정하는 방식으로, 당선자 결정 방식이 쉽고 간편하지만 절대 다수 대표제에 비해 당선자의 대표성이 낮을 수 있다. 반면 절

대 다수 대표제는 후보자가 당선되기 위해 유효표의 일정 비율을 획득해야 하는 방식으로, 결선 투표제가 대표적이다. 절대 다수 대표제는 상대 다수 대표제에 비해 당선자의 대표성을 높일 수 있다는 장점이 있지만, 선거 운영이 복잡하고 선거 비용이 많이 든다는 단점이 있다.

비례 대표제는 정당이 획득한 득표율에 따라 의석을 배분하고 당선자를 결정하는 방식으로, 정당 제도의 발달과 더불어 20세기에 들어와 시작되었다. 비례 대표제는 정당 득표율과 의석률의 격차를 줄이고 사표 발생을 최소화하여 국민의 다양한 의사가 반영되도록 하며, 소수당의 의회 진출 가능성을 높일 수 있다는 장점이 있다. 하지만 군소 정당의 난립으로 정국이 불안정해질 우려가 있고 의석 배분 방식이 복잡하다는 단점이 있다.

오늘날에는 다수 대표제와 비례 대표제가 갖는 단점을 보완하고 장점을 절충하기 위하여 국가에 따라 다수 대표제와 비례 대표제를 혼합하는 혼합제를 채택하기도 한다.

우리나라에서 실시하는 공직 선거는 크게 대통령 선거, 국회의원 선거, 지방 선거로 구분된다. 대통령 선거는 5년마다 치러지며, 전국을 단위로 하는 상대 다수 대표제를 채택하고 있다.

4년마다 치러지는 국회의원 선거에서는 국민의 1인 2표 행사를 통해 지역구 의원과 비례 대표 의원이 선출된다. 지역구 국회의원은 소선거구제와 상대 다수 대표제로, 비례 대표 국회의원은 취당 명부식 비례 대표제로 선출된다.

지방 선거에서는 광역 자치 단체장과 기초 자치 단체장, 광역 의회 의원과 기초 의회 의원 등을 선출한다. 광역 및 기초 자치 단체장 선거는 상대 다수 대표제를 채택하고 있으며, 광역 및 기초 의회 의원 선거는 1인 2표 행사를 통해 지역구 의원과 비례 대표 의원을 각각 선출한다. 이때 지역구 광역 의회 의원은 소선거구 상대 다수 대표제로 선출되는 반면, 지역구 기초 의회 의원은 중선거구 상대 다수 대표제로 선출되는 것이 특징이다.

우리나라는 공정 선거가 이루어지도록 선거구 법정주의를 채택하고 선거 공영제를 시행하며 선거 관리 위원회를 운영하는 등 다양한 제도를 두고 있다.

선거구 획정은 선거 결과에 큰 영향을 끼치므로 공정 선거를 위해서는 특정 정당이나 후보자가 선거구를 자의적으로 획정하는 것을 방지해야 한다. 이를 위해 우리나라는 선거구를 법률로 정하는 선거구 법정주의를 채택하고 있다.

또한 우리나라는 선거 과정을 국가 기관이 관리하고 국가나 지방 자치 단체가 선거 비용 일부를 부담하는 선거 공영제를 시행하고 있다. 이는 선거가 과열되는 것을 막고 재력이 부족한 사람에게도 후보자로 나설 기회를 보장하는 한편, 후보자 간의 선거 운동 기회를 균등하게 보장함으로써 공정 선거를 실현하기 위한 제도이다.

이 밖에도 우리나라는 각종 선거와 국민 투표의 공정한 관리, 정당 및 정치 자금의 투명한 관리 사무를 처리하기 위하여 헌법상 독립 기관인 선거 관리 위원회를 설치하여 운영하고 있다.

우리나라는 다양한 선거 제도를 통해 국민의 의사를 충실히 반영하고 공정선거를 실현할 수 있도록 노력해 왔지만, 선거

제도의 시행에서 몇 가지 문제점이 나타나고 있다. 대표적으로 대통령 선거나 국회의원 선거 등 대부분의 선거에서 소선거구제 및 상대 다수 대표제를 채택함에 따라 사표가 많이 발생하고 당선자의 대표성이 낮아질 수 있다는 문제가 제기되고 있다.

또한 지방 선거에서 여러 개의 선거를 동시에 치름으로써 주민들이 짧은 선거 기간에 후보자에 대한 정확한 정보를 알기 어려워 선거의 관심도가 떨어지는 문제도 나타나고 있다.

위와 같은 문제점을 해결하기 위해 우리나라는 사표를 줄이고 당선자의 대표성을 높일 수 있도록 선거구제를 개편하는 방안을 논의하고 있다. 동시에 선거에 대한 국민의 관심을 높일 수 있는 다양한 제도를 모색하고 있다.

한편 과거 우리나라는 관권 선거나 금권 선거 등으로 선거의 공정성이 훼손되는 사례가 있었으나, 오늘날에는 시민 의식이 성장하고 정책 기반 선거를 실현하려는 국민의 노력이 이루어지면서 공명선거 문화가 정착되고 있다.

35. 다음 자료에 대한 옳은 분석 및 추론을 <보기>에서 고른 것은?

전형적인 의원 내각제를 채택하고 있는 갑국의 의회 의원은 100명이며, 단순 다수제로 선출된 지역구 의원 80명과 정당별 득표율에 따라 결정된 비례 대표 의원 20명으로 구성된다. 표는 시기별 갑국의 의회 의원 선거 결과를 나타낸다.

<t대>						<t+1대>					
구분	A당	B당	C당	D당	합계	구분	A당	B당	C당	D당	합계
지역구 당선인수 (명)	9	20	21	30	80	지역구 당선인수 (명)	1	32	1	46	80
정당 득표율 (%)	80	20	0	0	100	정당 득표율 (%)	0	50	5	45	100

* 비례 대표 선거에서 모든 정당은 득표율에 따라 의석을 할당받을 수 있음.

< 보 기 >

- ㉠. t대는 t+1대에 비해 다수당의 횡포 가능성이 높았을 것이다.
- ㉡. t+1대는 t대에 비해 국정 운영에 대한 정치적 책임의 소재가 명확할 것이다.
- ㉢. t대 정당 제도에서는 t+1대에 비해 정국이 불안정해질 가능성이 높다.
- ㉣. t+1대 정당 제도에서는 t대에 비해 국민의 다양한 의견이 정책 결정 과정에 투입될 가능성이 높다.

- ① ㉠, ㉡ ② ㉠, ㉢ ③ ㉡, ㉣ ④ ㉡, ㉣ ⑤ ㉢, ㉣

36. 다음 자료에 대한 옳은 분석만을 <보기>에서 있는 대로 고른 것은?

갑국의 의회는 지역구 의원 선거에서 선출된 200명과 비례 대표 의원 선거에서 선출된 100명으로 구성된다. 지역구 의원 선거의 대표 결정 방식은 1인을 선출하는 단순 다수 대표제이며, 비례 대표 의원 선거에서는 전국을 하나의 선거구로 하여, 정당 명부식 비례 대표제로 당선자를 결정한다. 유권자 1인은 지역구 의원 선거와 비례 대표 의원 선거에 각 1표씩 2표를 행사한다. 갑국에서는 의회 의원 선거 직후 의회 과반수를 확보한 단독 정당이 행정부 수반을 배출한다. 단독 과반수 정당이 없는 경우 복수의 정당이 연합하여 행정부 수반을 배출한다. 아래 표는 최근 실시된 갑국의 의회 의원 선거 결과이다.

<지역구 의원 선거>			<비례 대표 의원 선거>		
구분	득표율(%)	의석률(%)	구분	득표율(%)	의석률(%)
A당	50	45	A당	33	33
B당	15	20	B당	26	26
C당	25	20	C당	35	35
D당	10	15	D당	6	6

* 정당은 A~D당만 존재하고 무소속 출마자는 없으며, 각 선거의 투표율은 100%, 무효표는 없다.
 ** 지역구 의원 선거의 득표율은 각 정당이 전국 모든 지역구 선거구에서 얻은 표를 총투표자 수 대비로 구한 비율이다.

— < 보 기 > —

ㄱ. 지역구 의원 선거에서 득표율 20% 미만인 정당은 과대 대표되었다.
 ㄴ. 행정부 수반을 배출하는 정당의 연합에는 A당이 반드시 포함된다.
 ㄷ. 지역구 의원 선거 득표율과 총의석률의 격차가 가장 작은 정당은 C당이다.
 ㄹ. A당과 D당의 총의석률의 합은 B당과 C당의 총의석률의 합보다 크다.

- ① ㄱ, ㄷ ② ㄴ, ㄷ ③ ㄴ, ㄹ
 ④ ㄱ, ㄴ, ㄹ ⑤ ㄱ, ㄷ, ㄹ

11. 정당

정당은 정치적 견해를 같이하는 사람들이 정권을 획득하여 자신들의 정강을 실현하기 위해 조직한 단체이다. 정당은 공익을 도모하는 공약을 제시하여 국민의 선택을 받고자하고, 국민의 선택을 받은 정당은 이를 정책으로 추진한다. 그리고 다음 선거에서 이에 대한 국민의 평가를 받는 등 자신의 활동에 정치적 책임을 진다. 이처럼 정당은 국민의 의사를 정부 정책으로 연결하는 가장 중요한 정치 조직이기 때문에 현대 정치를 정당 정치라고 부르기도 한다.

대의 민주제에서 정당은 다양한 기능을 수행한다. 첫째, 정치적 충원 기능을 담당한다. 정당은 각종 선거에 후보자를 공천하고 선거에서 유권자의 지지를 얻음으로써 대표자를 배출한다.

둘째, 국민 여론을 형성하고 조직화한다. 정당은 국민의 지지를 얻기 위해 국민의 다양한 요구와 이해를 집약하여 여론을 형성하고, 이를 조직화하여 정부에 전달하는 등 정책 결정 과정에 적극적으로 참여한다.

셋째, 정치 사회화 기능을 한다. 정당은 특정 쟁점에 대한 당의 견해 표명, 강연회, 정책 홍보, 당원 교육 등을 통하여 국민에게 정보를 제공함으로써 국민이 정치에 관심을 가지고 능동적으로 참여할 수 있도록 한다.

이 밖에도 정당은 당정 협의회 등을 통해 정부와 의회를 매개하거나 정부 정책을 비판, 감시하는 기능 등을 수행한다.

정당 제도는 일반적으로 정권을 획득할 가능성이 있는 정당의 수에 따라 일당제와 복수 정당제로 구분할 수 있다.

일당제는 정당이 하나만 존재하거나 특정 정당이 계속해서 장기간 집권하는 정당 체제를 의미한다. 일당제 아래에서는 독재 정치가 나타날 가능성이 크며, 국민의 다양한 의사가 정치 과정에 반영되기 어렵다.

두 개 이상의 정당이 정권을 획득하기 위해 경쟁하는 복수 정당제는 양당제와 다당제로 나눌 수 있다. 양당제는 실질적으로 정권을 잡을 가능성이 있는 두 개의 정당이 정권을 획득하기 위해 경쟁하는 경우로, 정치적 책임 소재가 분명해 책임 정치를 확립할 수 있으며 정국이 비교적 안정된다는 장점이 있다. 그러나 유권자의 정당 선택 범위가 좁고 과반수 의석을 차지한 정당의 횡포가 우려된다는 단점도 있다.

다당제는 세 개 이상의 주요 정당이 정권 획득을 위해 경쟁하는 경우로, 유권자의 정당 선택 범위가 넓어 국민의 다양한 의사가 반영될 수 있으며 정당 간 대립이 발생할 때 중재가 비교적 쉽다는 장점이 있다. 그러나 과반수 정당의 출현 가능성이 작아 강력한 정책 추진이 어려울 수 있고 정치적 책임 소재가 불분명하다는 단점도 있다.

오늘날 시민은 정당을 통해 다양하게 정치에 참여할 수 있다. 우선 정당에 직접 가입하여 당원으로서 권리와 의무를 지니고 각종 정당 활동에 참여할 수 있다. 일반적으로 당원이 되면 당 대표 또는 당 지도부를 선출하는 당직 선거권, 당의 정책 입안이나 의사 결정에 참여할 권리 등을 가지는 한편, 당의 강령과 기본 정책을 따르고 당헌, 당규를 준수하며 당비를 납부할 의무 등을 진다. 또한 정당에 가입하지 않더라도 정당에서 주최하는 행사나 집회에 참여하거나 정당에 소속된 정치인과 다양한 경로를 통해 접촉할 수 있으며, 정당의 선거 운동에

참여하여 자신의 정치적 견해를 밝힐 수도 있다.

하지만 오늘날 정당을 통한 시민의 정치 참여를 가로막는 몇 가지 문제점이 나타나고 있다. 우선 정당 조직의 규모가 거대해지면서 소수의 당 지도층이 정당의 의사 결정을 좌우하는 경향이 나타나고 있다. 정당이 비민주적으로 운영되면 당 내부의 의사 결정 과정이나 공천 과정에서 일반 당원의 의사가 제대로 반영되기 어렵다.

한편 우리나라의 경우 정당이 특정 인물이나 지역을 중심으로 이합집산하는 경향도 나타나고 있다. 정당이 정책이 아니라 인물이나 지역에 따라 좌우될 경우, 국민의 요구를 수렴해 정책으로 연결하는 정당 본연의 기능을 제대로 발휘할 수 없다.

따라서 바람직한 정당 정치를 실현하고 시민의 적극적인 참여를 활성화하기 위해서는 정당 내부에서 일반 당원의 의사가 잘 반영될 수 있도록 상향식 의사 결정 구조를 확립해 당내 민주주의를 실현해야 한다. 아울러 각 정당이 이념과 비전을 갖춘 정책 중심의 정당으로 변화하려는 노력을 기울여야 한다.

37. 다음 자료에 대한 설명으로 옳지 않은 것은?

정당은 정치적 견해를 같이하는 사람들이 (가) 을/를 주된 목적으로 조직한 단체이다. 정당은 대중 집회, 공청회 등을 통해 공동체 문제에 대한 ㉠ 국민의 관심을 환기하고, 유권자의 ㉡ 다양한 이해관계를 집약·표출한다. 또한 정당은 선거에서 ㉢ 정치적 충원을 통해 지지를 획득함으로써 국민의 대표자를 배출한다. 정당은 ㉣ 정부와 의회 사이를 매개하는 기능을 하거나 ㉤ 정부에 대한 비판 및 견제 기능을 수행한다.

- ① (가)는 이익 집단과 구별되는 정당의 특징이다.
- ② 정당은 ㉠과 같은 활동을 통해 정치 사회화 기능을 수행한다.
- ③ ㉡은 정당의 여론 형성과 조직화 기능에 해당한다.
- ④ 정당은 후보자 공천을 통해 ㉢의 기능을 수행한다.
- ⑤ 국정 조사 요구는 ㉤보다 ㉣의 성격이 강하다.

38. 다음 자료는 어느 정당의 개정 전·후 당헌을 비교한 것이다. 밑줄 친 ㉠~㉣에 대한 추론으로 가장 적절한 것은?

개정 전 당헌	개정 후 당헌
제 ○○조(국회의원 지역구 선거 후보 선정) ㉠ 중앙당 최고 위원회에서 후보를 선정한다. 다만, 중앙당 최고 위원회가 결정하지 못한 경우 당대표가 후보를 선정한다.	제 ○○조(국회의원 지역구 선거 후보 선정) ㉡ 대의원 투표와 일반 당원 투표 결과를 50%씩 반영해 후보를 선정한다. 다만, 필요한 경우 지역구의 일반 유권자들을 대상으로 한 ㉢ 무작위 여론조사 결과를 100% 반영해 후보를 선정할 수 있다.

- ① ㉠보다 ㉡에서 후보 선출 과정이 더 폐쇄적일 것이다.
- ② ㉠보다 ㉢에서 당 지도부가 영향력을 행사하기 용이할 것이다.
- ③ ㉠보다 ㉢에서 유권자 지지가 낮은 후보를 선정하게 될 것이다.
- ④ ㉡보다 ㉠이 당원 전체의 의사를 반영하기 용이할 것이다.
- ⑤ ㉢보다 ㉡이 정당의 이념적 정체성을 유지하기 용이할 것이다.

39. 표에 대한 옳은 분석 및 추론을 <보기>에서 고른 것은?

<갑국의 의회 의원 선거 결과>

구분	t 대				t+1 대			
	A	B	...	합계	A	B	...	합계
정당								
의석률(%)	30	31	...	100	52	43	...	100

* t 대와 t+1 대에서 의석을 차지한 정당의 수는 각각 4개이며, 무소속 의원은 없음.
** 갑국은 전형적인 의원 내각제를 채택하고 있음.

< 보 기 >

- ㄱ. t 대는 t+1 대에 비해 정국이 안정적으로 운영되었을 가능성이 높다.
- ㄴ. t+1 대는 t 대에 비해 정당의 정치적 책임 소재가 명확할 것이다.
- ㄷ. t+1 대는 t 대에 비해 국민의 다양한 의사가 정책에 반영될 기회가 많아질 것이다.
- ㄹ. t 대에서는 t+1 대와 달리 연립 내각을 구성하는 것이 필요했을 것이다.

- ① ㄱ, ㄴ ② ㄱ, ㄷ ③ ㄴ, ㄷ ④ ㄴ, ㄹ ⑤ ㄷ, ㄹ

12. 이익 집단과 시민 단체, 언론

이익 집단이란 특정한 이해관계나 목표를 같이하는 사람들이 자신의 특수 이익을 실현하기 위해 결성한 집단을 말한다. 같은 직업에 종사하는 사람들이 자신의 직업적 이익을 실현하기 위해 만든 노동자 단체, 기업가 단체 등이 대표적인 이익 집단이다.

현대 사회는 사회적 분업과 전문화가 이루어지면서 직업적 이익이 세분되고 다양해졌다. 그런데 의회나 정당만으로는 이처럼 다양하고 세분된 직업적 이익을 충실히 수렴하여 정책에 반영하는 일이 쉽지 않다. 이익 집단은 특정한 이해 관계를 지닌 시민의 이익이 정치 과정에 반영되도록 노력함으로써 이러한 한계를 보완한다.

이익 집단은 다음과 같은 기능을 수행한다. 우선 국민의 다양한 정치적 의사를 표출하고, 특정 분야의 전문성을 바탕으로 정책 결정자에게 전문적인 정보를 제공함으로써 지역 대표제나 기존 정당의 부족한 점을 보완하는 기능을 수행한다. 또한 구성원에게 집단 이익과 관련된 정보를 제공하고 참여 의식을 증진하는 정치 사회화 기능을 수행한다. 이 밖에도 이익 집단은 정부의 정책 결정 및 집행을 비판하고 감시하는 기능을 한다.

이익 집단은 여론을 형성하고 정책 결정 과정에 영향력을 행사한다는 점에서 정당과 공통점을 가진다. 그러나 정당이 광범위한 분야에 걸쳐 공익을 추구하고 이에 대한 정치적 책임을 지는 반면, 이익 집단은 자기 집단의 특수 이익을 추구하고 이에 대한 정치적 책임을 지지 않는다는 점에서 차이가 있다.

이익 집단은 자신의 이익을 실현하는 정책 결정을 유도하기 위해 다양한 활동을 한다. 구체적으로 대중 매체를 통한 홍보 활동, 합법적인 기부금 제공, 시위, 파업 등의 활동을 하는데, 시민은 이러한 활동에 참여함으로써 정치 과정에 자신의 의견을 적극적으로 표출하고 영향력을 행사할 수 있다.

그러나 특수 이익을 실현하려는 이익 집단의 활동이 지나치면 사회 전체의 보편적 이익과 충돌할 우려가 있고, 심지어는 정치권력과 결탁하여 부정부패를 초래할 수도 있다. 또한 서로 다른 이익 집단이 경쟁적으로 압력을 행사할 경우 정부의 정책 결정을 지연하고 사회 안정을 저해할 우려가 있다.

따라서 시민은 이익 집단의 활동에 활발히 참여하여 자신의 의견을 적극적으로 표출하면서도, 이러한 참여가 자칫 집단 이기주의로 변질되지 않도록 주의해야 한다.

시민 단체는 공공의 이익을 실현하기 위해 시민이 자발적으로 참여하여 만든 비영리 단체이다. 환경 단체, 인권 단체, 소비자 단체 등은 공익을 위해 활동하는 대표적인 시민 단체이다.

과거 시민 단체의 주된 관심 영역은 정치, 경제 영역이었다. 그러나 오늘날에는 시민의 요구가 다양해지면서 시민 단체의 활동 범위가 환경, 소비자, 문화 등의 영역으로 더욱 확장되고 있다. 이와 같은 시민 단체의 활성화는 오늘날 한 사회의 민주주의와 사회 발전을 가늠하는 척도가 된다.

시민 단체는 정책 결정 과정에서 발생할 수 있는 사회 문제를 사회적 관심사로 부각하고 여론을 형성하여 정책 결정자에게 이를 고려하도록 한다. 또한 정부 정책을 감시, 비판하고 다양한 사회 문제의 대안이나 해결책을 마련하여 제시한다. 이 밖

에 다양한 사회 문제에 관한 정보를 선별하여 사회 구성원에게 제공함으로써 사회 구성원의 정치 참여를 유도하는 정치 사회화 기능도 한다.

시민 단체는 정치 과정에서 여론을 형성하고 시민의 이익을 표출하는 투입 기능을 수행한다는 점에서 이익 집단과 공통점을 가진다. 그러나 이익 집단이 특수 이익을 추구하는 반면 시민 단체는 사회 전체의 이익, 즉 공익을 추구한다는 점에서 차이가 있다.

시민 단체는 공익을 실현하기 위해 다양한 활동을 한다. 구체적으로 사회적 쟁점에 관한 시민의 의견을 모으기 위해 토론회나 공청회를 열고, 기자 회견 및 보도 자료를 낸다. 또한 관련 공직자를 면담하거나 관련 기관에 의견을 제출하고, 서명 운동이나 캠페인 활동을 하기도 한다.

그러나 우리나라 시민 단체의 경우 다음과 같은 문제점을 드러내기도 한다. 우선 시민 단체에 대한 시민의 참여도가 낮은 편이고, 시민이 회원으로 참여하더라도 회비를 내는 데 그치는 경우가 많다. 또한 소수 활동가가 내부의 의사 결정을 주도하고 일반 회원의 의사 결정 참여 기회가 제한되는 등 시민 단체가 관료화되어 가는 현상을 보이기도 한다. 이 밖에도 시민 단체의 운영 자금이 정부 지원금이나 외부 후원에 의존함으로써 시민 단체의 자율성이 훼손되고 정부와 기업을 제대로 감시하지 못하는 현상도 나타나고 있다.

이러한 문제를 해결하기 위해 시민은 시민 단체의 활동에 적극적으로 참여하여 시민 단체의 의사 결정 구조를 민주화하려는 노력을 기울여야 한다. 동시에 시민 단체는 꾸준한 회원 확충을 통해 회원 회비 중심의 재정 자립을 실현함으로써 자율성을 확보하려는 노력이 필요하다.

언론은 신문이나 텔레비전, 인터넷 등을 통하여 사실을 알리거나 어떤 문제에 대하여 여론을 만들어 나가는 활동을 의미한다. 한 사회에서 민주주의가 실현되려면 다양한 사상이나 의견이 자유롭게 교환되고 이에 대한 비판과 토론이 활발히 이루어져야 하는데, 이는 언론이 존재할 때 가능하다. 즉 언론은 민주주의가 올바르게 작동하기 위해 꼭 필요한 요소이다. 그래서 우리나라 헌법 제21조 제1항은 “모든 국민은 언론, 출판의 자유와 집회, 결사의 자유를 가진다.”라고 하여 언론의 자유를 보장하고 있다.

언론은 사회에서 일어나는 다양한 사건, 사고 및 각종 지식과 정보를 전달하여 국민의 알 권리를 보장함으로써 시민의 의사 결정을 내리는 데 도움을 준다. 또한 국가 권력이나 기업, 각종 정치 참여자에 대한 비판과 견제, 감시 기능을 수행한다. 이 밖에도 언론은 시민이 그 중요성을 인식할 수 있도록 특정 사안을 집중적으로 보도함으로써 의제를 설정하고 여론을 형성하는 기능을 한다. 이는 정책 결정자에게 압력을 가하여 시민의 의사를 정책에 반영하도록 하는 원동력이 된다.

시민이 언론을 통해 정치에 참여한다는 것은 각종 매체를 통해 사회적 쟁점에 대한 자신의 견해를 밝히고 이를 정치 과정에 전달하는 것을 의미한다. 시민은 독자 투고나 언론사와의 인터뷰 등을 통해 자신의 정치적 의견을 밝힐 수 있으며, 각종 정보를 언론사에 제보함으로써 사회적으로 잘 드러나지 않은 쟁점이나 문제를 알릴 수도 있다.

시민은 언론을 통해 정치에 참여하기도 하지만, 언론을 통해 다양한 사건을 접하고 사건의 의미를 전달받기도 한다. 그런데

때로 언론은 사실을 왜곡하여 거짓을 진실인 것처럼 보도하거나 편파, 과장 보도를 하기도 한다. 이는 시민의 올바른 의사 결정을 방해하여 민주주의가 제대로 작동할 수 없도록 한다. 따라서 시민은 언론 보도를 무조건 수용하기보다 비판적이고 중립적인 시각을 가지고 분석해 보는 자세를 가져야 한다.

40. 다음은 여론에 대한 갑~병의 주장이다. 이에 대한 진술로 가장 적절한 것은?

갑 : 대중은 자신의 의견이 우세한 여론에 속하면 강하게 주장하지만, 열세에 속하면 침묵하려 합니다.
 을 : 대중 매체는 스스로 중요하다고 생각하는 특정 주제를 자주 보도함으로써 여론을 형성하는 경우가 많습니다.
 병 : 현대 사회에서는 정보 통신 기술의 발달로 개인들의 다양한 의견이 여론 형성에 중요한 역할을 합니다.

- ① 갑은 언론의 자유가 보장되어야 함을 강조하고 있다.
- ② 을은 대중 매체의 의제 설정 기능을 언급하고 있다.
- ③ 병은 사회 구성원들의 수동적 태도를 지적하고 있다.
- ④ 병보다 갑은 여론 조사의 신뢰성이 더 높다고 본다.
- ⑤ 병과 달리 을은 여론이 상향식으로 형성된다고 본다.

42. 표에 대한 옳은 분석 및 추론을 <보기>에서 고른 것은?

<갑국의 의회 의원 선거 결과>

구분	t대				t+1대			
	A	B	...	합계	A	B	...	합계
의석률(%)	30	31	...	100	52	43	...	100

* t대와 t+1대에서 의석을 차지한 정당의 수는 각각 4개이며, 무소속 의원은 없음.
 ** 갑국은 전형적인 의원 내각제를 채택하고 있음.

< 보 기 >
 ㄱ. t 대는 t+1 대에 비해 정국이 안정적으로 운영되었을 가능성이 높다.
 ㄴ. t+1 대는 t 대에 비해 정당의 정치적 책임 소재가 명확할 것이다.
 ㄷ. t+1 대는 t 대에 비해 국민의 다양한 의사가 정책에 반영될 기회가 많아질 것이다.
 ㄹ. t 대에서는 t+1 대와 달리 연립 내각을 구성하는 것이 필요했을 것이다.

- ① ㄱ, ㄴ ② ㄱ, ㄷ ③ ㄴ, ㄷ ④ ㄴ, ㄹ ⑤ ㄷ, ㄹ

42. A~C에 대한 설명으로 옳은 것은? (단, A~C는 각각 시민 단체, 이익 집단, 정당 중 하나에 해당하는 집단이다.)

A는 총선을 앞두고 국민의 선택에 도움을 주고자 B의 보건 의료 정책에 관련된 공약의 평가를 발표하였다. 발표 자료에서 A는 신종 감염병의 피해를 최소화하기 위한 B의 정책 의지를 확인했다고 밝혔다. 한편 소상공인들로 조직된 C는 B를 방문하여 신종 감염병 유행으로 인해 어려움을 겪는 조합원들을 위한 제도를 마련해 달라고 요청하였다. 이에 B는 정부가 특별 지원금을 조속히 지급할 수 있도록 협력할 것을 약속하였다.

- ① A는 구성원의 이익을 공익보다 우선시한다.
- ② B는 시민의 여론을 수렴하여 법률안을 발의한다.
- ③ C는 정권 획득을 목적으로 선거에서 후보자를 공천한다.
- ④ A는 B, C와 달리 대의 정치의 한계를 극복하기 위해 등장하였다.
- ⑤ B는 A, C와 달리 행정부와 의회를 매개하며 정치적 책임을 진다.

43. A~C에 대한 설명으로 옳은 것은? (단, A~C는 각각 정당, 이익 집단, 시민 단체 중 하나에 해당하는 집단이다.)

학교에서 '고카페인 함유' 표시가 있는 모든 음료의 판매를 금지하는 정책이 필요하다는 학부모들의 주장이 제기되고 있다. 이에 대해 식품 업계 종사자들로 구성된 A는 해당 정책이 소속 회원들의 이익을 침해하고 식품 산업 발전을 저해할 것이라며 반대 의사를 표명하였다. 반면, 청소년의 건강한 식생활 실천을 위한 공익 캠페인을 추진해 온 B는 해당 정책이 청소년의 건강권 보호에 필요하다고 찬성 입장을 밝혔다. 이에 C는 A와 B의 의견을 수렴하여 다가오는 총선을 위해 공약을 개발하고 관련 전문가를 후보자로 공천하였다.

- ① A는 사적 이익을 추구하며 국민에 대해 정치적 책임을 진다.
- ② B의 활동은 정치 과정에서 산출에 해당한다.
- ③ C는 여론을 반영하여 의회와 정부를 매개하는 역할을 한다.
- ④ A와 달리 B는 대의 정치의 한계를 보완하는 역할을 한다.
- ⑤ C와 달리 A, B는 정책 결정 과정에서 정치 사회화 기능을 수행한다.

13. 민법의 이해

우리의 사회생활은 공적 생활과 사적 생활로 나눌 수 있다. 전자는 국민으로서 국가와 관련된 생활이고, 후자는 개인으로서 일상적인 삶과 관련된 생활이다. 국민으로서의 공적 생활 관계를 규율하는 법을 **공법** (公法) 이라고 하고, 개인으로서의 사적 생활 관계를 규율하는 법을 **사법** (私法) 이라고 한다. **민법**은 개인 간의 법률관계에서 발생하는 권리와 의무의 종류 및 내용을 다루는 가장 대표적인 사법에 해당한다.

사람들 사이에 항상 좋은 일만 있는 것은 아니다. 때로는 의도치 않은 사고로 누군가 피해를 볼 수도 있고, 서로 간에 이해관계가 충돌하여 갈등이 발생하기도 한다. 이렇게 개인간의 생활 관계에서 발생하는 여러 가지 갈등과 분쟁을 해결하기 위해서는 누구에게 어떤 권리가 있고, 누가 어떤 책임을 져야 하는지와 같은 문제를 명확히 할 필요가 있다. 즉 사람들 사이에서 발생하는 여러 가지 문제를 해결하려면 **문제에 적용할 수 있는 법적 기준과 원칙**이 필요한데, 이런 필요를 충족하기 위해 민법이 제정되었다.

민법은 다음과 같은 기능을 한다. 첫째, 민법은 **재산 관계를 규율**한다. 민법은 소유권, 임차권 등 법적으로 보호받는 재산권의 개념과 대상에 관련된 규정뿐만 아니라 계약, 불법 행위 등으로 발생하는 권리와 의무의 성격과 내용도 규정함으로써 개인의 경제 활동과 경제적 권리를 둘러싼 이익과 손해를 합리적으로 조정하는 기능을 한다.

둘째, 민법은 **가족 관계를 규율**한다. 민법에는 출생, 혼인, 입양 등 가족과 친족의 형성과 역할에 관한 규정, 유언과 상속 등 친족 간의 재산 관계에 관한 규정 등이 담겨 있다. 이를 통해 민법은 우리 사회의 가족 관계를 안정적으로 지속할 수 있도록 가족과 친족의 문화와 질서를 유지하는 기능을 한다.

셋째, 민법은 **법질서 전체에 적용될 수 있는 일반 원칙을 제시**한다. 민법은 개인의 사회생활에서 일상적으로 겪는 거의 모든 문제를 다룬다. 그래서 민법이 제시하는 일반적 원칙은 법 일반에 두루 통용된다. 신의 성실의 원칙, 권리 남용금지의 원칙이 대표적인 예이다. 이와 같이 민법을 통해 개인은 자신의 재산과 권리를 보장받으며 안정적인 사회생활을 영위할 수 있고, 사회는 가족 관계를 비롯한 공동체의 안정과 질서를 유지할 수 있다.

근대 유럽의 시민들은 개인의 법률관계를 자신의 의지에 따라 자유롭게 형성할 수 있어야 하고, 다른 사람에게 해를 끼치지 않는 범위 내에서 일반적 행동의 자유를 가질 수 있다고 보았다. 또한 개인의 자유로운 경제 활동의 결과 형성된 재산과 각종 권리가 그 사람의 인격과 분리될 수 없다고 보아 재산권도 불가침의 천부 인권 중 하나라고 생각하였다. 이와 같은 자유주의와 개인주의에 바탕을 둔 생각과 믿음이 근대 민법의 세 가지 기본 원리로 자리 잡아 오늘날까지 이어졌다.

민법의 기초는 개인의 사유 재산권, 즉 소유권에 대한 보장에서 시작한다. 민법은 개인 소유의 재산에 대한 사적 지배를 인정하고 국가나 다른 개인이 이를 함부로 간섭하거나 제한하지 못하게 하고 있는데, 이를 **소유권 절대의 원칙** 또는 **사유 재산권 존중의 원칙**이라고 한다. 소유권 절대의 원칙에 따르면 소유권 침해자의 고의나 과실의 여부와 상관없이 소유권자는 그 침해를 배제할 수 있다.

개인은 자신의 의사에 따라 타인과 자유롭게 계약을 맺음으

로써 권리를 취득하거나 의무를 부담하는 법률관계를 형성할 수 있다. 이를 **계약 자유의 원칙** 또는 **사적 자치의 원칙**이라고 한다. 계약의 자유란 계약 체결 과정에서 누구의 강요와 간섭도 받지 않을 자유를 말한다. 계약 자유의 세부 내용에는 계약의 대상을 고르고 결정할 자유, 계약의 구체적인 내용을 결정할 자유, 계약의 방법을 결정할 자유 등이 포함된다.

타인에게 손해를 입힌 사람은 원칙적으로 자신의 고의 또는 손실로 위법하게 타인에게 가한 손해에 대해서만 책임을 진다. 이를 **과실 책임의 원칙** 또는 **자기 책임의 원칙**이라고 한다. 타인에게 재산상 손실이나 기타의 불이익이 발생한 경우라도 하더라도 가해자의 고의나 과실이 없다면 그 결과에 대한 책임을 지을 수 없다는 것이다.

전근대 신분 사회에서는 가족이나 친족이 저지른 죄에 대해 잘못이 없는 사람이 처벌을 받거나 발생한 손해를 배상해야 하는 일도 있었다. 과실 책임의 원칙은 근대 사회의 개인을 이러한 불합리한 연대 책임에서 벗어날 수 있도록 해주는 근거가 되었다.

근대 민법의 기본 원리는 개인의 경제적 자유를 최대한 보장함으로써 사회 전체의 부를 늘리는 데 이바지하였다. 하지만 그 과정에서 빈부 격차, 환경 오염, 독점 기업의 횡포 등이 심각한 사회 문제로 등장하였다. 소유권 절대의 원칙은 사회 구성원 간의 빈부 격차를 심화하였고, 계약 자유의 원칙은 계약 자유라는 이름으로 사회적 약자에게 부당한 계약을 강요하였으며, 과실 책임의 원칙은 기업이 환경 오염의 책임을 회피하기 위한 수단으로 이용되기도 하였다.

이처럼 근대 민법의 기본 원리는 시간이 지나면서 일정한 한계에 부딪히게 되었다. 오늘날에는 권리의 불가침성과 절대성을 강조하던 근대 민법의 기본 원리에서 나아가 **권리의 사회성과 공공성까지 고려하는 방향으로 수정, 보완**되었다.

오늘날 소유권의 공공성과 사회성이 강조됨에 따라 **소유권 절대의 원칙**은 소유권 공공복리의 원칙으로 수정, 보완되었다. 소유권 공공복리의 원칙이란 개인의 소유권이 공공의 이익에 부합하도록 행사되어야 한다는 원칙이다. 우리 헌법 제23조 제2항은 “재산권의 행사는 공공복리에 적합하도록 하여야 한다.”라고 하여 소유권 공공복리의 원칙을 규정하고 있다.

실질적으로 평등하고 공정한 계약이 강조됨에 따라 계약 자유의 원칙은 **계약 공정의 원칙**에 의해 수정, 보완되었다. 계약 공정의 원칙이란 계약의 내용이 사회 질서에 반하거나 공공의 이익을 침해할 경우 법적 효력이 인정되지 않는다는 원칙이다. 이는 계약 당사자 간의 현실적인 불평등 관계에 따라 발생할 수 있는 불공정한 계약을 방지하기 위한 것이다.

경제적 강자인 기업이나 고용주의 사회적 책임이 강조됨에 따라 과실 책임의 원칙은 무과실 책임의 원칙으로 수정, 보완되었다. **무과실 책임의 원칙**이란 고의나 과실이 없어도 타인에게 피해를 준 경우 일정한 요건에 따라 책임을 져야 한다는 원칙이다. 현대 사회에서는 어떤 현상의 인과 관계를 밝히기 어려운 경우가 많다. 따라서 사업자의 환경 침해나 저조물 책임 등 특수한 경우에는 고의 또는 과실이 없어도 무과실 책임의 원칙을 적용하여 사업자나 제조사에 책임을 물을 수 있도록 하고 있다.

44. 다음 자료에서 □□위원회의 판단에 나타난 민법의 기본 원리에 대한 진술로 가장 적절한 것은?

○○ 신문 △△△△년 △△월 △△일

온라인 강의 해지, 보다 수월해져...

수강 기간이 1개월을 넘는 온라인 강의는 앞으로 언제든지 계약을 해지하고 남은 금액을 돌려받을 수 있게 되었다. □□위원회는 최근 온라인 강의 수강 계약의 중도 해지를 제한한 온라인 강의 학원의 이용 약관 조항이 고객의 권리를 과도하게 제한하여 무효라고 판단하였다. 이에 따라 해당 학원에 시정 명령을 내렸다.

- ① 개인은 자신이 소유하는 재산을 배타적으로 사용·수익 또는 처분할 권리를 가진다.
- ② 계약 내용이 사회 질서에 반하거나 현저하게 공정성을 잃으면 법적 효력이 인정되지 않는다.
- ③ 법률관계를 형성하는 것은 개인의 자유로운 의사에 맡겨야 하고 국가가 개입해서는 안 된다.
- ④ 개인은 자신이 소유하는 재산을 공공의 이익에 부합하도록 사용·수익 또는 처분하여야 한다.
- ⑤ 타인의 손해에 대하여 직접적인 고의나 과실이 없더라도 일정한 요건에 따라 법적 책임을 질 수 있다.

45. A~C는 근대 민법의 수정 원칙이다. 이에 대한 옳은 설명만을 <보기>에서 고른 것은?

구분	관련 법규
A	약관의 규제에 관한 법률 제6조 ① 신의성실의 원칙을 위반하여 공정성을 잃은 약관 조항은 무효이다.
B	환경정책기본법 제44조 ① 환경오염 또는 환경훼손으로 피해가 발생한 경우에는 해당 환경오염 또는 환경훼손의 원인이자 그 피해를 배상하여야 한다.
C	헌법 제23조 ② 재산권의 행사는 공공복리에 적합하도록 하여야 한다.

— < 보 기 > —

ㄱ. A에 의하면, 계약 당사자는 자신의 법률관계를 형성할 때 국가의 간섭을 받아서는 안 된다.

ㄴ. 임대 건물의 하자로 인한 행인의 부상에 대하여 임차인과 달리 건물 소유자가 면책되지 않는 것은 B가 적용된 것이다.

ㄷ. C에 의하면, 소유권은 사유 재산권의 대표적인 것이지만 경우에 따라 제한될 수 있는 상대적 권리이다.

ㄹ. 근대 민법의 기본 원리는 A, B, C로 인해 현대의 사법 관계에 적용되지 않는다.

- ① ㄱ, ㄴ ② ㄱ, ㄷ ③ ㄴ, ㄷ ④ ㄴ, ㄹ ⑤ ㄷ, ㄹ

46. 밑줄 친 ㉠~㉤에 대한 설명으로 옳은 것은?

근대 민법의 세 가지 기본 원칙에는 사유 재산권 존중의 원칙, ㉠ 계약 자유의 원칙, ㉡ 과실 책임의 원칙이 있다. 이러한 근대 민법의 원칙들은 독과점, 빈부 격차 등 자본주의의 문제점을 경험하면서 각각 ㉢ 소유권 공공복리의 원칙, ㉣ 계약 공정성의 원칙, ㉤ 무과실 책임의 원칙으로 수정되었다.

- ① ㉠은 개인의 자율적 의사에 기초하여 체결된 계약의 부작용을 강조한다.
- ② ㉡은 새로운 원칙으로 대체되면서 현재 우리나라 민법에서는 폐기되었다.
- ③ ㉢에 따르면 소유권은 공공복리의 차원에서 제한될 수 없는 절대적 권리이다.
- ④ ㉣에 따르면 노예 계약도 적법한 것으로 인정된다.
- ⑤ ㉤을 적용한 예로 우리나라의 제조물 책임법을 들 수 있다.

47. (가), (나)에서 도출되는 민법의 원칙에 대한 설명으로 옳은 것은?

(가) 계약을 체결할 것인가, 누구와 체결할 것인가, 계약의 내용을 어떻게 할 것인가는 당사자가 자유롭게 정할 수 있다.

(나) 개인 간에 체결한 계약이라도 그 계약의 내용이 사회 질서에 부합하여야 하고, 어느 한쪽의 무경험 등으로 인하여 현저하게 균형을 잃어서는 안 된다.

- ① (가)는 소유권을 행사함에 있어서 공공 복리에 적합해야 함을 강조한다.
- ② (가)는 원칙적으로 국가를 포함한 타인의 간섭을 받지 않고 자기의 법률 관계를 스스로 정할 수 있다는 의미이다.
- ③ (나)는 제한 능력자에게는 적용되지 않는다.
- ④ (나)는 어떤 사람이 다른 사람에게 손해를 입혔을 때 고의나 과실이 인정되는 경우에만 책임을 진다는 의미이다.
- ⑤ 근대 자본주의의 문제점을 겪은 이후 (나)는 (가)로 수정되었다.

14. 재산 관계와 법

사회생활을 하는 과정에서 우리는 다른 사람들과 관계를 맺고 다양한 사회적 약속을 하며 살아간다. 예를 들어 학생이 아침 등교를 위해 버스를 탈 때도 운전기사는 목적지까지 안전하게 운행할 것을, 학생은 이에 대한 대가로 정해진 버스 요금을 지급할 것을 서로 약속한 것이다.

만약 이러한 약속이 제대로 지켜지지 않는다면 학생은 학교에 무사히 갈 일을, 운전기사는 요금을 제대로 받았는지를 걱정해야 할 것이다. 따라서 이러한 불안을 해소하기 위해서 약속을 지키지 않으면 제재를 가할 수 있는 법률적인 효과를 약속에 부여할 필요가 있다.

이처럼 일정한 법률 효과를 발생시킬 목적으로 사람들 사이에 이루어지는 합의 또는 약속을 가리켜 **계약**이라고 한다. 법률 효과가 발생한다는 것은 계약 당사자에게 법적인 권리와 의무가 발생하는 것을 의미한다. 이러한 계약은 부동산 매매와 같은 소유권의 이전, 상가나 주택의 임대차, 시설의 설치 및 수리와 같은 용역의 제공, 사용자와 근로자 간의 고용 등 다양한 내용과 형태로 일상생활에서 흔히 이루어지고 있다.

계약이 성립하려면 **두 사람 이상의 계약 당사자**가 있어야 하며, 계약 당사자간의 **의사 표시가 합치**해야 한다. 예를 들어 물건을 파는 상인이 고객에게 2만원이라는 가격을 제안하고, 고객이 그 가격을 받아들인다면 계약이 성립할 수 있다. 이때 계약을 제안하는 의사 표시를 **청약**이라고 하고, 청약의 내용을 그대로 받아들이겠다는 의사 표시를 **승낙**이라고 한다. 즉 계약은 청약과 이에 대한 승낙으로 성립한다.

그러나 이와 같은 조건을 갖추어 성립한 계약이라 하더라도 모두 법적으로 유효한 것은 아니다. 계약이 법적 효력을 가지려면 계약 당사자가 의사 능력과 행위 능력을 갖춘 사람이야 한다. 의사 능력이 없는 사람이 한 계약은 무효가 되며 행위 능력이 제한되는 자가 법정 대리인의 동의 없이 단독으로 맺은 계약은 취소할 수 있다. 또한 속임수나 협박 또는 강요 등에 의해 의사 표시를 한 경우에도 해당 의사 표시를 취소할 수 있다.

또한 계약이 법적 효력을 가지려면 계약의 내용이 **현실적으로 실현 가능한 것**이어야 하고 **선량한 풍속이나 기타 사회 질서에 반하지 않아야** 한다. 도박이나 범죄를 내용으로 한다거나 신체 일부를 포기하는 등의 계약은 사회 질서에 반하는 내용이므로 효력이 인정되지 않는다.

계약 자유의 원칙에 따라 계약의 방식은 당사자가 자유롭게 선택할 수 있다. 이때 계약서를 쓰지 않고 말로만 약속하였다 라도 계약 당사자들이 계약의 내용을 충분히 이해하고 합의했다면 법적인 효력을 인정받을 수 있다. 그러나 부동산 매매, 근로 계약 등과 같이 중요한 계약일 경우에는 서로 합의한 내용을 계약서로 작성해 두는 것이 좋다. 계약서를 작성하여 내용을 명확히 해 두면 불필요한 오해를 방지하고, 다툼이 발생했을 때 증거 자료로 활용할 수 있어 분쟁을 효율적으로 해결할 수 있기 때문이다.

계약이 성립 요건을 충족하면 권리와 의무가 발생하여 법적 구속력이 생기며, 이를 **계약의 효력**이라고 한다. 이때 권리자가 의무자에게 계약에 따른 행위를 청구할 수 있는 권리를 **채권**이라고 하고, 그 행위를 해야 할 의무를 **채무**라고 한다. 대개 채권과 채무는 쌍방이 동시에 갖는다. 예를 들어 어떤 사

람이 전화로 피자를 주문했다면 주문한 사람은 피자를 배달받을 권리와 피자값을 지급해야 할 의무를 갖는다. 피자 가게 주인은 이에 대응하여 피자를 배달할 의무와 피자값을 받을 권리를 갖게 된다.

계약에서 정한 각자의 의무를 실행하고 지키는 것을 **계약의 이행**이라고 한다. 예를 들어 중고품 매매 거래 계약을 한 후, 정해진 날짜에 판매자와 구매자가 약속한 물품과 물품 대금을 주고받아 각자의 의무를 다하면 계약이 이행되었다고 할 수 있다.

그런데 모든 일이 계약대로 이루어지는 것은 아니다. 판매자가 약속한 물품을 보내 주지 않거나 보내 준 물품의 모양이나 수량이 계약 내용과 다를 수 있으며, 반대로 구매자가 물건만 받고 대금을 치르지 않을 수도 있다. 이렇게 채무자가 계약에 따른 의무를 제대로 이행하지 않는 것을 **채무 불이행**이라고 한다.

채무 불이행으로 손해를 본 상대방은 계약을 해제하거나 강제적으로 계약을 이행하도록 법원에 청구할 수 있고, 채무 불이행에 따른 손해를 배상해 달라고 요구할 수 있다.

우리는 살아가면서 교통사고나 안전사고 등 예기치 못했던 사고를 당할 수 있고 이로 인해 재산상, 신체상의 피해가 발생할 수 있다. 만약 이러한 피해가 다른 누군가의 잘못에 의한 것이라면 마땅히 그 사람에게 피해의 책임을 물을 수 있다. 예를 들어 어떤 사람이 산책하던 중에 자전거 운전자의 부주의로 자전거에 부딪혀 다쳤다면 피해자는 부상 정도와 회복 기간에 따라 가해자에게 적절한 배상과 대책을 요구할 수 있다.

이처럼 어떤 사람이 고의나 과실로 위법하게 타인에게 손해를 끼치는 행위를 **불법 행위**라고 하며, 이때 불법 행위를 저지른 가해자는 자신의 행위로 발생한 피해의 정도에 따라 손해를 배상할 책임을 지게 된다.

어떤 사람의 행위가 불법 행위인지 판단하려면 몇 가지 요건을 따져 보아야 한다.

첫째, 가해자의 **고의** 또는 **과실**이 있어야 한다. 가해 행위와 관련하여 일부러 한 행동뿐만 아니라 실수로 저지른 행위도 불법 행위가 될 수 있다.

둘째, 가해자의 행위에 **위법성**이 있어야 한다. 위법성은 법이 보호할 가치가 있는 이익을 위법하게 침해하거나, 법이 금지한 행위를 하는 것을 말한다. 단, 정당방위나 긴급 피난 등의 경우는 위법성이 조각되어 불법 행위가 성립하지 않는다.

셋째, 가해자에게 **책임 능력**이 있어야 한다. 만약 가해자가 자신의 위법한 행위에 대해 책임을 분별할 능력이 없다면 이를 비난하고 가해자에게 책임을 물을 수 없다.

넷째, 피해자에게 **손해가 발생**해야 한다. 가해자의 행위로 인해 아무런 손해가 발생하지 않는다면 손해를 배상할 책임도 발생하지 않는다. 손해에는 재산적인 것뿐만 아니라 생명, 자유, 명예 등의 침해에 따른 정신적인 것도 포함된다.

다섯째, 가해자의 행위와 피해자의 손해 사이에 상당한 **인과 관계**가 있어야 한다. 즉 단순히 사건의 전후 관계로 결정되는 것이 아니라, 가해자의 위법한 행위 때문에 손해가 발생했다는 점이 증명되어야 불법 행위로 인정된다.

가해자의 행위가 불법 행위로 인정되면 가해자는 피해자가 입은 손해를 배상해야 한다. 가해자의 위법한 행위로 발생한

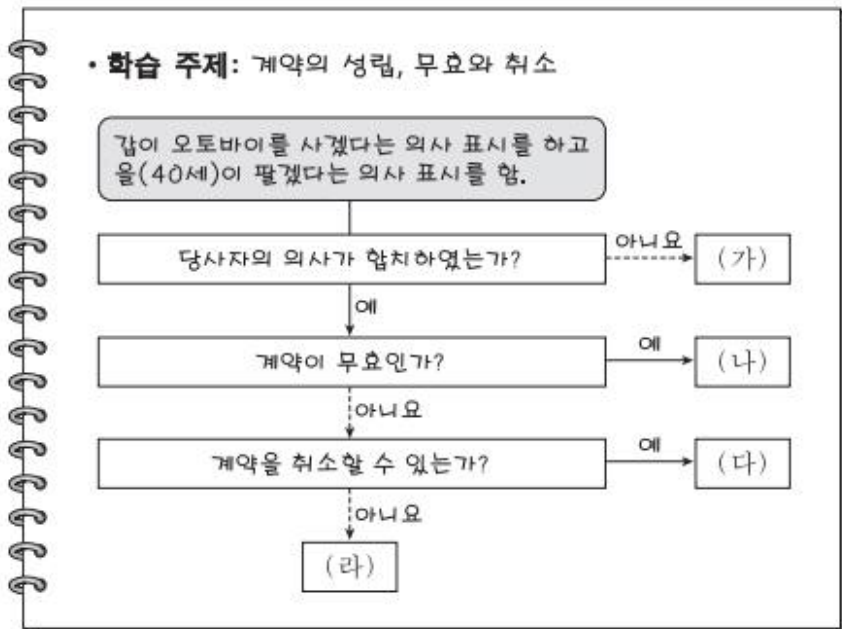
손해를 보전해 주는 것을 **손해 배상**이라고 하며, 민법에서는 손해에 대해 **금전 배상을 원칙**으로 한다.

예를 들어 누군가가 폭행을 당해 치료비가 발생하고, 치료 기간 일을 못 해 임금 손실이 발생하면 가해자로부터 이에 대한 재산적 손해를 배상받을 수 있으며, 폭행의 후유증으로 겪는 정신적 고통에 대해서도 **위자료**의 형식으로 손해 배상을 받을 수 있다.

불법 행위에 대한 책임은 원칙적으로 가해 행위를 한 사람이 직접 지게 되어있다. 그런데 가해 행위를 한 사람이 어린이거나 책임 능력이 부족하거나, 가해 행위를 한 사람의 고의 또는 과실을 증명하는 것이 불가능할 수도 있고, 때로는 누가 가해자인지가 불분명할 수도 있다.

이처럼 불법 행위로 인한 손해에 대해 배상을 받기 어려운 특수한 경우에 직접적인 가해 행위자는 아니지만, 일정한 지위에 있는 사람이 불법 행위에 대한 책임을 지도록 하고 있는데 이를 **특수 불법 행위**라고 한다.

48. 다음 자료에 대한 법적 판단으로 옳은 것은?



- ① 20세의 갑이 매매 계약서를 작성하지 않고 오토바이를 할부로 구입한 경우는 (가)에 해당한다.
- ② 25세의 갑이 오토바이를 100만 원에 산다고 통지하였는데 을이 150만 원에 판다고 통지한 경우는 (나)에 해당한다.
- ③ 17세의 갑이 법정 대리인의 동의를 받아 매장에서 오토바이를 정가에 구입한 경우는 (다)에 해당한다.
- ④ 40세의 갑이 만취하여 의식 불명 상태에서 을이 제시한 오토바이 매매 계약서에 서명한 경우는 (라)에 해당한다.
- ⑤ (나)의 경우와 (다)에서 취소된 경우 모두, 갑은 오토바이 매매 대금을 지급하지 않은 것에 대한 채무 불이행 책임을 지지 않는다.

49. (가) 사례를 (나)에 적용했을 경우에 대한 옳은 법적 판단만을 <보기>에서 있는 대로 고른 것은?

(가) 갑은 자전거를 타고 가다가 부주의로 보행자 을을 다치게 하였다.

(나)

질문	사고 당시 상황	
갑의 나이는?	㉠ 19세 이상	㉡ 19세 미만
갑의 책임 능력이 인정되는가?	㉢ 인정됨	㉣ 인정되지 않음
갑이 을을 다치게 한 때는?	㉤ 병이 운영하는 치킨 가게의 종업원으로 자전거를 타고 치킨 배달을 하던 중	㉥ 휴일에 공원에서 자전거를 타고 놀던 중

< 보 기 >

- ㄱ. ㉠, ㉢, ㉤의 상황에서 병이 사용자 배상 책임을 지는 경우, 갑의 을에 대한 일반 불법 행위는 성립하지 않는다.
- ㄴ. ㉠, ㉢, ㉥의 상황에서 갑은 을에 대한 손해 배상 책임을 지지 않는다.
- ㄷ. ㉡, ㉢, ㉥의 상황에서 갑의 법정 대리인 정은 을에 대한 특수 불법 행위 책임을 지지 않는다.
- ㄹ. ㉡, ㉢, ㉥의 상황에서 갑의 법정 대리인 정이 갑에 대한 감독 의무를 게을리하지 않았다면, 을에 대해서 갑, 정은 모두 손해 배상 책임을 지지 않는다.

- ① ㄱ, ㄷ ② ㄱ, ㄹ ③ ㄴ, ㄷ
- ④ ㄱ, ㄴ, ㄹ ⑤ ㄴ, ㄷ, ㄹ

50. 다음 두 사례에 대한 옳은 법적 판단을 <보기>에서 고른 것은?

- 갑이 운영하는 자동차 정비소에서 일하고 있는 을은 정비 실수로 병이 맡긴 자동차의 일부를 파손하였다. 이에 병은 손해 배상을 청구하고자 한다.
- A(18세)는 동갑내기 B, C, D로부터 지속적인 괴롭힘을 당하여 정신적 피해를 입었고, 이로 인해 병원 치료를 받았다. 이에 A의 부모는 손해 배상을 청구하고자 한다.

< 보 기 >

- ㄱ. 갑의 불법 행위에 대한 책임이 인정된다 하더라도 을의 불법 행위에 대한 책임은 면제되지 않는다.
- ㄴ. 갑은 을에 대하여 선임 및 사무 감독에 상당한 주의를 하였음을 입증하더라도 사용자 배상 책임을 진다.
- ㄷ. 책임 능력이 있는 B의 행위에 대하여 B의 부모는 일반 불법 행위 책임을 질 수 있다.
- ㄹ. D가 단순히 망만 보았을 경우 A의 부모는 B와 C에게만 손해 배상을 청구할 수 있다.

- ① ㄱ, ㄴ ② ㄱ, ㄷ ③ ㄴ, ㄷ ④ ㄴ, ㄹ ⑤ ㄷ, ㄹ

51. (가) 사례를 (나)에 적용했을 경우에 대한 옳은 법적 판단만을 <보기>에서 있는 대로 고른 것은?

(가) 갑(17세)은 평소 사고 싶었던 고가의 오토바이를 을(30세)로부터 구입하는 계약을 하였다. 한편 갑의 법정 대리인은 병이다.

(나)

질문	상황	
계약 당시 병의 동의를 있었는가?	㉠ 예	㉡ 아니요
계약 당시 을은 갑이 미성년자임을 알았는가?	㉢ 예	㉣ 아니요

< 보 기 >

ㄱ. 갑의 불법 행위에 대한 책임이 인정된다 하더라도 을의 불법 행위에 대한 책임은 면제되지 않는다.
 ㄴ. 갑은 을에 대하여 선임 및 사무 감독에 상당한 주의를 하였음을 입증하더라도 사용자 배상 책임을 진다.
 ㄷ. 책임 능력이 있는 B의 행위에 대하여 B의 부모는 일반 불법 행위 책임을 질 수 있다.
 ㄹ. D가 단순히 망만 보았을 경우 A의 부모는 B와 C에게만 손해 배상을 청구할 수 있다.

- ① ㄱ, ㄷ ② ㄱ, ㄹ ③ ㄴ, ㄷ
 ④ ㄱ, ㄴ, ㄹ ⑤ ㄴ, ㄷ, ㄹ

52. 다음 두 사례에 대한 옳은 법적 판단을 <보기>에서 고른 것은?

- A(14세)는 B(A의 법정 감독 의무자) 몰래 다른 사람의 자동차를 운전하다가 횡단보도에서 길을 건너던 C를 부주의로 다치게 하였다.
- 대학생인 갑(19세)은 학비를 벌기 위하여 을이 운영하는 식당에서 아르바이트를 하던 중 식사를 하던 손님 병을 부주의로 다치게 하였다.

< 보 기 >

ㄱ. 사고 당시 A의 책임 능력이 인정되지 않는다면 B가 A에 대한 감독 의무를 게을리하지 않았더라도 B는 C에 대하여 특수 불법 행위 책임을 진다.
 ㄴ. 사고 당시 A의 책임 능력이 인정되면 C의 부상이 B의 A에 대한 감독 의무 위반으로 인한 경우라도 B는 C에 대하여 특수 불법 행위 책임을 지지 않는다.
 ㄷ. 을의 병에 대한 특수 불법 행위 책임이 성립하는 경우에도 갑의 병에 대한 불법 행위 책임이 인정된다.
 ㄹ. 을의 병에 대한 사용자 배상 책임이 성립하는 경우 갑과 을의 병에 대한 공동 불법 행위자의 책임이 인정된다.

- ① ㄱ, ㄴ ② ㄱ, ㄷ ③ ㄴ, ㄷ ④ ㄴ, ㄹ ⑤ ㄷ, ㄹ

15. 가족 관계와 법

가족은 사회의 기초를 이루는 가장 작은 집단이다. 가족은 서로에 대한 사랑과 애정을 바탕으로 구성되고 유지되는 공동체이지만, 이를 사회적으로 보호하기 위해 법적인 권리와 의무가 존재한다. 민법에서는 부부간 관계나 부모와 자녀 간의 관계와 관련하여 다양한 권리와 의무를 규정하고 있다.

혼인은 서로 남남인 두 남녀가 만나 부부가 되는 것으로, 법적으로 유효한 혼인 관계가 인정되기 위해서는 일정한 요건이 필요하다.

혼인이 성립하려면 혼인의 실질적 요건을 갖추어야 한다. 우선 **법적으로 혼인할 수 있는 나이**여야 한다. 성년 즉 19세 이상이면 자신의 의사에 따라 자유롭게 혼인할 수 있으며, 미성년자라도 18세 이상이면 부모 동의를 얻어 혼인할 수 있다. 또한 당사자가 **민법에서 제한하는 친족 관계에 해당하지 않아야** 하며, 이미 혼인하여 **다른 배우자가 있는 사람이 아니어야** 한다.

그리고 당사자 간 **혼인 의사가 합치**하여야 한다. 강압(강박)이나 속임수(사기)에 의한 의사 표시로 성립한 혼인은 취소 사유에 해당한다.

우리 민법은 법률적으로 일정한 요건을 충족해야 혼인의 성립을 인정하는 **법률혼주의**를 채택하고 있다. 따라서 위에서 말한 혼인의 실질적 요건을 모두 갖추었다더라도 **혼인 신고**라는 형식적 요건을 갖추어야만 법적인 부부로 인정받아 다양한 법적 의무와 권리가 발생한다.

혼인 신고를 하지 않은 사실상의 혼인 관계는 사실혼이라 하며, 이 경우에는 부부간의 법적 의무와 권리가 제한적으로만 발생한다.

혼인의 요건을 모두 갖추어 법률상 유효한 혼인 관계를 인정받으면, 부부는 남편 또는 아내로서 배우자의 지위를 갖게 되며, 양 당사자의 가족 간에도 **새로운 친족 관계가 형성**된다.

혼인은 법적 관계이므로 여러 가지 법적 권리와 의무도 발생한다. 혼인은 정신적, 육체적, 경제적으로 결합하여 함께 생활하겠다는 약속이므로 부부는 함께 생활하면서 서로를 돌보아야 할 의무가 있는데 이를 **동거와 부양의 의무**라고 한다. 생활비는 함께 부담하는 것이 원칙이며, 전업주부의 경우 외부 경제 활동을 통해 생활비를 벌지는 않지만 육아나 가사 노동 등을 통해 생활비를 공동 부담하는 것으로 인정한다. 또한 배우자, 자녀 외에 부모나 생계를 같이하는 친족 등이 스스로 생활을 꾸려 갈 수 없는 처지라면 이들을 도와줄 부양 의무가 있다.

혼인은 두 인격체의 결합을 의미하지만, 재산의 소유와 관리, 처분 등은 각자가 따로 하는 것을 원칙으로 하는데, 이를 **부부 별산제**라고 한다. 민법에서는 혼인 전에 각자가 모은 재산과 혼인 중 자기의 명의로 취득한 재산은 각자가 관리하도록 규정하고 있다. 또한 각자의 빚 역시 공동의 것이 될 수 없어 어느 한쪽이 진 빚에 대해 배우자가 갚을 의무는 없다.

그러나 현실적으로 부부가 가정을 함께 꾸려 가는 상황에서 서로의 역할과 재산을 엄격하게 구분하기 어려운 경우가 많다. 생활비, 양육비 지출과 같은 일상생활의 여러 일은 남편과 아내가 구분하지 않고 함께 처리하는 것이 일상적인 모습이다. 남편이 신청한 택배의 배송비를 아내가 지급하기도 하고 남편

이 대신 값을 치르고 아내의 물품을 구매하기도 한다.

이처럼 부부의 공동생활을 위해 필요한 일상적인 일을 서로 대신해서 처리해 주는 것을 **일상 가사 대리**라고 한다. 일상 가사의 경우 부부 중 한 사람이 단독으로 결정한 일이라 해도 그 결정에 대한 책임은 부부가 공동으로 지게 되며, 일상 가사와 관련하여 배우자가 진 빚에 대해서도 다른 배우자가 이를 갚아야 할 의무가 있다.

이혼은 부부가 혼인 관계를 인위적으로 해소하는 것으로, 이혼에는 협의 이혼과 재판상 이혼이 있다. 전자는 부부 모두 이혼에 동의하는 경우이고, 후자는 어느 한쪽의 청구에 의한 법원의 판결에 따라 이혼하는 것이다.

협의 이혼은 가정 법원에서 이혼의 의사를 확인받아 행정 기관에 이혼 신고를 하는 것으로 완료된다. 협의 이혼은 이혼의 이유를 묻지 않으나, 경솔한 이혼을 예방하고 신중한 결정을 돕기 위해 **이혼 숙려 제도**를 시행하고 있다. **재판상 이혼**은 법원의 판결에 따라 강제로 이혼하는 것이므로 민법에서 정한 이혼 사유에 해당할 때에만 허용되며, 가정 법원의 판결이 확정되면 이혼의 효력이 발생한다.

이혼이 이루어지면 혼인 중 형성한 공동의 재산에 대하여 분할을 청구할 수 있는데, 이를 **재산 분할 청구권**이라고 한다. 또한 어느 한쪽이 이혼에 책임이 있는 경우 상대방은 정신적 피해에 대해 **위자료**를 청구할 수 있다. 이혼 시 자녀가 있는 경우 양육자를 누구로 정할지, 양육비는 어떻게 부담할지를 결정해야 하며, 이때 양육을 맡지 않는 부모는 자녀와 만나거나 연락할 수 있는 **면접 교섭권**을 갖는다.

부모와 자녀 간의 법률관계를 **친자 관계**라고 한다. 일반적인 친자 관계는 혈연관계를 기반으로 하고 있으나, 혈연관계가 없더라도 입양을 통해 법적으로 친자 관계가 형성될 수 있다. 혈연관계를 기반으로 하여 친자 관계가 형성된 자녀를 **친생자**라고 하고, 입양을 통해 친자 관계가 형성된 자녀를 **양자**라고 한다.

법률혼 관계의 부부 사이에서 아이가 태어나면 혼인 중의 출생자로 인정되어 친자 관계가 바로 형성된다. 그러나 혼인을 하지 않은 남녀 사이에서 태어난 아이는 혼인 외의 출생자로 인정되어 별도의 인지 절차를 거쳐 친자 관계가 형성 된다.

입양을 통해 친자 관계를 형성하는 경우에는 양부모와 양자 모두 입양에 동의해야 한다. 만약 양자가 될 사람이 미성년자라면 가정 법원의 허가를 받아야 한다. 입양 절차를 모두 마치면 양자와 양부모 사이에 법률적인 친자 관계가 형성되고, 친생자와 같은 지위를 갖게 된다.

친자 관계가 형성되면 부모와 자녀 모두에게 **부양의 의무**가 발생하고, 자식에게는 **재산 상속의 권리**가, 부모에게는 미성년 자녀에 대한 **친권**이 발생한다.

부모가 미성년인 자녀에 대해 갖는 신분, 재산상의 여러 권리와 의무를 **친권**이라고 한다. 친권은 자녀에 대한 부모의 권리로서의 성격도 있지만, 자녀를 보호하고 올바르게 양육해야 하는 의무로서의 성격도 강하다.

부모는 **자녀 명의의 재산을 관리**할 수 있으며 자녀의 **법률 행위를 대리**하거나 **동의권**을 행사할 수 있다. 그리고 자녀가 거주할 장소를 지정할 수 있고, 보호와 양육에 필요한 경우 **자녀를 징계**할 수도 있다.

친권은 **부모가 공동으로 행사**하는 것이 원칙이지만, 부모 중 한쪽이 행사할 수 없을 때는 다른 한쪽이 친권을 행사한다. 부모가 이혼하는 경우에는 부모의 협의로 친권을 행사할 사람을 정하고, 협의가 되지 않을 때는 가정 법원이 친권자를 정한다.

친권은 자녀 보호와 양육에 필요한 수준에서 행사해야 하며 자녀를 학대하거나 교육을 거부하는 등 친권을 남용해서는 안 된다. 또한 친권은 절대적인 권리가 아니므로 중대한 사유가 있을 때는 가정 법원이 친권 상실을 선고할 수 있다.

53. 다음 두 사례에 대한 옳은 법적 판단을 <보기>에서 고른 것은?

갑은 을과 법률상 혼인을 하여, 을이 병을 출산하였다. 그 후 갑은 을, 병과 함께 홀어머니 정을 모시고 살고 있었다. 어느 날 정지 신호를 보지 못하고 달려오던 운전자 A의 자동차에 횡단 보도를 건너던 갑이 치여 병원으로 옮겨지던 중 사망하였다. 갑의 사망 신고가 이루어진 후, 갑이 모든 재산을 아동 복지 법인에 기부한다는 내용의 유효한 유언장이 공개되었다. 생계의 위협을 받게 된 갑의 가족들은 유류분권을 행사하려고 한다.

* 유류분은 법정 상속분의 일정 비율로 청구할 수 있는데, 직계 비속과 배우자는 그 비율이 같고 직계 존속의 비율은 이들보다 작음.
** 이 사례에서는 유류분을 전액 청구하는 것을 전제함.

< 보 기 >

- ㄱ. 갑의 권리능력은 사망 신고와 상관없이 사망함으로써 소멸된다.
- ㄴ. 운전자 A가 형사 재판에서 유죄를 선고받으면 운전자 A는 을과 병에 대하여 손해 배상 책임을 면한다.
- ㄷ. 을이 유류분권을 행사해 받게 되는 유류분의 액수는 병이 유류분권을 행사해 받게 되는 유류분의 액수보다 많다.
- ㄹ. 을, 병, 정 모두 유류분권을 행사할 수 있다.

- ① ㄱ, ㄴ ② ㄱ, ㄷ ③ ㄴ, ㄹ
- ④ ㄱ, ㄷ, ㄹ ⑤ ㄴ, ㄷ, ㄹ

54. 다음 사례에 대한 법적 판단으로 옳은 것은?

갑은 질병으로 최근 사망하였다. 사망 당시 갑에게는 아내 을(55세), 딸 병(28세), 아들 정(25세)이 있었다. 당시 갑에게는 부동산 1억 원, 은행 대출로 인한 채무 1억 5천만 원이 있었다. 별도의 유언은 없었다. 정은 법이 정한 기간 내 한정 승인하였으나, 을과 병은 재산보다 채무가 더 많다는 사실을 알고 있으면서도 법이 정한 기간 내 아무런 의사 표시를 하지 않았다.

- ① 병에게 채무는 상속되지 않는다.
- ② 을, 병의 법정 상속분은 동일하다.
- ③ 병은 혼인 여부에 따라 법정 상속분에 차이가 있다.
- ④ 정은 상속에 의해 얻은 재산의 한도에서만 빚을 갚는 책임을 지게 된다.
- ⑤ 갑 사망 당시 병이 임신 중이었다면 그 태아에게도 유류분 반환 청구권이 인정된다.

55. 밑줄 친 ㉠~㉤에 대한 설명으로 옳은 것은?

•갑은 만 18세이다. 갑에게는 할아버지가 물려주신 ㉠ 2억 원 상당의 주택이 있다. 갑은 부모님의 동의를 얻어 만 20세의 을과 ㉡ 결혼식을 올린 후 ㉢ 혼인 신고를 마쳤다.

•병과 정은 모두 만 35세이다. 병에게는 그동안 회사 생활을 하며 모아 둔 돈으로 마련한 ㉣ 2억 원 상당의 주택이 있다. 혼인 의사가 있는 병과 정은 ㉤ 결혼식을 올리고 ㉥ 부부 공동 생활을 하고 있지만, 아직 혼인 신고는 하지 않았다.

- ① ㉡으로 인해 갑은 민법상 성년으로 의제된다.
- ② ㉢으로 인해 갑과 을은 혼인의 실질적 요건을 갖추었다.
- ③ ㉣에도 불구하고 을에게 ㉠에 대한 소유권은 인정되지 않는다.
- ④ ㉤으로 인해 정은 ㉣에 대한 소유권을 갖는다.
- ⑤ ㉥으로 인해 병과 정 사이에는 상속권이 발생한다.

56. 밑줄 친 ㉠~㉤에 대한 설명으로 옳은 것은?

갑은 을과 혼인 생활을 유지해오다 을의 부정행위로 이혼을 하고자 한다. 갑은 을과 ㉠ 합의하여 이혼을 하려고 하는데, 만약 을이 이혼에 대해 합의해 주지 않으면 ㉡ 다른 방법으로 이혼을 하려고 한다. 갑과 을에게는 유치원에 다니는 자녀가 있으며, 혼인 중에 형성된 재산으로는 갑 명의의 집이 한 채 있다.

- ① ㉠은 원칙적으로 이혼 숙려 기간을 거쳐야 한다.
- ② ㉡은 행정 기관에 이혼 신고서를 제출해야 효력이 발생한다.
- ③ ㉠과 달리 ㉡에서는 을이 갑에게 재산 분할을 청구할 수 있다.
- ④ ㉡과 달리 ㉠에서는 자녀를 양육하지 않는 자에게 자녀에 대한 면접 교섭권이 인정된다.
- ⑤ ㉠, ㉡ 모두 법에서 정한 이혼 사유가 있어야 가능하다.

16. 형법의 이해

국가는 구성원이 해서는 안 되는 유해하거나 반사회적인 행동에 대한 기준을 법으로 정하고 이를 어기면 일정한 형벌을 통해 사회 질서를 유지하고자 한다. **형법**은 어떠한 행위가 범죄이고 이에 대해 어떤 형벌을 부과할 것인지를 규정하는 법규범, 즉 범죄와 형벌의 관계를 규정한 법률이다.

형법이 없던 시대에는 다른 사람으로부터 피해를 본 사람이 가해자에게 개인적으로 보복이나 응징을 하는 경우가 있었다. 그러나 개인이 자의적 판단으로 보복이나 응징을 하게 되면 어떤 방법과 어느 정도로 응징해야 할지 명확하지 않아 사회적으로 혼란이 생길 수 있다. 그래서 국가가 나서서 형법을 제정하고 이를 기반으로 범죄자를 처벌하게 되었다.

이처럼 형법은 개인의 자의적 보복이나 응징을 금지하고 국가 권력에 의한 처벌만 가능하도록 하여 **타인에 의한 인권 침해**를 방지한다. 또한 해서는 안 되는 행동과 그에 따른 처벌을 미리 규정함으로써 사회 구성원 간에 발생할 수 있는 혼란을 방지하여 **안정적으로 법적 생활을 할 수 있도록** 한다.

형법은 개인의 생명, 재산 등과 같은 **법익을 보호**하는 기능을 하며, 형벌권의 한계를 명백히 밝혀 **국가의 자의적인 권력 행사로부터 국민의 자유와 권리를 보장**한다. 또한 국민이 더욱 안전한 생활을 할 수 있도록 **범죄를 예방**하고, 범죄자가 다시 범죄를 저지르지 않도록 **교화**하여 사회로 복귀하는 데 도움을 준다.

“법률이 없으면 범죄도 없고 형벌도 없다.”라는 근대 형법의 기본 원리를 **죄형 법정주의**라고 한다. 이는 어떤 행위가 범죄가 되고 그 범죄에 대해 어떤 처벌을 할 것인지가 성문의 법률에 미리 규정되어 있어야 한다는 원칙이다. 죄형 법정주의에 따르면 국가는 사회적으로 비난받아야 할 행위를 한 사람이라도 그 행위를 법률에서 범죄로 규정하지 않으면 처벌할 수 없고, 범죄라 하더라도 법률이 정하고 있지 않은 형벌을 가할 수 없다.

그러나 근대적 의미의 죄형 법정주의는 법률의 내용을 문제 삼지 않아 입법자의 자의적 판단에 의한 형벌권의 남용을 초래하였다. 이에 따라 오늘날에는 실질적 법치주의를 바탕으로 하여 “적정한 법률이 없으면 범죄도 없고 형벌도 없다.”라는 현대적 의미의 죄형 법정주의가 확립되었다. 현대적 의미의 죄형 법정주의는 형식적인 법률의 존재뿐만 아니라 법률 내용의 적정성까지 보장하여 법관 또는 입법자의 자의적인 판단으로부터 **국민의 자유와 권리를 보호하는 것을 목적으로** 한다.

우리는 사회 질서를 어지럽히는 행위에 대해 ‘잘못된 행동’, ‘해서는 안 되는 행동’, ‘나쁜 행동’ 등으로 표현하는데, 국가는 이러한 행위 중에서 특히 중대하고 반사회적인 행동을 법률로 정해 강제적으로 금지하고 이를 어길 때 일정한 제재를 가한다. 이처럼 법익을 침해하고 사회의 안전과 질서를 어지럽히는 반사회적 행위 중 국가가 법률로 금지하여 형벌의 부과 대상이 되는 행위를 **범죄**라고 한다. 타인에게 피해를 주는 반사회적 행위라고 하더라도 법률에 규정되어있지 않으면 죄형 법정주의 원칙상 범죄가 성립할 수 없으며 형벌을 가할 수 없다.

어떤 행위를 범죄로 규정하기 위해서는 일정한 조건이 필요한데, 이를 **범죄의 성립 요건**이라고 한다. 범죄의 성립 요건에는 구성 요건 해당성, 위법성, 책임이 있으며, 세 가지 요건을 모두 충족해야 범죄가 성립한다.

형법은 범죄 행위의 유형을 명확하게 규정하고 있는데, 이렇게 법률로 정해 놓은 범죄 행위의 유형을 범죄의 구성 요건이라고 한다. 어떤 행위의 범죄 성립 여부를 판단하기 위해서는 가장 먼저 그 행위가 구성 요건에 해당하는지를 따져 보아야 한다. 예를 들어 절도죄에 대해 형법 제329조에는 “타인의 재물을 절취한 자는 6년 이하의 징역 또는 1천만 원 이하의 벌금에 처한다.”라고 규정되어 있다. 따라서 어떤 사람이 타인의 물건을 훔쳐 달아났다면 이 행위는 절도죄의 구성 요건에 해당한다.

범죄가 성립하기 위해서는 구성 요건에 해당하는 행위가 전체 범질서에 위배되어야 하는데 이를 **위법성**이라고 한다. 구성 요건은 위법한 행위를 유형적으로 규정한 것이므로 구성 요건에 해당하는 행위는 원칙적으로 위법하다고 볼 수 있으나 예외적으로 위법성이 인정되지 않는 경우가 있다. 우리 형법은 **정당방위, 정당 행위, 긴급 피난, 자구 행위, 피해자의 승낙**에 해당하는 행위를 **위법성 조각 사유**로 규정하고 있다. 위법성 조각 사유에 해당하면 구성 요건에 해당하는 행위라도 범죄가 성립하지 않는다.

구성 요건에 해당하고 위법성이 인정된 행위라도 범죄가 성립하기 위해서는 책임의 요건을 갖추어야 한다. **책임**이란 행위자에 대한 사회적 비난 가능성을 말한다. 우리 형법은 14세 미만인 형사 미성년자의 행위, 심신 상실자의 행위, 저항할 수 없는 폭력이나 자기 또는 친족의 생명, 신체에 대한 협박으로 강요된 행위에 대해서는 책임이 없다고 규정하고 있다. 또한 심신 미약자, 농아자 (청각 및 언어 장애인) 의 행위에 대해서는 책임이 조각되지 않지만, 형을 감경한다는 규정을 두고 있다.

범죄에 대한 법률상의 효과로서 국가가 범죄자에게 공권력을 행사하여 부과하는 처벌을 형벌이라고 한다. 형벌은 법익의 박탈을 그 내용으로 하며, 우리나라에서는 생명형, 자유형, 명예형, 재산형에 해당하는 9가지의 형벌을 규정하고 있다.

생명형에는 사형이 있으며 생명을 박탈하는 형벌이다. **자유형**에는 구금 기간 및 정역 여부에 따라 징역, 금고, 구류의 형벌이 있다. **명예형**은 공무원이 되는 자격, 선거권과 피선거권 등을 박탈하거나 일시적으로 자격의 전부 또는 일부를 정지시키는 형벌로 자격 상실과 자격 정지가 있다. **재산형**에는 벌금, 과료, 몰수가 있는데, 벌금과 과료는 일정 금액을 부담하도록 하는 형벌이고, 몰수는 범죄 행위와 관련된 재산을 박탈하는 형벌이다.

보안 처분이란 범죄를 저지를 위험이 있는 범죄자의 재범을 방지하고, 범죄자의 사회 복귀와 사회 질서 보호의 목적을 달성하기 위한 대안적 제재 수단이다. 우리나라의 대표적인 보안 처분에는 보호 관찰과 치료 감호가 있다. **보호 관찰**은 범죄자가 구금되지 않은 상태에서 사회생활을 하면서 보호 관찰관의 지도와 감독을 받도록 하는 것이고, **치료 감호**는 심신 장애 상태, 마약류, 알코올이나 그 밖의 약물 중독 상태에서 범죄 행위를 하여 치료 감호 시설에서 치료를 받을 필요가 있고 재범의 위험성이 있는 자에 대해 적절한 보호와 치료를 하는 것이다. 그 밖의 보안 처분에는 수감 명령, 사회봉사 명령, 성범죄자 신상 정보 등록 제도 등이 있다.

57. 밑줄 친 ‘A 원칙’에 대한 옳은 설명만을 <보기>에서 있는 대로 고른 것은?

갑은 을의 컴퓨터에 저장된 전자 파일을 자신의 이동식 저장 장치에 몰래 복사한 행위와 관련하여 절도죄로 공소 제기되었다. 갑은 1심 재판에서, 컴퓨터 파일과 같은 전자 정보를 복사하는 행위는 절도죄의 구성 요건에 해당하지 않음에도 절도 행위와 유사하다는 이유만으로 절도죄의 규정을 그대로 적용하는 것은 죄형 법정주의의 A 원칙에 위반된다고 주장하였다.

< 보 기 >

- ㄱ. 범죄의 성립과 형벌에 모두 적용된다.
- ㄴ. 범죄와 처벌이 균형을 갖추어야 한다는 원칙이다.
- ㄷ. 적용할 형법 규정이 없는 경우 법관의 자의적인 판단만으로 처벌할 수 없다는 것을 의미한다.
- ㄹ. 범죄 행위가 어떤 것인지를 누구나 예측할 수 있게 법률로 명확하게 규정하여야 한다는 것을 의미한다.

- ① ㄱ, ㄷ ② ㄴ, ㄷ ③ ㄴ, ㄹ
- ④ ㄱ, ㄴ, ㄹ ⑤ ㄱ, ㄷ, ㄹ

58. 밑줄 친 ‘A 원칙’에 대한 옳은 설명만을 <보기>에서 있는 대로 고른 것은?

범죄로 규정되어 있지 않았던 행위를 법률의 개정으로 소급하여 처벌하는 것은 헌법상 평등의 원칙과 A 원칙에 반한다. 이와는 달리, 기존 판례에서 처벌하지 않았던 행위를 법률이 바뀌지 않았으나 판례가 변경되어 처벌하는 것은 헌법에 반하지 않는다. 형사 처벌의 근거가 되는 것은 판례가 아니라 법률이며, 판례의 변경을 제한하는 것은 사법 제도의 본질에 반하기 때문이다.

< 보 기 >

- ㄱ. 형법의 보장적 기능 실현을 위해 필요한 원칙이다.
- ㄴ. 행위 당시의 판례를 신뢰한 자는 보호되어야 한다는 원칙이다.
- ㄷ. 범죄의 성립 및 처벌의 정도는 법관이 결정해야 한다는 원칙이다.
- ㄹ. 행위 당시의 형벌 법규를 재판의 기준으로 삼아야 한다는 원칙이다.

- ① ㄱ, ㄴ ② ㄱ, ㄹ ③ ㄴ, ㄷ
- ④ ㄱ, ㄷ, ㄹ ⑤ ㄴ, ㄷ, ㄹ

59. 다음 사례에 대한 법적 판단으로 옳은 것은?

갑(30세)은 길을 걷다 을(18세)과 병(13세)이 A를 구타하고 있는 현장을 목격하고 이를 말리려 하였다. 갑의 개입에 화가 난 을이 갑자기 흥기를 꺼내 덤비자, 생명에 위협을 느낀 갑은 이를 제지하는 과정에서 ㉠ 을을 벽으로 밀어 전치 2주의 상해를 입혔다. 화가 난 을이 더욱 심하게 덤벼들자 갑은 일단 자리를 피하려고 하였지만 을은 갑을 끝까지 추격하였다. 막다른 골목에 다다른 갑은 끝까지 따라온 을의 추격을 따돌리기 위한 다른 방법이 없자 ㉡ 옆집 대문을 부수고 그 집 차고에 들어갔다. 출동한 경찰관은 을을 ㉢ 현행범으로 체포하였고, A에 대한 상해 혐의로 현재 을에 대한 1심 형사 재판이 진행 중이다.

- ① 을에게 유죄가 인정되면 을은 형벌과 동시에 소년법상 보호 처분을 받을 수 있다.
- ② 병에게는 책임 조각 사유가 존재하기 때문에 소년원 송치 처분의 대상이 될 수 없다.
- ③ A는 을을 상대로 민사 소송을 별도로 제기하지 않아도 재판이 진행 중인 법원에 상해로 인한 치료비에 대해 배상 명령을 신청할 수 있다.
- ④ ㉢은 법령에 근거한 행위로서 구성 요건에 해당하지 않기 때문에 범죄가 성립하지 않는다.
- ⑤ ㉠, ㉡에 대해 범죄가 성립하지 않는다면, 모두 긴급 피난에 해당되어 위법성이 조각되기 때문이다.

60. 다음 사례에 대한 법적 판단으로 옳은 것은?

- 경찰관 갑은 절도범을 적법하게 긴급 체포하였다.
- 을의 범죄 후 그 범죄를 가중 처벌하도록 형법이 개정되었다.
- 병은 이틀 전 자신의 물건을 파손한 A를 길거리에서 우연히 발견하고 손해를 배상받기 위해 A를 붙잡으면서 부득이하게 폭행하였다.
- 정의 종업원 퇴직금 미지급으로 인한 ○○법 위반 행위에 대하여, 법원은 객관적 범질서에 반하지만 정에게 부득이한 사정이 있어 법적 비난 가능성이 없다며 무죄를 선고하였다.
- 무가 전화상으로 단순히 고성을 지른 행위에 대하여, 법원은 폭행죄의 폭행 개념인 '사람의 신체에 대한 유형력의 행사'에 해당하지 않는다며 폭행죄로 기소된 무에게 무죄를 선고하였다.

- ① 갑의 체포는 범죄 구성 요건에 해당하지 않는다.
- ② 을을 개정된 형법으로 처벌해도 소급효 금지 원칙 위반이 아니다.
- ③ 병의 폭행은 정당방위로서 위법성이 조각된다.
- ④ 정의 행위는 위법성이 인정되나 책임이 조각된다.
- ⑤ 무의 행위는 범죄 구성 요건에 해당하나 위법성이 조각된다.
- ⑤ ㉠, ㉡에 대해 범죄가 성립하지 않는다면, 모두 긴급 피난에 해당되어 위법성이 조각되기 때문이다.

17. 형사 절차와 인권 보장

범죄가 발생하면 국가는 사건의 진실을 밝히고 죄가 확인되는 경우 범죄자에게 형벌을 가하는데, 국가가 수사를 거쳐 형사 재판에서 유무죄를 가리는 일련의 과정을 **형사 절차**라고 한다.

수사란 범인을 찾고 증거를 수집하는 활동으로, 범죄가 발생하였거나 발생한 것으로 생각되는 경우 수사 기관은 고소, 고발, 자수, 현행범 체포 등을 통해 수사를 개시한다. 이때 수사의 대상이 되는 사람을 **피의자**라고 한다. 수사 기관은 피의자를 체포, 구속하지 않고 수사하는 것이 원칙이나, 피의자가 죄를 범하였다고 의심할 만한 타당한 이유가 있고 수사 기관의 출석 요구를 거부하거나 증거 인멸 또는 도주 우려가 있는 등 체포나 구속이 필요한 경우에는 법관으로부터 영장을 발부받아 구속 수사를 할 수 있다.

수사를 통해 피의자의 범죄 혐의가 인정되면 검사는 법원에 형사 재판을 요청하는 **공소 제기**, 즉 **기소**를 하며, 혐의가 인정되지 않으면 **불기소 처분**을 통해 사건을 종결한다. 한편 검사는 피의 사실이 인정되더라도 범인의 성행이나 동기를 참작하여 공소를 제기하지 않고 **기소 유예**를 할 수 있다.

검사가 공소 제기를 하면 법원은 형사 재판을 진행한다. 재판이 시작되면 피의자는 **피고인**이 되며, 검사와 더불어 형사 재판의 당사자가 된다.

형사 재판에서는 피고인의 유무죄 여부를 가려 유죄로 인정될 때에는 형벌을 부과하는데 이러한 일련의 절차를 **공판**이라고 한다. 공판은 일반인에게 공개하는 것을 원칙으로 하며, 법원의 결정으로 심리를 공개하지 않을 수 있으나 판결은 반드시 공개하여야 한다. 판사는 증거 조사, 피고인 신문 등을 거쳐 검사의 의견 진술과 피고인, 변호인의 최후 진술을 들은 후 판결을 선고한다.

피고인의 행위에 대해 범죄가 성립하지 않으면 판사는 무죄 판결을 하고, 범죄가 성립하면 유죄 판결을 하여 형을 선고한다. 다만 형을 선고할 때 형의 집행을 유예하거나 선고를 유예하는 판결을 내릴 수 있다. **집행 유예**는 일정 기간 형의 집행을 미루어 두었다가 그동안 다시 범죄를 저지르지 않으면 형선고의 효력을 잃게 하는 제도이며, 보안 처분에 해당하는 보호 관찰, 사회봉사 명령, 수강 명령 등을 함께 부과할 수 있다. **선고 유예**는 일정 기간 형의 선고를 유예하고 그 기간이 지난 때에는 기소된 것으로 간주하는 제도이다. 집행 유예와 선고 유예는 범죄를 저지른 사람이 사회에 바로 복귀할 수 있는 길을 열어 주는 제도이다.

피고인의 유죄가 확정되면 검사의 지휘로 형 집행 절차에 들어간다. 피고인이 징역, 금고, 구류의 확정 판결을 받을 때는 교도소에 구금되지만, 집행 유예나 선고 유예 판결이 확정되면 구금되지 않는다. 피고인이 벌금, 과료의 형벌을 선고받을 때는 기간 내 일정 금액을 납부하여야 한다.

한편 우리나라에서는 형의 집행으로 교도소에 구금된 사람이 성실히 복역하고 잘못을 뉘우치는 마음이 크다고 인정되는 등의 경우 형기 만료 전에 조건부로 석방하고 일정 기간이 지나면 형의 집행을 종료한 것으로 간주하는 **가석방 제도**를 두고 있다. 가석방 제도는 수형자의 자발적이고 적극적인 사회복귀 노력을 촉진하고, 불필요한 형 집행 기간을 단축하기 위한 제도이다.

형사 사건이 발생하면 국가가 나서서 수사하고 형사 재판 절차를 거쳐 피고인이 유죄 판결을 받으면 형벌을 가한다. 그러나 국가가 형벌권을 행사하는 과정에서 헌법에 보장된 개인의 자유와 권리를 과도하게 제한하거나 침해하는 상황이 벌어질 수도 있다. 이에 따라 우리 헌법은 형사 절차 전반에서 발생할 수 있는 피의자 또는 피고인의 인권 침해를 방지하기 위해 여러 가지 원칙 및 권리를 규정하고 있다.

헌법 제12조 제1항은 적법 절차의 원칙을 규정하고 있다. 적법 절차의 원칙은 공권력에 의한 개인의 자유와 권리 제한은 반드시 법에 정해진 절차에 의한 경우에만 유효하다는 원리로 국가 형벌권의 남용으로부터 국민의 인권을 보호하기 위한 것이다.

헌법 제27조 제4항은 유죄의 판결이 확정되기 전까지 피고인을 죄가 없는 사람으로 봄으로써 법률적, 사실적 측면에서 불이익을 주지 않는다는 **무죄 추정의 원칙**을 규정하고 있다. 무죄 추정은 수사 절차에서부터 형사 재판 절차에 이르기까지 형사 절차 전반에 걸쳐 적용되는 원칙으로, 수사 기관이나 재판 기관은 무죄 추정의 원칙에 따라 원칙적으로 불구속 수사와 불구속 재판을 해야 한다.

헌법 제12조 제2항은 피의자나 피고인의 인간으로서의 존엄과 가치를 보장하기 위해 고문과 자백의 강요를 당하지 않을 권리를 규정하고 있다. 이에 따라 고문 등으로 얻은 진술은 증거 능력을 인정받지 못하며, 수사 과정이나 재판 과정에서 피의자 또는 피고인은 **진술 거부권**을 행사할 수 있다.

헌법 제12조 제4항은 피의자와 피고인 모두에게 **변호인의 조력을 받을 권리**가 있음을 규정하고 있다. 이는 국가의 강제적인 형벌권 행사에 대항하여 국민이 국가와 대등한 관계에서 자신을 방어할 수 있도록 하기 위한 것이다. 또한 **국선 변호인 제도**를 두어 스스로 변호인을 구할 수 없는 국민의 인권을 보장하고자 한다.

수사 과정에서 피의자는 무죄 추정의 원칙에 따라 원칙적으로 불구속 수사를 받는다. 그러나 예외적으로 적법한 절차에 따라 법관이 발부한 영장을 제시하면 피의자에 대한 체포, 구속, 압수, 수색이 가능하도록 하고 있는데, 이를 **영장 제도**라고 한다. 이는 수사 기관이 체포, 구속 등과 같이 개인의 자유를 제한할 때 수사 기관의 판단에 맡기지 않고 법관의 판단에 따르도록 하여 국민의 인권을 보장하기 위한 것이다. 다만 현행 범인이거나 긴급 체포가 필요할 때는 예외적으로 영장 없이 체포할 수 있지만, 이 경우에도 사후 영장은 필요하다.

영장 제도에 따라 검사가 피의자에 대한 구속 영장을 신청하면 판사는 영장을 발부할지를 판단한다. 이때 판사는 구속 영장이 청구된 피의자의 수사 기록과 직접 심문 등을 통해 의견을 듣고 이를 종합하여 구속 여부를 결정하는데, 이를 **구속 영장 실질 심사 제도**라고 한다. 구속 영장 실질 심사 제도는 피의자의 방어권 및 법관 대면권을 최대한 보장하기 위한 것이다.

구속 영장이 발부되어 피의자가 구속되더라도 피의자는 구속 절차의 적법성과 필요성을 심사하여 자신을 석방해 줄 것을 법원에 신청할 수 있는데, 이를 **구속 적부 심사 제도**라고 한다. 구속 적부 심사 제도는 영장 발부에 대한 재심사의 기회를 마련함으로써 부당하게 침해될 수 있는 국민의 인권을 보호하기 위한 것이다.

한편 피고인이 구속된 상태에서 재판이 진행될 때 피고인은 일정한 보증금의 납부를 조건으로 하여 구속의 집행을 정지하도록 신청할 수 있는데, 이를 **보석 제도**라고 한다. 이러한 보석 신청은 원칙적으로 기소 후의 구속 단계에서 가능하다.

타인의 범죄 행위로 생명 또는 신체에 피해를 보았음에도 가해자로부터 피해의 전부 또는 일부를 배상받지 못하는 일이 발생할 수 있다. 이때 국가가 피해자 또는 유족에게 일정한 한도의 구조금을 지급하는 제도를 두고 있는데, 이를 **범죄 피해자 구조 제도**라고 한다.

또한 범죄 피해자가 손해 배상을 받기 위해서는 민사 소송을 제기하는 것이 원칙이지만, 우리나라에서는 범죄 피해자가 형사 재판에서 간편하게 민사상 손해 배상까지 받을 수 있도록 하는 **배상 명령 제도**를 두고 있다. 이는 피해자가 신속하고 간편하게 피해 보상을 받을 수 있도록 하는 것으로 일정한 사건의 형사 재판에서 인정된다.

한편 형사 피의자 또는 피고인이 억울하게 구금되는 일이 발생할 수 있는데, 이러한 경우 **형사 보상 청구 제도**를 통해 물질적, 정신적 피해의 보상을 청구할 수 있다. 미결 구금된 형사 피의자가 불기소 처분을 받거나, 미결 구금되었던 피고인이 무죄 판결을 받은 경우, 또는 판결이 확정되어 형의 집행을 받은 사람이 재심을 통해 무죄 판결을 받았을 때 청구할 수 있다.

이 밖에 무죄 판결을 받은 사람이 자신의 무죄 사실을 다른 사람에게 알려 명예를 회복할 수 있도록 **명예 회복 제도**를 두고 있다.

61. 갑~병의 사례에 대한 법적 판단으로 옳은 것은?

- 갑이 사기 혐의로 불구속 상태에서 수사를 받고 있던 중, 검사가 구속 영장을 청구하였다.
- 을이 상해 혐의로 구속 상태에서 항소심 재판을 받고 있다.
- 병이 절도 혐의로 구속·기소되어 징역 1년에 집행 유예 2년의 확정 판결을 받았고, 그 후 1년이 경과되었다.

- ① 갑은 검사의 구속 영장 청구에 따라 구속 적부 심사를 받게 된다.
- ② 을은 항소심 재판 중 일정한 조건을 갖추면 가석방될 수 있다.
- ③ 을과 달리 갑은 형사 피의자이므로 변호인의 조력을 받을 권리를 갖지 않는다.
- ④ 병은 갑, 을과 달리 무죄 추정의 원칙이 적용되지 않는다.
- ⑤ 병은 앞으로도 2년 동안 죄를 짓지 않아야 형 선고의 효력이 상실된다.

62. 다음 사례에 대한 법적 판단으로 옳은 것은?

갑(40세)은 을(45세)을 폭행하여 경찰관에게 현행범으로 체포되었다. 갑은 영장에 의해 구속되어 수사를 받았으며, 병에 의하여 기소되었다. 기소 이후 을에 대한 갑의 폭행 사건 관련 공판이 진행되었다. 병은 갑에게 징역 2년을 구형하였으며, 갑은 징역 6월에 집행 유예 2년을 선고받고 석방되었다. 하지만 을은 갑에게 선고된 형이 낮다고 생각하였다.

- ① 구속된 갑은 영장 실질 심사를 통해 구속 상태에서 벗어날 수 있다.
- ② 병은 수사 과정에서 구속 적부 심사를 법원에 청구할 수 있다.
- ③ 기소 후 진행된 형사 재판의 당사자는 갑과 병이다.
- ④ 을은 갑의 선고 결과에 불복하여 상소할 수 있다.
- ⑤ 갑은 위의 판결이 확정되면 형사 보상을 청구할 수 있다.

63. 밑줄 친 ㉠~㉣에 대한 설명으로 옳은 것은?

갑은 을의 사기 범죄 사실에 대해 경찰에 ㉠ 고소장을 제출하였고 이에 따라 을에 대한 수사가 개시되었다. 경찰은 을에 대한 ㉡ 체포를 통해 신병을 확보하여 ㉢ 피의자 신문을 하고 ㉣ 구속 영장을 발부 받아 구속하였다. 을은 수사 진행 과정에서 구속 절차의 적정성을 이유로 석방을 요구하였고 ㉤ 법원의 심사 중에 있다.

- ① ㉠은 범죄 피해자와 관련자를 제외한 제3자가 수사 기관에 수사를 요청하기 위해 제출하는 문서이다.
- ② 수사 기관이 ㉡을 하기 위해서는 법원이 사전에 발부한 영장을 예외 없이 필요로 한다.
- ③ 을은 ㉢을 받음에 있어 진술을 거부할 수 있으나 변호인의 조력을 받을 수는 없다.
- ④ 수사 기관이 ㉣을 신청하면 법원은 별도의 피의자 심문 절차 없이 형식 심사만을 통해 발부 여부를 결정한다.
- ⑤ ㉤을 통해 구속의 필요성이 없다고 판단될 경우 을은 석방된다.

64. 다음 사례에 대한 법적 판단으로 옳은 것은?

갑(14세)은 얼마 전 길에서 주운 신분증을 이용해 편의점에서 술과 담배를 구입하려다 편의점 주인에게 적발되었다. 갑은 술과 담배를 가지고 황급히 도주하였지만 편의점 주인에게 붙잡혀 실랑이를 벌였고, 급기야 편의점 주인을 폭행하였다. 마침 지나가던 을(30세)이 갑을 제압한 후 경찰에 인계하였다.

- ① 갑의 범죄 행위는 소년부 보호 사건의 처리 대상에 포함되지 않아 일반 형사 사건과 동일하게 처리된다.
- ② 갑은 책임 조각 사유가 존재하므로 불기소 처분을 받는다.
- ③ 갑은 수사 종결 후 가정 법원 소년부로 송치되어 보호 처분의 결정을 받게 되면 항고할 수 있다.
- ④ 갑에 대한 공판 절차가 개시되면 을도 재판의 당사자가 된다.
- ⑤ 을이 갑을 제압한 행위는 자구 행위에 해당하기 때문에 범죄가 성립하지 않는다.

65. 다음 사례에 대한 법적 판단으로 옳은 것은?

18세의 고등학생 갑은 공원에 갔다가 매점 뒤에 세워 둔 을 소유의 오토바이를 훔쳐서 타고 다니다가 호수에 버렸다. 이에 을은 갑을 절도죄로 고소하였을 뿐만 아니라 오토바이에 대한 민사상 손해도 배상받고 싶어 한다

- ① 갑은 전과로 기록되지 않는 보호 처분을 받을 수 있다.
- ② 갑은 특수 불법 행위로 인한 민사상 손해 배상 책임을 진다.
- ③ 갑은 청소년 참여 법정에서 선도 조건부 기소 유예를 받을 수 있다.
- ④ 을은 형사 재판에서 민사상 손해 배상을 신청할 수 없다.
- ⑤ 을은 범죄 피해자 구조 제도를 통해 배상받을 수 있다.

18. 근로자의 권리 보호

자유방임주의를 추구했던 근대 자본주의 국가는 개인의 사적 영역에 대한 국가의 개입을 최소화하였다. 그러나 자본주의가 발달하는 과정에서 빈부 격차 심화, 노사 간 대립 등의 문제가 발생하였다. 이를 해결하기 위해 국가가 개인의 사적 영역에 적극적으로 개입해야 한다는 요구가 커지면서 **사회법**이 등장하였다. 사회법은 공법과 사법의 중간 영역에 해당하는 법으로 크게 노동법, 경제법, 사회 보장법으로 구분된다.

사회법의 하나인 노동법은 사회적 약자인 근로자를 보호하기 위해 제정되었다. 자본주의 발달 과정에서 사용자는 근로자에게 낮은 임금, 긴 노동 시간 등 열악한 조건의 근로 계약 체결을 요구했고, 근로자는 다른 일자리를 찾기 어려워 사용자가 제시한 근로 조건에 따라 일할 수밖에 없었다. **노동법**은 경제적 약자인 근로자들을 보호하기 위해 노사 관계를 규정함으로써 근로자의 인간다운 생활과 생존권을 보장하려는 목적으로 등장하였다.

근로자가 사용자에게 근로를 제공하고 사용자는 이에 대해 임금을 지급할 목적으로 체결된 계약을 **근로 계약**이라고 한다. 우리나라는 근로 계약과 관련하여 근로자의 실질적 지위를 보호하기 위해 「근로 기준법」을 제정하여 시행하고 있다.

이 법에 따르면 사용자는 근로 계약을 체결할 때 임금, 근로 시간, 휴일 등의 사항을 명시하여 서면으로 작성하여야 한다. 임금은 법정 최저 임금 이상이어야 하며, 근로자에게 직접 매월 1회 이상 일정한 날짜를 지정하여 지급하여야 한다. 법정 근로 시간은 일주일에 40시간, 하루 8시간을 초과할 수 없으며, 근로자와 사용자가 합의하면 일주일에 12시간 이내의 근로가 가능하다. 사용자는 소정의 근로일을 개근한 근로자에게 일주일에 평균 1회 이상의 유급 휴일을 주어야 한다. 「근로 기준법」에 어긋나는 계약 사항은 무효이며, 무효로 된 부분은 「근로 기준법」에서 정하는 기준을 따른다. 또한 「근로 기준법」의 근로 조건은 최저 기준이므로 사용자는 이 기준을 이유로 기존의 근로 조건을 낮출 수 없다.

근로 계약 후 근로 계약서에 명시된 근로 조건이 사실과 다를 경우 근로자는 손해 배상을 청구할 수 있으며 근로 계약을 즉시 해제할 수 있다. 사용자가 정당한 이유 없이 근로자를 해고하거나 해고 절차를 지키지 않는 것은 부당 해고에 해당하는데, 부당 해고를 당한 근로자는 노동 위원회에 구제를 신청하거나 법원에 해고 무효 확인 소송을 제기하여 구제받을 수 있다.

근로자는 근로관계에서 상대적 약자이므로 우리 헌법은 근로자가 사용자와 대등한 지위에서 근로 조건을 결정할 수 있도록 **근로 3권**을 규정하고 있다.

근로자는 근로 조건의 유지 및 향상을 위하여 구동조합을 결성하거나 노동조합에 가입하여 활동할 수 있는 **단결권**을 갖는다. 또한 노동조합은 근로 조건의 유지 및 개선에 관하여 사용자와 집단으로 교섭할 수 있는 **단체 교섭권**을 갖는다. 노동조합이 단체 교섭을 요구하면 사용자는 정당한 사유가 없는 한 교섭에 응해야 한다. 그러나 단체 교섭을 통한 단체 협약이 원만하게 체결되지 않아 근로자와 사용자 간에 분쟁이 발생하면 근로자는 자신의 의견을 관철하기 위해 일정한 절차를 거쳐 쟁의 행위를 할 수 있는데, 이를 **단체 행동권**이라고 한다. 쟁의 행위에는 파업, 태업 등이 있으며 법에 정해진 일정한 절

차를 거친 정당한 쟁의 행위에 대해서는 노동조합의 민형사상 책임이 면제된다. 이와 같은 근로 3권은 근로자의 권익을 지키고 근로 조건을 개선하기 위해 헌법에 보장된 권리이므로 사용자는 부당하게 근로 3권을 침해해서는 안 된다.

「**노동조합 및 노동관계 조정법**」은 사용자가 노동조합의 활동을 방해하기 위해 불공정한 방법으로 근로 3권을 침해하는 행위를 **부당 노동 행위**로 규정하여 금지하고 있다. 예를 들어 근로자의 노동조합 결성, 가입, 활동 등을 이유로 불이익을 주거나, 근로자가 노동조합에 가입하지 않을 것을 고용 조건으로 하는 것은 부당 노동 행위이다. 사용자의 부당 노동 행위로 권리를 침해당한 근로자 또는 노동조합은 노동 위원회를 거쳐 법원에 권리 구제를 요청할 수 있다.

사용자와 근로자는 서로를 대등한 관계로 인식하여 상호 공생의 관계를 유지해야 한다. 사용자는 근로자의 권리 보호 및 근로 조건 개선을 위해 노력해야 하며, 헌법, 「근로 기준법」, 「노동조합 및 노동관계 조정법」 등을 준수하여 근로자의 권리가 침해되지 않도록 해야 한다.

근로자는 자신의 이익만을 추구하기보다는 회사의 상황을 이해하고, 근로자와 사용자가 공동의 목표를 달성하고자 하는 관계임을 고려해야 한다. 노사 간 갈등이 발생한 경우에는 협상, 토론, 교섭을 통하여 서로의 입장을 조율하고 갈등을 해결하려는 노력이 필요하다.

청소년도 성인과 마찬가지로 근로할 수 있다. 다만 청소년은 사회적, 경제적, 신체적 약자로서 마땅히 보호받아야 함에도 근로 현장에서 보호받지 못하거나, 미성년자라는 이유로 주어진 권리를 행사하지 못할 염려가 있으므로 청소년의 근로는 「근로 기준법」, 「청소년 보호법」 등에서 특별히 보호하고 있다.

「근로 기준법」은 청소년이 의무 교육을 받는 데 지장을 주지 않도록 15세 미만인 청소년 또는 18세 미만이라도 중학교에 재학 중인 청소년은 근로자로 일할 수 없도록 정하고 있다. 다만 예외적으로 고용 노동부 장관이 발급한 취직 인허증을 지닌 청소년은 15세 미만이라도 일할 수 있다.

사용자는 18세 미만의 청소년을 도덕상 또는 보건상 유해하거나 위험한 사업에 고용해서는 안 되며, 청소년은 청소년 유해 업소나 청소년 고용 금지 업소에서 일할 수 없다. 사용자는 18세 미만인 청소년을 고용하는 경우 청소년의 나이를 증명하는 가족 관계 증명 서류와 부모 (친권자 또는 후견인) 의 동의를 받아 사업장에 갖추어 두어야 한다.

청소년은 일하는 중에 받을 수 있는 불이익을 예방하기 위해 **일하기 전에 반드시 근로 계약을 체결**해야 하며, 근로 계약은 청소년이 직접 체결한다.

사용자는 근로 계약을 체결할 때 성인 근로자와 마찬가지로 근로 조건을 근로 계약서에 서면으로 명시하여 교부해야 한다.

「근로 기준법」에서 정하는 근로 조건은 최저 기준이므로 사용자는 청소년이라는 이유로 휴일, 휴식 시간, 최저 임금 등의 근로 조건을 낮춰서는 안 된다. 근로 조건은 근로자와 사용자가 자유의사에 따라 결정해야 하며 청소년도 성인과 동등한 지위에서 계약을 체결한다.

청소년은 성인과 같이 **최저 임금액 이상의 임금을 받을 수 있으며**, 법정 대리인의 동의 없이 혼자서 임금을 청구할 수 있다. 18세 미만의 청소년은 하루 7시간, 일주일에 35시간을 초과하여 일할 수 없으나 합의한 경우에는 하루 1시간, 일주일

에 5시간을 한도로 연장하여 일할 수 있다. 임금을 받지 못한 경우에는 지방 고용 노동 관서 또는 근로 감독관에게 신고할 수 있으며, 법원에 소송을 제기하거나 형사 고발 등을 할 수도 있다.

66. 다음 자료에 대한 옳은 설명을 <보기>에서 고른 것은?

- ○○ 회사에 다니는 갑은 회사로부터 해고되었다는 통보를 구두로 받았다. 성별만을 기준으로 해고 대상자를 선정하였다는 것이 회사의 설명이었다.
- △△ 회사에 다니는 을은 노동조합 활동을 열심히 한다는 이유로, 원하지도 않은 원거리 근무 발령을 회사로부터 갑자기 통보받았으며, 어떠한 업무도 배정받지 못하였다.

< 보 기 >

ㄱ. 갑은 노동 위원회의 구제 절차를 거쳐야 해고 무효 확인 소송을 제기할 수 있다.

ㄴ. ○○ 회사가 갑에게 해고 사유와 시기를 서면으로 통지했다더라도 갑에 대한 해고는 부당하다.

ㄷ. 을뿐만 아니라 노동조합도 노동 위원회에 구제 신청을 할 수 있다.

ㄹ. 갑, 을은 각각 ○○ 회사, △△ 회사로부터 근로 3권을 침해당하였다.

- ① ㄱ, ㄴ ② ㄱ, ㄷ ③ ㄴ, ㄷ ④ ㄴ, ㄹ ⑤ ㄷ, ㄹ

67. 다음 사례에 대한 옳은 법적 판단을 <보기>에서 고른 것은?

A 식료품 회사 사용자와 노동조합은 근로 조건에 관해 단체 교섭을 진행하였으나 사용자가 안전에 합의하지 않아 결렬되었다. 이에 노동조합은 적법하게 파업을 이끌었다. A 식료품 회사는 인사 위원회를 열어 파업을 주도했다는 이유로 갑(28세)에게 해고를 통보하였다. 이에 갑은 즉시 해고의 효력을 다투는 소송을 제기하였다. 법원은 해고 처분이 재량권 범위를 일탈·남용하여 위법하다고 판결하였고, 이 판결은 확정되었다.

< 보 기 >

ㄱ. 갑은 소송을 제기하기 전, 노동 위원회에 구제 신청을 할 수 있다.

ㄴ. 갑이 A 식료품 회사의 인사 위원회 결정에 불복하여 제기한 소송은 민사 소송이다.

ㄷ. 갑의 행위에 대한 A 식료품 회사의 해고 처분은 부당 해고에는 해당하지만 부당 노동 행위에는 해당하지 않는다.

ㄹ. A 식료품 회사 사용자가 노동조합이 제시한 근로 조건에 관해 합의를 하지 않은 행위는 단체 교섭권을 침해한 것이다.

- ① ㄱ, ㄴ ② ㄱ, ㄷ ③ ㄴ, ㄷ ④ ㄴ, ㄹ ⑤ ㄷ, ㄹ

68. 다음 사례에 대한 법적 판단으로 옳은 것은?

퇴근 후 불법 사설 도박 사이트에 접속해 불법 도박을 했다는 이유로 해고 처분된 갑은 중앙노동위원회 위원장을 상대로 소송을 제기했다. 해당 재판부는 선고를 내리면서 “사생활에서의 비행이 정당한 징계 사유가 되려면 사업 활동에 직접 관련이 있는 행위이거나 기업의 사회적 평가를 훼손할 우려가 있는 행위여야 한다. 이런 기준을 적용한다면 갑의 행위가 회사의 사회적 평가에 악영향을 미칠 정도로 볼 수 없으므로 해고 처분은 징계 재량권을 남용한 것으로 보아야 한다.”라고 그 이유를 제시하였다. 이에 불복한 당사자는 항소하였다.

- ① 갑은 민사 소송을 제기하였다.
- ② 갑이 제기한 소송은 노동조합도 제기할 수 있다.
- ③ 사용자의 부당 노동 행위 여부가 재판의 쟁점이 되었다.
- ④ 해고 처분의 정당성에 대해 중앙노동위원회와 재판부가 동일하게 판단하였다.
- ⑤ 중앙노동위원회의 재심 절차와 관계없이 갑이 제기한 소송은 3심제가 적용된다.

69. 다음 사례에 대한 옳은 법적 판단만을 <보기>에서 고른 것은?

○○ 기업에서 근무하던 갑은 특별 감사에서 지적을 받았다는 이유로 을(○○ 기업 사장)로부터 해고를 통보받았다. 이에 갑은 해고 사유가 부당할 뿐만 아니라 노동조합 간부인 자신을 해고하여 노동조합을 무력화시키려 한다는 이유로 △△ 지방 노동 위원회에 구제 신청을 하였다. △△ 지방 노동 위원회는 갑의 비위 행위에 비해 징계의 정도가 과하여 갑의 해고는 부당 해고임을 인정하였으나, 부당 노동 행위는 아니라고 판정하였다. 이에 불복한 갑과 을은 각각 중앙 노동 위원회에 재심을 청구하였다. 이에 중앙 노동 위원회는 갑의 재심 청구를 인용하고, 을의 재심 청구는 기각하였다.

< 보 기 >

ㄱ. 갑과 달리 갑이 소속된 노동조합은 부당 노동 행위를 이유로 노동 위원회에 구제 신청을 할 수 없다.

ㄴ. 갑은 △△ 지방 노동 위원회에 구제 신청을 하는 것과 별도로 법원에 해고 무효 확인 소송을 제기할 수 있다.

ㄷ. 을의 부당 노동 행위 여부에 대해 △△ 지방 노동 위원회와 중앙 노동 위원회는 동일한 판정을 하였다.

ㄹ. 을은 중앙 노동 위원회의 판정에 불복하여 중앙 노동 위원회 위원장을 상대로 행정 소송을 제기할 수 있다.

- ① ㄱ, ㄴ ② ㄱ, ㄷ ③ ㄴ, ㄷ ④ ㄴ, ㄹ ⑤ ㄷ, ㄹ

19. 국제 관계와 국제법

국제 사회란 국가, 국제기구, 다국적 기업 등과 같은 행위 주체가 정치, 경제, 문화 등 다양한 영역에서 서로 교류하고 의존하며 국제적 공동생활을 영위하는 사회를 말한다. 국제 사회는 국내 사회와 구별되는 다음과 같은 특징을 지닌다.

우선 국제 사회는 **국가를 기본 단위로 하여** 구성되며, 각국은 **원칙적으로 평등한 주권**을 가진다. 그래서 모든 국가는 국가 안에서 일어나는 문제에 대해 다른 국가의 간섭을 받지 않을 권리를 가진다.

그리고 국제 사회에는 국내 사회와 달리 구성원을 대상으로 강제력을 행사할 수 있는 **세계 정부가 존재하지 않는다**. 따라서 주권 국가 간에 갈등이나 분쟁이 발생할 경우 이를 해결하기가 쉽지 않다.

또한 국제 사회에는 **힘의 논리와 국제 규범이 공존**한다. 국제 사회의 국가들은 주권 평등의 원칙에도 불구하고 군사력이나 경제력의 차이를 앞세워 자국의 이익을 다른 나라에 강제하기도 하고, 국제법을 존중하며 다른 나라와의 갈등을 평화적으로 해결하기도 한다.

주권 국가가 국제 사회의 구성원으로 등장하는 근대 국제 사회는 30년 전쟁(1618~1648)을 끝내기 위해 체결된 **베스트팔렌 조약**(1648)과 함께 시작되었다. 이 조약에 참가한 국가들은 주권 평등, 영토 존중, 국내 문제 불간섭 등의 원칙에 합의하였고, 이로써 민족 단위의 독자적인 주권 국가가 국제 사회의 주체로 등장하였다.

이후 근대 국가들이 산업화하고 자본주의가 성장하면서, 19세기 후반 유럽의 강대국들은 경제적 이익을 극대화하기 위해 제국주의 정책을 채택하여 유럽 바깥의 여러 나라에 대한 식민지 쟁탈전을 벌였다. 이로 인해 국제 사회의 무대가 전 세계로 확대되었고, 유럽 여러 국가의 제국주의 정책은 국가 간의 충돌을 일으켜 결국 **제1차 세계 대전**(1914~1918)이 발발하였다.

제1차 세계 대전의 승전국들은 파리 강화 회의를 열어 새로운 국제 질서를 논의하였다. 그 결과 국가 간의 갈등을 평화적으로 해결하기 위해 **국제 연맹**이 창설(1920)되었다. 그러나 미국 등 강대국의 불참으로 국제 연맹은 처음부터 한계에 직면했고, 일본, 독일, 이탈리아 등의 도발에 제대로 대응하지 못함으로써 **제2차 세계 대전**(1939~1945)의 발발을 막지 못하였다.

제2차 세계 대전이 끝난 후, 세계 평화와 국가 간 우호 증진을 위해 **국제 연합**이 설립(1945)되었다. 국제 연합은 국제 연맹의 한계점을 보완하여 강대국의 참여를 이끌어냄으로써 국제 평화를 위해 실질적인 활동을 할 수 있도록 하였다.

이후 국제 사회는 미국 중심의 자유 진영과 구소련 중심의 공산 진영으로 나뉘어 서로 대립하는 **냉전** 체제로 들어서게 되었다. 이러한 양극 체제는 1970년대 들어 공산 진영의 결속력 약화와 제3 세계의 부상으로 점차 완화되었고, 몰타 선언(1989), 독일 통일(1990), 구소련의 해체(1991) 등으로 냉전이 종식되었다.

탈냉전 시대로 들어선 국제 사회는 다양한 세력의 영향력이 확대되면서 다극 체제로 변모하였고, 각국은 이해관계에 따라 자유롭게 협력하게 되었다. 그 결과 이념에 따른 갈등은 줄었

지만 민족, 종교, 영토, 자원 등 다양한 이유로 발생하는 분쟁은 오히려 증가하고 있다.

오늘날 국제 사회는 교통, 통신의 발달과 개방화의 물결로 사람, 자본, 상품, 정보 등의 이동이 자유로워지면서 세계화 시대로 접어들게 되었다. **세계화**란 국제 사회의 상호 의존성이 커짐에 따라 개별 국가의 경계를 넘어 세계가 하나로 통합되는 현상을 의미한다.

세계화가 진행되면서 국내 문제와 국제 문제의 경계는 점차 흐릿해지고 각국 정부가 단독으로 해결할 수 없는 문제가 증가하고 있다. 이는 국제 관계를 다음과 같이 변화시키고 있다. 첫째, 각국 정부는 국내 문제를 해결하거나 다른 나라에서 발생한 문제가 자국에 파급되는 것을 막기 위해 **서로 긴밀하게 협력**하고 있다. 둘째, 기후 변화와 같은 전 지구적 문제를 해결하기 위해 각국 정부뿐만 아니라 지역 사회, 국제적 시민 단체 등이 **국제 사회의 중요한 행위 주체로 등장**하고 있다. 셋째, 다양한 행위 주체 간의 상호 신뢰와 협력이 중요해지면서 국제법과 같은 **국제 규범의 역할**이 커지고 있다.

국제법은 국제 사회를 규율하는 법이다. 전통적인 국제법은 주로 국가 간의 관계를 규율하였으나, 최근에는 세계화에 따른 국제 관계의 변화로 국제법의 적용 영역이 개인, 다국적 기업, 국제기구 등으로 점차 확대되고 있다.

국제법은 다음과 같은 의의를 지닌다. 우선 국제법은 국제 분쟁을 겪는 당사자에게 유용한 **분쟁 해결 수단**을 제공한다. 국가 간에 영토, 무역, 자원 등과 관련한 분쟁이 발생하는 경우 국제법을 활용하면 보다 평화적으로 분쟁을 해결할 수 있다.

또한 국제법은 전 지구적 문제를 해결하기 위한 **국제 사회의 협력을 유도**한다. 인권이나 환경 문제의 해결과 같이 국제 사회의 공동 노력이 필요한 경우, 국제법은 공동의 행위 기준을 세우고 여러 국가의 참여를 이끌어 내는 역할을 한다.

그리고 국제법은 **세계 시민의 일상적 삶에 편리함을 제공하고 권리를 보호**한다. 우리나라에서 취득한 자동차 운전면허로 세계 여러 나라에서 자동차를 운전할 수 있고, 우리나라에서 만든 저작물에 대한 권리를 외국에서도 보호받을 수 있는 것은 모두 관련 국제법이 있기 때문이다.

국제법은 다양한 형태로 존재하는데, 이를 국제법의 법원(法源)이라고 한다. 국제법의 법원으로는 조약, 국제 관습법, 법의 일반 원칙 등이 있다.

조약은 국제법 주체 간에 체결된 명시적 합의로 조약 외에 협약, 협정, 의정서 등 다양한 용어로 불린다. 일반적으로 조약 체결의 주체는 국가이지만 국제 기구도 국가와 조약을 맺을 수 있다. 조약은 원칙적으로 조약을 체결한 당사국 간에만 구속력을 지닌다.

국제 관습법은 국제 사회에서 오랜 기간 반복되어 온 관행이 모두가 따라야 할 법적 의무로 인정됨으로써 성립하는 국제법이다. 국제 관습법은 조약과 달리 원칙적으로 모든 국가에 대해 구속력을 갖는다. 대표적인 국제 관습법으로 국내 문제 불간섭 원칙 등이 있다.

법의 일반 원칙은 문명국이 공통으로 받아들이고 따르는, 국내법에 수용된 법의 보편적인 원칙으로 신의 성실의 원칙, 권리 남용 금지의 원칙, 손해 배상 책임의 원칙 등이 대표적이

다. 이 밖에도 판례나 국제법 학자의 학설 등은 국제법적 판단의 보조 수단으로 기능하며, 새로운 국제법이 성립하는 계기가 되기도 한다.

국내법은 국민의 대표 기관인 입법부에 의해 제정되어 영토 내의 모든 구성원을 구속한다. 그러나 국제법은 고유한 입법 기구가 없어 국제 사회의 모든 국가에 적용할 수 있는 국제법을 제정하기가 쉽지 않다.

또한 한 국가의 국민이 국내법을 지키지 않을 때는 국가의 공권력에 의해 일정한 제재가 가해진다. 하지만 국제법의 경우에는 이를 강제적으로 집행할 세계 정부가 존재하지 않아, 국제법을 지키지 않는 국가에 국제법의 이행을 강제하기가 어렵다.

이러한 한계에도 불구하고 국제 사회에서 국제법을 준수해야 한다는 인식은 점점 높아지고 있으며, 국가 간의 관계가 더욱 밀접해지는 오늘날 국제법은 국가 간 분쟁의 평화적 해결 수단으로 그 중요성이 더욱 커지고 있다.

70. 밑줄 친 ㉠~㉣에 대한 옳은 설명만을 <보기>에서 있는 대로 고른 것은?

㉠ 국제 연합은 민주주의를 훼손하고 법의 지배를 위태롭게 하는 부패를 척결하기 위해 ㉡ '국제 연합 부패 방지 협약'을 마련하였다. 우리나라에서 이 협약은 헌법에 정해진 절차에 따라 체결·공포되어 2008년에 발효되었다. 국회는 이 협약의 효율적 이행을 위해 ㉢ '부패 재산의 몰수 및 회복에 관한 특별법'을 제정하였다.

< 보 기 >
ㄱ. ㉠은 국제 사회의 행위 주체로 '정부 간 국제기구'이다.
ㄴ. ㉡과 같은 국제법의 법원(法源)은 국제 사법 재판소의 재판 준거로 활용될 수 있다.
ㄷ. ㉢과 같은 국제법의 법원(法源)은 원칙적으로 체결 당사국 뿐 아니라 모든 국가를 구속한다.
ㄹ. ㉣은 ㉢과 달리 헌법과 동일한 국내법적 지위를 가진다

- ① ㄱ, ㄴ ② ㄱ, ㄷ ③ ㄷ, ㄹ
④ ㄱ, ㄴ, ㄹ ⑤ ㄴ, ㄷ, ㄹ

71. 밑줄 친 ㉠, ㉡에 대한 옳은 설명을 <보기>에서 고른 것은?

과거 우리나라 ㉠ 민법상 혼인할 수 있는 최저 연령은 남자 18세, 여자 16세로 성별 차이가 있었다. 하지만 우리나라가 비준한 ㉡ 여성 차별 철폐 협약은 여성을 차별하는 모든 법률을 폐지하도록 하고, 아동 혼인의 법적 효력을 부인하는 내용을 담고 있다. 이 협약의 취지와 사회적 인식 변화에 따라 민법의 관련 규정이 개정되었다.

< 보 기 >
ㄱ. ㉠은 국가 내 입법 기관에 의해 제·개정된다.
ㄴ. 우리나라에서 ㉡과 같은 국제법의 법원(法源)은 대통령이 비준한다.
ㄷ. 우리나라에서 ㉡이 헌법에 의하여 체결·공포되었다면 헌법과 같은 효력을 가진다.
ㄹ. ㉠은 ㉡과 달리 성문화된 형식으로 존재한다.

- ① ㄱ, ㄴ ② ㄱ, ㄷ ③ ㄴ, ㄷ ④ ㄴ, ㄹ ⑤ ㄷ, ㄹ

72. 밑줄 친 ㉠, ㉡에 대한 옳은 설명을 <보기>에서 고른 것은?

우리나라에서는 국제적 합의 중 하나인 ㉠ 난민의 지위에 관한 협약이 1993년에 발효되어 이행되고 있다. 이후 난민 지위 및 처우 등에 관한 사항을 정하고자 ㉡ 난민법이 2012년에 국회에서 제정되어, 2013년부터 시행되고 있다.

< 보 기 >
ㄱ. 우리나라에서 ㉠에 대한 비준 권한은 대통령에게 있다.
ㄴ. ㉠은 ㉡과 달리 우리나라에서 헌법과 동등한 지위를 가진다.
ㄷ. ㉡은 ㉠과 달리 강제적으로 집행할 기관이 없다.
ㄹ. ㉠, ㉡은 모두 성문화된 형식으로 존재한다.

- ① ㄱ, ㄴ ② ㄱ, ㄹ ③ ㄴ, ㄷ
④ ㄱ, ㄷ, ㄹ ⑤ ㄴ, ㄷ, ㄹ

20. 국제 문제와 국제 기구

세계화로 국가 간 상호 의존성이 커지면서 국제 사회를 이루는 국가들은 더욱 긴밀한 협력 관계를 맺게 되었다. 하지만 그와 동시에 각국이 자국의 이해관계를 최우선으로 추구하면서 다양한 **국제 문제**가 발생하고 있다.

국제 문제는 다음과 같은 특징을 갖는다. 우선 국제 문제는 제대로 해결되지 않으면 **전 지구적인 위기를 초래할 수 있다**. 예를 들어 핵무기의 확산과 같은 문제는 어느 한 국가나 지역에만 위협이 되는 것이 아니라 전 인류의 생존을 위협한다.

또한 국제 문제는 **어느 한 국가의 노력만으로 해결되기 어렵다**. 예를 들어 지구 온난화와 같은 문제는 몇몇 국가의 노력만으로 해결되지 않으며, 선진국과 개발 도상국이 함께 온실가스 배출량을 줄여야 해결될 수 있다.

현재 국제 사회가 당면한 대표적인 국제 문제로 안보 문제, 경제 문제, 환경 문제, 인권 문제 등을 들 수 있다.

모든 국가는 자국의 안전 보장, 즉 **안보**를 추구한다. 그런데 개별 국가들이 자국의 안보를 추구하는 과정에서 국제 사회의 평화가 위협받을 수 있다. 어느 한 국가가 자국의 안보를 위해 **군비**를 늘리면 이웃 나라들 역시 위협을 느껴 군비를 늘리고, 이는 다시 상대국으로 하여금 군비를 더욱 늘리게 하는 소모적인 경쟁을 초래함으로써 군사적 긴장을 높이기 때문이다. 냉전 시기에 미국과 구소련이 벌인 군비 경쟁은 안보 딜레마의 대표적 사례이다.

냉전이 종식되고 탈냉전 시대에 들어오면서 군비 경쟁과 국가 간의 직접적인 무력 충돌은 줄어들었다. 그러나 최근 종교, 인종, 자원 등을 이유로 발생하는 국지적 분쟁으로 인한 피해는 오히려 증가하였고, 폭력적인 방법으로 자신의 의사를 표현하는 **테러** 조직 역시 국가 안보와 세계 평화를 위협하고 있다.

공산 진영이 붕괴한 후 세계는 단일 시장으로 재편되었고, 세계화에 따른 자유 무역의 확대는 선진국과 일부 개발 도상국의 경제 성장에 도움을 주었다. 그러나 한편으로는 국제 사회에서 상대적으로 경쟁력을 갖추지 못한 국가나 기업이 도태되면서 **국가 간 경제적 불평등**이 심화하는 문제가 발생하고 있다. 특히 높은 기술력과 충분한 자본으로 고부가 가치 상품을 생산하는 선진국과 값싼 노동력을 토대로 상품을 생산하는 개발 도상국 사이의 빈부 격차는 시간이 지날수록 점점 커지고 있으며, 일부 지역에서는 식량이 모자라 굶주림으로 고통받는 기아 문제까지 나타나고 있다.

제2차 세계 대전 이후 국제 사회는 전쟁의 영향에서 벗어나 경제를 발전시키고 물질적 풍요를 이루는 데 집중한 반면, 상대적으로 환경에는 큰 관심을 기울이지 않았다. 그러나 각국이 경제 발전을 추구하는 과정에서 지구상의 공유 자원이 고갈되고 환경 오염이 심각해지자 국제 사회는 환경 문제의 심각성을 깨닫기 시작했다. 특히 **산성비, 오존층 파괴, 지구 온난화**와 같은 문제가 발생하면서 국제 사회는 환경 문제가 더 이상 개별 국가의 문제가 아니라 전 지구적 문제라는 사실을 받아들였다. 하지만 개별 국가들이 지구의 환경 보호보다 자국의 이익을 우선시하는 경우가 많아, 환경 문제 해결을 위한 국제 사회의 협력은 쉽지 않은 상황이다.

모든 사람은 태어날 때부터 인간으로서 누려야 할 권리, 즉 인권을 가진다. 인권은 절대적 권리이기에 누구도 다른 사람의

인권을 박탈할 수 없지만, 오늘날 세계 곳곳에서는 여전히 **인권 침해**로 고통받는 사람들이 있다. 낮은 임금을 받으며 열악한 환경에서 일하는 일부 지역의 여성과 아동, 내전으로 인해 삶의 터전을 빼앗기고 떠도는 난민, 표현의 자유나 집회 및 결사의 자유를 보장받지 못하는 몇몇 국가의 시민은 모두 인권 문제의 해결이 시급한 과제를 보여 주는 사례이다.

국제 문제는 국제 사회의 국가들이 적극적으로 함께 협력할 때 해결될 수 있다. 그런데 국가 간에는 서로의 이해관계가 일치하지 않아 국제 문제 해결을 위한 협력이 쉽지 않다. 그래서 각국의 협력을 이끌어 내고 유지하기 위해서는 국제 사회의 협력 체제를 관리하고 여러 국가를 중재할 주체로서 **국제기구**가 필요하다. 일반적으로 국제기구는 회원국 간의 협약과 승인을 통해 설립되며, 각국이 따라야 할 국제적 기준을 제시하고 그 준수 여부를 점검한다는 점에서 상당한 자율성과 책임성을 갖는다.

오늘날 국제기구는 세계 평화의 유지, 세계 경제의 안정적 발전, 지구 환경의 보전, 인권 보호 등 우리의 삶에 영향을 끼치는 거의 모든 분야에서 활동하고 있다. 특히 전 세계가 함께 풀어야 할 다양한 국제 문제가 생겨나면서, 각국 정부가 참여하는 정부 간 국제기구뿐만 아니라 국경을 넘어 활동하는 시민에 의해 조직된 국제 비정부 기구들도 여러 분야에서 활발하게 활동하고 있다.

제 1차 세계 대전 이후 국제 평화와 안보를 위해 설립된 국제 연맹은 제 역할을 다하지 못하였다. 이후 제2차 세계 대전의 참상을 경험한 국제 사회는 국제 연맹의 결점을 보완하여 1945년 국제 연합을 창설하였다. **국제 연합**은 전쟁 방지와 국제 평화 실현 및 국가 간의 협력과 우호 증진을 목적으로 하는 국제기구로, 총회와 안전 보장 이사회 및 다양한 기구로 구성된다.

총회는 국제 연합의 모든 회원국이 평등하게 참여하는 최고 의결 기구이다. 일반적으로 총회의 의결은 권고적 효력을 가지며 회원국의 행동을 강제하지는 못한다. 그러나 총회에서 의결한 사항은 국제 사회의 합의된 규범으로서 존중받아야 한다는 도덕적 권위를 지닌다.

안전 보장 이사회는 국제 평화와 안보 유지의 책임을 지고 있는 실질적 의사 결정 기구로, 경제 제재나 군사적 개입 등과 같이 국제 분쟁 해결을 위해 필요한 수단의 사용 여부를 결정할 수 있다. 안전 보장 이사회는 5개의 상임 이사국과 10개의 비상임 이사국으로 구성되는데, 중요한 안건을 의결하기 위해서는 15개 이사국 중 9개국 이상의 동의가 필요하다. 하지만 5개의 상임 이사국은 거부권을 가지고 있어, 그중 1개국이라도 거부하면 그 안건은 부결된다.

이 밖에도 **국제 연합의 여러 기구**가 경제, 환경, 인권 등 다양한 분야의 국제 문제를 해결하기 위해 활발하게 활동하고 있다. 예를 들어 국제 연합 개발 계획(UNDP)은 저개발국과 개발 도상국의 경제적, 사회적 개발을 촉진하기 위한 원조를 제공하고 있으며, 국제 연합 환경 계획(UNEP)은 지구 환경을 살피고 환경 정책에 대한 국제적 합의를 이끌어 내는 역할을 하고 있다. 국제 연합 인권 이사회(UNHRC)는 국제 연합에 가입한 국가의 인권 상황을 점검하고 부당한 인권 침해가 있으면 시정을 요구하는 등 인권 보호를 위해 노력한다.

국제 사법 재판소는 국가 간의 법적 분쟁을 국제법에 따라

해결하기 위하여 1946년에 창설된 국제 연합의 주요 사법 기구이다.

국제 사법 재판소는 국제 연합 총회 및 안전 보장 이사회에서 선출한 15명의 재판관으로 구성된다. 재판관들은 특정 국가나 지역의 이익에 치우치지 않고 공정한 재판을 실현하기 위해 국적이 서로 달라야 한다.

국제 사법 재판소의 가장 큰 역할은 국가 간의 분쟁에 대해 사법적 판단을 내리는 것이다. 이때 국제기구나 개인은 재판의 당사자가 될 수 없으며, 원칙적으로 분쟁 당사국 일방의 제소에 상대국이 응하여야 재판을 진행할 수 있다. 이러한 조건을 충족하여 재판이 개시되면 국제 사법 재판소는 조약과 국제 관습법 등의 국제법을 근거로 판결을 내린다. 그 밖에 국제 사법 재판소는 국제 연합 관련 기관의 법적 질의에 권고적 의견을 제시하는 역할을 하기도 한다.

73. 국제 연합의 주요 기관 A~C에 대한 설명으로 옳은 것은?

국제 연합 헌장은 A가 B의 권고에 따라 국제 연합 가입 신청국의 가입 여부를 결정하도록 규정하고 있다. 그런데 냉전이 격화되면서 B의 상임 이사국들이 정치적 이해관계로 거부권을 행사하여 가입하지 못하는 신청국이 발생하였다. 이에 모든 회원국이 의결에 참여하는 A는 독자적으로 가입 여부를 결정할 수 있는지에 대해 C에 권고적 의견을 요청하였다. 1940년대 창설된 사법 기관 C는 A와 B에서 선출된 15인의 국적이 다른 재판관으로 구성되어 있다.

- ① A는 주권 평등 원칙에 따른 표결 방식을 채택하고 있다.
- ② B의 모든 이사국들은 신청국의 가입 여부에 대해 거부권을 가진다.
- ③ C는 국제 평화와 안전 유지에 대한 일차적 책임을 진다.
- ④ 다국적 기업 간의 분쟁이 국제 사회의 법적 분쟁이라면 C의 재판 대상이 된다.
- ⑤ B와 달리 A는 C가 내린 판결의 이행을 위해 적절한 조치를 결정할 수 있다.

74. 국제 연합의 주요 기관 A~C에 대한 설명으로 옳은 것은?

- 15개 이사국으로 구성된 A는 자국민의 인권을 탄압하고 있는 압국에 대해 만장일치로 경제적 제재를 결정하였다.
- 모든 회원국이 참여하는 B는 170개국의 찬성으로 을국 정부에 소수민족 탄압 정책을 중지하도록 촉구하는 결의안을 채택하였다.
- 15인의 재판관으로 구성된 C는 병국과 정국이 영토 분쟁을 겪고 있는 ○○ 지역에 대해 병국이 소유권을 가진다고 판결하였다.

- ① A의 모든 이사국은 거부권을 가진다.
- ② B는 의사 결정 과정에서 1국 1표의 원칙을 적용한다.
- ③ C는 국가 간, 국가와 개인 간 법적 분쟁을 다룬다.
- ④ C는 판결의 강제 이행을 위해 당사국을 직접 제재할 수 있다.
- ⑤ B는 A와 달리 C의 재판관 선출에 관한 권한을 가진다.

75. 국제 연합의 주요 기관 A~C에 대한 옳은 설명만을 <보기>에서 고른 것은?

국제 연합의 모든 회원국으로 구성된 A는 국제 사회의 다양한 문제를 논의하며, 15개 이사국으로 구성된 B는 국제 평화와 안전 유지에 대한 책임을 지고 있다. 경제 사회 이사회는 경제, 사회, 문화 등의 국제 문제를 담당하며, C는 국제 연합의 주요 사법 기관이다.

< 보 기 >

ㄱ. A에서는 분담금에 따라 의결권을 회원국에게 차등적으로 배분한다.

ㄴ. B에서는 이사국 중 9개국 이상이 찬성하면 모든 안전을 의결할 수 있다.

ㄷ. C는 국제 관습법을 재판의 준거로 활용할 수 있다.

ㄹ. C는 원칙적으로 분쟁 당사국들이 합의하여 분쟁 해결을 요청한 경우 관할권을 가진다.

- ① ㄱ, ㄴ ② ㄱ, ㄷ ③ ㄴ, ㄷ ④ ㄴ, ㄹ ⑤ ㄷ, ㄹ

2023학년도 수능 대비 모의고사 주요 문항 정답

1	⑤	2	①	3	④	4	④	5	②
6	⑤	7	⑤	8	④	9	⑤	10	④
11	⑤	12	①	13	②	14	②	15	④
16	②	17	⑤	18	④	19	②	20	④
21	①	22	④	23	①	24	③	25	⑤
26	③	27	②	28	⑤	29	⑤	30	③
31	⑤	32	⑤	33	①	34	③	35	③
36	⑤	37	⑤	38	⑤	39	④	40	②
41	④	42	⑤	43	③	44	②	45	③
46	⑤	47	②	48	⑤	49	⑤	50	②
51	③	52	③	53	②	54	④	55	③
56	①	57	①	58	②	59	③	60	④
61	④	62	③	63	⑤	64	③	65	①
66	③	67	①	68	⑤	69	④	70	①
71	①	72	②	73	①	74	②	75	⑤

※ 시험이 시작되기 전까지 표지를 넘기지 마시오.

2015학년도 교육과정 탐구영역 배경지식

국어 영역 (경제)

성명		수험 번호																		
----	--	-------	--	--	--	--	--	--	--	--	--	--	--	--	--	--	--	--	--	--

- 문제지의 해당란에 성명과 수험번호를 정확히 쓰시오.
- 답안지의 필적 확인란에 다음의 문구를 정자로 기재하시오.

천체의 움직임은 계산할 수 있어도,

인간의 광기는 도저히 계산할 수 없다.

- 답안지의 해당란에 성명과 수험번호를 쓰고, 또 수험번호와 답을 정확히 표시하시오.
- 문항에 따라 배점이 다르니, 각 물음의 끝에 표시된 배점을 참고하시오.
배점은 2점 또는 3점입니다.

※ 시험이 시작되기 전까지 표지를 넘기지 마시오.

제 1 교시

국어 영역

1. 희소성과 경제 문제

내가 받는 용돈과 우리 가족의 재산이 충분하다고 생각하는 사람이 얼마나 될까? 사람들은 항상 하고 싶은 것, 갖고 싶은 것, 먹고 싶은 것보다 그것을 충족할 수 있는 자원이 부족하다고 느낀다. 국가나 사회도 마찬가지이다. 예를 들어 국가의 예산을 지출할 때 한정된 예산을 복지비와 국방비 중 어디에 지출해야 하는지 선택해야 하는 문제를 겪을 때가 있다. 이러한 현상이 발생하는 원인은 자원의 희소성 때문이다.

희소성이란 사회 구성원의 욕구에 비해 상대적으로 자원이 부족한 상태를 말한다. 즉, 사람들이 원하는 만큼의 재화나 서비스를 생산하기에 자원이 부족한 것을 일컫는 말이다. 개인과 사회는 한정된 자원을 어디에 먼저 활용해야 할지 합리적으로 판단하고 선택해야 한다. 이와 같은 선택의 문제가 곧 경제 문제이며, 희소성은 경제 문제가 발생하는 근본 원인이라고 할 수 있다.

모든 사회는 희소성 때문에 기본적인 경제 문제가 발생하게 된다. 기본적인 경제 문제는 다음의 세 가지로 나누어 볼 수 있다.

첫째, **‘무엇을 얼마나 생산할 것인가’**의 문제이다. 만일 내가 음식점을 열기로 하였다면 무엇을 얼마나 생산할지 결정해야 한다. 시간과 자본 등이 한정되어 있으므로 모든 종류의 음식을 만들 수 없고, 무한대의 양을 만드는 것도 불가능하기 때문이다.

둘째, **‘어떻게 생산할 것인가’**의 문제이다. 자산 요소를 어떻게 활용하고, 생산물을 어떤 방법으로 생산할 것인지를 결정해야 한다. 예를 들어 음식점에서 토스트를 판매하기로 했다면 토스트를 굽는 기계를 사서 만들 것인지, 자신이 직접 요리할 것인지, 아니면 직원을 고용하여 토스트를 만들 것인지 정해야 한다.

셋째, **‘누구를 위하여 생산할 것인가’**의 문제이다. 생산에 이바지한 사람들에게 생산물의 가치를 어떻게 분배할 것인지를 결정해야 한다. 예를 들어, 식당에서 음식을 판매하여 이익을 얻었을 때 이를 생산에 참여한 사람들에게 어떻게 분배할 것인지를 정하는 것이다.

한편 무엇을 얼마나, 어떻게 생산할 것인가의 문제에서는 효율성을 우선시하지만, 누구를 위하여 생산할 것인가의 문제에서는 효율성과 더불어 형평성도 고려해야 한다.

1. 그림은 기본적인 경제 문제에 관해 어느 학생이 작성한 인터넷 블로그 내용과 이에 대한 댓글이다. 갑 ~ 정 중 옳은 내용의 댓글을 작성한 사람만을 고른 것은?

○○의 경제 학습 블로그

기본적인 경제 문제는 자원의 희소성 때문에 발생한다. 기본적인 경제 문제의 유형 (가) ~ (다)와 그 해결 기준은 다음 표와 같이 정리할 수 있다.

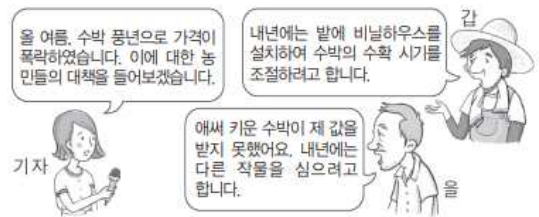
유형	해결 기준
(가) 무엇을 얼마나 생산할 것인가?	효율성
(나) 어떻게 생산할 것인가?	효율성
(다) 누구를 위하여 생산할 것인가?	효율성 및 형평성

.....

나 갑 : 기본적인 경제 문제의 발생 원인을 정확히 파악했네요.
 나 을 : (나)의 사례로 공장을 국내에서 해외로 이전할지 여부를 결정하는 문제를 들 수 있어요.
 나 병 : 효율성은 (다)의 해결 기준이 될 수 없어요.
 나 정 : 계획 경제 체제라면 (가) ~ (다)의 문제는 발생하지 않아요.

- ① 갑, 을 ② 갑, 병 ③ 을, 병 ④ 을, 정 ⑤ 병, 정

2. 갑과 을의 진술에 대한 옳은 설명을 <보기>에서 고른 것은?



< 보 기 >

가. 갑의 진술은 “어떻게 생산할 것인가?”를 해결하기 위한 것이다.
 나. 을은 생산물의 종류를 결정하는 문제에 대해 진술하고 있다.
 다. 갑은 을과 달리 경제 문제의 해결 기준으로 형평성을 중시한다.
 라. 을의 경제 문제는 갑의 경제 문제와 달리 자원의 희소성 때문에 발생한다.

- ① 가, 나 ② 가, 다 ③ 나, 다 ④ 나, 라 ⑤ 다, 라

2. 합리적 선택

신발을 살 때 갖고 싶은 신발은 많아도 모두 살 수는 없다. 희소성의 원리 때문에 한정된 용돈으로 무엇을 사야 할지 선택해야 한다. 무엇인가를 선택하면 다른 것을 선택할 기회를 포기해야 하는데, 이때 발생하는 것이 기회비용이다.

기회비용이란 어떤 선택을 할 때, 지불한 명시적 비용과 그 선택을 함으로써 포기한 대안의 가치인 암묵적 비용 중 가장 큰 것을 합친 것을 말한다.

대학 진학에 따른 기회비용을 생각해 보자. 대학에 진학하면 등록금, 책값, 교통비 등을 지출해야 한다. 더불어 대학 진학을 하지 않고 바로 취직할 때 얻을 수 있는 소득도 포기해야 한다. 이때 등록금이나 책값, 교통비와 같이 어떤 대안을 선택할 때 실제로 지출하는 비용은 **명시적 비용**이다. 한편 진학하지 않고 취직할 때 얻을 수 있는 소득과 같이 어떤 선택으로 포기한 다른 대안의 가치가 암묵적 비용이다.

합리적 선택을 하기 위해서는 직접 지출하는 명시적 비용뿐만 아니라 화폐로 지출하지는 않았지만 발생하는 비용인 **암묵적 비용**까지 포함한 기회비용을 고려하여 의사 결정을 해야 한다.

합리적 선택이란 여러 대안 중에서 최선의 대안을 고르는 것을 의미한다. 이를 위해서는 각 대안의 편익과 비용을 정확히 파악하여 편익을 최대화하고 비용을 최소화해야 한다.

편익이란 어떤 선택을 하였을 때 얻게 되는 만족이나 이득을 뜻하며, **비용**은 그 선택을 할 때의 기회비용을 의미한다. 편익에서 비용을 뺀 것을 순편익이라고 하는데, 순편익이 가장 커지는 대안을 선택하는 것이 합리적 선택이다. 이때 기회비용이 작을수록 순편익이 커지므로 편익이 같다면 기회비용이 작은 대안을 선택해야 한다. 예를 들어, 같은 편익을 주는 상품이라면 가격이 더 저렴한 것을 선택하는 것이 합리적이다.

모든 선택에는 편익과 비용이 발생하므로 합리적 선택을 하기 위해서는 편익과 비용을 분석, 평가, 비교하는 과정이 필요하다. 이는 개인과 기업의 합리적 선택뿐만 아니라 정부의 정책 결정에서도 마찬가지이다.

매물 비용은 이미 지출하여 어떻게 해도 되돌릴 수 없는 비용으로, 회수하는 것이 불가능하다. 따라서 시간과 비용이 많이 들었다고 해도 그것이 매물 비용으로 판단되면 선택의 과정에서 고려하지 않아야 한다.

1960년대 프랑스와 영국은 초음속 여객기인 콩코드기를 공동으로 개발하였다. 콩코드 여객기는 높은 생산비와 기체 결함, 소음 문제 등으로 경제성이 없다고 평가받았지만, 양국 정부는 막대한 투자 비용을 회수하기 위해 상업 비행을 시작하였다. 콩코드 여객기는 운항할수록 적자가 쌓였고, 결국 큰 손실을 본 후에 운항을 중단하였다. 매물 비용에 미련을 두고 무리한 운항을 선택하였기 때문에 손실이 더 커졌을 수 있다.

합리적 선택을 위해서는 선택에 따라 새롭게 발생하는 추가 비용과 편익만 고려하여야 한다. 매물 비용을 제외하고 앞으로 지출할 비용과 편익만 고려하였다면 콩코드 여객기를 개발한 양국 정부도 손실을 줄일 수 있었을 것이다.

경제적 유인이란 사람들이 어떤 경제 행동을 하거나 하지 않도록 유도하는 자극을 말한다. 즉, 사람들이 생산과 소비 활동을 할 때 특정한 방식으로 행동하도록 동기를 부여하는 요

인이나 제도 등을 의미한다.

경제적 유인은 해당 경제 주체에 유리하게 작용하여 특정 행위를 더 하도록 유도하는 **긍정적 유인**과 불리하게 작용하여 특정 행위를 덜 하도록 하는 **부정적 유인**으로 나뉜다. 긍정적 유인은 어떤 선택을 할 때 편익의 증가나 기회비용의 감소를 통해, 부정적 유인은 편익의 감소나 기회비용의 증가를 통해 사람들의 행동에 영향을 준다. 긍정적 유인에는 성과급 지급, 보조금 지원, 세금 감면 등이 있고, 부정적 유인에는 과태료, 벌금 부과 등이 있다.

사람들은 편익과 비용을 고려하여 행동하기 때문에 경제적 유인이 변하면 사람들의 행동도 변한다. 예를 들어 시장의 가격 상승은 소비자에게는 수요량을 줄이도록 하는 부정적 유인으로 작용하고, 생산자에게는 공급량을 늘리도록 하는 긍정적 유인으로 작용한다.

3. 밑줄 친 ㉠, ㉡에 대한 설명으로 옳은 것은?

같은 오래된 책상을 교체하기로 하였다. 처음에는 20만 원 짜리 책상을 ㉠ 시장에서 구입할까도 생각하였지만, ㉡ 직접 제작하기로 하였다. 책상을 직접 제작하면 목재비, 배송료, 공방 이용료만 하더라도 20만 원이 넘고, 3일간의 제작 기간 동안 아르바이트를 할 수 없게 된다. 하지만 자신이 쓸 책상을 직접 만들었다는 뿌듯함과 자기가 원하는 모양으로 만들 책상으로부터 얻는 즐거움 등을 생각해 본 결과, 책상을 직접 제작하는 것이 합리적이라고 판단하였다.

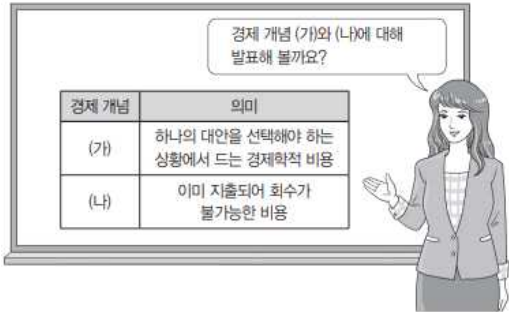
- ① 책상 구입 비용은 ㉠의 기회비용에 포함되지 않는다.
- ② ㉡을 선택할 때 명시적 비용과 암묵적 비용을 함께 고려하였다.
- ③ 명시적 비용은 ㉡보다 ㉠을 선택할 때가 크다.
- ④ ㉠과 ㉡을 통해 얻는 편익이 같다고 판단하였다.
- ⑤ ㉠과 달리 ㉡의 순편익이 음(-)의 값이라고 판단하였다.

4. 밑줄 친 ㉠~㉣에 대한 설명으로 옳은 것은?

같은 ㉠○○ 음악회 입장권을 10만 원에 구입하여 공연장에 입장하였다. 그런데 ㉡음악회 연주는 기대와 달리 매우 실망스러웠다. 같은 ㉢연주를 마저 듣는 것보다 그 시간 동안 집에 가서 ㉣TV를 보는 것이 더 낫다고 생각하면서도 ㉢들인 돈이 아까워 ㉤그대로 앉아 연주를 들었다.

- ① ㉠은 재화를 소비하기 위한 활동이다.
- ② ㉡은 부가가치를 창출하는 활동이 아니다.
- ③ ㉢의 기회비용에는 ㉣에서 얻는 만족감이 포함된다.
- ④ ㉤은 매물 비용으로 볼 수 없다.
- ⑤ ㉤은 합리적 선택이다.

5. 교사의 질문에 대해 옳게 답변한 학생을 <보기>에서 고른 것은?



< 보 기 >

갑: (가)는 기회비용에 해당해요.
 을: 가격이 동일한 상품 중 하나를 소비할 때 포기한 대안들 중 가장 편익이 큰 것으로 (가)를 측정할 수 있어요.
 병: 가격이 동일한 상품 중 하나를 소비할 때 포기한 대안들의 편익을 모두 합한 것으로 (나)를 측정할 수 있어요.
 정: 합리적 선택은 편익이 (가)와 (나)의 합계보다 큰 대안을 선택하는 것이예요.

- ① 갑, 을 ② 갑, 병 ③ 을, 병 ④ 을, 정 ⑤ 병, 정

6. 다음 주장에 부합하는 진술로 가장 적절한 것은?

특허권은 다른 사람이 신기술을 일정 기간 함부로 사용할 수 없도록 보장하는 권리이다. 만약 특허권을 보장해주지 않는다면 신기술 개발에 대한 투자가 줄어들 것이다. 하지만 특허권을 강화하여 너무 오래, 엄격히 적용하면 이 기술을 이용·발전시켜 얻을 수 있는 사회적 이익이 줄어들 수도 있다. 이러한 관점에서 특허권을 강화하는 대신 포상 제도를 고려할 필요가 있다.

- ① 특허권 약화는 기업의 독점력을 강화시킨다.
- ② 특허권은 가능한 한 장기간 보장되어야 한다.
- ③ 특허권이 보장된 기술에서는 규모의 경제가 나타난다.
- ④ 사회적 이익을 극대화하려면 특허권을 강화해야 한다.
- ⑤ 신기술 개발을 장려하는 포상 제도가 특허권의 강화보다 사회적 이익을 늘려줄 수 있다.

3. 다양한 경제 체제

한 친구가 10개의 빵을 가져와서 30명의 학급 친구들과 나누어 먹자고 하였다. 어떻게 배분하는 것이 가장 좋을까? 빵을 가져온 사람과 친한 정도에 따라 빵을 나누자는 사람, 제비뽑기로 먹을 사람을 결정하자는 사람, 배고픈 사람에게 먼저 주자고 하는 사람도 있다. 아니면 30명이 똑같이 나누어 먹는 방법도 있다.

사회마다 경제 문제를 해결하는 방법은 다르다. 자유로운 경쟁을 통해 경제 문제를 해결하는 사회도 있고, 국가의 통제나 계획을 통해 경제 문제를 해결하는 사회도 있다. 이처럼 경제 문제를 해결하기 위한 제도나 방식을 **경제 체제**라고 한다.

경제 체제는 사회 구성원에게 최소한 자원을 어떻게 배분할 것인지 기준을 설정하고 제시한다. 경제 체제는 기본적 경제 문제를 해결하는 방식에 따라 전통 경제 체제, 계획 경제 체제, 시장 경제 체제로 나눌 수 있다.

전통 경제 체제는 기본적인 경제 문제를 전통과 관습에 따라 해결하는 경제 체제이다. 이러한 경제 체제는 사회의 안정과 지속성을 보장하는 장점이 있으나, 사회 구성원의 경제 활동을 전통이나 관습 등으로 제한하므로 사회의 변화와 발전이 지연될 수 있다는 단점이 있다.

중앙 정부의 계획과 명령, 통제에 따라 경제 문제를 해결하는 경제 체제를 **계획 경제 체제**라고 한다. 중앙 정부는 무엇을, 얼마나, 어떻게 생산하고, 분배할 것인가에 관해 국가 전체를 대상으로 **계획**을 세우고 **명령**함으로써 경제 문제를 해결한다. 예를 들어 주택이 부족하면 중앙 정부가 주택 단지 조성 계획을 세우고 주택을 건설할 지역, 주택의 종류, 생산방식, 생산량 등을 결정한다. 정부에서 주택을 생산하고 분배 역시 정부의 계획에 따라 이루어진다.

계획 경제 체제는 중앙 정부가 경제 전체를 통합하여 관리함으로써 국가의 정책 목표를 우선으로 추구할 수 있으며, 자원 배분이 일부 지역이나 산업, 특정 계층 등에 집중되지 않도록 해 분배의 **형평성**을 실현하고자 한다.

하지만 개인이 일한 만큼 분배받는 것이 아니기 때문에 생산 동기가 부족하고, 개인의 창의적이고 적극적인 경제 활동이 이루어지지 않아 경제 활동의 효율성이 낮아질 수 있다. 또 소비자의 다양한 욕구를 국가에서 일일이 반영하여 계획을 세우는 데 한계가 있다.

시장 경제 체제에서는 가격과 기업이 경제 활동의 중심이 되어 자신의 이익을 추구하고, 이들 경제 주체가 **시장 가격**에 따라 자유롭게 의사 결정을 함으로써 경제 문제를 해결한다.

시장 경제 체제에서 소비자가 많이 선택하는 상품은 가격이 올라가는 경향이 있다. 기업은 시장 가격이 변화하는 것을 보고 소비자의 욕구를 파악해 무엇을, 얼마나, 어떻게 생산할지 결정한다. 또한 기업은 생산 비용을 줄일 방법을 찾아 기업의 이윤을 높이고자 노력한다.

이처럼 시장 경제 체제에서는 소비자와 기업이 시장 가격에 기초하여 경제 문제를 자유롭게 결정한다. 그 결과 소비자의 만족과 기업의 이윤이 높아질 뿐만 아니라 사회적으로 **효율성**이 높아지고 자원의 배분이 최적으로 이루어진다.

하지만 시장 경제 체제에서는 개인의 능력이나 가정 환경의 차이, 사회적, 경제적 구조와 제도 등 다양한 원인에 의하여

빈부 격차가 발생하고, 급격한 경기 변동이 나타나기도 한다.

현실에서 완벽한 시장 경제 체제나 계획 경제 체제는 존재하지 않는다. 정부의 계획 없는 시장 경제도, 자유로운 거래가 은밀하게 이루어지는 암시장 하나 없는 계획 경제도 없다. 우리나라는 시장 경제 체제를 근간으로 하지만 국가의 경제 계획과 통제가 일부 이루어지고 있으며, 가장 폐쇄적인 계획 경제 체제 국가라고 알려진 북한에서조차 일부 지역에서 시장이 형성되어 자유로운 거래가 이루어진다.

혼합 경제 체제는 시장 경제 요소와 계획 경제 요소가 혼합된 경제 체제를 의미한다. 혼합 경제 체제는 미국 정부가 1930년대의 대공황을 해결하기 위해 경제 문제에 개입하면서 본격적으로 등장하였다. 당시 시장 경제의 운영 원리를 신봉하던 미국에서는 대공황 역시 시장의 가격 기구가 해결해 줄 것이라고 생각하였다. 하지만 시간이 지나도 경제 상황이 나아지지 않자 정부가 본격적으로 경제 문제에 개입하기 시작하였다. 정부에서 대규모 사업을 벌여 일자리를 만들고 경기를 회복하는 뉴딜 정책을 펼친 후에야 대공황에서 벗어날 수 있었다. 현재 대부분의 국가는 시장 경제 체제를 기반으로 하여 계획 경제 체제의 요소가 일부 혼합되어 있는 혼합 경제 체제를 택하고 있다.

7. 밑줄 친 경제학자 갑의 입장에 대한 옳은 설명을 <보기>에서 고른 것은?


경제학자 갑은 인간 행동의 가장 주된 동기는 자신의 이익만을 추구하는 이기심이라고 주장한다. 그리고 각 개인이 자신의 이익을 추구하기 위해 행동하면 사회 전체에도 이익이 된다고 주장한다. 그래서 외부의 간섭 없이 시장 원리에 의해서만 경제가 운영되는 것이 가장 바람직하다고 본다.

— < 보 기 —

ㄱ. 시장에 의한 경제 문제 해결을 강조한다.
 ㄴ. 경제 주체들 간 자유로운 경쟁을 중시할 것이다.
 ㄷ. 정부의 결정과 통제에 의한 자원 배분을 강조한다.
 ㄹ. 시장 경제 체제보다 혼합 경제 체제를 선호할 것이다.

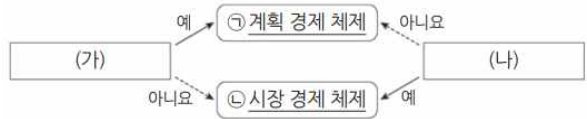
- ① ㄱ, ㄴ ② ㄱ, ㄷ ③ ㄴ, ㄷ ④ ㄴ, ㄹ ⑤ ㄷ, ㄹ

8. 그림은 경제 수업 장면이다. 경제 체제 (가) ~ (다)에 대한 설명으로 옳은 것은?



- ① (가)에서는 정부 개입에 의해서만 효율적인 자원 배분이 이루어진다.
 ② (나)에서는 '누구를 위해 생산할 것인가?'의 문제가 발생하지 않는다.
 ③ (다)에서는 가격 기구에 의한 경제 문제 해결이 증시된다.
 ④ (가)에서는 (다)에 비해 경제적 유인이 강조된다.
 ⑤ (나)에서는 (다)에 비해 개인의 경제적 자율성이 높다.

9. 그림은 질문에 따라 경제 체제를 구분한 것이다. 이에 대한 설명으로 옳은 것은?



- ① ㉠에서는 ㉡과 달리 개인의 이윤 추구 동기가 강조된다.
 ② ㉠에서는 ㉡과 달리 시장 가격 기구의 기능이 증시된다.
 ③ ㉡에서는 ㉠과 달리 민간 경제 주체의 자유로운 경제 활동이 증시된다.
 ④ (가)에는 '무엇을 얼마나 생산할 것인가의 문제가 발생는가?'가 들어갈 수 있다.
 ⑤ (나)에는 '경제 활동에 대한 정부의 통제를 증시하는가?'가 들어갈 수 있다.

4. 가계의 역할

경제 활동이란 사람이 생활에 필요한 재화와 서비스를 생산하고 분배하며 소비하는 활동을 말한다. 경제 활동을 이끄는 경제 주체 중에 **가계**는 기업에 생산 요소를 제공하고 그 대가로 소득을 얻어 소비한다. **기업**은 제공받은 생산 요소를 이용해 재화와 서비스를 생산하여 이윤을 추구한다. **정부**는 가계와 기업이 낸 세금으로 국방, 치안, 도로 등을 생산하고 기업이 생산한 재화와 서비스를 소비한다.

가계는 가계 소득을 바탕으로 소비 활동을 하는 가장 기본적인 경제 주체이다. 경제생활에서 가계는 주로 어떤 역할을 할까? 가계는 재화와 서비스의 **수요자**로서 주로 소비 생활을 한다. 가계는 소비를 통해 필요와 욕구를 충족하고 만족을 얻는다. 기업은 소비자의 소비를 고려하여 생산하기 때문에 가계의 소비 생활은 기업의 생산과 관련한 의사 결정에 영향을 준다.

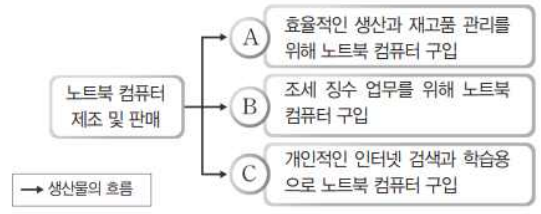
따라서 가계가 무엇을 얼마나 어떻게 소비하는가는 곧 기업의 생산 방향을 결정해 준다고 할 수 있다. 가계가 소비 생활을 하는 목적은 개인적 차원의 편익을 극대화하는 것이지만, 결과적으로는 기업과 국가 전체의 경제에 큰 영향을 미친다.

가계에서 소비하는 재화와 서비스를 생산하려면 기업은 노동, 토지, 자본 등의 생산 요소가 필요하다. 가계는 기업에 **생산 요소**를 **공급**하는 역할을 한다. 가계는 기업에 노동을 제공하고 임금을 받거나 토지를 임대하고 임대료나 지대를 받는다. 또 기업에 자본을 제공하고 이자를 받기도 한다. 임금, 임대료와 지대, 이자 등은 모두 생산 요소를 제공하고 얻는 소득이다.

가계와 기업은 생산 요소 시장에서는 공급자와 수요자로서, 생산물 시장에서는 수요자와 공급자로서 서로 의존하며 경제적 역할을 한다. 가계는 생산 요소를 제공한 대가로 얻은 소득으로 필요한 재화와 서비스를 소비하고, 기업은 생산 요소를 이용하여 재화와 서비스를 생산한다. 가계의 생산 요소 공급은 결과적으로 가계와 기업 모두에 이익이 된다.

한편 가계는 **납세자**의 역할도 담당한다. 가계는 소득세 등의 조세를 납부하여 정부의 재원 마련에 이바지한다. 정부는 조세 수입을 바탕으로 각종 정책을 시행하며 국민 경제를 운영하고 유지해 나갈 수 있다.

10. 그림은 갑국 국내 경제 주체 A~C의 경제 활동 중 일부를 나타낸 것이다. 이에 대한 설명으로 옳은 것은?



- ① A는 생산물 시장의 공급자이다.
- ② A는 효율의 극대화를 추구한다.
- ③ B는 민간 경제 주체이다.
- ④ C는 재정 정책의 주체이다.
- ⑤ C는 생산 요소 시장의 수요자이다.

11. 표는 개당 가격이 5만 원인 X제를 5개까지 소비할 때 소비자 감이 얻는 총편익을 나타낸다. 이에 대한 분석으로 옳은 것은?

소비량(개)	1	2	3	4	5
총편익(만 원)	10	18	24	28	30

- ① 순편익이 가장 큰 소비량은 4개이다.
- ② 소비량이 증가할수록 순편익이 증가한다.
- ③ 소비 지출액이 가장 클 때 순편익이 최대가 된다.
- ④ 2개를 소비할 때와 4개를 소비할 때의 순편익은 같다.
- ⑤ 합리적으로 소비량을 선택할 때 얻는 총편익은 28만 원이다.

12. 다음 사례에 대한 분석으로 옳은 것은?

프로야구 선수 갑은 다음과 같이 4년간의 연봉 계약 안을 제안받았다.

<A안> 2015년에 연봉 10억 원을 지급한 후, 향후 3년간 매년 전년 대비 50%씩 인상된 금액을 지급한다.

<B안> 2015년에 연봉 10억 원을 지급한 후, 향후 3년간 매년 6억 원씩 인상된 금액을 지급한다.

- ① A안의 2017년 연봉은 20억 원이다.
- ② A안의 연봉 증가액은 매년 일정하다.
- ③ 2017년 연봉은 B안이 A안보다 더 높다.
- ④ 4년간 연봉 총액은 A안이 B안보다 더 크다.
- ⑤ 전년 대비 2017년 연봉 증가액은 B안이 A안보다 더 크다.

5. 기업의 역할

사람들이 소비하는 쌀은 농가에서 생산하여 대부분 상점을 거쳐 판매된다. 농가는 쌀이라는 재화를, 상점은 판매라는 서비스를 생산한 것이다. 기업은 이윤 획득을 목적으로 재화와 서비스를 생산하는 경제 주체이다. 기업은 **재화와 서비스**를 생산하고 시장에 공급하여 가계의 수요를 충족해 주며 이를 통해 이윤을 얻는다.

기업은 생산한 제품이 시장에서 판매되어야 이윤을 얻을 수 있으므로 소비자들이 원하는 좋은 상품을 더 싼 가격에 시장에 공급하기 위하여 노력한다. 이 과정에서 기업의 생산비 절감을 위한 노력과 기업 간 경쟁으로 효율이 극대화되어 소비자는 만족을 얻을 수 있고, 기술 개발, 고용 증가, 경제 성장 등 사회 전체에 긍정적인 영향을 미칠 수 있다.

현대 사회에서 기업은 과거보다 더 다양한 재화와 서비스를 생산한다. 김치와 된장, 간장과 같은 전통 음식을 비롯하여 밥과 국까지도 기업에서 생산하고, 이를 식사 시간에 맞추어 배달하는 서비스를 공급하는 기업도 있다. 이처럼 기업의 생산 활동이 사람들의 일상생활과 사회 전반에 미치는 영향이 더욱 커지고 있다.

기업이 재화나 서비스를 생산하기 위해서는 가계가 제공하는 생산 요소가 필요하므로 기업은 **생산 요소의 수요자**가 된다.

기업은 생산 요소 시장에서 가계가 공급한 생산 요소, 즉 노동, 토지, 자본 등을 구입하여 사용하고 그 대가로 임금, 임대료, 이자 등을 지불하는데, 이는 가계 소득의 원천이 된다. 특히 노동 수요는 가계 경제에 직접적인 영향을 미친다. 기업의 노동 수요가 증가하면 일자리가 증가하여 가계 소득이 늘어나고, 기업의 노동 수요가 감소하면 일자리가 감소하여 가계 소득이 줄어든다. 따라서 기업의 활발한 투자와 생산 활동은 고용을 창출하고 기타 생산 요소의 수요 증가를 가져와 가계의 경제생활과 국가 경제에 긍정적인 영향을 미친다.

또한 기업은 나라 살림의 재원이 되는 세금을 부담하는 **납세자**의 역할을 한다. 기업은 정부에 법인세, 부가 가치세와 같은 세금을 납부하는데, 이는 국가 재정 수입의 큰 부분을 차지한다.

13. 표는 갑 기업의 X재 생산량에 따른 이윤과 총수입을 나타낸다. 이에 대한 분석으로 옳은 것은? (단, 생산된 X재는 모두 판매된다.)

(단위 : 개, 만 원)

생산량	1	2	3	4	5
이윤	1	2	2	1	-1
총수입	5	10	15	20	25

- ① 생산량이 증가할수록 가격은 하락한다.
- ② 갑 기업의 합리적인 생산량은 5개이다.
- ③ 생산량이 2개일 때의 총비용은 8만 원이다.
- ④ 생산량이 증가할수록 X재 1개당 생산 비용은 감소한다.
- ⑤ 생산량이 1개씩 증가할 때마다 추가적으로 발생하는 수입은 증가한다.

14. 다음 자료에 대한 설명으로 옳은 것은?

갑 기업은 시장 가격이 10만 원인 X재를 생산하여 판매한다. 표는 X재 생산량에 따른 총수입 대비 총비용의 비율을 나타낸다. 단, 생산된 X재는 모두 판매된다.

생산량(개)	1	2	3	4	5
총비용/총수입	0.8	0.7	0.7	0.75	0.9

* 총수입 = 평균 수입 × 생산량
 ** 총비용 = 평균 비용 × 생산량

- ① 생산량이 증가할 때 총수입의 증가율은 일정하다.
- ② 모든 생산량에서 평균 수입은 시장 가격보다 크다.
- ③ 생산량이 1개씩 증가할 때 추가적으로 발생하는 비용은 증가한다.
- ④ 총수입이 가장 클 때 이윤이 극대화된다.
- ⑤ 이윤이 극대화되는 생산량에서 평균 비용은 7만 5천 원이다.

15. 다음 자료에 대한 분석 및 추론으로 옳은 것은?

어부 갑은 바다에서 A 물고기를 잡는다. 잡은 물고기는 냉동용으로 통째 처리하여 판매하거나, 훈연용으로 해체 처리하여 판매할 수 있다. 물고기를 훈연용으로 처리할 경우 마리당 50조각이 나온다.

갑은 매일 아침 A 물고기의 냉동용, 훈연용 시장 가격을 확인하고 어획량을 결정한다. 갑은 원하는 만큼 물고기를 잡을 수 있고, 잡은 물고기는 전량 당일 시장 가격으로 판매한다. 갑은 이윤 극대화를 추구하고, 총비용은 다음과 같이 구성된다.

항목	비용	
고깃배 사용 비용	하루 20만 원	
물고기 잡는 비용	물고기의 마릿수가 늘어날 때마다 마리당 15만 원씩 증가. 예컨대 첫 번째 물고기는 15만 원, 두 번째는 30만 원, 세 번째는 45만 원으로, 세 마리를 잡을 경우 물고기 잡는 비용은 90(-15+30+45)만 원	
처리 비용	냉동용	마리당 5만 원
	훈연용	조각당 2천 원

오늘의 A 물고기 시장 가격은 다음과 같다.

구분	시장 가격
냉동용	마리당 40만 원
훈연용	조각당 ① 1만 원

- ① 갑은 오늘 잡은 물고기를 냉동용으로 처리하여 판매할 것이다.
- ② 갑은 오늘 3마리를 잡을 것이다.
- ③ 오늘 처리 비용은 총 10만 원이 될 것이다.
- ④ 내일 ①이 5천 원으로 바뀌면 갑은 내일 2마리를 잡을 것이다.
- ⑤ 내일 ①이 5천 원으로 바뀌면 갑의 내일 이윤은 오늘보다 5만 원이 감소할 것이다.

6. 정부의 역할

국방, 치안, 교육 등의 공공재 생산을 시장에 맡기면 기업은 만족할 만한 이윤을 얻지 못하기 때문에 이를 충분히 생산하지 않는다. 따라서 정부는 사회적으로 필요한데도 시장에서 충분히 생산되지 않는 재화나 서비스, 사회 간접 자본 등을 생산하는 공급자의 역할을 한다.

정부는 가계의 생산 요소와 기업의 재화와 서비스를 소비하는 수요자의 역할도 한다. 예를 들어 정부는 국방 서비스를 제공하기 위하여 직업 군인을 고용하고, 물품을 기업으로부터 구입한다.

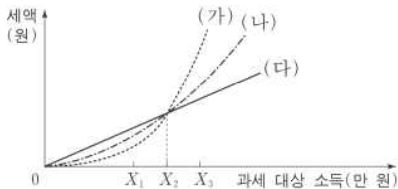
정부도 경제 활동을 하기 위해서는 수입이 필요하고, 행정 목적을 달성하기 위한 여러 활동에는 지출이 수반된다. 정부가 정책을 시행하기 위해 수입과 지출을 관리하는 일체의 활동을 재정 활동이라고 한다. 정부는 예산을 세외 일련의 수입과 지출을 사전에 계획하고 집행한다. 정부의 예산은 세입과 세출로 나뉘는데, 세입은 주로 조세와 조세 외 수입으로 구성되며, 세출은 일반 공공 행정과 국방, 치안, 교육, 복지 분야 등의 지출로 구성된다.

정부는 시장에서 공정한 경쟁이 이루어지도록 개입하기도 한다. 독과점 형성, 과대, 과장 광고 등 시장의 질서를 왜곡하고 자원의 비효율적 배분을 가져오는 행위에 관하여 법과 제도를 통해 공정한 경쟁을 유도하는 것은 정부의 중요한 역할 중 하나이다.

시장에서 재화와 서비스를 효율적으로 공급하더라도 사회 구성원 전체에게 소득이 공정하게 분배되는 것은 아니다. 생산 과정에서 발생한 가치를 생산에 참여한 사람에게 나누어 주는 것이 분배인데, 시장의 효율성만을 고려하여 분배하면 공평한 소득 분배가 이루어지지 않을 수도 있다. 그래서 정부는 시장의 분배 과정에 개입하여 소득 격차를 줄이기 위해서 노력한다. 최저 임금 제도, 누진세 제도, 사회 보장 제도 등은 소득 재분배 정책의 예이다.

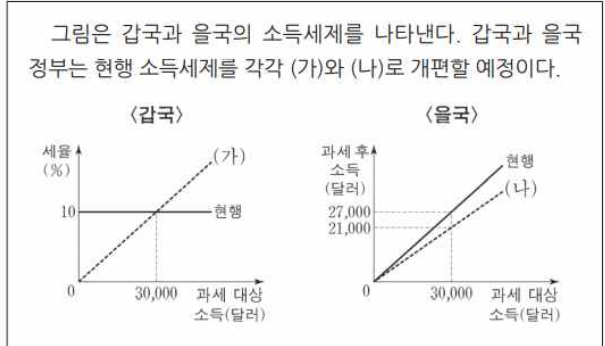
한편 시장 경제에서는 경기 변동이 발생한다. 경기 과열로 물가가 급등하거나 경기 침체로 실업률이 높아지면 국민이 안정적인 경제생활을 유지할 수 없다. 이때 정부는 경제 안정화 정책을 통해 물가를 안정시키고 고용을 적정 수준으로 유지하고자 노력한다.

16. 그림은 소득세제 (가)~(다)에서 과세 대상 소득과 세액 간 관계를 나타낸다. 이에 대한 분석으로 옳은 것은?



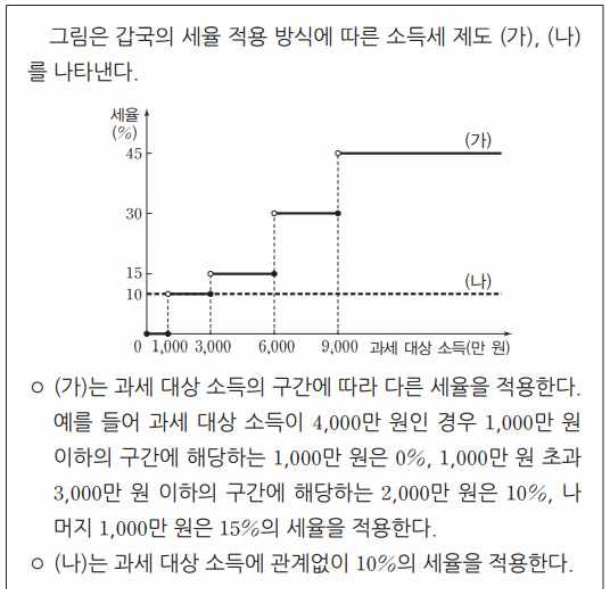
- ① (가)에서 세율은 과세 대상 소득이 커짐에 따라 점차 낮아진다.
- ② (나)에서 X1과 X3에 적용되는 세율은 같다.
- ③ (나)는 (가)보다 누진적이다.
- ④ (가)는 (다)보다 소득 재분배 효과가 크다.
- ⑤ (다)는 (나)보다 X2에 해당되는 세액은 작다.

17. 다음 자료에 대한 설명으로 옳은 것은?



- ① 현재 갑국은 비례세제를, 을국은 누진세제를 채택하고 있다.
- ② (가)는 과세 대상 소득 증가율보다 세액의 증가율이 높다.
- ③ (나)는 모든 과세 대상 소득 구간에서 현행 을국 소득세제보다 세율이 낮다.
- ④ 과세 대상 소득이 30,000달러인 경우, (가)보다 (나)에서 세율이 낮다.
- ⑤ 과세 대상 소득이 30,000달러 미만인 경우, (가)보다 (나)에서 납부하는 세액이 작다.

18. 다음 자료에 대한 분석으로 옳은 것은?



- (가)는 과세 대상 소득의 구간에 따라 다른 세율을 적용한다. 예를 들어 과세 대상 소득이 4,000만 원인 경우 1,000만 원 이하의 구간에 해당하는 1,000만 원은 0%, 1,000만 원 초과 3,000만 원 이하의 구간에 해당하는 2,000만 원은 10%, 나머지 1,000만 원은 15%의 세율을 적용한다.
- (나)는 과세 대상 소득에 관계없이 10%의 세율을 적용한다.

- ① (가)는 비례세율, (나)는 누진세율이 적용된다.
- ② (가)에 비해 (나)는 소득의 재분배 효과가 크다.
- ③ (가)에서는 과세 대상 소득이 3,000만 원일 때의 세후 소득이 3,100만 원일 때의 세후 소득보다 더 크다.
- ④ 과세 대상 소득이 5,000만 원인 사람의 세액은 (가)와 (나)에서 같다.
- ⑤ 과세 대상 소득이 2,000만 원에서 2,500만 원으로 500만 원 증가 할 때 추가적으로 납부할 세액은 (가)보다 (나)에서 더 크다.

7. 시장 균형의 결정과 변동

시장에 참여하는 수요자는 가능하면 낮은 가격으로 상품을 사고자 하고, 공급자는 가능하면 높은 가격으로 상품을 팔고자 한다. 이처럼 수요자와 공급자의 욕구가 서로 다르지만, 시장에서 원만하게 거래가 이루어지는 것은 시장 균형 상태에서 형성된 균형 가격 때문이다. 시장 균형이란 무엇이며, 균형 가격은 어떻게 형성되는 것일까?

시장 균형이란 특정 가격에서 수요량과 공급량이 일치하는 상태를 의미한다. 수요량과 공급량이 일치하는 지점에서 결정되는 가격을 **균형 가격**, 이때의 거래량을 **균형 거래량**이라고 한다.

수요량과 공급량이 일치하는 상태가 시장 균형이다. 시장 균형에서의 가격을 균형 가격이라 하고, 수량을 균형 거래량이라고 한다.

균형 가격에서는 수요량과 공급량이 일치하므로 수요자는 상품을 원하는 수량만큼 살 수 있고, 공급자도 팔고자 하는 수량을 모두 팔 수 있다. 따라서 시장 균형 상태에서는 해당 상품이 모두 거래되어 남거나 모자라지 않으므로 가격이 변화할 유인이 사라지게 된다.

시장 가격이 균형 가격보다 높거나 낮게 형성되면 초과 공급이나 초과 수요가 발생한다. 이와 같은 초과 공급과 초과 수요 상태는 수요와 공급의 원리에 따라서 결국 시장 균형을 회복하게 된다.

시장 가격이 균형 가격보다 높아 공급량이 수요량보다 많은 상태를 **초과 공급**이라고 하며, 초과 공급 상태에서는 가격 하락의 압력이 존재한다. 초과 공급이 발생하면 공급자는 남은 상품을 팔기 위해 가격을 내리고 가격이 하락하면 수요자들의 수요량이 증가하고 공급자들의 공급량이 감소하여 시장 균형을 회복하게 된다.

반대로 시장 가격이 균형 가격보다 낮아 수요량이 공급량보다 많은 상태를 **초과 수요**라고 한다. 초과 수요 상태에서는 수요자들이 사고자 하는 수량을 모두 살 수 없고, 이는 시장에 공급량이 부족함을 의미한다. 수요자들은 현재 가격보다 더 높은 가격을 지불해서라도 상품을 사려고 경쟁한다. 그 결과 가격이 상승하고 공급자들은 공급량을 늘리게 되어 균형 상태에 도달하게 된다.

시장에서 거래하는 상품의 가격은 고정된 것이 아니고 상황에 따라 변하며, 가격 변화에 따라 거래량도 변동한다. 그렇다면 한 시점에서 형성된 균형 가격과 균형 거래량이 변하는 까닭은 무엇일까? 어떤 상품의 수요와 공급이 변동하면 균형 가격과 균형 거래량도 변한다.

사과의 수요량과 공급량이 일치하여 균형 가격이 P_0 으로 결정되어 있고, 이때의 균형 거래량이 Q_0 인 사과 시장이 있다고 가정해 보자. 추석이 다가오면서 선물용이나 제사용품으로 사과를 사려는 사람이 많아지면 이에 따라 기존의 균형 가격 P_0 에서는 초과 수요가 발생하여 상품이 부족하게 된다. 따라서 P_0 보다 높은 가격을 지불해서라도 사과를 사려는 수요자 간 경쟁이 발생하고, 그 결과 가격이 상승한다. 가격이 상승한 만큼 수요량은 감소하고 공급량은 증가하게 된다. 즉, 수요가 증가하면 새로운 시장 균형이 이루어지며 가격은 상승하고 거래량은 증가한다. 반대로 수요가 감소하면 시장 가격은 하락하고

거래량도 감소한다.

공급이 변하면 사과의 균형 가격과 균형 거래량이 변동한다. 우리나라는 기후 특성상 사과를 수확하기 전에 태풍이나 냉해 피해를 당하여 사과 수확량이 급격히 감소하는 사례가 종종 발생한다. 만약 태풍이나 냉해로 사과의 수확량이 감소하면 시장에서 사과 공급이 감소한다.

사과의 공급이 감소하면 기존의 균형 가격에서는 초과 수요가 발생하여 사과가 부족하게 된다. 따라서 높은 가격을 지불해서라도 사과를 사려는 수요자 간 경쟁이 발생하여 가격이 상승한다. 가격이 상승한 만큼 수요량은 감소하고 공급량은 증가하게 된다. 결국 공급이 감소하면 새로운 시장 균형이 이루어지며 가격은 상승하고 거래량은 감소한다.

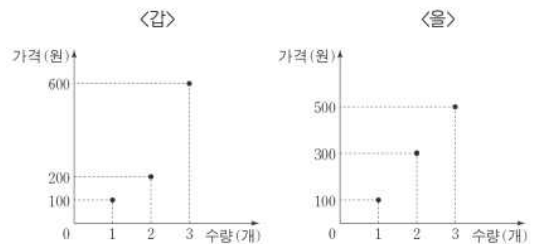
반대로 기후 조건이 양호하거나 사과 채배 기술이 발달하면 사과의 공급이 증가한다. 사과 공급 증가로 사과 시장에서 초과 공급이 발생하면, 남은 사과를 팔기 위한 공급자 간 가격 경쟁이 나타난다. 결국 사과의 가격은 하락하고, 거래량은 증가한다.

19. 다음 자료의 (가), (나)에 대한 설명으로 옳은 것은?

셰일가스(shale gas)는 원유를 대체할 수 있는 자연 자원이다. (가), (나)는 셰일가스 시장에 변화를 준 요인이다.
 (가) 산유국들이 원유 공급을 큰 폭으로 늘렸다.
 (나) 셰일가스 굴착 기술이 좋아져 채굴 시간이 크게 단축되었다.

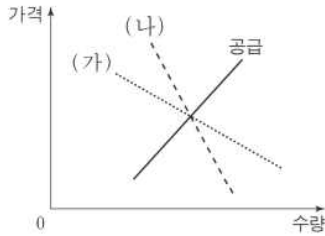
- ① (가)는 셰일가스의 수요 증가 요인이다.
- ② (나)는 셰일가스의 공급 감소 요인이다.
- ③ (가), (나) 모두 셰일가스의 균형 가격 하락 요인이다.
- ④ (가), (나) 모두 셰일가스의 균형 거래량 증가 요인이다.
- ⑤ (가)는 (나)와 달리 셰일가스의 판매 수입 증가 요인이다.

20. 그림은 X제를 생산하는 갑과 을의 공급 계획을 나타낸다. 이에 대한 설명으로 옳은 것은?



- ① 가격이 100원이면 갑의 공급량은 0개이다.
- ② 가격이 200원이면 을의 공급량은 2개이다.
- ③ 가격이 300원이면 갑과 을의 공급량 합계는 4개이다.
- ④ 가격이 400원이면 갑과 을의 공급량 합계는 5개이다.
- ⑤ 가격이 500원이면 갑과 을의 공급량 합계는 6개이다.

21. 그림은 갑국 사탕수수 시장의 공급 곡선과 연구자에 따라 (가) 또는 (나)로 추정된 수요 곡선을 나타낸다. 이에 대한 옳은 추론을 <보기>에서 고른 것은?



- < 보 기 >
- ㄱ. 사탕수수 재배 기술이 발달하면 균형 거래량은 (가)보다 (나)에서 더 많이 증가할 것이다.
 - ㄴ. 사탕수수 농사가 풍년이 되면 균형 가격은 (나)보다 (가)에서 더 많이 하락할 것이다.
 - ㄷ. 사탕수수 생산자에게 단위당 동일한 세금을 부과하면 조세 수입은 (가)보다 (나)에서 더 많을 것이다.
 - ㄹ. 기상 이변으로 사탕수수 재배 면적이 감소하면 판매 수입은 (나)보다 (가)에서 더 적을 것이다.

- ① ㄱ, ㄴ ② ㄱ, ㄷ ③ ㄴ, ㄷ ④ ㄴ, ㄹ ⑤ ㄷ, ㄹ

22. 그림은 수행 평가지의 일부이다. (가)에 들어갈 수 있는 내용으로 옳은 것은?

경제 수행 평가지 점수 10/10

성명: ○○○

◎ 탐구 과제 A~C의 상황이 발생할 경우 그림의 X재 시장에 나타날 변화를 분석해 보세요.

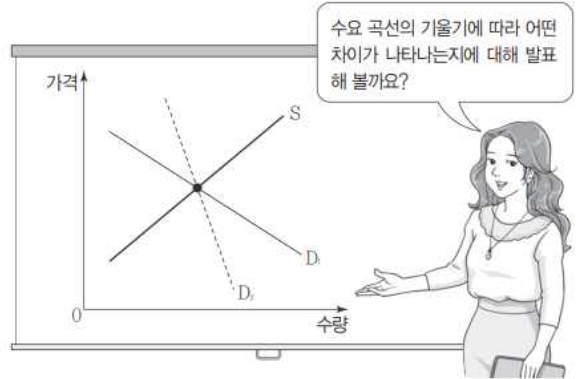
상황	내용
A	X재에 대한 선호 증가로 모든 가격대에서 X재 수요량이 200개씩 변화
B	X재의 생산 요소 가격 상승으로 각 수량에서 생산자가 최소한 받고자 하는 금액이 200달러씩 변화
C	정부가 생산자에게 X재 1개당 200달러의 보조금을 지급하는 정책 시행으로 인한 공급 변화

◎ 답안

(가)

- ① A만 발생할 경우 균형 가격은 200달러 상승한다.
- ② B만 발생할 경우 판매 수입은 1만 달러 증가한다.
- ③ C만 발생할 경우 소비자 잉여는 3만 달러 증가한다.
- ④ A와 B가 동시에 발생할 경우 균형 거래량은 100개 감소한다.
- ⑤ A와 C가 동시에 발생할 경우 보조금 총액은 8만 달러이다.

23. 교사의 질문에 대해 옳은 답변을 한 학생을 <보기>에서 고른 것은? (단, 수요 곡선은 직선이다.)

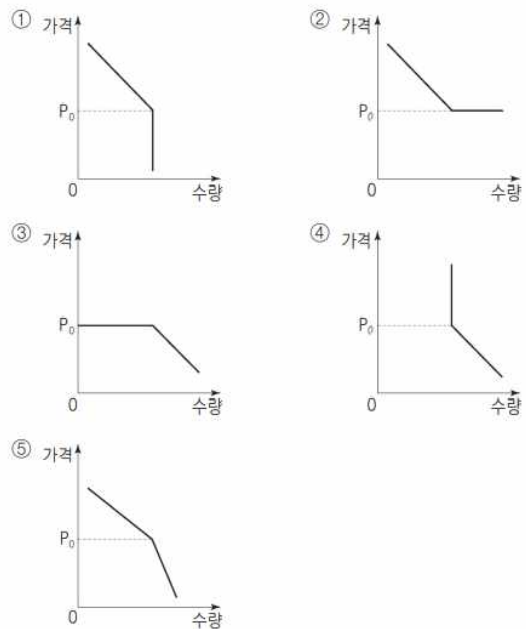


- < 보 기 >
- 갑: 수요는 DA보다 D^a일 때 가격 변동에 더 민감해요.
 - 을: 균형에서 소비자 잉여는 DA보다 D^a일 때 더 커요.
 - 병: 사치품에 대한 수요는 DA보다 D^a에 가까워요.
 - 정: 공급이 증가하면 판매 수입은 DA보다 D^a일 때 더 작아요.

- ① 갑, 을 ② 갑, 병 ③ 을, 병 ④ 을, 정 ⑤ 병, 정

24. 다음 자료에 나타난 X재의 수요 곡선으로 가장 적절한 것은?

- X재는 다음과 같은 특성을 갖는다.
- 가격이 P₀ 이상일 때는 가격과 수량 간에 역(-)의 관계가 있다.
 - P₀보다 낮은 가격에서는 가격이 하락해도 수요량이 증가하지 않고 일정하게 유지된다.



8. 잉여와 시장의 효율성

사람들은 시장에서 상품을 사기 전 품질과 가격 등을 놓고 고민하는데, 최종적으로 상품 구입을 결정하는 까닭은 자신이 지불할 의사가 있는 가격과 시장 가격이 일치하기 때문이다. 즉, 소비자가 상품을 구입하는 것은 상품 구입을 위해 지불한 가격 이상의 만족 또는 편익을 누린다는 것을 뜻한다.

이처럼 소비자가 상품을 구입하면서 얻었다고 느끼는 이득의 크기를 **소비자 잉여**라고 한다. 소비자 잉여는 소비자가 어떤 상품을 구입하기 위해 최대로 지불할 의사가 있는 금액에서 실제로 지불한 금액을 뺀 것으로 계산할 수 있다.

생산자는 생산비를 고려하여 최소한 받아야 한다고 생각하는 금액이 있고, 가격이 그 금액보다 낮아서 손해를 보면 상품을 생산하지 않는다. 즉, 생산자가 상품 판매를 통해 최소한 받아야 한다고 생각하는 금액만큼을 얻을 수 있다면 생산자는 상품을 생산한다. 만약 생산자가 최소한 받아야 한다고 생각하는 금액보다 시장 가격이 높다면 그 차이만큼의 이득을 얻을 수 있다.

이처럼 생산자가 상품을 팔면서 얻었다고 느끼는 이득의 크기를 **생산자 잉여**라고 한다. 생산자 잉여는 생산자가 어떤 상품을 공급하면서 실제로 받은 금액에서 그 상품을 판매하여 최소한 받고자 하는 금액을 뺀 것으로 계산할 수 있다. 따라서 판매 가격이 오를수록 생산자 잉여는 증가한다.

시장에서 거래가 이루어지는 까닭은 해당 상품의 소비자와 생산자 모두 이득을 얻기 때문이다. 소비자 잉여와 생산자 잉여를 합한 것을 총잉여 또는 사회적 잉여라고 한다. 즉, **총잉여**는 시장 거래 참여자가 교환을 통해 얻게 되는 이득이다. 그렇다면 총잉여는 어느 가격 수준에서 최대가 될까?

총잉여는 소비자 잉여와 생산자 잉여를 합한 것이다. 만약 상품 가격이 균형 가격보다 높은 가격에서 거래되면 소비자 잉여와 생산자 잉여는 변한다. 따라서 균형 가격이라면 거래가 가능했던 소비자와 생산자가 거래를 못 하게 된 것만큼의 소비자 잉여와 생산자 잉여가 줄어들어 총잉여는 감소한다.

반대로 어떤 상품이 균형 가격보다 낮은 가격에서 거래되어도 총잉여는 감소한다. 따라서 균형 가격이라면 거래가 가능했던 소비자와 생산자가 거래를 못 하게 된 것만큼의 소비자 잉여와 생산자 잉여가 줄어들어 총잉여는 감소한다. 이는 정부가 급격한 물가 상승에 대처하거나 소비자를 보호하려는 등의 목적으로 상품의 최고 가격을 통제하는 최고 가격제도 마찬가지이다. 시장의 자유로운 거래를 통해 형성된 균형 가격을 벗어난 상태의 거래는 자원의 효율적 배분을 가로막아 총잉여가 감소한다.

결국 총잉여는 상품이 시장 균형 가격으로 거래될 때 최대가 되고, 이때 소비자와 생산자의 이득이 극대화된다. 이는 자유로운 교환으로 시장 균형이 이루어지면 총잉여가 최대가 되어 자원이 가장 효율적으로 배분된다는 것을 의미한다.

가계와 기업이 경제 활동을 할 때 노동 시장의 작동 원리를 파악할 필요가 있다. 노동 시장에서 가계는 노동이라는 생산 요소의 공급자가 되고 기업은 이를 소비하는 수요자가 되기 때문이다.

노동 시장은 노동의 수요와 공급이 만나서 노동의 가격인 임금과 거래량인 고용량이 결정되는 시장이다. 기업은 노동을

구매하려는 수요자가 되고 가계는 노동을 판매하려는 공급자가 된다. 공급 법칙에 따라 노동의 공급자인 가계는 임금이 올라가면 노동 공급량을 늘리고, 임금이 내려가면 노동 공급량을 줄인다. 반대로 기업은 수요 법칙에 따라 임금이 올라가면 노동 수요량을 줄이고, 임금이 내려가면 노동 수요량을 늘린다. 노동의 수요와 공급이 만나는 점에서 균형 가격인 임금이 결정되는데 이를 **균형 임금**이라고 하며, 이때의 노동 거래량을 **균형 고용량**이라고 한다.

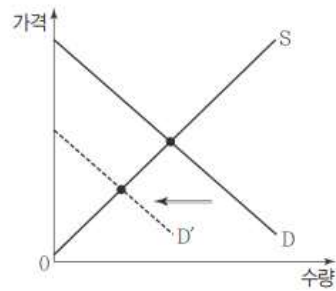
가계와 기업은 경제 활동 과정에서 자금이 남거나 모자라는 때가 있는데 금융 시장을 통해 이를 해결할 수 있다.

금융 시장은 자금의 수요자와 공급자가 만나서 자금을 빌리거나 빌려주는 거래가 이루어지는 시장이다. 금융 시장에서 자금의 공급은 주로 가계의 저축이나 기업의 잉여 자금을 통해서 이루어지며, 기업의 투자나 가계의 대출이 자금의 수요가 된다.

금융 시장에서 자금의 수요자와 공급자 간 거래는 이자(금리)를 매개로 이루어진다. 즉, 금융 시장에서는 이자율이 시장 가격이 된다. 이자율은 자금의 수요와 공급에 의해 결정되는데, 자금의 수요 곡선과 공급 곡선이 만나는 지점에서 형성되는 이자율을 **균형 이자율**이라고 하며, 이때의 자금 거래량을 **균형 거래량**이라고 한다.

금융 시장도 자금의 수요와 공급이 변동하면 균형 이자율이 변한다. 예를 들어 가계의 저축이 증가하면 자금 공급 곡선이 오른쪽으로 이동하여 균형 이자율이 하락한다. 한편 국제 원유 가격 상승으로 경기 침체가 지속되면 기업은 투자를 줄이고, 이는 기업의 자금 수요 감소로 이어져 자금 수요 곡선이 왼쪽으로 이동하며 균형 이자율이 하락한다.

25. 그림은 X재 시장에서 수요의 변화를 나타낸다. 이에 대한 옳은 설명을 <보기>에서 고른 것은?



< 보기 >

- ㄱ. 균형 가격이 하락했다.
- ㄴ. 균형 거래량이 증가했다.
- ㄷ. 생산자 잉여는 감소했다.
- ㄹ. 소비자 잉여는 증가했다.

- ① ㄱ, ㄴ ② ㄱ, ㄷ ③ ㄴ, ㄷ ④ ㄴ, ㄹ ⑤ ㄷ, ㄹ

26. 다음 자료의 밑줄 친 ㉠으로 인해 예상되는 결과로 옳은 것은?

표는 2명의 소비자(갑, 을)와 2명의 생산자(병, 정)로 구성된 X재 시장에서 소비자가 1개씩 추가로 구입할 때마다 지불하고자 하는 최대 금액(최대 지불 용의 금액)과 생산자가 1개씩 추가로 생산할 때마다 받고자 하는 최소 금액(최소 요구 금액)을 나타낸 것이다.

(단위 : 만 원)

구분	최대 지불 용의 금액		최소 요구 금액	
	갑	을	병	정
첫 번째 X재	9	10	7	6
두 번째 X재	8	9	8	7
세 번째 X재	7	8	9	8
네 번째 X재	6	7	10	9
다섯 번째 X재	5	6	11	10

최근 정부는 ㉠ 생산자에게 X재 한 개당 2만 원의 판매세를 부과하는 방안을 검토 중이다.

- ① 거래량은 4개 감소한다.
- ② 을의 소비자 잉여는 1만 원 감소한다.
- ③ 병의 생산자 잉여는 3만 원 감소한다.
- ④ 정부는 10만 원의 조세 수입을 얻는다.
- ⑤ 갑의 소비 지출 금액은 7만 원 감소한다.

27. 다음 자료에 대한 분석으로 옳은 것은?

표는 X재의 소비자인 $A_1 \sim A_7$ 이 X재 1개를 구입하고자 할 때의 최대 지불 용의 금액과 생산자인 $B_1 \sim B_7$ 이 X재 1개를 판매하고자 할 때의 최소 요구 금액을 나타낸다. 단, X재 시장은 수요량과 공급량이 일치하는 조건에서 시장 가격이 결정된다. 또한, X재 시장의 소비자는 $A_1 \sim A_7$, 생산자는 $B_1 \sim B_7$ 만 존재하며, 각 소비자와 생산자는 거래가 이루어질 경우 1개씩만 거래한다.

소비자	A_1	A_2	A_3	A_4	A_5	A_6	A_7
최대 지불 용의 금액(만 원)	100	200	300	(가)	500	600	700

생산자	B_1	B_2	B_3	B_4	B_5	B_6	B_7
최소 요구 금액(만 원)	750	650	450	350	250	150	50

- ① (가)가 '350'이라면, 소비자 잉여는 450만 원이다.
- ② (가)가 '380'이라면, 시장 거래량은 4개이다.
- ③ (가)가 '400'이라면, 생산자 잉여는 800만 원보다 크다.
- ④ (가)가 '430'이라면, 초과 공급이 발생한다.
- ⑤ (가)가 '460'이라면, 시장 가격은 450만 원 이상 460만 원 이하에서 형성된다.

28. 자료에 대한 설명으로 옳은 것은?

X재와 Y재만을 생산하는 ○○국에서 X재의 생산자는 갑 ~ 정뿐이고, X재의 소비자는 A ~ D뿐이다. Y재의 유일한 생산자는 무이며, 생산된 Y재는 개당 20달러에 모두 판매된다.

X재의 생산자와 소비자는 <자료 1>과 같이 가격에만 반응하여 생산 또는 소비를 결정한다. 한편, ㉠ X재의 생산 과정에서 발생하는 외부 효과로 인해 무에게 추가적으로 발생하는 비용은 <자료 2>를 바탕으로 계산할 수 있다. 단, X재와 Y재의 각 생산자와 소비자는 1개씩만 생산 또는 소비할 수 있다.

<자료 1> X재 생산자와 소비자의 수요·공급 계획

생산자	받고자 하는 최소 금액(달러)	소비자	지불하고자 하는 최대 금액(달러)
갑	4	A	6
을	3	B	5
병	2	C	4
정	1	D	3

<자료 2> X재 생산량에 따른 무의 Y재 1개 생산 비용

X재 생산량(개)	0	1	2	3	4
Y재 1개 생산 비용(달러)	7	9	11	13	15

- ① X재의 생산량이 3개일 때 ㉠은 13달러이다.
- ② X재의 소비자 잉여는 최대 7달러가 될 수 있다.
- ③ X재 시장에서 소비자 잉여와 생산자 잉여의 합은 8달러이다.
- ④ X재 시장의 소비자 잉여와 생산자 잉여의 합에서 ㉠을 뺀 값이 최대가 되는 X재의 거래량은 2개이다.
- ⑤ X재 시장에서 소비자 잉여와 생산자 잉여의 합이 최대가 되는 X재의 시장 거래 가격은 4달러보다 높다.

9. 시장 실패의 의미와 요인

시장 경제 체제에서 자원이 효율적으로 배분되려면 시장이 완전 경쟁 시장이어야 하고, 시장에 참여한 당사자에게만 영향을 미쳐야 한다. 이러한 조건이 충족되지 않으면 시장의 효율적 자원 배분이 실패하게 되는데, 이를 **시장 실패**라고 한다. 시장 실패가 나타나는 요인으로는 경쟁의 제한, 외부 효과, 공공재와 공유 자원, 정보의 비대칭성 등을 들 수 있다.

시장을 통해 효율적 자원 배분이 이루어지기 위해서는 시장에 참여하는 기업 간 자유로운 경쟁이 전제되어야 한다. 하지만 하나 또는 소수의 기업이 시장을 지배하여 시장 지배력을 행사하면 **경쟁이 제한**되어 시장 실패가 발생한다. 독과점 기업은 이윤을 늘리기 위해 완전 경쟁 시장에서 형성되는 균형 가격보다 높은 가격 수준을 유지하려고 하며, 이를 위해 공급량을 감소하여 비효율적인 자원 배분을 가져온다. 그 결과 독과점 시장에서는 완전 경쟁 시장일 때보다 가격 수준이 높아져 소비자 잉여가 감소한다.

경제 활동을 통해 제삼자에게 의도하지 않은 혜택이나 손해를 가져다주면서도 이에 관한 대가를 받지도 지불하지도 않는 상태를 **외부 효과**라고 한다. 외부 효과가 발생하면 시장은 자원을 효율적으로 배분하지 못하게 된다.

타인에게 의도하지 않은 이득을 주고도 이에 관한 대가를 받지 않는 상태를 **외부 경제** 또는 **긍정적 외부 효과**라고 한다. 독감 예방 주사를 맞은 사람은 전염성이 있는 독감 발생을 예방하여 타인의 건강 유지에 이바지하지만 그 대가를 받지는 않는다. 이 때문에 최적 수준보다 적은 사람이 독감 예방 주사를 맞는 과소 소비가 발생한다. 즉, 외부 경제는 사회적 최적 수준보다 낮은 수준에서 생산과 소비가 이루어진다.

반면에 타인에게 의도하지 않은 손해를 끼치고도 이에 관한 대가를 지불하지 않는 상태를 **외부 불경제** 또는 **부정적 외부 효과**라고 한다. 대기 오염 물질을 배출하는 기업은 주위 환경을 오염함에도 불구하고 피해를 보는 사람에게 적절한 대가를 지불하지 않는다. 이 때문에 환경 오염을 유발하는 생산 활동은 사회적 최적 수준보다 높은 수준에서 생산이 이루어진다. 즉, 외부 불경제는 사회적 최적 수준보다 높은 수준에서 생산과 소비가 이루어져 자원의 효율적 배분을 저해한다.

시장에서 거래되는 대부분 상품은 대가를 지불한 사람만 소비할 수 있고, 한 사람이 소비한 만큼 양이 줄어든다. 이와 달리 **공공재**는 비배제성과 비경합성이라는 특징이 나타난다. 공공재는 어떤 사람이 재화 사용에 관한 대가를 내지 않아도 그 소비를 막을 수 없는데, 이와 같은 특성을 비배제성이라고 한다. 또한 많은 사람이 동일한 재화를 동시에 소비할 수 있고, 한 사람의 소비로 다른 사람의 소비 기회가 감소하지도 않는데, 이를 비경합성이라고 한다. 공공재는 비배제성 때문에 경제 주체가 비용을 내지 않고도 소비할 수 있으므로 무임승차자의 문제가 발생한다. 따라서 시장에 공급을 맡기면 사회가 필요로 하는 양보다 적게 공급되는 시장 실패가 나타난다.

한편 전체 사회 구성원이 공동으로 소유한 산림과 바다 같은 **공유 자원**은 배제성은 없지만 경합성이 있다. 배제성이 없으므로 대가를 지불하지 않고도 누구나 공유 자원을 소비할 수 있는 반면, 경합성이 있으므로 누군가가 공유 자원을 소비하면 다른 사람의 소비 기회는 감소한다. 따라서 사람들은 공유 자원을 다른 사람보다 먼저 더 많이 소비하려고 경쟁한다.

이와 같은 특성 때문에 공유 자원은 쉽게 남용되어 자원이 고갈되고 필요한 양보다 과다하게 소비하여 시장 실패가 나타난다.

시장에서 자원의 효율적 배분이 이루어지려면 거래에 참여하는 당사자들이 관련 정보를 동등하게 획득하고, 활용할 수 있어야 한다. 거래에 참여하는 당사자들이 가지고 있는 정보의 양이 다른 것을 **정보의 비대칭성**이라고 하는데, 이는 시장에서 자원의 효율적 배분을 가로막는다.

정보의 비대칭성이 발생하는 상황에서는 정보를 더 많이 가진 사람이 정보를 활용하여 더 많은 이익을 추구하기 때문에 자원의 효율적 배분이 왜곡된다. 예를 들어, 금융 시장에서 어떤 사람이 돈을 빌리기 위해 대출 심사를 받는다고 해 보자. 돈을 빌리는 사람은 자신이 돈을 갚을 능력에 있는가에 관한 정보를 충분히 가지고 있지만, 은행은 해당 고객이 돈을 갚을 능력이 있는지에 관한 정보를 상대적으로 적게 가지고 있다. 이러한 정보의 불균형으로 은행이 상환 능력이 없는 사람에게 자금을 대출해 주는 불리한 의사 결정을 할 수 있다. 한편 은행은 정보의 비대칭성을 해소하기 위해 신용 조회, 담보와 같은 다양한 수단을 활용하기도 한다.

이 외에도 중고차 시장의 판매자와 구매자, 보험 회사와 보험 가입자 간에도 정보의 비대칭성이 존재하기 때문에 시장 실패가 발생할 수 있다.

29. 그림은 모둠 수행 평가 보고서의 일부이다. A, B에 대한 설명으로 옳은 것은?

<경제 수행 평가 보고서>

점수
10/10

탐구 과제 : 외부 효과의 의미와 유형

제출 모둠 : □□

◎ 외부 효과의 의미
한 경제 주체의 경제 활동이 다른 경제 주체에 의도하지 않은 이익이나 손해를 주면서도 이에 대한 대가를 받거나 지불하지 않는 현상

◎ 외부 효과의 유형

구분	주요 특징	
소비 측면	A	시장 균형 거래량이 사회적 최적 거래량보다 많다.
	B	시장 균형 거래량이 사회적 최적 거래량보다 적다.
생산		

- ① A는 외부 경제, B는 외부 불경제이다.
- ② B의 해결 방안으로 소비자에 대한 보조금 지급을 들 수 있다.
- ③ A, B 모두 시장 가격은 사회적 최적 가격보다 높다.
- ④ A의 사례로 한 기업이 개발한 기술이 다른 기업에 전파되어 이득을 주는 것을 들 수 있다.
- ⑤ B의 사례로 공동 주택에서 층간 소음으로 인해 발생하는 피해를 들 수 있다.

30. 다음 자료에 대한 분석으로 옳은 것은?

표는 X재의 가격대별 시장 수요량과 시장 공급량을 나타낸다. 생산 과정에서 오염 물질이 배출되어 X재 1개가 생산될 때 마다 인근 지역에 200원의 피해가 발생한다.

가격(원)	수요량(개)	공급량(개)
2,500	700	300
2,600	600	400
2,700	500	500
2,800	400	600
2,900	300	700

- ① X재 생산 과정에서 외부 경제가 발생한다.
- ② X재 생산의 사회적 비용은 1개당 200원이다.
- ③ 시장 거래량은 사회적 최적 수준보다 200개 많다.
- ④ 사회적 최적 가격은 시장 가격보다 200원 높다.
- ⑤ 정부가 생산자에게 X재 1개당 200원의 조세를 부과할 경우 조세 수입은 8만 원이다.

31. 다음 자료에 대한 분석으로 옳은 것은?

그림은 갑국 사람들의 전염병 예방 접종에 대한 수요 곡선과 예방 접종 비용, 정부의 예방 접종에 대한 1인당 보조금을 나타낸다. 한 명의 추가 접종이 창출하는 외부 효과의 크기는 동일하며, 정부는 이로 인해 발생하는 긍정적 외부 효과만큼 예방 접종에 대한 보조금을 지원한다. (단, 갑국 인구는 5백만 명이고, 예방 접종은 1인당 1회만 받는다.)

- ① 정부 지원이 없을 때의 접종자 수는 3백만 명이다.
- ② 정부 지원이 없을 때의 접종자 수는 사회적 최적 수준보다 많다.
- ③ 정부 지원이 없을 때의 접종자 수보다 정부 지원에 따른 추가 접종자 수가 많다.
- ④ 정부 지원에도 불구하고 갑국 사람 모두가 접종받는 것은 아니다.
- ⑤ 정부 지원에도 불구하고 외부 효과로 인한 시장 실패는 해소되지 않는다.

32. 다음 자료에 대한 분석으로 옳은 것은?

그림은 X재 시장에서 외부 효과가 발생하는 상황을 나타낸다. D는 수요 곡선, S는 사적 비용만을 반영한 공급 곡선, S'는 사회적 비용을 반영한 공급 곡선이다. 단, D는 우하향하는 직선이고, S와 S'는 모두 수평인 직선이다.

- ① X재의 시장 가격은 150원이다.
- ② X재의 사회적 최적 거래량은 250개이다.
- ③ 생산 측면에서 외부 불경제가 발생하는 상황이다.
- ④ 생산자에게 X재 1개당 100원의 보조금을 지급하면 사회적 최적 거래량을 달성할 수 있다.
- ⑤ 사회적 최적 거래량을 달성하도록 생산자에게 보조금을 지급하면 소비자 잉여는 감소한다.

33. 다음에 나타난 시장 실패의 원인으로 가장 적절한 것은?

보험 시장에서 건강 보험에 가입하려는 사람들은 자신의 건강 상태를 잘 알고 있지만, 보험 회사는 이를 정확하게 알지 못하므로 평균적인 건강 상태를 기준으로 보험료를 책정한다. 건강한 사람들은 보험 혜택을 받을 가능성이 낮기 때문에 보험 회사가 책정한 보험료 수준에서는 보험에 가입하지 않고, 결국 건강이 좋지 않아 보험 혜택을 받을 가능성이 높은 사람들만 보험에 가입하게 된다.

- ① 과도한 경쟁
- ② 소비의 비경합성
- ③ 정보의 비대칭성
- ④ 독과점 시장의 형성
- ⑤ 무임승차자의 문제

10. 정부의 시장 개입

자원이 비효율적으로 배분되는 시장 실패를 해결하기 위하여 정부는 다양한 방법으로 시장에 개입한다. 정부가 시장에 개입하는 대표적인 방법으로는 불완전 경쟁 시장에 대한 규제, 외부 효과 개선, 공공재 생산을 들 수 있다.

정부는 공정한 경쟁을 활성화하여 시장에서 독과점 기업이 과도한 지배력을 행사하는 폐해를 막고자 한다. 우선 독과점 기업이 지나치게 높은 가격을 설정하거나 담합을 통해 소비자에게 손해를 끼치는 영업 행위를 법으로 규제한다. 또한 특정 기업에 유리한 기업 간 내부 거래나 신규 참여자에게 불리하게 작용하는 진입 장벽을 규제한다. 이 밖에도 허위, 과대 광고를 규제하여 소비자를 보호하고, 대기업보다 불리한 입장에 있는 중소기업들을 보호하기 위한 다양한 정책을 펴고 있다.

정부는 시장 실패의 요인이 되는 외부 경제와 외부 불경제를 해결하기 위해서 다양한 정책을 시행한다. 사회적으로 필요한 양보다 과소 생산, 소비되는 외부 경제에 관해서는 보조금을 지급하여 해당 경제 주체의 사적 편익을 증가시키거나 사적 비용을 낮춰서 그 양이 증대되도록 한다. 한편 사회적으로 필요한 양보다 과다 생산, 소비되는 외부 불경제에 관해서는 규제하거나 세금을 부과하여 해당 경제 주체의 사적 편익을 낮추거나 사적 비용을 증가시켜 그 양이 줄어들도록 한다.

공공재는 소비의 비경합성과 비배제성으로 무임승차가 가능하기 때문에 시장에 맡겨 두면 사회적으로 필요한 양보다 적게 생산된다. 그러나 시민의 행복한 삶을 위해서는 국방, 치안, 공원 등과 같은 공공재를 충분히 공급하여야 한다. 따라서 주로 정부나 기업이 공공재의 생산과 공급을 담당한다.

한편 사회적으로 꼭 필요한 공공재임에도 불구하고 정부 재원이 부족할 때는 민간 기업이 참여하여 공공재를 공급하기도 한다. 민간 기업이 생산한 공공재를 정부가 이용료 등을 내고 시민에게 공급하거나, 공공재를 건설한 민간 기업이 이용자에게 직접 사용료를 징수하도록 허가하는 것을 예로 들 수 있다.

시장 실패를 해결하기 위한 정부의 시장 개입이 이를 해결하지 못하거나 오히려 악화시키는 것을 **정부 실패**라고 한다. 정부 실패 또한 시장에서 비효율적인 자원 배분을 가져온다.

정부 실패가 발생하는 원인은 다양하다. 우선 경제 정책을 담당하는 정부 관료나 전문적 지식과 시장 정보가 부족하여 잘못된 의사 결정을 할 수 있다. 정부는 어떤 경제 정책을 시행할 때 가계와 기업이 그에 상응하는 반응을 보일 것이라고 기대한다. 그러나 민간 부문이 정부의 기대와 다른 반응을 보이면 정부 실패가 발생할 수 있다. 또한 시장 실패를 해결하기 위해 정부가 방법을 논의하는 과정에서 이익 집단의 압력이나 정치적 고려 때문에 경제 논리를 벗어나는 정책 결정이 이루어질 때도 정부 실패가 발생한다. 그리고 정부의 경제 정책이 장기적으로 어떤 효과가 나타날지 예측하기 어렵고, 국제 경제의 영향을 통제할 수 없다는 것도 정부 실패의 주요 요인 중 하나이다.

시장 실패를 해결하기 위한 정부 개입은 정부 실패라는 또 다른 문제를 일으킬 수 있다. 이와 같은 정부 실패를 완화하고 시장 기능을 보완할 수 있는 대표적 방안으로 **규제 개혁**을 들 수 있다.

정부의 과도하거나 부적절한 규제는 시장에서 비효율성을

초래하는 원인이 된다. 예를 들어 경제 정책을 담당하는 관료 조직의 비대화, 불명확한 역할 분담, 상호 견제 기능의 미비 등으로 부적절한 규제를 하기도 한다. 또한 시장 실패를 해결하기 위한 정부 규제가 어떤 수준을 유지해야 적절한지를 정확히 알기 어렵고, 관료 집단이 기존의 불필요한 규제를 그대로 시행하는 것도 규제를 개혁해야 하는 필요성 중 하나이다.

따라서 지나친 규제는 완화하고, 불필요한 규제는 폐지해야 정부 실패를 보완할 수 있다. 다만 환경 보호, 소비자 보호, 산업 재해 방지 등과 같이 사회적 이익과 직접 관련된 규제는 적절한 수준에서 유지할 필요가 있다.

대부분의 민간 기업은 시장에서 생존을 유지하고 이윤을 극대화하기 위해서 다른 기업과 치열하게 경쟁한다. 이와 달리 공기업은 해당 상품을 공급하는 시장에서 거의 독점적인 지위를 차지하고 있어 경쟁의 부담을 느끼지 않는다. 또한 고용 환경도 안정적이어서 신분을 보장받고 기업 활동에 따라 손실이 발생하여도 직접적인 책임을 지지 않는다. 이 때문에 많은 공기업 조직이 비대해지고 방만하게 운영되어 비효율성이 나타난다.

이와 같은 문제를 해결하기 위해서는 우선 공기업 예산을 절약하고 효율적인 운영 방안을 모색해야 한다. 더 적극적인 해결 방법으로 정부가 운영하는 공기업을 민간에 매각하여 민간 기업이 운영하도록 하는 **공기업 민영화**를 추진할 수도 있다. 공기업 민영화를 통해 효율적인 경영을 도모하여 경쟁력을 확보하고 서비스의 질을 개선할 수 있다.

대부분의 현대 국가는 시장 경제 체도를 통해서 경제 문제를 해결한다. 시장 경제 체제의 특성상 정부의 노력만으로 정부 실패 문제를 해결할 수 없으므로 민간 부문의 노력이 함께 필요하다. 민간 부문이 담당하는 경제 활동 범위와 규모를 고려할 때 정부 개입만으로 시장의 건전한 경쟁 질서를 확립하는 것이 불가능하기 때문이다.

시장 실패가 발생하지 않으면 정부가 시장에 개입할 필요성도 낮아지기 때문에 정부 실패의 문제 또한 최소화될 수 있다. 따라서 기업은 이윤 추구 과정에서 환경 오염을 유발하거나 시장 경제의 질서를 어지럽히는 행위를 해서는 안 된다. 사회에 폐해를 끼치는 생산 활동을 지양하고, 소비자의 안전을 위협하거나 손해를 입히는 상품을 판매해서는 안 된다.

최근에는 시민 단체도 다양한 방면에서 경제 문제의 해결에 영향을 미친다. 정부의 시장 개입이 적절한지 감시, 비판하기도 하고, 기업의 불공정한 행위나 불법 행위를 알려 체제를 가하는 데 영향력을 행사한다. 또한 시민 단체는 소비자의 권리를 신장하는 데 이바지하기도 한다.

34. 다음 자료의 ㉠이 갑국의 시장 이자율과 자금 거래량에 미칠 영향으로 옳은 것은?

그림은 갑국의 자금 시장 상황을 나타낸다. 갑국 정부는 이자율이 r_0 보다 높은 수준으로 상승하지 못하도록 규제하고 있다. 최근 경기 호황에 대한 기대가 커지면서 ㉠ 기업의 신규 투자를 위한 자금 수요가 증가할 것으로 예상된다. (단, 국가 간 자본 이동은 없다.)

- | | | |
|---|--------|--------|
| | 시장 이자율 | 자금 거래량 |
| ① | 불변 | 불변 |
| ② | 불변 | 증가 |
| ③ | 하락 | 감소 |
| ④ | 하락 | 불변 |
| ⑤ | 상승 | 증가 |

35. 그림은 ○○ 모듬이 수행 평가를 위해 작성 중인 보고서의 일부이다. (가)에 들어갈 옳은 내용을 <보기>에서 고른 것은?

최고 가격제 적용 사례 보고서

제출 모듬: ○○ 모듬

1. 정부의 최고 가격 인하 발표 내용

대다수의 국민이 필수적으로 사용하는 X재의 최고 가격이 기존의 300원에서 200원으로 하향 조정됩니다. 이번 조치로 최대 약 □□만 명의 소비자들이 연간 약 △△억 원 규모의 지출을 줄일 수 있을 것으로 보입니다.

2. 전문가 의견

찬성	반대
X재를 더 싸게 살 수 있도록 하여 소비자 보호	X재가 반드시 필요하더라도 살 수 없는 상황의 악화

3. 모듬 분석

(가)

- < 보 기 >
- ㄱ. 정부는 X재 시장의 균형 가격이 200원보다 낮다고 판단하고 있다.
 - ㄴ. 찬성 의견은 인하된 가격으로 구매하게 된 사람들의 소비자 잉여가 증가할 수 있다는 의미이다.
 - ㄷ. 반대 의견은 X재 시장에서 초과 수요가 확대된다는 의미이다.
 - ㄹ. X재가 300원보다 높은 가격에 거래되는 암시장이 있었다면 이번 조치로 암시장의 거래 규모가 줄어들 것이다.

- ① ㄱ, ㄴ ② ㄱ, ㄷ ③ ㄴ, ㄷ ④ ㄴ, ㄹ ⑤ ㄷ, ㄹ

36. 다음 자료에 대한 옳은 분석을 <보기>에서 고른 것은?

갑국 정부는 외부 효과가 발생한 자국의 X재와 Y재 시장에 보조금을 지급하거나 세금을 부과하였고, 두 시장의 균형은 모두 사회적 최적 수준에 도달하였다. 표는 갑국 정부의 개입 전과 개입 후의 시장 상황을 나타낸다. 단, X재와 Y재의 수요와 공급 곡선은 직선이며, 두 재화 모두 수요와 공급의 법칙을 따른다.

구분	개입 전		개입 후	
	시장 거래량	가격	시장 거래량	가격
X재 시장	3개	300원	2개	400원
Y재 시장	4개	600원	6개	800원

- < 보 기 >
- ㄱ. 개입 전 X재 시장은 과소 거래의 문제가 나타났다.
 - ㄴ. 개입 전 Y재 시장은 소비 측면의 외부 경제가 나타났다.
 - ㄷ. 정부는 X재 시장에서 생산자에게 1개당 100원의 세금을 부과하였을 것이다.
 - ㄹ. 정부가 Y재 소비자에게 1개당 300원의 보조금을 지급하였다면 보조금의 지급 총액은 1,800원이었을 것이다.

- ① ㄱ, ㄴ ② ㄱ, ㄷ ③ ㄴ, ㄷ ④ ㄴ, ㄹ ⑤ ㄷ, ㄹ

37. 그림에 대한 설명으로 적절하지 않은 것은?

㉠ 시장 실패 보인과 경제 질서 유지를 위해 정부가 시장에 개입하는 것은 불가피합니다.

아닙니다. 정부의 개입은 ㉡ 정부 실패를 초래할 뿐입니다. 민간 경제 주체의 자율적인 판단을 중시해야 합니다.

- ① ㉠의 사례로 공공재의 공급 부족을 들 수 있다.
- ② ㉡의 요인으로 시장에 대한 정부의 정보 부족을 들 수 있다.
- ③ ㉠과 달리 ㉡은 자원의 비효율적 배분을 초래한다.
- ④ 갑이 지지할 정책으로 독과점 시장에 대한 규제 강화를 들 수 있다.
- ⑤ 을이 지지할 정책으로 공기업의 민영화를 들 수 있다.

11. 경제 순환과 경제 성장

한국 경제는 지난 수십 년 동안 발전을 지속해 왔다. 이 과정에서 생산량이 증가하여 빈곤에서 벗어나 물질적으로 풍요로운 삶을 누릴 수 있게 되었다. 오늘날에는 먹을 것이 없어 굶주리는 모습을 찾아보기 어려우며 텔레비전이나 자동차, 휴대 전화도 대중화되었다. 이처럼 경제의 생산 능력이 지속해서 커지고 생산량이 늘어나는 것을 **경제 성장**이라고 한다. 경제 성장이 이루어지면 이전보다 더 많은 상품을 소비할 수 있게 되므로 국민의 생활 수준이 향상될 수 있다.

그렇다면 경제 성장은 어떻게 측정할까? 생산량의 증가는 곧 국내 총생산의 증가를 의미하므로 국내 총생산의 변화를 파악하면 국민 경제의 성장 정도를 측정할 수 있다. 그러나 해당 시점의 가격을 기준으로 산출한 명목 국내 총생산으로 측정할 경우 생산량이 변하지 않아도 경제가 성장한 것처럼 보일 수 있다. 따라서 물가 변동의 효과를 제외하고 순수하게 생산량 변동만을 보여 주는 실질 국내 총생산을 활용하여 **경제 성장률**을 측정한다.

$$\text{경제 성장률} = \frac{\text{금년도 실질 GDP} - \text{전년도 실질 GDP}}{\text{전년도 실질 GDP}} \times 100$$

단, 단위는 %이다.)

신문이나 뉴스를 통해 우리나라 경제 성장률에 관한 보도를 자주 볼 수 있다. 사람들이 경제 성장에 관심을 가지는 까닭은 일반적으로 경제가 성장하면 일자리가 늘어나고 국민의 생활 수준이 향상되기 때문이다.

경제 성장에는 노동, 자본, 기술과 같은 다양한 요인이 영향을 미친다. **노동**은 생산에 투입된 노동의 양과 질을 포함하는 개념이다. 경제 성장에 필요한 노동자의 생산성을 높이기 위해서는 교육과 훈련을 위한 지속적인 투자가 중요하다.

자본은 상품 생산 과정에 필요한 기계, 도구, 건물 등을 의미하는데 자본량의 증가 역시 경제 성장에 중요한 역할을 한다.

일반적으로 경제 성장 초기에는 노동과 자본의 투입량이 중요한 역할을 한다. 하지만 일정한 수준에 이르면 **기술** 발전 없이 경제 성장을 지속하기 어렵다. 따라서 장기적으로 경제 성장을 이루기 위해서는 연구 개발에 지속해서 투자하고 생산의 효율성을 높이기 위해 힘쓰는 것이 중요하다.

한 나라 안에서의 경제 활동은 가계, 기업, 정부의 생산, 분배, 지출 활동을 중심으로 이루어진다. 예를 들어 기업이 옷을 생산하는 과정에서 가계는 노동, 자본 등을 제공한 대가로 소득을 분배받으며 이를 통해 상품을 구입한다. 정부도 상품을 생산하고 소비하는 활동을 한다. 이와 같은 가계, 기업, 정부의 활동을 국가 단위로 본 것을 **국민 경제**라고 한다. 국민 경제는 경제 주체들의 상호 작용을 하나의 단위로 파악하므로 경제 상황을 제대로 파악하기 위해서는 각 경제 주체의 역할을 이해할 필요가 있다.

가계는 기업에 노동, 토지, 자본과 같은 생산 요소를 제공하고 그 대가로 임금, 지대, 이자를 받아 상품을 구입하는 소비 활동을 한다.

기업은 가게로부터 구입한 생산 요소를 활용하여 상품을 생산하는 활동을 하고, 상품 판매를 통해 얻은 수입을 생산 요소의 공급자인 가게에 분배한다. 이렇게 획득한 소득으로 가게는 다시 소비 활동을 한다. 이처럼 가게와 기업은 시장을 통하여 생산 요소와 생산물을 서로 주고받으며 이 과정에서 국민 경제가 순환된다. 또 기업은 상품 생산을 위해 투자를 하는데 기업의 투자는 경제 전체의 자본 축적과 기술 개발로 이어져 경제 성장의 원동력이 된다.

정부는 가게와 기업으로부터 세금을 거두어들여 국민 경제가 원활하게 작동하도록 지원하거나 규제하고, 공공재와 사회간접 자본 등을 생산한다. 또 각종 정부 사업을 시행하는 과정에서 상품과 생산 요소를 구입하기도 한다.

오늘날 대부분 국가는 다른 국가와 교역을 하는데, **외국**과의 경제 거래는 국민 경제에 많은 영향을 미치므로 외국도 하나의 경제 주체가 된다. 예를 들어 외국으로 수출이 증가하면 기업의 생산과 생산 요소에 관한 수요도 늘어나서 국민 경제가 활기를 띠게 된다.

이렇게 가게, 기업, 정부 등의 경제 주체들이 생산 요소와 생산물을 서로 거래하면서 생산, 분배, 지출 활동을 지속적으로 반복적으로 하는 과정을 **국민 경제의 순환**이라고 부른다.

국민 경제의 상황을 파악하고 미래를 예측하여 대비하기 위해서는 경제 상황을 보여 주는 정보가 있어야 하는데, 국민 경제 지표를 통해 이러한 정보를 파악할 수 있다. 그중 한 나라의 경제 규모와 상황을 생산 측면에서 잘 나타내는 경제 지표가 국내 총생산(GDP, Gross Domestic Product)이다.

국내 총생산은 일정 기간 한 나라 안에서 생산된 최종 생산물의 시장 가치를 합한 것을 의미하며 각 생산 단계에서 발생한 부가 가치를 합해도 된다. 국내 총생산을 최종 생산물의 시장 가치로 측정한다는 것은 생산 과정에 투입된 원료나 중간재의 가치는 제외한다는 것이다. 예를 들어 자전거를 만드는 데 들어간 타이어는 최종 생산물인 자전거 가격에 포함되므로, 시장 가치를 계산할 때 타이어 가격을 합하면 중복으로 계산되는 결과가 발생한다.

또한 시장 가치를 계산할 때는 실제로 생산된 상품의 가치만 포함한다. 예를 들어 금융 자산이나 부동산을 구입하는 것은 사람들 사이에서 소유권만 이전된 것이 상품 생산된 것은 아니므로 이때 자산 가치는 국내 총생산에 포함되지 않는다.

국내 총생산은 정해진 기간에 생산된 최종 생산물의 시장 가치만을 포함한다. 예를 들어 작년에 생산되었지만 올해 판매된 컴퓨터는 올해가 아닌 작년의 국내 총생산에 포함된다.

또 국내 총생산을 계산할 때는 상품을 생산한 사람의 국적이 아니라 생산된 장소가 중요하다. 예를 들어 외국 기업이 우리나라에서 생산한 자동차는 우리나라의 국내 총생산에 포함되고, 우리나라 기업이 외국에서 생산한 자동차는 그 나라의 국내 총생산에 포함된다.

국내 총생산은 생산 측면에서 국민 소득을 측정된 것으로 생산 국민 소득이라고 하는데 이것은 분배와 지출 측면에서 계산해도 그 크기가 같다. 이를 **국민 소득 삼면 동가의 법칙**이라고 한다.

상품 생산을 위해 노동, 토지, 자본을 빌려준 사람은 각각

임금, 지대, 이자를 받게 되며, 기업가도 이윤의 형태로 소득을 얻게 된다. 이렇게 분배 과정에서 발생하는 소득을 모두 합친 것을 **분배 국민 소득**이라고 한다.

한편 생산된 상품은 여러 경제 주체가 소비한다. 가게는 다양한 상품을 소비하고, 기업은 상품 생산에 필요한 자본재를 구입하며, 정부도 국가 운영을 위해 상품을 소비하고 생산 요소를 구입한다. 또한 외국도 국내 기업이 생산한 상품을 구입한다. 이처럼 지출 측면에서 경제 주체의 국민 소득을 측정하는 것을 **지출 국민 소득**이라고 한다.

국내 총생산은 한 나라의 경제 활동 규모를 파악하는 유용한 지표이지만 국민의 삶의 질이나 생활 수준을 측정하는 데는 한계가 있다.

첫째, 국내 총생산은 시장에서 거래되는 상품의 가치만을 포함한다. 예를 들어 가사 노동이나 자원봉사 등과 같이 일상생활과 밀접한 관련이 있지만 시장에서 거래되지 않는 생산물의 가치는 국내 총생산에 포함되지 않는다.

둘째, 여가 활동은 사람들에게 효용을 주고 삶의 질을 높이지만 국내 총생산을 측정할 때는 그 가치가 반영되지 않는다.

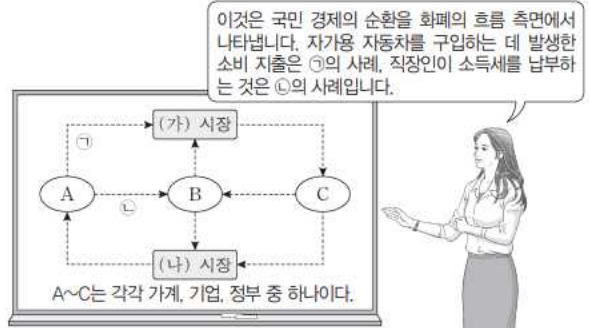
셋째, 생산과 경제 성장 과정에서 발생하는 환경 오염, 자원 고갈, 소득 불평등과 같은 부정적인 영향은 국내 총생산 계산에 포함되지 않으므로 국민의 삶의 질을 제대로 반영하지 못한다.

이러한 국내 총생산의 한계를 극복하기 위해 대안 지표가 다양하게 개발되었다. 천연자원 소비나 환경 파괴 정도를 반영한 '그린 GDP(Green GDP)', 교육 수준과 평균 기대 수명 등을 반영한 '인간 개발 지수(HDI)' 등이 그 예이다.

국민 총소득(GNI)은 국민이 생산 활동을 통해 얻은 소득의 구매력을 나타내는 지표이다. 구체적으로 일정 기간 한 나라 국민이 소유하고 있는 생산 요소를 국내외에 제공하고 벌어들인 소득을 의미한다. 국내 총생산이 한 나라의 생산 활동을 나타내는 생산 지표라면 국민 총소득은 국민의 생활 수준을 측정하기 위한 소득 지표이다. 국민 총소득을 통해 나라 전체의 소득 수준을 파악할 수 있지만 국민의 평균적인 생활 수준을 알기 어렵다. 따라서 국민 총소득을 인구수로 나눈 1인당 국민 총소득을 활용하면 국민의 평균적인 생활 수준을 파악할 수 있다.

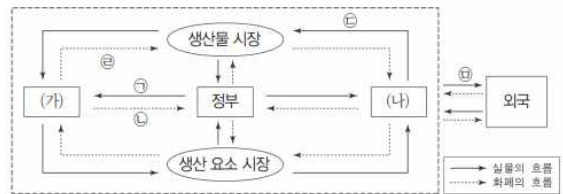
한편 국내 총생산과 국민 총소득으로는 나라 전체의 소득이 국민에게 고르게 분배되어 있는지를 알기 어렵다. 따라서 소득 분배 상황을 파악할 수 있는 지표를 사용한다. 대표적으로 지니 계수와 소득 5분위 배율이 있다. **지니 계수**는 0과 1사이의 값을 가지는데 0에 가까울수록 소득 분배가 평등하고 1에 가까울수록 불평등함을 의미한다. **소득 5분위 배율**은 국민의 소득을 5개의 구간으로 나누고 상위 20%의 소득을 하위 20%의 소득으로 나눈 값이다. 따라서 5분위 배율이 클수록 소득 격차가 크다는 것을 의미한다.

38. 그림은 교사의 수업 장면이다. 이에 대한 설명으로 옳은 것은?



- ① 노동과 자본은 (가) 시장에서 거래된다.
- ② 가게는 (나) 시장의 공급자이다.
- ③ A는 제정 활동의 주체로서 공공재를 공급한다.
- ④ B는 생산 활동의 주체로서 이윤 극대화를 추구한다.
- ⑤ C는 생산물 시장의 수요자이다.

39. 그림은 국민 경제의 순환을 나타낸다. 이에 대한 설명으로 옳은 것은?



- ① (가)는 생산 주체이고, (나)는 소비 주체이다.
- ② ㉑이 증가하고 ㉒이 감소하면 재정 적자는 감소한다.
- ③ 물적 자본과 인적 자본 모두 ㉓에 포함된다.
- ④ ㉔은 지출 국민 소득에 포함된다.
- ⑤ 국내에 거주하는 외국인 노동자가 받는 임금도 ㉔에 해당된다.

40. 다음 자료에 대한 분석으로 옳은 것은?

표는 X재만을 생산하는 갑국과 Y재만을 생산하는 을국의 2018년, 2019년의 명목 GDP와 X재, Y재 소비량을 나타낸다. 양국은 동일한 화폐를 사용하고 교역은 양국 간에만 이루어지며, 거래 비용은 없다. 단, X재와 Y재는 생산된 해에 전량 소비된다.

구분	2018년		2019년	
	갑국	을국	갑국	을국
명목 GDP(달러)	160	150	180	150
소비량 (개)	X재	30	40	20
	Y재	10	20	15

- ① 2018년 갑국의 수출량은 20개이다.
- ② 2018년 갑국의 X재 가격은 3달러이다.
- ③ 2018년 을국의 수출액은 50달러이다.
- ④ 2019년 갑국의 X재 생산량은 전년에 비해 감소하였다.
- ⑤ 2019년 을국의 Y재 가격은 전년에 비해 상승하였다.

41. 교사의 질문에 대한 학생의 답변으로 옳지 않은 것은?

국민 소득은 어느 측면에서 측정하느냐에 따라 생산 국민 소득, (가), (나)로 구분할 수 있습니다. 이에 대해 설명해 볼까요?

생산 국민 소득	국내에서 생산된 모든 재화와 서비스의 최종 생산물 가치의 합
(가)	국내에서 가계가 벌어들인 모든 요소 소득의 합
(나)	국내에서 생산된 재화와 서비스에 대한 모든 지출의 합

- ① 국내 기업이 해외 공장에서 생산한 자동차의 시장 가치는 (가)를 측정할 때 포함됩니다.
- ② 부모님이 국내 은행에 보유하고 있는 예금을 통해 취득한 이자 소득은 (가)를 측정할 때 포함됩니다.
- ③ 국내 기업의 스마트폰 해외 수출액은 (나)를 측정할 때 포함됩니다.
- ④ 가족들이 함께 다녀온 국내 여행의 경비는 (나)를 측정할 때 포함됩니다.
- ⑤ 정부가 주민들의 휴식 공간으로 공원을 조성하는 데 든 비용은 (나)를 측정할 때 포함됩니다.

42. 그림은 갑국의 국민 소득을 측정하는 각 측면을 나타낸다. 이에 대한 옳은 설명만을 <보기>에서 고른 것은? (단, 갑국은 다른 나라와 교역을 하고 있다.)

생산 국민 소득	분배 국민 소득	지출 국민 소득
(가)	㉠ + 지대 + 이자 + 이윤	소비 + 투자 + 정부 지출 + ㉡

- < 보 기 >
- ㄱ. (가)에는 '최종 생산물의 시장 가치 합'이 들어갈 수 있다.
 - ㄴ. ㉠은 기업 입장에서는 비용이며, 가계 입장에서는 소득이다.
 - ㄷ. ㉡은 음(-)의 값을 가질 수 없다.
 - ㄹ. 갑국의 수입이 증가하면 생산 국민 소득과 지출 국민 소득은 일치하지 않는다.

- ① ㄱ, ㄴ ② ㄱ, ㄷ ③ ㄴ, ㄷ ④ ㄴ, ㄹ ⑤ ㄷ, ㄹ

43. 다음 자료에 대한 옳은 분석만을 <보기>에서 고른 것은?

표는 2019년 갑국의 GDP를 측정하기 위한 생산 측면과 지출 측면의 경제 활동을 나타낸다. 갑국의 기업은 X재만을 생산하는 A 기업과 Y재만을 생산하는 B 기업뿐이다.

- A 기업이 생산한 X재는 P_x 의 가격에 모두 국내에서 판매되었으며, 그중 일부는 Y재 생산의 중간재로 사용되었다.
- B 기업은 A 기업으로부터 구입한 X재만을 중간재로 사용하여 Y재를 생산하였다. 생산된 Y재는 P_y 의 가격에 50%는 해외로 수출되었고, 나머지 50%는 국내에서 판매되었다.

구분	A 기업	B 기업
생산량(억 개)	250	200
중간재 투입액(억 달러)	0	300
부가가치(억 달러)	1,000	㉠

국내 지출 합계(억 달러)	2,000
국내 지출 합계 대비 수입 비율(%)	20

* 국내 지출 합계 = 소비 + 투자 + 정부 지출

- < 보 기 >
- ㄱ. ㉠은 1,600이다.
 - ㄴ. P_y 는 P_x 의 2배이다.
 - ㄷ. 갑국의 수출액은 900억 달러이다.
 - ㄹ. GDP 대비 국내 지출 합계의 비율은 80%이다.

- ① ㄱ, ㄴ ② ㄱ, ㄷ ③ ㄴ, ㄷ ④ ㄴ, ㄹ ⑤ ㄷ, ㄹ

12. 실업의 원인과 해결 방안

대부분 사람은 생산 활동에 참여하고 얻은 소득으로 소비한다. 일자리가 없으면 생활에 필요한 소득을 얻을 수 없어서 경제적인 어려움을 겪게 되며 자신감이 떨어지고 스트레스로 건강 및 가정 문제가 발생할 수 있다. 사회적으로도 인적 자원이 낭비되고 정부의 조세 수입과 가계 소비의 감소 등으로 경제상황의 악화를 가져올 수 있다.

우리나라에서는 흔히 15세 이상의 인구를 **노동 가능 인구**로 간주하는데, 노동 가능 인구는 일할 의사에 따라 경제 활동 인구와 비경제 활동 인구로 구분된다. **경제 활동 인구**는 다시 취업자와 실업자로 구분되는데 일할 능력과 의사가 있음에도 불구하고 일자리를 갖지 못한 사람을 실업자라고 한다. 따라서 경제적 의미에서 실업자란 단순히 일하지 않고 있는 사람을 의미하는 것이 아니라 일할 능력과 의사가 있는데도 일자리를 구하지 못한 15세 이상의 사람을 말한다. **비경제 활동 인구**는 일할 능력이거나 일할 의사가 없는 사람으로, 학생이나 전업주부 등이 포함된다.

노동 시장 상황을 파악하기 위해 다양한 고용 지표가 활용된다.

경제 활동 참가율은 노동 가능 인구 중에서 경제 활동 인구가 차지하는 비율을 의미한다. 노동 시장의 상황을 파악하고 정부가 고용과 관련된 정책을 수립하는 데 도움을 주는 지표이다.

실업률은 경제 활동 인구 중에서 실업자가 차지하는 비율로 현재 경제 상황을 판단할 수 있는 중요한 지표이다. 예를 들어 경기가 호황일 때는 실업률이 낮아지고, 불황일 때는 실업률이 높아지므로 실업률을 통해 경기 상황을 파악할 수 있다. 하지만 반복된 구직 실패나 학업 지속 등으로 일자리를 구하려고 노력하지 않으면 경제 활동 인구가 줄어 실업률이 낮아지게 되므로 경기 상황을 정확히 반영하지 못할 수도 있다. 이 때문에 정부는 노동 가능 인구 대비 취업자 수의 비율인 **고용률**을 실업률과 함께 발표한다. 고용률은 경제 활동 인구 변동에 따른 실업률의 경제 상황 왜곡을 보완하는 데 사용된다.

실업은 발생 원인에 따라 경기적 실업, 구조적 실업, 마찰적 실업, 계절적 실업으로 구분할 수 있다.

경기적 실업은 경기 변동에 따라 발생하는 실업을 말한다. 경제가 침체 국면에 접어들면 총수요 감소로 생산이 줄어들어 일자리가 감소하는 것으로, 일할 의사가 있지만 실업 상태에 처한다는 면에서 대표적인 비자발적 실업이라고 할 수 있다. 경기적 실업은 산업 전반에 걸쳐 발생하며 이 과정에서 대규모로 실업자가 생겨나서 경제에 악영향을 미친다.

구조적 실업은 기술 혁신이나 산업 구조의 변화에 따라 발생한다. 노동자가 가진 지식이나 기술에 관한 수요가 줄어들면서 일자리가 없어지며 발생하는 비자발적 실업이다. 시대나 산업 구조의 변화에 발맞추어 새로운 기술을 습득하기가 쉽지 않아서 구조적 실업은 장기화되는 문제가 있다.

마찰적 실업은 새로운 직장을 탐색하거나 일자리를 옮기는 과정에서 발생하는 실업으로 개인의 자발적인 선택에 의한 것이다. 따라서 마찰적 실업은 일시적이며 다른 실업에 비해 큰 사회 문제가 되지 않는다.

계절적 실업은 계절의 변화에 따라 발생하는 비자발적 실업

을 말한다. 예를 들어 농부들이나 해수욕장, 스키장 근처 관광업 종사자들은 특정한 계절에 실업 상태에 머물게 된다.

정부는 실업을 줄이기 위해 실업의 발생 원인에 따라 다양한 정책을 펼치고 있다. 경기적 실업은 시간이 지나 경기가 회복되면서 줄어들기도 하지만 그 과정에서 많은 사람이 실업에 따른 고통을 겪게 된다. 따라서 정부와 중앙은행은 경기를 부양하기 위해 다양한 정책을 편다.

구조적 실업에 처한 사람에게는 새로운 기술이나 지식이 필요하므로 정부는 직업 훈련을 하며 변화된 경제 환경에 적응할 수 있도록 다양한 교육과 정보를 지원하고 제공한다.

마찰적 실업과 같은 자발적 실업은 구직 활동에 걸리는 시간과 비용을 줄여 주는 것이 중요하므로 적절한 구인, 구직 정보를 제공하여 실업 기간을 줄여 주고자 노력한다.

계절적 실업 문제를 해결하기 위해 정부는 농한기에 생산 기반 시설 정비, 하천 가꾸기 등의 정책을 펼치기도 한다.

실업을 해결하기 위해서는 정부의 정책과 더불어 개인도 자신의 소질과 적성에 맞는 진로를 탐색하고 유망 직업에 관한 정보를 찾으려고 노력해야 한다.

44. 표는 갑국의 고용 지표 관련 인구 변화를 나타낸다. 이에 대한 분석으로 옳은 것은?

구분	15세 이상 인구	경제 활동 인구	실업자 수
변화	감소	증가	감소

* 고용률(%) = $\frac{\text{취업자 수}}{\text{15세 이상 인구}} \times 100$

- ① 실업률 상승
- ② 고용률 상승
- ③ 취업자 수 감소
- ④ 비경제 활동 인구 증가
- ⑤ 경제 활동 참가율 하락

45. 다음 자료에 대한 옳은 설명을 <보기>에서 고른 것은?

그림은 고용과 관련한 갑국의 15세 이상 인구 구성을 나타낸다. 갑국은 기존에 취업자로 분류되던 A와 비경제 활동 인구로 분류되던 B를 재분류하여 고용 상황을 보다 정확히 파악하려고 한다.

* 고용률(%) = $\frac{\text{취업자 수}}{\text{15세 이상 인구}} \times 100$

- < 보 기 >
- ㄱ. A를 실업자에 포함하면 경제 활동 참가율이 상승한다.
 - ㄴ. B를 실업자에 포함하면 실업률이 상승한다.
 - ㄷ. A, B를 모두 실업자에 포함하면 고용률이 하락한다.
 - ㄹ. A, B를 모두 실업자에 포함하면 경제 활동 참가율이 하락한다.

- ① ㄱ, ㄴ ② ㄱ, ㄷ ③ ㄴ, ㄷ ④ ㄴ, ㄹ ⑤ ㄷ, ㄹ

46. 표는 갑국의 15세 이상 인구 구성의 변화를 나타낸 것이다. 2010년 실업률이 40%일 때, 이에 대한 옳은 분석을 <보기>에서 고른 것은? (단, (가)~(다)는 각각 취업자 수, 실업자 수, 비경제 활동 인구 중 하나이다.)

(단위 : 만 명)

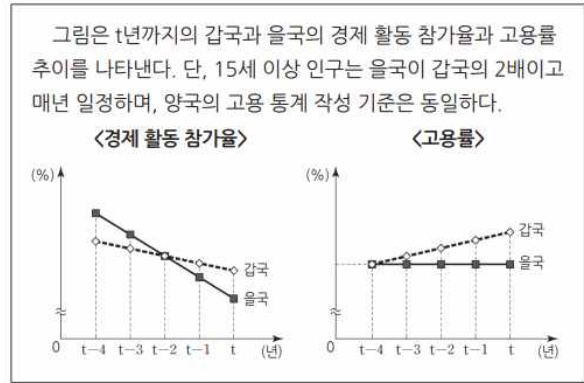
구분	(가)	(나)	(다)
2010년	20	60	40
2015년	30	90	30

* 고용률(%) = $\frac{\text{취업자 수}}{\text{15세 이상 인구}} \times 100$

- < 보 기 >
- ㄱ. 2010년 대비 2015년의 고용률은 상승하였다.
 - ㄴ. 2010년과 2015년의 경제 활동 참가율에는 변화가 없다.
 - ㄷ. 2010년 대비 2015년 취업자 수의 변화율이 같은 기간 15세 이상 인구의 변화율보다 크다.
 - ㄹ. 2010년 경제 활동 인구 전체가 2015년에도 경제 활동 인구라면 이 기간 중 취업자에서 실업자가 된 사람은 없다.

- ① ㄱ, ㄴ ② ㄱ, ㄷ ③ ㄴ, ㄷ ④ ㄴ, ㄹ ⑤ ㄷ, ㄹ

47. 다음 자료에 대한 옳은 분석만을 <보기>에서 고른 것은?



- < 보 기 >
- ㄱ. t-3년부터 갑국과 을국 모두 취업자 수가 매년 감소하였다.
 - ㄴ. t-3년부터 갑국과 을국 모두 실업률이 매년 감소하였다.
 - ㄷ. t-3년부터 갑국과 을국 간 취업자 수의 차이는 매년 감소하였다.
 - ㄹ. t-2년부터 경제 활동 인구는 갑국이 을국보다 매년 많았다.

- ① ㄱ, ㄴ ② ㄱ, ㄷ ③ ㄴ, ㄷ ④ ㄴ, ㄹ ⑤ ㄷ, ㄹ

13. 인플레이션의 원인과 해결 방안

수많은 상품이 거래되는 시장에서는 상황에 따라 어떤 상품의 가격은 상승하고 어떤 상품의 가격은 하락한다. 이러한 개별 상품의 가격 변동으로는 경제 전반에 걸친 상품 가격의 변화를 파악하기 어렵다. 따라서 경제 전체의 상품 가격 변동을 파악하기 위한 판단 기준이 필요하다.

물가는 시장에서 거래되는 상품들의 가격을 종합하여 평균한 가격 수준을 의미한다. 물가 수준을 측정하기 위해서 물가 지수를 이용하는데, **물가 지수**를 이용하면 두 시점 간의 물가 변화를 측정할 수 있다. 예를 들어 2015년의 물가 수준을 100으로 하여 2016년의 물가 지수를 작성했더니 105였다면, 물가 수준이 1년간 5% 상승했다는 뜻이다.

대표적인 물가 지수로는 소비자 물가 지수, 생산자 물가 지수, GDP 디플레이터 등이 있다.

소비자 물가 지수는 가계에서 일상적인 생활을 하기 위해 구입하는 상품의 종합적인 가격 수준을 나타낸 것이다. 소비자 물가 지수는 가계의 생계비를 파악하는 데 활용되며, 국민연금 인상률이나 노동자의 임금 인상률을 결정하는 기준이 되므로 경제 주체들에 매우 중요한 지표이다.

생산자 물가 지수는 생산을 위해 생산자 간에 거래하는 상품의 가격 수준을 측정하여 지수화한 것이다. 재화와 서비스의 거래 현황을 알 수 있고 기업의 실질적인 생산 능력을 파악하는 데 도움이 된다.

GDP 디플레이터는 명목 GDP를 실질 GDP로 나누어 구한 값으로 국내에서 생산된 모든 상품의 가격 변동을 반영한 포괄적인 물가 지수이다. 일반적으로 GDP 디플레이터는 소비자 물가 지수와 유사한 움직임을 보이지만 소비와 투자, 순수출까지 포함하기 때문에 환경 변화에 따라 차이가 나기도 한다.

물가가 지속적으로 상승하는 현상을 **인플레이션**이라고 한다. 인플레이션이 발생하는 원인은 경제 전체의 수요와 공급의 변화로 설명할 수 있다.

우선 가계 소득 증가에 따른 수요를 공급이 따르지 못하거나 시중에 화폐량이 늘어나면 물가가 상승할 수 있다. 국민 경제 전체의 수요가 물가 상승을 일으켰다는 의미에서 **수요 전인 인플레이션**이라고 하는데 주로 경기가 호황일 때 발생한다.

한편 상품 생산 비용과 관련 있는 원자재 가격, 임금 수준 등의 변화도 인플레이션의 원인이 된다. 예를 들어 원유 가격이 상승하거나 생산성의 향상 없이 임금이 상승하면 경제 전체의 공급이 감소하면서 인플레이션이 발생할 수 있다. 이를 **비용 인상 인플레이션**이라고 하는데 경기가 침체하면서 발생하는 경우가 많다. 따라서 비용 인상 인플레이션은 물가 상승과 함께 실업 증가를 유발하여 사람들에게 고통을 준다.

한 나라의 경제 상황에서 의도하지 않은 인플레이션은 사회적으로 다양한 비용을 발생시킨다.

첫째, 인플레이션은 의도하지 않은 방향으로 부와 소득을 재분배한다. 물가가 상승하면 자영업자나 사업가보다 고정된 임금이나 연금을 받는 사람의 실질 소득이 줄어들게 된다. 또 인플레이션이 발생하면 부동산, 금 등과 같은 실물 자산의 가치가 상대적으로 상승하여 실물 자산을 가진 사람이 화폐 자산을 가진 사람에 비해 유리해진다. 결국 돈의 가치가 떨어지면 돈을 빌린 사람의 채무 부담은 줄어들지만 돈을 빌려준 사람

은 손해를 보게 된다.

둘째, 인플레이션으로 경제의 불확실성이 증가하면 기업은 장기 투자를 꺼리게 된다. 건전한 투자보다는 실물 자산에 대한 투기가 늘어나 장기적인 경제 성장을 저해한다.

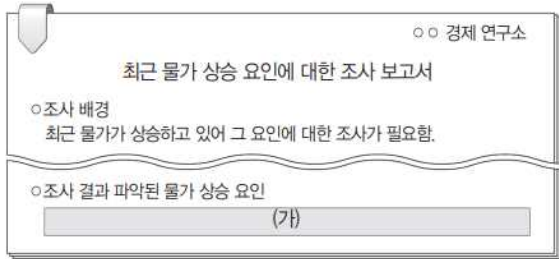
셋째, 인플레이션은 경상 수지의 악화를 가져올 수 있다. 다른 조건이 변화하지 않은 상황에서 우리나라 상품의 가격만 상승하면 그만큼 수출이 줄어든다. 또 상대적으로 수입품의 가격은 낮아져 수입이 증가하므로 경상 수지가 악화된다.

인플레이션은 경제 안정을 해치고 사회적으로 많은 비용을 발생시키므로 정부는 다양한 정책을 마련하여 물가 안정을 도모하고자 한다.

수요 견인 인플레이션이 발생하면 정부는 경제 전체의 수요를 줄이는 정책을 실시한다. 예를 들어 정부의 재정 지출을 줄이거나 금리를 인상하여 경제 전체의 수요를 감소하려는 노력을 한다.

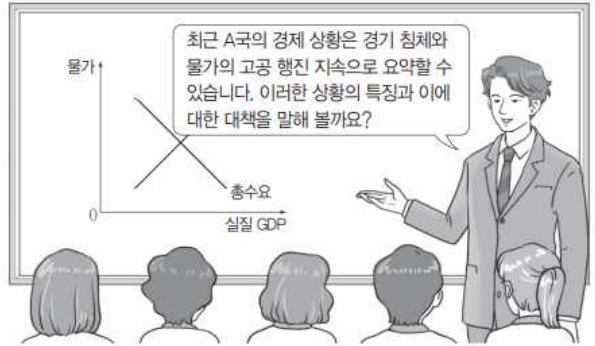
비용 인상 인플레이션이 발생한 상황에서 총수요를 억제하여 물가를 낮추는 정책을 펼치면 경기 침체가 심화할 수 있다. 따라서 생산비 감소를 위해 임금 인상 억제, 기업의 세금 감면 등과 같은 정책을 사용한다.

48. 그림은 갑국 ○○ 경제 연구소의 조사 보고서 일부이다. (가)에 들어갈 수 있는 내용으로 옳은 것은?



- ① 소비 심리의 위축
- ② 민간 투자 지출의 감소
- ③ 가계의 처분 가능 소득 감소
- ④ 갑국이 수입하는 원자재의 가격 상승
- ⑤ 갑국 제품을 수입하는 국가의 경기 침체

49. 교사의 질문에 대한 학생의 답변으로 옳은 것은?



- ① 갑: 경기가 확장 국면에 있습니다.
- ② 을: 고용 상황이 점차 개선되고 있습니다.
- ③ 병: 총수요 증가로 인한 물가 상승 현상입니다.
- ④ 정: 물가 상승으로 투자가 증가하고 재고가 감소할 것입니다.
- ⑤ 무: 기업의 생산성 향상을 통한 총공급의 증가가 필요합니다.

50. 그림의 대화에 대한 분석 및 추론으로 가장 적절한 것은? (단, (가)와 (나)는 각각 수요 견인 인플레이션, 비용 인상 인플레이션 중 하나이며, 총수요 곡선은 우하향하고 총공급 곡선은 우상향한다.)



- ① ㉠이 발생하면 채권자가 채무자보다 유리해진다.
- ② 생산비 상승은 (가)의 요인이 될 수 있다.
- ③ (가)가 발생하면 실질 GDP가 증가한다.
- ④ (나)는 스태그플레이션으로 이어질 수 있다.
- ⑤ (나)에 대한 대책으로 지급 준비율 인하를 들 수 있다.

14. 총수요와 총공급

한 나라의 경제 상황은 지속해서 변동하는데 이러한 변화 과정을 파악하기 위해서는 총수요와 총공급을 이해하는 것이 중요하다.

총수요란 한 나라 안에서 일정 기간 생산된 재화와 서비스에 관한 경제 주체들의 수요를 합한 것을 말한다. 총수요는 가계의 소비, 기업의 투자, 정부의 지출과 국외 부문의 수요인 순수출로 구성된다.

국내 총생산물에 관한 가계, 기업, 정부, 국외 부문의 수요량과 물가 수준의 관계는 총수요 곡선으로 나타낼 수 있다. **총수요 곡선**은 우하향하는데 이는 물가가 하락할 때 총수요량이 증가한다는 것을 의미한다.

한편 총수요를 구성하는 소비, 투자, 정부 지출, 순수출과 같은 요인이 변하면 총수요 곡선이 이동한다. 예를 들어 가계의 소비 지출이 늘어나면 총수요 곡선이 오른쪽으로 이동하게 된다. 반대로 기업의 투자 지출이 감소하면 총수요가 감소하여 총수요 곡선은 왼쪽으로 이동하게 된다.

총공급은 한 나라 안에서 일정 기간 생산한 재화와 서비스의 총량을 말한다. 총공급은 그 나라의 생산 요소의 양, 생산 비용, 기술 수준 등과 밀접한 관련이 있다.

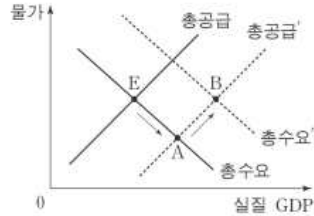
총공급 곡선은 총생산물의 공급량과 물가 수준의 관계를 나타낸 것이다. 물가가 상승하면 총생산량이 증가하므로 총공급 곡선은 우상향한다.

한편 원자재 가격, 생산성, 기술 발전 등 총공급에 영향을 미치는 요인이 변하면 총공급 곡선은 이동한다. 예를 들어 노동 인구가 증가하거나 기술 발전이 이루어지면 총공급이 증가하고 총공급 곡선은 오른쪽으로 이동하게 된다. 반대로 유가 상승과 같이 생산 비용을 인상하는 요인이 발생하면 총공급 곡선은 왼쪽으로 이동하게 된다.

개별 상품의 수요량과 공급량이 일치할 때 시장 균형이 결정되는 것처럼 국민 경제에서 균형은 총수요와 총공급이 일치할 때 이루어진다. 총수요 곡선과 총공급 곡선이 만나는 곳에서 총생산물의 공급량이 경제 전체의 총수요량과 같아진다. 이때의 물가를 균형 물가라고 하고, 국내 총생산을 균형 국민 소득이라고 한다.

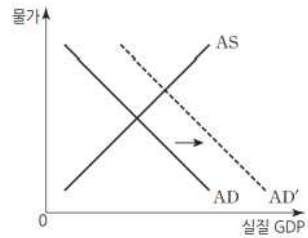
국민 경제의 균형은 총수요와 총공급의 변화에 따라 변동한다. 예를 들어 정부 지출 증가로 총수요가 증가하면 국내 총생산은 증가하고 물가 수준이 상승하게 된다. 만약 기업의 생산 비용 하락으로 총공급이 증가하면 국내 총생산은 증가하고 물가 수준은 하락하게 된다.

51. 그림은 갑국 국민 경제 균형점의 변화(E → A → B)를 나타낸다. 이러한 변화가 나타날 수 있는 경제 상황으로 가장 적절한 것은?



- ① 수입 원유 가격이 하락한 후, 중앙은행이 기준 금리를 인하했다.
- ② 정부가 소득세율을 인상한 후, 중앙은행이 지급 준비율을 인하했다.
- ③ 가계 소비가 증가한 후, 중앙은행이 공개 시장에서 채권을 매각했다.
- ④ 해외 경기 침체로 수출이 감소한 후, 정부가 재정 지출을 확대했다.
- ⑤ 임금 인상으로 생산 비용이 상승한 후, 정부가 법인세율을 인하했다.

52. 그림은 갑국 국민 경제의 변동을 나타낸다. 이러한 변화를 가져올 수 있는 옳은 요인만을 <보기>에서 고른 것은?



- < 보 기 >
- ㄱ. 생산 기술 발전
 - ㄴ. 정부 지출 증가
 - ㄷ. 중앙은행의 국공채 매각
 - ㄹ. 금융 기관에 대한 중앙은행의 대출 확대

- ① ㄱ, ㄴ ② ㄱ, ㄷ ③ ㄴ, ㄷ ④ ㄴ, ㄹ ⑤ ㄷ, ㄹ

15. 경기 변동과 경제 안정화 정책

한 국가의 전체적인 경제 활동 수준은 확장과 수축을 반복하며 변화하는데 이를 경기 변동이라고 한다. 경기가 확장하는 시기에는 투자와 고용이 늘어나고 국민 소득이 증가한다. 반면에 경기가 수축하는 시기에는 투자가 감소하고 실업이 증가하며 국민 소득이 감소한다.

일반적으로 경기 변동은 총수요와 총공급의 변화로 나타난다. 총수요를 구성하는 가계 소비나 기업 투자 등이 증가하면 물가가 상승하고 국민 소득이 증가하면서 경기가 좋아진다. 반면에 총수요가 감소하면 경기는 나빠진다.

생산비 상승 등으로 총공급이 감소하면 물가가 상승하면서 국민 소득이 감소하여 경기가 악화된다. 반면에 기술 발전 등으로 총공급이 증가하면 물가가 하락하면서 국민 소득이 증가하여 경기가 확장 국면에 접어들게 된다.

경기는 국민 경제에 영향을 미치는 다양한 요인에 의해 확장 수축을 반복하며 변동한다. 경기 변동은 경제 활동이 가장 침체된 시기인 저점과 경제 활동이 가장 활발한 정점을 기준으로 회복기, 호황기, 후퇴기, 불황기로 나누어 볼 수 있다. 현실에서 단기적인 경기 변동의 주거나 지속 시간, 진폭 등은 시기 별로 다르며 매우 불규칙한 양상을 보인다.

경기가 침체되면 실업이 증가하고 소득이 줄어들어 국민이 경제적으로 어려움을 겪게 된다. 한편 경기가 지나치게 과열될 때에도 인플레이션이 발생하여 다양한 사회적 비용이 발생한다. 따라서 정부는 경제 안정화 정책을 실시하여 경제가 침체된 시기에는 경기를 활성화하려고 하고 경기가 과열되었을 때는 경기를 진정하기 위해 노력한다.

하여 총수요를 관리하는데 이를 재정 정책이라고 한다. 정부는 시장에서 다양한 재화와 서비스를 구입하며 교육이나 국방과 같은 공공재를 공급하기도 한다. 이 과정에서 정부 지출이 발생하는데 경기 상황에 따라 정부 지출을 늘리거나 줄임으로써 경기 안정을 도모할 수 있다.

정부가 가계 소득에 관한 세율을 조정하면 가계가 사용할 수 있는 실질 소득이 변하게 된다. 예를 들어 세율을 인상하면 가계의 처분 가능 소득이 줄어들고 이에 따라 소비가 감소한다. 정부의 세율 조정은 기업의 투자에도 영향을 미친다. 예를 들어 기업이 벌어들인 이윤에 부과하는 세율을 인하하면 기업의 투자가 늘어난다.

국가의 총수요가 증가하고 경기가 과열되면 인플레이션이 발생할 가능성이 커지므로 정부는 경기 안정을 위해 긴축 재정 정책을 시행한다. 이 경우 정부는 정부 지출을 줄이고 세율을 인상하는데 이에 따라 총수요가 감소한다. 총수요가 감소하면 국내 총생산이 줄어들고 물가 수준이 낮아진다.

경기가 침체되어 실업이 문제가 되면 정부는 경기 활성화를 위해 정부 지출을 늘리고 세율을 인하하는 확대 재정 정책을 시행한다. 예를 들어 정부가 상품 구입을 늘리고 소득세와 법인세를 낮추면 총수요가 증가한다. 총수요가 증가하면 국내 총생산이 증가하고 고용 증대와 실업 감소로 이어진다.

이처럼 정부의 재정 정책은 경기 안정에 도움이 되지만 잦은 경기 부양책은 국가 부채를 증가시킬 위험이 있다. 또한 국채를 발행하는 과정에서 이자율을 상승시켜 기업의 투자가 감소하는 등 민간 부문에 의도하지 않은 악영향을 미칠 수도 있

다.

중앙은행이 물가 안정, 고용 증가, 경제 성장 등을 위해서 통화량과 이자율을 조절하는 정책을 통화 정책이라고 한다. 경기 침체 시기에 중앙은행이 통화량을 늘리거나 이자율을 인하하면 가계 소비와 기업 투자가 늘어나서 총수요가 증가한다. 이에 따라 물가 수준이 상승하고 고용이 늘어나 경제를 안정화할 수 있다.

반면에 경기가 과열되어 인플레이션이 발생하는 시기에는 시중의 통화량을 줄이고 이자율을 인상하면 가계 소비와 기업 투자가 줄어들어 총수요가 감소한다. 결과적으로 물가와 고용이 안정되면서 과열된 경기가 진정된다.

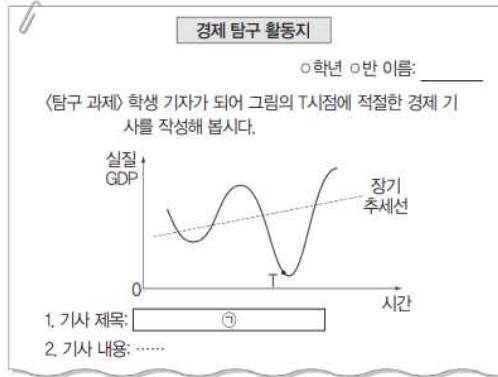
중앙은행은 공개 시장 운영, 지급 준비율 조정, 여·수신 제도 등을 통해 시중의 통화량과 이자율을 조정한다. 공개 시장 운영은 중앙은행이 시장에서 국·공채를 사고팔아 통화량이나 이자율을 조절하는 정책이다. 중앙은행이 국·공채를 매입하면 중앙은행이 가지고 있던 자금이 시중에 유입되어 통화량이 증가하고 이자율이 낮아진다. 반대로 국·공채를 매각하면 시중의 자금이 중앙은행으로 유입되므로 통화량이 감소하고 이자율이 높아진다.

지급 준비 제도는 중앙은행이 은행의 지급 준비율을 조정하여 통화량이나 이자율을 조절하는 정책이다. 지급 준비율이란 은행이 예금자가 요구할 때 지급할 수 있도록 고객 예금의 일정 비율을 중앙은행에 예치해 두는 것을 말한다. 중앙은행이 지급 준비율을 올리면 은행이 대출해 줄 수 있는 돈의 양이 줄어들기 때문에 시중의 통화량이 감소하고 이자율이 높아진다. 반대로 지급 준비율을 낮추면 은행이 추가로 대출해 줄 수 있으므로 시중의 통화량이 증가하고 이자율은 낮아진다.

여·수신 제도는 중앙은행이 금융 기관을 상대로 대출을 해주거나 예금을 받는 정책 수단으로 이를 통해 통화량을 조절할 수 있다. 중앙은행이 대출 자금 규모를 줄이면 은행이 빌릴 수 있는 돈이 적어지고 가계와 기업에 대한 대출도 줄어든다. 반대로 대출 규모를 늘리면 시중에 통화량이 늘어나게 된다. 한편 은행의 여유 자금이 많을 때 중앙은행에 예치할 수 있도록 하여 통화량을 조절하기도 한다.

통화 정책은 경기 조절에 유용한 수단이지만 통화량과 이자율을 조정하여 실물 경제에 효과가 나타나기까지 시간이 걸릴 수 있으며 물가가 불안정해질 우려가 있다.

53. 그림의 ㉠에 들어갈 신문 기사 제목으로 가장 적절한 것은?



- ① 실업률 사상 최저
- ② 법인세율 인상해야
- ③ 흑자 재정 지속해야
- ④ 소비 증가율 최고치 근접
- ⑤ 통화 당국, 금리 추가 인하 논의

54. 다음 자료에 대한 분석 및 추론으로 옳은 것은?

표는 갑국의 전년 대비 재정 수입 변동액과 재정 지출 변동액을 나타낸다. 갑국 정부는 경기 상황에 따라 재정 수입과 재정 지출의 규모를 결정하여 집행한다. 재정 수지는 2017년에는 적자, 2018년에는 흑자를 기록하였다.

구분	2016년	2017년	2018년
재정 수입 변동액(억 원)	-20	-50	+30
재정 지출 변동액(억 원)	+100	-60	-20

* 재정 수지 = 재정 수입 - 재정 지출

- ① 2016년의 재정 수지 적자 규모는 120억 원이다.
- ② 2017년의 재정 수지 적자 규모는 50억 원보다 작다.
- ③ 2016년에 비해 2017년의 재정 수지 적자 폭이 증가하였다.
- ④ 재정 수입 규모는 2018년에 가장 크다.
- ⑤ 2018년의 재정 수지는 경기 부양에 도움이 되었을 것이다.

55. 다음 자료의 카드 A에 들어갈 수 있는 옳은 내용을 <보기>에서 고른 것은?

경제 안정화 정책 카드 게임

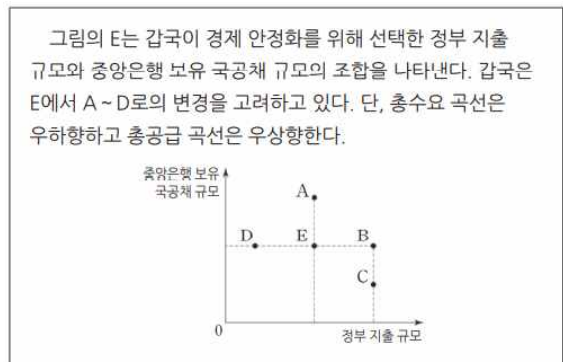
○ 게임 규칙: 두 장의 카드를 뒤집어 카드에 적힌 경제 안정화 정책이 실질 GDP를 동일한 방향으로 변동시키는 요인이면 뒤집은 두 장의 카드를 가져간다.

○ 같은 다음과 같이 카드를 뒤집어 게임 규칙에 따라 두 장을 가져갔다.

- < 보 기 >
- ㄱ. 재할인을 인상
 - ㄴ. 국공채 매입
 - ㄷ. 소득세율 인하
 - ㄹ. 사회 간접 자본 투자 축소

- ① ㄱ, ㄴ ② ㄱ, ㄷ ③ ㄴ, ㄷ ④ ㄴ, ㄹ ⑤ ㄷ, ㄹ

56. 다음 자료에 근거한 추론으로 옳은 것은?



- ① A로 변경한다면 물가 수준은 낮아질 것이다.
- ② B로 변경한다면 실질 GDP는 감소할 것이다.
- ③ D로 변경한다면 총수요는 증가할 것이다.
- ④ C보다 B로 변경하는 것이 실질 GDP 증가에 더 효과적일 것이다.
- ⑤ 총공급이 감소할 경우 B로 변경한다면 물가 안정에 도움이 될 것이다.

16. 무역의 이익과 원리

우리는 외국과 교역을 하지 않고 살아갈 수 없는 시대에 살고 있다. 의식주를 해결하는 데 필요한 재화와 서비스, 그리고 이를 생산하는 데 필요한 원재료 중에는 외국에서 수입한 것이 많다. 또한 우리가 생산한 자동차, 반도체, 스마트폰 등은 국내에서 소비하는 것보다 해외에 수출하는 것이 더 많다.

국내에서 생산하지 않는 상품이나 생산 요소는 무역을 통해서 얻어야 하며, 국내에서 생산할 수 있더라도 생산 비용이 높은 상품은 무역을 통하여 더 저렴하게 얻을 수 있다. 이 과정에서 소비자는 다양한 상품을 저렴하게 소비할 수 있다. 한편 생산자는 무역을 통하여 넓은 국제 시장을 확보하고 규모의 경제를 통해 생산 비용을 낮출 수 있다. 또한 경쟁력 있는 기업은 수출을 통하여 생산을 확대하고 일자리를 만들어 낼 수 있다. 이 밖에도 무역은 외국의 기술이나 자본을 확보할 좋은 기회를 제공한다.

특화와 분업을 통하여 상대적으로 생산성이 높은 일에 전념하여 생산하고 교환하면 거래 당사자 모두 이익을 얻는다는 교환의 원리는 국내 거래뿐만 아니라 국제 거래에도 적용된다. 예를 들어 한국이 스마트폰을 생산하여 수출하고 필리핀의 바나나를 수입한다면 한국과 필리핀 모두에 이익이 된다.

무역이 발생하는 원인은 다양하지만 가장 중요한 것은 생산 비용의 차이이다. 한 나라가 어떤 상품을 다른 나라보다 더 적은 생산 요소를 투입하여, 즉 더 낮은 생산 비용으로 생산할 수 있을 때 그 상품 생산에 절대 우위가 있다고 한다.

텔레비전을 생산할 때 갑국이 을국보다 생산 요소를 더 적게 들여서 생산할 수 있고, 반대로 밀을 생산할 때는 을국이 갑국보다 생산 요소를 더 적게 투입하여 생산할 수 있다면 갑국은 텔레비전에, 을국은 밀 생산에 절대 우위를 갖고 있다. 이때 갑국은 텔레비전을 생산하고 을국은 밀을 생산하여 서로 교환하면 갑국과 을국은 모두 이익을 본다.

한 나라가 두 상품 생산에 모두 절대 우위가 있어도 무역이 가능할까? 즉, 갑국이 병국보다 철강과 텔레비전을 더 저렴하게 생산할 수 있을 때도 갑국은 병국과 무역을 해야 할까?

한 나라가 다른 나라보다 두 상품 모두 더 저렴하게 생산할 수 있더라도 특히 더 저렴하게 생산할 수 있는 상품을 특화하여 다른 나라와 무역을 하면 이익을 얻을 수 있다. 이것이 비교 우위의 원리이다.

비교 우위를 결정하는 것은 생산에 필요한 생산 요소의 비용이 아니라 해당 생산 요소로 만들 수 있는 다른 재화의 가치인 기회비용이다. 한 상품을 생산하기 위해 사용하는 생산 요소는 다른 상품의 생산을 위해 사용할 수도 있으므로, 철강 생산을 늘리는 것은 그 생산 요소로 만들 수 있었던 텔레비전 생산을 포기하는 것을 뜻한다.

갑국은 병국보다 생산성이 높아서 텔레비전과 철강을 병국보다 더 낮은 비용으로 생산할 수 있다고 하자. 즉, 같은 노동을 투입할 때 텔레비전과 철강을 더 많이 생산할 수 있으므로 갑국은 두 상품 모두에 절대 우위가 있다.

하지만 기회비용을 살펴보면 텔레비전을 생산할 때 갑국은 2톤 (6/3) 의 철강만 포기하면 되지만, 병국은 3톤 (3/1) 의 철강을 포기해야 한다. 반면에 철강을 생산할 때 갑국은 2분의 1대 (3/6) 의 텔레비전을 포기하지만, 병국은 3분의 1대의

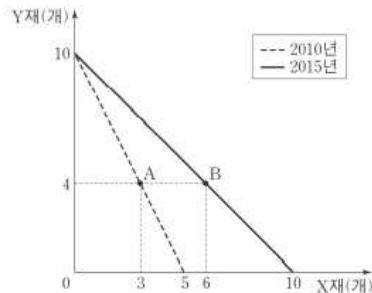
텔레비전만 포기하면 된다. 즉, 갑국은 텔레비전 생산의 기회 비용이 낮으므로 텔레비전 생산에 비교 우위가 있고, 병국은 철강 생산의 기회비용이 낮으므로 철강 생산에 비교 우위가 있다. 갑국과 병국이 비교 우위가 있는 상품을 특화하여 생산하고 서로 무역을하면 두 국가가 모두 이익을 본다.

비교 우위는 다양한 요인에 의해서 발생한다. 우선 기후, 광물 자원, 토양 등과 같은 자연조건의 차이는 중요한 요인이다. 예를 들어 에티오피아의 커피는 이 지역의 기후가 커피를 생산하기에 적합하기 때문에 비교 우위가 발생한 것으로 볼 수 있다.

한편 생산 요소의 분포에 따라서도 비교 우위가 발생한다. 노동력이 풍부한 나라는 섬유나 신발 등의 노동 집약적인 상품 생산에 비교 우위가 있고, 자본이 풍부한 나라는 첨단 무기나 항공기 등의 자본 집약적인 상품 생산에 비교 우위가 있다.

이 밖에도 기술의 차이에 따라서 비교 우위가 발생한다. 독일의 자동차, 스위스의 시계, 한국의 반도체는 자연조건이나 생산 요소 차이보다는 장기간에 걸쳐서 연구 개발에 많은 투자를 한 결과 노동자의 생산성이 높아져 비교 우위가 발생한 것으로 볼 수 있다. 또 규모의 경제가 작용할 때는 먼저 투자하여 산업 규모를 키운 국가에 비교 우위가 생긴다.

57. 그림은 어떤 기업의 생산 가능 곡선이 변화한 모습을 나타낸다. 이에 대한 설명으로 옳은 것은? (단, 2010년과 2015년에 투입되는 생산 요소의 양은 동일하다.)



- ① A점은 2010년에 생산이 불가능하다.
- ② B점은 2015년에 비효율적인 생산점이다.
- ③ 2015년에 X재 10개와 Y재 4개를 생산할 수 있다.
- ④ A점에서 B점으로의 생산점 변화는 X재 생산 기술의 발전으로 나타날 수 있다.
- ⑤ Y재로 표시한 X재 1개 생산의 기회비용은 2010년보다 2015년에 크다.

58. 그림은 수행 평가 보고서의 일부이다. (가), (나)에 해당하는 값으로 옳은 것은?

경제 수행 평가 보고서

탐구 질문 : 무역을 하면 서로 이익이 발생할까?

제출 모습 : □□

○ 기본 가정
표는 갑국과 을국이 X재 1개와 Y재 1개를 생산하는 데 필요한 노동자 수를 나타낸다. 단, 양국은 유일한 생산 요소인 노동을 모두 투입하여 X재와 Y재만 생산한다.

구분	갑국	을국
X재	1명	10명
Y재	2명	4명

○ 교환 비율
무역이 발생할 수 있는 조건을 고려하여 X재와 Y재의 교환 비율을 1:1로 가정한다.

○ 무역 전후의 소비량 비교
양국은 비교 우위가 있는 재화의 생산에만 특화하여 교역하며, 교역은 거래 비용 없이 양국 간에만 이루어진다. 양국의 무역 전후 소비량은 다음과 같다.

구분	무역 전 소비량		무역 후 소비량	
	갑국	을국	갑국	을국
X재	10개	10개	15개	(가) 개
Y재	10개	10개	15개	(나) 개

○ 결론
양국에서 무역 전보다 무역 후 소비량이 늘어났으므로 무역을 통해 양국 모두 이익이 발생한다.

- (가) (나)
- ① 15 10
② 15 15
③ 15 20
④ 20 15
⑤ 20 20

59. 그림은 수행 평가 보고서의 일부이다. (가), (나)에 해당하는 값으로 옳은 것은?

표는 갑~병이 X재 또는 Y재를 1개 생산할 때마다 필요한 노동 시간을 나타낸다. 갑~병은 상호 이익이 되는 조건에서 교환한다. 노동은 X재와 Y재의 유일한 생산 요소이다.

(단위 : 시간)

구분	갑	을	병
X재	2	4	3
Y재	4	2	8

- ① 갑의 X재 1개 생산에 대한 기회비용은 Y재 2개이다.
② 을이 40시간을 일할 경우 X재 6개와 Y재 9개를 생산할 수 있다.
③ 갑은 을에 대하여 X재 생산에는 비교 우위를, Y재 생산에는 절대 우위를 갖는다.
④ X재와 Y재의 교환 비율이 1:3이라면 갑과 병 간에는 교환이 발생하지 않을 것이다.
⑤ 갑이 을과 병 각각에 대하여 비교 우위를 갖는 재화는 동일하다.

60. 다음 자료에 대한 옳은 분석 및 추론만을 <보기>에서 고른 것은?

X재와 Y재만을 생산하여 소비하던 갑국과 을국은 비교 우위가 있는 재화만을 생산하여 양국 모두 이익이 발생하는 교환 비율에 따라 교역하였다. 표는 갑국의 교역 전후 소비의 기회비용이고, 그림은 을국의 교역 전후 소비점이다. 단, 양국은 노동만을 생산 요소로 사용하여 직선인 생산 가능 곡선상에서 생산하며, 생산된 재화는 전량 소비되고 교역은 거래 비용 없이 양국 간에만 이루어진다. 또한 양국이 보유한 노동량은 동일하다.

<갑국>

구분	X재 1개 소비의 기회비용
교역 전	Y재 2개
교역 후	Y재 1개

<을국>

< 보 기 >

ㄱ. 을국의 Y재 최대 생산 가능량은 25개이다.
ㄴ. 갑국은 Y재 생산에 절대 우위를 갖는다.
ㄷ. 갑국의 교역 후 Y재 소비량이 35개라면 X재 20개, Y재 20개 조합은 갑국의 생산 가능 곡선상에 있다.
ㄹ. 갑국의 교역 전 소비량이 X재 15개, Y재 10개였다면 갑국의 교역 후 Y재 소비량은 5개 감소한다.

- ① ㄱ, ㄴ ② ㄱ, ㄷ ③ ㄴ, ㄷ ④ ㄴ, ㄹ ⑤ ㄷ, ㄹ

17. 자유 무역과 보호 무역

우리가 소비하는 재화와 서비스 중에서 상당 부분은 외국에서 수입한 것이고 또 한국에서 생산한 많은 상품도 외국으로 수출하여 외국에서 소비된다. 이러한 수입과 수출이 자유롭게 이루어지는 것을 자유 무역이라고 한다.

자유 무역을 통해 교역의 이득을 얻을 수 있으므로 많은 국가는 자유 무역에 참여한다. 비교 우위의 원리에 따른 자유 무역은 무역에 참여한 국가의 소비자와 생산자에게 이득을 가져다준다. 예를 들어 자유 무역을 통해 특정한 기후 조건에서 생산하는 과일이나 특정 지역에 분포한 자원을 다른 나라에서도 소비할 수 있다. 한편 생산자는 자유 무역을 통하여 원자재를 저렴하게 확보할 수 있고, 넓은 수출 시장을 확보할 수 있다. 또 무역 과정에서 다른 국가로부터 새로운 기술을 이전받기도 하고, 기업 간의 경쟁을 촉진하여 기술 개발이 활발하게 이루어지기도 한다.

한편 자유 무역은 국가 전체적으로 이득을 가져다주지만 무역 과정에서 도태되는 산업이 발생하여 특정 분야의 일자리가 줄어들기도 한다. 국가 간, 산업 간 무역의 이득이 공정하게 배분되지 않는 문제도 발생할 수 있다.

자유로운 교역이 당사국 모두에 이득이 되에도 불구하고 현실에서는 다양한 무역 장벽이 존재한다. 이러한 무역 장벽을 없애고 자유 무역을 촉진하려는 다양한 노력이 이어지고 있다.

국제 무역을 증진하기 위해 1995년에 세계 무역 기구(WTO)가 설립되어 무역에 관한 규제를 완화하고 자유 무역을 활성화하고 있으며, 지역 간 경제 통합과 자유 무역 협정도 활발하게 이루어지고 있다.

자유 무역 협정(FTA, Free Trade Agreement)은 국가 간 상품의 자유로운 이동을 위해 관세 등의 무역 장벽을 완화하거나 제거하는 협정으로서 무역 자유화를 지향한다. 자유 무역 협정에 따라 관세를 인하하거나 철폐하면 수입품 가격이 하락하여 소비자는 다양한 상품과 서비스를 더 낮은 가격으로 소비할 수 있다. 또 시장이 크게 확대되어 비교 우위가 있는 상품의 수출과 투자가 촉진되고, 무역 창출 효과를 거둘 수 있다. 자유 무역이 확대되면 외국 기업과 경쟁해야 하는 국내 기업은 생산 비용을 낮추고 상품의 질을 높이기 위해 노력한다. 이 과정에서 기술 개발과 생산성 향상이 이루어진다.

현실에서 완전한 자유 무역을 하는 나라는 거의 없으며, 다양한 목적을 위해 외국과의 경쟁에서 자국 생산자를 보호한다.

역사적으로 대표적인 보호 무역 주장은 **유치산업 보호론**이다. 신생 산업이나 기업은 이미 비교 우위를 확보한 외국 기업과 경쟁할 준비가 되지 않았기 때문에 이들이 성장할 수 있도록 보호해야 한다는 주장이다. 신생 산업은 외국의 경쟁 기업보다 생산비가 높을 수밖에 없으므로 외국과 대등한 입장에서 경쟁할 수 있을 때까지 성장하도록 지원하는 것이다.

그리고 전략적인 중요성이 있거나 국방, 안보와 관련된 산업은 수입을 억제하고 보호해야 한다는 주장이 있다. 식량, 에너지, 군수품과 같은 상품은 수입에 지나치게 의존하면 **국가 안보**가 위협을 받거나 외국의 경제 여건 변화에 따라 큰 어려움에 처할 수 있다. 이런 산업은 비교 우위에 의존하기보다 정책적으로 보호할 필요가 있는데, 역사적으로 식량을 생산하는 농업은 별도로 보호를 받을 때가 많았다.

유치산업 보호나 국가 안보와 관련한 산업 보호 주장보다 더 광범위한 지지를 받는 것은 **일자리**를 보호해야 한다는 주장이다. 수입품 소비가 증가하면 국산품 생산이 줄어들어 국내의 일자리가 감소하고 실업이 증가하기 때문에 수입을 억제하여 국내 일자리를 보호해야 한다는 것이다.

이처럼 다양한 목적으로 보호 무역을 주장하고 있지만, 국가 전체적으로는 자유 무역의 이익이 더 큰 것이 일반적이다. 또한 국가의 보호 무역 정책은 무역 상대국과의 무역 마찰을 초래할 수도 있다.

외국 상품의 수입을 막는 대표적인 보호 무역 수단으로는 관세 장벽과 비관세 장벽이 있다.

관세는 외국에서 수입하는 상품에 부과하는 세금으로, 외국 상품의 수입을 억제하고 국내 산업을 보호하기 위해서 가장 많이 사용하는 보호 무역 정책 수단이다. 관세를 부과하면 수입 상품의 가격이 상승하므로 국내 시장에서 수입품의 경쟁력이 낮아져 수입량이 줄어들어 국내 산업과 일자리를 보호할 수 있다.

일반적으로 국내 산업을 보호하기 위하여 특정 수입품에 관세를 부과하지만, 상대 국가의 불공정 무역 행위에 대항하기 위하여 특정 국가의 상품에 관세를 부과하기도 한다. 다른 국가가 자국 상품의 수출을 늘리기 위하여 보조금을 주거나 외국 기업이 자국에서 판매하는 가격 이하로 상품을 수출할 때 수입국 정부는 불공정한 무역으로 발생하는 자국 산업의 피해를 막기 위하여 관세를 부과할 수 있다. 관세는 외국 상품의 수입을 억제하기 위해서 사용하지만, 정부의 조세 수입이 증가하는 부수적 효과도 있다.

수입하는 상품의 수량을 제한하는 **수입 할당(quota)**은 대표적인 비관세 장벽으로서, 수입량을 바로 제한하기 때문에 관세보다 더 강력한 수입 억제 수단으로 활용된다. 수입 할당은 모든 나라로부터의 수입량을 제한할 수도 있고 특정 국가에서의 수입량만 제한할 수도 있다. 수입 할당을 시행하면 수입품의 수량이 줄어들고 가격도 상승하기 때문에 국내 산업을 보호할 수 있다. 수입 할당은 일반적으로 경쟁력이 약한 특정 산업을 보호하거나 상품이 과도하게 수입되는 것을 일시적으로 막기 위해 활용한다.

이 밖에 환경 기준이나 규제 강화, 제조 방법 등에 제한을 가하여 수입 절차를 어렵게 하는 방법도 사용된다. 이런 규제들은 잘 드러나지는 않지만 수입을 실질적으로 제한한다. 예를 들어 수입 자동차의 배기가스 기준을 엄격하게 하는 것은 환경 보호를 위한 것이지만 수입을 억제하는 수단으로 활용할 수도 있다. 수입 상품의 부품이나 성분을 규제하는 것도 마찬가지이다. 특히 식품이나 의약품은 표시 기준이나 성분, 제조 방법 등을 엄격히 지정하기도 한다.

61. 다음 자료에 대한 분석 및 추론으로 옳은 것은?

표는 시장이 개방되기 이전에 갑국 X재 시장의 수요와 공급 곡선상에 있는 점들의 일부를 나타낸다. 최근 갑국 정부는 X재 시장을 개방하여 자유 무역을 허용하였고, 이로 인해 갑국 X재 시장에는 X재가 국제 시장으로부터 1개당 3만 원에 무제한 공급되었다. 단, 갑국 X재 시장의 국내 수요와 공급 곡선은 모두 직선이고, 개방 이후 국내 수요와 공급의 변동은 일어나지 않았다.

가격(만 원)	수요량(개)	공급량(개)
2	1,200	700
3	1,100	800
4	1,000	900
5	900	1,000
6	800	1,100

- ① 개방 이전 X재의 시장 균형 가격은 5만 원이다.
- ② 개방 이후 X재의 수입량은 150개이다.
- ③ 개방 이후 국내 소비자 잉여는 감소하였다.
- ④ 개방 이후 국내 생산자의 판매 수입 감소액은 975만 원이다.
- ⑤ 개방 이후 모든 가격 수준에서 국내 생산자의 공급량이 200개씩 증가해도 X재는 수입된다.

62. 다음 자료에서 갑국의 X재 국내 수요 변화 후 시장 상황에 대한 분석으로 옳은 것은?

그림은 갑국의 X재 시장을 나타낸다. X재의 국제 가격은 50달러이며, 갑국 정부는 X재 한 개당 10달러의 관세를 부과하고 있다. 최근 갑국 소비자들의 X재에 대한 선호가 증가해 국내 수요 곡선이 D_1 에서 D_2 로 이동하였다.

* 갑국은 국제 가격 50달러에서 X재를 무제한 수입할 수 있음.

- ① X재 수입량은 60만 개이다.
- ② X재 국내 소비량은 80만 개이다.
- ③ X재 국내 생산량은 20만 개이다.
- ④ 관세 수입은 400만 달러이다.
- ⑤ 수요 변화 전에 비해 국내 생산자 잉여는 증가하였다.

63. 다음 자료에 대한 설명으로 옳은 것은?

그림은 갑국의 X재 시장 상황을 나타낸다.

갑국은 $t \sim t+2$ 시기별로 다음과 같은 정책을 실시하였다. 단, 갑국 기업이 생산한 X재는 전량 국내 시장에서 판매되며, 갑국은 국제 가격으로 X재를 무제한 수입할 수 있다.

t	국제 가격에 1개당 P_1P_2 의 관세를 부과하여 수입
t+1	수입국과의 자유 무역 협정 체결로 관세 철폐
t+2	갑국 생산자에게 부과되던 판매세를 1개당 P_1P_2 인하

- ① t 시기 갑국 기업의 공급량은 Q_1 이다.
- ② t+1 시기 갑국의 수입량은 Q_2Q_3 이다.
- ③ 갑국 기업의 생산자 잉여는 t+1 시기가 t 시기보다 작다.
- ④ 국내 거래량은 t+2 시기가 t+1 시기보다 많다.
- ⑤ 국내 가격은 t+2 시기가 t+1 시기보다 낮다.

64. 다음 자료에 대한 설명으로 옳지 않은 것은?

그림은 갑국의 X재 시장 상황을 나타낸다. 갑국은 국제 가격에 개당 20달러의 관세를 부과하여 X재를 수입하고 있다. 단, X재의 국제 가격은 일정하며 이 가격에서 X재를 무제한 수입할 수 있다.

- ① 수입량은 20만 개이다.
- ② 관세 수입은 400만 달러이다.
- ③ 국내 생산자의 판매 수입은 3,600만 달러이다.
- ④ 관세를 폐지하면 수입량은 20만 개 증가할 것이다.
- ⑤ 관세를 폐지하면 국내 소비자 잉여 증가분은 국내 생산자 잉여 감소분보다 클 것이다.

18. 환율의 결정과 환율 변동

우리가 해외여행이나 유학을 갈 때는 원화를 해당 국가의 돈으로 바꾸어야 하고, 한국으로 여행을 오는 외국인이나 한국에 투자를 원하는 외국 기업은 자국 돈을 원화로 교환해야 한다. **환율**이란 한 나라의 돈과 다른 나라의 돈의 교환 비율을 말하며, 외국 돈을 구입할 때 적용하는 가격으로 생각할 수도 있다.

환율은 개인의 삶이나 국가의 경제 활동에 큰 영향을 미친다. 따라서 신문에서는 매일 그날의 환율을 보도하고 방송에서는 실시간으로 환율 변동을 전해준다. 국제 시장에서 원유 가격이 오르지 않아도 환율이 상승하면 원유 수입에 필요한 달러를 사기 위해 더 많은 우리 돈이 필요하므로 원유의 수입 가격이 올라간다. 반대로 외국에 상품을 수출하는 기업은 환율이 상승하면 국제 시장 가격이 변하지 않더라도 판매 수입이 늘어날 수 있다.

환율은 어느 국가의 돈을 기준으로 하느냐에 따라 다르게 표현할 수 있는데, 일반적으로 외국 돈을 기준으로 환율을 표현한다. 우리나라는 주로 거래하는 외국 돈인 달러, 유로, 엔, 위안화의 환율을 1,000원/1달러, 1,200원/1유로, 950원/100엔, 195원/1위안과 같이 표시하고 있다.

환율도 다른 상품의 가격처럼 시장의 수요와 공급에 의해 결정된다. 외환 수요는 외국 상품을 수입하거나 외국 자산을 구입할 때 발생한다. 환율이 상승하면 수입 상품이나 외국 자산의 가격이 올라가기 때문에 수입 상품이나 외국 자산의 수요량이 줄어들면서 외환의 수요량이 감소한다. 따라서 환율과 외환의 수요량은 반대방향으로 움직이며, 일반적인 상품의 수요 곡선과 마찬가지로 우하향하는 외환 수요 곡선이 나타난다.

한편 외환의 공급은 수출이나 외국인의 국내 자산 구입으로 발생하는데 환율이 상승하면 수출이 증가하고 외국인의 국내 투자가 늘어나기 때문에 외환의 공급량이 증가한다. 따라서 환율과 외환의 공급량은 같은 방향으로 움직이며, 우상향하는 외환 공급 곡선이 나타난다.

환율이 시장 균형 수준보다 높으면 외환 시장에서 초과 공급이 발생하고 환율이 하락한다. 반대로 환율이 시장 균형 수준보다 낮으면 외환 시장에서 초과 수요가 발생하고 환율이 상승한다. 따라서 외환 시장에서 외환의 수요량과 공급량이 일치하는 지점에서 **균형 환율**이 결정된다.

외환의 수요나 공급이 변하면 환율이 변동하기 때문에 외환의 수요와 공급에 영향을 주는 요인을 살펴볼 필요가 있다.

우선 국내의 경기가 변동하면 환율이 변화한다. 경기 호황으로 소득이 증가하면 사람들의 지출과 수요가 늘어나기 때문에 수입품의 수요도 증가한다. 수입이 증가하면 외환 수요가 증가하여 환율이 상승한다. 한편 외국 국민의 소득이 증가하면 우리 상품의 수출이 늘어나기 때문에 외환 공급이 증가하여 환율이 하락한다.

물가 변동도 환율 변동의 요인이 된다. 국내 물가가 상승하면 국산품 가격이 상대적으로 높아지기 때문에 수출이 감소하고 수입이 늘어나서 환율이 상승한다.

국가 간 돈의 이동은 수출이나 수입에 따른 결제 대금도 있지만 투자 자금의 이동도 있다. 투자자들은 국내뿐만 아니라 외국의 금융 시장에도 투자할 수 있으므로, 국내 이자율이 상

승하면 외국 자본이 유입되어 외환 공급이 증가하고 환율이 하락한다. 반대로 국내 이자율이 하락하거나 외국의 이자율이 상승하면 투자 자금이 외국으로 이동하기 때문에 외환 시장에서 외환 수요가 증가하여 환율이 상승한다.

한국 상품이 외국 상품보다 경쟁력이 높아지거나 외국인이 과거보다 한국 상품을 더 선호하면 수출이 늘어나고 외환 공급이 증가하여 환율이 하락한다. 반면에 한국 상품의 경쟁력이 나 선호도가 낮아지면 수출이 감소하고 외환 공급이 줄어들어 환율이 상승한다.

나라 안팎의 정치적 상황에 따라서도 환율이 급격히 변하는데, 정치 불안이나 사회적 불안정은 환율 상승의 요인이 된다. 예를 들어 경제 위기가 발생하면 사람들이 금이나 달러와 같은 안전한 자산을 서둘러 구입하려고 해 환율이 폭등하는 현상이 나타나기도 한다.

환율 제도에는 고정 환율 제도와 변동 환율 제도가 있다. **고정 환율 제도**는 환율을 일정한 수준으로 유지하는 제도이다. 환율이 안정되면 외국 상품을 수입하는 사람이나 외국에 수출하는 사람 모두 자신이 지불해야 할 원화의 크기를 안정적으로 예측할 수 있어서 국제 거래에 도움이 된다. 그러나 환율을 일정한 수준으로 유지하기 위해서는 정부가 외환 시장에 개입하여 외환의 초과 수요가 있을 때 외환을 공급해 주고, 반대로 외환의 초과 공급이 있을 때 외환을 매입해야 하는 등의 문제점이 있다.

변동 환율 제도는 환율을 시장의 수요와 공급에 의해 자유롭게 결정하는 제도이다. 국제 수지 흑자가 되면 환율이 하락하여 수출은 감소하고 수입은 증가하여 국제 수지 흑자 폭이 감소한다. 반대로 국제 수지 적자가 되면 환율이 상승하여 수출은 증가하고 수입은 감소하기 때문에 국제 수지 적자 폭이 감소하여 국제 수지 균형이 자동으로 조절되는 장점이 있다. 그러나 변동 환율 제도는 환율 변동의 위험 때문에 국제 거래가 위축될 수 있고, 환율 변동의 위험에 대비하여 보험이나 별도의 대비책을 마련할 필요가 있다.

환율 변동은 개인과 기업, 국가의 경제 활동에 직간접적으로 영향을 미친다. 특히 수출과 수입, 경제 성장, 국제 수지, 물가에 커다란 영향을 준다. 환율이 상승하면 수출품의 외화 표시 가격이 하락하여 수출이 증가하고 동시에 수입품의 원화 표시 가격은 상승하여 수입이 감소한다. 환율이 1,000원/달러일 때 국내에서 10만 원인 상품의 수출 가격은 100달러이지만, 환율이 1,100원/달러로 상승하면 수출 가격은 91달러로 하락하므로 국제 시장에서 한국 상품의 수요량이 늘어나 수출이 증가한다. 한편 환율이 1,000원/달러일 때 국제 시장에서 100달러인 상품의 국내 시장 가격은 10만 원이다. 하지만 환율이 1,100원/달러로 상승하면 국내 가격이 11만 원으로 상승하므로 수입품의 수요량이 감소한다.

환율 변동으로 수출과 수입이 변하면 국제 수지와 국내 총생산에도 영향을 준다. 환율이 상승하면 국산품 수요가 늘어나서 수출은 증가하고 수입은 감소하여 국제 수지가 개선된다. 따라서 환율이 상승하면 국내 총생산과 소득이 증가하고 경제가 활성화될 수 있다. 그러나 환율이 하락하면 수출은 감소하고 수입은 증가하여 국제 수지가 악화하며, 국내 총생산과 고용이 줄어들고 경기침체가 올 수 있다.

환율 변동은 물가에도 영향을 미친다. 환율이 상승하면 수입

상품과 생산 요소의 가격이 높아지는데, 농산물, 석유, 원자재 등을 많이 수입하는 국가는 환율 상승으로 상품의 생산 비용이 올라 국내 물가가 상승한다. 또한 국내 생산물에 관한 해외 수요가 증가하여 물가가 상승할 수 있다. 반대로 환율이 하락하면 수입 소비재와 생산 요소의 가격이 하락하여 국내 물가가 하락한다.

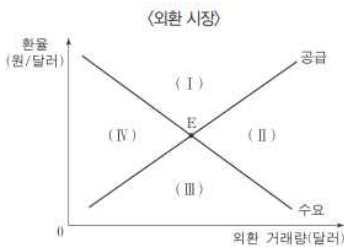
환율 변동은 대외 채무 부담에도 영향을 미친다. 우리나라가 외국에서 돈을 빌렸을 때 환율이 상승하면 채무를 갚는 데 필요한 원화의 양이 증가하므로 대외 채무의 상환 부담이 커진다. 반대로 환율이 하락하면 대외 채무의 상환 부담이 감소한다.

환율 변동은 개인의 상황에 따라 유리할 수도 있고 불리할 수도 있다. 환율 상승은 수출업자나 외국 관광객을 상대로 경제 활동을 하는 사람에게 유리하지만 수입업자, 해외 유학생, 해외여행자에게는 불리하다. 반면에 환율 하락은 수입업자, 해외 유학생, 해외여행자에게 유리하지만, 수출업자나 외국 관광객을 대상으로 경제 활동을 하는 사람에게 불리하다.

환율 변동은 상승이나 하락 자체보다 변동 폭이 지나치게 크거나 변동 속도가 빠를 때 더 큰 문제가 된다. 또 지나치게 큰 폭으로 환율이 변동하면 경제 위기가 발생할 수도 있다.

65. 다음 자료와 같은 변화가 동시에 나타날 때, 현재의 균형점 E가 이동할 영역으로 옳은 것은?

- 우리나라의 대미 수입은 변화가 없으나, 대미 수출이 증가하여 경상 수지 흑자 규모가 증가했다.
- 우리나라 기업이 국내 자산을 팔아 달러로 환전하여 미국 자산에 투자하는 거래가 증가했다.



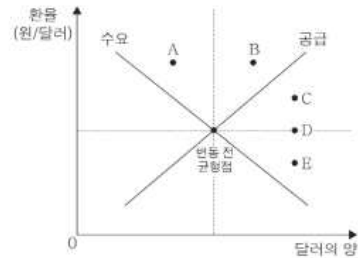
- ① (I) ② (II) ③ (III) ④ (IV) ⑤ 불변

66. 다음 자료에서 국내 외환 시장의 변동 후 균형점으로 가장 적절한 것은?

외환 시장 동향 분석 보고서

1. 외환 수급 상황의 변동 요인
 (요인 1) 유학생 부모의 해외 송금 및 내국인의 해외 여행 증가
 (요인 2) 외국인의 국내 주식 매수 증가

2. 국내 외환 시장 분석
 ○(요인 1)로 인해 발생하는 달러화 수급 변동 폭이
 (요인 2)로 인해 발생하는 달러화 수급 변동 폭보다 작다.



- ① A ② B ③ C ④ D ⑤ E

67. 다음 자료에 대한 설명으로 옳은 것은?

표는 원화를 사용하는 갑국의 원화 표시 GDP 변화율과 미국 달러화 표시 GDP 변화율을 나타낸다.

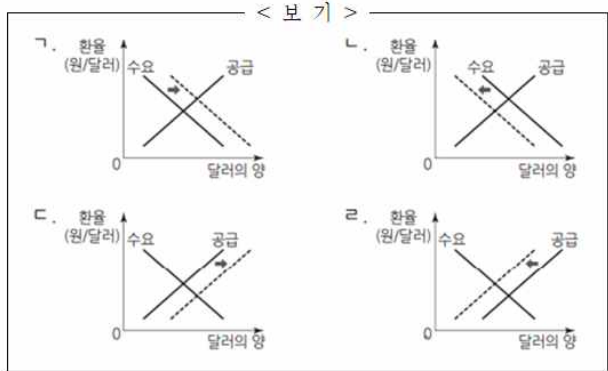
(전년 대비, 단위 : %)

구분	2016년	2017년	2018년
원화 표시 GDP 변화율	-1	2	1
달러화 표시 GDP 변화율	3	2	-3

- ① 2016년의 원/달러 환율은 전년 대비 상승했다.
- ② 2017년의 원/달러 환율은 전년 대비 변화가 없다.
- ③ 2018년의 달러화 대비 원화 가치는 전년 대비 상승했다.
- ④ 원/달러 환율은 2016년이 2018년과 같다.
- ⑤ 2018년의 갑국산 대미 수출품의 가격 경쟁력은 전년에 비해 낮아졌다.

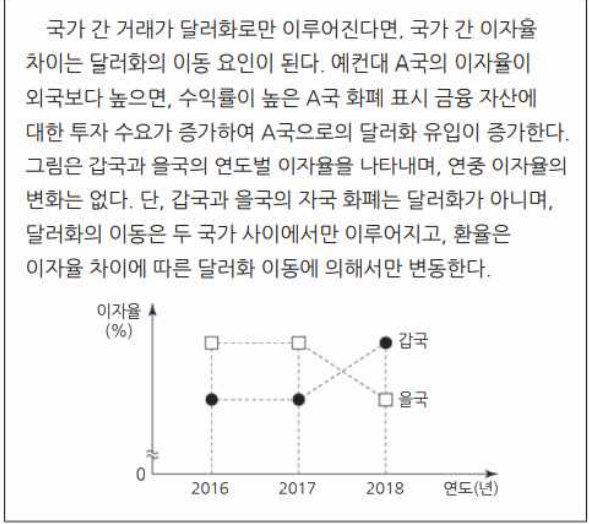
68. 밑줄 친 ㉠, ㉡을 나타내기에 적절한 그림만을 <보기>에서 고른 것은?

국내 금리의 변화는 일반적으로 원/달러 환율에 영향을 끼친다. 국내 금리가 상승하면 국내 소비와 투자가 줄어들어 ㉠ 상품의 수입이 감소하여 외환 시장에 변화가 나타난다. 또한 높아진 금리를 통해 이익을 얻으려는 ㉡ 해외 자본이 유입되어 외환 시장에 변화가 나타난다.



- | | | | | | |
|-----|---|-----|---|-----|---|
| ㉠ | ㉡ | ㉠ | ㉡ | ㉠ | ㉡ |
| ① ㉠ | ㉠ | ② ㉠ | ㉡ | ③ ㉠ | ㉡ |
| ④ ㉠ | ㉡ | ⑤ ㉡ | ㉠ | | |

69. 다음 자료에 대한 옳은 분석 및 추론만을 <보기>에서 고른 것은?



< 보 기 >

㉠. 갑국 화폐/달러 환율은 지속적으로 상승하였을 것이다.
 ㉡. 달러화 대비 을국 화폐 가치는 2018년이 2017년보다 하락하였을 것이다.
 ㉢. 을국에서 이자율 차이에 따른 달러화 유입량은 2018년이 2017년보다 증가하였을 것이다.
 ㉣. 갑국 화폐에 대한 을국 화폐의 상대적 가치는 2018년이 2017년보다 하락하였을 것이다.

- ① ㉠, ㉡ ② ㉠, ㉢ ③ ㉡, ㉣ ④ ㉡, ㉣ ⑤ ㉢, ㉣

19. 국제 수지의 이해

오늘날 세계 각국은 다른 나라와 여러 가지 형태의 국제 거래를 한다. 자동차나 스마트폰, 원유의 수출과 수입은 물론이고 노동, 자본과 같은 생산 요소의 이동도 활발히 일어난다. 이와 같이 일정 기간 한 나라의 거주자와 비거주자 사이에 이루어진 모든 경제적 거래에 따른 수취와 지불의 차이를 **국제 수지**라고 하며, 이를 일정한 원리에 따라 체계적으로 정리하여 기록한 표를 **국제 수지표**라고 한다.

국제 수지표는 한 국가의 대외 거래의 성결과 경제적 성과를 요약하여 보여 준다. 국제 수지표를 작성할 때는 국민 대신 거주자라는 용어를 사용하는데, 이는 사람들의 국적보다 경제 활동 중심지를 기준으로 국가의 대외 거래를 파악하는 것이 더 적절하기 때문이다. 외국인이라도 한국에서 주로 경제 활동을 하면서 외국과 거래를 하면 거주자로 보고, 우리나라 사람이라도 외국에서 1년 이상 살면서 경제 활동을 하면 비거주자로 간주한다.

외국에서 돈이 들어오는 거래는 수취라고 하며, 돈이 국내에서 해외로 흘러나가는 거래는 지불이라고 한다. 수출이나 외국인의 국내 투자, 외국으로부터 돈을 차입하거나 원조를 받는 것은 수취에 해당한다. 반대로 지불은 상품 수입이나 해외 투자할 때 또는 외국에 돈을 빌려줄 때 발생한다.

국제 수지는 한 국가의 경제 상황을 반영한다. 수출이 증가하고 국제 수지도 흑자가 지속되면 경제 상황이 좋아지고 있다고 판단할 수 있다. 반대로 수출이 감소하고 국제 수지 적자가 지속되면 경제가 침체 국면에 있다고 판단할 수 있다.

우리나라는 국제 통화 기금(IMF)이 정한 기준에 따라서 국제 수지표를 작성한다. 국제 수지표는 국제 거래를 거래의 성격이나 대상에 따라서 크게 경상 수지, 자본 수지, 금융 계정, 오차 및 누락으로 구분하여 기록한다. 국제 수지는 수취와 지불의 차이를 나타내는데 수취가 지불보다 많으면 흑자가 되고 반대로 수취보다 지불이 많으면 적자가 된다. 국제 거래에서는 여러 국가의 화폐를 사용하지만 국제 거래를 쉽게 파악하기 위해서 하나의 통화로 국제 수지표를 작성한다. 우리나라는 미국 달러화로 표시하여 작성한다.

경상 수지는 거주자와 비거주자 사이에 재화와 서비스, 소득의 흐름을 기록한 것으로, 상품 수지, 서비스 수지, 본원 소득 수지, 이전 소득 수지로 구성된다.

상품 수지는 자동차, 선박, 농산물, 석유와 같은 재화의 수출과 수입 거래를 기록한 것이다. 상품 수지는 경상 수지 중 가장 큰 비중을 차지한다.

서비스 수지는 운송, 여행, 건설, 통신, 보험, 금융과 같은 서비스 거래를 기록한 것으로 지식 재산권 사용료 등도 포함한다. 예를 들어 해외여행을 가서 외국에서 지출한 경비, 외국 영화나 공연을 수입한 대금은 지불에 해당하고, 외국 여행객이 우리나라에서 쓴 경비, 우리나라 영화나 드라마를 수출하고 받은 대금은 수취에 해당한다.

본원 소득 수지는 급여 및 임금과 투자 소득의 이동을 기록한 것이다. 우리나라 사람이 다른 나라에서 일하고 받는 임금 소득과 해외 직접 투자나 증권 투자와 같은 투자에서 발생하는 배당, 이자 등의 소득을 이 항목에 기록한다. 우리 국민의 해외 경제 활동이나 투자 활동에서 발생한 소득은 수취가 되

고, 반대로 외국인 노동자나 외국인 투자자에게 지급한 소득은 지불이 된다.

이전 소득 수지는 대가 없이 주고받는 외화의 수취와 지급 차이를 뜻한다. 구호를 위한 식량과 의약품의 무상 원조, 국제 기구 출연금 등이 이에 해당한다.

경상수지에서 가장 큰 비중을 차지하는 것은 상품수지와 서비스수지이다. 우리나라 상품과 서비스에 관한 외국인의 수요가 증가하면 수출이 늘어나고 반대로 우리 국민의 외국 상품과 서비스에 관한 수요가 증가하면 수입이 늘어난다. 따라서 경상 수지는 한 국가의 국제 경쟁력을 측정하는 주요 수단이다.

자본 수지는 자본 이전과 비생산, 비금융 자산의 취득 및 처분을 기록하는 항목이다. 자본 이전은 자산 소유권의 무상 이전, 채권자에 의한 채무 면제 등을 포괄한다. 비생산, 비금융 자산의 취득 및 처분에는 상표권, 영업권 등 무형 자산의 취득과 처분이 포함된다.

금융 계정에는 국가 간에 이동하는 투자 자금을 기록하는데 거주자의 입장에서 자산 또는 부채의 변동을 보여 준다. 우리나라 기업이 외국 기업을 인수하거나 외국에 기업을 직접 설립하는 것, 외국 기업이 우리나라 기업을 인수하거나 우리나라에 기업을 설립하는 것이 대표적인 사례이다. 우리나라 사람이나 기업이 외국 금융 시장에서 주식이나 채권을 매입하거나, 외국인이거나 기업이 우리나라의 주식이나 채권을 매입하는 것도 금융 계정에 속한다.

국제 거래에서 외국에 대한 지불보다 수취가 더 많으면 국제 수지가 흑자가 되고 반대로 지불이 수취보다 많으면 적자가 된다. 한 국가가 생산하는 재화나 서비스의 품질이 우수하거나 가격이 저렴하면 수출이 증가하여 경상 수지가 개선되는데 재화와 서비스의 수출은 경상 수지 항목에 기록된다. 따라서 경상 수지의 흑자는 한 국가의 수출 경쟁력이 강하다는 것과 경제가 호황이 될 가능성이 높다는 것을 의미한다.

경상 수지의 흑자는 국가 경쟁력이나 경기 호황이라는 측면에서는 좋지만, 외환의 유입으로 인플레이션이 발생할 위험이 있고 교역 상대국과 통상 마찰이 발생할 수 있다. 경기 침체에 직면한 경상 수지 적자국은 경상 수지 흑자국에 자국 상품의 수입을 요구하거나 흑자국으로부터 수입을 제한하여 무역 마찰이 발생할 가능성이 커진다. 따라서 장기적으로는 국제 수지의 균형을 유지하는 것이 바람직하다.

경상 수지는 경기 변동과 밀접한 관련이 있기 때문에 언론에서 이야기하는 국제 수지는 경상 수지를 의미할 때가 많다. 한국 기업이 생산한 재화와 서비스에 관한 외국인의 수요가 증가하면 수출이 늘어나고 국내 기업의 생산이 증가하여 고용과 소득이 증가한다. 반대로 외국 상품과 서비스에 관한 우리나라 국민의 수요가 증가하면 수입이 늘어나고, 그만큼 국내 생산물 수요가 줄어들어 기업의 생산 활동이 위축될 뿐만 아니라 고용과 소득 감소로 연결되어 경제가 침체할 수 있다.

한편 국제 수지 흑자는 대외 지불이나 투자에 필요한 외환 확보에는 긍정적이지만 국내 통화량이 증가하여 물가가 상승할 위험이 있다. 반면에 국제 수지 적자가 지속하면 보유한 외환이 줄어들어 외국 채무를 갚거나 상품 수입에 필요한 금액을 지불하는 데 어려움을 겪을 수 있다.

국제 수지와 환율은 밀접한 관련이 있다. 국제 수지가 흑자

가 되면 국내로 유입되는 외환이 많아지므로 외환 시장에서 외환 공급이 증가하여 환율이 하락하고, 국제 수지 적자가 발생하면 외환 수요가 증가하여 환율이 상승한다. 반대로 환율이 국제 수지에 영향을 미치기도 한다. 환율이 상승하면 수출이 증가하고 수입이 감소하여 경상 수지가 개선되고, 이 영향으로 국제 수지도 개선된다. 반대로 환율이 하락하면 국제 수지가 악화된다.

70. 표는 갑국의 2016년 경상 수지를 나타낸다. 이에 대한 분석으로 옳은 것은?

(단위: 억 달러)

경상 수지			
상품 수지	서비스 수지	본원 소득 수지	이전 소득 수지
120	-20	10	-35

- ① 재화의 수출액은 전년 대비 120억 달러 증가하였다.
- ② 해외 투자에 따른 배당금을 기록하는 항목은 적자이다.
- ③ 서비스 거래에 따른 외환 유출액이 유입액보다 많았다.
- ④ 해외에 제공한 공적 개발 원조액을 기록하는 항목은 흑자이다.
- ⑤ 경상 수지는 달러화 대비 갑국 통화 환율의 상승 요인이다.

71. 표는 갑국 국제 수지의 구성을 나타낸다. 이에 대한 분석으로 옳은 것은?

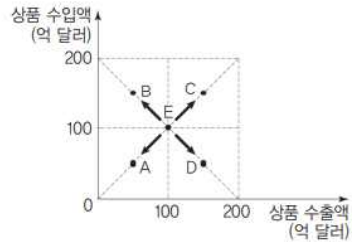
(단위: 억 달러)

구분	2016년	2017년
경상 수지	140	175
상품 수지	180	220
서비스 수지	-40	(나)
(가)	10	5
이전 소득 수지	-10	-20
자본 수지	3	-2
㉠ 금융 계정(준비 자산 제외)	-130	-140

- ① (가)에는 갑국 국내 기업에 투자한 외국 거주자에게 지급되는 배당금이 포함된다.
- ② (나)는 30이다.
- ③ 갑국이 외국에 무상으로 제공하는 구호물자가 포함되는 항목은 2016년, 2017년 모두 수취액보다 지급액이 적다.
- ④ ㉠의 2016~2017년 변동은 달러화 대비 갑국 통화 가치의 상승 요인이다.
- ⑤ 갑국 국내 기업에 대한 외국 거주자의 직접 투자가 포함되는 항목은 흑자에서 적자로 전환하였다.

72. 다음 자료의 A ~ D는 갑국의 상품 수출액과 수입액 변화 가능성을 나타낸다. 이에 따라 예상되는 갑국의 경제 상황으로 가장 적절한 것은?

현재 갑국의 상품 수출액과 수입액은 그림에서 E로 표시되어 있고 그 점에서 경상 수지는 0이다. 단, 갑국의 서비스 수지, 본원 소득 수지, 이전 소득 수지는 각각 일정하며 자본 수지와 금융 계정은 고려하지 않는다.



- ① A로 이동하면 상품 수지는 흑자가 될 것이다.
- ② B로 이동하면 외환 유입액이 유출액보다 많아질 것이다.
- ③ C로 이동하면 상품 수지는 개선될 것이다.
- ④ D로 이동하면 경상 수지는 흑자가 될 것이다.
- ⑤ A 또는 B로 이동하면 두 경우 모두 경상 수지는 적자가 될 것이다.

73. 그림은 갑국의 경상 수지에 대한 신문 기사이다. 밑줄 친 ㉠ ~ ㉢에 대한 옳은 설명만을 <보기>에서 고른 것은?

□□신문 2020년 ○○월 ○○일

작년 갑국의 ㉠ 경상 수지가 104억 달러 흑자로 기록되었다. 그러나 전년에 비해 ㉡ 서비스 수지 적자 폭이 커진 것에 대한 우려는 물론, 전년보다 증가한 ㉢ 상품 수지 흑자도 수출과 수입이 줄어 발생한 ㉣ 불황형 흑자라는 지적이 나오고 있다.

< 보 기 >

- ㉠. ㉠은 갑국의 통화량 감소 요인이다.
- ㉡. ㉡에는 갑국 국민이 해외여행에서 사용한 경비가 포함된다.
- ㉢. ㉢에는 갑국이 외국에 무상으로 제공하는 구호물자가 포함된다.
- ㉣. ㉣은 갑국에서 상품의 수출보다 수입이 더 크게 줄어 나타난 것이다

- ① ㉠, ㉡ ② ㉠, ㉢ ③ ㉡, ㉣ ④ ㉡, ㉣ ⑤ ㉢, ㉣

20. 금융과 신용 관리

금융 거래가 원활하게 이루어지려면 관련 제도가 뒷받침되어야 한다. 우선 금융 거래의 매개 역할을 하는 금융 기관과 금융 시장이 형성되어야 하며, 금융 시장의 기능이 제대로 작용하도록 돕는 제도와 법 등이 필요하다. 예를 들어 금융 기관에 돈을 맡긴 사람이 손해를 입었을 때 이를 보상해 줌으로써 금융 거래에 따른 위험을 해소하거나 금융 거래 정보를 처리해 주는 공적인 조직이 필요하다. 이처럼 금융 시장을 중심으로 거래 당사자와 다양한 유관 기관, 정책과 규제를 담당하는 기관을 모두 포함하는 총체적인 체계를 **금융 제도**라고 한다.

한편 금융에서 가장 핵심적인 수단은 **화폐**이다. 화폐는 교환과 지불 수단이며 모든 경제적 가치를 나타내고 측정하는 가치의 척도이다. 또 가치를 저장하는 수단이기도 하다. 화폐는 국가가 사회 내에서 통용되도록 정한 법정 화폐, 즉 중앙은행이 발행한 것을 의미한다. 은행에서 발행하는 수표와 같이 화폐의 기능을 담당하는 다른 수단도 넓은 의미의 화폐에 포함하기도 한다.

개인의 경제 활동은 주로 돈을 벌거나 쓰는 일과 관련이 있다. 일정 기간 개인이나 가계에 들어오는 총금액을 **수입**이라 하며, 외부로 나가는 총금액을 **지출**이라고 한다. 지출은 수입의 범위 내에서 이루어지는 것이 바람직하다.

수입에서 지출을 뺀 잔액은 **저축**이 되는데 이렇게 저축한 자금을 금융 자산이나 실물 자산으로 전환하여 미래에 수익을 기대하면서 운용하는 것을 **투자**라고 한다. 투자 성과가 좋으면 자산은 계속 증가한다.

하지만 자금이 부족하여 자금을 빌려야 할 때가 있다. 자금의 차입은 가계나 기업이 금융을 이용하는 중요한 이유 중 하나인데 금융 기관 등으로부터 빌릴 수 있는 자금의 크기와 이를 충분히 갚을 의지와 능력을 **신용**이라고 한다.

금융 거래는 금융 소비자와 금융 기관의 계약을 통해 이루어진다. 이때 금융 소비자는 계약서의 **약관**을 잘 읽고 자신에게 불이익이 될 만한 사항은 없는지 주요 내용을 사전에 확인해야 한다.

한편 예금자를 보호하기 위해 예금자 보호 제도가 있다. **예금자 보호 제도**란 금융 기관의 부실로 예금을 되찾지 못하게 될 때 1인당 원금과 이자를 합하여 최고 5천만원까지 예금 보험 공사에서 대신 지급해 주는 제도이다.

금융 기관이 허위 또는 과장 광고를 하거나 잘못된 정보를 제공하여 금융 소비자에게 손해가 발생하면 금융 소비자는 **금융 감독 기관**에 민원이나 분쟁 조정을 신청함으로써 피해 구제를 받을 수 있다. 특히 최근에는 전자 수단을 활용한 금융 거래가 활발해지면서 피싱과 같은 금융 사기 피해가 퍼지고 있다. 이러한 피해를 막기 위해서는 스스로 금융 지식을 갖추고 계획적인 금융 습관을 길러야 한다.

사람들이 생활하기 위해서는 수입이 필요하다. **수입**이란 소득과 부채의 합으로 일정 기간 개인이나 가계에 들어온 총금액을 말한다. 수입의 가장 중요한 원천인 소득은 규칙적이고 반복적으로 발생하는 **경상 소득**과 불규칙적으로 발생하는 **비경상 소득**으로 구분된다. 경상 소득에는 근로 소득, 사업 소득, 재산 소득, 이전 소득이 있으며, 비경상 소득에는 경조금, 퇴직금, 연금 일시금 등이 포함된다.

근로 소득은 사업체에 고용되어 근로를 제공한 대가로 얻는 소득이며, 사업 소득은 자영업자나 고용주의 지위에서 사업의 성과로 얻는 소득을 말한다. 재산 소득은 개인이 가진 재산으로부터 발생하는 소득이다. 예금이나 채권 보유에서 발생하는 이자 소득, 주식 보유에서 발생하는 배당 소득, 건물이나 토지의 임대에서 발생하는 임대 소득 등이 재산 소득에 해당한다. 한편 이전 소득은 경제 활동에 참여하지 않고 정부나 개인 등으로부터 받는 소득이다.

사람들의 경제생활에서 수입은 지출로 이어진다. 지출은 일정 기간 개인이나 가계로부터 나가는 총금액을 말하며, 크게 소비 지출과 비소비 지출로 나뉜다.

소비 지출은 주로 개인의 생활에 필요한 재화와 서비스를 구입하면서 발생하는 비용이며 **비소비 지출**은 소비 지출 이외의 모든 지출을 말한다. 사회 제도에 따라 의무적으로 부담해야 하는 세금, 건강 보험료, 연금 보험료, 이자 또는 수수료와 같은 금융 비용 등이 비소비 지출에 포함된다.

부채는 약속한 기간 안에 갚아야 하는데 이를 위해서는 보유한 돈을 사용하거나 다른 자산을 처분해야 한다. 일반적으로 부채는 부정적인 것으로 인식되지만 필요한 소비나 투자를 하기 위한 돈이 부족할 때 부채를 이용하면 도움이 된다. 부채를 이용할 때는 그로부터 얻는 편익과 부채 상황에 따른 비용이나 부담을 충분히 고려하여 얼마의 금액을 어떤 조건으로 이용할 것인지 신중하고 현명하게 판단해야 한다. 과도한 부채는 개인이나 가계의 경제생활에 큰 위험을 초래할 수 있다.

어떤 사람의 말이나 행동을 믿을 수 있을 때 그 사람은 신용이 높다고 한다. 금융 거래에서도 거래 당사자, 특히 자금을 빌리는 사람의 신용이 매우 중요하다. 금융 거래에서 **신용**이란 부채로 빌릴 수 있는 자금의 크기와 또 빌린 자금을 약속한 대로 잘 갚을 수 있는 의지와 능력을 말한다. 따라서 개인은 감당할 수 있는 범위 내에서 자금을 빌리고 약속한 기간 안에 부채를 갚아야 한다.

개인의 경제 활동을 바탕으로 쌓인 신용 정보는 그 사람의 신용도를 결정하는 데 이용된다. 따라서 평소에 올바른 금융 거래로 자신의 신용을 관리할 필요가 있다. 올바른 신용 관리를 위해서는 첫째, 연체를 하지 말아야 한다. 연체가 되면 개인의 신용도가 하락할 뿐만 아니라 과도한 원리금 상환 부담으로 정상적인 경제생활을 하기 어렵게 된다. 그러므로 개인이 갚을 수 있는 능력을 초과하는 과도한 부채를 지지 않도록 주의해야 한다.

둘째, 현금 서비스와 같이 단기간 이용하는 부채가 자주 발생하지 않도록 해야 한다. 단기 대출은 이자 비용이 매우 높은 편인데 이런 자금을 이용한다는 것은 그만큼 자금 사정이 좋지 않다는 것이고 실제로도 갚지 못할 가능성이 크다.

셋째, 좋은 신용 기록을 쌓는다. 이를 위해서는 부족한 자금을 미리 파악하고 상환 기간과 비용을 고려하여 계획된 신용 생활을 해야 한다. 또한 일상생활에서 공과금이나 카드 대금 등을 제때 내야 신용을 높이는 데 유리하다. 은행 계좌 등에서 자동 이체가 되도록 하는 것도 납부 기일을 지키는 방법이다.

넷째, 여러 금융 기관과 거래하기보다 자주 거래하는 금융 기관을 정하여 우량 거래 기록을 꾸준히 쌓는 것이 유리하다.

그 외에도 개인 정보가 변경되었을 때는 거래 금융 기관에 즉시 알려야 금융 기관으로부터 필요한 연락을 받지 못하여

생기는 불이익을 예방할 수 있다.

개인이 과도한 채무로 금융 채무 불이행자가 되거나 파산하게 되면 경제 활동에서 여러 가지 불이익이 생긴다. 이들을 지원하기 위해 채무자가 일정한 조건을 갖추면 채무를 갚고 경제적으로 다시 활동할 수 있도록 지원하는 제도가 있다.

신용 회복을 위한 지원 제도에는 신용 회복 위원회를 통한 프리 워크아웃과 개인 워크아웃이 있다. **프리 워크아웃**은 신용 카드 대금이나 대출 원리금의 상환 부담이 과중하고 아직 90일을 넘지 않은 단기 연체자가 이용하는 방법으로 이자율 인하, 상환 기간 연장 등을 지원하는 제도이다. **개인 워크아웃**은 90일 이상 연체되었지만 최저 생계비 이상의 수입이 있다면 채무 감면, 상환 기간 연장 등을 통해 안정적인 채무 상환을 지원해 주는 제도이다.

법원을 통해 개인 회생과 개인 파산을 신청할 수도 있다. 개인 회생은 개인이 빚을 갚을 능력이 없거나 그러한 상태가 발생할 우려가 있을 때 장래에 최대 5년까지 일정한 금액을 갚으면 나머지 빚을 법원이 모두 면책해 주는 제도이다. 개인 파산은 채무자가 스스로 법원에 파산 신청을 하면 채무자의 신용 및 근로 능력, 빚을 갚지 못하게 된 원인, 숨겨 둔 재산의 유무 등을 종합하여 파산 선고 여부를 결정하는 제도이다. 파산 선고 후 채무자는 채무와 관련한 구제를 받을 수 있지만 법률적으로나 사회적으로 권리 행사나 경제 활동에 일정한 제약 받게 된다.

74. (가), (나)에 대한 옳은 설명을 <보기>에서 고른 것은? (단, (가)와 (나)는 각각 직접 금융 시장과 간접 금융 시장 중 하나이다.)

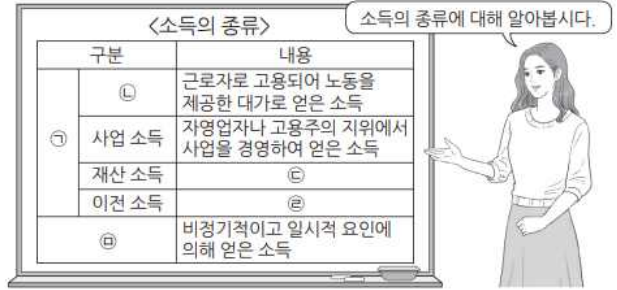


< 보 기 >

ㄱ. (가)에서는 자금 공급자가 자신의 예금이 어느 수요자에게 대출되었는지 알 수 있다.
 ㄴ. (나)에서는 주식, 채권 등이 거래된다.
 ㄷ. (나)에서 공급되는 자금에는 (가)와 달리 예금자 보호 제도가 적용된다.
 ㄹ. (나)에서는 (가)에 비해 일반적으로 자금 공급자가 기대할 수 있는 수익률이 높다.

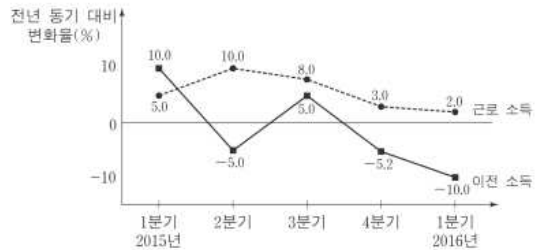
- ① ㄱ, ㄴ ② ㄱ, ㄷ ③ ㄴ, ㄷ ④ ㄴ, ㄹ ⑤ ㄷ, ㄹ

75. 그림은 교사의 수업 장면이다. ㉠ ~ ㉣에 대한 설명으로 옳지 않은 것은?



- ① ㉠은 비교적 정기적이고 예측 가능한 형태로 발생하는 소득이다.
 ② ㉡에는 '경상 소득'이 들어갈 수 있다.
 ③ ㉢에는 '금융 자산, 토지, 건물 등과 같은 재산을 이용하여 얻은 소득'이 들어갈 수 있다.
 ④ ㉣에는 '생산에 직접 참여하지 않고 무상으로 얻은 소득'이 들어갈 수 있다.
 ⑤ ㉣의 예로 퇴직금을 들 수 있다.

76. 그림은 갑국 전체 가구의 근로 소득과 이전 소득의 전년 동기 대비 변화율의 추이를 나타낸 것이다. 이에 대한 옳은 분석을 <보기>에서 고른 것은?



* 2015년 1분기 근로 소득의 전년 동기 대비 변화율(%)

$$= \frac{2015년 1분기 근로 소득 - 2014년 1분기 근로 소득}{2014년 1분기 근로 소득} \times 100$$

< 보 기 >

ㄱ. 2015년 3분기의 근로 소득은 2015년 2분기의 근로 소득보다 많다.
 ㄴ. 2014년 1분기 대비 2016년 1분기의 근로 소득 증가율은 5%보다 크다.
 ㄷ. 2015년 매 분기의 이전 소득이 동일하다면 2014년에 이전 소득이 가장 많았던 분기는 1분기이다.
 ㄹ. 2016년 1분기의 이전 소득은 2014년 1분기의 이전 소득보다 적다.

- ① ㄱ, ㄴ ② ㄱ, ㄷ ③ ㄴ, ㄷ ④ ㄴ, ㄹ ⑤ ㄷ, ㄹ

21. 자산 관리와 금융 상품

사람들은 경제적 편익을 얻기 위해 다양한 형태의 자산을 보유한다. 즉 효용을 극대화하는 재화나 서비스를 선택하는 것처럼 자신의 목적과 필요에 따라 가장 적절한 자산을 선택한다.

자산은 크게 금융 자산과 실물 자산으로 나뉜다. 현금이나 예금, 주식과 채권 등은 **금융 자산**이며, 예술품이나 자동차와 같은 동산 그리고 주택이나 토지와 같은 부동산은 **실물 자산**에 속한다.

자산은 현금과 현금 이외의 자산으로 구분할 수도 있다. 현금은 언제든지 바로 쓸 수 있는 편리성이 있지만 현금 이외의 자산은 현금으로 전환해야 사용할 수 있다. 그런데도 현금 이외의 자산을 선택하여 보유하는 까닭은 무엇일까? 현금을 그대로 가지고 있으면 아무 수익이 없지만 예를 들어 예금은 일정한 기간 맡겨 두면 이자 수익을 받을 수 있고, 주택은 주거라는 직접적인 편익을 얻을 수 있기 때문이다.

이처럼 자산은 개인이 어떤 목적을 이루거나 필요를 충족하는 데 중요한 수단이 되므로 개인의 목적과 필요에 따라 적절하게 자산을 선별하여 보유하는 것이 중요하다.

자신의 투자 목적에 맞는 자산을 선택하기 위해서는 자산의 특성을 파악해야 한다. 자산이 갖는 특성은 다음과 같이 구분할 수 있다.

우선 **안전성**이란 어떤 자산의 가치가 온전하게 보전될 수 있느냐 하는 가능성을 나타낸다. 예를 들어 은행 예금과 같이 만기가 되어 원금과 약속된 이자를 받을 수 있으면 안전성이 높은 자산이라 할 수 있으나 주식과 같이 가치가 크게 떨어져 손실을 볼 가능성이 있다면 안전성이 낮다고 볼 수 있다. 안전성 대신에 위험성으로 표현되기도 하는데 이 둘은 상반되는 개념이다.

수익성이란 어떤 자산으로부터 얼마나 큰 수익이 창출되며 미래에 그 자산의 가치가 얼마나 크게 상승할 수 있느냐 하는 가능성을 의미한다. 은행 예금과 주식의 수익성을 비교해 보면 주식의 수익성이 평균적으로 더 높은 편이다.

유동성이란 어떤 자산이 빠르고 쉽게 현금으로 전환할 수 있느냐 하는 정도를 말한다. 일반적으로 자금 거래 기간이 짧을수록 자산을 거래하는 유통 시장이 잘 발달되어 있을수록 유동성은 커진다.

이 밖의 특성으로 **보장성**이 있다. 미래의 불확실한 위험에 대비하여 보장 또는 보호의 편익을 제공해 주는 것으로 주로 보험 상품이 가진 특성이다.

어떤 자산이 안전성과 동시에 수익성도 높으면 누구나 그 자산을 선택하고자 할 것이다. 하지만 일반적으로 수익성이 높으면 손실 위험도 높아지므로 안전성은 낮아진다. 이처럼 안전성과 수익성이라는 자산의 두 특성은 서로 반비례 관계여서 자산을 선택하기란 쉽지 않다.

자산 관리를 할 때는 자산을 보유하는 목적이나 투자 성향에 따라 이를 가장 효율적으로 달성할 수 있는 **포트폴리오**를 선택하는 것이 중요하다. 즉 개별 자산이 갖는 특성을 충분히 고려하여 개인의 만족을 극대화할 수 있는 최적의 포트폴리오를 선택하는 것이다. 예를 들어 자산의 수익성만을 고려한다면 자신이 감수할 수 있는 위험의 범위 내에서 가장 수익성이 큰

투자 포트폴리오를 찾는 과정이 필요하다. 어떤 한 가지 자산만 선택한 것보다 두 가지 이상의 자산으로 구성된 포트폴리오가 더 안전성이 커질 수 있는데 이를 **분산 투자의 원리**라고 한다. 흔히 ‘달걀을 한 바구니에 담지 말라.’라는 표현은 분산 투자의 원리를 의미한다. 자금을 하나의 자산에 치우치지 않고 여러 자산에 고르게 분산 투자함으로써 원금을 잃어버릴 위험을 줄여야 한다는 점을 강조한다.

자산 관리를 위해 개인이 은행이나 기타 예금 취급 기관에 돈을 맡기는 것을 예금이라고 한다. 예금은 크게 요구불 예금과 저축성 예금으로 구분한다.

요구불 예금은 거래를 목적으로 수시로 입출금을 할 수 있으면서 자동 이체와 같은 결제 기능이 있다. 예금자가 필요할 때 바로 쓸 수 있어 유동성과 편리성이 있는 대신 이자 수익은 낮은 편이다.

저축성 예금은 입출금이 자유롭지 않지만 일정 기간 맡겨 두면 약속된 금액을 돌려받는 투자 목적의 예금이다. 일정 금액을 계약 기간 맡겨 두었다가 만기가 되면 원리금을 돌려받는 정기 예금과 일정 기간 일정 금액을 납입하여 원리금을 받는 정기 적금이 있다. 계약한 기간이 길수록 더 높은 이자율을 적용받을 수 있어 꾸준히 저축하면 목돈을 만들기에 적합하다.

사람들은 미래에 높은 수익을 기대하며 여러 가지 금융 상품에 투자한다. 대표적인 금융 투자 상품으로 주식, 채권, 펀드가 있다.

주식은 어떤 기업의 소유 지분을 받는 대가로 자금을 투자한 사람에게 발행되는 증서이다. 주식에 투자한 사람, 즉 주주는 매년 기업의 이익에 따라 배당금을 받는다. 또한 투자한 기업이 많은 이익을 창출하면 보유하고 있는 주식의 가치도 상승하여 주식을 팔아 시세 차익을 거둘 수 있다. 하지만 기업의 이익이 나지 않으면 원금을 손실할 가능성이 있다.

채권은 기업뿐 아니라 국가나 지방 자치 단체, 공공 기관 등이 미래에 일정한 이자를 지급할 것을 약속하고 자금을 빌리면서 발행하는 증서이다. 채권은 사업 실적과 관계없이 약정된 이자를 받으므로 주식보다 가치의 변동성이 작은 편이다. 또한 채권도 싸게 사서 비싸게 팔면 시세 차익을 거둘 수 있다.

펀드는 자산 운용을 전문으로 하는 금융 기관이 여러 사람으로부터 자금을 모아 주식, 채권 등에 투자하여 운용하고 그 결과에 따라 수익을 돌려주는 간접 투자 상품이다. 전문 금융 기관이 운용하더라도 손실이 발생할 수 있고 그 책임은 개인이 부담해야 하므로 펀드를 선택할 때는 그 위험성을 고려해야 한다.

사람들은 일상생활에서 다양한 사고와 재난을 겪을 수 있는데 이러한 위험에 대비하기 위한 금융 상품이 **보험**이다. 보험 계약을 체결하면 개인은 보험 회사에 보험료를 내고 보험 회사 사고가 발생했을 때 개인에게 보험금을 지급한다.

보험은 크게 민영 보험과 사회 보험으로 구분된다. 민영 보험은 개인이 필요에 따라 임의로 가입할 수 있는 보험으로 사람의 생존이나 사망과 관련한 위험을 보장하는 **생명 보험**, 사고에 따른 재산상 손해의 위험을 보장하는 **손해 보험**, 사람의 질병이나 상해에 따른 위험을 보장하는 **제3보험**이 있다. 개인이 사망 또는 장애 시 보상을 받는 보험 상품은 생명 보험에 속하며, 화재 보험이나 자동차 보험 등과 같이 재산상 손해에 대비한 보험 상품은 손해 보험에 속한다.

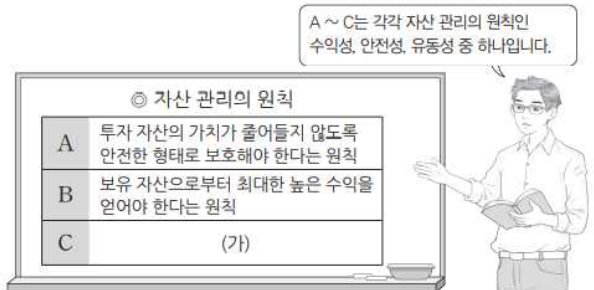
사회 보험은 법규에 따라 모든 국민을 대상으로 하는 의무적인 보험으로 **국민 건강 보험, 국민연금, 고용 보험, 산업 재해 보상 보험, 노인 장기 요양 보험** 등이 있다. 민영 보험은 주로 민간 보험 회사가 운영하지만 사회 보험은 국가에 의해 운영된다.

오늘날에는 사람들의 평균 수명이 늘어나면서 은퇴 이후에 관한 대비가 매우 중요해졌다. 은퇴 이전과 이후의 가장 큰 차이는 지속하던 소득이 중단되거나 감소한다는 것이다. 하지만 은퇴 이후에도 사람들은 계속 생활 자금이 필요하므로 이 시기에 쓸 안정적인 소득을 확보해 두는 것이 필요하다.

연금은 노후 생활을 대비하여 미리 저축해 두는 금융 상품으로 은퇴 이후 일정한 기간 지속해서 일정 금액을 지급해 준다. 더는 다른 소득이 발생하지 않더라도 매월 연금이 지급된다면 노후 생활은 훨씬 안정적이고 편안해질 것이다.

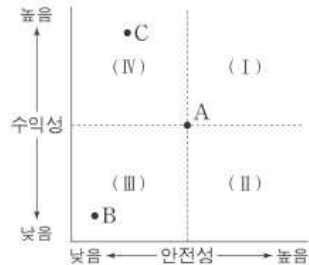
사회적으로도 노후를 대비하는 연금에 관심이 증가하여 국민의 기본적인 생활 보장을 위해 모든 근로자에게 **국민연금**을 사회 보험으로 의무화하고 있다. 여기에 기업에서 보장하는 **퇴직 연금**과 개인이 스스로 결정하여 가입하는 **개인 연금**을 더하여 보다 여유로운 노후 생활을 대비할 수 있다. 국민연금은 사회 보험의 형태로 운영되지만 퇴직 연금과 개인연금은 개인적으로 여러 금융 기관에서 신탁, 펀드, 보험 등 다양한 금융 상품으로 가입할 수 있다.

77. 그림은 교사의 수업 장면이다. 이에 대한 설명으로 가장 적절한 것은?



- ① 일반적으로 주식은 채권에 비해 A가 높다.
- ② 일반적으로 요구불 예금은 저축성 예금에 비해 B가 높다.
- ③ 예금자 보호 제도는 C를 높이는 수단이 된다.
- ④ 고위험을 감수하더라도 고수익을 추구하는 투자자는 B보다 A가 높은 금융 상품을 선호할 것이다.
- ⑤ (가)에는 '보유 자산을 쉽게 현금으로 바꿀 수 있어야 한다'는 원칙이 들어갈 수 있다.

78. 그림은 금융 상품의 안전성과 수익성을 점 A를 기준으로 나타낸다. 이에 대한 적절한 설명을 <보기>에서 고른 것은? (단, 금융 상품의 특성은 안전성과 수익성을 의미한다.)



*영역 (I)~(IV)는 경계를 포함하지 않는다.

- < 보기 >
- ㄱ. A가 주식의 일반적 특성이면 국공채의 일반적 특성은 영역 (I)에 속한다.
 - ㄴ. A가 주식형 펀드의 일반적 특성이면 예금의 일반적 특성은 영역 (II)에 속한다.
 - ㄷ. A는 B보다 안전성과 수익성의 수준이 높다.
 - ㄹ. A 대신 C를 선호한다면 수익성보다 안전성을 추구하기 때문이다.

- ① ㄱ, ㄴ ② ㄱ, ㄷ ③ ㄴ, ㄷ ④ ㄴ, ㄹ ⑤ ㄷ, ㄹ

79. 다음 자료에 대한 옳은 설명을 <보기>에서 고른 것은?

표는 원금이 100만 원인 경우 6년 만기 정기 예금 상품 A, B의 예금 기간에 따른 원리금을 나타낸다. 단, 이자는 매년 발생한다.

예금 기간(년)	0	1	2	3	4	5	6
A의 원리금(만 원)	100	110	120	130	140	150	160
B의 원리금(만 원)	100	105	110	115	135	155	175

* 원리금 = 원금 + 이자 총액
 ** 이자 총액 : 예금 기간 동안 발생한 이자의 누적 합계

- < 보기 >
- ㄱ. A가 단리 예금 상품이라면 연 이자율은 10%이다.
 - ㄴ. B는 연 이자율이 5%인 복리 예금 상품이다.
 - ㄷ. 4년 이후 매년 발생하는 B의 이자는 A의 이자보다 크다.
 - ㄹ. 만기 시점에 이자 총액은 A가 B보다 크다.

- ① ㄱ, ㄴ ② ㄱ, ㄷ ③ ㄴ, ㄷ ④ ㄴ, ㄹ ⑤ ㄷ, ㄹ

2023학년도 수능 대비 모의고사 주요 문항 정답

1	①	2	①	3	②	4	③	5	①
6	⑤	7	①	8	③	9	③	10	①
11	④	12	④	13	③	14	⑤	15	④
16	④	17	②	18	④	19	③	20	③
21	⑤	22	⑤	23	④	24	①	25	②
26	⑤	27	⑤	28	②	29	②	30	⑤
31	④	32	④	33	③	34	①	35	③
36	④	37	③	38	②	39	④	40	③
41	①	42	①	43	⑤	44	②	45	③
46	②	47	③	48	④	49	⑤	50	②
51	①	52	④	53	⑤	54	②	55	③
56	④	57	④	58	③	59	④	60	③
61	⑤	62	①	63	③	64	④	65	②
66	③	67	②	68	③	69	④	70	③
71	①	72	④	73	④	74	④	75	②
76	④	77	⑤	78	③	79	②		

※ 시험이 시작되기 전까지 표지를 넘기지 마시오.

제 1 교시

2015학년도 교육과정 탐구영역 배경지식

국어 영역 (사회 문화)

성명

수험 번호

- 문제지의 해당란에 성명과 수험번호를 정확히 쓰시오.
- 답안지의 필적 확인란에 다음의 문구를 정자로 기재하시오.

**적어도 이 사실에만큼은 우리 의견이 일치하리라
믿습니다. 과거는 지나갔다는 사실 말입니다.**

- 답안지의 해당란에 성명과 수험번호를 쓰고, 또 수험번호와 답을 정확히 표시하시오.
- 문항에 따라 배점이 다르니, 각 물음의 끝에 표시된 배점을 참고하시오.
배점은 2점 또는 3점입니다.

※ 시험이 시작되기 전까지 표지를 넘기지 마시오.

제1 교시

국어 영역

1. 사회·문화 현상의 이해

일상생활 속에는 다양한 자연 현상과 사회·문화 현상이 공존한다. 예컨대 우리는 집을 나서기 전에 날씨를 살펴본 후, 비가 내리면 우산을 챙기고 기온이 낮으면 따뜻한 옷을 껴입는다. 여기서 비가 내리거나 기온이 낮아지는 등과 같이 인간의 의지와 상관없이 자연적으로 발생하는 현상을 **자연 현상**이라고 한다. 반면 집을 나서기 전에 날씨를 살펴보고 우산을 챙기거나 따뜻한 옷을 껴입는 행위처럼 인간의 의지와 행동에 따라 나타나는 현상을 **사회·문화 현상**이라고 한다.

이러한 자연 현상과 사회·문화 현상은 별개로 존재하는 것이 아니라 서로 밀접하게 관련되어 있어서 자연 현상이 사회·문화 현상에 영향을 주기도 하고, 반대로 사회·문화 현상이 자연 현상에 영향을 주기도 한다.

물이 위에서 아래로 흐르고 계절에 따라 날씨가 바뀌듯이 자연 현상은 인간의 의지나 가치 판단과 무관하게 존재하므로 불가치적이다. 하지만 사회·문화 현상은 인간의 의도와 가치가 내포되어 있어 **가치 함축적**이고, 자연 현상과는 달리 “마땅히 그러해야 한다.”라는 당위적인 규범도 작용한다. 예컨대 우리가 옷어른에게 높임말을 하거나 병든 부모를 돌보는 행위 등은 인간의 의도가 담긴 가치 함축적인 현상이며 마땅히 따라야 한다고 여기는 당위적인 규범이다.

수소와 산소가 결합하면 물이 되는 현상처럼, 자연 현상은 같은 조건에 따른 결과가 언제, 어디에서나 똑같이 나타난다. 이러한 점에서 자연 현상은 보편성을 지닌다. 반면 사회·문화 현상은 보편성과 함께 특수성을 지닌다. 예컨대 세계 각 지역의 사람들이 가족을 이루고 살아간다는 점에서 **보편성**이 있지만, 지역마다 각기 다른 가족 제도와 결혼 제도가 있다는 점에서 **특수성**을 띤다.

한편 일반적으로 지능이 높으면 학업 성취도가 높지만 그렇지 않은 예외가 있듯이, 사회·문화 현상은 자연 현상과 달리 같은 조건에서 다른 결과가 나타나기도 한다. 다시 말해, 일정한 조건 아래에서 어떤 결과가 발생할 가능성이 확률적으로 높을 뿐이고, 그 인과 관계가 필연적인 것은 아니다. 이처럼 사회·문화 현상은 **개연성과 확률의 원리**가 작용하는데, 이는 사회·문화 현상이 인간의 의지와 판단에 따라 나타나기 때문이다.

복합적인 특성이 있는 사회·문화 현상을 탐구하는 것은 어려운 일이지만, 이를 탐구하려는 노력은 오래전부터 있었다. 고대 중국의 공자와 맹자, 고대 그리스의 플라톤과 아리스토텔레스의 탐구가 그 예이다. 근대에 이르러서는 자연 과학이 발달하면서 사회·문화 현상에 관한 과학적 탐구가 이루어져 사회 과학이 성립하고 발전하게 되었다. 또한 사회 구조가 더욱 분화되고 사회·문화 현상이 복잡해지면서 사회 과학은 정치학, 경제학, 사회학, 문화 인류학 등으로 분화되어 더욱 체계적이고 과학적인 연구가 이루어졌다.

현대 사회에 접어들면서 사회 과학은 더욱 세분화되었다. 예를 들어 사회학은 도시 사회학, 농촌 사회학, 노인 사회학 등으로 분화되어 특정 현상을 더욱 세밀하고 심층적으로 연구하는 경향이 나타나고 있다.

하지만 실제 사회·문화 현상은 다양한 분야가 상호 밀접한 관계를 맺고 있어 개별 학문을 연구하는 것만으로는 사회·문화 현상을 제대로 이해하기 어렵다. 이에 따라 사회·문화 현상을 총체적으로 이해하기 위해 개별 학문의 연구 성과를 종합하는 **간학문적 탐구**가 이루어지고 있다.

사회·문화 현상을 보는 소관점은 크게 거시적 관점과 미시적 관점으로 나뉜다. 거시적 관점은 사회 제도나 구조 등에 초점을 두는 반면, 미시적 관점은 개인 간의 상호 작용과 인간의 행위에 담긴 의미 등에 초점을 둔다.

거시적 관점과 미시적 관점은 흔히 숲과 나무를 관찰하는 태도에 비유하는데, 거시적 관점이 전체적인 숲의 규모나 산의 높이 등을 중시하는 관점이라면, 미시적 관점은 숲에 어떤 나무가 자라고 그 나무의 생김새가 어떤지를 중시하는 관점이라고 할 수 있다.

기능론은 사회를 하나의 살아 있는 유기체와 같다고 본다. 즉 인간의 몸을 이루고 있는 여러 장기가 각각 고유한 기능을 하면서 서로 연관되어 전체로서의 몸을 이루고 있는 것처럼, 사회도 다양한 부분들이 사회 전체의 존속과 통합을 위해 맡은 기능을 수행하며 상호 연관되어 있다고 보는 것이다. 예를 들면 경제 영역은 사람들이 살아가고 사회가 유지되는 데 필요한 재화와 서비스의 생산·유통·분배와 관련된 기능을 하면서 동시에 정치나 법의 영역이 수행하는 기능과 긴밀히 연관되어 있다. 또한 기능론에서는 사회 각 부분의 기능과 역할이 사회 전체적으로 합의된 것이라고 본다.

이러한 관점에 따르면, 유기체의 각 부분이 각자의 기능을 하며 유기체의 생명을 유지하듯이 사회도 각 부분이 제 기능을 온전히 수행함으로써 **조화와 균형**을 이루며, 이를 통해 안정과 질서 상태를 유지할 수 있다고 본다. 그러므로 사회 문제나 갈등이 나타나는 것은 사회 구성 요소가 제 기능을 제대로 수행하지 못해 발생하는 병리적인 현상이며, 다시 제 기능을 수행할 수 있도록 부분적인 치료와 개선을 하면 사회는 유기체와 같은 복원력이 있어 다시 정상적인 조화와 균형을 되찾는다고 본다.

이러한 기능론은 사회 질서와 조화를 설명하는 데 유용하지만, 사회 안정과 합의를 지나치게 강조하고 기득권층의 이익을 대변하는 논리로 이용될 우려가 있다는 비판을 받기도 한다.

갈등론은 사회가 사회적 회소가치를 둘러싼 사회 구성원 간의 갈등과 대립의장이라고 본다. 사회적 회소가치를 획득한 **지배 집단**은 부와 권력을 이용하여 기존의 지배 관계를 유지하려고 하지만, **피지배 집단**은 이에 도전하므로 갈등과 대립은 항상 존재할 수밖에 없다는 것이다. 이처럼 갈등론에서는 갈등을 비정상적인 현상이 아니라 사회의 본질적인 속성으로 보며, 오히려 사회 변화와 사회 발전의 원동력이 된다고 본다.

이러한 관점에 따르면 사회 통합은 구성원의 합의에 따른 것이 아니라 지배 집단이 자신들의 기득권을 유지하기 위해 피지배 집단을 억압하는 가운데 강제적으로 이루어진 것이다. 또한 사회 각 부분의 기능과 역할도 지배 집단이 정당한 것으로 규정하거나 강제와 억압을 통해 기정사실로 된 것이며, 불평등을 재생산하는 도구에 불과하다고 본다.

이러한 갈등론은 지배와 피지배의 관계와 갈등의 측면을 이해하는 데 유용하지만, 지나치게 갈등을 강조함으로써 현실 속에 존재하는 협동과 조화의 현상을 경시한다는 비판을 받기도 한다.

상징적 상호 작용론은 사회 구조보다 일상생활에서 일어나는 개인의 상호 작용에 초점을 둔다. 이에 따르면 사회·문화 현상은 개인 간의 일상적인 상호 작용 과정에서 주관적인 의미 규정과 해석을 주고받으며 형성되고 변화한다고 본다.

인간은 상호 작용 과정에서 **상징**이라는 수단을 사용하는데, 상징에는 특정한 의미를 담고 있는 몸짓, 기호, 언어 등이 있다. 예컨대 등갯길에 만난 친구가 웃으며 손을 흔들 때 나도 웃으며 손을 흔드는 장면을 생각해 보자. 이때 친구의 웃는 표정이나 손을 흔드는 행동은 반가움과 호의의 의미를 담고 있는 상징이고, 나는 그 상징 속에 담긴 의미를 이해하고 반응한 것이다. 이처럼 인간은 어떤 상황에 아무렇게나 반응하는 것이 아니라, 그 상황을 규정하고 해석하는 **상황 정의**를 내리고 이에 따라 행동한다. 따라서 사회·문화 현상은 사람들이 상징을 통해 상호 작용한 결과로 발생한, 주관적인 의미가 담긴 현상이라고 할 수 있다.

상징적 상호 작용론은 개인의 행위에 초점을 두어 사회·문화 현상을 심층적으로 이해한다는 장점이 있지만, 개인의 행위에 영향을 미치는 사회 구조나 사회 제도의 측면을 소홀히 한다는 비판을 받기도 한다.

앞서 살펴본 사회·문화 현상을 보는 관점 중 어느 한 관점만이 타당하다고 보기는 어렵다. 각 관점은 특정한 측면에 초점을 두고 현상을 분석하므로 다른 측면을 소홀히 할 수 있기 때문이다. 따라서 다양한 관점을 활용할 때 사회·문화 현상을 깊이 있게 이해할 수 있다.

1. 밑줄 친 ㉠~㉣과 같은 현상의 일반적인 특징에 대한 설명으로 옳은 것은?

엘니뇨 현상이 계속되면서 지구 온도와 ㉠ 농작물 생산에 영향을 미치고 있다. ㉡ 이상 기후 현상으로 동남아 지역은 예년에 비해 더위가 심했고, 남미에는 폭우가 내려 세계 식량 가격이 올랐다. 아프리카의 한 지역에서는 ㉢ 홍수로 인한 급격한 수위 상승으로 수천 채의 가옥이 파손된 반면, 또 다른 지역에서는 혹독한 가뭄으로 인해 수백만 명이 ㉣ 식량 원조를 애타게 기다리는 상황이다.

- ① ㉠과 같은 현상은 ㉡과 같은 현상과 달리 가치 함축적이다.
- ② ㉡과 같은 현상은 ㉢과 같은 현상과 달리 확실성의 원리가 적용 된다.
- ③ ㉢과 같은 현상은 ㉣과 같은 현상과 달리 개연성의 원리가 적용 된다.
- ④ ㉣과 같은 현상은 ㉠과 같은 현상과 달리 당위 법칙을 따른다.
- ⑤ ㉠, ㉡과 같은 현상은 ㉢과 같은 현상에 비해 보편성이 강하다.

2. 밑줄 친 ㉠~㉣과 같은 현상의 일반적인 특징에 대한 설명으로 옳은 것은?

중국 황제의 아내인 누오는 어느 날 정원을 거닐다가 ㉠ 나무 위에서 누에가 고치를 만들고 있는 것을 보았다. 고치 속의 ㉡ 누에가 눈보라를 견디며 겨울을 넘긴 것을 겨우내 관찰한 그녀는 이것으로 옷을 만들면 추위를 막을 수 있으리라 여겼다. 실제로 누에고치에서 실을 뽑아 옷을 만들어 ㉢ 동물 가죽으로 만든 옷과 비교해보니 한결 따뜻하고 가볍다는 것을 알게 되었다. 이듬해 그녀는 ㉣ 야생 누에를 거두어 길러 많은 고치를 생산해 냈다.

- ① ㉠, ㉡과 같은 현상은 확실성의 원리가 작용한다.
- ② ㉠, ㉡과 같은 현상은 특수성보다 보편성이 강하다.
- ③ ㉢, ㉣과 같은 현상은 가치 함축적이다.
- ④ ㉠과 같은 현상은 ㉡과 같은 현상과 달리 당위법칙을 따른다.
- ⑤ ㉢과 같은 현상은 ㉣과 같은 현상과 달리 인과관계가 분명하다.

3. 밑줄 친 ㉠~㉣과 같은 현상의 일반적인 특징으로 옳은 것은?

○ 조류 인플루엔자가 전국적으로 확산되는 조짐을 보이는 가운데, 처음 ㉠ 조류 인플루엔자가 발생했던 ○○ 지역 농가는 오가는 이 없는 쓸쓸한 설 명절을 보내고 있다. 이곳 주민들은 반가운 손님을 부른다는 ㉡ 까치 소리에도 불안해하면서 정초를 맞이하고 있다.

○ 중국의 급속한 산업화로 인해 ㉢ 화석 연료 사용이 늘어 나면서 미세 먼지가 한반도로 유입되는 날이 잦아졌다. ㉣ 미세 먼지는 사람의 폐까지 깊숙이 침투해 호흡기 질환을 유발하고 면역력을 약화시키기 때문에, 특히 외출 시에는 각별한 주의가 요구된다.

- ① ㉠과 같은 현상은 ㉢과 같은 현상에 비해 특수성이 강하다.
- ② ㉠과 같은 현상은 ㉡과 같은 현상과 달리 인과 법칙을 따른다.
- ③ ㉢과 같은 현상은 ㉣과 같은 현상과 달리 가치 함축적이다.
- ④ ㉢과 같은 현상은 ㉡과 같은 현상에 비해 예측이 용이하다.
- ⑤ ㉢과 같은 현상은 ㉠과 같은 현상과 달리 당위 법칙을 따른다.

4. 사회·문화 현상을 바라보는 A~C의 관점에 대한 옳은 설명을 <보기>에서 고른 것은? (단, A~C는 각각 기능론, 갈등론, 상징적 상호 작용론 중 하나이다.)

학교와 학교 교육에 대한 서로 다른 관점이 존재한다. A의 관점은 C의 관점과 달리 학교 교육은 사회적 합의에 기초한 지배적 가치를 다양한 집단의 구성원들에게 전수하여 사회 질서 유지에 기여한다고 본다. B의 관점은 A, C의 관점과 달리 능동적 존재로서의 학생들이 학교와 학교 교육에 대해 부여하는 다양한 의미와 그 해석에 주목한다.

- < 보 기 >
- ㄱ. A의 관점은 학교 교육이 지배 집단의 가치를 전수시킨다고 본다.
 - ㄴ. B의 관점은 학교 교육에 대한 교사와 학생의 상황 정의에 주목한다.
 - ㄷ. C의 관점은 학교 교육이 사회에서 필요한 인력을 적재적소에 배치하는 데 기여한다고 본다.
 - ㄹ. A, C의 관점은 거시적, B의 관점은 미시적 관점으로 분류할 수 있다.

- ① ㄱ, ㄴ ② ㄱ, ㄷ ③ ㄴ, ㄷ ④ ㄴ, ㄹ ⑤ ㄷ, ㄹ

5. (가), (나)에 나타난 사회·문화 현상을 바라보는 관점에 대한 설명으로 옳지 않은 것은?

- (가) 교칙은 학생들에게 지위에 맞는 역할이 무엇인지 강조하고, 보상이나 제재를 가하는 기준으로서의 기능을 수행한다. 교칙은 학교 구성원들이 지켜야 하는 규범으로, 구성원들에게 공통의 정체성을 갖도록 하여 학교라는 작은 사회의 통합을 증진하는 역할을 한다.
- (나) 교사는 생활 지도 과정에서 나타나는 학생의 반응을 통해 자신의 지도 방식에 대해 평가하고 교사로서 자기 정체성과 행동을 재구성한다. 따라서 생활 지도는 교사와 학생 간의 상호 작용과 그 상황에 대한 의미 부여를 통해 구성되는 개별적 경험으로 이해되어야 한다.

- ① (가)의 관점은 사회가 스스로 균형을 유지하려는 속성을 지닌다고 본다.
- ② (나)의 관점은 개인이 상황에 부여한 의미에 기초하여 사회적 상황에 반응한다고 본다.
- ③ (가)의 관점은 사회가 유기체와 유사한 특성을 지니고 있음을, (나)의 관점은 인간이 의미를 추구하는 존재임을 가정한다.
- ④ (가)의 관점과 달리 (나)의 관점은 사회가 구성 요소 간의 상호 의존적 관계 형성을 통해 질서와 안정을 이룬다고 본다.
- ⑤ (나)의 관점과 달리 (가)의 관점은 사회 구조에 대한 분석을 통해 사회 현상을 이해하고자 한다.

2. 사회·문화 현상의 연구 방법

지식은 우리의 사고와 행동에 영향을 준다. 하지만 편견에 근거한 지식은 사회·문화 현상을 정확히 인식하는 것을 가로막는다. 따라서 과학적 탐구를 통해 객관적이고 과학적인 지식을 쌓아야 한다. 그러면 사회·문화 현상은 어떻게 과학적으로 탐구할 수 있을까?

사회·문화 현상을 과학적으로 탐구하는 방법에는 방법론적 일원론과 방법론적 이원론이 있다. **방법론적 일원론**은 사회·문화 현상에도 자연 현상과 같이 내재한 법칙이 있으므로, 자연 과학의 방법처럼 수량화된 자료를 분석하여 사회·문화 현상의 법칙을 발견해야 한다는 것이다. 이에 근거한 연구 방법이 양적 연구 방법이다. 한편 **방법론적 이원론**은 사회·문화 현상에 인간의 신념과 가치가 내포되어 있다는 점에서 자연 현상과 본질적으로 다르므로, 자연 과학과 다른 방법으로 연구해야 한다는 것이다. 이에 근거한 연구 방법이 질적 연구 방법이다.

양적 연구 방법에서는 자연 현상과 마찬가지로 사회·문화 현상에도 인과 관계가 존재한다고 보며, 자연 과학과 같은 방법을 통해 사회·문화 현상의 일반적인 법칙을 발견하고자 한다. 이를 위해 양적 연구 방법에서는 개념의 조작적 정의를 통해 계량화된 자료를 수집한다. **개념의 조작적 정의**란 추상적인 개념을 측정 가능한 구체적인 지표로 바꾸는 것을 의미한다. 예를 들면 '경제 성장'이라는 추상적인 개념을 '1인당 국내 총생산(GDP)의 증가'라는 지표로 바꾸는 것이다. 그리고 이렇게 수치화한 자료를 수집한 후 이를 통계적으로 분석함으로써 사회·문화 현상 속에 담긴 인과 관계를 파악하고 이를 토대로 하여 **일반화된 법칙**을 끌어낸다.

양적 연구 방법은 계량화된 자료를 이용하므로 정확하고 정밀한 연구가 가능하며, 연구자의 가치가 개입되는 것을 막는데 용이하다. 또한 사회·문화 현상의 일반적인 법칙을 발견하고 현상을 예측하는 데 유용하다. 하지만 계량화하기 어려운 인간의 주관적이고 정신적인 영역을 연구하기에는 제약이 있고, 사회·문화 현상을 지나치게 단순화하고 기계적으로 인식한다는 한계가 있다.

질적 연구 방법에서는 사회·문화 현상이 자연 현상과 달리 인간의 동기나 가치 등과 같은 주관적 요인의 영향을 받는다는 점을 강조한다. 따라서 사회·문화 현상을 제대로 이해하기 위해서는 자연 현상을 연구하는 것과는 다른 방법으로 탐구해야 한다고 본다. 즉 사회·문화 현상을 구성하는 인간의 행위 속에 담긴 주관적 동기와 의미를 해석하고 이해하며, 연구자의 **직관적 통찰**을 통해 인간의 내면을 심층적으로 이해하고자 한다. 또한 질적 연구 방법은 개인이 처한 상황이나 사회적 맥락 등을 고려하고 연구 대상의 관점에서 현상을 이해하기 위해 **감정 이입적 이해**를 추구한다. 그리고 인간 행위의 의미를 깊이 탐구할 수 있는 일기, 편지, 대화록, 관찰 일지 등의 자료를 중요하게 여긴다.

질적 연구 방법은 계량화하기 어려운 영역을 연구할 수 있고, 연구 대상을 심층적으로 이해할 수 있다. 하지만 연구 과정에서 연구자의 주관이 개입될 가능성이 크고, 연구 결과를 일반화하기 어렵다는 한계가 있다.

양적 연구 방법과 질적 연구 방법은 각각 장단점이 있어 어느 한쪽이 더 우월한 연구 방법이라고 할 수 없으며, 한 가지

연구 방법만으로는 사회·문화 현상을 제대로 이해하기 어렵다. 이에 따라 양적 연구 방법과 질적 연구 방법의 장점을 살려 상호 보완적으로 활용하는 경향이 나타나고 있다.

예를 들어 자원봉사 활동과 청소년의 인성 발달과의 관계를 알아보는 연구를 한다고 하자. 이때 양적 연구 방법을 활용하여 자원봉사 활동의 횟수와 청소년의 인성 발달 정도를 측정하여 두 변수 간의 상관관계를 분석할 수 있다. 이와 동시에 질적 연구 방법을 활용하여 자원봉사를 활발히 하는 청소년들을 심층 면접함으로써 그들의 삶에 봉사 활동이 어떤 의미가 있는지도 파악할 수 있다.

이처럼 양적 연구 방법과 질적 연구 방법을 상호 보완적으로 활용하면 사회·문화 현상의 일반화된 지식을 도출할 수 있을 뿐만 아니라, 그러한 현상을 만들어낸 행위의 의미를 깊이 있게 이해할 수 있다.

질문지법은 조사하고자 하는 내용에 관한 질문지를 작성한 후 조사 대상자가 그 질문지에 답하게 하는 방법으로, 가장 흔히 사용하는 자료 수집 방법의 하나이다. 조사 대상자를 직접 찾아가 조사하거나 우편 또는 전화, 인터넷을 이용하여 조사하기도 한다. 질문지법은 비교적 짧은 시간에 많은 사례를 대량으로 조사하기 쉬워 상대적으로 시간과 비용이 절약된다. 또한 같은 항목으로 여러 사람을 조사하여 통계적으로 분석하기 쉽다. 하지만 질문지 회수율이나 응답률이 낮은 편이고, 조사 대상자가 무성의하게 응답하거나 질문의 내용을 잘못 이해하고 응답할 수 있다. 또한 문맹자에게 활용하기 어렵고, 조사 대상자가 질문지의 항목에 국한하여 응답하므로 깊이 있는 정보를 얻기 어렵다.

실험법은 가상의 상황을 설정하여 인위적인 자극을 가한 다음 그 효과를 측정하여 자료를 수집하는 방법이다. 이를 위해 두 개 혹은 여러 개의 집단으로 나눈 뒤 특정 집단에만 인위적인 자극을 가한 후 다른 집단의 결과와 차이를 비교한다. 이때 인위적인 자극을 가한 집단을 **실험 집단**, 비교 대상이 되는 집단을 **통제 집단**이라고 하며, 인위적인 자극이 된 변수를 **독립 변수**, 독립 변수의 영향을 받는 변수를 **종속 변수**라고 한다.

독립 변수와 종속 변수 간의 관계를 명확히 확인하기 위해서는 독립 변수 이외의 다른 변수가 종속 변수에 영향을 미치지 않도록 해야 한다. 예를 들어 안전 교육이 교통 법규 위반 건수에 미치는 영향을 알아보기 위해 안전 교육을 시행한 실험 집단과 안전 교육을 시행하지 않은 통제 집단을 구성하였다고 하자. 이때 종속 변수인 교통 법규 위반 건수에는 독립 변수인 안전 교육 이외에도 운전자의 나이, 운전 경력, 준법정신 등의 차이가 영향을 줄 수 있다. 그러므로 연구자는 이러한 변수가 두 집단에서 차이 나지 않도록 동질성을 확보하고 잘 통제해야 한다.

실험법은 인과 관계를 비교적 정확하게 파악할 수 있어 법적 발견에 유리하다. 하지만 인간이 실험 대상이므로 윤리적인 문제를 낳을 수 있고, 완벽히 통제된 실험이 어렵다는 한계가 있다.

면접법은 연구자가 조사 대상자와 대화를 통해 자료를 수집하는 방법이다. 일반적으로 면접법은 심층적인 조사를 위해 소수를 대상으로 하는데, 신뢰 관계를 기반으로 허용적인 분위기를 조성하는 것이 조사 목적 달성에 중요한 역할을 한다.

면접법은 문맹자에게도 실시할 수 있고, 무성의한 응답이나 악의적인 응답을 줄일 수 있다. 또한 연구자가 더 알고 싶은 내용을 추가로 질문할 수 있고, 깊이 있는 정보를 수집할 수 있다. 하지만 시간과 비용이 많이 들고, 조사 주제에 부합하는 소수의 전형적인 조사 대상자를 선정하는 것이 어렵다. 또한 연구자의 편견이나 주관적 가치가 개입할 우려가 크다.

참여 관찰법은 연구자가 조사 대상자와 함께 생활하거나 조사 대상 집단에 직접 참여하여 현상을 보고 듣고 느끼면서 자료를 수집하는 방법이다. 참여 관찰법은 조사 대상자의 행동을 직접 관찰하고 대화한 내용을 기록하므로 자료의 실제성이 높다. 그리고 언어나 문자로 표현할 수 없는 현상도 조사할 수 있어 생동감 있고 깊이 있는 자료를 수집할 수 있다. 또한 언어가 다른 사회의 사람이나 유아처럼 언어적 의사소통이 불가능한 대상에게서도 자료를 수집할 수 있다. 하지만 시간과 비용이 많이 들고, 조사 대상자가 연구자를 의식해 평소와 다르게 행동하면 정확한 자료를 수집하기 어렵다. 또한 관찰하고자 하는 현상이 나타날 때까지 기다려야 하고, 연구자의 편견이나 주관적 가치가 개입될 우려도 크다.

문헌 연구법은 기존의 연구 결과물이나 통계 자료, 기록물 등의 2차 자료를 수집하는 방법이다. 문헌 연구법은 최근 연구 동향이나 현재까지의 연구 성과를 살펴본다는 점에서 모든 연구의 기초가 되기도 한다.

문헌 연구법은 시·공간적 제약을 극복하여 자료를 수집할 수 있고, 직접 조사하는 것보다 시간과 비용이 적게 든다. 그러나 문헌의 신뢰도에 문제가 있으면 연구 자체에 문제가 생길 수 있고, 문헌을 해석하는 과정에서 연구자의 주관이 개입될 수 있다.

자료 수집 방법은 어떤 것이 좋고 어떤 것이 나쁘다고 말할 수 없으며, 연구의 성격이나 목적에 따라 그 적합성이 다르다. 예를 들어 정책에 관한 국민의 선호도를 연구할 때는 질문지법, 결혼 이민자의 심리 상태를 연구할 때는 심층 면접법, 도시의 인구 현황을 연구할 때는 문헌 연구법이 적절할 것이다.

또한 하나의 연구 주제에도 여러 가지 자료 수집 방법을 사용하여 더욱 풍부한 연구 결과를 얻을 수 있다. 예를 들어 인터넷 중독의 원인과 양상을 연구할 때 질문지를 만들어 자료를 수집하는 한편, 일부 인터넷 중독자를 면접하여 심층적인 자료를 수집할 수 있다.

6. 다음 글을 읽고 물음에 답하십시오.

(가) 구성원에게 물질적 성공이라는 가치를 고무시키는 사회에서 모두가 이러한 성공에 도달할 수 있는 합법적 수단을 갖는 것은 아니다. 그래서 제도적 수단이 제한적인 하층에서 범죄를 저지를 가능성이 높다. 이를 검증하기 위해서는 계층을 개념화하고 범죄를 유형화하여 이들 간의 상관관계를 분석하는 ㉠ 연구 방법을 사용해야 한다.

(나) 범죄도 학습의 산물이다. 친구나 가족으로부터 범죄 태도와 행동을 배운다. 특히 약물 범죄의 경우 약물에 대한 우호적 태도와 사용 기술이 요구되므로 경험자와의 연결이 중요하다. 이를 파악하기 위해서는 심층 면접을 통해 약물 사용에 동조하고 함께하는 친구와의 연결망을 형성하는 과정을 이해할 수 있는 ㉡ 연구 방법을 사용해야 한다.

밑줄 친 ㉠, ㉡과 같은 연구 방법의 일반적 특징에 대한 설명으로 옳지 않은 것은?

- ① ㉠과 같은 방법은 경험적 자료를 통해 연구 대상자의 가치나 태도를 객관적으로 파악하고자 한다.
- ② ㉡과 같은 방법은 직관적 통찰을 통해 주로 인간 행위의 이면보다 행위 자체를 분석하고자 한다.
- ③ ㉠과 같은 방법은 ㉡과 같은 방법에 비해 연구 결과를 일반화할 수 있어 현상에 대한 예측력이 높다.
- ④ ㉠과 같은 방법은 ㉠과 같은 방법에 비해 연구자와 연구 대상자 간의 정서적 교감을 중시한다.
- ⑤ ㉠과 같은 방법은 방법론적 일원론, ㉡과 같은 방법은 방법론적 이원론에 기초하고 있다.

7. 밑줄 친 ㉠~㉣에 대한 옳은 설명을 <보기>에서 고른 것은?

갑은 청소년의 ㉠ 자아존중감에 ㉡ 미술치료 프로그램이 미치는 효과를 검증해 보기로 하였다. 이를 위해 중학생 100명을 A, B 두 집단으로 나누고 자아존중감 척도 검사를 실시하였다. 그 후 ㉢ A집단에게만 미술치료 프로그램을 6개월 동안 진행한 뒤에 다시 두 집단에게 자아존중감 척도 검사를 실시하였다. 검사를 통해 얻은 ㉣ 자료를 분석한 결과 ㉤ B 집단은 첫 번째와 두 번째 검사 점수의 변화가 거의 없는 반면 A 집단은 통계적으로 유의미한 차이를 보였다. 이를 토대로 갑은 ㉥ 미술치료 프로그램이 자아존중감을 향상시키는 효과가 있다는 결론을 내렸다.

< 보 기 >

ㄱ. ㉠은 독립 변인, ㉡은 종속 변인이다.
 ㄴ. ㉢은 실험 집단, ㉣은 통제 집단이다.
 ㄷ. ㉤은 ㉠에 대한 조작적 정의를 토대로 얻은 양적 자료이다.
 ㄹ. ㉥을 모집단 전체에 일반화시킬 수 있다.

- ① ㄱ, ㄴ ② ㄱ, ㄷ ③ ㄴ, ㄷ ④ ㄴ, ㄹ ⑤ ㄷ, ㄹ

8. 밑줄 친 ㉠~㉣에 대한 설명으로 옳은 것은?

갑은 ‘㉠ 슬픈 감정이 상품의 ㉡ 구매 욕구에 미치는 영향’이라는 ㉢ 주제를 선정하고 연구를 진행하였다. 갑은 먼저 ㉣ 연구대상자 100명을 선정하여 무작위로 50명씩 A, B 두 집단으로 나누었다. 이후 ㉤ A 집단에게는 슬픈 감정을 일으키는 영상을, ㉥ B 집단에게는 감정의 동요를 일으키지 않는 영상을 보여 주었다. 영상 시청이 종료된 후 두 집단에 동 일한 상품을 보여주면서 ㉦ 상품 구매를 위하여 지불하고자 하는 금액을 묻자, A집단이 B집단에 비해 평균적으로 약 30% 높은 금액을 지불하겠다고 응답하였다.

- ① ㉠은 종속 변인이다.
- ② ㉢ 단계에서 연구자의 주관적 가치는 배제되어야 한다.
- ③ ㉣은 모집단이다.
- ④ ㉤은 통제 집단, ㉥은 실험 집단이다.
- ⑤ ㉦은 ㉡을 조작적으로 정의한 것이다.

9. 밑줄 친 ㉠~㉣에 대한 설명으로 옳은 것은?

‘청소년의 친구 관계와 비행 간의 인과 관계’를 연구 주제로 선택한 갑은 ㉠ ‘비행 친구와의 교제가 많을수록 비행 경험이 많아진다.’라는 가설과 ㉡ ‘비행 경험이 많을수록 비행 친구와의 교제가 많아진다.’라는 서로 다른 가설을 세웠다. 갑은 전국의 고등학생 중 ㉢ 도시 지역 남학생 500명과 ㉣ 농촌 지역 여학생 500명을 무작위로 추출하여 ㉤ 자신의 비행 횟수, ㉥ 비행 경험이 있는 친구의 수 등을 포함하는 ㉦ 설문 조사를 실시하였다. 분석 결과, 두 가설 중에 후자를 수용하는 ㉧ 결론을 내렸다

- ① ㉢과 ㉣은 모두 실험 집단이다.
- ② ㉤을 알아보기 위해 수집한 자료는 2차 자료이다.
- ③ ㉥은 ㉠ 가설의 독립 변수와 ㉡ 가설의 종속 변수를 조작적으로 정의한 것이다.
- ④ ㉦에서는 연구 대상자의 주관적 인식을 묻지 않아야 한다.
- ⑤ ㉧은 모집단을 대상으로 일반화할 수 있다.

10. 표는 자료 수집 방법의 일반적 특징을 알아보기 위해 일부 항목을 비교한 것이다. (가)~(다)에 대한 설명으로 옳은 것은?

자료 수집 방법	항목	경제성	자료 수집 상황에 대한 통제 수준
면접법		낮음	낮음
(가)		낮음	매우 낮음
(나)		낮음	매우 높음
(다)		높음	높음

* (가)~(다)는 각각 실험법, 질문지법, 참여 관찰법 중 하나임.

- ① (가)는 (나)에 비해 독립 변수의 효과를 측정하기에 적절하다.
- ② (나)는 (다)에 비해 대규모 집단을 대상으로 한 자료 수집에 적합하다.
- ③ (나)는 (다)에 비해 연구 대상자와의 정서적 유대를 중시한다.
- ④ (다)는 (가)에 비해 연구 대상자가 모집단을 대표하는지를 중시한다.
- ⑤ (다)는 (가)에 비해 연구 대상자의 심층적 의도를 파악하기에 용이하다.

11. 자료 수집 방법 A, B의 일반적 특징에 대한 설명으로 옳은 것은?

○ 갑은 피아노 연주자로 활동하며 A를 활용하여 재즈 음악가에 대한 자료를 수집했다. 갑은 재즈 음악가들이 일하고 여가를 즐기는 다양한 상황에 직접 들어가 같이 생활하면서 그들의 문화에 대한 자료를 얻었다.

○ 을은 B를 활용하여 노숙자에 대한 자료를 수집했다. 을은 그들로부터 노숙자의 문화를 발견하고 싶었기 때문에 그들을 자신의 연구실로 초대하였다. 을은 노숙자들에게 그들의 경험을 세세하게 묘사해 달라고 요청하였다.

- ① A는 대량의 구조화된 자료를 수집하는 데 용이하다.
- ② B는 주로 양적 연구에서 사용된다.
- ③ A는 B에 비해 인위적으로 통제된 상황에서 변수의 효과를 관찰하기에 용이하다.
- ④ B는 A와 달리 조사 대상자와의 언어적 상호 작용이 필수적이다.
- ⑤ A, B 모두 인과 관계의 파악을 통해 법칙을 발견하는 데 용이하다.

3. 사회·문화 현상을 탐구하는 태도와 연구 윤리

양적 연구의 탐구 절차는 먼저 어떤 사회·문화 현상에 관해 “저러한 현상은 왜 일어날까?”라는 **문제 인식**에서 시작한다. 그다음으로 연구자는 이 주제와 관련 있는 기존의 이론과 연구물을 검토하여 **가설을 설정**한다. 가설을 설정한 다음에는 연구 대상과 연구 기간, 자료 수집 방법 등을 정하는 **연구 설계**가 이루어지는데, 양적 연구에서는 질문지법이나 실험법 등과 같이 수량화된 자료 수집이 용이한 방법을 주로 사용한다. 이러한 계획에 따라 **자료를 수집**한 후에는 대체로 통계 기법을 이용해 분석하고 **가설을 검증**한다. 이때 자료 분석 결과와 가설이 일치 하면 가설을 수용하고 일치하지 않으면 가설을 기각한다. 이를 토대로 **결론을 도출**하고, 가설이 입증되면 가설을 모집단 전체에 적용하는 **일반화**를 시도함으로써 연구를 마친다.

질적 연구의 탐구 절차는 양적 연구와 마찬가지로 연구자의 **문제 인식**에서 시작된다. 하지만 질적 연구의 목적은 법칙 발견이 아니라 사회·문화 현상에 함축된 의미를 이해하고 해석하는 것이므로 양적 연구의 탐구 절차와 달리 가설을 세우지 않는 것이 일반적이다. 질적 연구는 연구의 특성상 현상을 있는 그대로 관찰해야 하므로 가설을 설정하면 오히려 연구의 폭을 제한하여 현상을 이해하는 데 방해가 될 수 있기 때문이다.

연구 주제가 정해지면 **연구 설계**를 통해 연구 대상과 연구 기간을 정하고 자료 수집 방법을 선택한다. 질적 연구에서는 현상의 이해와 해석에 도움이 되는 심층적인 자료가 필요하므로 주로 면접법이나 참여 관찰법을 활용한다. 이때 자료는 대체로 녹음, 기록, 촬영 등으로 수집한다. **자료를 수집**한 후에는 직관적 통찰과 감정 이입적 이해를 통해 자료 해석이 이루어진다.

그리고 마지막 단계에서는 자료를 바탕으로 해석한 행위자의 주관적 세계가 가지는 의미를 종합하여 **결론을 도출**한다. 또한 연구 대상을 이해하는 새로운 관점을 제시하거나 대안적 이론을 제안하기도 한다.

사회·문화 현상을 연구할 때 연구자가 자신의 선입견과 주관적 가치, 이해관계 등을 배제하고, 관찰을 통해 경험적으로 얻은 증거에 따라 제삼자의 눈으로 사회·문화 현상을 바라보는 것을 **객관적 태도**라고 한다. 사회·문화 현상 속에는 가치와 의도가 내포되어 있고, 연구자 자신이 사회·문화 현상의 일부이기 때문에 엄격한 객관성을 확보하기가 어렵다. 하지만 연구자가 자신의 선입견, 주관적 가치, 이해관계 등을 연구에 개입시키면 연구 결과가 왜곡될 수 있으므로 객관적 태도로 연구하려는 노력을 지속적으로 해야 한다.

사회·문화 현상은 보는 시각에 따라 다양한 견해가 존재할 수 있으므로 자신의 주장과 다른 주장이 존재할 수 있음을 받아들이고, 자신의 주장에 관한 비판을 허용해야 한다. 또한 사회·문화 현상은 끊임없이 변화하고 상황에 따라 달라지므로, 자신의 연구는 완전하지 않고 언제든지 반증으로 진리가 아님이 밝혀질 가능성이 있다. 따라서 자신의 연구 결과에 관한 비판과 새로운 주장의 가능성을 항상 허용해야 하는데, 이를 **개방적 태도**라고 한다. 그러나 개방적 태도를 지녀야 한다고 해서 모든 주장을 무조건 수용해야 한다는 것은 아니다. 논리적으로 완벽해 보이는 주장이라고 하더라도 경험적 증거로 확신

되기 전까지는 하나의 가설로 받아들여야 한다.

사회·문화 현상은 그것이 발생한 맥락이나 배경 속에서 의미가 있다. 따라서 같은 사회·문화 현상이라도 시대와 사회에 따라 다른 의미를 지닐 수 있다. 예를 들면 어린아이의 머리를 쓰다듬는 행위가 어떤 사회에서는 문제가 되지만, 어떤 사회에서는 전혀 문제 되지 않기도 한다. 그러므로 특정 사회에서 얻은 연구 결과를 다른 사회에 무조건 적용해서는 안 된다. 즉 연구자는 사회·문화 현상을 연구할 때 그 현상이 나타나는 사회의 특수성을 인식하고 그 현상이 지닌 고유한 가치와 의미를 그 사회의 맥락에서 이해하는 태도가 필요한데, 이를 **상대주의적 태도**라고 한다.

사회·문화 현상에 관한 연구는 익숙한 현상에 의문을 가지는 것에서 시작한다. 사회·문화 현상을 보이는 그대로 수용하고 당연시하면 사회·문화 현상의 의미를 제대로 파악하기 어렵기 때문이다. 이처럼 사회·문화 현상을 수동적으로 받아들이지 않고 현상의 내면에 담긴 의미나 인과 관계가 무엇인지를 궁금해하며 이를 파악하고자 하는 태도를 **성찰적 태도**라고 한다. 성찰적 태도는 사회·문화 현상을 연구하는 시작이 되며, 사회를 새롭게 바라보고 사회 발전을 모색하도록 한다. 또한 성찰적 태도는 연구자 자신이 연구 절차나 연구 방법 등을 제대로 지키고 있는지를 되짚어 보게 한다는 점에서 연구 과정에서도 요구된다.

사회·문화 현상을 과학적으로 탐구한다는 것은 연구자의 주관적 가치를 배제하고 객관적 증거에 따라 가치 중립적으로 탐구한다는 것이다. 하지만 연구자가 사회·문화 현상을 탐구할 때 가치를 완전히 배제하기는 어렵다. 그러면 사회·문화 현상을 탐구할 때 가치 중립과 가치 개입은 어떻게 구분해야 할까?

어떤 연구자가 '북한 이탈 청소년의 적응 실태와 개선 방안'을 연구 주제로 선정한 후, 북한 이탈 청소년을 대상으로 설문 조사를 하여 양적 연구를 한다고 하자. 이때 이 연구자는 여러 사회 문제 중 북한 이탈 청소년 문제에 관심이 있고, 적응 방안을 모색해야 한다는 가치를 가지고 있음을 알 수 있다. 또한 이 연구자는 이 연구 주제에 양적 연구와 질문지법이 가장 적절하다고 판단하였다. 이처럼 연구자가 연구 주제를 선정하고 연구 설계를 할 때는 연구자의 가치가 개입된다.

하지만 연구 설계에 따라 자료를 수집하고 분석한 후 결론을 도출할 때는 가치 중립을 철저히 유지해야 한다. 만일 연구자가 자신이 원하는 결론을 유도하는 질문지를 작성하거나 북한 이탈 청소년에게 응답을 강요하는 등과 같이 자신의 가치를 개입하면 왜곡된 결론이 도출되므로, 그 연구의 신뢰도가 낮아진다. 한편 연구 결과를 토대로 북한 이탈 청소년의 사회적 적응을 돕는 방안을 모색할 때는 연구자의 가치 판단이 불가피하다. 이처럼 연구자가 연구 주제를 선정하거나 연구 결과를 활용할 때는 가치 개입이 있을 수 있다. 하지만 그렇다고 해서 연구의 객관성을 해치는 것은 아니다. 자료를 수집한 후 결론 도출에 이르는 과정에서 가치 중립을 지킨다면 과학적 탐구가 가능하다.

사회 과학은 연구 대상이 인간이므로 다음과 같은 연구 윤리를 지켜야 한다. 우선 연구 대상자에게 연구의 성격과 목적, 내용 등에 관한 정보를 사전에 제공하고, 연구 대상자의 동의를 얻어 연구해야 한다. 만일 연구에 관한 정보를 미리 알려

주면 연구 결과를 왜곡할 우려가 있어 사전에 동의를 얻지 못한 때에도 연구가 끝난 뒤에는 반드시 연구에 관한 정보를 알리고 연구 대상자의 양해를 구해야 한다.

그리고 자료 수집 과정에서 연구 대상자에게 수치심을 주는 질문을 하거나 강제로 답변을 요구하면 안 되고, 연구 대상자에게 해로운 영향을 줄 수 있는 실험을 해서도 안 된다.

더불어 연구 대상자에게 사생활 노출이나 명예 훼손 등의 피해를 주지 않아야 한다. 이를 위해 연구자는 연구 대상자의 익명성과 비밀을 보장해야 하고, 수집한 자료는 반드시 연구에만 활용해야 한다.

연구자는 연구 과정에서 자료 분석 결과를 조작하거나 다른 사람의 연구물을 도용 또는 표절해서는 안 된다. 또한 특정한 답변을 유도하거나 자신이 원하는 결과에 도움이 될 만한 조사 대상자만을 골라 조사하는 것도 연구 결과를 왜곡하기 때문에 윤리적으로 문제가 된다.

사회·문화 현상을 연구할 때는 연구 과정이 얼마나 과학적이고 객관적인가도 중요하지만, 연구 결과를 어떻게 활용하느냐도 매우 중요하다. 연구의 취지가 아무리 좋아도 연구 결과가 비윤리적인 목적으로 활용된다면 연구 자체가 또 다른 사회 문제를 낳을 수 있기 때문이다. 그러므로 연구자는 자신의 연구 결과가 비윤리적으로 활용될 소지가 있는지를 반드시 점검해 보아야 한다. 또한 연구 결과가 사회적 소수자에게 불이익을 주거나 특정 집단의 명예를 훼손하는 측면이 없는지도 살펴보아야 한다.

12. 다음에서 공통적으로 나타나는 사회·문화 현상의 탐구 태도에 대한 진술로 가장 적절한 것은?

- 사회학자의 임무는 어떤 사회·문화 현상에 대해 정확하게 보고하는 것이다. 사회학자의 보고에는 그의 취향이나 선호가 반영되지 않아야 한다.
- 사회학의 연구 대상은 경험할 것이나 경험할 수 있는 것에 한정되어야 한다. 또한 사회학자는 인간의 삶과 행위의 관찰 과정에서 제3자의 관점을 취해야 한다.

- ① 사회·문화 현상을 보는 관점이 다양할 수 있음을 인정해야 한다.
- ② 사회·문화 현상의 탐구 시 주관적 가치와 이해관계를 배제해야 한다.
- ③ 사회·문화 현상의 탐구 시 해당 사회의 문화적 맥락을 고려해야 한다.
- ④ 사회·문화 현상의 복잡성을 인정하고 이면의 원인 파악을 위해 노력해야 한다.
- ⑤ 사회·문화 현상에 대한 연구 결과가 사회에 미칠 수 있는 영향을 고려해야 한다.

13. (가), (나)에서 강조하고 있는 사회·문화 현상의 탐구 태도에 대한 설명으로 가장 적절한 것은?

(가) 연구자는 사회·문화 현상 연구에서 얻은 결과를 확정하려고 고집하기보다는 잠정적 결론으로 보고 다른 연구자의 의견을 고려함으로써 좀 더 타당한 주장이나 결론으로 대체할 수 있음을 인정해야 한다.

(나) 동일한 사회·문화 현상이라도 시대와 사회에 따라 그 현상이 가지는 의미가 달라질 수 있으므로 연구자는 사회·문화 현상 연구에서 역사적 전통과 사회적 맥락을 충분히 고려해야 한다.

- ① (가)는 현상을 사실 그 자체에 초점을 두어 파악하는 태도이다.
- ② (나)는 타인의 비판을 편견 없이 받아들이는 태도이다.
- ③ (가)는 (나)와 달리 현상에 대한 깊이 있는 성찰을 중시한다.
- ④ (나)는 (가)와 달리 현상이 지닌 고유한 가치에 대한 인정을 중시한다.
- ⑤ (가)는 연구 대상자의 관점, (나)는 제3자의 관점을 중시한다.

14. (가), (나)는 사회·문화 현상의 탐구 태도이다. 이에 대한 옳은 설명을 <보기>에서 고른 것은?

(가) 연구자 역시 특정 사회의 가치와 규범을 내면화하기 때문에, 사회·문화 현상을 연구할 때 현상이 가진 사실에만 근거하여 파악해야 한다.

(나) 연구자는 올바른 절차를 거쳐 사회·문화 현상을 검증했을지라도 자신의 연구 결과에 대한 다른 연구자의 반증 가능성을 인정해야 한다.

— < 보 기 > —

ㄱ. (가)는 연구자가 연구 진행 과정에서 주관적인 가치와 편견을 배제하려는 태도이다.

ㄴ. (나)는 사회·문화 현상 연구에서 유연하고 수용적인 태도를 갖는 것을 강조한다.

ㄷ. (나)는 (가)와 달리 연구자가 연구 절차나 방법이 제대로 수행되었는지 살펴보는 것을 강조한다.

ㄹ. (가)는 제3자의 입장에서, (나)는 상대방의 입장에서 연구를 진행하는 것을 강조한다.

- ① ㄱ, ㄴ ② ㄱ, ㄷ ③ ㄴ, ㄷ ④ ㄴ, ㄹ ⑤ ㄷ, ㄹ

15. 다음 자료에서 부각되는 사회·문화 현상의 탐구 태도로 가장 적절한 것은?

미국의 한 사회학자는, 미국의 전업 주부가 자신의 계급 지위를 주관적으로 인식할 때 현재 자신이 속한 가족의 계급 지위를 기준으로 삼는다는 것을 발견했다. 이후 그는 한국 전업 주부의 계급 인식도 연구하였다. 한국 전업 주부는 현재 자신이 속한 가족의 계급 지위보다는 과거 자신이 속했던 친정의 계급 지위와 미래에 자녀들이 갖기를 바라는 계급 지위에 더 영향을 받는 것으로 나타났다. 이에 대해 그는 한국 사회의 특성으로 한국의 전업 주부는 남편의 계급 지위와는 별도로 자신만의 계급 지위에 대한 주관적 인식을 가지고 있는 것으로 해석하였다.

- ① 사회·문화 현상에 관련한 사실과 가치를 엄격하게 분리해야 한다.
- ② 사회·문화 현상의 탐구 시 해당 사회의 문화적 맥락이나 배경을 고려해야 한다.
- ③ 연구 결과가 사회적으로 미칠 수 있는 영향을 고려하여 탐구를 진행하여야 한다.
- ④ 사회·문화 현상의 탐구 시 자신의 연구 결과에 대한 다른 연구자의 비판을 허용해야 한다.
- ⑤ 연구 절차나 방법, 연구 윤리 등을 제대로 지키고 있는지 연구자 스스로 되짚어 보아야 한다.

16. 다음 사례에 나타난 갑의 연구 태도 및 연구 윤리 측면에 대한 평가로 가장 적절한 것은?

연구자 갑은 다문화 가정의 어려움을 이해하기 위해 심층 면접을 수행하였다. 갑은 연구에 협조하지 않던 다문화 가정 구성원들에게 연구의 취지를 설명하고, 개인 정보를 공개하지 않겠다는 약속을 한 후 면접을 허락받을 수 있었다. 갑은 사회적약자의 권리 신장에 도움이 되지 않는다고 판단되는 답변은 제외하면서 면접 내용을 기록하였다. 갑은 이 자료를 통해 다문화 가정이 경험하는 어려움을 가족 내 요인과 가족 외요인으로 구분하여 유형화하는 새로운 연구 결과를 제시하였다. 갑은 자신의 연구 대상이 일부 지역에 한정된다는 점에서 다른 맥락에서는 결론이 달라질 수 있다고 밝혔다.

- ① 연구 대상자의 익명성을 보장하지 않았다.
- ② 연구 대상자에게 연구 목적을 알리지 않았다.
- ③ 연구 자료 수집 과정에 주관적 가치를 개입시켰다.
- ④ 연구 결과에 대한 반증 가능성을 수용하지 않았다.
- ⑤ 연구 대상자에게 연구 참여에 대한 동의를 구하지 않았다.

4. 개인과 사회의 관계를 바라보는 관점

사회에서 사람들이 사회적 상호 작용을 지속하면 학생과 교사의 관계, 사용자와 노동자의 관계, 직장 상사와 부하 직원의 관계 등과 같은 사회적 관계가 형성된다. 이러한 사회적 관계가 오랫동안 유지되면서 유형화되고 정형화되어 일정한 틀을 이루게 되면 사회 구조가 형성된다. 즉 **사회 구조**란 한 사회의 개인과 집단이 사회적 관계를 맺는 방식이 정형화되어 안정된 틀을 갖추고 있는 상태를 말한다. 자유롭게 생각하고 행동하는 개인으로 구성된 사회 속에서 개인의 행동이 비슷한 양상으로 나타나는 것은 개인이 사회 구조의 틀에 크게 벗어나지 않는 범위 내에서 행동하기 때문이다.

개인은 사회적으로 구조화된 행동을 함으로써 안정적인 사회생활을 영위할 수 있고, 사회는 질서와 안정을 유지할 수 있다. 또한 사회 구조를 통해 다른 개인의 사회생활을 쉽게 예측할 수 있다.

한편 사회 구조는 개인의 자유로운 행동을 제한하기도 한다. 어떤 사람이 장례식장에 화려한 색의 옷을 입고 가서 큰 소리로 웃으면, 그 사람은 다른 사람들로부터 비난을 받을 것이다. 이처럼 사회적으로 구조화된 행동을 하지 않는 사람은 비난을 받기도 하는데, 이는 사회 구조가 개인에게 강제력을 행사할 수 있다는 점을 보여 준다.

사회 구조는 개인의 행동에 미치는 영향이 매우 크고, 개인은 사회 구조의 영향에서 자유롭게 어렵다. 그러나 사람들이 사회 구조에 종속된 행동만을 하는 것은 아니다. 기존의 사회 구조에 저항하거나 그것을 바꾸고자 하는 개인이나 집단의 행동은 과거부터 끊임없이 이어져 왔고, 그 결과 사회 구조가 바뀌기도 하였다. 한편 사회 구조를 바꾸고자 하는 의식적인 행동이 아니라, 사람들의 가치관이나 행동이 자연스럽게 변화함에 따라 사회 구조가 바뀔 수도 있다.

개인과 사회의 관계를 바라보는 관점에 따라 사회·문화 현상의 해석이 달라지고 그에 기초한 행동이나 대응 방식도 달라진다. 개인과 사회의 관계를 바라보는 관점에는 사회 실재론과 사회 명목론이 있다.

사회 실재론은 사회가 개인의 외부에 실제로 존재하고, 개인의 특성과는 다른 사회 자체의 독자적인 특성이 있다고 보는 관점이다. 사회 실재론에 따르면 사회는 개인의 단순한 합 이상의 실체이고, 개인에게 큰 영향력을 행사한다. 따라서 개인은 단지 사회를 이루는 구성 요소에 불과하고 사회 구성원인 개인의 사고나 행위는 사회의 영향에서 벗어날 수 없다고 본다.

사회 실재론은 사회 유기체설과 연관되고, 사회·문화 현상을 이해하거나 사회 문제의 원인을 파악할 때 개인의 특성보다는 사회 제도나 사회 구조적인 측면을 중시하여 사회가 개인에게 미치는 영향을 잘 설명할 수 있다.

사회 명목론은 사회가 개인의 외부에 별도로 존재하는 것이 아니라, 단순히 이름만으로 존재한다고 보는 관점이다. 사회 명목론에 따르면 사회는 개인의 단순한 집합체일 뿐이고, 실제로 존재하는 것은 개인뿐이다. 또한 개인은 자신의 의지에 따라 행동하고 사회의 구속을 받지 않는다고 본다.

사회 명목론은 개인의 자유 및 능동성과 주체적 행동이 사회에 미치는 영향력이 크고, 사회의 여러 가지 특성은 사회 구

성원인 개인의 특성에 따라 결정된다고 본다. 또한 사회는 개인의 행복과 자유를 추구하기 위한 단순한 수단일 뿐이라고 주장한다. 따라서 시민이 개개인의 권리 보장을 위해 계약에 따라 국가를 만들었다는 사회 계약설은 사회 명목론과 관련 있다.

사회 명목론에서는 사회·문화 현상이나 사회 문제 등을 분석할 때 사회보다 개인에게 초점을 맞추고, 개인이 사회에 미치는 영향력을 중시한다. 따라서 사회 명목론에 따르면 개인은 사회를 변화시키는 능동적인 존재이다.

사회를 떠난 개인은 독자적으로 생존하기 어렵고, 사회의 가치와 규범을 따름으로써 안정된 생활을 누릴 수 있으며, 때로는 사회의 변화에 따라 개인의 삶이 크게 바뀌기도 한다. 그러나 개인이 사회에 전적으로 종속되는 것은 아니다. 개인은 사회의 규범을 거부하기도 하고, 사회 구조를 변화시키는 데 앞장서기도 한다. 이처럼 개인과 사회는 서로 영향을 주고받는다.

사회·문화 현상을 분석하고 사회 문제를 해결하고자 할 때 사회 실재론이나 사회 명목론 중 어느 하나의 관점만을 취하면 사회 문제를 제대로 해결하기 어렵다. 사회 실재론만을 중시하면 개인의 자율성과 능동성을 무시하고 개인이 사회에 미치는 영향력을 간과하기 쉽다. 사회 명목론만을 강조하면 사회 구조의 문제를 개인의 탓으로만 돌릴 수 있고, 사회 구조나 제도가 개인의 행위에 미치는 영향력을 제대로 파악하기 어렵다.

따라서 사회·문화 현상을 제대로 이해하고 여러 가지 사회 문제를 올바르게 해결하기 위해서는 사회 실재론과 사회 명목론을 조화롭게 취하여 균형 잡힌 시각으로 사회를 바라보아야 한다.

17. 다음에 나타난 개인과 사회의 관계를 바라보는 관점에 부합하는 진술만을 <보기>에서 고른 것은?

모든 사회에는 세대에서 세대로 전수되며 집단적 삶의 통일성과 연속성의 기반이 되는 공통적인 관념과 감정들이 존재한다. 그것들은 심리학적 성격을 갖는데 개인적 차원이 아닌 사회적 차원으로 접근할 수 있다. 왜냐하면 종교적 전통, 정치적 세계관, 언어 등의 현상은 개인적 차원을 훨씬 넘어 서기 때문이다. 이러한 관념 및 감정들은 실질적인 사회적 삶과 관련되며 개인은 그것들을 존중하고 준수하도록 요구받는다.

- < 보 기 >
- ㄱ. 개인은 사회 속에서만 존재의 의미를 갖는다.
 - ㄴ. 사회는 개인의 외부에서 독자적으로 작동한다.
 - ㄷ. 조직의 역량은 구성원들의 능력을 합한 것과 같다.
 - ㄹ. 사회는 개인의 이익을 실현해 주는 수단에 불과하다.

- ① ㄱ, ㄴ ② ㄱ, ㄷ ③ ㄴ, ㄷ ④ ㄴ, ㄹ ⑤ ㄷ, ㄹ

18. (가), (나)에 나타난 개인과 사회의 관계를 바라보는 관점에 대한 설명으로 옳은 것은?

- (가) 대학의 강의는 참여하는 구성원 개인의 특성에 따라 결정된다. 강의의 질은 교수의 능력에 따라 결정되며, 강의에 대한 평가도 학생들의 개인적 반응에 근거하여 이루어진다.
- (나) 대학의 강의에는 교수와 학생 간에 권력 구조가 존재하며, 교수가 학생들의 학업 정도에 따라 성적을 부여하는 평가 시스템이 존재한다. 또한 강의실에는 수업 시간 준수와 같이 교수와 학생이 따라야 하는 행동 규칙이 작용한다.

- ① (가)는 사회가 개인으로 환원하여 설명할 수 없는 고유한 성격을 지닌다고 본다.
- ② (나)는 개인의 이익이 곧 사회 전체의 이익이라고 본다.
- ③ (가)는 (나)와 달리 개인에 대한 사회 구조의 영향력을 중시한다.
- ④ (가)는 (나)와 달리 개인은 집단 전체와의 관련 속에서만 존재 의미를 지닌다고 본다.
- ⑤ (나)는 (가)와 달리 개인의 자율성보다 사회 규범의 구속성을 중시한다.

19. (가), (나)는 개인과 사회의 관계를 보는 서로 다른 관점이다. 이에 대한 설명으로 옳지 않은 것은?

- (가) 사회 과학의 주된 연구 대상인 사회 제도와 조직들이 그 구성 요소와 별개로 실제 존재하는 것으로 오인하면 안된다. 우주가 원자로 구성되듯이 사회도 개인들로 이루어져 있으므로 복잡한 현상도 개별 요소로 설명해야 한다.
- (나) 의사소통, 교환 등 개인 간의 상호 작용에 주목하는 접근법으로는 사회 현상을 설명할 수 없다. 사회 현상은 순수한 개인적 선택의 결과로 볼 수 없으므로 사회 자체의 논리를 찾아서 이를 설명해야 한다.

- ① (가)는 개인의 자유 의지가 허구적 개념이라고 본다.
- ② (가)는 개인의 속성이 사회의 속성을 결정한다고 본다.
- ③ (나)는 사회가 개인의 외부에 존재하는 고유한 실체라고 본다.
- ④ (가)는 (나)와 달리 개인에 대한 사회 구조의 영향력을 간과한다.
- ⑤ (나)는 (가)와 달리 사회를 유기체에 비유하여 설명한다.

5. 인간의 사회화

인간이 한 사회의 구성원으로 살아가기 위해서는 사회생활에 필요한 행동 양식이나 규범 등을 배우고 익혀야 한다. 즉 개인은 인간다운 자질과 품성을 획득해야만 사회적 존재로 살아갈 수 있다.

인간이 사회 구성원과의 상호 작용을 통해 사회생활에 필요한 지식, 기술, 규범, 가치 등을 학습하는 과정을 **사회화**라고 한다. 개인은 사회화 과정을 거쳐 자아 정체성을 형성하고, 사회 구성원으로서 소속감을 지니게 된다. 또한 사회생활을 하는데 필요한 사고방식과 태도, 욕구 충족 방식 등을 습득한다.

사회화는 사회적 측면에서 사회 구성원이 그 사회의 문화를 공유하도록 하고, 그 사회의 규범과 가치가 전승되도록 한다. 즉 사회화는 사회의 존속과 통합, 발전에 필수적이다.

사회화는 인간이 태어난 후 다른 사회 구성원과 상호 작용을 하면서부터 이루어지고, 언어적 상호 작용이나 보상과 처벌의 경험, 모방이나 동일시 등을 통해 이루어지는 것이 일반적이다.

사회화는 평생에 걸쳐 일어나지만, 영·유아기에 이루어지는 사회화는 특히 중요하다. 왜냐하면 이 시기의 사회화는 개인이 자아 정체성과 인성을 형성하는 데 큰 영향을 줄 뿐만 아니라, 개인이 사회적 존재로 성장하고 생활하는 데 필요한 가장 기초적이고 중요한 것을 습득하도록 하기 때문이다. 따라서 이 시기에 이루어지는 사회화를 **원초적 사회화** 또는 **1차적 사회화**라고 한다. 반면 청소년기와 성인기에 들어선 후 영·유아기에 익힌 사회화의 내용을 심화하거나 전문화하여 새로운 규범과 문화를 습득하는데, 이 과정에서 이루어지는 사회화를 **2차적 사회화**라고 한다.

한편 사회 변동에 따라 새로운 규범이나 가치관, 행동 양식 등을 습득하기도 하는데, 이를 **재사회화**라고 한다. 정보 사회가 도래하면서 컴퓨터 사용법을 익히는 것을 예로 들 수 있다. 또한 사람들은 미래에 속하게 될 집단에서 요구하는 행동 양식을 미리 학습하기도 하는데, 이를 **예기 사회화**라고 한다. 대학 합격생이 예비 대학에서 대학 생활을 미리 배우는 것을 예로 들 수 있다.

인간의 사회화에 영향을 미치는 사회적 관계나 집단을 **사회화 기관**이라고 한다. 사회화 기관은 사회화의 내용에 따라 1차적 사회화 기관과 2차적 사회화 기관으로 분류할 수 있다. **1차적 사회화 기관**은 기초적인 사회화가 이루어지는 기관으로, 가족이나 또래 집단을 예로 들 수 있다. **2차적 사회화 기관**은 전문적인 지식이나 정보 등을 전수함으로써 사회화를 담당하는 기관으로, 학교나 직장이 이에 속한다.

또한 사회화 기관은 형성 목적에 따라 공식적 사회화 기관과 비공식적 사회화 기관으로 분류할 수 있다. **공식적 사회화 기관**은 사회화를 목적으로 설립되어 체계적으로 사회화를 수행하는 기관으로, 학교나 직업 훈련소 등이 있다. **비공식적 사회화 기관**은 사회화 이외의 목적으로 설립되었으나 사회화를 부수적으로 수행하는 기관으로, 직장이나 대중 매체 등이 있다.

일반적으로 개인이 가장 먼저 속하게 되는 사회화 기관은 **가족**이다. 가족은 가장 기초적인 사회화를 담당하는 사회화 기관으로, 개인은 가족 구성원과의 상호 작용을 바탕으로 언어,

예절, 의식주 습관 등을 습득한다.

개인은 자라면서 가족을 벗어나 **또래 집단**과의 상호 작용이 중요해진다. 개인은 또래 집단과 상호 작용을 하면서 집단생활에 필요한 규칙이나 질서 의식 등을 배운다. 특히 청소년기의 또래 집단은 개인의 가치관과 인성 형성에 큰 영향을 미칠 수 있다.

학교는 대표적인 공식적 사회화 기관으로, 학생들에게 지속적이고 체계적인 교육을 시행한다. 학교에서 학생들은 진문화된 지식과 기술 등을 습득하고 사회 생활에 필요한 규칙을 배우며 다른 학생들과 상호 작용을 하면서 사회적 관계를 형성한다.

성인이 되면 사람들 대부분은 일정한 직업을 가지고 **직장**에서 일한다. 직장에서는 개인이 자신의 임무를 수행하는 데 필요한 지식과 기술을 익힌다. 또한 급격한 사회 변화에 적응하기 위해 다양한 재사회화가 이루어지기도 한다.

오늘날에는 **대중 매체**가 개인의 사회화에 미치는 영향력이 점차 확대되고 있다. 사람들은 텔레비전, 인터넷 등과 같은 대중 매체를 통해 많은 정보를 획득하여 사회생활에 필요한 여러 가지 지식이나 기술 등을 얻는다. 특히 정보화의 진전으로 인터넷과 컴퓨터, 스마트폰 등과 같은 뉴 미디어의 보급이 확산되면서 사람들이 정보를 접하는 방식 자체가 변화하고 있다. 더불어 사회화의 방식과 내용에도 많은 변화가 나타나고 있다.

사람들은 사회 속에서 다른 사람과 관계를 맺고 생활하는데, 이때 개인은 사회적 관계 내에서 각각의 위치를 가진다. 이처럼 한 개인이 사회 속에서 차지하는 위치를 **지위**라고 한다. 이 중 딸이나 아들, 딸이, 손자 등과 같이 개인의 의지나 노력과 상관없이 주어지는 지위를 **귀속 지위**라고 한다. 반면 회사원, 대학생, 어머니, 아버지 등과 같이 개인의 의지나 노력을 통해 후천적으로 획득한 지위를 **성취 지위**라고 한다. 전통적인 신분 사회에서는 귀속 지위가 중요하였으나, 현대 사회에서는 성취 지위의 비중과 중요성이 커지고 있다.

한편 개인이 차지하는 지위에 따라 요구되거나 기대되는 행동 양식을 **역할**이라고 한다. 같은 지위라도 시대나 장소의 변화에 따라 기대되는 역할은 달라질 수 있다.

같은 지위와 역할을 가졌더라도 역할을 실제로 수행하는 방식은 차이가 날 수 있다. 예를 들어 같은 회사에서 부장이라는 지위를 가지는 두 사람이 있다고 할 때, 한 사람은 부하 직원의 업무 처리 과정을 꼼꼼하게 검사하는 반면 다른 사람은 자율적으로 처리하도록 둘 수도 있다. 이처럼 지위에 따라 요구되는 역할을 실제로 수행하는 것을 **역할 행동** 또는 역할 수행이라고 한다.

개인의 행동에 관한 사회적 평가는 역할 행동을 기준으로 내려지는 것이 일반적이다. 역할을 잘 수행한 사람에게는 보상이 따르고, 그렇지 않은 사람에게는 제재나 비난이 따른다. 또한 역할 행동에 따른 보상과 제재는 사회 구성원이 사회적으로 바람직한 행동을 하도록 유도하고, 바람직하지 않은 행동을 하지 않도록 억제하는 기능을 한다. 학교에서 책을 많이 읽은 학생에게 상을 주는 것은 역할 행동에 따른 보상에 해당한다. 이에 따라 책을 많이 읽는다는 역할 행동이 강화될 수 있다. 한편 학생이 학업을 등한시하고 비행을 저지르는 것은 학생에게 기대된 역할을 수행하지 못한 것이므로 비난이나 제재가 가해질 수 있다.

개인은 일반적으로 여러 지위를 동시에 가진다. 이때 서로 다른 지위에 따른 역할 간에 충돌이 발생하는 것을 **역할 갈등**이라고 한다. 회사원이면서 학부모인 어떤 사람이 자녀의 담임 선생님과 상담하기로 약속한 날짜에 갑자기 출장을 가야 할 일이 생기면 그 사람은 회사원으로서 해야 할 역할과 학부모로서 해야 할 역할 간에 충돌이 나타나 고민에 빠질 수밖에 없는데, 이 상황이 역할 갈등에 해당한다.

사회가 복잡해지면서 개인이 가지는 지위도 많아져 역할 갈등이 발생할 가능성도 커지고 있다. 역할 갈등을 겪는 사람이 많을수록 사회도 그만큼 불안정해지기 쉬우므로 역할 갈등을 원만하게 해결하기 위한 노력이 필요하다. 먼저 개인은 자신의 가치관을 분명히 하고 역할 갈등이 발생하면 역할의 우선순위를 정하여 중요한 것부터 처리하거나 여러 역할 중 하나를 선택하는 것과 같이 합리적인 타협점을 찾아야 한다. 이와 더불어 역할 갈등을 겪는 사람의 상대방은 관용 정신을 발휘해야 한다. 그리고 사회적으로는 빈번하게 나타나는 역할 갈등 상황에서 개인이 합리적으로 역할 갈등을 해결할 수 있도록 제도적 장치를 마련해야 한다.

20. 밑줄 친 ㉠ ~ ㉣에 대한 옳은 설명만을 <보기>에서 고른 것은?

㉠ 프로 축구팀에서 선수로 활동했던 갑은 은퇴 직후 취미로 축구와 관련된 ㉡ 인터넷 개인 방송 운영자로 활동하였다. 구수한 입담과 직설 화법으로 ㉢ 큰 인기를 얻어 구독자 수가 100만 명을 돌파한 갑에게 여러 ㉣ 방송사로부터 예능 프로그램의 ㉤ 고정 출연자로 출연해 달라는 요청이 쇄도하였다. 이에 갑은 자신의 꿈이었던 축구 감독이 되기 위해 해외로 지도자 연수를 떠날지, 방송사의 제안을 받아들여 본격적으로 방송인의 길을 갈지 ㉥ 고민 중이다.

< 보 기 >
가. ㉠, ㉡은 모두 비공식적 사회화 기관이다.
나. ㉢은 ㉣과 달리 성취 지위이다.
다. ㉢은 ㉠으로서 갑의 역할 행동에 대한 보상이다.
라. ㉤은 갑의 역할 갈등에 해당한다.

- ① 가, 나 ② 가, 다 ③ 나, 다 ④ 나, 라 ⑤ 다, 라

21. 밑줄 친 ㉠ ~ ㉣에 대한 설명으로 옳은 것은?

갑은 ㉠ 광고 회사 재직 중 세계 일주 여행을 결심하였다. 장기 휴가에 대해 상사에게 어떻게 말할지 ㉡ 고민하던 갑은 다니던 회사를 ㉢ 퇴직하기로 결정하였다. 갑은 자신의 퇴직에 대해 부모님과 ㉣ 갈등을 겪었으나 결국 여행을 떠났다. 여행 중 블로그에 올린 글과 사진을 모아 포토 에세이집을 출간한 갑은 ㉤ 출판 시장에서 좋은 반응을 얻으면서 큰 ㉥ 소득을 올렸다. 이를 계기로 마침내 갑은 ㉦ 청소년 시절부터 꿈꿔 왔던 ㉧ 베스트셀러 작가가 되었다.

- ① ㉠은 2차적 사회화 기관이자 공식적 사회화 기관이다.
- ② ㉡은 ㉢과 달리 갑의 역할 갈등이다.
- ③ ㉢은 ㉣과 달리 갑의 역할 행동에 대한 제재이다.
- ④ ㉤은 ㉥으로서의 갑의 역할 행동이다.
- ⑤ ㉦은 자연적으로 주어진 귀속 지위이다.

22. 밑줄 친 ㉠ ~ ㉣에 대한 설명으로 옳은 것은?

㉠ 영화배우 갑은 극중 인물과의 동일시를 위해 극중 인물의 삶을 직접 체험하는 것으로 유명하다. 몸이 불편한 화가 역할을 위해 촬영 전부터 휠체어에서 생활하거나 북미 지역의 원주민 역할을 위해 ㉡ 직접 사냥한 고기만으로 식사를 하기도 하였다. 한번은 영화 속 원수인 상대 배우에게 실제로 적대감을 드러내 동료에게 ㉢ 비난을 받기도 하였다. ㉣ 배역에 대한 지나친 몰입으로 촬영이 끝난 후에 극심한 ㉤ 정체성의 혼란을 겪은 갑은 돌연 은퇴를 선언하였다. 그는 ㉥ 영화 제작사 임원 자리 제안을 거절하고 화가가 되겠다고 ㉦ 예술 대학원에 입학하였다.

- ① ㉠, ㉢은 모두 갑의 성취 지위이다.
- ② ㉡은 ㉠으로서 갑의 역할 행동이다.
- ③ ㉢은 갑의 역할에 대한 제재이다.
- ④ ㉤은 갑이 경험한 역할 갈등이다.
- ⑤ ㉥, ㉦은 모두 공식적 사회화 기관이다.

23. 밑줄 친 ㉠ ~ ㉣에 대한 설명으로 옳은 것은?

갑은 어려서부터 ㉠ 또래 집단과 어울리기보다는 혼자서 ㉡ 사색하기를 즐겼다. 청소년기에 접어든 갑은 어느 학자와의 만남을 계기로 학문에 뜻을 품고 철학, 사회, 역사 등 ㉢ 여러 분야의 서적을 섭렵했다. 그 후 철학자가 된 갑은 현실 사회를 비판하는 주장을 펼쳐 다른 입장을 가진 ㉣ 철학자들과 갈등을 겪었다. 그러나 갑은 왕성한 ㉤ 저술과 강연 활동으로 ㉥ 청년 세대의 지지와 존경을 받으면서 ㉦ 학문 발전을 위해 크게 힘썼다.

- ① ㉠은 비공식적 사회화 기관이자 2차적 사회화 기관이다.
- ② ㉡은 갑의 예기 사회화에 해당한다.
- ③ ㉢은 갑의 제사회화에 해당한다.
- ④ ㉣은 하나의 지위에 둘 이상의 역할이 동시에 기대될 때 나타나는 상황이다.
- ⑤ ㉤에 대한 보상에 ㉥은 해당하나 ㉦은 해당하지 않는다.

24. 밑줄 친 ㉠ ~ ㉣에 대한 설명으로 옳은 것은?

갑은 교사가 되길 원하던 어머니의 희망대로 ㉠ 사회교육과에 진학하였다. 그러나 어릴 적부터 간절히 진학을 꿈꿔 온 ㉡ 미술 대학이 아니었기 때문에 갑은 점점 ㉢ 학업에 흥미를 잃고 강의에도 자주 결석하였다. 사범 대학을 계속 다닐지 말지 거듭 ㉣ 고민하던 갑은 두 학과의 교육과정을 모두 이수할 수 있는 복수 전공제가 있다는 것을 알고 미술교육과의 강의를 듣기 시작하였다. 또한, 미술교육과 친구들이 추천한 ㉤ 교육 봉사 동아리에 가입하여 열심히 활동하였다. 이 과정에서 가르침의 보람을 느끼게 된 갑은 졸업식장에서 ㉥ 성적 최우수상을 받을 것을 기대하며 학과 공부에 매진하고 있다.

- ① ㉠은 2차적 사회화 기관, ㉢은 공식적 사회화 기관이다.
- ② ㉡은 갑의 내집단이자 비공식적 사회화 기관이다.
- ③ ㉢의 원인은 소속 집단과 준거 집단 간의 불일치에 있다.
- ④ ㉣은 갑이 겪은 역할 갈등이며, 제도적 뒷받침에 의해 해결되었다.
- ⑤ ㉤은 갑의 역할에 대한 보상에 해당한다.

6. 사회 집단과 사회 조직

인간은 가족, 학교, 직장 등 여러 사회 집단 속에서 다른 사람들과 어울려 생활한다. “인간은 사회적 동물이다.”라는 말은 사회 집단 속에서 생활하는 인간의 특성을 잘 나타낸 말이다.

사회 집단이란 둘 이상의 사람들이 소속감이나 공동체 의식을 가지고 지속적인 상호 작용을 하는 모임을 의미한다. 따라서 가족, 또래 집단, 학교, 직장, 동호회 등은 모두 사회 집단에 해당한다.

이와 달리 영화 관람이 끝나면 흩어지는 관람객은 사회 집단이라고 할 수 없다. 이들은 서로 같은 집단에 속해 있다는 소속감을 지니고 있지 않으며, 의미 있고 지속적인 상호 작용을 하지 않기 때문이다.

사회 집단은 구성원 간의 **접촉 방식**에 따라 1차 집단과 2차 집단으로 구분할 수 있다. **1차 집단**은 친밀한 대면 접촉을 바탕으로 이루어지는 집단을 말한다. 1차 집단은 일반적으로 적은 수의 사람들로 구성되고, 구성원은 직접적이고 전면적인 접촉을 주로 하며 친밀한 상호 작용을 한다. 또한 개인의 정체성과 인격 형성에 원초적인 역할을 하므로 원초 집단이라고도 하며, 가족이나 또래 집단 등이 대표적이다.

2차 집단은 특정 목적을 달성하기 위해 구성원 간에 형식적·계약적 접촉이 이루어지는 집단이다. 2차 집단은 공식적이고 수단적인 만남과 이해관계에 기초한 인간관계가 주를 이루며, 자아 정체성 형성에 미치는 영향도 1차 집단보다 적다. 회사나 정당 등이 대표적인 2차 집단이다.

사회 집단은 구성원의 **결합 의지**에 따라 공동 사회(공동체)와 이익 사회(결사체)로 구분할 수 있다. **공동 사회(공동체)**는 인간의 본능적 의지에 따라 자연 발생적으로 형성된 집단으로, 가족이나 소규모의 촌락 등이 전형적인 예이다. 공동 사회(공동체)의 구성원은 공동의 가치관과 정서를 지니고 있으며 주로 친밀한 인간관계를 맺는다.

이익 사회(결사체)는 구성원이 필요할 때 선택적 의지에 따라 인위적으로 형성한 집단으로 회사나 학교, 정당 등이 해당한다. 이익 사회(결사체)에서 구성원의 결합은 특정한 목적을 달성하기 위한 수단이 되고, 개인의 이해관계에 따른 의도적인 인간관계가 형성된다.

사회 집단은 **소속감**을 기준으로 내집단과 외집단으로 구분할 수 있다. 자신이 소속해 있으면서 강한 소속감을 느끼는 집단을 **내집단** 또는 우리 집단이라고 한다. 반면 자신이 소속해 있지 않으면서 이질감을 느끼는 집단을 **외집단** 또는 그들 집단이라고 한다. 사람들은 내집단을 통해 자아 정체감을 형성하고 집단 구성원에게 강한 동질감을 느낀다. 내집단 의식이 지나치게 강하면 다른 집단과 갈등을 빚을 수 있고, 개인이 집단에 구속되기도 한다.

그런데 내집단과 외집단은 고정불변의 것이 아니며 상황에 따라 달라질 수 있다. 학급별 대항 축구 대회가 열릴 때는 다른 학급이 외집단이지만 학급별 대항 축구 대회가 열릴 때는 다른 학급도 내집단이 된다. 이는 상대 학교가 외집단이 되고 학교 내 다른 학급은 우리 학교라는 내집단에 포함되기 때문이다.

사람들이 자신의 행동이나 가치 판단의 기준으로 삼는 집단을 **준거 집단**이라고 한다. 즉 준거 집단은 한 개인이 자신의

신념이나 태도, 가치관 등을 규정하고 행동하는 데 있어 지침으로 삼는 집단이다. 한 사람의 준거 집단을 알면 그 사람의 행동이나 특성을 이해하는 데 큰 도움이 된다.

한 사람에게서는 한 개의 준거 집단만 존재하는 것이 아니라, 여러 개의 준거 집단이 동시에 존재할 수 있다. 어떤 대학생이 특정 직업 집단을 선호하여 그 집단에 속하려고 노력할 때 그 직업 집단은 그 학생의 준거 집단이 된다. 동시에 자신이 다니는 대학교를 기준으로 삼고 생활한다면 그 학생에게 자신이라고 있는 대학교도 준거 집단이 된다.

준거 집단이 소속 집단이면 소속 집단에 관한 만족감이 높고 자신의 판단과 행동에 자신감을 지니게 되어 안정적인 사회생활을 할 수 있다. 반면 소속 집단과 준거 집단이 일치하지 않으면 개인은 자신의 소속 집단에 불만을 품거나 준거 집단에 속하고자 노력할 수도 있다.

학교나 회사 등의 사회 집단은 가족이나 또래 집단과 같은 사회 집단과 비교할 때 몇 가지 차이점이 있다. 학교나 회사는 가족이나 또래 집단과 비교하면 분명한 목표를 지니고, 더 체계적으로 구성되어 있다. 이처럼 구체적인 목표를 지니고 있으며, 집단의 목표를 달성하기 위해 구성원의 지위와 역할이 명확하게 구분된 사회 집단을 **사회 조직**이라고 한다. 사회 조직은 공식적인 규범과 절차에 따라 구성원의 행동을 통제하며, 다른 집단과의 경계가 뚜렷하다. 사회 조직 내에서 개인은 구조화된 상호 작용을 하며 형식적이고 수단적인 관계를 맺는다.

일반적으로 사회 조직은 공식 조직이다. **공식 조직**이란 특정한 목표 달성과 과업 수행을 위해 의도적이고 합리적인 기준에 따라 만들어진 사회 집단으로 학교, 병원, 기업 등이 해당한다. 공식 조직 내에 존재하면서 공통의 관심사나 취미 등에 따라 형성된 조직을 **비공식 조직**이라고 한다. 회사 내의 축구 동호회나 동문회 등이 비공식 조직에 해당한다. 비공식 조직은 공식 조직과는 다른 목표를 지니고 있으며, 비공식 조직에 속하는 사람들은 공식 조직에서와는 다른 지위와 역할을 지닐 수 있다. 예를 들면 회사에서는 사원이라는 지위를 가지는 사람이 동호회에서는 회장이 될 수도 있다.

비공식 조직은 공식 조직보다 친밀한 인간관계를 더 중시한다. 따라서 비공식 조직이 활성화하여 원활하게 기능하면 구성원의 만족감이나 사기가 높아져 공식 조직 내에서 느끼는 긴장감과 소외감을 해소할 수 있다. 이를 바탕으로 공식 조직의 과업 능률이 향상하고 조직의 효율성이 높아질 수 있다. 하지만 비공식 조직의 구성원이 비공식 조직의 목표를 공식 조직의 목표보다 우선시하면 공식 조직의 업무 수행 효율성을 저해하기도 하고, 비공식 조직 내에서의 개인적인 친분이 공식 조직의 업무나 인사 등에 부정적 영향을 끼치는 등의 역기능이 발생할 수도 있다.

현대 사회에서는 사람들이 공통의 관심사나 목표를 달성하기 위해 자발적으로 결성하는 조직이 증가하고 있는데, 이를 **자발적 결사체**라고 한다. 자발적 결사체에는 공익을 추구하는 시민 단체, 특정 집단의 이익을 대변하는 이익 집단, 천목에 관심을 두는 천목 집단 등이 있다.

현대 사회에는 수많은 자발적 결사체가 있고 그 형태나 운영 방식은 다양하지만 몇 가지 공통점이 있다. 먼저 자발적 결사체는 가입과 탈퇴가 자유롭다. 회사처럼 입사할 때 회사가 요구하는 특정 요건을 충족해야 하는 것이 아니라, 자신이 가

진 관심사나 목표에 따라 가입이나 탈퇴가 이루어지기 때문이다. 또한 자발적 결사체는 학교나 회사와 같은 조직보다 운영 형태가 더 다양하고 유연하여 그만큼 융통성 있는 조직 운영이 가능하다. 그리고 구성원의 자발성이 큰 만큼 구성원이 조직에 관한 열의가 높고 다양한 이해관계나 가치를 반영하는 조직 활동을 통해 사회의 다원화에 이바지하는 측면도 있다.

자발적 결사체는 공식 조직의 형태를 띠 수도 있고, 비공식 조직의 형태로 존재하기도 한다. 시민 단체나 이익 집단은 공식 조직이면서 자발적 결사체이다. 회사나 학교 내에 존재하는 동호회는 비공식 조직이면서 자발적 결사체에 해당한다.

25. 사회 조직의 유형 A~C에 대한 설명으로 옳은 것은?

- A, B는 각각 과업 달성을 위한 조직이며, 조직의 효율성을 제고하기 위한 운영 원리가 적용된다.
- A에서는 의사 결정의 권한이 분산되어 있으며, 외부 환경 변화에 대한 유연한 대처와 신속한 의사 결정이 가능하다. B에서는 조직 내 지위가 경력에 따라 서열화되어 있으며, 규약과 절차에 따른 구성원들의 업무 수행을 강조한다.
- A 또는 B의 구성원들이 조직 내에서 친밀한 인간관계에 바탕을 두고 자발적으로 결성한 것이 C이다.

- ① 기업의 노동조합은 C에 해당한다.
- ② A, B는 공식적 제재를 통해 구성원을 통제한다.
- ③ B는 A에 비해 상향식 의사 결정 방식을 강조한다.
- ④ A, C는 B와 달리 구성원들의 가입과 탈퇴가 자유롭다.
- ⑤ C에서는 A, B와 달리 구성원 간 수단적 만남과 간접적 접촉이 이루어진다.

26. 밑줄 친 ㉠ ~ ㉣에 대한 설명으로 옳은 것은?

- 갑은 동료 교사들과 ㉠ 학교 내 ㉡ 연극 동아리 활동을 하면서 ‘햄릿’ 공연을 준비하고 있다. ㉢ 주인공 햄릿 역할을 맡은 갑은 원작을 어떻게 해석해 연기를 해야 할지 ㉣ 고민에 빠졌다.
- 을은 ㉤ △△김씨중친회 총무이다. 또한 평소 환경 문제에 관심이 있어 ㉥ □□환경연대라는 환경 단체에서 상임 위원으로 선출되어 활동하고 있다. 그런데 이번 주말에 두 모임의 일정이 겹쳐 어떻게 해야 할지 ㉦ 고민에 빠졌다.

- ① ㉠은 갑의 내집단이면서 공동 사회이다.
- ② ㉢은 갑의 ㉡에서의 성취 지위이다.
- ③ ㉤은 혈연적 특성에 의해 선천적으로 부여된 지위이다.
- ④ ㉥은 ㉠과 같이 과업 지향적인 공식 조직이다.
- ⑤ ㉦은 갑의, ㉦은 을의 역할 갈등에 해당한다.

27. 밑줄 친 ㉠ ~ ㉣에 대한 설명으로 옳은 것은?

㉠ 아이돌 그룹의 멤버가 되기를 꿈꾸어 왔던 갑은 신인 아이돌 그룹 ㉡ ☆☆☆☆의 팬클럽을 결성하여 회장으로 활동하였다. 학교 친구들과 ㉢ 댄스 모임을 만들어 꾸준히 연습하던 갑은 방송사의 음악 경연 프로그램에 참가하였지만 ㉣ 예선 탈락의 아픔을 맛보았다. 이에 좌절하지 않고 더욱 분발한 갑은 마침내 ㉤ △△ 기획사에서 개최한 ㉥ 공개 오디션에 합격하였고, 솔로 가수로 데뷔하여 큰 인기를 얻었다. 최근 갑은 무의탁 노인을 대상으로 봉사하는 ㉦ ◇◇ 단체의 홍보 대사로 위촉되어 공연을 하는 등 재능 기부로 나눔을 실천하는 데 앞장서고 있다.

- ① ㉠은 갑의 준거 집단이자 내집단이다.
- ② ㉡은 자발적 결사체이자 이익 사회이다.
- ③ ㉣은 전인격적 인간관계를 바탕으로 한다.
- ④ ㉢과 ㉤은 모두 2차 집단이자 공식 조직이다.
- ⑤ ㉢과 ㉤은 각각 갑의 역할에 대한 제재와 보상이다.

28. 사회 집단 및 사회 조직 A~D에 대한 설명으로 옳은 것은? (단, A~D는 각각 가족, 사내 동호회, 시민 단체, 학교 중 하나이다.)

- ‘공통의 관심과 목표에 따라 자발적으로 결성하였는가?’라는 질문에 따라 B, D는 A, C와 구분된다.
- ‘선택 의지에 따라 형성하였는가?’라는 질문으로는 A, C, D를 구분할 수 없다.
- ‘명시적 규약과 체계화된 업무 수행 방식을 갖추었는가?’라는 질문에 따라 A, D는 B, C와 구분된다.

- ① C는 공식적 사회화 기관이다.
- ② A는 2차 집단, B는 1차 집단이다.
- ③ D는 A에 비해 가입과 탈퇴가 자유롭다.
- ④ D는 B, C와 달리 구성원에 대한 비공식적 통제가 일반적이다.
- ⑤ A, D는 이익 사회, B, C는 공동 사회이다.

7. 일탈 행동

사회 구성원의 행위가 정상적인가 아닌가를 판단하는 기준이 되는 법이나 도덕 등을 사회 규범이라고 하는데, 이러한 사회 규범에 어긋나는 행위를 **일탈 행동**이라고 한다. 즉 일탈 행동은 사회 구성원이 용인할 수 있는 범위를 벗어나는 행동이다.

일탈 행동을 판단하는 기준은 시대의 변화에 따라 달라진다. 우리나라에서 1970년대에는 여성이 짧은 치마를 입고 다니는 것을 단속하였지만, 오늘날은 그렇지 않다. 또한 일탈 행동을 규정하는 기준은 장소와 사회에 따라 달라지기도 한다. 여성이 남성과 같이 교육을 받는 것이 우리나라에서는 아무런 문제가 되지 않지만, 일부 이슬람 국가에서는 일탈 행동이 되기도 한다. 이처럼 일탈 행동은 상황에 따라 다르게 규정되는 **상대성**을 지닌다.

일탈 행동은 사회 규범에서 벗어난 행위이기 때문에 부정적으로 여겨지는 경우가 많다. 범죄와 같은 일탈 행동이 증가하면 사회는 그만큼 불안정해지고 혼란을 겪을 가능성이 커지는 등과 같이 일탈 행동은 대부분 현존하는 사회 질서 유지에 부정적 영향을 미친다. 또한 일탈 행동을 하는 사람들이 증가하면 사회적 가치와 규범이 무너져 사회가 무질서 상태에 빠져들 수도 있다. 이 때문에 대부분 사회에서는 일탈 행동의 발생을 막으려고 노력한다. 일탈 행동을 하지 않도록 구성원들을 교육하고, 일탈 행동을 한 사람에게 형벌이나 비난과 같은 사회적 제재를 가하는 것은 일탈 행동이 사회에 부정적 영향을 미치는 것을 줄이기 위한 노력이라고 할 수 있다.

하지만 일탈 행동이 사회에 반드시 부정적인 영향만을 미치는 것은 아니다. 사회에 큰 충격을 주는 일탈 행동이 발생하면 많은 사회 구성원은 사회 규범에 관해 다시 한번 생각해 본다. 또한 사회 제도의 문제점은 무엇이며 그 문제점을 어떻게 보완할지 고민하고 논의하기도 한다. 이는 일탈 행동을 통해 사회가 한 단계 더 발전할 수 있는 계기가 될 수도 있음을 보여 준다. 한편 시대를 앞서가는 천재나 선구자의 행동도 그 당시 사회 규범에 비추어 보면 일탈 행동에 해당할 때가 있다. 하지만 이들의 창의적이고 선구자적인 행동이 때로는 사회의 변동과 발전을 이끄는 촉매제가 되기도 한다.

일탈 행동이 왜 발생하는지, 그리고 이를 해결하려면 어떤 노력을 해야 하는지에 많은 사람이 관심을 가진다. 왜냐하면 일탈 행동이 사회에 미치는 영향이 그만큼 크기 때문이다.

과거에는 일탈 행동이 개인의 신체적 특징이나 심리적 특성의 영향을 받는다고 보는 사람들도 있었다. 하지만 오늘날에는 일탈 행동이 단순히 개인적 요인 때문에 발생한다고 보지 않으며, 개인의 사회적 환경과 배경, 사회 구조와 개인 간의 관계 등에 따라 발생한다고 본다.

일탈 행동이 발생하는 원인을 다양한 이론적 관점에서 설명할 수 있는데, 대표적인 이론으로 아노미 이론, 차별 교제 이론, 낙인 이론 등이 있다.

뒤르켐(Durkheim, E.)은 급격한 사회 변동으로 기존의 지배적인 규범이나 가치관이 무너지고, 이를 대체할 새로운 가치관이 정립하지 않은 혼란한 '무규범 상태'를 **아노미(anomie)**라고 하였다. 사람들은 규범이 급격히 변화하거나 보편적인 규범의 통제력이 약해질 때 규범적 혼란을 겪기 쉽고, 이에 따라 정서적 불안정에 빠지거나 규범적 일관성을 가지기 어려워져 비행

이나 범죄와 같은 일탈 행동을 저지른다는 것이다. 노인을 공경해야 한다는 의식이 약화하여 일탈 행동이 나타난다고 본 것은 뒤르켐의 아노미 이론으로 설명할 수 있는 일탈 행동의 사례이다.

머튼(Merton, R. K.)은 '문화적 목표'와 '제도적 수단' 간의 괴리에 따른 가치관의 혼란 상태를 '아노미'라고 규정하였다. 사회 구성원은 사회적으로 달성하고자 하는 문화적 목표가 있는데 그 목표를 달성하기 위한 수단이 제대로 갖추어지지 않을 때, 개인은 아노미 상태에 빠지고 그에 따라 일탈 행동을 저지른다는 것이다. 즉 욕구나 목표가 있는 사람들이 그것을 달성할 수 있는 합법적 수단을 가지지 못할 때 일탈 행동이 발생할 가능성이 커진다고 본다. 절도와 같은 비합법적 수단을 이용하여 경제적 풍요를 누리고 싶은 욕망이 일탈 행동의 원인이 된다고 본 것은 머튼의 아노미 이론으로 설명할 수 있는 일탈 행동의 사례이다.

차별 교제 이론은 일탈 행동을 하는 집단이나 개인과 접촉함으로써 일탈 행동을 저지르는 방법을 자연스럽게 배워 일탈자가 된다는 이론이다. 개인이 우범자들과 지속해서 교류함으로써 일탈자가 되는 것은 차별 교제 이론으로 잘 설명할 수 있다. 이 이론에 따르면 일탈 행동이나 범죄를 저지른 경험이 있는 사람들과 교제를 많이 하는 사람은 그들에게서 반사회적인 행동과 문화, 범죄를 정당화하는 논리 등을 학습할 기회가 많아진다. 이 때문에 일탈 행동이나 범죄를 저지를 가능성이 커지게 된다.

차별 교제 이론은 일탈 행동이 발생하는 과정을 설명하는데 용이하지만, 일탈 행동을 하는 집단과 교류하는 사람이 모두 일탈자가 되는 것은 아니라는 점에서 한계가 있다.

낙인 이론은 어떤 개인이나 집단의 행위를 다른 사람들이 일탈이라고 규정하면 그 행위가 곧 일탈 행동이 된다고 보는 이론이다.

낙인 이론에서는 일탈 행동의 상대성을 강조한다. 즉 일탈은 특정 행위 자체가 가지는 본질적인 특성이 아니라, 그 행위가 발생하는 상황과 여건에 따라 규정되는 것이라고 본다. 낙인 이론은 사회적으로 영향력 있는 집단이나 개인의 낙인찍기가 일탈자를 만들어 낸다는 점에 주목한다. 특정 개인이나 집단에 일탈자라는 낙인이 찍히면 일탈자는 자신이 일탈자라는 생각을 더 강하게 하고, 이에 따라 일탈 행동을 계속하게 된다는 것이다. 전과자가 지속해서 일탈 행동을 저지르는 사례는 낙인 이론으로 설명하기에 용이하다. 하지만 낙인 이론은 사회적으로 낙인찍히지 않은 상태에서도 계속 일탈 행동을 저지르는 사람의 행동을 설명하기 곤란하다는 점에서 한계가 있다.

일탈 행동이 사회에 부정적 영향을 미치는 것을 최소화하기 위해서는 일탈 행동을 슬기롭게 해결해야 한다. 일탈 행동에 관한 해결 방안을 마련하고 이를 시행하기 위해서는 먼저 일탈 행동이 발생하는 원인을 고찰하고 이에 맞는 해결책을 제시해야 한다.

아노미 현상이 일탈 행동의 원인이라고 볼 때는 아노미적 상황을 해결하도록 해야 한다. 급격한 사회 변동에 따른 가치관과 규범의 혼란으로 일탈 행동이 발생하면 사회 규범을 확립하여 사회 통제 기능을 강화해야 한다. 또한 목표를 달성할 수 있는 적절한 수단이 없어 아노미가 발생한 때는 사회 구성원에게 적절한 기회를 제공하여 목표와 수단 간의 괴리를 줄

여야 한다.

차별 교제 이론의 관점에서 일탈 행동의 원인을 찾을 때는 일탈 행동을 하는 사람들과의 접촉을 차단하여 일탈 행동을 사회적으로 학습하지 않도록 하는 것이 중요하다.

낙인 이론의 측면에서 볼 때 사람들의 특정한 행위를 일탈 행동으로 규정하는 일이 빈번하게 발생하면 일탈자가 증가하고 사회 불안이 커질 수 있다. 따라서 특정 행위를 일탈 행동으로 규정할 때 신중하게 해야 한다.

특정 이론의 관점만으로는 일탈 행동을 모두 설명하거나 완벽한 해결 방안을 제시하기는 어렵다. 따라서 일탈 행동과 관련이 있는 여러 가지 이론과 해결 방안을 종합적으로 고려하여 일탈 행동을 해결하도록 노력해야 한다.

29. 일탈 행동 이론 (가), (나)에 대한 설명으로 옳은 것은?

(가) 누구나 일탈 행동을 할 수는 있지만, 그들 모두가 일탈자가 되는 것은 아니다. 누군가의 일탈 행동이 알려지게 되어 사람들이 그를 일탈자로 대하면, 그 역시 스스로를 일탈자로 받아들여지게 된다.

(나) 일탈 행동도 사회화 과정을 거친다. 일탈 행동은 일탈자들과 빈번히 만나 의사소통하면서 학습된다. 단지 일탈 행동뿐만 아니라 그 행동을 정당화하는 가치와 태도까지 내면화하게 된다.

- ① (가)는 차별적 교제를 일탈 행동의 원인으로 강조한다.
- ② (가)는 일탈 행동 자체보다는 그에 대한 사회의 반응에 주목한다.
- ③ (나)는 무규범 상태를 일탈 행동의 원인으로 강조한다.
- ④ (나)는 일탈 행동을 규정하는 합의된 기준이 없다고 본다.
- ⑤ (가), (나) 모두 일탈 행동에 대한 대책으로 강력한 사회 통제를 강조한다.

30. 일탈 행동을 바라보는 (가)~(다)의 이론적 관점에 대한 설명으로 옳은 것은?

사회 계층과 범죄율 간에 부(-)의 관계가 나타난다는 주장에 대해 다음과 같은 견해들이 제시되고 있다.

(가) 부를 획득하기 위한 합법적 수단은 계층에 따라 차등 분포되어 있다. 하위 계층은 상위 계층에 비해 문화적 목표와 합법적 수단 간 불일치로 인한 긴장의 정도가 더 커서 일탈 행동을 할 가능성이 높다.

(나) 일탈자로 규정되는 과정에서 규범 위반 여부보다 더 중요한 변인은 개인의 사회적 위치에 따른 차별적 반응이다. 즉, 하위 계층에 보다 엄격한 규범이 적용되고, 이들이 일탈자로서의 정체성을 형성하면서 일탈 경력이 강화된다.

(다) 일탈 행동이 하위 계층의 부적응에서 기인하거나 사회의 차별적 반응의 결과라는 주장에는 문제가 있다. 일탈 행동은 반사회적 행동 성향을 지닌 타인들과 지속적으로 대면 접촉한 결과이다. 일탈에 동조하는 가치, 태도, 행위에 노출된 결과, 일탈을 위한 동기 부여와 기술 습득이 이루어진다.

- ① (가)의 관점은 불평등한 사회 구조와 계급 간 갈등을 일탈 행동의 근본 원인이라고 본다.
- ② (나)의 관점은 일탈 행동이 비행 집단과의 교류로 인한 잘못된 사회화에서 비롯된 것이라고 본다.
- ③ (다)의 관점은 사회의 지배적인 규범이 약화되거나 해체될 때 일탈 행동이 증가한다고 본다.
- ④ (나)의 관점은 (가)의 관점과 달리 일탈 행동의 원인을 거시적 관점에서 바라본다.
- ⑤ (다)의 관점은 (가)의 관점과 달리 일탈 행동을 타인과의 상호작용의 산물로 본다.

8. 문화의 의미와 속성

인간은 털이 많은 곰과 달라 추위를 이겨 내기 어렵고, 민첩한 영양과도 달라 맹수의 추적을 따돌리기도 쉽지 않다. 그런데도 인간이 다른 동물보다 우월하다고 하는 이유는 무엇일까? 그것은 인간이 문화를 가진 존재이기 때문이다. 인간은 불이나 집, 옷을 이용하여 추위를 견딜 수 있고, 활이나 총을 이용해 다른 동물로부터 자신을 보호할 수 있으며 먹을 것을 획득할 수 있다. 즉 인간은 동물처럼 자연환경에 본능적으로만 대응하지 않고 문화라는 수단을 이용하여 자연환경을 극복해 왔다.

과거 수렵·채집 사회에서 인간은 식량과 주거지를 찾아 끊임없이 옮겨 다니는 불안정한 생활을 하였다. 그러나 농경을 시작하면서 정착 생활을 하였고, 이러한 정착 농경 생활은 인류의 생활을 이전보다 풍요롭게 하는 데 이바지하였다. 이렇듯 인간은 문화를 창조하여 환경적인 제약을 극복하고 환경에 적응해 왔다.

우리는 일상생활에서 문화라는 말을 자주 사용하는데, 그 의미는 다양하다. 예를 들어 '문화인'에서 '문화'는 고급스러운 것 또는 교양 있는 것을 의미하고, 신문의 '문화면'에서 '문화'는 예술적인 것을 의미한다. 이때 문화는 **좁은 의미의 문화**에 해당한다.

그리고 '한국 문화', '청소년 문화'에서 '문화'는 한 사회의 구성원이 공유하는 모든 생활 양식을 의미하는 것으로, **넓은 의미의 문화**에 해당한다. 여기서 생활 양식이란 의식주, 사고방식, 가치관 등 인간이 주어진 환경에 적응하면서 살아가는 모든 방식을 의미한다. 한국에서 자란 사람과 미국에서 자란 사람은 사고 방식, 가치관, 행동 양식 등이 다른데, 이는 서로 다른 문화적 환경에서 성장하였기 때문이다. 이처럼 문화를 통해 다양한 인간 사회의 모습을 이해하기 위해서는 문화를 넓은 의미로 파악해야 한다. 영국의 인류학자 타일러(Tylor, E. B.)는 "문화란 지식, 신앙, 예술, 도덕, 법률, 관습, 기타 사회 구성원으로서 인간이 획득한 모든 능력이나 습성의 복합적 전체이다."라고 하였다.

한편 인간의 모든 행위가 문화인 것은 아니다. 선천적이고 본능적인 행위나 유전적 요인에 따른 행동은 문화로 보지 않는다. 예를 들어 갈증이 나서 물을 찾는 것은 생리적인 것이므로 문화에 속하지 않는다. 반면 가게에서 음료수를 사서 마시거나 물을 끓여 마시는 것은 모두 문화에 속한다.

문화는 한 사회의 구성원이 공통으로 가지는 생활 양식이라는 속성이 있는데, 이를 문화의 **공유성**이라고 한다. 즉 어느 한 개인에게만 나타나는 행동이나 사고방식을 문화라고 하지 않는다. 이러한 문화의 공유성 때문에 한 사회의 구성원은 특정한 상황에서 상대방이 어떻게 행동할 것인지 또는 서로에게 무엇을 기대하는지를 예측할 수 있으므로 원활한 사회생활이 이루어진다.

문화는 선천적으로 타고나는 것이 아니라 후천적으로 학습하여 습득된 것인데, 이를 문화의 **학습성**이라고 한다. 따라서 유전적인 것, 생물학적인 특징에 따라 나타나는 것은 문화라고 하지 않는다. 우리가 먹고 마시는 것은 본능적 행위이기 때문에 문화 현상이 아니지만, 밥을 짓고 요리를 하는 것은 후천적으로 학습한 것이기 때문에 문화 현상이다. 즉 인간은 문화를 가지고 태어나는 것이 아니라, 단지 문화를 배울 능력을 갖추

고 태어날 뿐이며 성장하면서 언어와 문자 등을 통해 그 사회의 문화를 학습한다.

문화는 고정된 것이 아니라 시간이 흐르면서 변화하는데, 이를 문화의 **변동성**이라고 한다. 문화가 세대에서 세대로 이어지면서 사람들은 과거의 것을 받아들이기도 하고, 거기에 새롭고 창의적인 내용을 가미하기도 한다. 즉 문화적 특성은 기존의 것을 유지하면서도 새로운 문화 요소가 추가되기도 하고 사라지기도 한다.

현재 우리 생활 양식의 대부분은 조상들의 지혜가 축적된 결실이다. 이는 인간이 언어와 문자를 사용하여 한 세대에서 이루어진 경험과 지식을 다음 세대로 전달하여 문화를 축적할 수 있기 때문이다. 이러한 축적 과정을 통해 문화는 한 세대에서 다음 세대로 전승되는데, 이를 문화의 **축적성**이라고 한다. 이때 인간은 문화의 내용을 그대로 전승하는 데 그치는 것이 아니라, 새로운 요소를 추가하여 그 내용을 더욱 풍부하게 한다. 즉 문화의 축적성은 문화가 발전할 수 있는 원동력이 된다.

한 사회의 문화는 지식, 가치, 예술, 규범, 제도 등 수많은 요소로 구성되어 있고, 이러한 문화 요소는 별도로 기능하는 것이 아니라 서로 긴밀한 유기적 연관성을 지니고 있다. 이러한 문화의 속성을 문화의 **총체성**이라고 한다. 문화는 여러 구성 요소가 상호 유기적으로 결합한 하나의 총체이므로 부분이 아닌 전체로서의 의미가 있는 생활 양식이다. 따라서 문화의 한 부분이나 요소가 변동하면 연쇄적으로 다른 부분에도 영향을 미치게 된다. 그러므로 한 사회의 문화를 이해하기 위해서는 문화의 총체성을 고려하여 전체적이고 통합적인 관점에서 그 사회의 문화를 바라보아야 한다.

31. 다음 두 사례에서 공통적으로 부각되는 문화의 속성에 대한 진술로 가장 적절한 것은?

- 우리나라 사람들이 돌무더기 탑을 지날 때 돌 하나를 엮는 이유를 외국 사람들은 알지 못한다.
- 요즘 청소년들이 여러 단어의 첫음절만을 이용하여 만든 줄임말의 의미를 기성세대는 알지 못한다.

- ① 문화는 환경의 특수성과 관계없이 공통성을 갖는다.
- ② 문화는 부분들이 모여 전체로서 하나의 체계를 이룬다.
- ③ 문화는 경험과 상징을 통해 세대 간에 전승되고 축적된다.
- ④ 문화는 구성원 간에 사고와 행동의 동질성을 형성하게 해 준다.
- ⑤ 문화는 기존 요소가 사라지거나 새로운 요소가 만들어지며 변화한다.

32. 다음 두 사례에서 공통적으로 부각되는 문화의 속성에 대한 옳은 설명을 <보기>에서 고른 것은?

- A국에서는 남은 음식을 제공하는 사람이 이를 얻어 가는 걸인에게 고마움을 표시한다. 이는 덥고 습한 지역이 많은 A국에서는 다모작이 가능하여 식량이 풍족하게 생산되는 반면, 음식을 오래 보관하기 곤란하다는 것과 관련이 깊다.
- 유목 생활을 하는 B민족은 화장(火葬) 문화를 가지고 있다. 이는 잦은 이동 생활로 인해 무덤에 대한 지속적인 사후 관리가 용이하지 않다는 것과 관련이 깊다.

< 보 기 >

- ㄱ. 문화는 상징을 통해 다음 세대로 전달·계승된다.
- ㄴ. 문화는 여러 요소들이 유기적으로 결합된 하나의 체계이다.
- ㄷ. 문화는 시간의 흐름에 따라 기존 요소가 사라지거나 변화한다.
- ㄹ. 문화는 부분이 아닌 전체로서 의미를 갖기 때문에 문화 요소 간에 서로 영향을 미친다.

- ① ㄱ, ㄴ ② ㄱ, ㄷ ③ ㄴ, ㄷ ④ ㄴ, ㄹ ⑤ ㄷ, ㄹ

33. 밑줄 친 ㉠~㉣에 나타난 문화의 속성에 대한 옳은 설명을 <보기>에서 고른 것은?

갑국의 ○○는 면발을 물에 끓여 먹던 △△에서 유래한 것이다. ○○는 ㉠ 기름에 튀겨 면발을 가공하는 기술이 △△에 접목되어 새롭게 만들어진 것이다. ㉡ 쌀 위주의 식생활을 하는 갑국에서 밀가루 음식인 ○○가 처음에는 국민들의 관심을 끌지 못했다. 그러나 국민들은 ○○를 ㉢ 간편하게 먹을 수 있다는 것을 알게 되었고, 갑국 정부는 쌀 부족으로 인한 식량 문제를 해결하기 위해 분식을 장려하였다. 이제 ○○는 ㉣ 국민 대다수가 즐겨 먹는 음식이 되었다.

< 보 기 >

- ㄱ. ㉠은 전승된 문화를 바탕으로 새로운 문화가 창출된다는 것을 보여 준다.
- ㄴ. ㉡은 문화가 후천적으로 습득된다는 것을 보여 준다.
- ㄷ. ㉢은 ㉠과 달리 문화 현상이 고정된 것이 아니라 지속적으로 변화함을 보여 준다.
- ㄹ. ㉣, ㉤은 모두 문화가 구성원의 사고와 행동을 구속한다는 것을 보여 준다.

- ① ㄱ, ㄴ ② ㄱ, ㄷ ③ ㄴ, ㄷ ④ ㄴ, ㄹ ⑤ ㄷ, ㄹ

9. 문화를 바라보는 관점과 문화 이해 태도

한 사회의 문화를 바르게 이해하려면 다른 사회의 문화와 비교하여 연구하는 것이 필요하다. **비교론적 관점**은 서로 다른 사회의 문화에 나타나는 유사성과 차이점을 분석하여 한 사회의 문화가 지닌 보편성과 특수성을 파악하는 관점이다. 문화의 비교 연구가 가능한 것은 전 세계 여러 문화의 모습이 다양하더라도 그 속에 보편적인 공통분모가 있기 때문이다. 즉 모든 인간 사회에서는 그 구체적인 모습에는 차이가 있지만 가족, 친족, 혼인, 정치, 법, 종교, 언어, 예술 등의 보편적인 문화가 나타난다.

우리는 자기 문화를 당연한 것으로 여기고, 다른 사회의 문화는 비판적으로 보는 때가 많아 자기 문화를 객관적으로 파악하기 어렵다. 따라서 비교론적 관점을 토대로 문화를 연구하면 자기 문화의 모습을 더욱 명료하게 볼 수 있고, 다른 문화를 더 깊이 이해할 수 있다.

한 사회의 문화는 정치, 경제, 법률, 가족, 종교, 예술, 관습 등의 다양한 요소로 구성되어 있으며 서로 관련을 맺고 있다. 따라서 한 사회의 문화를 바라볼 때 어느 특정한 문화 요소를 부각하여 의미를 해석하기보다는 그 문화 요소와 관련한 다양한 측면을 서로 연관 지어 분석해야 한다. 이처럼 문화의 각 구성 요소는 상호 유기적인 관계를 맺고 있기 때문에 한 사회의 문화는 어느 한 측면의 문화 요소만을 부분적으로 이해해서는 안 되고 다른 문화 요소나 전체와의 관련성 속에서 파악해야 하는데, 이를 **총체론적 관점**이라고 한다.

한 사회의 문화는 그 문화가 발생한 사회의 맥락 속에서 의미와 가치를 가진다. 따라서 한 사회의 문화를 이해할 때 그 사회의 자연환경, 사회적 상황, 역사적 맥락 등을 고려해야 하는데, 이를 **상대론적 관점**이라고 한다. 이러한 상대론적 관점은 다른 문화를 편견 없이 이해하는 데 필요하다. 따라서 이 관점은 오늘날과 같이 다른 문화를 접할 기회가 많은 세계화·개방화 시대에 더욱 요구되는 관점이다.

자신이 속한 사회의 문화와 다른 문화를 접하면 그 문화를 이상하게 여기고 혼란을 느낄 수 있다. 그 예로 이슬람교도가 돼지고기를 먹지 않는 것을 이상하게 생각하거나 어른이 아이를 야단칠 때 꾸중 듣는 아이가 고개를 숙이는 것에 익숙한 사람들이 꾸중 듣는 아이가 고개를 뺨뺨이 들고 쳐다보는 것을 예의 없다고 비난하는 것 등을 들 수 있다. 이는 자신의 문화를 기준으로 다른 사회의 문화를 바라보기 때문에 나타나는 현상이다. 이처럼 자기 문화를 가장 우수한 것으로 여기고 다른 문화를 부정적으로 평가하는 태도를 **자문화 중심주의**라고 한다. 각 사회의 문화는 그 사회에서 고유한 의미와 가치를 지니므로 획일적 기준에 따라 판단할 수 없음에도 불구하고, 자문화 중심주의는 이러한 점을 간과한다.

자문화 중심주의는 사회나 집단에 관한 구성원의 자부심을 고양해 결속력을 강화함으로써 사회 통합에 이바지할 수 있다. 그러나 자문화 중심주의는 국수주의로 연결되어 다른 문화와 갈등을 빚을 수 있다. 또한 자신의 문화만을 최고로 여겨 다른 사회와 문화 교류를 거부하면 국제적 교류를 초래할 수 있다.

다른 사회의 문화를 가장 좋은 것으로 여겨 그것을 동경하거나 숭상하고 자기 문화를 업신여기거나 낮게 평가하는 태도를 **문화 상대주의**라고 한다. 문화 상대주의는 문화의 상대성을 부정하고 다른 사회의 문화에 편견을 가진다는 점에서 자문화

중심주의와 비슷하지만, 자신의 문화를 열등하게 여기고 다른 사회의 문화를 우월하게 평가한다는 점에서 자문화 중심주의와 구별된다.

문화 상대주의는 다른 문화의 좋은 점을 받아들여 자기 문화가 발전하는 계기가 될 수 있다. 그러나 다른 문화를 무분별하게 수용하면 문화의 정체성을 상실할 수 있다. 청나라를 세운 만주족이 한족 문화의 우수성을 동경하여 무분별하게 수용한 결과 한족 문화에 동화되어 만주족의 고유문화가 사라진 것을 예로 들 수 있다.

대부분 사람은 자신에게 친숙한 일상적인 생활 양식이나 관습은 옳고 좋은 것이며, 자신에게 익숙하지 않은 생활 양식이나 관습은 그르고 나쁜 것으로 생각하는 경향이 있다. 그러나 이러한 태도로는 다른 사회의 문화를 제대로 이해하기 어렵다. 한 사회의 문화는 그 사회가 처한 특수한 환경과 상황에 적응하는 과정에서 축적된 결과이고, 그 나름대로 가치를 지니기 때문에 문화 간에는 우열을 가릴 수 없다. 따라서 어떤 특정한 사회의 문화를 제대로 이해하기 위해서는 그 사회의 특수한 환경과 상황 및 역사적 맥락을 고려하는 태도가 필요한데, 이를 **문화 상대주의**라고 한다. 우리 나라와 같이 다문화 사회에 진입하고 있는 사회에서 문화 상대주의는 타 문화를 올바르게 이해함으로써 문화적 다양성을 보존하는 데 이바지할 수 있다.

그러나 다른 사회의 문화를 문화 상대주의적 태도에 따라 이해해야 한다고 해서 모든 문화를 무조건 그 나름대로 가치가 있다고 보는 것은 적절하지 않다. 자유와 평등, 생명 존중, 정의 등과 같이 인류 사회에서 바람직한 것으로 인정되는 보편적 가치를 부정하는 문화까지도 문화 상대주의적 태도에 따라 이해해야 한다고 주장하는 것은 **극단적 문화 상대주의**에 해당한다. 이는 바람직한 문화 이해의 태도로 볼 수 없다.

34. 다음에 나타난 문화 이해의 관점에 대한 옳은 설명을 <보기>에서 고른 것은?

교사 : '한국의 대학 입시 문화'에 대한 조사 계획을 발표해 봅시다.
갑 : 한국과 핀란드의 대학 입시 문화의 공통점과 차이점을 비교하여 한국의 대학 입시 문화의 특징을 살펴볼 예정입니다.
을 : 한국 고등학생들의 학습 시간, 학원 이용 현황, 여가 생활 모습, 심리 상태, 친구 관계, 가족 관계 등을 종합하여 한국의 대학 입시 문화를 살펴볼 예정입니다.

< 보 기 >
ㄱ. 갑의 관점은 특정 지역의 문화 요소 간의 유기적 관계에 초점을 둔다.
ㄴ. 갑의 관점은 다른 문화를 거울로 삼아 자기 문화를 파악하는 데 유용하다.
ㄷ. 을의 관점은 문화 요소의 보편성을 찾는 것에 초점을 둔다.
ㄹ. 을의 관점은 특정 문화 요소를 그 사회의 전체적인 맥락에서 이해하는 데 유용하다.

- ① ㄱ, ㄴ ② ㄱ, ㄷ ③ ㄴ, ㄷ ④ ㄴ, ㄹ ⑤ ㄷ, ㄹ

35. (가), (나)에 나타난 문화 이해의 태도에 대한 설명으로 옳지 않은 것은?

(가) 예전에 많은 한국인들은 품질과 상관없이 국산 가전제품을 하찮게 여기고 수입 가전제품을 동경하였다. 요즘도 의류나 화장품을 선택할 때 한국 제품보다 외국 제품을 동경하는 경향이 있다.
(나) 16세기에 아메리카 대륙으로 이주한 유럽인들은 원주민들을, 서구의 사상을 바탕으로 한 교양을 갖추지 않았다는 이유로 이성을 지닌 인간이 아닌 야수라고 보았다.

- ① (가) 태도는 문화적 정체성을 상실할 가능성이 높다.
② (가) 태도는 타 문화의 장점을 객관적으로 인식하는 데 기여한다.
③ (나) 태도는 문화 제국주의로 변질될 가능성이 높다.
④ (나) 태도는 집단 구성원의 결속력을 강화하는 데 일조한다.
⑤ (가), (나) 태도 모두 문화 간 우열이 있음을 전제한다.

36. 문화 이해의 태도 A~C에 대한 설명으로 옳지 않은 것은? (단, A~C는 각각 문화 상대주의, 문화 상대주의, 자문화 중심주의 중 하나이다.)

타문화를 받아들임에 있어서 A는 B에 비해 수용적이지만, 자기 문화의 정체성을 보존하는 데는 B가 A보다 유리하다. 한편 문화의 다양성 신장을 위해서는 A, B보다 C가 필요하다.

- ① 외국 브랜드 제품에 대한 맹목적인 선호 풍조는 A의 사례이다.
② 연장자에게 악수를 청하는 외국인을 보고 무례하다고 비난하는 것은 B의 사례이다.
③ 외국의 특정 음식에 대해 거부감은 있지만 그들의 생활양식으로 이해하는 것은 C의 사례이다.
④ A는 국수주의에, C는 극단적 상대주의에 빠질 가능성이 높다는 비판을 받는다.
⑤ A, B 모두 문화에 대한 우열 비교가 가능하다고 본다.

10. 하위문화와 대중문화

한국 사람이라면 모두 한국 문화를 공유한다. 하지만 세부적으로 들어가면 구성원 각각이 공유하는 문화에는 차이가 있을 수 있다. 예를 들어 서울에 사는 사람이 공유한 문화는 다른 지역 사람들의 그것과 차이가 있다. 이처럼 하나의 민족, 하나의 사회를 이루고 있는 사회 구성원이 모두 같은 문화를 공유하는 것은 아니다. 한 사회의 구성원 중에도 자기 집단의 구성원끼리만 공유하는 문화가 따로 존재할 수 있기 때문이다. 이때 한 사회의 구성원 대부분이 공유하는 문화를 **주류 문화**라고 하며, 한 사회 내의 일부 구성원만이 공유하는 문화를 **하위문화**라고 한다. 사회가 다원화되고 복잡해질수록 하위문화는 더욱 많아지고 다양해진다.

하위문화는 일반적으로 사회의 일부 집단 구성원 간에 이루어지는 상호 작용 과정을 통해 형성된다. 같은 지역, 비슷한 나이, 동종의 직업, 같은 취미, 같은 이해관계 등을 바탕으로 집단의 구성원이 서로 의사소통하고 상호 작용하는 가운데 그들만의 고유한 하위문화를 형성한다.

이들 집단은 하위문화를 통해 소속감을 형성하여 집단의 결속을 강화할 수 있을 뿐만 아니라, 공동의 문제를 더욱 효율적으로 해결하여 전체 사회가 발전하는 데 이바지할 수 있다. 또한 하위문화는 주류 문화와 상대적으로 구별되는 독자성을 지니고 있으므로, 주류 문화에서 채울 수 없었던 다양한 욕구를 충족하는 역할을 한다. 이처럼 하위문화가 다양하게 존재하면 문화의 획일화를 막을 수 있고, 문화에 활력을 불어넣는다.

우리나라 안에서도 남부 지방과 북부 지방, 도시와 농촌, 내륙 지방과 해안 지방 간에 문화적 차이가 존재한다. 한 나라 안에서 이러한 문화적 차이가 발생하는 이유는 각 지역의 사람들이 서로 다른 자연환경과 역사적 배경, 사회적 상황 등에 각기 다른 방식으로 적응하면서 다양한 생활 양식을 형성하였기 때문이다. 이처럼 일정한 지역에 거주하는 주민이 공유하는 고유한 생활 양식을 **지역 문화**라고 한다.

지역 문화는 지역 주민에게 일체감과 자부심을 느끼게 하고, 사회 전체적으로는 문화적 다양성을 높이는 역할을 한다. 지역 문화가 쇠퇴하면 향토애가 사라지고 이는 결국 지역 공동체 의식을 약화한다. 반면 지역 문화가 활성화되면 향토 예술과 같은 전통문화가 발전한다. 더불어 지역 문화가 발전하여 지역 공동체 의식이 높아지면 지방 자치 체도를 성공적으로 수행할 수 있다.

세대 문화란 공통의 체험을 토대로 사고방식이나 생활 양식이 비슷한 일정 범위의 연령층이 공유하는 문화이다. 각 세대는 연령대의 차이로 가치관이나 행동 방식 등이 다르게 나타난다. 또한 특정한 시대의 사회·문화적 환경, 중요한 역사적 사건을 함께 경험한 사람들이 공통의 가치관과 행동 양식을 가지므로 세대 문화가 다르게 나타난다. 현대 사회에서는 급격한 사회 변동에 따라 세대 문화의 차이가 발생하여 세대 갈등이 심해지고 있으며, 이는 사회 통합을 저해할 수 있다. 따라서 다른 세대 문화를 이해하고 존중하는 자세를 가져야 한다.

세대 문화 중 가장 대표적인 것은 **청소년 문화**이다. 청소년 문화는 기존의 틀에 얽매이지 않고 새로운 것을 추구하는 미래 지향적이고 변화 지향적인 경향이 있다. 그리고 청소년은 새로운 문화 요소를 빠르게 수용하므로 청소년 문화가 현대 사회의 문화 변동을 이끄는 역할을 하기도 한다. 하지만 청소년

문화는 대중 매체나 대중문화의 영향을 받아 충동적이고 소비 지향적인 성격을 띠기도 한다.

한 사회의 구성원 전체가 따르고 누리는 지배적인 문화에 저항하고 대립하는 문화를 **반문화**라고 한다. 반문화는 특정 집단 구성원의 문화라는 점에서 하위문화에 속하지만, 주류 문화를 거부한다는 특징을 지닌다.

1960년대 미국에 나타났던 히피 문화는 대표적인 반문화 사례이다. 이 밖에 혁명 단체, 범죄 집단 등은 주류 문화의 가치관과 규범을 거부하거나 동조하지 않으므로 이들 집단의 하위 문화는 일종의 반문화적 성격을 띤다.

반문화는 다양한 형태로 사회의 주류 문화에 저항하기 때문에 사회적 혼란을 초래하기도 하지만, 사회 문제를 노출함으로써 사회 변화를 끌어내어 결국에는 기존의 주류 문화를 변화시키기도 한다.

한편 반문화에 관한 규정은 시대나 사회에 따라 변화한다. 예를 들면 유교가 지배적이었던 조선 시대에 천주교는 반문화의 성격을 지니고 있었지만, 지금 우리나라에서는 종교의 자유를 보장하므로 천주교가 반문화의 성격을 지니지 않는다.

대중문화는 가요, 드라마, 영화, 공연 예술 등 한 사회 내에 존재하는 다양한 집단을 초월하여 불특정 다수가 누리는 문화를 말한다. 이러한 대중문화는 대중 사회가 형성되면서 등장하였다. 근대 이전에는 소수의 지배 계층이 누리는 문화와 일반 사람들이 누리는 문화가 구분되어 대중이 누릴 수 있는 문화가 제한적이었다. 그러나 대중 매체가 발달하고 대량 생산·대량 소비가 가능해지면서 대중문화가 형성되었으며, 근대 교육의 발달로 대중의 지위가 상승하고 문화적 역량이 증대하면서 대중이 주체가 된 대중문화가 활성화되었다. 이처럼 대중문화의 등장에는 다양한 요인이 작용하였는데, 그중 가장 중요한 요인은 대중 매체의 발달이다.

대중 매체란 텔레비전이나 신문, 라디오와 같이 불특정 다수에게 같은 정보를 대량으로 동시에 전달하는 수단을 의미한다. 대중 매체는 크게 인쇄 매체와 음성 매체, 영상 매체, 뉴 미디어로 구분할 수 있다. **인쇄 매체**는 신문, 잡지 등과 같이 활자를 통해 정보를 전달하는 매체로, 복잡하고 깊이 있는 정보를 전달하는 데 유용하나 정보 전달의 속도가 상대적으로 느리다. **음성 매체**는 라디오와 같이 소리를 통해 정보를 전달하는 매체로, 적은 비용으로 정보 전달이 가능하나 시각 정보를 다루기 어렵다. **영상 매체**는 텔레비전, 영화와 같이 소리와 영상을 통해 정보를 전달하는 매체이다. 다수의 사람에게 동시에 빠른 속도로 공감각적인 정보 전달이 가능하나 상대적으로 깊이 있는 정보 전달에는 한계가 있다. 그리고 인터넷, 누리 소통망(SNS)과 같은 **뉴 미디어**는 정보의 생산자와 소비자 간 쌍방향 의사소통이 가능하고 기존 매체보다 신속하게 정보 전달이 이루어지지만, 무책임하고 왜곡된 정보를 양산하고 전파할 수 있다.

초기의 대중 매체는 텔레비전이나 라디오처럼 정보 생산자와 수용자가 뚜렷이 구별되며 정보 수용자가 수동적이고 소극적인 일방향 매체였다. 그러나 최근에는 정보 통신 기술이 발달하여 뉴 미디어와 같이 정보 수용자가 정보 생산 과정에 능동적이고 적극적으로 참여하는 쌍방향 매체가 등장하였다.

대중문화는 많은 사람에게 문화적 혜택을 주고, 대중은 대중 문화를 통해 정신적 위안과 삶의 활력을 얻는다. 또한 대중

문화는 대중이 대중 매체를 활용하여 사회에 관심을 두고 참여하도록 함으로써 사회의 민주화에 이바지한다. 그리고 모든 사람이 평등하게 다양한 문화적 욕구를 충족할 수 있게 하여 문화의 민주화에도 이바지한다.

반면 대중문화에 부정적 견해를 지닌 사람은, 오늘날 대중 매체를 보유한 기업이 대중문화를 생산하고 대중은 그것을 소비하는 역할에 한정될 뿐이라고 본다. 기업은 이윤 추구라는 목적에 따라 소비자인 대중의 주목을 받기 위해 저질 문화를 양산하고, 이로써 대중의 문화적 수준이 떨어진다는 것이다. 또한 대중 매체를 통해 수많은 사람이 같은 정보와 지식, 문화 요소를 접하고 그것에 동화되어 대중은 획일적이고 정형화된 사고와 행동을 하게 된다고 비판한다. 결국 문화가 획일화되고 평준화된다는 것이다. 한편 대중문화는 주로 현실과 동떨어진 오락거리를 제공하여 대중의 정치적 무관심을 조장한다는 지적도 있다.

대중문화는 긍정적인 측면도 있고 부정적인 측면도 있다. 그러므로 대중문화의 긍정적인 측면을 최대화하고 부정적인 측면을 최소화해야 한다.

대중문화를 올바르게 수용하고 발전시키기 위해서는, 먼저 대중 매체가 제공하는 일방적이고 획일적인 정보와 지식을 비판적으로 수용하는 자세를 길러야 한다. 그러기 위해서는 다양한 방법으로 정보와 지식을 접하고 비교할 줄 아는 태도를 함양해야 하며, 대중 매체를 끊임없이 감시하는 자세가 필요하다.

또한 대중문화의 상업성을 경계해야 한다. 대중 매체는 이익을 추구하므로 이를 통해 형성되는 대중문화도 상업적인 성격을 띠 수밖에 없어 저질 문화가 양산될 수 있다는 점을 명심해야 한다.

마지막으로 대중은 문화의 소비자이면서 생산자의 역할을 해야 한다. 대중이 과거에는 문화의 일방적인 소비자 역할만 하였지만, 이제는 적극적으로 문화의 생산에 참여하여 대중문화의 창조자로서의 역할을 해야 한다. 이때 대중문화의 단점을 버리고 장점을 살려 바람직한 대중문화를 만들도록 해야 한다.

37 밑줄 친 '이 문화'에 대한 설명으로 옳지 않은 것은?

이 문화의 대표적인 사례로 1960년대 미국을 중심으로 등장한 후 여러 나라로 퍼져 나간 청년 문화를 들 수 있다. 이 청년 문화는 기존 사회 제도에 동조하지 않고, 도덕이나 이성보다는 자연스럽고 자유로운 감성과 즐거움을 추구했다. 이 청년 문화를 추구하는 이들은 긴 머리에 맨발로 다니거나 샌들을 신고, 여러 색깔의 천으로 옷을 만들어 입었다. 또한 베트남 전쟁 참전을 위한 징집을 거부했다.

- ① 사회 변화를 견인하는 역할을 하기도 한다.
- ② 지배 집단에 의해 일탈 문화로 규정되기도 한다.
- ③ 전체 문화에 다양성과 역동성을 제공하기도 한다.
- ④ 해당 집단 구성원의 욕구 해결에 기여하기도 한다.
- ⑤ 전체 사회 구성원의 문화 공유성을 높이기도 한다.

38 사례 (가), (나)에 대한 설명으로 옳은 것은?

(가) 갑국에서는 노동자 계급 출신의 청소년들을 중심으로 기성세대에 도전하는 문화가 생겨났다. 이들은 보수적인 계급 문화가 지배하는 기존 질서를 거부하는 의미로, 조용한 카페에서 시끄러운 록 음악을 틀거나 화려하게 치장한 스쿠터를 무리 지어 몰고 다니는 등 그들만의 문화를 향유했다.

(나) 을국에서는 청년 세대의 문화적 정체성을 대변하는 '청년 문화'가 유행했다. 통기타와 청바지로 표상되는 이 문화에 청년들이 열광했던 것은 기성세대와 구별되는 감성과 의식, 소비 성향으로 자신들의 정체성을 표현하고자했기 때문이다.

- ① (가)는 사회가 복잡해질수록 일부 구성원이 공유하는 문화가 주류 문화에 수렴되는 경향을 보여 준다.
- ② (나)는 특정 집단의 문화가 기존의 주류 문화를 대체하는 현상을 보여 준다.
- ③ (가)는 (나)와 달리 주류 문화에 대항하는 성격을 가진 문화를 보여 준다.
- ④ (나)는 (가)와 달리 일부 구성원이 공유하는 생활 양식이 문화 다양성을 증진시키고 있음을 보여 준다.
- ⑤ (가), (나)는 모두 특정 집단의 문화가 전체 사회의 통합에 기여함을 보여 준다.

39 다음 자료에 대한 설명으로 옳은 것은?

(가) 청소년들이 자신들만의 ㉠ 은어와 속어를 사용하는 이면에는 기성세대에 대한 저항감이 숨어 있다. 기성세대가 만들어 놓은 ㉡ 문화적 환경에 대해 거부하고 또래 간 유대감을 강화하기 위한 도구로 청소년들은 은어와 속어를 사용한다.

(나) 청소년들은 ㉢ 정보 통신 기술의 발전으로 형성된 정보 사회에 기성세대보다 빠르게 적응한다. 사이버 공간 속 청소년의 언어는 ㉣ 또래만의 문화적 특징이 반영된 것이어서 기성세대의 언어와는 차이가 있다. 이러한 ㉤ 청소년의 언어 문화는 청소년이 성장하면서 자연스럽게 기성세대의 언어 문화가 된다.

- ① ㉠, ㉢은 모두 비물질 문화에 해당한다.
- ② ㉡의 '문화'는 ㉣의 '문화'와 달리 좁은 의미로 사용되었다.
- ③ ㉢이 강화되면 ㉣은 기존의 주류 문화에 동화된다.
- ④ (가)에는 (나)와 달리 하위 문화의 반문화적 성격이 부각되어 있다.
- ⑤ (가), (나)에는 모두 하위 문화가 전체 문화로 대체되는 과정이 나타나 있다.

40. A~C 문화에 대한 옳은 설명을 <보기>에서 고른 것은? (단, A~C 문화는 각각 전체 문화, 하위문화, 반문화 중 하나이다.)

중세 말기 유럽에서는 새롭게 부를 축적한 부르주아지가 등장하였다. 이들의 문화는 당시 엄격한 신분제에 기초한 봉건제적 문화와는 차별화된 성격을 띠고 있어 처음에는 A 문화였다. 그러나 부르주아지가 근대 시민 혁명을 통해 구체제를 전복하려 나선 시기에, 이들의 문화는 B 문화로서의 성격을 보였다. 그리고 마침내 구체제가 무너지고 새로운 근대 사회가 도래한 이후 이들의 문화는 점차 봉건제적 문화를 대체하며 C 문화로 성장하였다.

- < 보 기 >
- ㄱ. A 문화는 C 문화와 대립하여 사회 안정을 저해한다.
 - ㄴ. C 문화는 사회 변동에 따라 A 문화가 되기도 한다.
 - ㄷ. 한 사회에서 B 문화는 C 문화와 공존이 불가능하다.
 - ㄹ. 한 사회에서 C 문화는 A 문화의 총합으로 설명할 수 없다.

- ① ㄱ, ㄴ ② ㄱ, ㄷ ③ ㄴ, ㄷ ④ ㄴ, ㄹ ⑤ ㄷ, ㄹ

41. 밑줄 친 A, B문화의 일반적인 특징에 대한 설명으로 옳은 것은?

문화는 사회마다 다를 뿐 아니라 같은 사회 내에서도 다양한 양상으로 나타난다. 한 사회 내의 특정 집단 구성원들만이 공유하는 문화가 있는데, 이를 A문화라고 한다. 또한, 주류 문화에 반대하고 적극적으로 도전하는 양상을 보이는 B문화도 있다. B문화는 때로는 지배 집단에 의해 일탈로 규정되기도 한다.

- ① 모든 A문화의 총합은 전체 문화이다.
- ② 사회가 복잡해질수록 A문화는 전체 문화로 수렴되는 경향을 보인다.
- ③ B문화는 전체 문화와 공통 요소를 가지고 있다.
- ④ A문화는 사회의 변동을, B문화는 사회의 안정을 지향한다.
- ⑤ A문화는 사회에 따라 상대적으로, B문화는 사회에 상관없이 절대적으로 규정된다.

11. 문화의 변동

만약 타임머신이 있어 과거의 사람들이 현대로 온다면 어떻게 될까? 아마도 모든 것이 변해 적응하는 데 상당 기간이 걸릴 것이다. 이처럼 문화는 시간의 흐름에 따라 변화하는데, 새로운 요소의 등장이나 다른 문화와의 접촉을 통해 문화가 끊임없이 변화하는 현상을 **문화 변동**이라고 한다.

문화 변동의 요인은 크게 내재적 요인과 외재적 요인으로 구분할 수 있다. 내재적 요인에는 발명과 발견이 있고, 외재적 요인에는 문화 전파가 있다.

발명은 없었던 문화 요소를 새로 만들어 내는 것으로, 전구나 자동차와 같은 물질적인 것일 수도 있고 종교나 신화와 같은 관념적인 것일 수도 있다. 한편 **발견**은 이미 존재하고 있었지만 아직 세상에 알려지지 않은 어떤 것을 찾아내거나 알아내는 것이다. 불을 찾아낸 것과 바이러스를 알아낸 것은 모두 발견에 해당한다.

발명과 발견이 반드시 문화 변동을 가져오는 것은 아니다. 발명하거나 발견한 것이 무시되거나, 사회에 알려질 기회를 놓친다면 발명과 발견은 문화 변동에 영향을 미치지 못할 것이다. 그러나 사회가 이러한 혁신을 받아들이고 이것을 사용하면 새로이 등장한 문화 요소는 기존의 요소와 상호 작용하는 과정에서 문화 변동을 가져온다.

한 사회의 문화 요소가 다른 사회에 전해져 그 사회의 문화에 정착되는 현상을 **문화 전파**라고 한다.

문화 전파는 직접 전파, 간접 전파, 자극 전파로 나눌 수 있다. **직접 전파**는 교역, 전쟁, 정복 등 두 문화 간의 직접적인 접촉에 따른 전파로, 중국에서 우리나라로 불교와 한자가 전파된 것을 예로 들 수 있다. **간접 전파**는 문화 요소를 제공하는 사회와 그것을 수용하는 사회 구성원 간의 직접적인 접촉이 아닌 인쇄물, 텔레비전, 인터넷 등과 같은 매개체를 통해 간접적으로 이루어지는 전파이다. **자극 전파**는 다른 사회의 문화 요소에서 아이디어를 얻어 새로운 문화 요소를 발명하는 것을 말한다. 즉 한 사회의 문화 요소가 다른 사회에 알려지면서, 다른 사회에 새로운 발명이 일어나도록 자극한 것이다. 그 예로 북아메리카의 체로키족이 문자를 발명한 것을 들 수 있다. 문자가 없었던 체로키족은 백인과 접촉하면서 영어에서 착안하여 체로키 문자를 만들었다. 이때 자극은 백인 문화에서 온 것이고 그 결과 새롭게 발명된 문화 요소가 체로키 문자이다.

문화 변동의 양상에는 발명과 발견으로 말미암아 한 사회의 문화 체계 내에서 이루어지는 **내재적 변동**과 한 사회의 문화가 다른 사회에 전파되어 기존 문화와 상호 작용을 하면서 나타나는 **외재적 변동**이 있다. 외재적 변동 중 두 문화 체계가 장기간에 걸쳐 전면적인 접촉을 함으로써 새로운 양식의 문화로 변화되는 과정이나 그 결과를 **문화 접변**이라고 한다. 전쟁, 교역, 선교, 대규모 이민 등은 두 문화가 전면적으로 접촉하는 주요한 계기가 되었다.

문화 접변의 과정은 강제적 문화 접변과 자발적 문화 접변으로 구분한다. **강제적 문화 접변**은 정복이나 식민 지배와 같은 상황에서 강제력에 기반을 두어 자기 사회의 문화 요소를 다른 사회의 문화 체계 속에 이식함으로써 나타나는 문화 변동이다. 예를 들면 로마의 지중해 지역과 서부 유럽 정복, 백인의 북아메리카 인디언 정복, 유럽의 아프리카 지배 등 수많은 정치적 팽창 과정에서 나타난 문화 변동이 있다. 강제적 문

화 접변 과정에서 피지배 집단은 새로운 문화에 저항하기도 하고 순응하여 동화되기도 한다. **자발적 문화 접변**은 군사적·정치적 지배 관계에 있지 않은 두 문화가 상호 교류를 지속할 때 나타난다. 한 사회가 다른 사회의 문화 요소가 필요하다고 느껴 스스로 다른 사회의 문화 요소를 자기 사회의 문화 체계 속으로 받아들임으로써 나타나는 문화 변동이다.

문화 접변에 따른 결과로는 크게 문화 동화, 문화 공존, 문화 융합이 있다.

문화 동화는 한 사회의 문화가 다른 사회의 문화 체계 속에 흡수되어 정체성을 상실하는 현상이다. 아메리카 인디언이 백인 문화와 접촉하면서 자기 문화를 상실한 것, 미국에 이민 온 유럽인이 독자적인 문화적 전통을 잃어버리고 새로운 미국 문화 속으로 흡수된 것 등을 예로 들 수 있다.

문화 공존은 서로 다른 사회의 문화 요소가 한 사회의 문화 체계 속에서 나란히 존재하는 현상을 의미한다. 예를 들면 우리나라의 차이나타운에서 중국인이 그들의 문화를 유지하면서 살아가는 것, 미국의 지배를 받은 필리핀에서 영어와 타갈로그어를 같이 사용하는 것 등이 있다.

문화 융합은 서로 다른 문화 요소가 결합하여 기존 문화 요소와 성격이 다른 새로운 문화가 형성된 것이다. 그 예로 멕시코에서 토착 인디언의 전통과 에스파냐 정복자의 문화가 혼합되어 메스티소 문화가 생겨난 것을 들 수 있다.

문화 변동으로 문화가 다양해지고 삶의 모습이 중요로워지기도 하지만, 그에 따른 부작용도 발생한다. 먼저 문화 지체가 나타날 수 있다. 일반적으로 의식주나 기술 등의 물질문화는 빠르게 변동하지만, 제도나 규범 및 가치관과 같은 비물질문화는 상대적으로 변화 속도가 느리다. 이처럼 물질문화의 변동 속도와 비물질문화의 변동 속도 간 차이로 나타나는 부조화 현상을 **문화 지체**라고 한다.

다음으로 **문화 정체성의 약화**를 들 수 있다. 다른 사회의 새로운 문화 요소가 유입되면서 자기 문화의 자부심과 긍지가 줄어들어 자기 문화를 보존하고 발전시키려는 의지가 약해져서 자기 문화의 정체성을 상실할 수 있다.

마지막으로 **아노미 현상**의 발생을 들 수 있다. 아노미는 급격한 문화 변동이 나타날 때 발생하는데, 기존의 전통적 규범과 가치관이 무너지고 새로운 규범과 가치관이 아직 정립되지 못하여 규범의 혼란이 발생하는 상황을 가리킨다.

현대에는 정보 통신 기술이 발달하면서 이전 사회와 비교할 수 없을 정도로 문화 변동이 빠르게 이루어지고 있으며, 전 세계의 문화는 동시다발적으로 변화하고 있다. 이러한 문화 변동에 따라 여러 문제가 나타날 수 있는데, 이를 해결하기 위해서는 우선 문화 변동에 능동적으로 대처하는 자세가 필요하다. 우리 사회에 새롭게 등장한 문화 요소 중 필요하다고 인식되는 것은 우리 문화 체계 속에 적극적으로 정착시켜야 한다. 반면 새롭게 등장한 문화 요소가 바람직하지 않거나 우리 문화의 정체성을 훼손한다고 여겨지면 그것을 거부하거나 우리 문화에 도움이 되도록 변형하여 새로운 문화를 창조해야 한다.

또한 문화 지체로 나타나는 부작용을 해소하기 위해서는 물질문화의 변동에 적응할 수 있도록 새로운 가치나 규범 등을 확립해야 한다. 그리고 사회 구성원의 합의에 따라 새로운 규범을 확립하여 아노미 현상에 대처하는 노력도 필요하다. 이와 더불어 우리 문화의 정체성 혼란을 극복하기 위해 우리 문화

에 자부심과 긍지를 지니고 문화 변동에 대처해야 한다.

42. 다음 사례에 대한 옳은 설명을 <보기>에서 고른 것은?

- A국이 B국을 정복하여 문화 이식 정책을 시행한 결과, B국에서는 A국 언어가 널리 쓰이게 되면서 B국 언어를 더 이상 사용하지 않게 되었다.
- A국에 유학하여 A국 언어를 학습한 C국의 상류층 자녀들은 귀국 후에도 A국 언어를 사용하였다. 이후 A국 언어가 확산되면서 C국에서는 A국 언어도 널리 쓰이게 되었다.

< 보 기 >

- ㄱ. B국에서는 외재적 요인에 의한 문화 변동이 일어났다.
- ㄴ. C국에서는 강제적 문화 접변이 나타났다.
- ㄷ. B국에서는 문화 동화, C국에서는 문화 공존이 나타났다.
- ㄹ. B국에서는 직접 전파, C국에서는 간접 전파로 인한 문화 변동이 일어났다.

- ① ㄱ, ㄴ ② ㄱ, ㄷ ③ ㄴ, ㄷ ④ ㄴ, ㄹ ⑤ ㄷ, ㄹ

43. 밑줄 친 ㉠~㉤에 대한 설명으로 옳은 것은?

노예 해방 이후에도 미국 흑인들의 삶은 고달팠다. 이들은 삶의 애환을 음악에 담아 표현하였는데 이것이 ㉠ 블루스이다. 한편 미국 서부 지역에서는 백인들을 중심으로 ㉡ 웨스턴 뮤직이 출현하였다. 백인들은 ㉢ 블루스를 '인종 음악'이라고 부르면서 천대하였고, 자신들의 음악과 철저히 구분하였다. 그러나 1950년대 무렵 흑인과 백인의 음악은 각각의 색채가 모두 담긴 ㉣ 새로운 음악 장르인 로큰롤로 발전되었다. 당시 로큰롤은 ㉤ 통속적이고 즉흥적이라는 이유로 비난받는 경우도 있었으나, 이후 ㉥ TV와 라디오를 통해 전 세계로 급속히 진출하면서 대중문화의 한 줄기를 이루었다.

- ① ㉠, ㉡은 모두 미국 사회의 하위문화였다.
- ② ㉢은 문화 지체 사례에 해당한다.
- ③ ㉣은 문화 공존 사례에 해당한다.
- ④ ㉤은 물질문화의 확산에 대한 반발이다.
- ⑤ ㉥은 강제적 문화 접변 사례에 해당한다.

44. A ~ C 국에 나타난 문화 변동에 대한 옳은 설명만을 <보기>에서 고른 것은?

- A국에서는 전통 신앙에 외래 종교가 결합된 새로운 성격의 종교가 나타났다.
- B국은 자신들을 정복한 이민족의 강요에 의해 그들의 문자를 사용하게 되면서 고유의 문자를 상실하였다.
- C국은 나무를 이용해 이전에 없던 활을 만들어 사용하였다. 그리고 활의 원리에서 아이디어를 얻어 현악기를 만들었다.

- < 보 기 >
- ㄱ. A국에서는 문화 동화가 나타났다.
 - ㄴ. B국에서는 강제적 문화 접변이 나타났다.
 - ㄷ. C국에서는 내재적 요인에 의한 문화 변동이 나타났다.
 - ㄹ. B, C국에서는 A국과 달리 문화 융합이 나타났다.

- ① ㄱ, ㄴ ② ㄱ, ㄷ ③ ㄴ, ㄷ ④ ㄴ, ㄹ ⑤ ㄷ, ㄹ

45. (가), (나)에 나타난 문화 변동에 대한 설명으로 가장 적절한 것은?

- (가) 과거에 미국의 음악이 라디오나 음반을 통해 한국에 유입되어 인기를 끌게 되면 그 음악을 부른 가수의 팬클럽이 생기고 그 가수가 입은 의상이 유행하였다. 최근에는 한국의 대중 음악이 인터넷을 통해 ‘한류’라는 이름으로 세계 여러 곳에서 인기를 누리고 있다.
- (나) 1990년대 이후 한국 사회에 결혼이나 노동을 위해 유입된 이주민이 증가하면서 그들의 다양한 문화가 확산되고 있다. 이에 따라 한국 사회에서 지배적이었던 단일 민족 사상을 대신해 다문화주의가 중요한 사회적 가치로 받아들여지고 있다.

- ① (가)에서는 직접 전파, (나)에서는 간접 전파가 나타난다.
- ② (가)와 달리 (나)에서는 자극 전파에 따른 문화 변동이 나타난다.
- ③ (나)와 달리 (가)에서는 구성원의 자발성에 기초한 문화 변동이 나타난다.
- ④ 세계화가 진행될수록 (가)보다 (나)에 나타난 문화 변동 요인의 영향력이 커진다.
- ⑤ (가), (나) 모두 외재적 요인에 의한 문화 접변에 해당한다.

12. 사회 불평등 현상의 이해

누구나 부, 권력, 명예 등과 같은 사회적 자원을 가지고 싶어 하지만 그 양은 한정되어 있다. 이에 따라 사회적 자원을 많이 가진 사람과 그렇지 않은 사람이 생기면서 개인이나 집단 간에 수직적인 위계질서가 형성된다. 이처럼 사회적 자원이 불평등하게 분배되어 개인과 집단이 서열화되어 있는 현상을 **사회 불평등 현상**이라고 한다.

이러한 사회 불평등 현상은 정도의 차이만 있을 뿐이고 어느 시대, 어느 사회에서나 나타나는 보편적인 현상이며 사회 구성원의 가치관과 생활 양식 등에 많은 영향을 끼친다.

사회 불평등 현상은 개인이 차지하고 있는 사회적 자원의 성격과 종류에 따라 다양하게 나타난다.

경제적 불평등은 소득이나 재산 등의 차이로 나타난다. 소득 수준이 높은 사람과 낮은 사람, 재산이 많은 사람과 적은 사람 간의 불평등은 생활 수준의 격차로 이어진다. **정치적 불평등**은 권력의 소유와 행사의 차이로 나타나는 불평등이다. 권력이 불평등하게 분배되어 권력을 가진 집단은 권력을 가지지 못한 집단을 지배한다. **사회·문화적 불평등**은 명예 교육 수준, 지식 소유 등 여러 가지 사회·문화적 생활의 기회와 수준의 차이로 나타난다.

이러한 사회 불평등 현상은 한 측면의 불평등에 그치지 않고 서로 영향을 끼치기도 한다. 예를 들어 소득 수준이 높으면 권력을 획득하기 쉽고 권력을 가지면 명예도 높아질 수 있다.

기능론에서는 사회에 기능적으로 중요한 일과 그렇지 않은 일이 존재한다고 본다. 따라서 기능적으로 중요한 일을 하는 사람에게 더 많은 보상을 주어야 하므로 사회적 자원을 차등적으로 분배하는 것이 당연하다고 주장한다. 예를 들어 의사는 생명을 다루는 중요한 일을 하고, 의사가 되려면 시간과 노력을 많이 들여야 하므로 그에 합당한 보상을 해야 한다는 것이다. 만일 의사에게 합당한 보상이 주어지지 않으면 열심히 공부하여 의사가 되려는 사람이 줄어들어 그 사회에서는 의사가 부족해질 것이라고 주장한다. 따라서 기능적 중요도에 따라 보상이 이루어질 때 필요한 사람을 적절한 자리에 배치할 수 있다고 본다.

이처럼 기능론에서는 사회 불평등 현상은 사회적 자원이 개인의 능력이나 사회적 기여도에 따라 합리적인 방법으로 분배된 결과이며 자연스러운 현상이라고 파악한다. 또한 개인의 성취동기를 자극하므로 사회 발전을 위해 사회 불평등 현상이 필수적이라고 주장한다.

갈등론에서는 사회 구성원이 담당하고 있는 일의 기능적 중요성을 정확히 판단하기 어렵다고 주장한다. 예를 들어 의사도 생명을 다루는 중요한 일을 하지만 소방대원도 생명을 구하는 일을 하는데, 소방대원이 의사보다 상대적으로 낮은 보상을 받는 것은 합리적이지 않다고 본다.

또한 갈등론에서는 능력을 갖춘 사람이 사회적으로 중요한 위치를 차지한다는 기능론의 주장을 비판한다. 왜냐하면 의사가 되기 위해서는 시간과 비용이 많이 들어 가난한 집에서 태어난 사람은 잠재적 능력과 자질이 있다고 하더라도 의사가 되기 어렵기 때문이다. 즉 갈등론은 사회적 자원이 개인의 능력보다 가정 배경에 따라 불공평하게 분배된다고 본다. 이처럼 갈등론에서는 사회 불평등 현상이 기득권을 가지고 있는 지배

집단의 강제와 통제에 따른 결과라고 파악하며, 지배 집단과 피지배 집단 간에 위화감과 갈등을 초래할 뿐이라고 설명한다.

기능론과 갈등론은 사회 불평등 현상을 분석할 때 서로 다른 측면에서 접근하므로 각각 한계가 있다. 그러므로 기능론적 관점으로만 사회 불평등 현상을 보면 사회 불평등 현상이 당연한 것으로 받아들여지고 제도적으로 고착화할 수 있다. 이는 사회 불만으로 이어져 사회 갈등을 초래할 수 있다. 반면 갈등론적 관점으로만 사회 불평등 현상을 보면 개인의 노력과 능력에 따라 보상을 달리하는 것이 사회적인 능률을 높일 수 있다는 점을 간과할 수 있다. 또한 집단 간 갈등과 대립을 지나치게 부각하여 사회 통합을 저해할 수 있다. 따라서 사회 불평등 현상을 볼 때 어느 하나의 관점만 주목하기보다는 기능론적 관점과 갈등론적 관점을 조화하여 균형 있게 이해하도록 해야 한다.

46. (가), (나)는 사회 계층화 현상을 설명하는 서로 다른 이론이다. 이에 대한 옳은 설명을 <보기>에서 고른 것은?

(가) 사회 구조 차원에서 볼 때, 부·명예·권력의 분배가 똑같은 원칙에 의해 결정되는 것은 아니다. 가령 명예의 분배는 시장의 작동 원리뿐만 아니라 사회적 관습이나 가치관에 의해서도 결정된다. 어떤 경우, 명예를 중시하는 사람들은 돈이 많다고 자랑하는 사람들을 멸시하기도 한다.
(나) 자본주의 사회의 불평등 구조 배후에는 자본, 기계, 원료 등 생산에 필요한 물질에 대한 소유 여부가 존재한다. 이를 소유한 집단은 그들의 이익을 정당화하는 관념을 마치 사회의 보편적 가치인 것처럼 모든 구성원에게 주입한다.

< 보 기 >
ㄱ. (가)는 (나)에 비해 동일한 경제적 위치에 기반한 강한 귀속 의식을 강조한다.
ㄴ. (가)는 (나)와 달리 이분화된 불평등 구조를 설명하기에 용이하다.
ㄷ. (나)는 (가)와 달리 지위 불일치 현상을 설명하는 데 적합하지 않다.
ㄹ. (가), (나)는 모두 사회 불평등 현상에 경제적 요인이 작용한다고 본다.

- ① ㄱ, ㄴ ② ㄱ, ㄷ ③ ㄴ, ㄷ ④ ㄴ, ㄹ ⑤ ㄷ, ㄹ

47. 사회 불평등 현상을 바라보는 갑, 을의 관점에 대한 옳은 설명을 <보기>에서 고른 것은?

갑: 공사장에서 한 명은 전문 기술이 필요한 장비를 조종하고 다른 한 명은 앞쪽에서 깃발로 안내를 한다고 가정해 봅시다. 이 경우 같은 시간을 일했다고 해서 두 사람의 보수가 동일한 것은 옳지 않습니다. 보수가 같다면 누가 어려운 장비 조종 기술을 배우려 하겠습니까?
을: 장비를 조종하는 것도 중요하지만, 깃발로 안내하는 역할도 중요합니다. 안내를 잘못하면 심각한 안전사고가 발생할 수도 있기 때문입니다. 따라서 일의 중요도에 대한 현재의 평가 기준은 타당하지 않으며, 이를 옹호하는 것은 기득권층의 자기 합리화일 뿐입니다.

< 보 기 >
ㄱ. 갑은 사회적 희소가치의 배분에 대해 사회 구성원들 간에 합의된 기준이 있다고 본다.
ㄴ. 을은 사회 불평등이 사회가 최적으로 기능하기 위해 필요하다고 본다.
ㄷ. 갑은 을과 달리 차등적 보상이 개인의 성취동기를 자극한다고 본다.
ㄹ. 을은 갑과 달리 사회 불평등이 사회의 기능 분화에 따른 합리적 결과라고 본다.

- ① ㄱ, ㄴ ② ㄱ, ㄷ ③ ㄴ, ㄷ ④ ㄴ, ㄹ ⑤ ㄷ, ㄹ

48. (가), (나)는 사회 불평등 현상을 설명하는 이론이다. 이에 대한 설명으로 옳은 것은?

(가) 역사상 주요 시대는 생산 양식의 변화에 따라 구분된다. 어느 시대에서나 사람들 간의 불평등한 관계가 나타나는데, 이는 생산 수단의 소유 여부에서 비롯된다.
(나) 집단 간 차이는 경제적 기준뿐만 아니라 위신과 권력에 의해서도 형성된다. 이러한 요인들은 복잡한 상호 작용을 통해 사회 내에 다양한 위계를 만들어 낸다.

- ① (가)는 서로 다른 경제적 위치에 있는 집단 간의 위계가 불연속적이라고 본다.
② (나)는 불평등한 분배 상태를 이분법적으로 구분한다.
③ (가)는 (나)에 비해 현대 사회의 지위 불일치 현상을 설명하기에 용이하다.
④ (나)는 (가)에 비해 서로 다른 계층에 속한 구성원 간의 적대감이 강하다고 본다.
⑤ (가)는 사회 불평등 현상을 경제적 요인으로만, (나)는 사회·정치적 요인으로만 설명한다.

13. 사회 계층 구조와 사회 이동

사회 불평등 현상 때문에 사회 구성원 사이에는 일정한 층이 형성되는데, 이를 사회 계층이라고 한다. 사회 계층은 마치 오랜 세월 동안 만들어져 겹겹이 존재하는 지층처럼 우리 사회에 서로 다른 층으로 구성된 위계라고 할 수 있다. 현대 사회에서는 일반적으로 사회 계층을 상층, 중층, 하층으로 구분한다.

이러한 사회 계층이 일정한 구조를 이룬 것을 사회 계층 구조라고 한다. 즉 **사회 계층 구조**란 한 사회의 최소한 자원이 차등적으로 분배되고 그러한 불평등 관계가 지속하면서 나타나는 정형화된 구조를 의미한다. 사회 계층 구조는 사회 구성원의 행동 양식과 사고방식 등에 커다란 영향을 미치고 한번 형성되면 지속성을 가지고 유지된다. 사회 계층을 구분하는 기준과 사회 계층 구조의 유형은 사회마다 다르며, 사회 계층 구조를 살펴보면 그 사회의 사회 불평등 현상을 설명할 수 있다.

사회 계층 구조는 사회 구성원의 계층 간 이동 가능성 여부에 따라 폐쇄적 계층 구조와 개방적 계층 구조로 구분할 수 있고, 각 계층의 구성원 비율을 기준으로 피라미드형 계층 구조와 다이아몬드형 계층 구조로 구분할 수 있다.

폐쇄적 계층 구조는 개인의 노력과 관계없이 다른 계층으로 상승하거나 하강할 가능성이 극히 제한된 계층 구조이다. 타고난 신분이 개인의 계층적 위치를 결정하는 데 큰 영향을 주며, 고대 노예제나 인도의 카스트 제도가 대표적인 예이다.

개방적 계층 구조는 개인의 능력이나 노력에 따라 다른 계층으로 상승하거나 하강할 가능성이 열려 있는 계층 구조이다. 신분 제도가 폐지된 근대 이후의 사회에서 주로 나타나고, 이러한 계층 구조를 지닌 사회에서는 개인의 노력이 중요하다.

피라미드형 계층 구조는 하층의 비율이 가장 높고, 상층의 비율이 가장 낮은 형태의 계층 구조이다. 소수의 상층이 사회적 자원의 대부분을 독점하기 때문에 불평등이 심하게 나타나 사회적 안정도가 떨어질 가능성이 크다. 전근대적인 신분 사회나 오늘날의 저개발국 등에서 주로 나타난다.

다이아몬드형 계층 구조는 상층이나 하층보다 중층의 비율이 높은 형태로, 근대 이후 산업 사회에서 나타나는 계층 구조이다. 산업화로 사회가 더욱 분화되면서 전문직, 관료직, 사무직 등 중간 계층의 비율이 높아져 나타났다. 다이아몬드형 계층 구조에서는 상대적으로 높은 비율을 차지하는 중층이 상층과 하층 사이에서 완충 역할을 해 사회가 비교적 안정되어 있다.

최근에는 세계화와 정보화에 따른 계층 구조의 변화에 관심이 커지고 있다. 세계화와 정보화로 계층 간 격차가 완화될 것이라고 보는 관점이 있지만, 계층 간 격차가 심화할 것이라고 보는 관점도 있다.

세계화와 정보화를 낙관적으로 보는 사람은 다이아몬드형 계층 구조에서 중층의 비율이 증가하여 타원형 계층 구조가 될 것이라고 주장한다. 정보 사회에서는 지식과 정보가 부가 가치의 원천으로, 정보화의 진전에 따라 사회 모든 분야에서 지식과 정보가 확산하고 접근이 쉬워지면서 계층 간 격차가 줄어들 것이라는 것이다. 타원형 계층 구조는 다이아몬드형 계층 구조보다 중층의 비율이 높아 중층이 사회 통합에 이바지하는 정도가 커지고 사회적 안정도가 높아진다.

세계화와 정보화를 비관적으로 보는 사람은 정보화가 진전됨에 따라 정보 격차가 오히려 커질 것으로 예측한다. 그리고 이것이 빈부 격차로 나타나 중층의 비율이 현저히 낮고 압도적 다수가 하층을 차지하는 모래시계형 계층 구조가 될 것이라고 주장한다. 이러한 계층 구조에서는 부의 분배가 양극화되고 중층의 비율이 낮아 사회적 안정도는 매우 낮아진다.

개인의 삶은 사회 계층 구조의 영향을 받지만, 사회 계층 구조 내 개인의 위치가 항상 고정된 것은 아니다. 개인이나 집단의 계층적 위치는 사회 계층 구조의 더 높은 계층에 소속되기 위한 노력, 사회 구조의 변화 등에 따라 달라질 수 있다.

한 사회의 계층 구조 속에서 개인이나 집단의 위치가 변화하는 현상을 **사회 이동**이라고 한다. 사회 이동은 폐쇄적 계층 구조를 보이는 사회보다 개방적 계층 구조를 보이는 사회에서, 농촌 사회보다 도시 사회에서 더 빈번하게 나타난다.

누구에게나 공평한 기회가 주어지고 구성원의 능력이나 노력에 따라 사회 이동이 실현될 가능성이 큰 사회에서는 구성원의 의욕이 높아지고 사회가 발전할 가능성이 크다. 그러나 개인의 노력과 상관없이 사회 이동이 이루어지거나 사회 이동 자체가 실현되지 않는 사회에서는 구성원의 의욕이 낮아지고 사회 발전이 저해될 수 있다.


사회 이동은 이동 방향에 따라 수직 이동과 수평 이동으로 구분할 수 있다. **수직 이동**에는 사회 계층 구조 속에서 계층적 위치가 높아지는 상승 이동과 계층적 위치가 낮아지는 하강 이동이 있다. 회사에서 평사원이었던 사람이 임원으로 승진한 것은 상승 이동, 기업의 사장이었던 사람이 실업자로 전락한 것은 하강 이동에 해당한다. **수평 이동**은 같은 계층 내에서의 위치 변화를 말한다. 회사 내에서 총무부 사원이 영업부 사원으로 이동한 것은 수평 이동에 해당한다.

또한 사회 이동은 세대 범위를 기준으로 세대 내 이동과 세대 간 이동으로 구분할 수 있다. **세대 내 이동**은 한 개인의 생애 동안에 일어나는 계층적 위치의 변화로, 하위직 공무원이 열심히 노력하여 고위직 공무원이 된 것을 예로 들 수 있다. **세대 간 이동**은 한 세대와 그다음 세대 간에 나타나는 계층적 위치의 변화로, 아버지는 가난한 농부였으나 그 자녀는 대기업의 회장이 된 것을 예로 들 수 있다.

마지막으로 사회 이동은 이동 원인에 따라 개인적 이동과 구조적 이동으로 구분할 수 있다. **개인적 이동**은 한 개인의 능력이나 노력에 따라 계층적 위치가 변화하는 것이다. **구조적 이동**은 혁명, 전쟁, 산업 구조의 변화 등 급격한 사회 변동으로 기존의 계층 구조가 변화하여 생기는 계층적 위치의 변화이다. 그 예로 미국에서 남북 전쟁 이후 노예 제도가 철폐되어 흑인이 노예의 신분에서 벗어난 것을 들 수 있다.

49. 밑줄 친 ㉠~㉣에 대한 설명으로 옳은 것은?

㉠ ○○ 전자 사보 200회 특집 - 화제의 인물, 갑을 만나다!



㉡ 평의원 출신으로 최연소 대표 이사까지 오른 갑이 본사 이달의 인물로 선정되었다. 취임사에서 갑은 "㉢ 사내 모바일 기술 혁신팀 팀장으로서 팀원들과 함께 하던 시절이 가장 기억에 남는다."라고 말했다. 갑의 팀이 개발한 획기적인 스마트폰 운영 체제 덕분에 본사는 시장 점유율 세계 1위인 ㉣ □□ 기업을 바짝 추격하여 제2의 도약기를 맞게 되었다. ... (중략) ... 갑은 그동안 ㉤ △△ 봉사 단체를 통해 꾸준히 결식 아동을 도와 왔다는 사실이 알려지면서, 진정한 리더의 본보기라는 평가를 받고 있다.

- ① ㉠은 갑의 내집단이자 1차적 사회화 기관이다.
- ② ㉡은 갑의 수직 이동이자 구조적 이동이다.
- ③ ㉢은 공동의 목표에 기반을 둔 비공식 조직이다.
- ④ ㉣은 비공식적 사회화 기관이자 갑의 외집단이다.
- ⑤ ㉤은 결핍 자체를 목적으로 하는 자발적 결사체이다.

50. 표에 대한 분석으로 옳은 것은?

〈갑국 국민 A~H의 현재 계층과 부모 계층〉

구분	상층	중층	하층
현재 계층	A, G	C, E, F, H	B, D
부모 계층	A, B, F	C, E, G	D, H

- ① 세대 간 이동한 사람보다 이동하지 않은 사람이 많다.
- ② 세대 간 하강 이동한 사람보다 상승 이동한 사람이 많다.
- ③ 세대 간 이동한 사람 중 부모 계층이 중층인 사람보다 상층인 사람이 많다.
- ④ 세대 간 이동한 사람 중 현재 계층이 상층인 사람보다 하층인 사람이 많다.
- ⑤ 상층에서 하층으로 세대 간 이동한 사람보다 중층에서 하층으로 세대 간 이동한 사람이 많다.

51. 자료에 대한 분석으로 옳지 않은 것은? (단, 모든 부모의 자녀는 1명씩이며, 계층은 상층, 중층, 하층으로 구분한다.)

○○ 신문

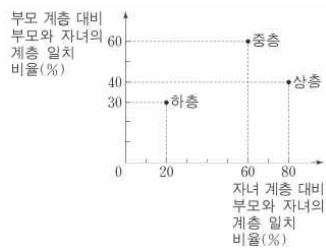
자녀 상층 비율, 부모 세대보다 많아져...

부모 세대와 자녀 세대 간의 계층 이동 실태를 조사한 결과 자녀 세대의 상층 비율은 부모 세대의 상층 비율보다 4%p 증가한 것으로 나타났다. 또한 중층 비율은 부모 세대의 경우 36%로 상층의 3배였고, 자녀 세대에서는 부모 세대보다 더 증가하였다. 한편, 부모 세대와 자녀 세대의 계층이 일치하는 비율은 상층 8%, 중층 20%, 하층 22%로 나타났다. 특히 부모 세대 하층에서 자녀 세대 상층으로 이동한 경우는 단 한 명도 없는 것으로 조사되어 "개천에서 용 난다."라는 속담은 옛말이 되었다.

* %p: %의 차이를 측정하는 단위

- ① 자녀 세대의 중층 비율은 50% 이상이다.
- ② 부모 세대 계층 대비 계층 대물림 비율은 하층에서 가장 높다.
- ③ 세대 간 상승 이동한 자녀는 세대 간 하강 이동한 자녀의 3배 이상이다.
- ④ 부모 세대의 하층에서 수직 이동을 한 자녀의 비율은 전체 계층의 30%이다.
- ⑤ 부모가 중층인 자녀 중에서 상층으로 이동한 자녀의 수와 하층으로 이동한 자녀의 수는 같다.

52. 그림은 갑국의 세대 간 계층 이동 현황을 나타낸 것이다. 이에 대한 분석으로 옳지 않은 것은? (단, 자녀 계층의 구성비는 상층 : 중층 : 하층 = 1 : 6 : 3이며, 모든 부모의 자녀는 1명이다.)



- ① 세대 간 상승 이동보다 하강 이동이 더 많다.
- ② 부모 세대는 다이아몬드형 계층 구조를 보인다.
- ③ 상층의 하강 이동이 하층의 상승 이동보다 많다.
- ④ 부모 세대와 자녀 세대의 중층은 각각 60%로 동일하다.
- ⑤ 세대 간 계층 이동 비율과 유지 비율은 각각 50%로 동일하다.

14. 사회 불평등 양상

사회적 소수자란 신체적 또는 문화적 특징 때문에 사회의 다른 구성원으로부터 차별받으며 스스로 차별받는 집단에 속해 있다고 인식하는 사람들을 의미한다. 이들은 인종, 민족, 국적, 신체 등이 주류 집단과 다르다는 이유로 차별의 대상이 되고 부당한 대우를 받으며 주류 집단보다 권력, 재산 등의 사회적 자원을 획득하는 데 불리한 위치에 있다.

사회적 소수자는 시대, 장소, 소속 집단의 범주 등에 따라 사회적으로 만들어지는 상대적인 개념이다. 우리나라 사람이 외국으로 이민 가면 그 나라에서는 사회적 소수자가 될 수 있다. 또한 단순히 수가 적다고 해서 사회적 소수자인 것은 아니다. 과거 남아프리카 공화국에서는 흑인 및 유색 인종이 소수인 백인의 지배를 받았는데, 이때 소수인 백인을 사회적 소수자라고 하지는 않는다.

우리 사회에서는 장애인, 북한 이탈 주민, 외국인 노동자, 결혼 이민자, 여성 등이 사회로부터 소외되고 차별받는 사회적 약자로서 어려움을 겪고 있다. 또한 교육 기회, 사회적 관계 형성 등에서 배제되거나 취업하는 데 곤란을 겪는 등의 경제적 어려움에 직면하고 있다. 이들을 차별하는 것은 사회적 갈등을 유발하여 사회 통합을 저해하는 결과를 낳을 수 있으므로, 사회적 소수자를 편견과 차별의 대상으로 여겨서는 안 되며 서로 존중하고 공존하는 방법을 찾아야 한다.

개인적 차원에서는 사회적 소수자를 우리 사회의 동등한 구성원으로 인정하는 인식의 전환이 필요하다. 또한 사회적 소수자와 함께 살아가고자 하는 공존의 자세를 가지고, 사회적 소수자에게 편견을 가지지 않아야 한다.

사회적·제도적 차원에서는 사회적 소수자를 차별하는 법과 제도를 개선하고, 사회적 소수자가 우리 사회에서 동등한 기회를 누리도록 구체적인 방안을 마련해야 한다. 장애인 의무 고용제 등 소수자 우대 조치를 통해 실질적인 평등을 구현해야 한다.

사회 또는 가족 내에서 생물학적 성과 사회·문화적으로 만들어지는 사회적 성에 기반을 두어 남성과 여성에 관한 편견과 차별이 존재하는 상태를 성 불평등 현상이라고 한다. 즉 성별이 다르다는 이유로 차별받는 것을 뜻한다. 조선 시대를 중심으로 형성된 전통 사회는 대부분 남성 중심적인 사회였기 때문에 남성은 신체적 힘과 경제적 능력 등으로 여성을 억압하거나 차별하였으며, 남성 중심적인 질서와 규범을 통해 성차별 체계를 유지하려고 하였다. 한편 현대 사회에서는 성 불평등 현상을 여성뿐만 아니라 남성도 겪는 문제로 인식하는 경향이 있다.

성 불평등 현상은 일상생활에서 이루어지는 성차별적인 관념과 언행, 대중 매체에서 보이는 왜곡된 여성상과 남성상, 취업 기회에서 성별에 따른 부당한 차별, 남녀 간 임금 격차 등 다양한 모습으로 나타난다. 성별에 차이가 있다고 해서 불이익을 받는 현상이 계속되면 사회적으로 큰 문제가 발생할 수 있다.

성 불평등 현상의 원인은 여러 가지가 있지만, 우선 사회·경제 제도의 미진한 발전과 정부의 통제력이 낮은 것을 들 수 있다. 흔히 전통적으로 남성은 바깥일 등의 공적 영역을, 여성은 가사와 양육 등의 사적 영역을 주로 담당하는 성별 분업이 이루어졌다고 여기는 세태가 만연하나 실제로는 여성도 상당

부분을 남편의 본업에 기여했고, 남성 또한 가사노동에 자주 참여하였다. 실제로 한국사에서도 극단적인 남녀 분업은 조선 후기에서야 제대로 관찰가능하고, 오히려 고려 이전에는 남녀 평등한 사회 분위기를 확인할 수 있다. 예를 들어 데릴 사위 제도처럼 결혼을 하면 남자가 처가에 들어가 살았던 것이 우리 민족의 오랜 전통으로 현재 폐단이 강하다고 비판받는 가부장제는 조선 후기의 유교적 전통과 일제 강점기 일본의 가부장제가 결합하여 변질되며 생긴 현상에 가깝다.

성 불평등 현상의 또 다른 원인으로 성별에 따른 차별적 사회화 과정을 들 수 있다. 사회 전반에 자리 잡은 성별에 관한 선입견과 편견을 토대로 남성과 여성이 서로 다른 정체성과 역할을 습득하는 사회화 과정을 거친다. 개인은 몸가짐, 말투, 머리 모양, 옷 등에서 성별에 따라 서로 다른 기준을 적용받고 그 사회가 용인하는 여자다움 혹은 남자다움을 학습하면서 성장한다. 이러한 차별적 사회화는 부모의 양육 태도, 전통적인 성 역할과 규범을 강조하는 학교 교육, 남성과 여성의 성을 상품화하는 대중 매체 등을 통해 심화한다.

성 불평등 문제는 개인의 자아실현 기회를 박탈하고 사회 구성원 사이에 갈등을 초래하여 사회 혼란을 일으킬 수 있으므로 해결을 위한 노력이 필요하다.

성 불평등 문제를 해결하는 방안은 크게 개인적 측면과 사회적 측면으로 나눌 수 있다. 개인적 측면으로는 사회 구성원의 인식 전환이 필요하다. 오랫동안 형성된 남성과 여성에 관한 고정 관념 및 편견을 버리고 양성평등 의식을 함양해야 한다. 그리고 성별의 차이를 인정하되 이것이 성차별로 이어지지 않도록 상호 존중하는 자세를 가져야 한다.

성 불평등 문제를 해결하기 위해 제도적·정책적 개선을 통한 사회적 측면의 노력도 필요하다. 성에 상관없이 동등한 기회를 가질 수 있도록 남녀 차별적인 고용 관행이나 특정한 성에게 불리한 근무 환경을 제거하고, 임신·출산·육아로 차별받지 않도록 하는 등과 같이 우리 사회 곳곳에 남아 있는 양성평등 원칙에 어긋나는 법과 제도를 개선해야 한다. 「남녀 고용 평등과 일·가정 양립 지원에 관한 법률」을 통해 남녀 고용 평등을 실현하고 근로자의 일과 가정의 양립을 지원하는 것은 이러한 노력의 하나이다. 또한 학교 교육과 대중 매체를 통해 양성평등 의식을 함양할 수 있도록 제도적 지원이 이루어져야 한다.

이처럼 개인의 인식 전환과 함께 제도적 개선이 이루어질 때 성 불평등 문제를 해소하고 사회 발전을 도모할 수 있다.

인간의 기본적인 욕구를 충족하는 데 필요한 자원이나 소득 결핍이 계속되는 상태를 **빈곤**이라고 한다. 산업화 이후 기본적인 욕구는 상당 부분 해소되었지만, 여전히 기아와 가난으로 고통받는 사람들이 많다.

빈곤은 개인적으로는 근로 능력 상실, 성취동기의 부족 등으로 나타날 수 있고, 사회적으로는 사회 보장 제도의 미비, 교육 제도에서의 불평등 등으로 발생할 수 있다. 이러한 빈곤은 건강 악화, 상대적 박탈감, 심리적 위축 등을 가져올 수 있고, 사회적으로 범죄 증가, 사회 불안, 구성원 간 갈등 등을 초래할 수 있다.

빈곤은 기준을 어디에 두느냐에 따라 절대적 빈곤, 상대적 빈곤, 주관적 빈곤으로 나눌 수 있다.

절대적 빈곤은 인간이 육체적인 건강을 유지하기 위한 기본

적인 조건도 갖추지 못한 상태를 가리킨다. 즉 인간이 최소한의 생활을 유지하는 데 필요한 자원이나 소득이 절대적으로 부족한 상태를 말한다. **상대적 빈곤**은 사회 구성원 대부분이 누리는 생활 수준을 영위하지 못하는 상태를 말한다. 상대적 빈곤을 판단하는 소득 수준은 전체 소득 분포상에서의 상대적 위치에 따라 결정되므로 특정 사회의 생활 수준이 전반적으로 높아질수록 상향 조정된다. 국민 소득이 낮은 국가에서는 생존에 필요한 자원이 부족한 가능성이 크므로 절대적 빈곤의 해결을 강조하는 반면, 경제 성장이 지속해서 이루어진 국가에서는 사회 구성원의 전반적인 생활 수준이 높아졌기 때문에 상대적 빈곤의 문제가 커질 수 있다.

반면 절대적 빈곤이나 상대적 빈곤의 기준에 따르면 빈곤하지 않은 사람도 자신의 욕구 수준보다 충분한 경제적 능력을 갖추고 있지 못하다고 느낄 수 있다. 이를 **주관적 빈곤**이라고 하며, 주관적 빈곤은 상대적 박탈감의 원인이 될 수 있다.

빈곤 문제를 해결하기 위해서는 우선 빈곤에 처한 개인이 스스로 빈곤에서 벗어나려는 자활 의지를 갖추어야 한다. 본인 스스로 빈곤에서 벗어나려는 의지가 없으면 근본적으로 빈곤에서 탈출하기 어렵다. 따라서 개인은 직업 훈련이나 교육 등을 통해 자신의 직업 능력을 향상하려고 노력해야 하며, 이를 토대로 빈곤에서 벗어날 수 있다는 자신감을 지닐 수 있다.

개인의 노력만으로는 빈곤 문제를 해결하는 데 한계가 있으므로 다양한 제도적 측면의 지원도 필요하다. 우선 빈곤층에게 기초 생활비, 의료비, 교육비 등을 지급하여 빈곤층이 최소한의 기본적인 생활을 유지할 수 있도록 지원해야 한다. 또한 빈곤층 스스로 빈곤에서 벗어날 수 있게 도와 빈곤의 악순환을 방지하는 제도가 필요하다. 이를 위해서는 일할 수 있는 사람에게 일자리를 제공하거나 일자리를 얻을 수 있는 능력을 갖추도록 해야 한다.

53 다음 글을 통해 추론할 수 있는 내용으로 가장 적절한 것은?

A 종교가 국교(國敎)인 사회에서 B 종교 신자는 사회적 소수자가 될 수 있다. 반대로 A 종교 신자는 B 종교가 지배적인 사회에 가면 사회적 소수자가 될 수 있다.

- ① 사회적 소수자는 사회에 의해 규정된다.
- ② 사회적 소수자는 역차별에 의한 결과이다.
- ③ 한 사회 안에서 지배 집단이 사회적 소수자가 되기도 한다.
- ④ 사회적 소수자는 권력관계보다는 집단의 크기에 의해 결정된다.
- ⑤ 사회적 소수자의 집단 내에서도 또 다른 사회적 소수자가 존재한다.

54 (가), (나)에 나타난 사회적 소수자에 대한 내용으로 옳지 않은 것은?

(가) 갑은 자국에서는 대학을 졸업한 우수한 인재로 대접받았지만, A국에서는 이주 노동자로서 차별을 당하고 있다.
 (나) B국에서는 흑인이 인구의 다수를 차지하지만, 권력을 독점한 소수의 백인이 흑인의 공직 참여 기회를 제한하고 있다.

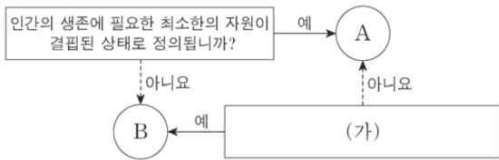
- ① (가)는 역차별에 의해 사회적 소수자가 나타남을 보여 준다.
- ② (가)는 특정 사회의 사회적 소수자가 다른 사회에서는 사회적 소수자가 아닐 수 있음을 보여 준다.
- ③ (나)는 사회적 소수자가 사회적으로 불평등한 대우를 받고 있음을 보여 준다.
- ④ (나)는 사회적 소수자가 집단의 크기에 의해 결정되는 것은 아님을 보여 준다.
- ⑤ (가), (나) 모두 특정 집단이 주류 집단과 다른 특성을 보인다는 이유로 사회적 소수자가 될 수 있음을 보여 준다.

55 다음 자료에 대한 설명으로 옳은 것은? (단, A, B는 각각 상대적 빈곤과 절대적 빈곤 중 하나이다.)

A는 인간이 최소한의 생활을 유지하기 어려운 상태로서, 주로 자원이나 소득이 부족한 상태를 의미한다. 우리나라에서는 A를 측정하기 위한 기준선으로 (가) 을/를 활용한다. B는 개인이 다른 사람에 비해 자원이나 소득이 결핍되어 사회 구성원 다수가 누리는 생활을 영위하지 못하는 상태를 의미한다. 우리나라에서는 B를 측정하기 위한 기준선으로 (나) 을/를 활용한다.

- ① B는 개인이 빈곤 상태에 있다고 주관적으로 인식하는 개념이다.
- ② B의 기준을 적용하면 기본적인 의식주가 충족된 가구라도 빈곤 가구에 포함될 수 있다.
- ③ A는 B와 달리 소득의 불평등 정도를 측정하는 데 활용된다.
- ④ A에 따른 빈곤율과 B에 따른 빈곤율의 합이 그 나라 전체의 빈곤율이다.
- ⑤ (가)는 중위 소득의 50%, (나)는 최저 생계비이다.

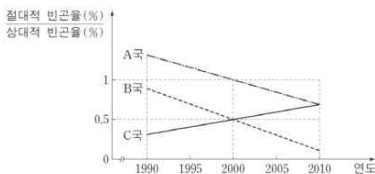
56. 그림은 질문을 통해 빈곤 유형 A, B를 구분한 것이다. 이에 대한 옳은 설명만을 <보기>에서 고른 것은? (단, A, B는 각각 상대적 빈곤, 절대적 빈곤 중 하나이다.)



< 보 기 >
 가. A는 B와 달리 선진국에서는 나타나지 않는다.
 나. B에 해당하는 사람은 A에 해당하지 않는다.
 다. 우리나라에서는 A, B 모두 객관화된 기준에 의해 규정된다.
 라. (가)에는 '우리나라에서는 가구 소득이 중위 소득의 50% 미만인 상태를 의미하니까?'가 들어갈 수 있다.

- ① 가, 나 ② 가, 다 ③ 나, 다 ④ 나, 라 ⑤ 다, 라

57. 그림에 대한 분석으로 옳은 것만을 <보기>에서 있는 대로 고른 것은? (단, 이 기간 동안 A~C국의 전체 가구 수와 절대적 빈곤 가구 수는 지속적으로 증가하였으며, 모든 가구의 구성원 수는 동일하다.)



* 절대적 빈곤율: 전체 가구 중 절대적 빈곤 가구(가구 소득이 최저 생계비 미만인 가구)의 비율
 ** 상대적 빈곤율: 전체 가구 중 상대적 빈곤 가구(가구 소득이 중위 소득의 50% 미만인 가구)의 비율
 *** 중위 소득: 전체 가구를 소득 순으로 일렬로 배열했을 때 한가운데 위치한 가구의 소득

< 보 기 >
 가. 1990년부터 2000년까지 B국의 상대적 빈곤 가구 수는 증가하였고, C국의 상대적 빈곤 가구 수는 감소하였다.
 나. 1990년부터 2010년까지 A국에서 절대적 빈곤 가구 수의 증가율보다 상대적 빈곤 가구 수의 증가율이 더 낮다.
 다. 1995년부터 2010년까지 B국에서 중위 소득의 1/2이 최저 생계비보다 크다.
 라. 2005년부터 2010년까지 A국, B국, C국 모두에서 절대적 빈곤 가구는 모두 상대적 빈곤 가구에 속한다.

- ① 가, 나 ② 나, 다 ③ 다, 라
 ④ 가, 나, 라 ⑤ 가, 다, 라

15. 사회 복지와 복지 제도

인간은 누구나 행복한 삶을 살기 원하지만 질병, 장애, 실직, 빈곤, 재해 등과 같은 위험에 직면할 수 있다. 이러한 위험은 개인의 힘으로 해결하기 어려운 측면이 있어 개인의 안정적인 생활을 위협할 뿐만 아니라 사회 문제로도 이어질 수 있다. 이에 따라 한 사회의 모든 구성원이 평생 행복하고 안정된 삶을 누리도록 하는 사회적 노력과 지원이 필요한데, 이를 **사회 복지**라고 한다. 즉 사회 복지란 교육, 의료, 주거, 고용 등 다양한 차원에서 사회 구성원의 삶의 질을 향상하기 위한 모든 사회적·제도적 노력의 집합체이다.

산업 혁명 이후 자본주의가 성장하면서 많은 사람이 물질적 풍요를 누리게 되었지만 빈부 격차 심화, 노동 조건 악화 등 국민의 안전한 삶을 위협하는 다양한 사회적 위험도 나타났다. 이러한 문제를 해결하기 위해 등장한 것이 사회 복지 이념이다.

사회 복지 이념을 구체적으로 실현하고자 여러 나라에서는 많은 노력을 기울였다. 예를 들면 독일에서는 최초로 사회권을 규정한 바이마르 헌법(1919)이 제정되었고, 미국에서는 뉴딜 정책의 하나로 시행된 사회 보장법(1935)에 따라 본격적인 복지 국가를 지향하였으며, 영국은 베버리지 보고서(1942)를 채택함으로써 현대적 의미의 사회 보장 제도를 확립하였다. 이들 국가는 국가의 적극적인 개입을 통해 국민이 최소한의 인간다운 생활을 누리도록 보장하는 복지 국가를 추구하였다. 이러한 복지 국가의 이념이 전 세계로 확산하면서 오늘날 대부분 국가는 사회적 약자의 최저 생활 보장뿐만 아니라 모든 사회 구성원의 삶의 질을 보장하기 위해 노력하고 있다.

복지 국가에서 사회 구성원의 삶의 질을 높이기 위한 노력은 다양한 복지 제도로 나타난다. 우리나라는 사회 보험, 공공 부조, 사회 서비스와 같은 사회 보장 제도를 통해 이를 구체적으로 실현하고 있다.

사회 보험은 국민에게 발생하는 질병, 장애, 노령, 실업, 사망 등의 사회적 위험을 보험 방식으로 대처함으로써 국민이 안전한 삶을 누리는 데 필요한 건강과 소득을 보장하는 제도이다. 사회 보험은 미래에 직면할 사회적 위험에 대처하는 사전 예방적 성격이 있고 금전적 지원을 원칙으로 하며 그 비용은 가입자와 사용자, 국가 및 지방 자치 단체가 공동으로 부담한다. 사회 보험의 대상은 모든 국민이고 강제 가입을 원칙으로 한다. 또한 원칙적으로 수혜 정도와 무관하게 소득 수준 등 부담 능력에 따라 비용을 부담하고 상호 부조의 원리를 기반으로 한다. 우리나라에서는 국민 건강 보험, 국민연금, 고용 보험, 산업 재해 보상 보험, 노인 장기 요양 보험 등이 시행되고 있다.

공공 부조는 생활 유지 능력이 없거나 생활이 어려운 국민의 최저 생활을 보장하고 자립을 지원하기 위해 금전적·물질적 급여를 제공하는 제도이다. 국가와 지방 자치 단체가 세금을 재원으로 제공하기 때문에 수혜자는 비용을 부담하지 않으므로 사회 보험보다 소득 재분배 효과가 크다. 또한 현재 직면한 사회적 위험에 대응하므로 사후 처방의 성격이 강하다. 그러나 대상자 선정 과정에서 부정적인 낙인이 발생할 수 있고 국가의 재정 부담이 커질 수 있으며 취약 계층이 국가에 의존하도록 하여 자활을 어렵게 하기도 한다. 우리나라에서는 국민 기초 생활 보장 제도, 기초 연금 제도 등을 시행하고 있다.

사회 서비스는 국가나 지방 자치 단체 등의 도움이 필요한 모든 국민에게 인간다운 생활을 보장하고 상담, 재활, 돌봄, 정보 제공, 관련 시설 이용, 역량 개발, 사회 참여 지원 등을 통해 국민의 삶의 질이 향상되도록 지원하는 제도이다. 우리나라에서는 노인 돌봄, 산모·신생아 건강 관리 지원, 가사·간병 방문 지원 등을 시행하고 있다.

복지 제도는 질병, 실업, 빈곤 등 다양한 사회적 위험에 대비하여 개인이 최소한의 인간다운 생활을 할 수 있게 하며, 개인이나 집단이 자신의 문제를 스스로 인식하고 자신의 삶을 자립적으로 영위할 수 있도록 한다. 또한 지나친 빈부 격차 등 사회 문제의 원인을 제공하는 사회적 환경을 개선하고 사회 불평등 현상을 완화하여 사회를 통합하는 역할을 한다.

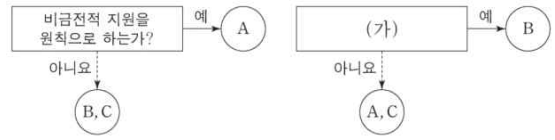
국가는 복지 제도를 통해 사회 구성원의 삶의 질을 높이고자 노력하지만, 이를 운영하는 과정에서 여러 가지 한계가 나타나기도 한다.

먼저 복지 제도를 과도하게 시행하여 복지 제도에 관한 국민의 의존도가 높아지면 사회 전체적으로 근로 의욕이 저하하여 생산성과 효율성이 떨어지는 부작용이 나타날 수 있다. 또한 복지 제도를 시행하기 위해서는 비용이 들어가는데, 복지 제도의 확대는 국가 재정에 부담되기도 한다. 이러한 국가 재정의 부담은 과도한 조세 징수로 이어져 기업의 투자와 생산을 위축할 수 있다. 그리고 국가의 복지 제도를 운영하는 과정에서 복지 혜택을 받아야 하는 국민을 선별하는 데 어려움을 겪을 수 있다.

오늘날 많은 국가는 복지 제도의 한계를 극복하기 위한 노력으로 생산적 복지 정책을 펼치고 있다. **생산적 복지**는 복지 제도에 따른 효율성 저하와 복지 축소에 따른 형평성 저하를 모두 해결하기 위해 등장한 것으로, 복지와 노동을 연계하는 복지 제도이다. 즉 소외 계층이 자활 사업에 참여하거나 노동하는 것을 조건으로 지원하는 새로운 형태의 복지이다. 이를 통해 국가는 일할 능력이 있는 사람의 근로 의욕을 높여 경제 활동 참여를 장려함으로써 경제적 효율성을 달성하고 사회적 약자도 보호하고자 한다.

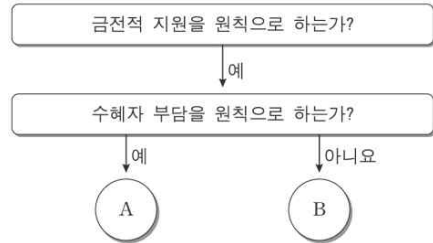
또한 어려움을 겪는 사람들이 실질적으로 혜택을 누릴 수 있도록 법률 개정 등과 같이 제도를 정비하여 복지 사각지대를 없애야 한다. 이와 더불어 어려움을 겪고 있는 많은 사람이 노동을 제공하고 소득을 얻을 수 있도록 일자리를 만드는 등과 같이 일할 환경을 조성하고, 사회 구성원도 복지의 혜택만 누릴 것이 아니라 일할 의지를 높이려는 자세를 가져야 한다.

58. 그림은 우리나라 사회 보장 제도 A~C를 구분한 것이다. 이에 대한 설명으로 옳은 것은? (단, A~C는 각각 공공 부조, 사회 보험, 사회 서비스 중 하나이다.)



- ① A는 B, C와 달리 사전 예방적 성격이 강하다.
- ② B보다 C가 대상자의 범위가 넓다면, B는 A에 비해 소득 재분배 효과가 작다.
- ③ C가 사회 보험이면, (가)에는 '강제 가입을 원칙으로 하는가?'가 적절하다.
- ④ (가)가 '국가와 지방 자치 단체가 비용을 모두 부담하는가?'라면, A와 C의 대상자는 중복될 수 없다.
- ⑤ (가)가 '상호 부조의 원리를 기반으로 하는가?'라면, C는 생활 유지 능력이 없거나 생활이 어려운 사람을 대상으로 한다.

59. 자료는 우리나라 사회 보장 제도의 세 가지 유형 중에서 A, B 두 가지 유형을 분류한 것이다. 이에 대한 설명으로 옳은 것은?



- ① A는 대상자가 수혜 정도에 따라 복지 비용을 부담한다.
- ② A는 B에 비해 사후 처방의 성격이 강하다.
- ③ A는 B와 달리 의무 가입을 원칙으로 한다.
- ④ B는 A와 달리 소득 재분배 효과가 있다.
- ⑤ B는 A에 비해 상호 부조의 성격이 강하다.

60. 다음 자료에 대한 옳은 분석만을 <보기>에서 있는 대로 고른 것은? (단, (가) ~ (다) 이외의 제도는 고려하지 않는다.)

<자료 1> 우리나라 사회 보장 제도

- (가) 노인 세대의 안정된 노후 생활을 지원하기 위해 65세 이상인 노인 중 가구의 소득 인정액이 선정 기준액 이하인 노인에게 매월 연금을 지급하는 제도
- (나) 고령이나 노인성 질병 등의 사유로 일상생활을 혼자서 수행하기 어려운 노인 등에게 신체 활동 또는 가사 활동 지원 등의 장기 요양 급여를 제공하는 제도
- (다) 안정적인 노후 생활 보장, 노인의 기능·건강 유지 및 학화 예방을 위해 일상생활 영위가 어려운 취약 노인에게 적절한 돌봄 서비스를 제공하는 제도

<자료 2> 우리나라 A, B 지역 (가) ~ (다) 제도 수혜자 비율

(단위 : %)

구분	A 지역			B 지역		
	남성	여성	전체	남성	여성	전체
(가)	10.0	9.6	9.8	10.2	9.4	9.6
(나)	1.6	2.0	1.8	2.8	2.0	2.2
(다)	1.2	1.6	1.4	1.2	1.6	1.5

* A 지역과 B 지역의 총인구는 동일함.

** 해당 지역 남성(여성) 수혜자 비율(%) = $\frac{\text{해당 지역 남성(여성) 수혜자 수}}{\text{해당 지역 남성(여성) 인구}} \times 100$

< 보 기 >

- ㄱ. 비금전적 지원을 원칙으로 하는 제도의 경우, 성별 수혜자 수 차이는 A, B 지역이 같다.
- ㄴ. 강제 가입의 원칙이 적용되는 제도의 경우, 여성 수혜자 수 대비 남성 수혜자 수의 비는 A 지역이 B 지역보다 작다.
- ㄷ. 금전적 지원을 원칙으로 하며 사후 처방적 성격을 가진 제도의 경우, 남성 수혜자 수는 A 지역이 B 지역보다 많다.
- ㄹ. 여성의 경우, 공공 부조에 해당하는 제도의 수혜자 비율 대비 사회 서비스에 해당하는 제도의 수혜자 비율은 A 지역이 B 지역보다 작다.

- ① ㄱ, ㄴ ② ㄱ, ㄷ ③ ㄷ, ㄹ
- ④ ㄱ, ㄴ, ㄹ ⑤ ㄴ, ㄷ, ㄹ

16. 사회 변동과 사회 운동

“세상에 변하지 않는 것은 없다.”라는 말만이 유일하게 변하지 않는 진리라는 말이 있을 정도로 사회는 계속 변동해 왔다. 우리나라도 기술 수준, 가치와 규범, 사회 제도 등 여러 측면에서 변화하였다. 이처럼 사회의 물질적 혹은 비물질적 요소가 부분적으로나 전체적으로 변화하는 현상을 **사회 변동**이라고 한다.

사회 변동은 과학과 기술의 발전, 가치관이나 신념의 변화, 인구 구조의 변화, 자연환경의 변화 등 다양한 요인으로 일어난다. 증기 기관 등의 기술 발전에 따른 산업화와 도시화, 양성평등 의식의 확산에 따른 여성의 사회적 지위 향상, 노인 인구 비중의 증가에 따른 노인 복지 제도의 확충, 지구 온난화에 따른 전 지구적 관심과 노력 증대 등을 예로 들 수 있다.

사회 변동의 구체적인 양상은 시대와 장소에 따라 다양하게 나타나며, 사회 변동의 방향성이나 사회 구조와의 관계 등에서도 서로 다른 견해가 존재한다.

사회 변동의 방향에 관한 이론적 관점으로 진화론과 순환론이 있다. **진화론**은 생물이 단순한 형태에서 복잡한 형태로 진화하는 것처럼 사회도 일정한 방향성을 가지고 단계적으로 변동하며, 모든 단계는 이전 단계보다 복잡하고 분화된 것이라고 주장한다. 즉 사회 변동을 곧 진보라고 여기며, 사회마다 속도의 차이는 있지만 결국 모든 사회가 같은 경로로 진화한다고 본다. 농업 사회가 산업 사회를 거쳐 정보 사회로 변동한 것을 예로 들 수 있다.

진화론은 사회 발전의 양상을 설명하는 데 유용하지만, 사회가 퇴보하거나 멸망하는 사례를 설명하기는 어렵다. 또한 모든 사회가 같은 경로를 거쳐 변동한다는 주장은 사회의 다양한 변화 가능성을 부정하고 서구 사회가 가장 진화한 사회라고 보기 때문에 서구 중심적이라는 비판을 받는다.

순환론은 장기적인 역사의 관점에서 인류 문명이 생성, 성장, 쇠퇴, 해체의 과정을 되풀이하면서 순환한다고 본다. 즉 사회가 특정한 방향으로 지속해서 진보하는 것이 아니라, 발전과 퇴보를 반복한다는 것이다. 일부 역사가들은 이러한 견해를 기반으로 특정 문명의 흥망성쇠를 논하기도 한다. 순환론은 인류 문명이 융성하는 최고의 시기로 치달았다가 점차 쇠퇴의 방향으로 나아간다는 점에 주목하여, 역사에서 교훈을 얻어내고자 한다.

순환론은 장기적인 역사적 측면에서 문명의 성장과 쇠퇴를 이해하기에는 유용한 면이 있지만, 사회 변동을 사회 구조적 수준에서 구체적으로 논의하지 못하기 때문에 특정 사회의 중·단기적인 사회 변동을 설명하기 어렵다. 또한 미래를 예측하여 대응하기에는 한계가 있고, 모든 문명이 생성과 쇠퇴를 반복한다는 운명론적 시각에 해당하므로 인간 행위의 역동성과 자율성을 과소평가한다는 비판을 받는다.

사회 구조와 사회 변동이 어떤 관계에 있는지를 설명하는 이론적 관점에는 기능론과 갈등론이 있다. **기능론**은 사회 변동이란 사회의 부분이나 전체가 일시적 불균형을 극복하면서 새로운 균형의 상태를 찾아가는 과정이라고 본다. 한 부분에 어떤 변동이 일어나면 전체 사회의 균형이 흔들릴 수 있고, 이때 다른 부분에서 이것을 흡수할 수 있는 변동이 뒤따라 일어나 원래의 변동에 따른 충격과 긴장을 감소시킨다고 주장한다. 이러한 과정을 거쳐 사회는 다시 균형을 되찾는다고 본다. 기능

론은 사회의 질서와 안정성을 바탕으로 한 점진적인 사회 변동 과정을 설명할 수 있지만, 혁명과 같은 급진적 사회 변화를 설명하기 어렵다는 비판을 받는다.

갈등론은 사회에는 항상 갈등 요소가 내재해 있고, 지배 집단과 피지배 집단 간의 경쟁과 투쟁 속에 있으므로 사회는 변동할 수밖에 없다고 본다. 기존의 사회 구조에서 유리한 상황에 있는 지배 집단은 기존 사회 질서를 유지하려고 하지만, 그렇지 못한 피지배 집단은 변화를 추구하려고 하므로 지배 집단의 강제력이 약해지거나 피지배 집단의 저항이 커지면 사회가 변동한다는 것이다. 갈등론은 기능론이 설명하지 못하는 권력관계나 계급 관계 등을 통해 구조적 모순을 잘 파악한다는 평가를 받기도 하지만, 지나치게 갈등 요인만을 부각하여 사회 속에 존재하는 협력과 안정을 경시한다는 비판을 받기도 한다.

사회 운동이란 사회 변동을 끌어내기 위한 지속적이고 집합적인 노력을 의미한다. 즉 사회 문제를 해결하거나 사회 구조를 바꾸기 위해 대중이 조직적·집단적으로 벌이는 운동이다. 그 예로 오늘날 흔히 볼 수 있는 수비정부 기구(NGO)의 활동이 있으며, 식민지 독립운동, 민주화 운동, 노동 운동 등 다양한 차원의 사회 운동이 있다.

사회 운동은 일반적으로 뚜렷한 목표와 그 목표를 달성하기 위한 구체적인 활동 방법을 가지고 있다. 또한 그 목표와 활동 방식을 정당화하는 이념을 지니고 있으며, 어느 정도 체계적인 조직을 가지고 있다. 예를 들어 환경 운동을 하는 사람들은 자연환경 보호라는 목표를 위해 생명 존중이라는 이념을 바탕으로 환경 단체를 조직하여 재활용 캠페인이나 관련 법률 제정 촉구 집회 등의 방법으로 활동한다.

사회 운동은 일반적으로 사회 변동을 유발하지만, 급격한 사회 변화에 대항하기 위한 사회 운동은 사회 변동의 속도를 늦추기도 한다.

사회 변동을 유발하기 위한 사회 운동은 개혁적 사회 운동과 혁명적 사회 운동으로 구분할 수 있다. **개혁적 사회 운동**은 기본적으로 기존 사회 질서에 만족하지만 어떤 개혁이 필요할 때 발생하는데, 사회 체계의 일부분을 바꾸려는 제한적 목표를 가진다. 사형제 폐지, 소비자 주권 향상 등과 같은 각종 시민 단체의 운동을 예로 들 수 있다. **혁명적 사회 운동**은 기존 사회 질서에 불만을 가지고 급진적인 변동을 추구할 때 발생하는데, 현재의 사회 문제를 현 체제 내에서 기존의 권력관계를 유지한 상태로 해결할 수 없다고 인식하여 체제 자체를 변화시키려고 한다. 절대 왕정이라는 구제도를 타파한 프랑스 혁명을 예로 들 수 있다.

한편 기존의 질서를 고수하고 급격한 사회 변화에 대항하기 위한 사회 운동도 있는데, 이를 **복고적 사회 운동** 또는 **반동적 사회 운동**이라고 한다. 이러한 운동은 기존 사회에 새로운 이질적인 요소가 개입하면서 기존의 구성원이 위협을 느낄 때 나타나기 쉽다.

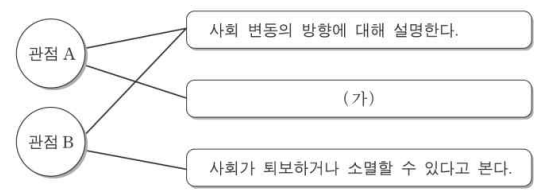
61. 사회 변동을 설명하는 이론 A, B에 대한 옳은 설명만을 <보기>에서 고른 것은? (단, A, B는 각각 진화론, 순환론 중 하나이다.)

A를 지지하는 학자들은 “선진국의 오늘의 모습은 개발도상국의 내일의 모습이다.”라며 사회 변동을 하나의 목표로 향하는 진보와 발전으로 설명한다. 이에 대해 B를 지지하는 학자들은 사회 변동이 늘 발전을 의미하는 것은 아니며, 모든 사회 변동이 반드시 같은 방향으로 진행되는 것은 아니라는 점을 지적한다.

- < 보 기 >
- ㄱ. A는 사회 변동이 주기적으로 동일한 과정을 반복한다고 본다.
 - ㄴ. A는 사회가 이전보다 복잡하고 분화된 모습으로 변동한다고 본다.
 - ㄷ. B는 사회 변동을 서구 중심적 사고에 바탕을 두어 설명한다.
 - ㄹ. B는 미래 사회의 변동 방향을 예측하기 어려워 역동적 대응이 곤란하다는 비판을 받는다.

- ① ㄱ, ㄴ ② ㄱ, ㄷ ③ ㄴ, ㄷ ④ ㄴ, ㄹ ⑤ ㄷ, ㄹ

62. 자료는 사회 변동을 보는 관점 A, B의 공통점과 차이점을 나타낸 것이다. 이에 대한 설명으로 옳은 것은? (단, A와 B는 각각 진화론과 순환론 중 하나이다.)



- ① A는 사회 변동의 유형이 사회마다 다르다고 본다.
- ② A는 과거의 사회 변동만을 설명한다는 비판을 받고 있다.
- ③ B는 사회 변동에 의해 사회가 더 복잡하게 분화된다고 본다.
- ④ B는 서구 중심적 사고라는 비판을 받고 있다.
- ⑤ (가)에 들어갈 내용으로 ‘사회 변동이 곧 발전이나 진보를 의미한다고 본다.’가 적절하다.

63 (가), (나)에 나타난 사회 변동의 방향을 바라보는 관점에 대한 설명으로 옳은 것은?

(가) 인류 문명은 감각적 문화, 관념적 문화, 이상주의적 문화의 세 가지 문화 체계가 번갈아 출현한다. 감각적 문화는 물질주의와 향락주의가 강조되는데, 로마 제국이나 오늘날의 서구 문명이 그 예이다. 관념적 문화는 정신적이고 비물질적인 존재를 지향하는 유형인데, 기독교가 지배하던 중세 유럽 문명이 그 사례이다. 이상주의적 문화는 이들 두 가지 문화가 한데 모여 균형을 유지하면서 공존하는 유형으로, 르네상스 시기의 유럽 문명이 이에 해당한다.

(나) 인류 문명은 신학적, 형이상학적, 실증적 단계를 거쳐 발전하며 각 단계마다 상이한 시대정신을 갖는다. 신학적 단계에서는 초자연적 힘이나 초월적 존재에 의존하여 지적 기준과 사회 구조가 형성된다. 형이상학적 단계에서는 이성에 기초한 추상적이고 논리적인 사고가 지배한다. 실증적 단계에서는 경험적 관찰과 합리성을 토대로 과학이 발전하고 산업화가 진행된다. 모든 문명은 완전성을 지향하는 시대정신을 향해 동일한 변동 과정을 밟는다.

- ① (가)의 관점은 사회의 안정과 조화를 유지하기 위해 사회 각 부분 들이 조정되는 과정을 사회 변동으로 본다.
- ② (나)의 관점은 사회 변동이 항상 발전을 의미하지는 않는다고 본다.
- ③ (나)의 관점은 (가)의 관점과 달리 서구 사회가 진보된 사회임을 전제한다.
- ④ (가)의 관점은 급격한 사회 변동을, (나)의 관점은 점진적 사회 변동을 설명하기에 용이하다.
- ⑤ (가), (나)의 관점은 모두 사회가 이전보다 복잡하고 분화되는 양상으로 변동한다고 본다.

17. 현대 사회의 변동과 대응

오늘날에는 지구촌이라는 말을 사용할 정도로 전 세계가 여러 면에서 긴밀하게 연관되어 있다. 공산품과 농수산물뿐만 아니라 서비스업 영역에 이르기까지 국제 무역 및 교류가 활성화되고 있으며 국제적 인구 이동도 활발하다. 게다가 사회 문제에 관한 국제적 협력이나 문화적 교류도 매우 활발해지고 있다. 이처럼 다양한 측면에서 국가 간 교류가 확대되면서 국경을 넘어 전 세계가 마치 하나의 공동체처럼 상호 의존적으로 통합되어 가고 있는데, 이를 **세계화**라고 한다.

교통·통신 기술의 발달, 세계 무역 기구(WTO)의 출범 및 다국적 기업의 활동 등은 급속한 세계화의 주요 배경으로 작용하고 있다.

전 세계적으로 교류가 활발해지면서 세계화는 다양한 측면에서 영향을 미치고 있다.

세계화에 따른 긍정적 영향을 살펴보면, 우선 국제 경제가 활성화되어 생산자는 더 넓은 시장을 확보하고 소비자는 다양한 상품을 접할 수 있다. 또한 세계 각국의 문화가 활발하게 교류하면서 여러 나라의 다양한 문화를 접할 수 있고, 이를 통해 더욱 창의적이고 새로운 문화를 창출할 수 있다. 게다가 인간의 존엄성, 자유, 평등 등과 같은 보편적 가치가 전 세계로 확산하는 효과도 있다. 더불어 국가 간 상호 의존성이 증대하면서 어느 한 지역의 문제가 전 세계적으로 영향을 미칠 수 있어, 세계적 차원의 문제에 관심을 두는 사람이 많아졌고 전 세계가 협력할 가능성도 커졌다.

한편 세계화 과정에서 부정적 영향도 나타나는데, 기업이나 개인의 경쟁 대상이 전 세계로 확대되어 경쟁력을 갖추지 못한 기업은 도태되고 실업자가 증가할 수 있다. 게다가 다국적 기업의 영향력이 확대되면서 독점 기업의 부작용에 따른 문제, 선진국과 개발 도상국 간 격차, 개인 간 빈부 격차 등이 심화할 수 있다. 또한 강대국 중심의 일방적인 문화 전파로 지역의 고유문화가 훼손되고 문화의 획일화를 초래할 수 있으며, 국제 무역 규범을 준수해야 하므로 주권 국가의 자율성이 침해된다.

세계화라는 흐름에 우리는 어떻게 대응해야 할까? 우선 경제적 측면에서 개인과 기업, 국가는 경쟁력을 강화해야 한다. 개인은 전 세계적인 경쟁에서 낙오되지 않도록 경쟁력을 높이고, 기업은 부가 가치가 높은 산업 등에서 우위를 확보해야 한다. 국가는 정책 및 제도를 통해 개인과 기업의 노력을 지원하는 한편, 세계화의 부작용으로 나타날 수 있는 양극화에도 대비해야 한다.

문화적 측면에서는 다른 문화를 존중하는 관용의 자세와 문화 상대주의적 태도를 지녀야 한다. 한편 우리 문화의 정체성을 잃지 않도록 외래문화를 비판적으로 수용해야 한다. 또한 우리가 만든 문화가 세계의 문화가 될 수 있다는 자신감으로 우리 문화를 창조적으로 계승하려는 노력도 필요하다.

아울러 지구촌이라는 공동체의 구성원으로서 인류 전체의 보편적 가치를 추구하고, 지구촌 문제를 해결하기 위한 세계 공동체 의식을 토대로 인류 전체의 번영을 위해 노력해야 한다.

노동과 자본이 가장 중요한 자원이었던 산업 사회와 달리 정보 통신 기술이 급격하게 발전하여 지식과 정보가 가장 중요한 자원이 되는 사회를 정보 사회라고 한다. 이때 산업 사회

에서 정보 사회로 변화하는 현상을 **정보화**라고 한다.

현대 사회에서는 지식과 정보의 생성, 저장, 유통이 점점 빨라지고 있으며 전 세계가 정보 기술을 기반으로 한 네트워크로 연결되고 있다. 정보화는 개인, 기업, 국가에 이르기까지 다양한 양상으로 전개되고 있으며, 의학 기술이나 인공 지능 연구 등 다양한 분야에 변화를 가져왔다. 또한 정보화는 정치 영역에서도 변화를 끌어내고 있으며, 인터넷을 통해 국내외적으로 문화 교류의 방식에도 영향을 끼치고 있다.

정보화는 재택근무를 실현하여 기업의 생산성이나 노동자의 노동 환경을 개선할 수 있고, 다품종 소량 생산 방식을 확산하여 다양한 소비자의 기호를 충족할 수 있다. 또한 전자 정부, 전자 투표 등의 방법으로 국민이 정치 과정에 더욱 쉽고 효과적으로 접근할 수 있으며, 일상적인 사회생활에서도 정보를 공유함으로써 권위주의적 관계를 수평적 관계로 전환할 수 있다. 게다가 가상 공간에서 다양한 사회의 사람들이 소통하면서 문화 교류의 폭이 확대되는 효과도 있다.

그러나 국가나 특정 권력이 지식과 정보를 독점하고 통제하면 소위 '빅브라더'가 나타나 시민의 자유와 권리가 위축될 수 있다. 또한 넘쳐나는 정보의 홍수 속에서 인터넷 중독에 빠지거나 잘못된 정보가 유통될 수도 있고, 개인 정보의 유출로 사생활이 심각하게 침해될 우려도 있다. 그뿐만 아니라 먼대면 접촉보다는 가상 공간을 통한 간접적 접촉이 많아져 형식적이고 피상적인 인간관계가 확산할 가능성도 있다. 최근에는 정보 격차에 관한 경각심이 커지고 있는데, 개인의 정보 접근 능력이나 활용 능력 등에서 차이가 심하면 그 격차는 곧 경제적·사회적 불평등으로 이어질 수 있다.

정보화에 따른 문제를 해결하기 위해 제도적 차원의 노력은 물론, 개인적 차원의 대응도 필요하다.

제도적 차원에서는 사이버 범죄나 사생활 침해 및 저작권 침해 등과 관련하여 필요한 법적 장치를 마련하고 정비해야 한다. 정보 격차를 해소하기 위해서는 정보 소외 계층이 정보에 쉽게 접근할 수 있도록 정보 통신 기기를 지원하거나 정보 통신 요금을 인하해야 한다. 또한 정보 활용 방법에 관한 교육을 하여 정보를 이용할 수 있는 능력을 키울 수 있게 해야 한다.

개인적 차원에서는 개인 정보 관리 요령, 정보 기기를 다루는 법, 정보를 선별하는 능력 등 정보 사회에 필요한 다양한 지식과 기능을 습득해야 한다. 또한 정보 윤리를 함양하여 불법 다운로드, 유해 정보 유통, 악성 댓글 달기 등 타인의 권리를 침해할 수 있는 행위를 하지 않도록 해야 한다. 무엇보다 개인의 정신 건강을 지키고 과도한 인터넷 사용을 예방하기 위해 컴퓨터 사용 시간을 미리 정해두거나 인터넷 외의 건전한 활동을 늘리도록 해야 한다.

저출산 현상은 출산율이 낮아지는 현상이며, **고령화** 현상은 인구 구조상 65세 이상 인구의 비율이 증가하는 현상을 말한다.

저출산 현상의 원인은 다양하다. 교육비와 같이 자녀 양육에 따른 경제적 부담이 증가하고, 결혼이나 자녀에 관한 가치관이 변하면서 예전과 달리 결혼하지 않으려고 하거나 출산을 기피하는 경향 등으로 저출산 현상이 심화하고 있다. 최근에는 청년 실업이 증가하고 주거 비용이 상승하는 등과 같이 젊은 세대의 결혼 자체가 어려워진 것도 저출산 현상에 영향을 주고

있다.

고령화 현상은 의료 기술의 발달과 생활 수준의 향상에 따른 평균 수명의 증가에 기인한다. 여기에 저출산 현상이 더해지면서 전체 인구 중 노인 인구가 차지하는 비중이 더욱 커지고 있다.

저출산·고령화에 따라 젊은 세대의 인구가 감소하고 노인 인구가 많아지면 생산 가능 인구가 줄어들어 생산 활동이 감소함으로써 국민 경제의 활력이 떨어진다. 그리고 인구 정체와 감소가 나타나 소비도 위축되고, 이는 다시 생산 활동을 감소시켜 실업난과 저성장의 악순환을 불러온다. 또한 은퇴 이후 소득이 보장되지 않으면 노인 빈곤 문제가 나타날 수 있고, 노인을 위한 사회 보장 제도를 유지하는 비용이 증가하여 국가 재정이 악화될 수 있다. 게다가 노인 부양을 위한 사회적 비용이 청·장년층 세대에게 부담되고, 때로는 일자리 문제와 관련하여 세대 간 갈등이 나타날 수도 있다.

저출산·고령화는 한 개인만의 문제가 아니므로 사회 전체가 함께 대응해야 한다. 사회적으로는 출산을 장려하고 노인 인구 증가에 따른 여러 가지 사회 문제에 대비해야 한다.

출산을 장려하기 위해서는 우선 사회 구조를 개선해야 한다. 출산 보조금과 양육 수당을 지급하고 국공립 어린이집 개설을 확대하는 등 국가와 사회가 나서서 출산과 양육에 관한 개인적 부담을 최대한 덜어 주어야 한다.

또한 가부장제적인 가족 문화를 개선하여 여성이 출산이나 양육에 과도한 부담을 가지지 않도록 가족 내 양성평등을 실현하는 것도 중요하다. 아울러 가사나 양육 활동이 직장 업무만큼 중요한 가치를 지닌다는 점을 인식하고 그에 맞는 평가와 대우를 해야 한다.

고령화 현상은 구조적으로 저출산 현상과 연계되어 있다는 점에서 출산율을 높이면 고령화의 속도도 늦출 수 있다. 그러나 우리나라보다 먼저 고령화가 진행된 국가를 보면 출산율 증대 정책으로 고령화 현상을 막기 어려움을 알 수 있다. 따라서 우리는 다가올 고령화에 대비하여 노인 일자리 문제, 노인 빈곤 문제 등에 적극적으로 대처해야 한다. 또한 고령화가 진행되더라도 국가 경제의 활력을 유지하는 방안을 모색할 필요가 있다.

이를 위해 국가와 사회는 숙련된 노인 인력을 효율적으로 활용할 수 있는 방안을 마련하고, 식품이나 의료 등 다양한 산업 분야에서 노인 친화적인 제품과 서비스가 생산되고 소비되는 환경을 조성할 필요가 있다. 또한 국민 건강 보험, 국민연금, 기초 연금, 노인 장기 요양 보험 등 노후 생활과 관련한 복지 제도를 잘 관리하고 유지해야 한다.

저출산·고령화는 기존의 인구 구조하에서 유지되던 사회 체계에 다양한 영향을 미칠 수 있다. 예를 들어 저출산·고령화는 병역 자원 감소에 따른 국방 관련 제도의 변화나 학령 인구 감소에 따른 교육 관련 제도의 변화로 이어지기 때문이다. 따라서 국가와 사회는 저출산·고령화라는 인구 구조의 변화로 발생할 수 있는 영향을 다양한 분야에서 예측하고 대응 방안을 모색해야 한다.

오늘날 교통·통신 기술의 발달과 함께 세계화가 진행되면서 서로 다른 문화권에 속한 사람들 간의 접촉이 빈번해지고 다양한 인종·종교·문화를 가진 사람들이 함께 살아가게 되었는데, 이러한 사회를 **다문화 사회**라고 한다.

우리나라는 1990년대부터 결혼 이민자, 외국인 노동자, 유학생, 북한 이탈 주민 등이 증가하면서 다문화적 변화가 나타나기 시작하였다. 이는 세계화 과정에서 노동력의 이동이 활발해지면서 자연스럽게 나타난 것이기도 하지만, 우리나라가 저출산·고령화에 따른 노동력 감소 문제를 해결하기 위해 선택한 대안이기도 하다.

다문화 사회에서는 새로운 문화가 유입되면서 여러 문화가 공존하며 상호 작용하게 된다. 이를 통해 사회 구성원은 풍부한 문화적 경험을 할 수 있으며, 다양하고 풍부한 문화는 새로운 문화 창조의 원동력이 될 수 있다. 그러나 한 사회 내에 서로 다른 문화를 가진 구성원이 서로를 이해하지 못하거나 수용하지 못하면 갈등과 문제가 발생하기도 한다.

예를 들면 언어의 차이와 생활 양식의 차이를 이해하지 못해 오해가 생길 수 있고, 직장이나 사회에서 외국인 이주민에게 편견을 가지거나 차별 대우를 하여 갈등이 발생할 수 있다. 또한 다문화 가정의 자녀들이 학교생활에 쉽게 적응하지 못하는 등의 문제가 나타나기도 한다.

다문화 사회에서 나타나는 여러 갈등을 해결하고 서로 다른 문화적 배경을 가진 사람들과 함께 어우러져 살기 위해서는, 먼저 사회 구성원이 다문화 사회에 관한 올바른 인식을 갖는 것이 중요하다. 즉 다양성에 관한 긍정적 인식과 그에 바탕을 둔 관용의 미덕이 사회적으로 뿌리내려야 한다. 또한 우리나라에 이주한 외국인에게 일방적으로 우리 문화를 받아들이라고 강요하기보다는 그들의 문화를 존중하면서 우리 사회에 적응할 수 있도록 배려해야 한다.

아울러 사회적 차원에서는 서로 다른 문화적 배경을 가진 사람들이 우리 사회의 구성원으로서 함께 살아가며 적응할 수 있도록 지원이 필요하다. 문화 체험 및 언어 교육 등을 제공하고, 이주자에 관한 편견과 사회적 차별을 막을 수 있는 법적·제도적 장치를 마련해야 한다. 정부가 다문화 가족 지원 센터를 설립하여 운영하는 것은 이러한 장치 중 하나이다.

64. 표는 A~C의 일반적인 특징을 비교한 것이다. 이에 대한 설명으로 옳은 것은? (단, A~C는 각각 농업 사회, 산업 사회, 정보 사회 중 하나이다.)

비교 기준	비교 결과
면대면 접촉 정도	A > B
가정과 일터의 분리 정도	B < C

- ① A는 B에 비해 직업의 분화 정도가 높다.
- ② B는 C에 비해 사회 변동의 속도가 빠르다.
- ③ C는 A에 비해 구성원 간 익명성 정도가 낮다.
- ④ '의사 결정의 분권화 정도'는 A > C > B이다.
- ⑤ '2차 산업이 차지하는 비중'은 B > C > A이다.

65. 다음 A~C에 대한 옳은 설명을 <보기>에서 고른 것은? (단, A~C는 각각 농업 사회, 산업 사회, 정보 사회 중 하나이다.)

구분	사회의 특징
A	1차 산업을 기반으로 하며, 혈연과 지연으로 맺어진 공동체 구성원 간의 전인격적 관계가 지배적이다.
B	정보와 지식이 중요한 자원으로 인식되고, 인간의 주요 활동이 디지털 기술을 기반으로 이루어진다.
C	기술과 조직의 합리성 원리를 도입하여 대량 생산과 대량 소비의 경제 체제가 중심이 된다.

- < 보 기 >
- ㄱ. 사회적 관계를 맺는 공간적 제약은 A가 B보다 크다.
 - ㄴ. 비대면 접촉에 의한 상호 작용 정도는 A가 C보다 작다.
 - ㄷ. 정보의 생산자와 소비자 간 경계는 B가 C보다 분명하다.
 - ㄹ. 가정과 일터의 분리 정도는 C가 B보다 작다.

- ① ㄱ, ㄴ ② ㄱ, ㄷ ③ ㄴ, ㄷ ④ ㄴ, ㄹ ⑤ ㄷ, ㄹ

66. 다음 A~C에 대한 옳은 설명을 <보기>에서 고른 것은? (단, A~C는 각각 농업 사회, 산업 사회, 정보 사회 중 하나이다.)

A~C를 '직업의 동질성 정도'라는 기준에 따라 비교하면 A > B > C로 나타납니다. 다음 빈칸에 A~C를 각각 넣고, 어떤 설명이 가능한지 이야기해 봅시다.

기준	비교 결과
1차 산업의 비중	<input type="checkbox"/> > <input type="checkbox"/> > <input type="checkbox"/>
사회 변동의 속도	<input type="checkbox"/> > <input type="checkbox"/> > <input type="checkbox"/>
사회의 다원화 정도	<input type="checkbox"/> > <input type="checkbox"/> > <input type="checkbox"/>
가정과 일터의 분리 정도	<input type="checkbox"/> > <input type="checkbox"/> > <input type="checkbox"/>
지식과 정보의 부가 가치 창출 정도	<input type="checkbox"/> > <input type="checkbox"/> > <input type="checkbox"/>

갑: A는 C에 비해 구성원 간의 익명성 정도가 큼니다.
 을: C는 B에 비해 다품종 소량 생산 방식의 비중이 높습니다.
 병: 기준이 '구성원의 비대면 접촉 정도'일 때와 비교 결과가 동일한 것은 3개입니다.
 정: 기준이 '사회적 관계를 맺는 공간적 제약의 정도'일 때와 비교 결과가 동일한 것은 2개입니다.

- < 보 기 >
- ㄱ. 사회적 관계를 맺는 공간적 제약은 A가 B보다 크다.
 - ㄴ. 비대면 접촉에 의한 상호 작용 정도는 A가 C보다 작다.
 - ㄷ. 정보의 생산자와 소비자 간 경계는 B가 C보다 분명하다.
 - ㄹ. 가정과 일터의 분리 정도는 C가 B보다 작다.

- ① 갑, 을 ② 갑, 병 ③ 을, 병 ④ 을, 정 ⑤ 병, 정

67. 다음은 정보화에 대한 어느 필자의 주장이다. (가)에 들어갈 내용으로 가장 적절한 것은?

농업, 제조업, 서비스업의 자동화로 수백만 명의 노동자들이 노동 시장에 남겨질 것이다. 이들이 재훈련되어 정보 사회의 노동 시장에서 원하는 일자리를 찾게 될 것이라는 생각은 헛된 꿈에 불과하다. 정보 통신 기술이 대량의 노동력을 대체하는 사회에서는 이런 변화에 적응한 소수만이 양질의 일자리를 찾을 수 있다. 나머지는 저임금을 받고 단순 정보 서비스업에 종사하거나 일자리를 잃게 될 것이다. 그러므로 정보화로 인해

(가)

- ① 노동 시장의 구조 변동이 나타나 서비스업 일자리는 소멸될 것이다.
- ② 노동의 시·공간적 제약이 축소되어 장시간 노동이 늘어날 것이다.
- ③ 비대면 노동 환경이 확대되어 인간 소외 현상이 심화될 것이다.
- ④ 노동 환경이 열악한 재택 근무가 확대되어 업무 효율성이 떨어질 것이다.
- ⑤ 산업 구조가 지식 및 정보 중심으로 재편되어 경제적 격차가 심화될 것이다.

68. (가), (나) 사례에 나타난 정보 사회의 문제에 대한 설명으로 가장 적절한 것은?

(가) 값은 유명인의 1인 방송 채널에서 과장된 사용 후기를 우연히 보고 해당 제품을 구매하였으나, 품질이 방송 내용과 달라서 당황하였다.

(나) 올은 절찬리에 상영 중인 영화가 불법으로 유통되는 것을 알고, 이를 다운로드하여 친구들과 공유하였다.

- ① (가)는 정보 기기에 대한 과도한 의존 양상에 해당한다.
- ② (가)는 비판적 정보 수집·분석 능력 함양의 필요성을 보여 준다.
- ③ (나)는 타인의 개인 정보를 유출한 양상에 해당한다.
- ④ (나)는 정보 격차 해소를 위한 환경 구축의 필요성을 보여 준다.
- ⑤ (가), (나)는 모두 익명성을 바탕으로 한 거짓 정보의 유포로 인해 발생한 것이다.

18. 전 지구적 수준의 문제와 지속 가능한 사회

전 지구적 수준에서 대응해야 할 문제 중 하나는 환경 문제이다. 산업화와 인구 증가에 따라 환경 오염이 심각해졌고, 그 피해는 전 세계적으로 나타나고 있다.

지구 온난화는 대기 중의 온실가스가 증가하여 지구의 평균 기온이 지속해서 상승하는 현상으로, 산업화 과정에서 산림을 파괴하거나 화석 연료를 무분별하게 사용하여 발생한다고 알려져 있다. 지구 온난화로 생태계 교란과 함께 세계 곳곳에서 가뭄, 집중 호우 등 기상 이변이 발생하여 수많은 인명 피해와 재산 손실이 나타나고 있다. 이에 대응하여 각국은 온실가스 배출량 감축을 의무화하는 국제 연합 기후 변화 협약을 맺는 것과 같은 다양한 노력을 기울이고 있다.

사막화는 초원과 삼림이 황폐해지고 점차 사막으로 변해 가는 현상으로, 강수량 부족이나 삼림 남벌, 목축지의 파잉 개발 등이 주요 원인이다. 아프리카 사하라 사막 주변의 사헬 지대, 중국 북서부 등지에서 심각하게 나타나고 있으며 그 범위가 점차 확대되고 있다.

열대 우림 파괴는 아마존 밀림처럼 세계의 허파와도 같은 역할을 하는 큰 숲이 파괴되는 현상으로, 무분별한 벌목과 불법적인 방화 등이 주요 원인이다. 열대 우림 파괴는 지구의 이산화 탄소 흡수 능력을 약화하여 온실가스를 증가시키고, 홍수 시에는 심각한 토양 유실로 다양한 생물 종의 서식을 위협한다.

이 밖에 황사 및 미세 먼지, 토양 오염 등과 같이 다양한 환경 문제가 있다. 환경 문제를 해결하기 위해서는 국제 연합(UN)과 같은 국제기구의 노력은 물론 개별 국가의 적극적인 협력이 필요하다. 또한 기업과 개인도 지구 환경의 회복과 보호를 위해 할 수 있는 일을 성찰하고 그에 동참해야 한다.

세계 인구의 증가와 산업 발달로 자원 사용량이 급증하면서 한정된 자원이 고갈되고 있으며 국가 간 자원 전쟁 양상이 나타나기도 한다. 특히 석유나 석탄 등의 인류가 의존해 온 에너지 자원이 줄어들면서 세계 경제에 큰 불안 요소로 작용하고 있다.

한편 석유, 석탄과 같은 동력 자원뿐만 아니라 쌀, 밀, 옥수수 등과 같은 식량 자원 문제도 발생하고 있다. 전 세계의 곡물 생산량은 지구상 모든 사람이 충분히 먹고도 남을 분량이지만, 생산 지역의 편중과 국제 교역 및 복잡한 정치적·경제적 이해관계 등으로 지역에 따라 식량 부족 문제가 발생하고 있다.

물 부족 문제도 심각하다. 세계은행은 2016년 발간한 보고서에서 인구 증가, 소득 수준 향상, 도시 확장 등으로 물 수요는 기하급수적으로 늘어나지만, 공급은 한정되어 있어 만성적인 물 부족 현상이 심화할 것이라고 지적하였다. 물 부족 현상을 내버려 두면 국가 간 물 분쟁과 갈등이 고조될 수 있다.

이러한 자원 고갈 및 분쟁 문제를 해결하기 위해서는 기존의 화석 연료를 대신할 신·재생 에너지를 개발하는 것도 중요하지만, 인류가 자원을 끊임없이 사용해야 하는 성장 위주의 정책과 소비 위주의 문화를 개선할 필요도 있다.

제 1·2차 세계 대전 이후 인류는 전쟁의 참혹함을 깨닫고 평화를 위해 노력하고 있지만, 아직도 세계 곳곳에서는 국지적인 전쟁이 발생하고 있다. 또한 2001년 9월 11일 세계 무역

센터 항공기 테러 이후 전 세계가 테러에 경각심을 가지고 대응하고 있으나, 정치적·종교적 요인 등으로 각종 테러가 끊이지 않고 있다.

전쟁과 테러는 무력이나 폭력을 사용한다는 점에서 같지만 차이가 있다. **전쟁**은 국가나 정치 집단 간에 전면적 또는 국지적으로 무력이나 폭력이 발생하는 갈등 상황이고, **테러**는 특정 목적을 가진 개인이나 단체가 살인, 납치, 유괴, 저격, 약탈 등 다양한 방법의 폭력을 행사하여 사회적 공포 상태를 일으키는 행위이다.

전쟁과 테러를 방지하려면 그 갈등의 원인을 파악하여 국가 간 또는 정치 집단 간에 평화적 방법으로 갈등을 해결하려는 노력이 선행되어야 한다. 그뿐만 아니라 인류의 보편적 가치를 지향할 수 있는 합리적 사고에 바탕을 둔 의식도 필요하다.

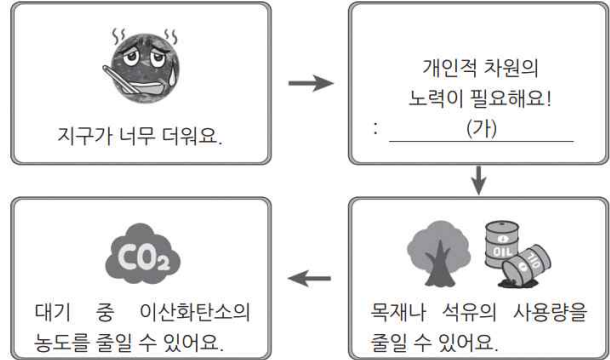
전 지구적 차원의 문제를 해결하기 위해서는 '나'라는 존재가 한 국가의 국민일 뿐만 아니라 지구촌을 구성하는, 책임 있는 시민이라는 인식이 필요하다. 이처럼 특정 국가의 국민으로서만이 아니라 인류 공동체의 일원으로서 세계 공동체 의식을 가지고 지구촌 문제 해결을 위해 협력하는 사람을 **세계 시민**이라고 한다.

세계 시민은 세계의 모든 인류는 평등하다는 관점에서 전 지구적 수준의 문제에 주체적이고 능동적으로 참여할 권리를 가진 주체라고 볼 수 있다. 따라서 세계 시민은 전 지구적 수준의 문제에 지속적인 관심을 가지고, 국가를 초월한 반성과 참여 및 연대를 할 수 있어야 한다. 또한 특정한 이해관계를 초월하여 보편적인 가치를 추구하고 그것을 위해 행동하는 시민성을 갖추어야 한다.

지속 가능한 사회란 현재대는 물론 미래 세대의 삶의 질이 함께 보장되는 사회를 말한다. 지속 가능한 사회는 세계 시민 의식 없이 실현하기 어렵다. 전 지구적 수준의 문제를 해결해야 지속 가능한 사회가 되고, 전 지구적 수준의 문제는 세계 시민 의식을 가지고 실천할 때만 해결할 수 있기 때문이다.

현재 세계 시민 의식을 토대로 많은 사람이 개인적으로 또는 조직을 구성하여 활동하고 있다. 어떤 사람들은 지구 환경을 보호하기 위해 친환경 제품만을 사용하고 시민 단체나 국제 연합(UN) 산하 기구에 가입하여 활동하기도 한다. 이러한 세계 시민이 많아지면 전 지구적 수준의 문제에 관한 사회적 관심도가 높아지고, 개별 국가도 이러한 활동을 지원할 유인이 커져 전 지구적 수준의 문제에 관한 국가 간 협력이 더욱 쉽게 이루어질 수 있다.

69. (가)에 들어갈 내용으로 적절하지 않은 것은?



- ① 외출 시 전등을 끈다.
- ② 육류를 더 많이 섭취한다.
- ③ 일회용 컵을 사용하지 않는다.
- ④ 비닐 봉투보다 장바구니를 사용한다.
- ⑤ 가까운 거리는 걷거나 자전거를 이용한다.

70. 다음 국제 협약과 관련된 환경 문제를 해결하기 위한 노력으로 적절한 것을 <보기>에서 고른 것은?

UN 기후 변화 협약 195개 참가국은 '교토 의정서'를 대신할 '파리 기후 협약'을 만장일치로 채택하였다. 이 협약의 당사국들은 2050년 이후에는 인간의 온실 가스 배출량과 지구가 흡수하는 능력이 균형을 이루어야 한다고 촉구했다. 또한 이 협약에는 선진국 뿐만 아니라 개발 도상국에도 온실가스 감축 의무를 부여하고 기후 변화로 피해를 입는 국가를 돕는 내용도 포함되었다.

- < 보 기 >
- ㄱ. 화석 연료의 가격을 인하한다.
 - ㄴ. 탄소 배출량이 적은 제품을 사용한다.
 - ㄷ. 대기 오염 물질의 배출 규제를 완화한다.
 - ㄹ. 시민 단체에 가입하여 환경 감시 활동을 한다.

- ① ㄱ, ㄴ ② ㄱ, ㄷ ③ ㄴ, ㄷ ④ ㄴ, ㄹ ⑤ ㄷ, ㄹ

2023학년도 수능 대비 모의고사 주요 문항 정답

1	①	2	③	3	⑤	4	④	5	④
6	②	7	③	8	⑤	9	③	10	④
11	④	12	②	13	④	14	①	15	②
16	③	17	①	18	⑤	19	①	20	②
21	⑤	22	②	23	⑤	24	③	25	②
26	④	27	②	28	②	29	②	30	⑤
31	④	32	④	33	④	34	④	35	⑤
36	④	37	⑤	38	③	39	④	40	④
41	③	42	②	43	①	44	③	45	⑤
46	⑤	47	②	48	①	49	④	50	③
51	②	52	③	53	①	54	①	55	②
56	⑤	57	③	58	⑤	59	③	60	③
61	④	62	⑤	63	③	64	②	65	①
66	③	67	⑤	68	②	69	②	70	④

※ 시험이 시작되기 전까지 표지를 넘기지 마시오.

