

EBS,

for B

Bin의 수학영역

수능완성

안녕하세요. Bin입니다.

이번 컨텐츠는, 수능완성 B형 요약본입니다.

수능완성 수1, 수2, 적통, 기백 총 4권 약 600쪽 짜리 분량을,

200문제, 약 50페이지 가량으로 압축한 자료입니다.

문제 선별기준은,

쉬운 기본문항  
+  
계산 연습용 문항  
+  
약간의 참신한 문항  
+  
이정돈 알아야 하는 문항.

으로 구성되어 있습니다.

자료를 편집하며 느낀건,

A형과는 다르게 건질만한 문제가 얼마없더군요. ㅎㅎ

그래서 겨우겨우 쥐어짜낸게 이 200문제 입니다.

아무쪼록 잘쓰시길 바랍니다.

+ 네모박스 되어있는 문항은 제 Tip이 제시되어 있는 문항입니다.

< 자료 구성 >

문항 + 답 + Tip 자료.

< 수1 >

이차정사각행렬  $A$ 가 다음 조건을 만족시킨다.

- (가) 행렬  $A$ 의 모든 성분의 합은 3이다.  
 (나)  $A^2 = A + E$

행렬  $A^5$ 의 모든 성분의 합은? (단,  $E$ 는 단위행렬이다.)

- ① 20                      ② 21                      ③ 22  
 ④ 23                      ⑤ 24

두 이차정사각행렬  $A, B$ 가

$$A + B = E, A^2 + B^2 = E$$

를 만족시킬 때, 옳은 것만을 보기에서 있는 대로 고른 것은? (단,  $E$ 는 단위행렬이고,  $O$ 는 영행렬이다.)

- 보기
- ㄱ.  $AB = BA$   
 ㄴ.  $AB = O$   
 ㄷ.  $A^3 + B^3 = E$

- ① ㄱ                      ② ㄴ                      ③ ㄱ, ㄴ  
 ④ ㄴ, ㄷ                ⑤ ㄱ, ㄴ, ㄷ

Rin의

스하여여

행렬  $A = \begin{pmatrix} 0 & 1 \\ 2 & 0 \end{pmatrix}$ 에 대하여 행렬

$$(A - E)(A^2 + A + E)(A^3 + E)$$

의 모든 성분의 합은? (단,  $E$ 는 단위행렬이다.)

- ① 11                      ② 12                      ③ 13  
 ④ 14                      ⑤ 15

행렬  $A = \begin{pmatrix} 0 & 1 \\ 2 & 1 \end{pmatrix}$ 에 대하여 행렬  $A + tE$ 의 역행렬이

존재하지 않도록 하는 모든 실수  $t$ 의 값의 합은?

(단,  $E$ 는 단위행렬이다.)

- ① -2                      ② -1                      ③ 0  
 ④ 1                        ⑤ 2

좌표평면 위의 두 점  $P(x_1, y_1)$ ,  $Q(x_2, y_2)$ 가 다음 조건을 만족시킨다.

(가) 행렬  $\begin{pmatrix} x_1 & x_2 \\ y_1 & y_2 \end{pmatrix}$ 는 역행렬을 갖지 않는다.

(나)  $2x_1 + x_2 = 0$

점 P가 세 점  $A(1, 1)$ ,  $B(2, 1)$ ,  $C(1, 2)$ 를 꼭짓점으로 하는 삼각형의 경계 및 내부를 움직일 때, 점 Q가 나타내는 도형의 넓이는?

- ①  $\frac{1}{2}$                       ② 1                      ③  $\frac{3}{2}$   
 ④ 2                      ⑤  $\frac{5}{2}$

두 이차정사각행렬  $A, B$ 가 다음 조건을 만족시킨다.

(가)  $AB + A = E$

(나)  $B \begin{pmatrix} 1 \\ 2 \end{pmatrix} = \begin{pmatrix} 3 \\ 4 \end{pmatrix}$

$x, y$ 에 대한 연립일차방정식  $(E - BA) \begin{pmatrix} x \\ y \end{pmatrix} = \begin{pmatrix} 1 \\ 2 \end{pmatrix}$ 의

해를  $x = \alpha, y = \beta$ 라 할 때,  $\alpha + \beta$ 의 값은?

(단,  $E$ 는 단위행렬이다.)

- ① 6                      ② 7                      ③ 8  
 ④ 9                      ⑤ 10

# Bin의 수학영역

두 이차정사각행렬  $A, B$ 가

$$A^2 + AB = E, (A + B)^2 = A^2 + B^2 + E$$

를 만족시킬 때, 옳은 것만을 보기에서 있는 대로 고른 것은? (단,  $E$ 는 단위행렬이다.)

보기

ㄱ.  $AB = BA$

ㄴ.  $A = B$

ㄷ.  $(A^{-1})^9 = 16A$

- ① ㄱ                      ② ㄷ                      ③ ㄱ, ㄴ  
 ④ ㄴ, ㄷ                      ⑤ ㄱ, ㄴ, ㄷ

두 이차정사각행렬  $A, B$ 가

$$AB + A = E, BA = B$$

를 만족시킬 때, 다음 중 행렬  $A$ 의 역행렬과 항상 같은 것은? (단,  $E$ 는 단위행렬이다.)

- ①  $2E$                       ②  $E + A$                       ③  $E - A$   
 ④  $2E + A$                       ⑤  $2E - A$

두 이차정사각행렬  $A, B$ 가

$$2A+B=E, AB+B^2=BA+E$$

를 만족시킬 때, 옳은 것만을 보기에서 있는 대로 고른 것은? (단,  $E$ 는 단위행렬이다.)

보기

ㄱ.  $AB=BA$

ㄴ.  $A^2=A$

ㄷ.  $(A^2+B^2)^{-1}=E-\frac{1}{2}A$

- ① ㄱ                      ② ㄷ                      ③ ㄱ, ㄴ  
④ ㄴ, ㄷ                  ⑤ ㄱ, ㄴ, ㄷ

두 함수  $y=2^x-3, y=2^{-x+2}-20$ 의 그래프가  $x$ 축과 만나는 점을 각각 A, B라 하자. 선분 AB의 길이를  $l$ 이라 할 때,  $2^l$ 의 값은?

- ① 7                      ② 9                      ③ 11  
④ 13                    ⑤ 15

# Bin의 수학영역

함수  $y=2^x$ 의 그래프를  $x$ 축의 방향으로  $p$ 만큼 평행이동한 그래프와 함수  $y=2^{-x+q}$ 의 그래프가 직선  $x=3$ 에 대하여 서로 대칭일 때,  $p+q$ 의 값을 구하시오.

정의역이  $\{x \mid -3 \leq x \leq 2\}$ 인 함수  $f(x)=2^{1-x}+4$ 의 최댓값을  $M$ , 최솟값을  $m$ 이라 할 때,  $\frac{M}{m}$ 의 값은?

- ①  $\frac{34}{9}$                       ② 4                      ③  $\frac{38}{9}$   
④  $\frac{40}{9}$                       ⑤  $\frac{14}{3}$

1이 아닌 양수  $a$ 에 대하여 정의역이  $\{x \mid -1 \leq x \leq 2\}$ 인  
 두 함수  $f(x) = \left(\frac{1}{a}\right)^x$ ,  $g(x) = a^{2x}$ 이 있다. 두 함수  $f(x)$ ,  
 $g(x)$ 의 최댓값을 각각  $M_1$ ,  $M_2$ 라 할 때,  $\frac{M_2}{M_1} = 15$ 이다.  
 $a^6$ 의 값을 구하시오.

지수방정식

$$4^x + 4^{-x} - 7(2^x + 2^{-x}) + 14 = 0$$

의 모든 실근의 합은?

- ① 0                      ② 3                      ③ 7  
 ④ 10                     ⑤ 14

# Bin의 수학영역

지수방정식  $2^x + \frac{3}{2^x} = 5$ 의 서로 다른 두 실근을  $\alpha$ ,  $\beta$ 라  
 할 때,  $2^{\alpha+\beta}$ 의 값을 구하시오.

$x$ 에 대한 지수부등식  $\left(\frac{1}{2}\right)^{x^2} > 2^{ax}$ 을 만족시키는 정수  $x$   
 의 개수가 5이기 위한 양수  $a$ 의 최댓값을 구하시오.

양수  $A$ 에 대하여  $\log A^3$ 의 지표는 11이고,  $\log \frac{1}{A}$ 의  
 가수는  $\log 2$ 일 때,  $\frac{A}{100}$ 의 값을 구하시오.

- ①  $10^{\frac{19}{2}}$       ②  $10^{10}$       ③  $10^{\frac{21}{2}}$   
 ④  $10^{11}$       ⑤  $10^{\frac{23}{2}}$

양수  $x$ 에 대하여  $\log x$ 의 가수를  $g(x)$ 라 할 때,  
 $g(x) = g\left(\frac{1}{x}\right)$ 을 만족시키는 1 이상이고 100보다 작은  
 모든  $x$ 의 값의 곱은?

- ① 10      ②  $10^2$       ③  $10^3$   
 ④  $10^4$       ⑤  $10^5$

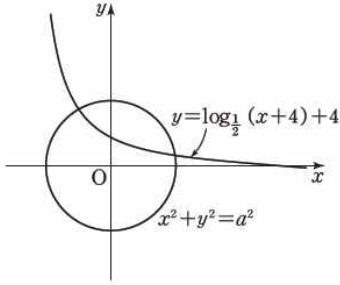
양수  $x$ 에 대하여  $\log x$ 의 지표와 가수를 각각  $f(x)$ ,  
 $g(x)$ 라 하자.  $10^4$ 보다 작은 양수  $a$ 에 대하여  $f(a)g(a)$   
 가 자연수가 되도록 하는 모든  $a$ 의 값의 곱은?

- ①  $10^{\frac{19}{2}}$       ②  $10^{10}$       ③  $10^{\frac{21}{2}}$   
 ④  $10^{11}$       ⑤  $10^{\frac{23}{2}}$

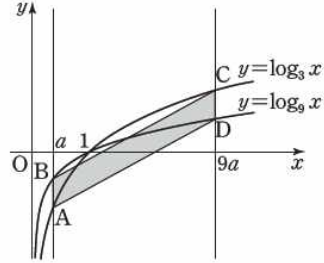
양수  $x$ 에 대하여  $\log x$ 의 지표를  $f(x)$ 라 하자.  
 $f(n^3) = f(n^2)$ 을 만족시키는 자연수  $n$ 의 개수는?  
 (단,  $\log 2 = 0.3010$ ,  $\log 3 = 0.4771$ 로 계산한다.)

- ① 3      ② 5      ③ 7  
 ④ 9      ⑤ 11

그림과 같이 함수  $y = \log_{\frac{1}{2}}(x+4) + 4$ 의 그래프와 원  $x^2 + y^2 = a^2$ 이 서로 다른 두 점에서 만나고, 이 두 점 중 한 점만 제1사분면 위에 있도록 하는 자연수  $a$ 의 개수를 구하시오.

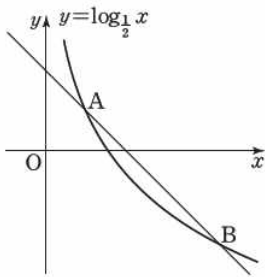


$\frac{1}{9} < a < 1$ 인 실수  $a$ 에 대하여 직선  $x=a$ 가 두 곡선  $y = \log_3 x$ ,  $y = \log_9 x$ 와 만나는 점을 각각 A, B라 하고, 직선  $x=9a$ 가 두 곡선  $y = \log_3 x$ ,  $y = \log_9 x$ 와 만나는 점을 각각 C, D라 하자. 사각형 ABCD가 평행사변형일 때, 사각형 ABCD의 넓이는?



- ①  $\frac{5}{6}$                       ② 1                      ③  $\frac{7}{6}$   
 ④  $\frac{4}{3}$                       ⑤  $\frac{3}{2}$

함수  $y = \log_{\frac{1}{2}} x$ 의 그래프와 기울기가  $-1$ 인 직선이 두 점에서 만날 때, 만나는 두 점을 각각 A, B라 하자.  $\overline{AB} = 2\sqrt{2}$ 일 때, 직선 OA의 기울기는  $\log_{\frac{1}{2}} k$ 이다. 양수  $k$ 의 값은? (단, O는 원점이고, 점 A의  $x$ 좌표는 점 B의  $x$ 좌표보다 작다.)



- ①  $\frac{2\sqrt{2}}{9}$                       ②  $\frac{2\sqrt{3}}{9}$                       ③  $\frac{4}{9}$   
 ④  $\frac{2\sqrt{5}}{9}$                       ⑤  $\frac{2\sqrt{6}}{9}$

$0 < a < 1$ 인 상수  $a$ 에 대하여 정의역이  $\{x | 1 \leq x \leq 4\}$ 인 함수  $y = \log_a(x^2 - 6x + 13)$ 의 최댓값은  $-2$ 이고, 최솟값을  $m$ 이라 할 때,  $a+m$ 의 값은?

- ①  $-4$                       ②  $-\frac{7}{2}$                       ③  $-3$   
 ④  $-\frac{5}{2}$                       ⑤  $-2$



함수  $y=3^x$ 의 그래프를  $x$ 축에 대하여 대칭이동시킨 후,  
 $x$ 축의 방향으로  $m$ 만큼,  $y$ 축의 방향으로  $3^m$ 만큼 평행  
 이동시킨 그래프가 원  $(x-4)^2+y^2=1$ 의 중심을 지날 때,  
 상수  $m$ 의 값은?

- ① 1                      ② 2                      ③ 3  
 ④ 4                      ⑤ 5

$x$ 에 대한 지수방정식  $25^x - k \cdot 5^{x+1} + 6k - 12 = 0$ 이  
 한 개의 음의 실근과 한 개의 양의 실근을 갖도록 하는 정수  
 $k$ 의 개수는?

- ① 4                      ② 5                      ③ 6  
 ④ 7                      ⑤ 8

두 자리의 자연수  $N$ 에 대하여  $\log N$ 의 가수가  $a$ 일 때,  
 다음 조건을 만족시키는  $N$ 의 개수를 구하시오.

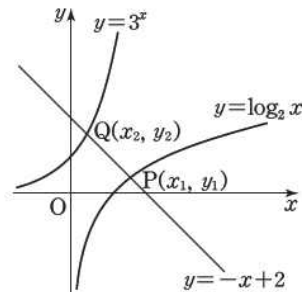
- (가)  $3a - 2 \log \frac{5}{N} < -3 + 4 \log N$   
 (나)  $\log N$ 의 가수는  $\log 5N$ 의 가수보다 크다.

두 함수  $y=\log_2 x$ ,  $y=3^x$ 의 그래프와  
 직선  $y=-x+2$ 가 만나는 점을 각각  
 $P(x_1, y_1)$ ,  $Q(x_2, y_2)$ 라 할 때,  
 옳은 것만을 보기에서 있는 대로 고른 것은?

보기

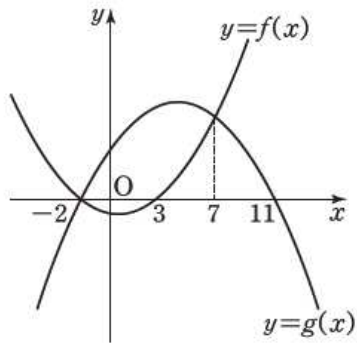
- ㄱ.  $x_2 y_1 < x_1 y_2$   
 ㄴ.  $x_1^2 + y_1^2 < x_2^2 + y_2^2$   
 ㄷ.  $y_1 y_2 < x_1 x_2$

- ① ㄱ                      ② ㄴ                      ③ ㄱ, ㄴ  
 ④ ㄴ, ㄷ              ⑤ ㄱ, ㄴ, ㄷ



두 이차함수  $y=f(x)$ ,  $y=g(x)$ 의 이차항의 계수는 각각 1, -1이고, 그 그래프는 그림과 같을 때, 부등식  $\log_{\frac{1}{5}} f(x) \geq \log_{\frac{1}{5}} g(x)$ 를 만족시키는 정수  $x$ 의 개수는? (단,  $f(-2)=f(3)=0$ ,  $g(-2)=g(11)=0$ ,  $f(7)=g(7)$ )

- ① 1                      ② 2                      ③ 3  
 ④ 4                      ⑤ 5



-3과 9 사이에  $m$ 개의 수를 넣어 만든 등차수열  $-3, a_1, a_2, a_3, \dots, a_m, 9$ 의 합이 138일 때,  $a_1+a_2+a_3+\dots+a_k$ 의 값이 최소가 되는 자연수  $k$ 의 값은? (단,  $1 \leq k \leq m$ )

- ① 8                      ② 9                      ③ 10  
 ④ 11                    ⑤ 12

# Bin의 수학영역

등차수열  $\{a_n\}$ 에 대하여  $a_2=7$ ,  $a_9=21$ 일 때,  
 $a_1+a_2+a_3+\dots+a_9+a_{10}$   
 의 값을 구하시오.

수열  $\{a_n\}$ 의 첫째항부터 제  $n$ 항까지의 합을  $S_n$ 이라 하자.

$$a_1+a_3=22, S_n=3^n+an$$

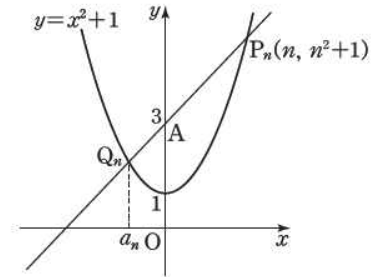
일 때, 상수  $a$ 의 값은?

- ①  $-\frac{1}{2}$                       ②  $-\frac{1}{4}$                       ③ 0  
 ④  $\frac{1}{4}$                       ⑤  $\frac{1}{2}$

$\sum_{k=1}^{10} (ak+1)^2 - \sum_{k=1}^{10} (ak-2)^2 = 36$  일 때, 상수  $a$ 의 값은?

- ①  $\frac{1}{10}$                       ②  $\frac{1}{5}$                       ③  $\frac{3}{10}$   
 ④  $\frac{2}{5}$                       ⑤  $\frac{1}{2}$

그림과 같이 좌표평면에서 자연수  $n$ 에 대하여 곡선  $y=x^2+1$  위의 점  $P_n(n, n^2+1)$ 과 점  $A(0, 3)$ 을 지나는 직선이 곡선  $y=x^2+1$ 과 제2사분면에서 만나는 점을  $Q_n$ 이라 하자.



점  $Q_n$ 의  $x$ 좌표를  $a_n$ 이라 할 때,  $\sum_{k=1}^{10} k^2 a_k$ 의 값은?

- ① -100                      ② -110                      ③ -120  
 ④ -130                      ⑤ -140

수열  $\{a_n\}$ 이 다음 조건을 만족시킨다.

- (가)  $a_1=1, a_2=2$   
 (나) 수열  $\{a_{n+2}-a_n\}$ 은 첫째항이 2이고 공비가  $-1$ 인 등비수열이다.

$a_{25}-a_{10}$ 의 값을 구하시오.

수열  $\{a_n\}$ 은  $a_1=1$ 이고, 모든 자연수  $n$ 에 대하여

$$a_{n+1} = \begin{cases} a_n + 3 & (a_n < 4) \\ a_n - 4 & (a_n \geq 4) \end{cases}$$

일 때,  $\sum_{k=1}^{30} a_k$ 의 값은?

- ① 81                      ② 83                      ③ 85  
 ④ 87                      ⑤ 89

두 수열  $\{a_n\}, \{b_n\}$ 이 모든 자연수  $n$ 에 대하여 다음 조건을 만족시킨다.

- (가)  $a_1=1, b_1=1$   
 (나)  $a_{n+1}=a_n+2$   
 (다)  $b_{n+1}=2b_n$

수열  $\{a_n\}$ 의 첫째항부터 제  $n$ 항까지의 합을  $S_n$ 이라 할 때,  $S_n > b_{10}$ 을 만족시키는 자연수  $n$ 의 최솟값은?

- ① 21                      ② 23                      ③ 25  
 ④ 27                      ⑤ 29

수열  $\{a_n\}$ 이  $a_1=2$ 이고, 모든 자연수  $n$ 에 대하여

$$(2n-1)a_{n+1}=(2n+1)a_n+2$$

를 만족시킬 때,  $a_{20}$ 의 값은?

- ① 112                      ② 114                      ③ 116  
 ④ 118                      ⑤ 120

수열  $\{a_n\}$ 이  $a_1=3, a_2=2$ 이고

$$a_n a_{n+2} = a_{n+1} + 1 \quad (n \geq 1)$$

을 만족시킬 때,  $\sum_{k=1}^{100} a_k$ 의 값은?

- ① 160                      ② 170                      ③ 180  
 ④ 190                      ⑤ 200

첫째항이 1인 수열  $\{a_n\}$ 에 대하여  $S_n = \sum_{k=1}^n a_k$ 라 할 때,

$$a_{n+1} = 2^n + 3S_n \quad (n \geq 1)$$

이 성립한다. 다음은 수열  $\{a_n\}$ 의 일반항을 구하는 과정이다.

$a_{n+1} = 2^n + 3S_n \quad (n \geq 1)$ 이므로

$$a_n = 2^{n-1} + 3S_{n-1} \quad (n \geq 2)$$

두 식을 변끼리 빼서 정리하면

$$a_{n+1} = \boxed{\text{가}} + 4a_n \quad (n \geq 2) \quad \text{..... } \textcircled{7}$$

이때  $a_1=1, a_2=2+3S_1=2+3a_1=5$ 이므로

$\textcircled{7}$ 은  $n=1$ 일 때도 성립한다.

$$\therefore a_{n+1} = \boxed{\text{가}} + 4a_n \quad (n \geq 1)$$

양변을  $4^{n+1}$ 으로 나누고  $b_n = \frac{a_n}{4^n}$ 이라 하면

$$b_{n+1} = b_n + \boxed{\text{나}}$$

$$b_1 = \frac{a_1}{4} = \frac{1}{4} \text{이므로}$$

$$b_n = \boxed{\text{다}} - \frac{1}{2^{n+2}} \quad (n \geq 2) \quad \text{..... } \textcircled{8}$$

$\textcircled{8}$ 은  $n=1$ 일 때도 성립한다.

따라서 모든 자연수  $n$ 에 대하여

$$a_n = 4^n \left( \boxed{\text{다}} - \frac{1}{2^{n+2}} \right) \text{이다.}$$

위의 (가), (나)에 알맞은 식을 각각  $f(n), g(n)$ 이라 하고, (다)에 알맞은 수를  $k$ 라 할 때,  $f(5) \times g(4) \times k$ 의 값은?

- ①  $\frac{3}{256}$                       ②  $\frac{3}{128}$                       ③  $\frac{3}{64}$   
 ④  $\frac{3}{32}$                       ⑤  $\frac{3}{16}$

모든 항이 양수인 등비수열  $\{a_n\}$ 에서

$$\frac{a_2}{a_1} + 2 = \frac{a_4}{a_2}, a_1 + a_2 + a_4 = 33$$

일 때,  $a_1 a_2 a_4$ 의 값을 구하시오.

수열  $\{a_n\}$ 은 첫째항이 1이고 공차가 4인 등차수열이다.

수열  $\{b_n\}$ 은  $b_1=0$ 이고, 모든 자연수  $n$ 에 대하여

$b_{n+1} = b_n + a_n$ 을 만족시킬 때,  $\lim_{n \rightarrow \infty} \frac{b_n}{a_n^2}$ 의 값은?

- ①  $\frac{1}{8}$                       ②  $\frac{1}{4}$                       ③  $\frac{1}{2}$   
 ④ 2                              ⑤ 4

다음은 수열  $\{a_n\}$ 이

$$a_1=2, n(n+2)a_{n+1}=(n+1)^2a_n+1 \quad (n \geq 1)$$

을 만족시킬 때, 수열  $\{a_n\}$ 의 일반항을 구하는 과정이다.

$n(n+2)a_{n+1}=(n+1)^2a_n+1$ 에서 양변을  $n(n+1)$ 로 나누면

$$\frac{(n+2)a_{n+1}}{n+1} = \frac{(n+1)a_n}{n} + \frac{1}{\boxed{\text{(가)}}}$$
 이다.

$$b_n = \frac{(n+1)a_n}{n}$$
 이라 하면  $b_{n+1} = b_n + \frac{1}{\boxed{\text{(가)}}}$ ,  $b_1 = \frac{2a_1}{1} = 4$ 이므로

$$b_n = 4 + \boxed{\text{(나)}}$$

$$\text{즉, } \frac{(n+1)a_n}{n} = 4 + \boxed{\text{(나)}} \text{이므로}$$

$$a_n = \boxed{\text{(다)}}$$

위의 (가), (나), (다)에 알맞은 식을 각각

$f(n)$ ,  $g(n)$ ,  $h(n)$ 이라 할 때,

$f(3) \times g(4) \times h(5)$ 의 값은?

- ① 32                      ② 36                      ③ 40  
 ④ 44                      ⑤ 48

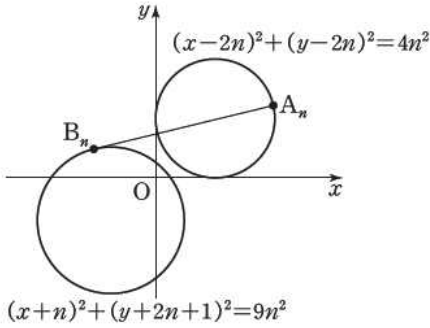
공비가  $r$ 인 등비수열  $\{a_n\}$ 이 다음 조건을 만족시킬 때,  $a_5$ 의 값을 구하시오.

(가)  $r > 1$

(나)  $a_1 + a_3 = 20$

(다)  $\lim_{n \rightarrow \infty} \frac{a_n}{a_1 + a_2 + a_3 + \dots + a_n} = \frac{2}{3}$

그림과 같이 자연수  $n$ 에 대하여  
 원  $(x-2n)^2+(y-2n)^2=4n^2$  위의 점을  $A_n$ ,  
 원  $(x+n)^2+(y+2n+1)^2=9n^2$  위의 점을  $B_n$ 이라 할  
 때, 선분  $A_nB_n$ 의 길이의 최솟값을  $a_n$ 이라 하자.  
 $\lim_{n \rightarrow \infty} a_n$ 의 값은?



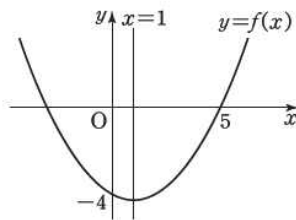
- ①  $\frac{2}{5}$                       ②  $\frac{4}{5}$                       ③  $\frac{6}{5}$   
 ④  $\frac{8}{5}$                       ⑤ 2

$\sum_{n=1}^{\infty} \frac{an^3+n+1}{n(n+1)(n+2)} = b$ 를 만족시키는 두 상수  $a, b$   
 에 대하여  $a+b$ 의 값은?

- ①  $\frac{1}{4}$                       ②  $\frac{1}{2}$                       ③  $\frac{3}{4}$   
 ④ 1                      ⑤  $\frac{5}{4}$

# Bin의 수학영역

이차함수  $y=f(x)$ 의 그래프는 그림과 같이 직선  $x=1$   
 에 대하여 대칭이고, 두 점  $(0, -4), (5, 0)$ 을 지난다.



수열  $\left\{ \left( \frac{1}{2}f(x)+1 \right)^n \right\}$ 이 수렴하도록 하는 정수  $x$ 의 개수  
 는?

- ① 4                      ② 5                      ③ 6  
 ④ 7                      ⑤ 8

이차항의 계수가 1인 이차함수  $y=f(x)$ 가  
 다음 조건을 만족시킨다.

- (가) 모든 실수  $x$ 에 대하여  $f(x)=f(-x-2)$ 이다.  
 (나)  $f(1)+f(-1)=8$

자연수  $n$ 에 대하여  $\lim_{n \rightarrow \infty} (\sqrt{f(n)} - n)$ 의 값은?

- ① 1                      ② 2                      ③ 3  
 ④ 4                      ⑤ 5

수열  $\{a_n\}$ 이

$$a_1=2, 2a_{n+1}=a_n+1 \quad (n \geq 1)$$

을 만족시킬 때,  $\sum_{n=1}^{\infty} (a_n-1)$ 의 값은?

- ①  $\frac{1}{2}$                       ② 1                      ③  $\frac{3}{2}$   
④ 2                      ⑤  $\frac{5}{2}$

수열  $\{a_n\}$ 이

$$a_1=2, a_{n+1}=a_n+2n+2 \quad (n \geq 1)$$

를 만족시킨다. 수열  $\{a_n\}$ 의 첫째항부터  
제  $n$ 항까지의 합을  $S_n$ 이라 할 때,  $\sum_{n=1}^{\infty} \frac{1}{S_n}$ 의 값은?

- ①  $\frac{1}{2}$                       ②  $\frac{3}{5}$                       ③  $\frac{3}{4}$   
④ 1                      ⑤  $\frac{3}{2}$

# 수학영역

좌표평면 위의 두 점  $P(x_1, y_1)$ ,  $Q(x_2, y_2)$ 가 다음 조건을 만족시킨다.

(가) 행렬  $\begin{pmatrix} x_1 & x_2 \\ y_1 & y_2 \end{pmatrix}$ 는 역행렬을 갖지 않는다.

(나)  $2x_1 + x_2 = 0$

점 P가 세 점  $A(1, 1)$ ,  $B(2, 1)$ ,  $C(1, 2)$ 를 꼭짓점으로 하는 삼각형의 경계 및 내부를 움직일 때, 점 Q가 나타내는 도형의 넓이는?

- ①  $\frac{1}{2}$       ② 1      ③  $\frac{3}{2}$   
 ④ 2      ⑤  $\frac{5}{2}$

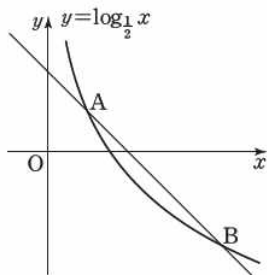
(가)에서, 역행렬을 갖지 않는다. 란 것에서 다음내용이 도출 가능합니다.

$$\frac{y_1}{x_1} = \frac{y_2}{x_2}$$

즉, 기울기가 같은거니깐, 점 P, Q는 원점을 지나는 한 직선 위에 있습니다.

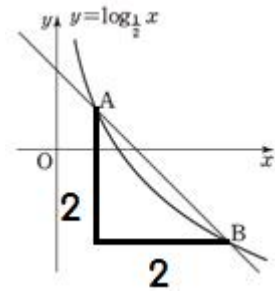
시험에 나올것 같진않지만 역행렬과 연결되어 자주 언급되는 내용이니 (수특에서도 나옴 ㅎㅎ) 기억해두세요.

함수  $y = \log_{\frac{1}{2}} x$ 의 그래프와 기울기가  $-1$ 인 직선이 두 점에서 만날 때, 만나는 두 점을 각각 A, B라 하자.  $\overline{AB} = 2\sqrt{2}$ 일 때, 직선 OA의 기울기는  $\log_{\frac{1}{2}} k$ 이다. 양수 k의 값은? (단, O는 원점이고, 점 A의 x좌표는 점 B의 x좌표보다 작다.)



- ①  $\frac{2\sqrt{2}}{9}$       ②  $\frac{2\sqrt{3}}{9}$       ③  $\frac{4}{9}$   
 ④  $\frac{2\sqrt{5}}{9}$       ⑤  $\frac{2\sqrt{6}}{9}$

여기선 보자마자,



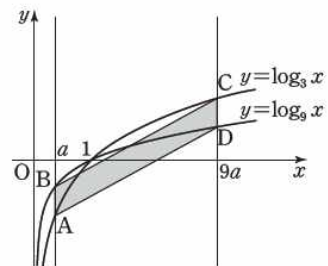
임을 바로 알 수 있어야 합니다.

왜? 기울기가  $-1$ 이니깐.

자주나와요. 뒤에서도 또 비슷한 문항등장합니다.

뭐 이제, A의 x좌표를 t 라하면 B의 x좌표는 t+2 겠군요.

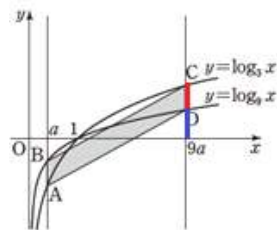
$\frac{1}{9} < a < 1$ 인 실수 a에 대하여 직선  $x=a$ 가 두 곡선  $y = \log_3 x$ ,  $y = \log_9 x$ 와 만나는 점을 각각 A, B라 하고, 직선  $x=9a$ 가 두 곡선  $y = \log_3 x$ ,  $y = \log_9 x$ 와 만나는 점을 각각 C, D라 하자. 사각형 ABCD가 평행사변형일 때, 사각형 ABCD의 넓이는?



- ①  $\frac{5}{6}$       ② 1      ③  $\frac{7}{6}$   
 ④  $\frac{4}{3}$       ⑤  $\frac{3}{2}$

로그함수나 지수함수가 두개 등장하면, 각각의 관계를 따지라 했습니다.

$\log_9 x = \frac{1}{2} \log_3 x$  입니다. 즉, 1/2배만큼 축소한거죠.



그래서 빨간줄과 파란줄의 길이는 같습니다.

직접적인 풀이의 도움은 안되지만, 바로 눈치채야합니다.



$0 < a < 1$ 인 상수  $a$ 에 대하여 정의역이  $\{x | 1 \leq x \leq 4\}$ 인 함수  $y = \log_a(x^2 - 6x + 13)$ 의 최댓값은  $-2$ 이고, 최솟값을  $m$ 이라 할 때,  $a+m$ 의 값은?

- ①  $-4$                       ②  $-\frac{7}{2}$                       ③  $-3$   
 ④  $-\frac{5}{2}$                       ⑤  $-2$

쉬운거지만, 노파심에.

구간 양끝 쳐넣고 최대,최소 하는게 아니라,

“ 들어가는 값 ” 이 최대여야 결과는 최소.

“ 들어가는 값 ” 이 최소여야 결과가 최대입니다.

물론  $0 < a < 1$  에서만요.

여기서 들어가는 값은,  $x^2 - 6x + 13$  이겠죠?

$x$ 에 대한 지수방정식  $25^x - k \cdot 5^{x+1} + 6k - 12 = 0$ 이 한 개의 음의 실근과 한 개의 양의 실근을 갖도록 하는 정수  $k$ 의 개수는?

- ① 4                              ② 5                              ③ 6  
 ④ 7                              ⑤ 8

항상 주의해야 할것은, 여기서 말하는 “ 실근 ”은  $x$ 입니다.

$5^x$ 을  $t$ 로 치환하고 그  $t$ 가 실근이다. 하고 푸는 분들 계신데,  $t$ 는 근이 아닙니다.

그러니깐 여기서  $t$ 가 하나는 음, 하나는 양. 이 절대 안되는거죠.

결국,  $t$ 가 0초과 1미만, + 1 초과 . 이렇게 풀어야죠.

즉, 준식을 치환한 식을  $f(t)$  라하면,  
 $f(1) < 0$  ,  $f(0) > 0$  으로 풀어야 합니다.

두 함수  $y = \log_2 x$ ,  $y = 3^x$ 의 그래프와

직선  $y = -x + 2$ 가 만나는 점을 각각

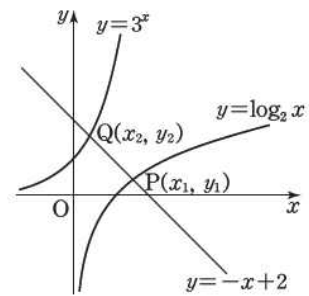
$P(x_1, y_1)$ ,  $Q(x_2, y_2)$ 라 할 때,

옳은 것만을 보기에서 있는 대로 고른 것은?

보기

- ㄱ.  $x_2 y_1 < x_1 y_2$   
 ㄴ.  $x_1^2 + y_1^2 < x_2^2 + y_2^2$   
 ㄷ.  $y_1 y_2 < x_1 x_2$

- ① ㄱ                              ② ㄴ                              ③ ㄱ, ㄴ  
 ④ ㄴ, ㄷ                        ⑤ ㄱ, ㄴ, ㄷ



이 문항은, 확실한 풀이법이 정해져있긴해서 출제되긴 어려울겁니다.

$\log_2 x$ 를  $y=x$  대칭한 뒤에,  $3^x$ 와 비교하면 됩니다.

ㄴ을 예로 들어볼까요?

ㄴ은 중심이 원점인 원의 반지름을 묻는 것이므로, 어느 점이 더 원점에서 많이 떨어졌냐를 묻습니다.

그냥 로그함수랑 지수함수 비교하면 비교가 불가죠?

그래서  $y=x$  대칭해준뒤에,  $2^x$ ,  $3^x$  으로 비교해야합니다.

등차수열  $\{a_n\}$ 에 대하여  $a_2 = 7$ ,  $a_9 = 21$ 일 때,

$$a_1 + a_2 + a_3 + \dots + a_9 + a_{10}$$

의 값을 구하시오.

등차중항이죠?

$$a_1 + a_{10} = a_2 + a_9 = a_3 + a_8 \dots$$

수열  $\{a_n\}$ 의 첫째항부터 제  $n$ 항까지의 합을  $S_n$ 이라 하자.

$$a_1 + a_3 = 22, S_n = 3^n + an$$

일 때, 상수  $a$ 의 값은?

- ①  $-\frac{1}{2}$       ②  $-\frac{1}{4}$       ③ 0  
 ④  $\frac{1}{4}$       ⑤  $\frac{1}{2}$

$S_n - S_{n-1} = a_n$  을 할때,

$S_1 = a_1$  . 잊지마시길.

노파심에 넣었습니다.

수열  $\{a_n\}$ 이 다음 조건을 만족시킨다.

(가)  $a_1 = 1, a_2 = 2$

(나) 수열  $\{a_{n+2} - a_n\}$ 은 첫째항이 2이고 공비가  $-1$ 인 등비수열이다.

$a_{25} - a_{10}$ 의 값을 구하시오.

이렇게 배운적없는 점화식이 나오면,

풀이는 크게 두가지인데,

1. 직접해봐서 새로운 규칙을 파악하여 식세워준다.
2. 직접해서 구한다. ( 이걸 구하라는게 인간적으로 셀 수 있을 때. 가령  $a_{10}$  같은건 10번해보면 되니깐. )

공통점이 뭘까요?

넵. 직접하는겁니다.

근데 그걸 누가못해요.

중요한건 속도.

보자마자 “ **바로** ” 직접하셔야 합니다

수열  $\{a_n\}$ 은  $a_1 = 1$ 이고, 모든 자연수  $n$ 에 대하여

$$a_{n+1} = \begin{cases} a_n + 3 & (a_n < 4) \\ a_n - 4 & (a_n \geq 4) \end{cases}$$

일 때,  $\sum_{k=1}^{30} a_k$ 의 값은?

- ① 81      ② 83      ③ 85  
 ④ 87      ⑤ 89

마찬가지. 보자마자  $a_1$  부터 바로 나열 들어가면서 규칙찾으면 됩니다.

잉?

이럴 틈이 없단겁니다.

수열  $\{a_n\}$ 이  $a_1 = 2$ 이고, 모든 자연수  $n$ 에 대하여

$$(2n-1)a_{n+1} = (2n+1)a_n + 2$$

를 만족시킬 때,  $a_{20}$ 의 값은?

- ① 112      ② 114      ③ 116  
 ④ 118      ⑤ 120

뭐 직접해도 됩니다만. 앤 알아두셔야 할 것 같아서 넣었습니다. 빈칸으로 나올수도 있으니.

양변을  $(2n-1)(2n+1)$  로 나눈뒤,  $\frac{a_n}{2n-1}$  을  $b_n$ 으로 치환하고 푸시면 됩니다.

수열  $\{a_n\}$ 이  $a_1=3, a_2=2$ 이고  
 $a_n a_{n+2} = a_{n+1} + 1 \ (n \geq 1)$   
 을 만족시킬 때,  $\sum_{k=1}^{100} a_k$ 의 값은?  
 ① 160                      ② 170                      ③ 180  
 ④ 190                      ⑤ 200

보자마자 어쩐다구요?

직접하세요 ㅎㅎ

첫째항이 1인 수열  $\{a_n\}$ 에 대하여  $S_n = \sum_{k=1}^n a_k$ 라 할 때,  
 $a_{n+1} = 2^n + 3S_n \ (n \geq 1)$   
 이 성립한다. 다음은 수열  $\{a_n\}$ 의 일반항을 구하는 과정이다.

$a_{n+1} = 2^n + 3S_n \ (n \geq 1)$ 이므로  
 $a_n = 2^{n-1} + 3S_{n-1} \ (n \geq 2)$   
 두 식을 변끼리 빼서 정리하면  
 $a_{n+1} = \boxed{(가)}$  +  $4a_n \ (n \geq 2)$       ..... ㉠  
 이때  $a_1=1, a_2=2+3S_1=2+3a_1=5$ 이므로  
 ㉠은  $n=1$ 일 때도 성립한다.  
 $\therefore a_{n+1} = \boxed{(가)}$  +  $4a_n \ (n \geq 1)$   
**양변을  $4^{n+1}$ 으로 나누고  $b_n = \frac{a_n}{4^n}$ 이라 하면**  
 $b_{n+1} = b_n + \boxed{(나)}$   
 $b_1 = \frac{a_1}{4} = \frac{1}{4}$ 이므로  
 $b_n = \boxed{(다)}$  -  $\frac{1}{2^{n+2}}$  ( $n \geq 2$ )      ..... ㉡  
 ㉡은  $n=1$ 일 때도 성립한다.  
 따라서 모든 자연수  $n$ 에 대하여  
 $a_n = 4^n \left( \boxed{(다)} - \frac{1}{2^{n+2}} \right)$ 이다.

위의 (가), (나)에 알맞은 식을 각각  $f(n), g(n)$ 이라 하고,  
 (다)에 알맞은 수를  $k$ 라 할 때,  $f(5) \times g(4) \times k$ 의 값은?  
 ①  $\frac{3}{256}$                       ②  $\frac{3}{128}$                       ③  $\frac{3}{64}$   
 ④  $\frac{3}{32}$                         ⑤  $\frac{3}{16}$

네모 두개를 쳤는데,  
 하나는 보자마자 알아야하는겁니다.  
 바로 계차수열. 두달 남겨났는데 이거보고  
 계차수열식이 바로 안써진단건.. ㅎㅎ

두번째는, 실수요소입니다.  
 정말 기출에서 직접계 나온거니 놓치지마시길  
 바랍니다.

모든 항이 양수인 등비수열  $\{a_n\}$ 에서  
 $\frac{a_2}{a_1} + 2 = \frac{a_4}{a_2}, a_1 + a_2 + a_4 = 33$   
 일 때,  $a_1 a_2 a_4$ 의 값을 구하시오.

등비수열을 제대로 배웠다면, 첫번째 식이 이렇게 보여야  
 합니다.

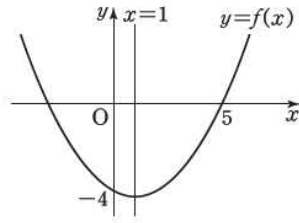
$r + 2 = r^2$   
 일반항 쓰고 그러느라 시간버리지 말길 바랍니다.

다음은 수열  $\{a_n\}$ 이  
 $a_1=2, n(n+2)a_{n+1} = (n+1)^2 a_n + 1 \ (n \geq 1)$   
 을 만족시킬 때, 수열  $\{a_n\}$ 의 일반항을 구하는 과정이다.

$n(n+2)a_{n+1} = (n+1)^2 a_n + 1$ 에서 양변을  $n(n+1)$ 로 나누면  
 $\frac{(n+2)a_{n+1}}{n+1} = \frac{(n+1)a_n}{n} + \frac{1}{\boxed{(가)}}$ 이다.  
 $b_n = \frac{(n+1)a_n}{n}$ 이라 하면  $b_{n+1} = b_n + \frac{1}{\boxed{(가)}}$ ,  $b_1 = \frac{2a_1}{1} = 4$ 이므로  
 $b_n = 4 + \boxed{(나)}$   
 즉,  $\frac{(n+1)a_n}{n} = 4 + \boxed{(나)}$ 이므로  
 $a_n = \boxed{(다)}$

아하. 계차수열.  
 그리고 b1 이므로 이걸 n≥1 이 되네요.

이차함수  $y=f(x)$ 의 그래프는 그림과 같이 직선  $x=1$ 에 대하여 대칭이고, 두 점  $(0, -4), (5, 0)$ 을 지난다.



수열  $\left\{\left(\frac{1}{2}f(x)+1\right)^n\right\}$ 이 수렴하도록 하는 정수  $x$ 의 개수는?

- ① 4                      ② 5                      ③ 6  
 ④ 7                      ⑤ 8

잊으셨을까봐 ! 복습 !

$x^n$ 의 수렴 =  $-1 < x \leq 1$

Bin의 수학영역

$\sum_{n=1}^{\infty} \frac{an^3+n+1}{n(n+1)(n+2)} = b$ 를 만족시키는 두 상수  $a, b$ 에 대하여  $a+b$ 의 값은?

- ①  $\frac{1}{4}$                       ②  $\frac{1}{2}$                       ③  $\frac{3}{4}$   
 ④ 1                      ⑤  $\frac{5}{4}$

여기서 a는 b가 절대 아닙니다.

0이죠 0? 왜?

급수가 수렴하려면 일반항의 극한이 0이어야 되잖아요.

헛갈리지 마세요. a는 0.

이차항의 계수가 1인 이차함수  $y=f(x)$ 가 다음 조건을 만족시킨다.

- (가) 모든 실수  $x$ 에 대하여  $f(x)=f(-x-2)$ 이다.  
 (나)  $f(1)+f(-1)=8$

자연수  $n$ 에 대하여  $\lim_{n \rightarrow \infty} (\sqrt{f(n)} - n)$ 의 값은?

- ① 1                      ② 2                      ③ 3  
 ④ 4                      ⑤ 5

(가) 식을 보고.

“ 이런 식 배운적 없는데 ? ”

가 떠올랐으면 바로 다음과 같은 행동을 해야합니다.

“ 직접 해봐서 식을 파악한다. ”

이건 그 중에서도,

$f(x) = x^2 + ax + b$ 로 둔 뒤에,  $f(x) = f(-x-2)$ 를 직접 하셔야 합니다.

그러면  $a = 2$ 가 나오네요.

다시. 안배운건 뭐? 직접해본다.

다른방식은 뒤에서 배웁니다.