

01. [ 행렬 ]

sol)

$$A + B = \begin{pmatrix} 2+a & 0 \\ 3 & -3 \end{pmatrix} \therefore a = 4$$

02. [ 삼각함수 ]

sol.1)

$$\tan 2\theta = \frac{2\tan\theta}{1-\tan^2\theta} = \frac{2\sqrt{5}/5}{1-(1/5)} = \frac{\sqrt{5}}{2}$$

$$1 + \tan^2 2\theta = \sec^2 2\theta = \frac{9}{4} \therefore \cos 2\theta = \frac{2}{3}$$

$$\therefore \tan\theta > 0, \tan 2\theta > 0 \rightarrow 0 < \theta < \frac{\pi}{4} \text{ or } \pi < \theta < \frac{5\pi}{4}$$

$$\rightarrow \cos 2\theta > 0$$

(실제론 보기가 전부 양수이므로 부호는 신경 안 쓰고 넘어가도 됩니다)

sol.2) 바이어슈트라스 치환

$$\therefore \cos 2\theta = \frac{1 - \tan^2\theta}{1 + \tan^2\theta} = \frac{1 - (1/5)}{1 + (1/5)} = \frac{4}{6} = \frac{2}{3}$$

03. [ 암산해요, 우리 ]

sol)

$$a = 3, b = 2 \rightarrow a + b = 5$$

04. [ 계산 ]

sol.1) 정상인

$$a_n = 2 + (n - 1)d \text{ 라 하면, } a_9 = 3a_3 \text{ 에서 } 2 + 8d = 3(2 + 2d) \text{ 즉, } d = 2 \text{ 이고 따라서, } a_n = 2n \rightarrow a_5 = 10$$

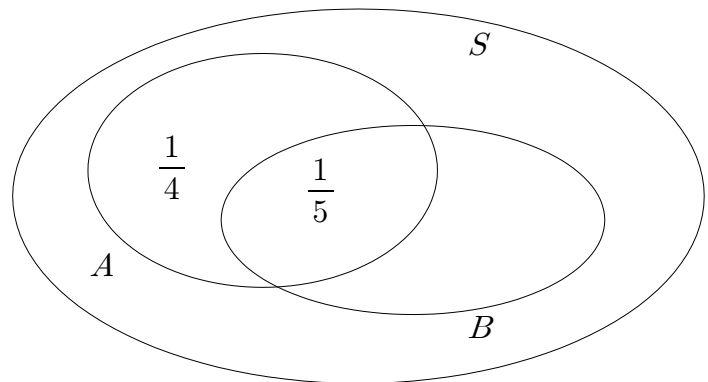
sol.2) 쓸데없이 의미를 부여하면

‘등차수열은  $n$  에 관한 일차식인데,  $a_9 = f(9) = 3f(3) = 3a_3$  이네?’  
 ‘설마  $f(mx) = mf(x)$ ?’  
 ‘그렇담  $f$  는 원점을 지나는 일차함수고, 점  $(1, 2)$  를 지나니까’  
 ‘웁거니~!  $f(n) = a_n = 2n$  이면 되겠네.’

05. [ 벤 다이어그램 ]

sol)

여집합 기호가 많아서 처리하기 귀찮으니, 수치를 맞춰가며 벤 다이어그램을 그려보면 다음과 같습니다.



$$\text{그러면 } P(A^c) = 1 - P(A) = 1 - \frac{1}{4} - \frac{1}{5} = \frac{11}{20}$$

06. [ 계산 문제 ]

sol)

공간에서 직선과 직선이 수직하기 위해선 각각의 직선끼리 방향벡터를 내적하면 0이 되어야 합니다. 직선  $AB$ 의 방향벡터는  $(5, 5, a-3)$  이고, 다른 직선의 방향벡터는  $(1, -1, 1)$  이고, 내적해보면  $a = 3$  임을 알 수 있습니다.

07. [ 간단한 삼각함수 공식 ]

sol)

$f(x) = 1 + \cos 2x + k \sin 2x - 1 = \sqrt{k^2 + 1} \sin(2x + \alpha)$   
 그런데, 여기서 정의역이 모든 실수이므로 편하게 생각해도 되고, 굳이  $\tan \alpha = \frac{1}{k}$  이란 추가 조건을 언급해 줄 필요도 없이 보기 중에서  $k = 3$  을 찾으면 됩니다. 수능은 제한 시간이 중요하니까요.

08. [ Are you ready? ]

sol.1)

주어진 이차방정식을 풀면  $m_1 = 1, m_2 = \frac{1}{2}$  이고, (혹은  $m_1 = \frac{1}{2}, m_2 = 1$  라 놓고 풀어도 답은 바뀌지 않으므로 일반성을 잃지 않습니다.)  $y^2 = 8x$  에 두 직선  $l_1 : y = x + n_1$ ,  $l_2 : y = \frac{1}{2}x + n_2$  가 접하도록

- ① 판별식으로 풀든지(계산이 제법 있으나 능숙하게 처리 가능),
- ② 미분계수로 풀든지(계산이 더 짧을뿐더러, 암산도 가능해짐),
- ③ 감각적으로 대충 짚어서 찾아버리든지(틀릴 수도 있음-;-)

해서 풀면  $n_1 = 2, n_2 = 4$  가 나오고, 두 직선  $l_1, l_2$  의 교점을 찾으면  $(4, 6)$  이 나오므로  $x = 4$  가 답입니다.

sol.2)

올해 평가원 시험에서 기울기가  $m$  인 타원의 접선식이 아주 요긴하게 쓰였었는데, 막상 수능에는 기울기가  $m$  인 포물선의 접선식이 나왔네요.  $y^2 = 4px$  라는 포물선의 표준형에 대하여 기울기가  $m$  인 접선은  $y = mx + \frac{p}{m}$  이고,  $p = 2, m_1 = 1, m_2 = \frac{1}{2}$  을 대입해서 구하면 답은 똑같이 나옵니다.

(그렇다고, 이 문제를 통하여 '평가원은 다양한 풀이를 존중하는구나. 이런 신기한 공식들 많이 많이 외워야겠다!!' 하시면 안 됩니다. 출제자가 진정으로 변별력을 갖고서 물어보고자 하는 수학적 내용은 이런 시시한 것들이 아닙니다.)

※ 이 시험이 끝이 아닌 분들을 위하여

그런데,  $x^2 = 4py$  의 꼴의 포물선의 표준형에 대하여 기울기가  $m$  인 접선은  $x = my + \frac{p}{m}$  이 아니고, (역함수에 대한 마인드, 기울기 계산 등을 통해)  $x = \frac{y}{m} + pm$  를 구한 후 다시 정리하면 최종적으로  $y = m(x - pm)$  가 됩니다. 아마 내년 이후 시험 중에 이렇게 패러디해서 물어보는 문제가 등장할지도 모르겠네요.

09. [ 혼한 문제 ]

sol)

숫자 4 를 기준으로 경우를 나누면 됩니다.

4 를 한 번 :  ${}_3H_4 = {}_6C_4 = 15$

4 를 사용 안 하는 경우 :  ${}_3H_5 = {}_7C_5 = 21$

따라서  $15 + 21 = 36$

10. [ 출제자 曰 : 잠시 낚싯대 좀 찾을테니 기다려요~ ]

sol.1)

문제가 좀 너무 했네요  $\pi\pi\pi$  하나씩 후보에 해당하는 숫자들 넣어보면  $x = -4, -1, 1, 3, 4$  가 됩니다.

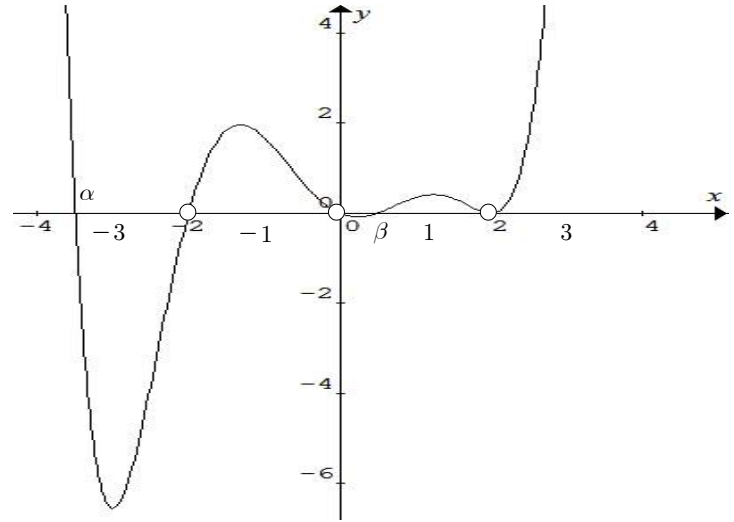
sol.2)

$\frac{g-f}{f} \leq 0$  에서,  $f(x)$  를 삼차함수라 가정하면(그래도 일반성을 잃지 않음 = 문제 답이 달라지는 일은 없으니 걱정 안 해도 됨),

$$\frac{l(x-\alpha)(x-\beta)(x-2)}{-kx(x+2)(x-2)} \leq 0 \quad (k > 0, l > 0)$$

$$\Leftrightarrow x(x+2)(x-\alpha)(x-\beta)(x-2)^2 \geq 0 \quad (x \neq 0, \pm 2)$$

$\therefore x = -4, -1, 1, 3, 4$



11. [ ... ]

sol)

$$f(n) = \frac{1}{n(n+1)} \rightarrow \frac{1}{f(4)} = 20$$

$$g(n) = 2 - \frac{1}{n} \rightarrow g(10) = \frac{19}{10}$$

12. [ 기본에 충실하게 ]

sol)

$f$  가 이차함수이니 모든 구간에서 연속이라서 문제 되지 않지만  $g$  는 구간  $(-1, \infty)$  중  $x = 0$  에서만 유일하게 불연속이네요. 따라서,  $f(x)g(x)$  는  $x = 0$  에서의 연속성만 보장된다면 구간  $(-1, \infty)$  에서 연속이라 할 수 있겠죠? 즉,  $\lim_{x \rightarrow 0} f(x)g(x) = f(0)g(0)$  이면 됩니다. 이제  $f(x) = x(x-k)$  라 하면  $f(0)g(0) = 0$  이 되므로,

$$0 = \lim_{x \rightarrow 0} f(x)g(x) = \lim_{x \rightarrow 0} \frac{x(x-k)}{\ln(1+x)} = -k$$

에서  $k = 0$  이므로  $f(x) = x^2$  이고  $f(3) = 9$  가 됩니다.

13. [ 손 좀 풀었죠^^? ]

sol)

가볍게 다른 교점이 (3, 2)임을 찾은 후에, 구하라는 부분을 잘 확인하여 식을 세워서 풀면 됩니다.

$$\pi \int_0^2 \{(1+2y^2) - (y+1)^2\} dy = \pi \int_0^2 (y^2 - 2y) dy = \frac{4\pi}{3}$$

원뿔대의 부피 공식을 이용하든, 이차함수 면적 공식을 이용하든, 아니면 쌍으로 계산하든, 자신에게 최적화된 방법을 택해서 풀면 됩니다.

14. [ 발상의 전환 ]

sol)

직선을 회전하라고 요구하고 있는 듯 해도, 초점  $F$ 를 반대 방향의 각으로 역회전시킨 점이 직선  $l$ 을 지난다고 식을 세우면 간단해 집니다.

$$\begin{pmatrix} \cos\theta & \sin\theta \\ -\sin\theta & \cos\theta \end{pmatrix} \begin{pmatrix} -\sqrt{\frac{3}{2}} \\ 0 \end{pmatrix} = \begin{pmatrix} -\sqrt{\frac{3}{2}}\cos\theta \\ \sqrt{\frac{3}{2}}\sin\theta \end{pmatrix} \text{에서}$$

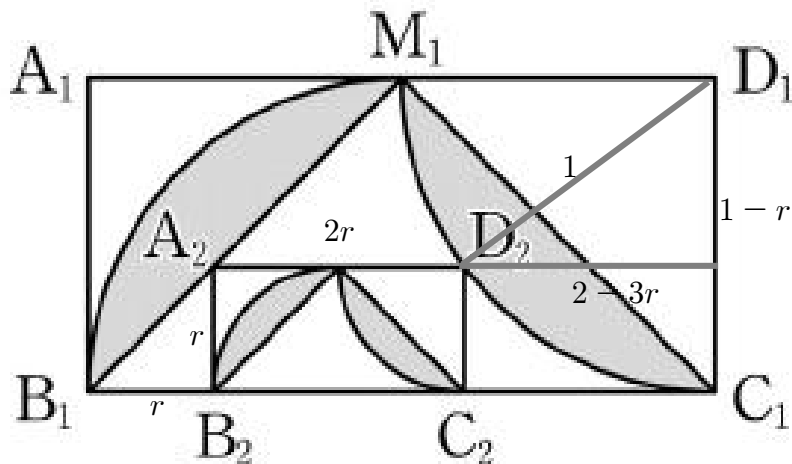
$$-\sqrt{\frac{3}{2}}\cos\theta - \sqrt{\frac{3}{2}}\sin\theta - 1 = 0 \text{를 정리하면}$$

$$\cos\theta + \sin\theta = -\sqrt{\frac{2}{3}} \text{이고, 이때 양변을 완전제곱하면}$$

$$\therefore 1 + \sin 2\theta = \frac{2}{3} \rightarrow \sin 2\theta = -\frac{1}{3}$$

15. [ 보조선만 잘 그으면 끝 ]

sol)



$$1 = (2 - 3r)^2 + (1 - r)^2 = 10r^2 - 14r + 5 \rightarrow r = \frac{2}{5}$$

$$S_1 = \frac{\pi}{2} - 1$$

$$\therefore \lim_{n \rightarrow \infty} S_n = \frac{S_1}{1 - \left(\frac{2}{5}\right)^2} = \frac{25}{21} S_1$$

16. [ 수능에 등장하는 낯시 문항의 좋은 예 ]

sol)

정답률이 상당히 낮았던 문제였습니다. (가) 조건이 결국  $P(X=x)$ 가

아니라  $\int_0^x P(X=t)dt = kx^2$ 이므로, 양변을 미분하면 비로소

$P(X=x) = 2kx$ 가 나옵니다. 이때, 다시 적분할 필요 없이 간단하게

$$\int_0^a P(X=t)dt = ka^2 = 1 \text{을 얻고, (나) 조건으로부터}$$

$$\int_0^a xP(X=x)dx = \int_0^a 2kx^2 dx = \frac{2}{3}ka^3 = 1 \text{이 되어,}$$

$$a = \frac{3}{2}, k = \frac{4}{9} \text{임을 알 수 있습니다.}$$

17. [ ㄱ, ㄴ 조건을 최대한 연관지어 ㄷ 풀기 ]

sol)

$AB + A^2B = (A + A^2)B = E = B(A + A^2)$ 이므로 ㄱ, ㄴ은 모두 참입니다. ㄷ이 어려운데, 아마 ㄷ이니까 맞겠지? 해서 맞출 수도 있고, 답 개수의 법칙으로 풀 수도 있지만, 제대로 풀어 보겠습니다! 문제에서 주어진 두 개의 식을 보면,  $AB + A^2B = E$ 에는  $A + A^2$ 이라는 덩어리(?)가,  $(A - E)^2 + B^2 = O$ 에는  $(A - E)^2$ 이라는 덩어리가 있네요. 그리고,  $A^3 - A = (A + A^2)(A - E)$ 로 볼 수 있으므로, ㄱ의 역행렬 조건과 ㄴ의 교환법칙 조건을 이용하면,

$(A - E)^2 + B^2 = O$ 의 양변에  $(B^{-1})^2 = (A + A^2)^2$ 을 가하면  $(A^3 - A)^2 + E = O$ 가 됩니다. 따라서 ㄷ은 참.

18. [ 직관적으로 보인다면 그렇게 ]

sol.1)

$(n-1)\pi < a_n < (n-1)\pi + \frac{\pi}{2}$ 이고, 샌드위치 정리를 적용코자 부등식을 변형해가면

$$\frac{n-1}{n}\pi < \frac{a_n}{n} < \frac{n-1}{n}\pi + \frac{\pi}{2n}$$

$$\lim_{n \rightarrow \infty} \frac{n-1}{n}\pi \leq \lim_{n \rightarrow \infty} \frac{a_n}{n} \leq \lim_{n \rightarrow \infty} \left( \frac{n-1}{n}\pi + \frac{\pi}{2n} \right)$$

$$\text{즉, } 1 \leq \lim_{n \rightarrow \infty} \frac{a_n}{n} \leq 1 \text{이므로 } \lim_{n \rightarrow \infty} \frac{a_n}{n} = 1$$

sol.2)

' $n \rightarrow \infty$ 이면,  $a_n \rightarrow \frac{2n-1}{2}\pi$  잴아?'

' $\lim_{n \rightarrow \infty} \frac{a_n}{n} = 1$  이군'

19. [ 공간좌표의 설정 ]

sol)

문제에서 각기 언급한

'중심의  $x, y, z$ 좌표가 모두 양수',

'구  $S$ 가  $x, y$ 축에 접하고',

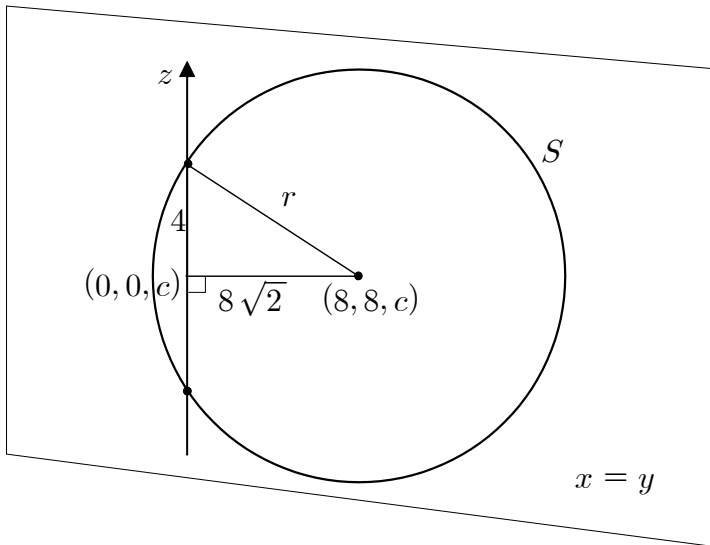
'구  $S$ 가  $xy$ 평면과 만나서 생기는 원의 넓이가  $64\pi$ '

라는 정보를 결합하면, 구의 중심의 좌표는  $(8, 8, c)$ 라 할 수 있습니다.

이때, 구  $S$ 의 방정식을  $(x-8)^2 + (y-8)^2 + (z-c)^2 = r^2$ 이라

두면, ' $z$ 축과 만나는 두 점 사이의 거리가 8'이라는 정보로부터 다음의

단면도를 하나 더 생각해야 겠네요. (평면  $x=y$ 로 자른 단면입니다.)



따라서, 피타고라스 정리에 의하여  $r = 12$ 임을 알 수 있습니다.

### 20. [ 오랜만에 등장한 지표가수 문제! ]

sol)

$\log x = f(x) + g(x)$ 에서  $f(x), g(x)$ 가 각각 지표와 가수라 하였으므로 편의상  $f(x) = n, g(x) = \alpha$  ( $0 \leq \alpha < 1$ )이라 하겠습니다. 그러면  $\log x > 0$ 인 10의 배수로

$3n + 5\alpha = 10, 20, 30, 40, \dots$ 가 됩니다.

$3n + 5\alpha = 10$ 일 때,  $n = 2, 3$ 이 가능하고, (그 때마다  $\alpha$ 는 유일하게 결정되지만, 필요한 순간에만  $\alpha$ 를 구해도 충분하겠죠?)

$3n + 5\alpha = 20$ 일 때,  $n = 6$ 이 가능하며,

$3n + 5\alpha = 30$ 일 때,  $n = 9, 10$ 이 가능하고,

$3n + 5\alpha = 40$ 일 때,  $n = 12, 13$ 이 가능합니다.

따라서,  $\log a = 3 + \frac{1}{5}, \log b = 12 + \frac{4}{5}$ 이므로  $\log ab = 16$ 입니다.

### 21. [ 늘 나오던 문제 + 대칭성(기함수) ]

sol)

$f(x) = \frac{\pi}{2} \int_1^{x+1} f(t)dt$ 를 미분하면  $f'(x) = \frac{\pi}{2}f(x+1)$ 이고,

따라서,  $xf(x+1) = \frac{2}{\pi}xf'(x)$ 이고,

$$\int_0^1 xf(x+1)dx = \frac{2}{\pi} \int_0^1 xf'(x)dx = \frac{2}{\pi} \left\{ f(1) - \int_0^1 f(x)dx \right\}$$

한편,  $f(1) = 1$ 이고,

$f(-1) = \frac{\pi}{2} \int_1^0 f(t)dt = -f(1) = -1$ 로부터

$\int_0^1 f(t)dt = \frac{2}{\pi}$ 를 얻으므로, 따라서 구하고자 하는 값은

$$\therefore \pi^2 \left\{ \frac{2}{\pi} \left( 1 - \frac{2}{\pi} \right) \right\} = 2(\pi - 2)$$

### 22. [ 잠시 쉬어가기 ]

sol)

$$f'(x) = 15e^{3x-3} \rightarrow f'(1) = 15$$

### 23. [ 조건부 확률 ]

sol.1) 조건부 확률은 표본 공간이 축소된 것

$$p = \frac{9}{15} = \frac{3}{5} \text{에서 } 100p = 60$$

sol.2) 베이즈의 정리(내용은 이미 여러분들이 아는 것)

$W$ : 참가한 동호회 회원이 여성일 사건

$C$ : 참가한 동호회 회원이 마라톤을 완주했을 사건

이라 하였을 때, 구하고자 하는 확률  $p$ 는

$$\begin{aligned} P(C|W) &= \frac{P(C \cap W)}{P(W)} = \frac{P(C)P(W|C)}{P(C)P(W|C) + P(C^c)P(W|C^c)} \\ &= \frac{\frac{35}{50} \cdot \frac{9}{35}}{\frac{35}{50} \cdot \frac{9}{35} + \frac{14}{50} \cdot \frac{6}{14}} = \frac{9}{9+6} = \frac{3}{5} \end{aligned}$$

### 24. [ 응용 없음 ]

sol)

$\sqrt{2x^2 - 6x} = t$ 라 치환하면 주어진 무리방정식은  $t = \frac{1}{2}t^2 - 4$  즉,

$t^2 - 2t - 8 = 0$ 에서  $t = 4$ 가 유의미한 근이 되고, 이는 다시

$\sqrt{2x^2 - 6x} = 4$ 에서  $2x^2 - 6x = 16 \rightarrow k = -8, k^2 = 64$

### 25. [ 계산 ]

sol)

$$2 = 1 - k \log R^{\frac{4}{23}} \rightarrow k \log R = -\frac{23}{4}$$

$$3 = 1 - k \log R^{a-1} = 1 + \frac{23}{4}(a-1) \rightarrow a = \frac{8}{23} + 1$$

$$\therefore 23a = 31$$

26. [ 모비율, 안 나올 줄 알았지? ]

sol.1) 공식을 외우고 있는 경우

$$0.098 = 2 \times 1.96 \times \sqrt{\frac{pq}{n}} = 2 \times 1.96 \times \frac{2}{5} \times \frac{1}{\sqrt{n}}$$

$$\therefore \sqrt{n} = 16 \rightarrow n = 256$$

sol.2) 공식을 안 외우고 있던 경우

중앙공원을 이용한 주민의 수  $X$ 에 대하여, 확률변수  $X$ 는 이항분포

$B\left(n, \frac{4}{5}\right)$ 를 따르고,  $n$ 이 크다는 전제하에 다시 확률변수  $X$ 는

정규분포  $N\left(\frac{4n}{5}, \left(\frac{2\sqrt{n}}{5}\right)^2\right)$ 을 근사적으로 따른다고 할 수 있습니다.

이때,  $n$ 과  $n^2$ 으로 평균과 분산을 나누면, 즉  $\frac{X}{n}$ 에 관한 평균과

분산이 구하고자 하는 모비율에 관한 식이 됩니다. 이때 표본비율  $\frac{X}{n}$ 는

근사적으로 정규분포  $N\left(\frac{4}{5}, \left(\frac{2}{5\sqrt{n}}\right)^2\right)$ 를 따른다고 할 수 있고, 이때,

신뢰구간의 길이 식에 맞춰보면  $0.098 = 2 \times 1.96 \times \frac{2}{5\sqrt{n}}$ 로

$n = 256$ 이 나옵니다.

27. [ 이차곡선의 성질 ]

sol)

타원의 정의에 의하면 평면 상의 두 초점에서 이르는 거리의 합이 일정한 점들의 자취이므로,  $\overline{FP}$  대신에  $10 - \overline{F'P}$ 를 대입하면  $\overline{AP} - \overline{FP} = \overline{AP} - (10 - \overline{F'P}) = \overline{AP} + \overline{F'P} - 10 \geq 1$ 에서  $\overline{AP} + \overline{F'P} \geq 11$ 를 이끌어 낼 수 있습니다. 최솟값은 세 점  $A, P, F'$ 가 순서대로 한 직선상에 놓여있을 때이고, 따라서  $4^2 + a^2 = 11^2$ 을 풀면  $a^2 = 121 - 16 = 105$ 가 나옵니다.

28. [ 그냥 주는 문제 ]

sol)

$S(\theta)$ 를 삼각형  $ADP$  넓이에서 삼각형  $ABP$ 의 넓이를 빼는 방식으로 취해주면 되는데, 끼인각  $\angle DAP$ 와 한 변  $\overline{AP}$ 를 공유하고 있으므로

계산이 간단해지겠네요.  $\sin \frac{\theta}{2} = \frac{2}{AC}$ 에서

$$\overline{AC} = \overline{AD} = \overline{AP} = \frac{2}{\sin \frac{\theta}{2}} \text{이고,}$$

$$S(\theta) = \frac{1}{2} \left( \frac{2}{\sin \frac{\theta}{2}} - 4 \right) \frac{2}{\sin \frac{\theta}{2}} \sin 2\theta = 2 \frac{\left(1 - 2\sin \frac{\theta}{2}\right) \sin 2\theta}{\sin^2 \frac{\theta}{2}}$$

$$\therefore \lim_{\theta \rightarrow 0} \{\theta \times S(\theta)\} = \lim_{\theta \rightarrow 0} \frac{2\theta \left(1 - 2\sin \frac{\theta}{2}\right) \sin 2\theta}{\sin^2 \frac{\theta}{2}} = 16$$

29. [ 여러분들이 원하던 공간도형 킬러 문제가 이렇게 맞습니까? ]

sol.1) 수식의 조작 - 삼각치환

우선 구하라는 벡터를 좀 더 의미를 파악하기 쉽도록 변형하면

$$2|\overline{PQ}|^2 - |\overline{P_1Q_1}|^2 - |\overline{P_2Q_2}|^2 = (|\overline{PQ}|^2 - |\overline{P_1Q_1}|^2) + (|\overline{PQ}|^2 - |\overline{P_2Q_2}|^2) \dots (*) \text{가 됩니다.}$$

그리고,  $\overline{PQ}$ 와  $\overline{P_1Q_1}$ 가 이루는 예각의 크기를  $\alpha$ 라 하고,  $\overline{PQ}$ 와  $\overline{P_2Q_2}$ 가 이루는 예각의 크기를  $\beta$ 라 하면,  $|\overline{P_1Q_1}|^2 = |\overline{PQ}|^2 \cos^2 \alpha$ 가

되고,  $|\overline{P_2Q_2}|^2 = |\overline{PQ}|^2 \cos^2 \beta$ 가 됨을 이용해서, 식 (\*)는 다시

$$|\overline{PQ}|^2 (\sin^2 \alpha + \sin^2 \beta) \dots (**) \text{로 깔끔하게 바꿀 수 있겠죠? 이때,}$$

최댓값을 구하라고 하고 있으니  $\overline{PQ}$ 가 지름이 되도록 4로 잡아주면 결국  $\sin \alpha, \sin \beta$ 에 대한 식을 세워서 해석하면 되겠네요.

한편, 직선의 방향벡터와, 평면의 법선벡터를 내적하면 코사인 값이 아니라 사인에 대한 값으로 정리된다는 점에 주의해서,

$\overline{PQ} = 4(a, b, c)$ 의 방향벡터 성분(크기가 1)인  $(a, b, c)$ 와 각각의 평면의 법선 벡터  $(0, 1, 0), (0, 1, \sqrt{3})$ 가 이루는 사인값을 구해보면

$$\sin \alpha = b, \sin \beta = \frac{b + \sqrt{3}c}{2} \text{가 나오고, 식 (**)} \text{는}$$

$$|\overline{PQ}|^2 (\sin^2 \alpha + \sin^2 \beta) \leq 16 \left\{ b^2 + \left( \frac{b + \sqrt{3}c}{2} \right)^2 \right\} \text{로 바뀝니다.}$$

여기서 까다로운데,  $\overline{PQ} = 4(a, b, c)$ 의 방향벡터  $(a, b, c)$ 는 사실  $\overline{PQ}$ 가  $x, y, z$ 축과 이루는 각에 대한 코사인 값으로 방향코사인이 되고,

$-1 \leq a, b, c \leq 1$ 이고,  $a^2 + b^2 + c^2 = 1$ 을 만족합니다. 이때,

$$b^2 + \left( \frac{b + \sqrt{3}c}{2} \right)^2 \text{가 최대가 되려면 } a = 0 \text{ 이어야 하고, 그때,}$$

$$b^2 + c^2 = 1 \text{을 만족하므로 다시 } b = \cos \phi, c = \sin \phi \text{로 치환하면}$$

$$b^2 + \left( \frac{b + \sqrt{3}c}{2} \right)^2 = \frac{5b^2 + 2\sqrt{3}bc + 3c^2}{4}$$

$$= \frac{2b^2 + 2\sqrt{3}bc + 3}{4} = \frac{1}{4} (1 + \cos 2\phi + \sqrt{3} \sin 2\phi + 3)$$

$$\leq \frac{1}{4} (4 + 2) = \frac{3}{2} \text{가 되어 최종적으로 구하고자 하는 값은}$$

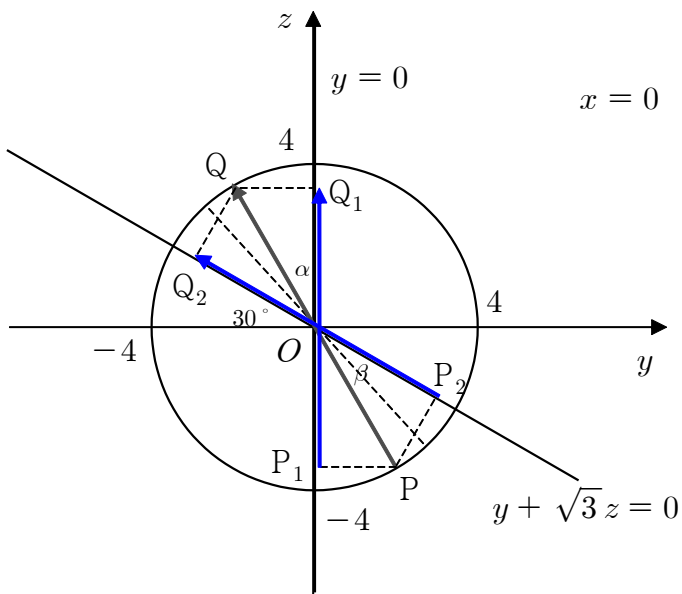
$$|\overline{PQ}|^2 (\sin^2 \alpha + \sin^2 \beta) \leq 16 \left\{ b^2 + \left( \frac{b + \sqrt{3}c}{2} \right)^2 \right\}$$

$$\leq 16 \cdot \frac{3}{2} = 24 \text{가 됩니다.}$$

sol.2) 단면화

$$2|\overline{PQ}|^2 - |\overline{P_1Q_1}|^2 - |\overline{P_2Q_2}|^2 = \dots = |\overline{PQ}|^2(\sin^2\alpha + \sin^2\beta)$$

$\leq 16(\sin^2\alpha + \sin^2\beta)$  까지 왔다고 가정합시다. 이제  $\alpha, \beta$ 를 관찰하여야 하는데, 그러고 보니 평면을 적절하게 평행이동 하여도  $\alpha, \beta$ 가 바뀌지 않겠네요? 그러므로, 각각의 평면이 모두 구의 중심인 원점을 지나도록 평행이동 하면  $y = 0, y + \sqrt{3}z = 0$ 으로 바꿉니다. 이때 평면  $x = 0$ 으로 단면화 해서 관찰하면



그러면  $\alpha + \beta = 60^\circ$ 가 되고, (직관적으로  $\alpha = \beta = 30^\circ$ 일 때 답이 나올 것 같지만, 그 때가 답이 아닙니다!)

$$\sin^2\alpha + \sin^2\beta = \sin^2\alpha + \sin^2(60^\circ - \alpha)$$

$$= \sin^2\alpha + \left(\frac{\sqrt{3}}{2}\cos\alpha - \frac{1}{2}\sin\alpha\right)^2$$

$$= \frac{5}{4}\sin^2\alpha - \frac{\sqrt{3}}{2}\sin\alpha\cos\alpha + \frac{3}{4}\cos^2\alpha$$

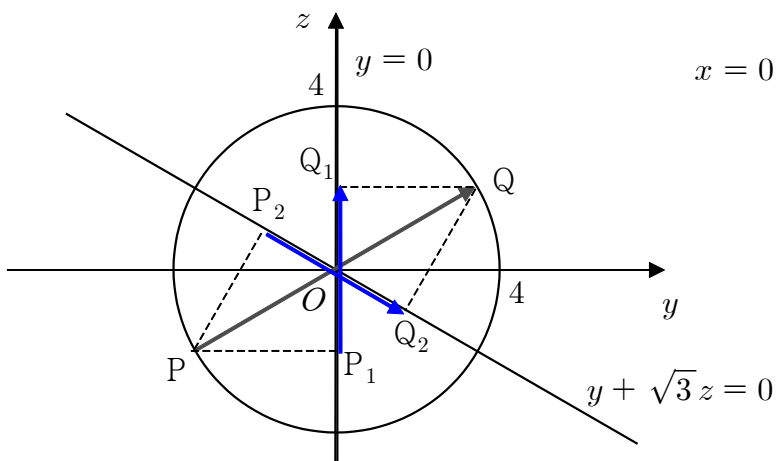
$$= \frac{3}{4} + \frac{1}{2}\sin^2\alpha - \frac{\sqrt{3}}{2}\sin\alpha\cos\alpha$$

$$= \frac{3}{4} + \frac{1 - \cos 2\alpha - \sqrt{3}\sin 2\alpha}{4} \leq \frac{3}{4} + \frac{1+2}{4} = \frac{3}{2}$$
가 되어,

$$2|\overline{PQ}|^2 - |\overline{P_1Q_1}|^2 - |\overline{P_2Q_2}|^2 = \dots = |\overline{PQ}|^2(\sin^2\alpha + \sin^2\beta)$$

$$\leq 16(\sin^2\alpha + \sin^2\beta) \leq 16 \times \frac{3}{2} = 24$$

즉,  $\alpha = -60^\circ, \beta = 120^\circ$ 인 상황에서 최댓값이 발생하며, 한 번 그 순간을 포착해보면 다음과 같습니다.



30. [ 착실한 해석과 정직한 계산으로 ]

sol)

$f(x) = ax^2 + bx + c$  ( $a \neq 0$ )라 놓고서  $g(x) = f(x)e^{-x}$ 의

이계도함수까지 구해야겠네요.  $g'(x) = \{f'(x) - f(x)\}e^{-x}$ 이고,

$g''(x) = \{f''(x) - 2f'(x) + f(x)\}e^{-x}$ 에서,

$f''(x) - 2f'(x) + f(x)$ 부분, 즉  $x$ 에 대한 이차식이 변곡점을 갖는

꼴이어야 하므로  $f''(x) - 2f'(x) + f(x) = a(x-1)(x-4)$ 가

되도록 양변의 계수를 비교하여  $a, b, c$ 의 관계를 찾아주면,

$f(x) = ax(x-1)$ 가 되고,  $g(x) = ax(x-1)e^{-x}$ 가 나옵니다.

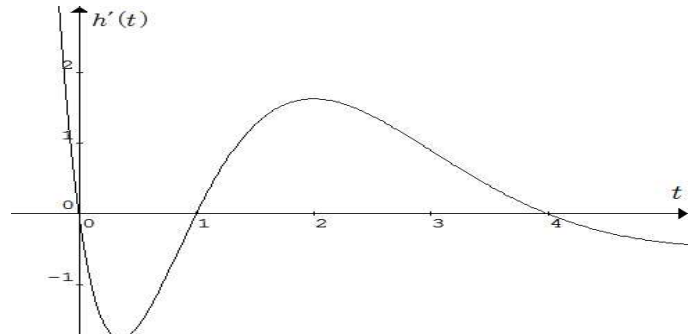
한편, 점  $(0, k)$ 에서 그은 접선은  $y - g(t) = g'(t)(x - t)$ 이고, 점

$(0, k)$ 를 지난다 하였으므로  $k = g(t) - tg'(t)$ 로 정리할 수 있고,

결국  $y = g(t) - tg'(t) = h(t)$ 에 대하여  $y = k$ 가 교점이 세 개가 되는  $k$ 의 범위가  $-1 < k < 0$ 이 되도록  $a$ 값을 찾아주면 됩니다.

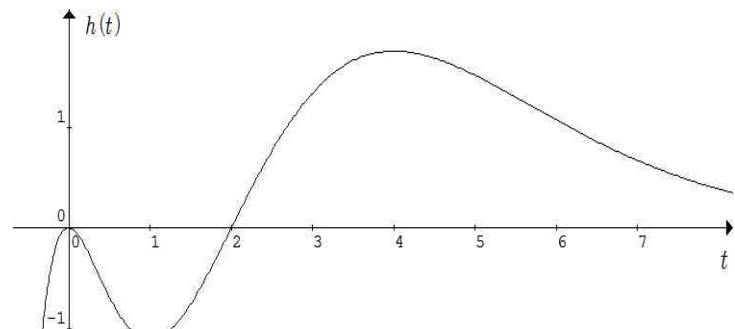
$h'(t) = g'(t) - g'(t) - tg''(t) = -tg''(t) = -at(t-1)(t-4)e^{-t}$ 로

$t = 0, 1, 4$ 에서 극값을 갖는 개형이 됩니다. 다시  $a > 0$ 인 경우



도함수는 위와 같고,  $h(0) = 0$ 와  $\lim_{t \rightarrow \infty} h(t) = 0$ 을 이용하여  $h(t)$ 의

개형을 그려보면



이때,  $t = 1$ 에서  $h(t)$ 가 극솟값을 갖고,  $h(1) = -1$ 이 되도록  $a$ 값을 찾아주면 되겠네요.

$h(1) = g(1) - g'(1) = 0 - f'(1)e^{-1} = -ae^{-1} = -1$ 에서  $a = e$ 이고,

따라서,  $g(x) = ex(x-1)e^{-x}$ 가 됩니다.

고로,  $g(-2) \times g(4) = 6e^3 \times 12e^{-3} = 72$ 가 정답입니다.

반면에,  $a < 0$ 의 경우는 다음과 같이 뒤집어진 개형이 되어

$-1 < k < 0$  조건을 만족할 수 없습니다.

