

제 2 교시

2015학년도 대학수학능력시험 모의평가 문제지

수학 영역 (B형)

| | | | | | | | | | | | | | |
|----|--|-------|--|--|--|--|--|--|---|--|--|--|--|
| 성명 | | 수험 번호 | | | | | | | - | | | | |
|----|--|-------|--|--|--|--|--|--|---|--|--|--|--|

- 자신이 선택한 유형(A형/B형)의 문제지인지 확인하십시오.
 - 문제지의 해당란에 성명과 수험 번호를 정확히 쓰시오.
 - 답안지의 필적확인란에 다음의 문구를 정자로 기재하십시오.
- 뿌리 깊은 나무는 난이도에 흔들리지 않는다.**
- 답안지의 해당란에 성명과 수험 번호를 쓰고, 또 수험 번호, 문형(홀수/짝수), 답을 정확히 표시하십시오.
 - 단답형의 답의 숫자에 '0'이 포함되면 그 '0'도 답란에 반드시 표시하십시오.
 - 문항에 따라 배점이 다르니, 각 물음의 끝에 표시된 배점을 참조하십시오.
 - 배점은 2점, 3점 또는 4점입니다.
 - 계산은 문제지의 여백을 활용하십시오.

※ 시험이 시작되기 전까지 표지를 넘기지 마시오.

제 2 교시

수학 영역

1. $2^{\log_3 2} \div 2^{\log_3 6}$ 의 값은? [2점]

- ① $\frac{1}{3}$ ② $\frac{1}{2}$ ③ 1
 ④ 2 ⑤ 3

2. 등비수열 $\{a_n\}$ 에서 $a_2 + a_4 = 30$, $a_5 + a_7 = 810$ 일 때, $a_3 + a_5$ 의 값은? [2점]

- ① 45 ② 60 ③ 90
 ④ 120 ⑤ 270

3. $\lim_{n \rightarrow \infty} \sqrt{n+1}(\sqrt{n+3} - \sqrt{n+1})$ 의 값은? [2점]

- ① $\frac{1}{2}$ ② 1 ③ $\frac{3}{2}$
 ④ 2 ⑤ $\frac{5}{2}$

4. 그래프 G 가 다음 두 조건을 만족시킨다.

- (가) 각 꼭짓점에 연결된 변의 개수는 모두 5로 같다.
 (나) 모든 변의 개수는 40이다.

그래프 G 의 모든 꼭짓점의 개수는? [3점]

- ① 8 ② 10 ③ 12
 ④ 14 ⑤ 16

5. $\lim_{x \rightarrow 0} \frac{\sin 2x}{\sqrt{3x+1}-1}$ 의 값은?

[3점]

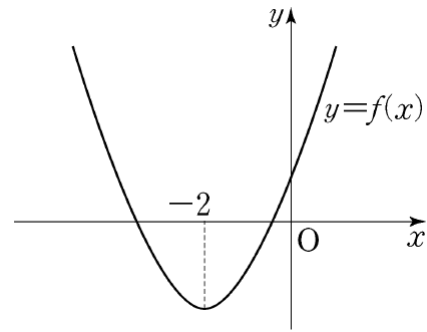
- ① $\frac{1}{3}$ ② $\frac{1}{2}$ ③ $\frac{2}{3}$
 ④ $\frac{4}{3}$ ⑤ $\frac{3}{2}$

6. $\int_1^e \frac{\ln x}{x} dx$ 의 값은?

[3점]

- ① $\frac{1}{2}$ ② $\frac{2}{3}$ ③ 1
 ④ 2 ⑤ 4

7. 대칭축이 $x = -2$ 인 이차함수 $y = f(x)$ 의 그래프가 그림과 같다.



방정식 $\sqrt{f(-x)+5} = f(-x)-1$ 의 모든 실근의 합은?
[3점]

- ① -4 ② -2 ③ 0
 ④ 2 ⑤ 4

8. 행렬 $A = \begin{pmatrix} 1 & 2 \\ a & 4 \end{pmatrix}$ 로 나타내어지는 일차변환 f 에 의하여

직선 $3x + 6y - 4 = 0$ 위의 모든 점이 한 점 (b, c) 로 옮겨질 때, $a + b + c$ 의 값은?
[3점]

- ① 5 ② 6 ③ 7
 ④ 8 ⑤ 9

9. 화재가 발생한 화재실의 온도는 시간에 따라 변한다.
어떤 화재실의 초기 온도를 T_0 ($^{\circ}\text{C}$), 화재가 발생한 지 t 분 후의 온도를 T ($^{\circ}\text{C}$)라고 할 때, 다음 식이 성립한다고 한다.

$$T = T_0 + k \log(8t + 1) \quad (\text{단, } k \text{는 상수이다.})$$

초기 온도가 20°C 인 이 화재실에서 화재가 발생한 지 15분 후의 온도는 60°C 이었고, 화재가 발생한 지 $\frac{5}{4}$ 분 후의 온도는? [3점]

- ① 25 ② 30 ③ 35
④ 40 ⑤ 45

10. 이차정사각행렬 $A = \begin{pmatrix} a & b \\ c & d \end{pmatrix}$ 에 대하여

$$ad - bc = -1, \quad a + d = 0$$

일 때, 옳은 것만을 <보기>에서 있는 대로 고른 것은?
(단, E 는 단위행렬이다.) [3점]

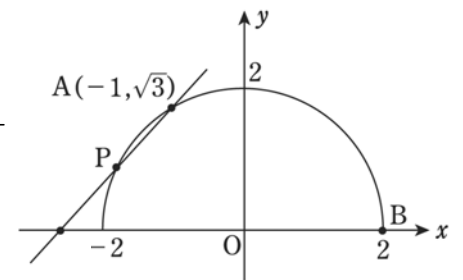
<보기>

ㄱ. $A^{-1} = A$
 ㄴ. 행렬 $A + E$ 의 역행렬이 존재하지 않는다.
 ㄷ. 행렬 $A + 2E$ 의 역행렬이 존재한다.

- ① ㄱ ② ㄷ ③ ㄱ, ㄴ
④ ㄱ, ㄷ ⑤ ㄱ, ㄴ, ㄷ

11. 반원 $x^2 + y^2 = 4$

($y \geq 0$) 위의 두 점 $A(-1, \sqrt{3})$, $B(2, 0)$ 과 같은 반원 위의 동점 $P(x, y)$ 가 있다.



$\angle PAB = \theta$ 라 할 때

$\lim_{x \rightarrow -1} \sin \theta$ 의 값은? [4점]

- ① $\frac{1}{2}$ ② $\frac{\sqrt{2}}{2}$ ③ $\frac{\sqrt{3}}{2}$
④ 1 ⑤ 존재하지 않는다.

[12~13] 좌표평면에서 직선 $y=2x$ 와 $x=s$, $x=t$ 및 x 축으로 둘러싸인 부분의 넓이가 5가 되도록 하는 점 (s, t) 가 나타내는 곡선을 C 라 하자. (단, $0 < s < t$)
12번과 13번의 물음에 답하시오.

12. 곡선 C 위의 점 $(2, 3)$ 에서의 접선과 x 축, y 축으로 둘러싸인 부분의 넓이는? [3점]

- ① $\frac{25}{12}$ ② $\frac{23}{12}$ ③ $\frac{7}{4}$
④ $\frac{19}{12}$ ⑤ $\frac{17}{12}$

13. 곡선 C 위의 점 (s, t) 에 대하여 $\lim_{s \rightarrow \infty} \frac{t}{s-2} = m$ 라 하자.

두 부등식 $(x-2)^2 + y^2 \leq 4$, $y \geq m|x-2|$ 을 만족하는 영역 (x, y) 의 넓이는? [4점]

- ① $\frac{1}{2}\pi$ ② π ③ $\frac{3}{2}\pi$
④ 2π ⑤ $\frac{5}{2}\pi$

14. 수열 $\{a_n\}$ 은 $a_1 = 0$, $a_2 = 1$ 이고

$$a_{n+2} = (n+1)(a_{n+1} + a_n) \quad (n \geq 1)$$

을 만족시킨다. 다음은 일반항 a_n 을 구하는 과정이다.

[과정]

$a_{n+2} = (n+1)(a_{n+1} + a_n)$ 에서
 $a_{n+2} - (n+2)a_{n+1} = -\{a_{n+1} - (n+1)a_n\}$ 이므로
 $a_{n+1} - (n+1)a_n = \boxed{\text{(가)}} \quad (n \geq 1)$
 $b_n = \frac{a_n}{n!}$ 이라 하면,
 $b_{n+1} = b_n + \boxed{\text{(나)}} \quad (n \geq 1)$ 이다.
 따라서 $a_n = \boxed{\text{(다)}} \quad (n \geq 2)$ 이다.

위의 (가), (나), (다)에 들어갈 식을 각각 $f(n)$, $g(n)$, $h(n)$ 이라 할 때, $f(1) + 12g(2) + h(4)$ 의 값은? [3점]

- ① 6 ② 8 ③ 10 ④ 12 ⑤ 14

15. 수열 $\{a_n\}$ 의 일반항 a_n 을

$a_n = (\log n$ 에 가장 가까운 정수) ($n = 1, 2, 3, \dots$)
 라 하자. 예를 들어 $a_1 = 0, a_2 = 0, a_3 = 0, a_4 = 1, \dots$
 이다. 옳은 것만을 보기에서 있는 대로 고른 것은?
 (단, $\sqrt{10} \approx 3.162$ 로 계산한다.) [4점]

<보기>

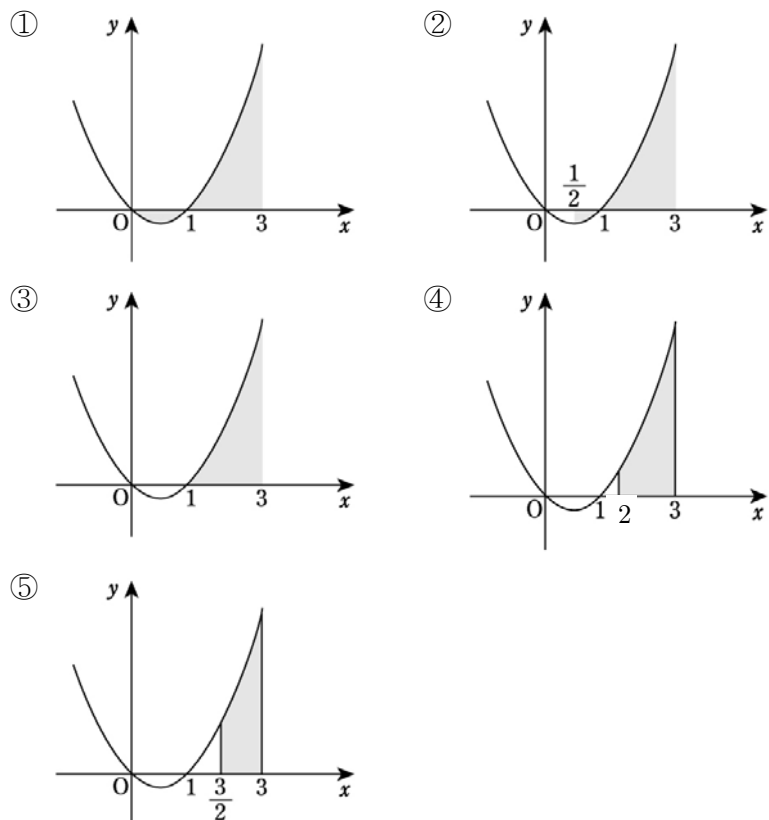
ㄱ. $a_{14} = 2$

ㄴ. $\sum_{n=1}^{20} a_n = 17$

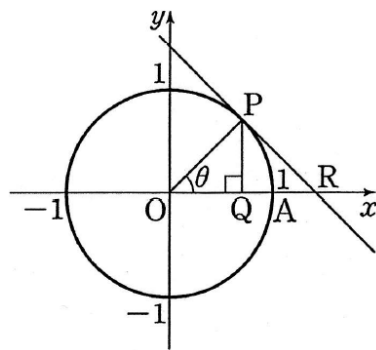
ㄷ. $a_n = 2$ 를 만족시키는 자연수 n 의 개수는 285이다.

- ① ㄱ ② ㄷ ③ ㄱ, ㄴ
 ④ ㄴ, ㄷ ⑤ ㄱ, ㄴ, ㄷ

16. 다음 각 그래프는 함수 $y = x^2 - x$ 의 그래프이다. 어두운 부분의 넓이가 무한급수 $\lim_{n \rightarrow \infty} \sum_{k=1}^n \left(\frac{27k^2}{n^3} - \frac{9k}{n^2} \right)$ 의 값과 같은 것은?



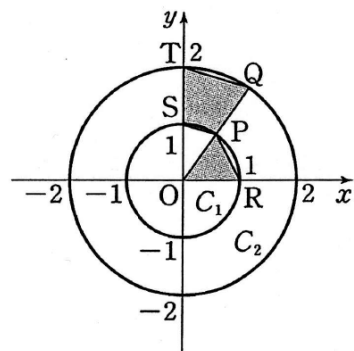
17. 원 $x^2 + y^2 = 1$ 위의 점 P 가 제1사분면 위에 있다. 그림과 같이 점 P 에서 x 축에 내린 수선의 발을 Q , 점 P 에서 원에 접하는 직선이 x 축과 만나는 점을 R 이라 하자. 점 $A(1, 0)$ 과 원점 O 에 대하여,



$\lim_{\theta \rightarrow +0} \frac{\overline{AQ} \times \overline{AR}}{\theta^4}$ 의 값은? [4점]

- ① $\frac{1}{4}$ ② $\frac{1}{2}$ ③ $\frac{3}{4}$
 ④ 1 ⑤ $\frac{5}{4}$

18. 그림과 같이 원점이 중심이고 반지름의 길이가 각각 1, 2인 두 원 C_1, C_2 가 있다. 원점을 지나 는 직선이 두 원 C_1, C_2 와 제1사분면에서 만나는 점을 각각 P, Q 라 하고, 원 C_1 이 x 축, y 축의 양의 방향과 만나는 점을 각각 R, S , 원 C_2 가 y 축의 양의 방향과 만나는 점을 T 라 하자. 이때, 삼각형 OPR 와 사각형 $PQTS$ 의 넓이의 합이 최대가 되도록 하는 점 P 의 x 좌표는? [4점]



- ① $\frac{\sqrt{5}}{10}$ ② $\frac{\sqrt{5}}{5}$ ③ $\frac{\sqrt{10}}{5}$
 ④ $\frac{2\sqrt{5}}{5}$ ⑤ $\frac{3\sqrt{10}}{10}$

19. 점 P 가 곡선 $x^2 - \frac{y^2}{3} = 1$ ($x > 0$) 위를 움직일 때,

점 $A(2, 0)$ 에 대하여 선분 AP 와 원 $(x-2)^2 + y^2 = 1$ 의 교점 Q 가 나타내는 도형의 길이는? [4점]

- ① $\frac{\pi}{3}$ ② $\frac{2}{3}\pi$ ③ π
 ④ $\frac{4}{3}\pi$ ⑤ $\frac{5}{3}\pi$

20. 수열 $\{a_n\}$ 은 $a_1 = 1$ 이고 a_{n+1} 은 방정식

$2x^3 - 3a_nx^2 + 2a_n - 2 = 0$ 의 서로 다른 실근의 개수로 정의한다. $f_n(x) = 2x^3 - 3a_nx^2 + 2a_n - 2$ 라 할 때, <보기>에서 옳은 것만을 있는 대로 고른 것은? [4점]

<보기>

- ㄱ. $a_2 = 2$
 ㄴ. $f_2(x)$ 의 극값의 합은 -4 이다.
 ㄷ. $\sum_{n=1}^{10} a_n = 27$

- ① ㄱ ② ㄱ, ㄴ ③ ㄱ, ㄷ
 ④ ㄴ, ㄷ ⑤ ㄱ, ㄴ, ㄷ

21. 자연수 n 에 대하여 두 점 P_{n-1}, P_n 이 함수 $y = 2x^2$ 의 그래프 위의 점일 때, 점 P_{n+1} 을 다음 규칙에 따라 정한다.

- (가) 두 점 P_0, P_1 의 좌표는 각각 $(0, 0), (1, 2)$ 이다.
 (나) 점 P_{n+1} 은 점 P_n 을 지나고 직선 $P_{n-1}P_n$ 에 수직인 직선과 함수 $y = 2x^2$ 의 그래프의 교점이다.
 (단, P_n 과 P_{n+1} 은 서로 다른 점이다.)

P_n 의 x 좌표를 a_n 이라고 할 때, $\lim_{n \rightarrow \infty} \frac{a_{2n-1} - a_{2n}}{n}$ 의 값을 구하면? [4점]

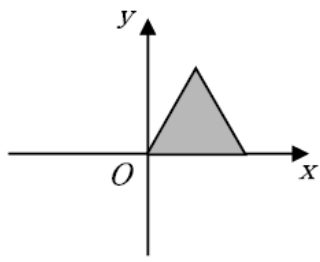
- ① $\frac{5}{2}$ ② 3 ③ $\frac{7}{2}$
 ④ 4 ⑤ $\frac{9}{2}$

단답형(22 ~ 30)

22. 전체집합 $U = \{1, 2, 3, 4\}$ 의 두 부분집합 A, B 에 대하여 $A \cap B = \emptyset$ 을 만족하는 순서쌍 (A, B) 의 개수를 구하시오. [3점]

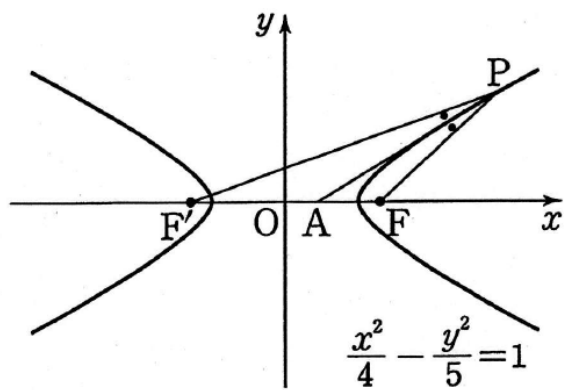
23. 오른쪽 그림은 한 변의 길이가 8인 정삼각형이다.

행렬 $\begin{pmatrix} \frac{\sqrt{3}}{4} & -\frac{1}{4} \\ \frac{1}{4} & \frac{\sqrt{3}}{4} \end{pmatrix}$ 가 나타내는



일차변환에 의한 삼각형의 상과 원래 삼각형이 겹치는 부분의 넓이를 S 라 할 때, S^2 의 값을 구하시오. [3점]

24. 그림과 같이 쌍곡선 $\frac{x^2}{4} - \frac{y^2}{5} = 1$ 의 두 초점을 F, F' 이라 하자. 제 1사분면에 있는 쌍곡선 위의 한 점 P 에서 $\angle FPF'$ 의 이등분선을 그으면 점 $A(1, 0)$ 을 지난다. 두 선분 PF 와 PF' 의 길이의 합을 구하시오. [3점]



25. 함수 $f(x) = x^2(1 - \ln x)$ 와 자연수 n 에 대하여 방정식 $f(x) = (-1)^n \cdot \frac{e}{n}$ 의 서로 다른 실근의 개수를 a_n 이라 하자. $\sum_{n=1}^{30} a_n$ 의 값을 구하면? (단, $\lim_{x \rightarrow +0} f(x) = 0$) [4점]

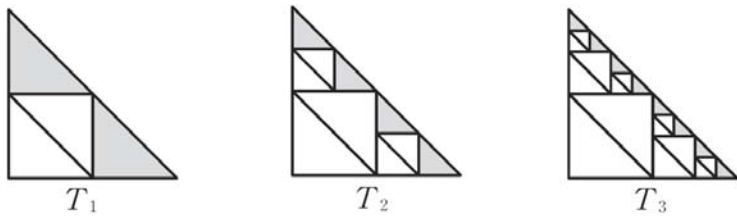
26. 실수 전체의 집합에서 정의된 함수 $f(x)$ 가 다음 조건을 만족한다.

- (가) $f(x) = |x - 1| - 1$ ($0 \leq x \leq 2$)
- (나) $f(x + 2) = \frac{1}{2}f(x)$

$S_n = \int_0^{2n} |f(x)| dx$ 라 할 때, $\lim_{n \rightarrow \infty} S_n$ 의 값을 구하시오. [4점]

27. 그림과 같이 검은색 직각이등변삼각형에 빗변과 한 점에서 만나도록 흰색 정사각형을 내접시킨 후 정사각형에 빗변과 평행한 대각선을 그은 도형을 T_1 이라 하자. 도형 T_1 의 각 검은색 삼각형에 빗변과 한 점에서 만나도록 흰색 정사각형을 내접시킨 후 모든 정사각형에 빗변과 평행한 대각선을 그은 도형을 T_2 라 하자. 이와 같은 과정을 계속하여 n 번째 얻은 도형 T_n 의 흰색 삼각형의 개수를 a_n 이라 하자.

예를 들어, $a_1 = 2$, $a_2 = 6$ 이다. $\lim_{n \rightarrow \infty} \frac{a_n}{2^n + 2}$ 의 값을 구하시오. [3점]



28. 방정식 $|k| + |l| + |m| = 7$ 을 만족하는 0 이 아닌 정수 k, l, m 에 대하여 순서쌍 (k, l, m) 의 개수를 구하시오. [4점]

29. $\int_1^3 3^x dx + 3 \int_1^9 (1 + \log_3 x) dx$ 의 값을 구하시오. [4점]

30. 자연수 k 에 대하여 $\log k$ 의 지표와 가수를 각각 x_k, y_k 라 할 때, $(x_k, 0)$ 을 중심으로 하고 $y_k + \log 2$ 을 반지름으로 하는 원을 C_k 라 하자. 다음 조건을 만족시키는 자연수 m, n 의 순서쌍 (m, n) 의 개수를 구하시오. [4점]

- (가) $1 \leq m < n < 1000$
 (나) 원 C_m 과 원 C_n 은 외접한다.

실전모의고사 (B형) 1회- 정답 및 해설

| | | | | |
|----|----|-----|----|----|
| 1 | 2 | 3 | 4 | 5 |
| ② | ③ | ② | ⑤ | ④ |
| 6 | 7 | 8 | 9 | 10 |
| ① | ⑤ | ② | ④ | ⑤ |
| 11 | 12 | 13 | 14 | 15 |
| ③ | ① | ② | ② | ④ |
| 16 | 17 | 18 | 19 | 20 |
| ⑤ | ① | ⑤ | ④ | ⑤ |
| 21 | 22 | 23 | 24 | 25 |
| ① | 81 | 12 | 12 | 44 |
| 26 | 27 | 28 | 29 | 30 |
| 2 | 2 | 120 | 78 | 6 |

1) 정답 ②

풀이

$$2^{\log_3 2} \div 2^{\log_3 6} = 2^{\log_3 2 - \log_3 6} = 2^{\log_3 \frac{2}{6}} = 2^{\log_3 3^{-1}} = 2^{-1} = \frac{1}{2}$$

2) 정답 ③

풀이

첫째항을 a , 공비를 r 이라 하면

$$ar + ar^3 = ar(1 + r^2) = 30,$$

$$ar^4 + ar^6 = ar^4(1 + r^2) = 810 \text{ 이므로}$$

두 식을 나누면

$$\frac{ar^4(1+r^2)}{ar(1+r^2)} = r^3 = 3^3 \text{ 에서 } r = 3, a = 1$$

따라서 $a_3 + a_5 = 90$

3) 정답 ②

풀이

$$\begin{aligned} & \lim_{n \rightarrow \infty} \sqrt{n+1}(\sqrt{n+3} - \sqrt{n+1}) \\ &= \lim_{n \rightarrow \infty} \frac{\sqrt{n+1}(\sqrt{n+3} - \sqrt{n+1})(\sqrt{n+3} + \sqrt{n+1})}{\sqrt{n+3} + \sqrt{n+1}} \\ &= \lim_{n \rightarrow \infty} \frac{2\sqrt{n+1}}{\sqrt{n+3} + \sqrt{n+1}} \\ &= \lim_{n \rightarrow \infty} \frac{2\sqrt{1 + \frac{1}{n}}}{\sqrt{1 + \frac{3}{n}} + \sqrt{1 - \frac{1}{n}}} \\ &= \frac{2}{\sqrt{1} + \sqrt{1}} = 1 \end{aligned}$$

4) 정답 ⑤

풀이

그래프 G 의 꼭짓점의 개수를 n 이라 하면 그래프의 모든 꼭짓점에 연결된 변의 개수의 합은 그래프의 변의 개수의 2배와 같으므로

$$5n = 2 \cdot 40 \quad \therefore n = 16$$

5) 정답 ④

풀이

$$\begin{aligned} \lim_{x \rightarrow 0} \frac{\sin 2x}{\sqrt{3x+1}-1} &= \lim_{x \rightarrow 0} \frac{\sin 2x(\sqrt{3x+1}+1)}{(\sqrt{3x+1}-1)(\sqrt{3x+1}+1)} \\ &= \lim_{x \rightarrow 0} \frac{\sin 2x(\sqrt{3x+1}+1)}{3x} \\ &= \lim_{x \rightarrow 0} \left\{ \frac{\sin 2x}{2x} \times \frac{2(\sqrt{3x+1}+1)}{3} \right\} \\ &= 1 \times \frac{4}{3} = \frac{4}{3} \end{aligned}$$

6) 정답 ①

풀이

$t = \ln x$ 라 하면 $dt = \frac{1}{x} dx$ 이므로

$$\int_1^e \frac{\ln x}{x} dx = \int_0^1 t dt = \frac{1}{2}$$

7) 정답 ⑤

풀이

$f(-x) = t$ 라고 하면

$$\sqrt{t+5} = t-1$$

양변을 제곱하면

$$t+5 = t^2 - 2t + 1, \quad t^2 - 3t - 4 = 0$$

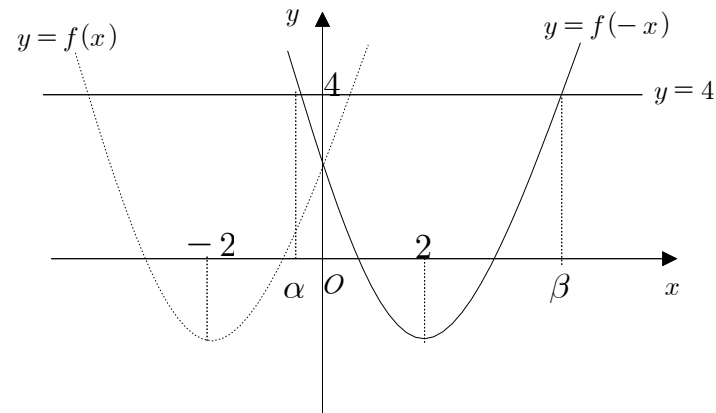
$$(t-4)(t+1) = 0$$

$$\therefore t = -1 \text{ 또는 } t = 4$$

이때, $t = -1$ 은 무연근이므로

$$t = f(-x) = 4 \cdots \textcircled{\ominus}$$

따라서 $y = f(-x)$ 의 그래프와 직선 $y = 4$ 의 교점의 x 좌표를 각각 α, β 라고 하면 그림과 같다.



즉, $\textcircled{\ominus}$ 을 만족하는 x 의 값의 합은

$$\frac{\alpha + \beta}{2} = 2 \therefore \alpha + \beta = 4$$

8) 정답 ②

풀이

직선 위의 모든 점이 일차변환 f 에 의하여 한 점으로 옮겨지므로 행렬 A 의 역행렬이 존재하지 않아야 한다.

즉, $4 - 2a = 0$ 에서 $a = 2$

또한, 일차변환 f 에 의하여 직선 $3x + 6y - 4 = 0$ 위의 점 (x, y) 가 점 (b, c) 로 옮겨지므로

$$\begin{pmatrix} b \\ c \end{pmatrix} = \begin{pmatrix} 1 & 2 \\ 2 & 4 \end{pmatrix} \begin{pmatrix} x \\ y \end{pmatrix}$$

$$\therefore b = x + 2y, c = 2x + 4y \quad \dots\dots \textcircled{7}$$

그런데 점 (x, y) 는 직선 $3x + 6y - 4 = 0$, 즉 $x + 2y = \frac{4}{3}$

위의 점이므로 이것을 $\textcircled{7}$ 에 대입하면

$$b = \frac{4}{3}, c = \frac{8}{3}$$

$$\therefore a + b + c = 2 + \frac{4}{3} + \frac{8}{3} = 6$$

9) 정답 ④

풀이

$T_0 = 20$ 이고 $t = 15$ 일 때 $T = 60$ 이므로

$$60 = 20 + k \log(8 \times 15 + 1)$$

$$\therefore 2k \log 11 = 60 - 20 = 40$$

또, $t = \frac{5}{4}$ 일 때,

$$T = 20 + k \log 11 = 40$$

10) 정답 ⑤

풀이

ㄱ. $A = \begin{pmatrix} a & b \\ c & d \end{pmatrix}$ 에 대하여

$$\begin{aligned} A^{-1} &= \frac{1}{ad - bc} \begin{pmatrix} d & -b \\ -c & a \end{pmatrix} \\ &= - \begin{pmatrix} -a & -b \\ -c & -d \end{pmatrix} \quad (\because ad - bc = -1, a + d = 0) \\ &= \begin{pmatrix} a & b \\ c & d \end{pmatrix} = A \quad (\text{참}) \end{aligned}$$

ㄴ. $A + E = \begin{pmatrix} a & b \\ c & d \end{pmatrix} + \begin{pmatrix} 1 & 0 \\ 0 & 1 \end{pmatrix} = \begin{pmatrix} a+1 & b \\ c & d+1 \end{pmatrix}$ 에서

$$\begin{aligned} (a+1)(d+1) - bc &= ad + (a+d) + 1 - bc \\ &= -1 + 0 + 1 = 0 \end{aligned}$$

이므로 $A + E$ 의 역행렬은 존재하지 않는다. (참)

ㄷ. ㄱ에서 $A^{-1} = A$ 이므로 $A^2 = E$

$$(A + 2E)(A - 2E) = A^2 - 4E = E - 4E = -3E$$

$$\therefore (A + 2E)^{-1} = -\frac{1}{3}(A - 2E) \quad (\text{참})$$

따라서 옳은 것은 ㄱ, ㄴ, ㄷ이다.

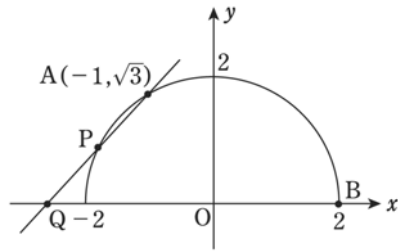
11) 정답 ③

풀이

직선 AP 가 x 축과 만나는 점을 Q 라 하고 $\angle AQB = \alpha$ 라

하자. 점 $A(-1, \sqrt{3})$ 이므로 $\angle AOQ = \frac{\pi}{3}$ 에서

$$\angle ABO = \frac{\pi}{6} \text{이다.}$$



$P(x, y)$ 라 하면

$$\begin{aligned} \lim_{x \rightarrow -1} \tan \alpha &= \lim_{x \rightarrow -1} \frac{y - \sqrt{3}}{x + 1} \\ &= \lim_{x \rightarrow -1} \frac{\sqrt{4 - x^2} - \sqrt{3}}{x + 1} \\ &= \lim_{x \rightarrow -1} \frac{1 - x^2}{(x + 1)(\sqrt{4 - x^2} + \sqrt{3})} \\ &= \lim_{x \rightarrow -1} \frac{1 - x}{\sqrt{4 - x^2} + \sqrt{3}} \\ &= \frac{1}{\sqrt{3}} \end{aligned}$$

따라서 $x \rightarrow -1$ 일 때 $\alpha \rightarrow \frac{\pi}{6}$ 이고 $\theta \rightarrow \frac{\pi}{3}$ 또는 $\theta \rightarrow \frac{2\pi}{3}$ 이다.

$$\therefore \lim_{x \rightarrow -1} \sin \theta = \frac{\sqrt{3}}{2}$$

12) 정답 ①

풀이

$$t^2 - s^2 = 5 \text{이므로 } C: y^2 - x^2 = 5$$

$2yy' - 2x = 0$ 에서 $y' = \frac{x}{y}$ 이므로 점 $(2, 3)$ 에서 접선의 기

울기는 $\frac{2}{3}$ 이다. 따라서 접선의 방정식은

$$y = \frac{2}{3}(x - 2) + 3 = \frac{2}{3}x + \frac{5}{3}$$

x 축과의 교점 $A(-\frac{5}{2}, 0)$, y 축과의 교점 $(0, \frac{5}{3})$ 이므로 구

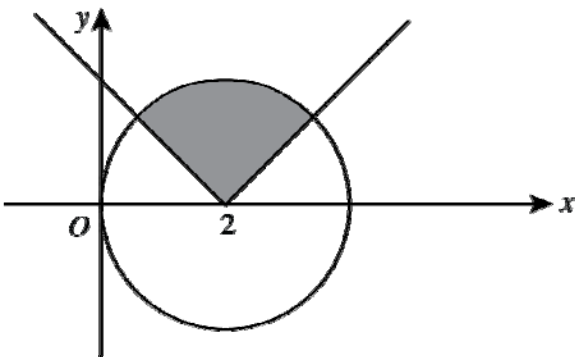
하는 넓이는 $\frac{1}{2} \times \frac{5}{2} \times \frac{5}{3} = \frac{25}{12}$ 이다.

13) 정답 ②

풀이

$$m = \lim_{s \rightarrow \infty} \frac{t}{s-2} = \lim_{s \rightarrow \infty} \frac{\sqrt{s^2+5}}{s-2} = 1 \text{ 이므로 구하는 넓이는}$$

$$\pi \cdot 2^2 \times \frac{1}{4} = \pi \text{ 이다.}$$



14) 정답 ②

풀이

$a_{n+2} = (n+1)(a_{n+1} + a_n)$ 에서
 $a_{n+2} - (n+2)a_{n+1} = -\{a_{n+1} - (n+1)a_n\}$ 이므로
 수열 $\{a_{n+1} - (n+1)a_n\}$ 은 첫째항이 1이고 공비가 -1 인
 등비수열이므로

$$a_{n+1} - (n+1)a_n = 1 \cdot (-1)^{n-1} \quad (n \geq 1) \text{ 이다.}$$

양변을 $(n+1)!$ 로 나누면

$$\frac{a_{n+1}}{(n+1)!} - \frac{a_n}{n!} = \frac{(-1)^{n-1}}{(n+1)!} \text{ 가 되어}$$

$$b_n = \frac{a_n}{n!} \text{ 이라 하면,}$$

$$b_{n+1} = b_n + \frac{(-1)^{n-1}}{(n+1)!} \quad (n \geq 1) \text{ 이다.}$$

수열 $\{b_n\}$ 의 일반항은

$$b_n = b_1 + \sum_{k=1}^{n-1} \frac{(-1)^{k-1}}{(k+1)!}$$

$$= 0 + \left(\frac{1}{2!} - \frac{1}{3!} + \frac{1}{4!} - \dots + \frac{(-1)^{n-2}}{n!} \right)$$

$a_n = n! \times b_n$ 이므로

$$a_n = n! \times \left(\frac{1}{2!} - \frac{1}{3!} + \frac{1}{4!} - \dots + \frac{(-1)^{n-2}}{n!} \right) \quad (n \geq 2) \text{ 이다.}$$

따라서 $f(1) + 12g(2) + h(4) = 1 - 2 + 9 = 8$ 이다.

15) 정답 ④

풀이

$$\sqrt{10} = 3.162 \text{ 에서 } \log 3.162 = \log \sqrt{10} = \frac{1}{2} = 0.5 \text{ 이다.}$$

ㄱ. $\log 10 < \log 14 < \log 31.62$ 에서 $1 < \log 14 < 1.5$ 이므로

$$a_{14} = 1$$

ㄴ. $\log 3 < \log \sqrt{10} < \log 4$ 이므로

$$\log 3 < 0.5, \log 4 > 0.5$$

또, $\log 10 < \log 20 < \log 31.62$ 이므로

$$1 < \log 20 < 1.5$$

즉, $a_1 = a_2 = a_3 = 0, a_4 = a_5 = a_6 = \dots = a_{20} = 1$ 이므로

$$\sum_{n=1}^{20} a_n = 0 + 0 + 0 + 1 + 1 + \dots + 1 = 17$$

ㄷ. $a_n = 2$ 이려면 $1.5 < \log n < 2.5$ 이어야 한다.

그런데 $\log 10 \sqrt{10} = \log 31.62 = 1.5,$

$\log 100 \sqrt{10} = \log 316.2 = 2.5$ 이므로

$$31.62 \leq n < 316.2 \quad \therefore 32 \leq n \leq 316$$

즉, $a_n = 2$ 를 만족시키는 자연수 n 의 개수는 285이다.

따라서 옳은 것은 ㄴ, ㄷ이다.

16) 정답 ①

풀이

$$\lim_{n \rightarrow \infty} \sum_{k=1}^n \left(\frac{27k^2}{n^3} - \frac{9k}{n^2} \right)$$

$$= \lim_{n \rightarrow \infty} \sum_{k=1}^n \left\{ \left(\frac{3k}{n} \right)^2 - \left(\frac{3k}{n} \right) \right\} \cdot \frac{3}{n}$$

$$= \int_0^3 (x^2 - x) dx$$

17) 정답 ①

풀이

$$\overline{OQ} = \cos \theta, \overline{OR} = \frac{1}{\cos \theta} \text{ 이므로}$$

$$\overline{AQ} = \overline{OA} - \overline{OQ} = 1 - \cos \theta$$

$$\overline{AR} = \overline{OR} - \overline{OA} = \frac{1}{\cos \theta} - 1 = \frac{1 - \cos \theta}{\cos \theta}$$

$$\therefore \lim_{\theta \rightarrow +0} \frac{\overline{AQ} \times \overline{AR}}{\theta^4} = \lim_{\theta \rightarrow +0} \frac{(1 - \cos \theta)^2}{\theta^4 \cos \theta}$$

$$= \lim_{\theta \rightarrow +0} \frac{\sin^4 \theta}{\theta^4 \cos \theta (1 + \cos \theta)^2} = \frac{1}{4}$$

18) 정답 ⑤

풀이

오른쪽 그림과 같이 $\angle POR = \theta$

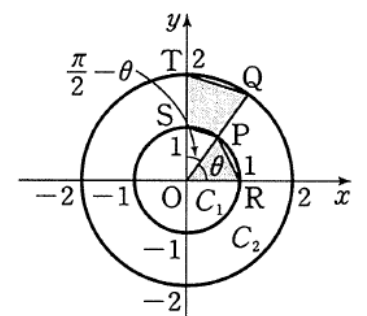
로 놓으면

$$\triangle OPR = \frac{1}{2} \times 1^2 \times \sin \theta$$

$$= \frac{1}{2} \sin \theta$$

또한, $\angle POS = \frac{\pi}{2} - \theta$ 이므로

$$\square PQTS = \triangle OQT - \triangle OPS$$



$$= \frac{1}{2} \times 2^2 \times \sin\left(\frac{\pi}{2} - \theta\right) - \frac{1}{2} \times 1^2 \times \sin\left(\frac{\pi}{2} - \theta\right)$$

$$= 2 \cos \theta - \frac{1}{2} \cos \theta = \frac{3}{2} \cos \theta$$

$$\therefore \triangle OPR + \square PQTS = \frac{1}{2} \sin \theta + \frac{3}{2} \cos \theta$$

$$= \frac{\sqrt{10}}{2} \sin(\theta + \alpha)$$

$$\left(\text{단, } \sin \alpha = \frac{3\sqrt{10}}{10}, \cos \alpha = \frac{\sqrt{10}}{10}\right)$$

따라서 $\theta + \alpha = \frac{\pi}{2}$, 즉 $\theta = \frac{\pi}{2} - \alpha$ 일 때, 삼각형 OPR와 사각형 PQTS의 넓이의 합이 최대이다.

이때, 점 P의 x좌표는 $\cos \theta$ 이므로

$$\cos \theta = \cos\left(\frac{\pi}{2} - \alpha\right) = \sin \alpha = \frac{3\sqrt{10}}{10}$$

19) 정답 ④

풀이

$x > 0$ 인 부분에서 점 P는 쌍곡선의 위를 움직이므로 직선과 원의 교점 Q가 나타내는 도형은 A(2, 0)을 중심으로 하고 반지름의 길이가 1인 원의 일부(진한 실선)를 그림과 같이 움직인다.

이때 주어진 쌍곡선의 점근선의 방정식이 $y = \pm \sqrt{3}x$ 이므로 점근선이 x축의 양의 방향과 이루는 각의 크기는 각각 $\frac{\pi}{3}, \frac{2}{3}\pi$ 이다.

따라서 Q가 나타내는 도형의 길

$$\text{이는 } 2\pi \times \frac{2}{3} = \frac{4}{3}\pi$$

20) 정답 ⑤

풀이

ㄱ. $a_1 = 1$ 이므로 $f_1(x) = 2x^3 - 3x^2 = x^2(2x - 3)$ 이므로 $a_2 = 2$ (참)

ㄴ. $f_2(x) = 2x^3 - 6x^2 + 2$ 이므로 $f_2'(x) = 6x(x - 2)$

따라서 극값의 합은 $f_2(0) + f_2(2) = 2 + (-6) = -4$ (참)

ㄷ. ㄴ.에서 $f_2(x)$ 의 극값의 부호가 다르므로 $f_2(x) = 0$ 은 서로 다른 세 실근을 갖는다. $\therefore a_3 = 3$

또한, $f_3(x) = 2x^3 - 9x^2 + 4$

$f_3'(x) = 6x(x - 3)$

$f_3(0) \cdot f_3(3) = 4 \times (-23) < 0$ 이므로 $a_4 = 3$

따라서 $a_1 = 1, a_2 = 2$ 이고 $n \geq 3$ 일 때, $a_n = 3$ 이다.

$$\therefore \sum_{n=1}^{10} a_n = 27 \text{ (참)}$$

21) 정답 ①

풀이

점 P_n 을 $(a_n, 2a_n^2)$ 이라고 하면 (단, $a_0 = 0, a_1 = 1$)

$P_n P_{n+1}$ 의 기울기는 $\frac{2a_{n+1}^2 - 2a_n^2}{a_{n+1} - a_n} = 2(a_{n+1} + a_n)$ 이다.

그런데 $P_0 P_1$ 의 기울기는 2,

$P_1 P_2$ 의 기울기는 $-\frac{1}{2}$,

$P_2 P_3$ 의 기울기는 2,

...

$P_{2n-1} P_{2n}$ 의 기울기는 $-\frac{1}{2}$,

$P_{2n} P_{2n+1}$ 의 기울기는 2,

$P_{2n+1} P_{2n}$ 의 기울기는 $-\frac{1}{2}$

$P_{2n+1} P_{2n+2}$ 의 기울기 $= 2(a_{2n+2} + a_{2n+1}) = -\frac{1}{2} \dots$ ①

$P_{2n} P_{2n+1}$ 의 기울기 $= 2(a_{2n+1} + a_{2n}) = 2 \dots$ ②

$P_{2n-1} P_{2n}$ 의 기울기 $= 2(a_{2n-1} + a_{2n}) = -\frac{1}{2} \dots$ ③

①-②에서 $a_{2n+2} - a_{2n} = -\frac{5}{4}, a_0 = 0$

$$\therefore a_{2n} = a_0 + (n-0)\left(-\frac{5}{4}\right)$$

$$= -\frac{5}{4}n$$

②-③에서 $a_{2n+1} - a_{2n-1} = \frac{5}{4}, a_1 = 1$

$$\therefore a_{2n-1} = a_1 + (n-1)\frac{5}{4}$$

$$= \frac{5}{4}n - \frac{1}{4}$$

$$\therefore \lim_{n \rightarrow \infty} \frac{a_{2n-1} - a_{2n}}{n} = \lim_{n \rightarrow \infty} \frac{\frac{5}{4}n - \frac{1}{4} - (-\frac{5}{4}n)}{n}$$

$$= \frac{5}{2}$$

22) 정답 81

풀이

집합 A의 원소의 개수가 n 일 때 집합 B의 원소의 개수는 $4 - n$ 이하이므로

$$\sum_{n=0}^4 {}_4C_n \cdot 2^{4-n} = \sum_{n=0}^4 {}_4C_n \cdot 1^n \cdot 2^{4-n} = (1+2)^4 = 81$$

23) 정답 12

풀이

$$\begin{pmatrix} \frac{\sqrt{3}}{4} & -\frac{1}{4} \\ \frac{1}{4} & \frac{\sqrt{3}}{4} \end{pmatrix} = \frac{1}{2} \begin{pmatrix} \frac{\sqrt{3}}{2} & -\frac{1}{2} \\ \frac{1}{2} & \frac{\sqrt{3}}{2} \end{pmatrix}$$

이므로 주어진 변환은 30도 회전하고 $\frac{1}{2}$ 배하는 변환이다
따라서 접치는 부분의 넓이 S 는 $2\sqrt{3}$ 이다

24) 정답 12

풀이

쌍곡선 $\frac{x^2}{4} - \frac{y^2}{5} = 1$ 의 두 초점의 좌표를

$$F(c, 0), F'(-c, 0) \quad (c > 0) \text{이라 하면 } c^2 = 4 + 5 = 9$$

$$\therefore c = 3$$

$$\therefore F(3, 0), F'(-3, 0)$$

쌍곡선의 정의에 의하여 $\overline{PF'} - \overline{PF} = 4 \dots \textcircled{A}$

한편, 선분 PA 가 $\angle FPF'$ 의 이등분선이므로

$$\overline{PF'} : \overline{PF} = \overline{AF'} : \overline{AF} = 4 : 2 = 2 : 1$$

$$\therefore \overline{PF'} = 2\overline{PF} \dots \textcircled{B}$$

$$\textcircled{A}, \textcircled{B} \text{을 연립하여 풀면 } \overline{PF'} = 8, \overline{PF} = 4$$

$$\therefore \overline{PF} + \overline{PF'} = 12$$

25) 정답 44

풀이

$$f(x) = x^2(1 - \ln x)$$

$$f'(x) = x - 2x \ln x = x(1 - 2 \ln x) = 0$$

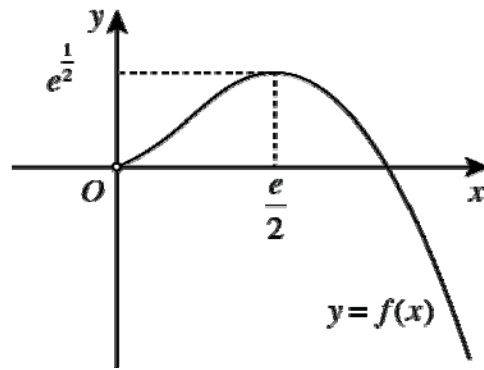
에서 $x = e^{\frac{1}{2}} (\because x > 0)$

$f(x)$ 의 증가와 감소를 표로 나타내면 다음과 같다.

| | | | | |
|---------|-----|------------|-------------------|------------|
| x | (0) | ... | $e^{\frac{1}{2}}$ | ... |
| $f'(x)$ | | + | 0 | - |
| $f(x)$ | | \nearrow | $\frac{e}{2}$ | \searrow |

$\lim_{x \rightarrow +0} f(x) = 0$ 이고, $\lim_{x \rightarrow \infty} f(x) = \lim_{x \rightarrow \infty} x^2 \left(\frac{1}{2} - \ln x \right) = -\infty$ 이

므로 $y = f(x)$ 의 그래프는 다음과 같다.



$f(x) = (-1)^n \cdot \frac{e}{n}$ 의 서로 다른 실근의 개수는

$y = f(x)$ 와 $y = (-1)^n \frac{e}{n}$ 의 교점의 개수와 같으므로

(1) n 이 홀수일 때

$(-1)^n = -1$ 이므로 방정식 $f(x) = -\frac{e}{n}$ 의 실근의 개수는 1

이다. $\therefore a_n = 1$

(2) n 이 짝수일 때

$(-1)^n = 1$ 이므로 방정식 $f(x) = \frac{e}{n}$ 의 실근의 개수는 다음

과 같다. $\therefore a_n = \begin{cases} 1 & (n=2) \\ 2 & (n=4, 6, 8, 10, \dots, 30) \end{cases}$

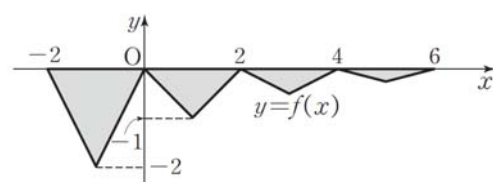
(1)과 (2)에 의하여

$$\sum_{n=1}^{30} a_n = \sum_{n=1}^{15} a_{2n-1} + \sum_{n=1}^{15} a_{2n} = 15 + 1 + 2 \times 14 = 44$$

26) 정답 2

풀이

주어진 조건을 만족하는 함수 $f(x)$ 의 그래프를 좌표평면 위에 나타내면 다음 그림과 같다.



$$\begin{aligned} \therefore \lim_{n \rightarrow \infty} S_n &= \frac{1}{2} \cdot 2 \cdot 1 + \frac{1}{2} \cdot 2 \cdot \frac{1}{2} + \frac{1}{2} \cdot 2 \cdot \left(\frac{1}{2}\right)^2 + \dots \\ &= 1 + \frac{1}{2} + \left(\frac{1}{2}\right)^2 + \dots = \frac{1}{1 - \frac{1}{2}} = 2 \end{aligned}$$

27) 정답 2

풀이

각 도형에서 흰색 직각이등변삼각형의 개수 a_n 은

$a_1 = 2, a_2 = 2(1+2), a_3 = 2(1+2+4), \dots$ 이므로

$$a_n = 2(1 + 2 + 2^2 + \dots + 2^{n-1})$$

$$= 2 \times \frac{2^n - 1}{2 - 1} = 2 \cdot 2^n - 2$$

$$\begin{aligned} \therefore \lim_{n \rightarrow \infty} \frac{a_n}{2^n + 2} &= \lim_{n \rightarrow \infty} \frac{2 \cdot 2^n - 2}{2^n + 2} \\ &= \lim_{n \rightarrow \infty} \frac{2 - \left(\frac{1}{2}\right)^{n-1}}{1 + \left(\frac{1}{2}\right)^{n-1}} = 2 \end{aligned}$$

28) 정답 120

풀이

$|k| = k'$, $|l| = l'$, $|m| = m'$ 이라 하면 k' , l' , m' 은 자연수이므로 방정식 $k' + l' + m' = 7$ 을 만족시키는 순서쌍 (k', l', m') 의 개수는 k' , l' , m' 에서 중복을 허락하여 4개를 택하는 중복조합의 수와 같다.

$$\therefore {}_{3+4-1}C_4 = {}_6C_4 = {}_6C_2 = 15$$

한편, k' , l' , m' 의 값에 대하여 k , l , m 은 각각 양수, 음수의 2가지가 있으므로 구하는 순서쌍의 개수는

$$15 \times 2 \times 2 \times 2 = 120$$

29) 정답 78

풀이

$$\begin{aligned} &\int_1^3 3^x dx + 3 \int_1^9 (1 + \log_3 x) dx \\ &= 3 \left(\int_1^3 3^{x-1} dx + \int_1^9 (1 + \log_3 x) dx \right) \end{aligned}$$

$y = 3^{x-1}$ 과 $y = \log_3 x + 1$ 은 서로 역함수이므로 구하는 값은 $3(3 \times 9 - 1) = 78$ 이다

30) 정답 6

풀이

(1) $x_m = 0$, $x_n = 1$ 일 때

$$(\log m + \log 2) + (\log n - 1 + \log 2) = 1 \text{에서 } mn = 25$$

$$(m, n) = (1, 25)$$

(2) $x_m = 1$, $x_n = 2$ 일 때

$$(\log m - 1 + \log 2) + (\log n - 2 + \log 2) = 1 \text{에서}$$

$$mn = 2500 = 2^2 \times 5^4$$

$$(m, n) = (10, 250), (20, 125), (25, 100)$$

(3) $x_m = 0$, $x_n = 2$ 일 때

$$(\log m + \log 2) + (\log n - 2 + \log 2) = 2 \text{에서}$$

$$mn = 2500 = 2^2 \times 5^4$$

$$(m, n) = (4, 625), (5, 500)$$