

25 이화여자대학교(자연계열 I) 모의25

핵심개념 및 용어	수능 최저기준	출제 분야	시험 시간
수학적 귀납법, 미분법의 활용, 증가함수, 감소함수, 함수의 극한, 벡터, 평면의 방정식, 구의 방정식, 적분법, 정사영, 이면각, 삼각함수의 덧셈정리, 벡터의 내적	국어, 수학(가), 영어, 과탐 중 3개 영역 등급 합 6 이내, 의예과는 4개 영역 등급 합 5이내 [탐구영역]응시한 과목 중 상위 1과목의 등급으로 반영	수학 3문항	100분

[문항1] [35점]

(1) 수학적 귀납법을 이용하여 n 이 자연수이고 x 가 -1 보다 같거나 큰 실수이면 다음의 부등식이 성립함을 보여라.

$$(1+x)^n \geq 1+nx$$

(2) n 이 1보다 큰 홀수이고 $x \geq -2$ 이면 다음이 성립함을 보여라.

$$(1+x)^n \geq 1+nx$$

(3) $x > -1$ 이면 다음이 성립함을 보여라.

$$0 < r < 1 \text{ 이면 } (1+x)^r \leq 1+rx$$

$$r < 0 \text{ 또는 } r > 1 \text{ 이면 } (1+x)^r \geq 1+rx$$

[문항2] 좌표공간에 중심이 $C(0,0,10)$ 이고 반지름이 1인 구를 S 라고 하자. 점 C 의 위치

벡터를 \vec{c} 라 하고, 점 C 를 지나고 단위벡터 $\vec{n} = \left(\frac{1}{\sqrt{2}}, 0, \frac{1}{\sqrt{2}}\right)$ 와 평행한 직선을

l 이라 하자. 실수 t 에 대하여 벡터 $\vec{c} + t\vec{n}$ 을 위치벡터로 갖는 점 A_t 를 지나고 l 에 수직인 평면을 P_t 라고 하자. [35점]

(1) 평면 P_t 와 구 S 가 한 개보다 많은 점에서 만나도록 하는 t 의 범위를 구하고, 이 범위 안의 실수 t 에 대하여, S 와 P_t 가 만나서 생기는 원 W_t 의 반지름의 길이를 $f(t)$ 라고 할 때, $f(t)$ 를 구하여라.

(2) 문제(1)에서 구한 범위 안의 실수 t 에 대하여, 구 S 로 둘러싸인 영역을 평면 P_t 가



두 부분으로 나눈다. 이 두 부분의 부피를 구하여 t 에 관한 식으로 표현하여라.

- (3) $f(t)$ 가 $t=t_0$ 에서 최대라 할 때 평면 P_{t_0} 로 나누어진 구 S 의 조각 중 점 $(0, 0, 11)$ 을 포함하는 조각을 xy 평면으로 정사영하여 얻어지는 도형의 넓이를 구하여라. (단, 이 조각은 원 W_{t_0} 를 포함하는 것으로 생각함.)

[문항3] 좌표평면에 길이 10인 선분을 $I = \{(x, 0) \mid -5 \leq x < 5\}$ 로 정하고 선분 밖에 있는 점 P 와 선분 I 의 두 점 A, B 가 이루는 각을 $\angle APB = \theta$ ($0 \leq \theta < \pi$)라고 할 때 다음 물음에 답하여라. [30점]

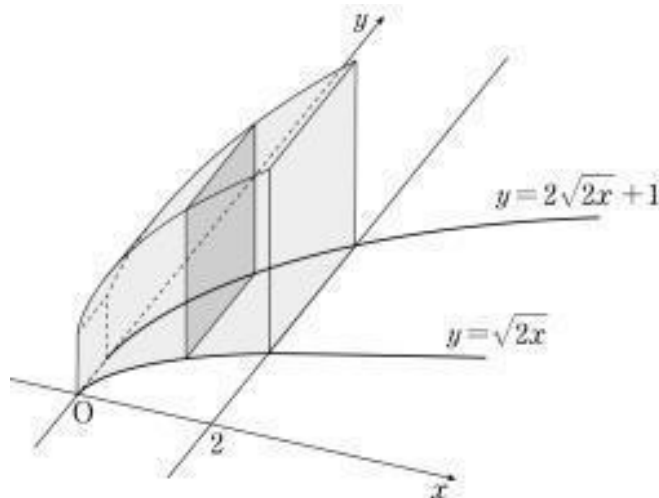
- (1) 선분 밖의 점 P 가 y 축의 점이고 $\theta = \frac{\pi}{6}$ 가 되도록 선분 I 의 두 점 A, B 를 선택할 수 있을 때, 점 P 의 집합을 J 라 하자. 집합 $J \cup \{(0, 0)\}$ 이 나타내는 그림의 길이를 구하여라.
- (2) 선분 I 의 양 끝점 $(-5, 0), (5, 0)$ 와 $\theta = \frac{\pi}{6}$ 가 되는 선분 밖의 점 P 의 집합을 S 라 하자. 집합 $S \cup \{(-5, 0), (5, 0)\}$ 이 나타내는 그림의 길이를 구하여라.
- (3) 선분 밖의 점 P 가 $\theta = \frac{\pi}{6}$ 가 되도록 선분 I 의 두 점 A, B 를 선택할 수 있을 때 점 P 를 집합 V 의 원소라 하자. 집합 $V \cup I$ 를 나타내는 그림의 넓이를 구하여라.

풀어보기 

문제1. 함수 $f(x) = \sin(x+\alpha) + 2\cos(x+\alpha)$ 에 대하여 $f'(\frac{\pi}{4}) = 0$ 일 때, $\tan\alpha$ 의 값은? (단, α 는 상수이다.) [3점] (2019. 6월 평가원)

- ① $-\frac{5}{6}$ ② $-\frac{2}{3}$ ③ $-\frac{1}{2}$ ④ $-\frac{1}{3}$ ⑤ $-\frac{1}{6}$

문제2. 그림과 같이 두 곡선 $y = 2\sqrt{2x} + 1$, $y = \sqrt{2x}$ 와 y 축 및 직선 $x = 2$ 로 둘러싸인 도형을 밑면으로 하는 입체도형이 있다. 이 입체도형을 x 축에 수직인 평면으로 자른 단면이 모두 정사각형일 때, 이 입체도형의 부피를 V 라 하자. $30V$ 의 값을 구하시오. [4점] (2019. 3월 전국연합)



문제3. 좌표공간에서 두 점 $A(3, -3, 3)$, $B(-2, 7, -2)$ 에 대하여 선분 AB 를 포함하고 구 $x^2 + y^2 + z^2 = 1$ 에 접하는 두 평면을 α , β 라 하자. 두 평면 α , β 와 구 $x^2 + y^2 + z^2 = 1$ 의 접점을 각각 C , D 라 할 때, 사면체 $ABCD$ 의 부피는 $\frac{q\sqrt{3}}{p}$ 이다. $p+q$ 의 값을 구하시오. (단, p 와 q 는 서로소인 자연수이다.) [4점] (2019. 대수능)



풀어보기(문제1) 정답 ④

$f'(x) = \cos(x+\alpha) - 2\sin(x+\alpha)$ 이므로

$$f'\left(\frac{\pi}{4}\right) = \cos\left(\frac{\pi}{4} + \alpha\right) - 2\sin\left(\frac{\pi}{4} + \alpha\right) = 0$$

즉, $\cos\left(\frac{\pi}{4} + \alpha\right) = 2\sin\left(\frac{\pi}{4} + \alpha\right)$ 에서 $\tan\left(\frac{\pi}{4} + \alpha\right) = \frac{1}{2}$ 이므로

$$\frac{\tan\frac{\pi}{4} + \tan\alpha}{1 - \tan\frac{\pi}{4}\tan\alpha} = \frac{1}{2}, \quad \frac{1 + \tan\alpha}{1 - \tan\alpha} = \frac{1}{2}$$

$2(1 + \tan\alpha) = 1 - \tan\alpha$ 이므로 $\tan\alpha = -\frac{1}{3}$ 이다.

풀어보기(문제2) 정답 340

입체도형을 직선 $x=t$ ($0 \leq t \leq 2$)를 포함하고 x 축에 수직인 평면으로 자른 단면은 한 변의 길이가 $(2\sqrt{2t}+1) - \sqrt{2t} = \sqrt{2t}+1$ 인 정사각형이므로 단면의 넓이 $S(t)$ 는

$$S(t) = (\sqrt{2t}+1)^2 = 2t + 2\sqrt{2t} + 1$$

구하는 입체도형의 부피 V 는

$$V = \int_0^2 (2t + 2\sqrt{2t} + 1) dt = \left[t^2 + \frac{4\sqrt{2}}{3} t\sqrt{t} + t \right]_0^2 = \left(4 + \frac{16}{3} + 2 \right) - 0 = \frac{34}{3}$$

따라서 $30V = 340$

풀어보기(문제3) 정답 29

구의 중심 $O(0, 0, 0)$ 에서 선분 AB 로 내린 수선의 발을 H 라 하자.

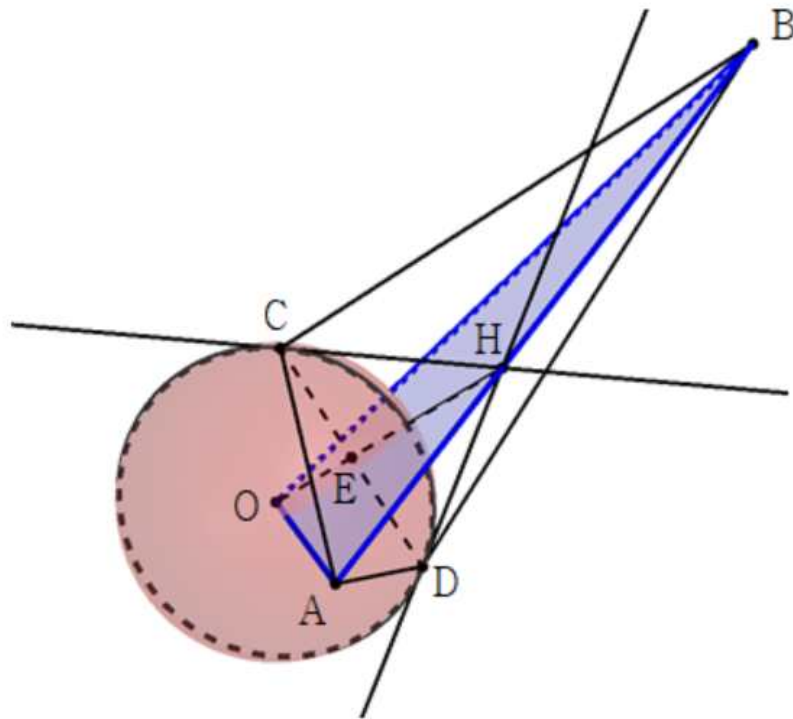
두 점 A, B 를 지나는 직선의 방정식은 $\overrightarrow{BA} = (5, -10, 5) = 5(1, -2, 1)$ 과 평행하고 점 $A(3, -3, 3)$ 을 지나는 직선이므로

$$x-3 = \frac{y+3}{-2} = z-3$$

이다. 이 직선 위의 점 $H(3+t, -3-2t, 3+t)$ 는 $\overrightarrow{OH} \perp \overrightarrow{AB}$ 이므로

$$\overrightarrow{OH} \cdot \overrightarrow{AB} = (3+t, -3-2t, 3+t) \cdot (1, -2, 1) = 6t + 12 = 0$$

따라서 $t = -2$ 이므로 $H(1, 1, 1)$ 이다.



평면 ABO와 선분 \overline{CD} 의 교점을 E라 하자. 사면체 ABCD는 ABE를 밑면으로 하는 삼각뿔 C-ABE와 D-ABE로 나눌 수 있고 그 $\overline{CE} = \overline{DE}$ 이므로 부피는 같다.

$$\overline{OH} = \sqrt{3} \text{ 이고 } \overline{OC} = 1 \text{ 이므로 } \overline{CH} = \sqrt{2}, \overline{CE} = \frac{\sqrt{2}}{\sqrt{3}} = \frac{\sqrt{6}}{3} \text{ 이며}$$

$$\overline{HE} = \sqrt{\overline{CH}^2 - \overline{CE}^2} = \sqrt{2 - \frac{2}{3}} = \frac{2\sqrt{3}}{3}$$

$\overline{AB} = 5\sqrt{6}$ 이므로 구하는 부피는

$$\frac{1}{3} \times (\triangle ABE \text{의 넓이}) \times \overline{CD} = \frac{1}{3} \times \left(\frac{1}{2} \times 5\sqrt{6} \times \frac{2\sqrt{3}}{3} \right) \times \frac{2\sqrt{6}}{3} = \frac{20\sqrt{3}}{9}$$

따라서 $p+q = 20+9 = 29$ 이다.

(다른 풀이) 구의 중심 $O(0, 0, 0)$ 에서 선분 \overline{AB} 로 내린 수선의 발을 H라 하자.

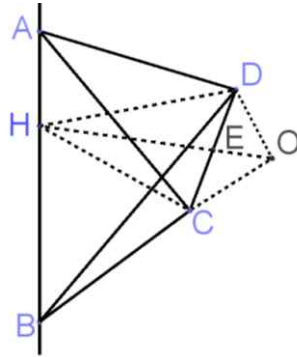
두 점 A, B를 지나는 직선의 방정식은 $\overrightarrow{BA} = (5, -10, 5) = 5(1, -2, 1)$ 과 평행하고 점 $A(3, -3, 3)$ 을 지나는 직선이므로

$$x-3 = \frac{y+3}{-2} = z-3$$

이다. 이 직선 위의 점 $H(3+t, -3-2t, 3+t)$ 는 $\overrightarrow{OH} \perp \overrightarrow{AB}$ 이므로

$$\overrightarrow{OH} \cdot \overrightarrow{AB} = (3+t, -3-2t, 3+t) \cdot (1, -2, 1) = 6t+12 = 0$$

따라서 $t = -2$ 이므로 $H(1, 1, 1)$ 이다.



평면 ABO와 선분 \overline{CD} 의 교점을 E라 하자. 사면체 ABCD는 HCD를 밑면으로 하는 삼각뿔 A-HCD와 B-HCD로 나눌 수 있다.

$$\overline{OH} = \sqrt{3} \text{ 이고 } \overline{OC} = 1 \text{ 이므로 } \overline{CH} = \sqrt{2} \text{ 이고 } \overline{CE} = \frac{\sqrt{2}}{\sqrt{3}} = \frac{\sqrt{6}}{3} \text{ 이므로 } \overline{CD} = \frac{2\sqrt{2}}{\sqrt{3}} = \frac{2\sqrt{6}}{3}$$

$$\overline{HE} = \sqrt{\overline{CH}^2 - \overline{CE}^2} = \sqrt{2 - \frac{2}{3}} = \frac{2\sqrt{3}}{3}$$

$\overline{AB} = 5\sqrt{6}$ 이므로 구하는 부피는

$$\begin{aligned} & \frac{1}{3} \times (\triangle HCD \text{의 넓이}) \times \overline{AH} + \frac{1}{3} \times (\triangle HCD \text{의 넓이}) \times \overline{BH} \\ &= \frac{1}{3} \times (\triangle HCD \text{의 넓이}) \times \overline{AB} = \frac{1}{3} \times \left(\frac{1}{2} \times \frac{2\sqrt{6}}{3} \times \frac{2\sqrt{3}}{3} \right) \times 5\sqrt{6} = \frac{20\sqrt{3}}{9} \end{aligned}$$

따라서 $p+q=20+9=29$ 이다.

[문항1] 대학발표 예시답안

(1) n 이 1일 때 위의 부등식이 자명하게 성립한다.

위의 부등식이 $n=k$ 일 때 성립한다고 가정하고, $n=k+1$ 일 때 성립함을 보이자.

$$(1+x)^{k+1} = (1+x)^k(1+x) \geq (1+kx)(1+x) = 1 + (k+1)x + kx^2 \geq 1 + (k+1)x$$

따라서 수학적 귀납법에 의하여 모든 자연수 n 과 $x \geq -1$ 에 대하여 $(1+x)^n \geq 1+nx$ 가 성립한다. 참고로, 위의 전개식에서, 첫 번째 부등식이 성립하는 이유는 $n=k$ 일 때 $(1+x)^k \geq 1+kx$ 라고 가정하였고 $1+x \geq 0$ 이기 때문이며, 두 번째 부등식이 성립하는 이유는 모든 자연수 k 와 실수 x 에 대하여 $kx^2 \geq 0$ 이기 때문이다.

(나침반 다른 풀이)

i) $n=1$ 일 때

$$(\text{좌변})=1+x, (\text{우변})=1+x$$

이므로 성립한다.

ii) $n=k$ 일 때 성립한다고 가정하면

$$(1+x)^k \geq 1+kx$$

이다.

$$\begin{aligned}(1+x)^{k+1} &= (1+x)^k(1+x) \\ &\geq (1+kx)(1+x) = 1+(1+k)x+kx^2 \\ &\geq 1+(1+k)x \quad (kx^2 > 0 \text{ 이므로})\end{aligned}$$

따라서 $n=k+1$ 일 때 성립한다.

i), ii)에 의해 모든 자연수 n 에 대하여 성립한다.

(2) 함수 $f(x)=(1+x)^n-nx-1$ 에 대하여, $x \geq -2$ 이면 $f(x) \geq 0$ 임을 보이면 된다.

$f(x)$ 가 미분가능한 함수이고 $f'(x)=n(1+x)^{n-1}-n=0$ 이 성립하는 x 는 -2 와 0 이다. 구간 $(-\infty, -2)$, $(-2, 0)$, $(0, \infty)$ 에서 $f'(x)$ 의 부호를 계산하면, $f(x)$ 가 $x=-2$ 에서 극댓값을 가지고 $x=0$ 에서 극솟값을 가짐을 알 수 있다. 그리고 $x \geq -2$ 에서 $f'(x)$ 의 부호를 이용하여 함수 $f(x)$ 의 증가, 감소를 확인하면, 구간 $(-2, 0)$ 에서 $f(x)$ 가 감소하고 구간 $(0, \infty)$ 에서 증가함을 알 수 있다. 따라서 $x \geq -2$ 일 때 함수 $f(x)$ 의 최솟값은 $f(0)=0$ 이므로 $f(x)=(1+x)^n-nx-1 \geq 0$ 이 성립한다.

그러므로 $x \geq -2$ 일 때, 부등식 $(1+x)^n \geq 1+nx$ 가 성립한다.

(별해) 수학적 귀납법으로 위의 부등식을 보일 수 있다.

(1)에 의하여 $x \geq -1$ 이면 $(1+x)^n \geq 1+nx$ 가 성립하기 때문에, 우리는 n 이 1보다 큰 홀수이고 $-2 \leq x \leq -1$ 일 때, $(1+x)^n \geq 1+nx$ 가 성립함을 보이면 된다.

n 이 1보다 큰 홀수이고 $-2 \leq x \leq -1$ 일 때, $(1+x)^n \geq 1+nx$ 가 성립한다고 가정한다면 다음에 $(1+x)^{n+2} \geq 1+(n+2)x$ 가 성립함을 보이자.

$(1+x)^{n+2}$ 을 전개시키면 아래의 부등식을 얻는다.

$$\begin{aligned}(1+x)^{n+2} &= (1+x)^n(1+x)^2 \geq (1+nx)(1+x)^2 = (1+nx)(1+2x+x^2) \\ &= 1+(n+2)x+(2n+1)x^2+nx^3\end{aligned}$$

여기에서 $-2 \leq x \leq -1$ 일 때, $(2n+1)x^2+nx^3 \geq 0$ 임을 보이면 된다.

$(2n+1)x^2+nx^3 = x^2(2n+1+nx)$ 이고 x^2 은 $-2 \leq x \leq -1$ 에서 양수이므로,

$(2n+1)x^2+nx^3 = x^2(2n+1+nx)$ 의 부호는 $2n+1+nx$ 에 의해 결정된다.

$-2 \leq x \leq -1$ 일 때 $(2n+1+nx)$ 의 최솟값은 $x=-2$ 일 때의 1이므로

$(2n+1)x^2+nx^3 = x^2(2n+1+nx) \geq x^2 \cdot 1 \geq 0$ 이 성립한다.

그러므로 $-2 \leq x \leq -1$ 에서

$(1+x)^{n+2} \geq 1+(n+2)x+(2n+1)x^2+nx^3 \geq 1+(n+2)x$ 가 성립하고, 수학적 귀납법에 의하여 1보다 큰 홀수 n 과 $x \geq -2$ 에 대하여 $(1+x)^n \geq 1+nx$ 가 성립한다.

(3) r 이 0 또는 1이 아닌 실수일 때, 함수 $f(x)=(1+x)^r-rx-1$ 는 $x > -1$ 에서 미분가능하고, 그 도함수는 $f'(x)=r(1+x)^{r-1}-r$ 이며, $x > -1$ 에서 $f'(x)=0$ 가 성립하는 x 는



0 밖에 없음을 자명하다.

$0 < r < 1$ 의 경우: 먼저 $r-1 < 0$ 이므로 $g(t)=t^{r-1}$ 은 $t \in (0, \infty)$ 에 대하여 감소함수이다.

구간 $(-1, 0)$ 에서 $0 < 1+x < 1$ 이므로 $1^{r-1} = 1 < (1+x)^{r-1}$ 이 성립하고

$r > 0$ 이기 때문에 $-1 < x < 0$ 에 대하여 $f'(x)=r\{(1+x)^{r-1}-1\} > 0$ 이다.

그리고 구간 $(0, \infty)$ 에서는 $1 < 1+x$ 이므로 $(1+x)^{r-1} < 1$ 이고 $f'(x)=r\{(1+x)^{r-1}-1\} < 0$ 이 성립한다. 따라서 함수 $f(x)=(1+x)^r - rx - 1$ 는 $x=0$ 에서 극대이고 최대이다.

그러므로 $x > -1$ 인 모든 실수에 대하여 $f(x)=(1+x)^r - rx - 1 \leq f(0)=0$ 이고 부등식 $(1+x)^r \leq 1+rx$ 가 성립한다.

$r < 0$ 인 경우: $0 < r < 1$ 인 경우와 마찬가지로 $r-1 < -1 < 0$ 이기 때문에 $g(t)=t^{r-1}$ 은 $t \in (0, \infty)$ 에 대하여 감소함수이다. 그러므로 구간 $(-1, 0)$ 에서 $1^{r-1} = 1 < (1+x)^{r-1}$ 이 성립하고, $r < 0$ 이므로 $f'(x)=r\{(1+x)^{r-1}-1\} < 0$ 이다.

또한 구간 $(0, \infty)$ 에서 $(1+x)^{r-1} < 1$ 이 성립하고 $f'(x)=r\{(1+x)^{r-1}-1\} > 0$ 이다.

따라서 함수 $f(x)=(1+x)^r - rx - 1$ 은 $x=0$ 에서 극소이고 최소이다.

그러므로 $x > -1$ 인 모든 실수에 대하여 $f(x)=(1+x)^r - rx - 1 \geq f(0)=0$ 이고 부등식 $(1+x)^r \geq 1+rx$ 가 성립한다.

$r > 1$ 인 경우: $r-1 > 0$ 이기 때문에 $g(t)=t^{r-1}$ 은 $t \in (0, \infty)$ 에 대하여 증가함수이다.

구간 $(-1, 0)$ 에서 $0 < 1+x < 1$ 이므로 $(1+x)^{r-1} < 1 = 1^{r-1}$ 이 성립하고,

$r > 0$ 이기 때문에 $-1 < x < 0$ 에 대하여 $f'(x)=r\{(1+x)^{r-1}-1\} < 0$ 이다.

그리고 구간 $(0, \infty)$ 에서는 $1 < 1+x$ 이므로 $1 < (1+x)^{r-1}$ 이고

$f'(x)=r\{(1+x)^{r-1}-1\} > 0$ 이 성립한다.

따라서 함수 $f(x)=(1+x)^r - rx - 1$ 은 $x=0$ 에서 극소이고 최소이다.

그러므로 $x > -1$ 인 모든 실수에 대하여 $f(x)=(1+x)^r - rx - 1 \geq f(0)=0$ 이고 부등식 $(1+x)^r \geq 1+rx$ 가 성립한다.

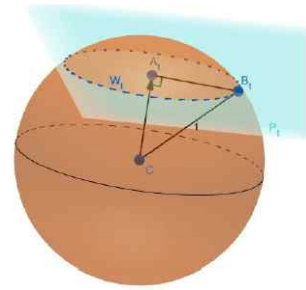
[문항2] 대학발표 예시답안

- (1) $\overrightarrow{CA_t} = (\vec{c} + t\vec{n}) - \vec{c} = t\vec{n}$ 으로, $t \neq 0$ 의 경우는 이 벡터가 평면 P_t 와 수직이고, 따라서 A_t 는 C 에서 P_t 에 내린 수선의 발이다.

따라서 C 와 평면 P_t 와의 거리는 $\overline{CA_t} = |t\vec{n}| = |t|$ 이다. (\vec{n} 은 단위벡터이므로 길이가 1)

$t=0$ 인 경우, $C=A_t$ 이므로 C 와 P_t 의 거리는 $0 = |t|$ 이다.

한편, 구 S 상의 임의의 점과 C 와의 거리는 1이다. 따라서 $|t|=1$ 일 때 구와 평면은 접하여 한 개의 점에서 만나고, $|t|>1$ 일 때 구와 평면은 만나지 않으며, $|t|<1$ 일 때 구와 평면은 원에서 만난다. 따라서 구하는 범위는 $-1 < t < 1$ 이다.



S 와 P_t 가 만나 이루는 교선을 W_t 라 하고, B_t 를 W_t 상의 임의의 점이라고 하자. 선분 CA_t 는 P_t 에 수직이므로, 선분 A_tB_t 와도 수직이다. 또한 B_t 는 구 S 상의 점이므로 $\overline{CB_t}=1$ 이다.

$\angle CA_tB_t = \frac{\pi}{2}$ 이므로, 피타고라스 정리에 의해 $\overline{A_tB_t}^2 = \overline{CB_t}^2 - \overline{CA_t}^2 = 1^2 - |t|^2 = 1 - t^2$ 이다. 즉, A_t 에서 W_t 의 임의의 점까지의 거리가 $\sqrt{1-t^2}$ 으로 일정하므로, 원 W_t 의 중심은 A_t 이고 반지름은 $\sqrt{1-t^2}$ 이다. 따라서 답은 $f(t) = \sqrt{1-t^2}$ 이다.

- (2) 직선 l 을 축으로 생각하자. 점 A_t 는 점 C 로부터 단위벡터 \vec{n} 방향으로 길이 t 만큼 간 곳에 위치해 있다. (이 때, t 가 음수이면 $-\vec{n}$ 방향으로 길이 $|t|$ 만큼 갔다고 여기면 된다.) l 상의 이 점 A_t 에서 우리가 부피를 구하고자 하는 영역의 수직 단면은 반지름 $f(t)$ 인 원이므로, 넓이가 $\pi \cdot f(t)^2 = \pi(1-t^2)$ 이다. 따라서 영역의 부피는 이 넓이의 식을 범위에 맞게 적분하면 된다.

편의를 위하여 t 대신 s 를 쓰자. 즉 l 상에서 \vec{n} 방향으로 길이 s 만큼 간 곳에서의 단면의 넓이는 $\pi(1-s^2)$ 이다.

첫째 영역은 s 가 t 에서 1까지 움직일 때이므로 부피가 $\int_t^1 \pi(1-s^2)ds$ 이고, 계산하면

$$\left[\pi \left(s - \frac{s^3}{3} \right) \right]_t^1 = \pi \left(\frac{2}{3} - t + \frac{t^3}{3} \right) \text{이다. 나머지 영역은 } s \text{가 } -1 \text{에서 } t \text{까지 움직이므로, 부}$$

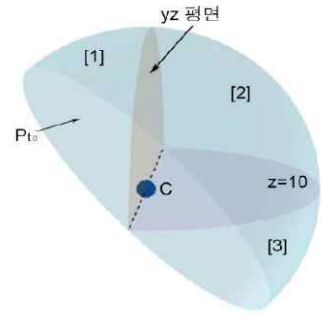
피는 $\int_{-1}^t \pi(1-s^2)ds = \left[\pi \left(s - \frac{s^3}{3} \right) \right]_{-1}^t = \pi \left(\frac{2}{3} + t - \frac{t^3}{3} \right)$ 이다. (혹은 구의 부피 $\frac{4}{3}\pi$ 에서 첫 번째 부피를 빼도 된다.)

따라서 부피는 각각 $\pi \left(\frac{2}{3} - t + \frac{t^3}{3} \right)$ 와 $\pi \left(\frac{2}{3} + t - \frac{t^3}{3} \right)$ 이다.

- (3) $f(t) = \sqrt{1-t^2}$, $-1 < t < 1$. 이때 $t^2 \geq 0$ 이 항상 성립하여 $1-t^2 \leq 1$ 이고, 등호가 $t=0$ 일 때만 성립하므로, 우리의 범위 내에서 $f(t)$ 는 $t=0$ 일 때 최댓값 1을 갖는다. 따라서 $t_0=0$ 이다. $t=t_0=0$ 일 때 평면 P_{t_0} 는 구의 중심인 $C=A$ 를 지나므로 P_{t_0} 가 구 S 를 두 반구로 나눔을 알 수 있고, 점 $(0,0,1)$ 은 두 반구 중 P_{t_0} 의 위쪽에 위치한 반구임을 알 수 있다.



이 위쪽 반구는 $z=10$ 인 평면과 yz 평면에 의해 그림과 같이 세 부분 [1], [2], [3]으로 나뉜다. (여기서 $z=10$ 평면은 C 를 지나며 xy 평면에 평행하고, yz 평면은 C 를 지나며 xy 평면 및 $z=10$ 평면에 수직이다.) 그림의 [2]부분의 xy 평면으로의 정사영은 [2]의 밑면에 해당하는 반원꼴 도형을 xy 평면으로 정사영한 것과 같고, 이 밑면은 xy 평면과 평행한 $z=10$ 평면상의 도형이므로, xy 평면으로의 정사영의 넓이는 이 밑면의 넓이 그대로이다. 이 밑면은 $z=10$



평면 내에서 반지름이 1인 원의 반원 부분이므로, 넓이가 $\pi \cdot 1^2 \cdot \frac{1}{2} = \frac{\pi}{2}$ 이다.

[3]의 정사영은 [2]의 정사영에 포함되므로 고려하지 않아도 된다. [1]의 정사영은 [1]의 밑면의 정사영과 같다. [1]의 밑면은 평면 P_{t_0} 상의 반지름 1인 원의 반원 부분이므로, 넓이가 $\frac{\pi}{2}$ 이다. 평면 P_{t_0} 의 법선벡터 $\frac{1}{\sqrt{2}}(1, 0, 1)$ 과 xy 평면의 법선벡터 $(0, 0, 1)$ 을 이용하여 평면 P_{t_0} 와 xy 평면 사이의 이면각 θ 를 구하면

$$\cos\theta = \frac{\frac{1}{\sqrt{2}}(1, 0, 1) \cdot (0, 0, 1)}{\left| \frac{1}{\sqrt{2}}(1, 0, 1) \right| \left| (0, 0, 1) \right|} = \frac{\frac{1}{\sqrt{2}}}{\frac{1}{\sqrt{2}} \sqrt{1^2+1^2} \sqrt{1^2}} = \frac{1}{\sqrt{2}}$$

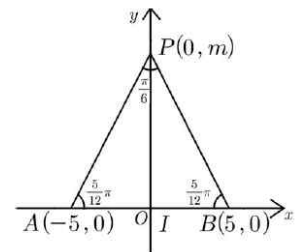
따라서 [1]의 밑면의 xy 평면으로의 정사영의 넓이는 [1]의 밑면의 넓이와 $\cos\theta$ 의 곱인 $\frac{\pi}{2} \cdot \frac{1}{\sqrt{2}}$ 이다.

따라서 문제의 반구의 xy 평면으로의 정사영의 넓이는 $\frac{\pi}{2} + \frac{\pi}{2} \cdot \frac{1}{\sqrt{2}} = \frac{2+\sqrt{2}}{4} \pi$ 이다.

[문항3] 대학발표 예시답안

(1)

(i) 선분 I 의 양 끝 점을 두 점 A, B 로 각각 선택하고, $\theta = \frac{\pi}{6}$ 가 되도록 y 축의 점 $P(0, \pm m)$ ($m > 0$)을 잡으면 m 은 밑변의 길이가 10이고 두 밑각의 크기가 $\frac{5\pi}{12}$ 인 이등변삼각형의 높이이다.

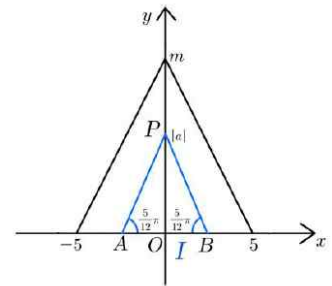


따라서 꼭짓점 $(0, m)$ 은 $\tan \frac{5\pi}{12} = \frac{m}{5}$ 을 만족하므로 삼각함수의 덧셈정리에 따라

$$m = 5 \tan \frac{5\pi}{12} = 5 \tan \left(\frac{\pi}{4} + \frac{\pi}{6} \right) = 5 \frac{\tan \frac{\pi}{4} + \tan \frac{\pi}{6}}{1 - \tan \frac{\pi}{4} \tan \frac{\pi}{6}} = 5 \left(\frac{\sqrt{3} + 1}{\sqrt{3} - 1} \right)$$

(ii) y 축의 점 $P(0, a)$ ($|a| > 5 \left(\frac{\sqrt{3} + 1}{\sqrt{3} - 1} \right)$)을 선택하면 선분 I 의 양 끝 점을 두 점 A, B 로 각각 선택하였을 때 θ 의 크기가 가장 크다. 이때 $\triangle PAB$ 는 두 밑각의 크기가 $\frac{5\pi}{12}$ 보다 큰 이등변삼각형이므로 $\theta < \frac{\pi}{6}$ 이다. 따라서 이때 점 P 는 집합 J 의 원소가 아니다.

(iii) y 축의 점 $P(0, a)$ ($0 < |a| < 5 \left(\frac{\sqrt{3} + 1}{\sqrt{3} - 1} \right)$)을 선택하면 닦은꼴의 성질을 활용하여 $\triangle PAB$ 가 높이가 $|a|$ 이고 두 밑각의 크기가 $\frac{5\pi}{12}$ 인 이등변삼각형이 되도록 선분 I 의 두 점 A, B 를 잡을 수 있다.



$5 : 5 \left(\frac{\sqrt{3} + 1}{\sqrt{3} - 1} \right) = x : |a|$ 에서 $x = \frac{|a|(\sqrt{3} - 1)}{\sqrt{3} + 1}$ 이므로 두 점 A, B 의 좌표는 각각

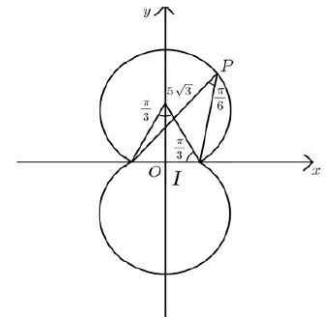
$$A \left(\frac{-|a|(\sqrt{3} - 1)}{\sqrt{3} + 1}, 0 \right), B \left(\frac{|a|(\sqrt{3} - 1)}{\sqrt{3} + 1}, 0 \right)$$

이다.

따라서 구하는 집합 J 는 $J = \left\{ (0, y) \mid 0 < |y| \leq 5 \left(\frac{\sqrt{3} + 1}{\sqrt{3} - 1} \right) \right\}$

(i)~(iii)에서 $J \cup \{(0, 0)\}$ 이 나타내는 그림의 길이는 $10 \left(\frac{\sqrt{3} + 1}{\sqrt{3} - 1} \right)$ 이다.

(2) 선분 I 의 양 끝점을 선택하여 $\theta = \frac{\pi}{6}$ 가 되도록 하는 좌표평면의 점들을 찾으면 이 점들은 원주각의 성질에 의하여 선분 I 를 현으로 하고 원주각이 $\frac{\pi}{6}$ 가 되는 원위의 점들이다. 이때 원의 중심은 $(0, \pm 5\sqrt{3})$ 이고, 반지름의 길이는 10이므로 구하는 점 P 의 집합은



$$S = \left\{ (x, y) \mid x^2 + (y - 5\sqrt{3})^2 = 10^2, y > 0 \right\} \cup \left\{ (x, y) \mid x^2 + (y + 5\sqrt{3})^2 = 10^2, y < 0 \right\}$$

따라서 집합 $S \cup \{(-5, 0), (5, 0)\}$ 이 나타내는 그림은 반지름의 길이가 10이고 중심각



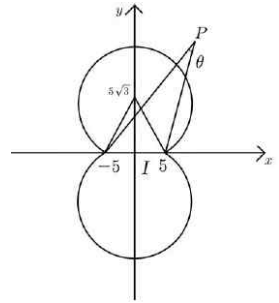
이 $\frac{5\pi}{3}$ 인 호 두 개가 붙어 있는 형태이므로 구하는 길이는 $2\left(10\frac{5\pi}{3}\right) = \frac{100\pi}{3}$ 이다.

(3) 문제(2)에서 구한 $S \cup \{(-5, 0), (5, 0)\}$ 의 내부 중 선분 I 밖에 있는 점들의 집합은

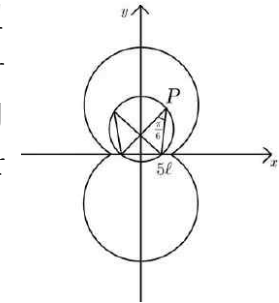
$$B = \{(x, y) | x^2 + (y - 5\sqrt{3})^2 < 10^2, y > 0\} \cup \{(x, y) | x^2 + (y + 5\sqrt{3})^2 < 10^2, y < 0\}$$

이다.

(i) 집합 $S \cup \{(-5, 0), (5, 0)\}$ 외부의 점 P 를 잡으면 선분 I 의 양 끝 점을 두 점 A, B 로 잡을 때 θ 의 크기가 가장 크다. 이때 점 P 는 집합 $S \cup \{(-5, 0), (5, 0)\}$ 의 밖에 있으므로 원주각의 성질에 따라 $\theta < \frac{\pi}{6}$ 이다. 따라서 이들 점 P 는 집합 V 의 원소가 아니다.



(ii) 이제 집합 B 의 임의의 한 점 $P(\alpha, \beta)$, ($\beta > 0$)가 집합 V 의 원소인 것을 다음과 같이 보인다. 문제(2)와 답음풀의 성질을 활용하면 이 점이 반지름의 길이가 $10l$ 이고 중심이 $(0, 5\sqrt{3}l)$ 인 원위의 점이고, 선분 I 의 두 점 $(-5l, 0), (5l, 0)$ 을 현의 끝점으로 할 때 원주각이 $\frac{\pi}{6}$ 가 됨을 알 수 있다.



주어진 조건의 l 이 $0 < l < 1$ 인 것을 확인하기 위하여

원의 방정식 $\alpha^2 + (\beta - 5\sqrt{3}l)^2 = (10l)^2$ 을 정리하면

$$25l^2 + 10\sqrt{3}\beta l - (\alpha^2 + \beta^2) = 0 \text{이다.}$$

$f(l) = 25l^2 + 10\sqrt{3}\beta l - (\alpha^2 + \beta^2)$ 으로 두고 방정식 $f(l)$ 이 $0 < l < 1$ 인 근을 가지는 것을 보이기로 한다.

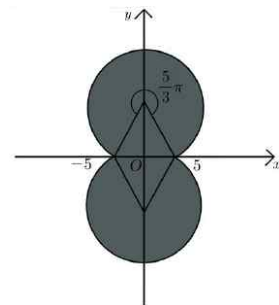
$f(0) = -(\alpha^2 + \beta^2) < 0$ 이고 (α, β) ($\beta > 0$)이 집합 B 의 원소이므로

$$f(1) = 25 + 10\sqrt{3}\beta - (\alpha^2 + \beta^2) = 10^2 - \alpha^2 - (\beta - 5\sqrt{3})^2 > 0 \text{이다.}$$

따라서 $0 < l < 1$ 인 근이 존재한다.

같은 이유로 B 의 점 (α, β) ($\beta < 0$)도 V 의 원소이다.

따라서 구하는 집합 V 는 집합 $B \cup S$ 이고 $V \cup I$ 는 오른쪽 그림처럼 나타나며 반지름 10이고 원주각 $\frac{5\pi}{3}$ 인 부채꼴 두 개와 한 변의 길이가 10인 정삼각형이 두 개 있는 모양으로 분해할 수 있다.



따라서 $2\left(\frac{1}{2}10^2\frac{5\pi}{3} + \frac{1}{2}\frac{\sqrt{3}}{2}10^2\right) = 100\left(\frac{5\pi}{3} + \frac{\sqrt{3}}{2}\right)$ 이다.

26 이화여자대학교(자연계열 II) 모의26

핵심개념 및 용어	수능 최저기준	출제 분야	시험 시간
수학적 귀납법, 미분법의 활용, 증가함수, 감소함수, 함수의 극한, 벡터, 평면의 방정식, 구의 방정식, 적분법, 정사영, 이면각, 삼각함수의 덧셈정리, 벡터의 내적	국어, 수학(가), 영어, 과탐 중 3개 영역 등급 합 6 이내, 의예과는 4개 영역 등급 합 5이내 [탐구영역]응시한 과목 중 상위 1과목의 등급으로 반영	수학 3문항	100분

[문항1] [35점]

(1) 수학적 귀납법을 이용하여 n 이 자연수이고 x 가 -1 보다 같거나 큰 실수이면 다음의 부등식이 성립함을 보여라.

$$(1+x)^n \geq 1+nx$$

(2) n 이 임의의 자연수일 때, 위의 부등식을 이용하여 다음이 성립함을 보여라.

$$\left(1 + \frac{1}{n}\right)^n \leq \left(1 + \frac{1}{n+1}\right)^{n+1}$$

(3) 임의의 두 자연수 m 과 n 에 대하여 다음이 성립함을 보여라.

$$\left(1 + \frac{1}{n}\right)^n \leq \left(1 + \frac{1}{m}\right)^{m+1}$$

(4) n 이 임의의 자연수일 때, 다음이 성립함을 보여라.

$$2 \leq \left(1 + \frac{1}{n}\right)^n < 3$$



[문항2] 좌표공간에 중심이 $C(0, 0, 10)$ 이고 반지름이 1인 구를 S 라고 하자. 점 C 의 위치 벡터를 \vec{c} 라 하고, 점 C 를 지나고 벡터 $\vec{v} = (1, 1, 1)$ 과 평행한 직선을 l 이라 하자. 실수 t 에 대하여 벡터 $\vec{c} + t\vec{v}$ 를 위치벡터로 갖는 점 A_t 를 지나고 l 에 수직인 평면을 P_t 라고 하자. [35점]

- (1) 평면 P_t 와 구 S 가 한 개보다 많은 점에서 만나도록 하는 t 의 범위를 구하고, 이 범위 안의 실수 t 에 대하여, S 와 P_t 가 만나서 생기는 원 W_t 의 반지름의 길이를 $f(t)$ 라고 할 때, $f(t)$ 를 구하여라.
- (2) 문제(1)에서 구한 범위 안의 실수 t 에 대하여, 구 S 로 둘러싸인 영역을 평면 P_t 가 두 부분으로 나눈다. 이 두 부분의 부피를 구하여 t 에 관한 식으로 표현하여라.
- (3) $f(t_0) = \frac{\sqrt{6}}{3}$ 인 양수 t_0 에 대하여 평면 P_{t_0} 로 나누어진 구 S 의 조각 중 평면 P_{t_0} 에서 벡터 \vec{v} 방향에 위치한 조각을 xy 평면으로 정사영하여 얻어지는 도형의 넓이를 구하여라. (단, 이 조각은 원 W_{t_0} 를 포함하는 것으로 생각함.)

[문항3] 좌표공간에 길이 10인 선분을 $I = \{(x, 0, 0) \mid -5 \leq x < 5\}$ 로 정하고 선분 밖에 있는 점 P 와 선분 I 의 두 점 A, B 가 이루는 각을 $\angle APB = \theta$ ($0 \leq \theta < \pi$)라고 할 때 다음 물음에 답하여라. [30점]

- (1) 선분 밖의 점 P 가 y 축의 점이고 $\theta = \frac{\pi}{6}$ 가 되도록 선분 I 의 두 점 A, B 를 선택할 수 있을 때, 점 P 의 집합을 J 라 하자. 집합 $J \cup \{(0, 0, 0)\}$ 이 나타내는 그림의 길이를 구하여라.
- (2) 선분 밖의 점 P 가 yz 평면에 있고 $\theta = \frac{\pi}{6}$ 가 되도록 선분 I 위의 두 점 A, B 를 선택할 수 있을 때 점 P 의 집합을 S 라 하자. 집합 $S \cup \{(0, 0, 0)\}$ 이 나타내는 그림의 넓이를 구하여라.
- (3) 선분 밖의 점 P 가 xy 평면에 있고 $\theta = \frac{\pi}{6}$ 가 되도록 선분 I 위의 두 점 A, B 를 선택할 수 있을 때 점 P 의 집합을 U 라 하자. 집합 $U \cup I$ 이 나타내는 그림의 넓이를 구하여라.

풀어보기 

문제1. 일반항이 $a_n = n^2$ 인 수열 $\{a_n\}$ 의 첫째항부터 제 n 항까지의 합을 S_n 이라 하자.

다음은 모든 자연수 n 에 대하여

$$(n+1)S_n - \sum_{k=1}^n S_k = \sum_{k=1}^n k^3 \quad \dots\dots (*)$$

이 성립함을 수학적 귀납법으로 증명한 것이다.

(i) $n=1$ 일 때,

$$(\text{좌변}) = 2S_1 - S_1 = 1, \quad (\text{우변}) = 1 \text{ 이므로}$$

$(*)$ 이 성립한다.

(ii) $n=m$ 일 때 $(*)$ 이 성립한다고 가정하면

$$(m+1)S_m - \sum_{k=1}^m S_k = \sum_{k=1}^m k^3 \text{ 이다.}$$

$n=m+1$ 일 때 $(*)$ 이 성립함을 보이자.

$$\begin{aligned} & (m+2)S_{m+1} - \sum_{k=1}^{m+1} S_k \\ &= \boxed{\text{(가)}} S_{m+1} - \sum_{k=1}^m S_k \\ &= \boxed{\text{(가)}} S_m + \boxed{\text{(나)}} - \sum_{k=1}^m S_k \\ &= \sum_{k=1}^{m+1} k^3 \text{ 이다.} \end{aligned}$$

따라서 $n=m+1$ 일 때도 $(*)$ 이 성립한다.

(i), (ii)에 의하여 주어진 식은 모든 자연수 n 에 대하여 성립한다.

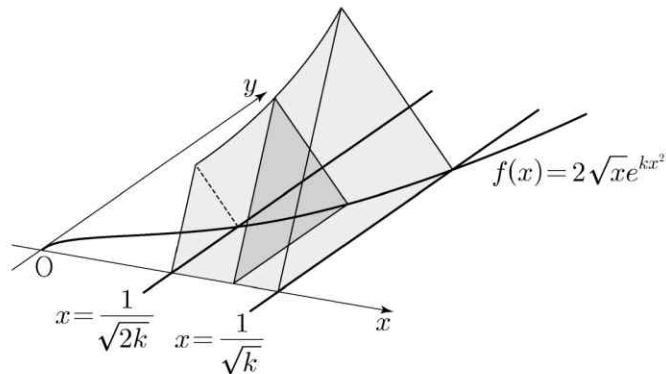
위의 (가), (나)에 알맞은 식을 각각 $f(m)$, $g(m)$ 이라 할 때, $f(2)+g(1)$ 의 값은?
(2019. 9월 고2 전국연합)

- ① 7 ② 8 ③ 9 ④ 10 ⑤ 11



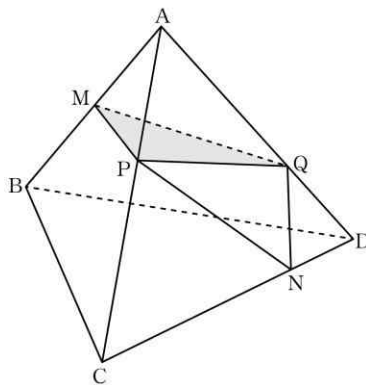
문제2. 그림과 같이 양수 k 에 대하여 함수 $f(x)=2\sqrt{x}e^{kx^2}$ 의 그래프와 x 축 및 두 직선 $x=\frac{1}{\sqrt{2k}}$, $x=\frac{1}{\sqrt{k}}$ 로 둘러싸인 부분을 밑면으로 하고 x 축에 수직인 평면으로 자른 단면이 모두 정삼각형인 입체도형의 부피가 $\sqrt{3}(e^2-e)$ 일 때, k 의 값은?
(2019. 9월 평가원)

- ① $\frac{1}{12}$ ② $\frac{1}{6}$ ③ $\frac{1}{4}$ ④ $\frac{1}{3}$ ⑤ $\frac{1}{2}$



문제3. 그림과 같이 한 모서리의 길이가 1인 정사면체 ABCD에서 선분 AB의 중점을 M, 선분 CD를 3:1로 내분하는 점을 N이라 하자. 선분 AC 위에 $\overline{MP} + \overline{PN}$ 의 값이 최소가 되도록 점 P를 잡고, 선분 AD 위에 $\overline{MQ} + \overline{QN}$ 의 값이 최소가 되도록 점 Q를 잡는다. 삼각형 MPQ의 평면 BCD 위로의 정사영의 넓이는?

[4점] (2019. 10월 전국연합)



- ① $\frac{\sqrt{3}}{30}$ ② $\frac{\sqrt{3}}{15}$ ③ $\frac{\sqrt{3}}{10}$ ④ $\frac{2\sqrt{3}}{15}$ ⑤ $\frac{\sqrt{3}}{6}$

예시답안 

풀어보기(문제1) 정답 ⑤

일반항이 $a_n = n^2$ 인 수열 $\{a_n\}$ 의 첫째항부터 제 n 항까지의 합을 S_n 이라 하자.

다음은 모든 자연수 n 에 대하여

$$(n+1)S_n - \sum_{k=1}^n S_k = \sum_{k=1}^n k^3 \dots\dots (*)$$

이 성립함을 수학적 귀납법으로 증명한 것이다.

(i) $n=1$ 일 때,
 (좌변) $= 2S_1 - S_1 = 1$, (우변) $= 1$ 이므로
 (*)이 성립한다.

(ii) $n=m$ 일 때 (*)이 성립한다고 가정하면
 $(m+1)S_m - \sum_{k=1}^m S_k = \sum_{k=1}^m k^3$ 이다.
 $n=m+1$ 일 때 (*)이 성립함을 보이자.

$$(m+2)S_{m+1} - \sum_{k=1}^{m+1} S_k$$

$$= (m+2)S_{m+1} - \left(\sum_{k=1}^m S_k + S_{m+1} \right)$$

$$= \boxed{(m+1)} S_{m+1} - \sum_{k=1}^m S_k$$

$$= (m+1)(S_m + a_{m+1}) - \sum_{k=1}^m S_k$$

$$= \boxed{(m+1)} S_m + \boxed{(m+1)^3} - \sum_{k=1}^m S_k$$

$$= \sum_{k=1}^m k^3 + (m+1)^3$$

$$= \sum_{k=1}^{m+1} k^3 \text{ 이다.}$$

따라서 $n=m+1$ 일 때도 (*)이 성립한다.
 (i), (ii)에 의하여 주어진 식은 모든 자연수 n 에 대하여 성립한다.

$$f(m) = m+1, \quad g(m) = (m+1)^3$$

$$f(2) + g(1) = 11$$



풀어보기(문제2) 정답 ③

$\frac{1}{\sqrt{2k}} \leq x \leq \frac{1}{\sqrt{k}}$ 인 실수 x 에 대하여

$f(x) = 2\sqrt{x}e^{kx^2}$ 이고 이 값을 한 변의 길이로 갖는 정삼각형의 넓이는

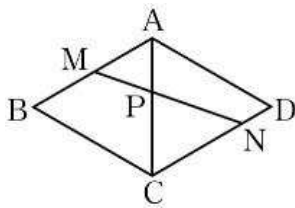
$\frac{\sqrt{3}}{4}(2\sqrt{x}e^{kx^2})^2 = \sqrt{3}xe^{2kx^2}$ 이다.

따라서 입체 도형의 부피는

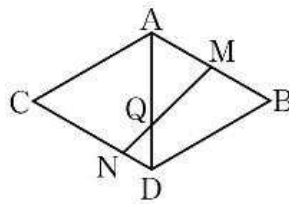
$$\int_{\frac{1}{\sqrt{2k}}}^{\frac{1}{\sqrt{k}}} \sqrt{3}xe^{2kx^2} dx = \frac{\sqrt{3}}{4k} \int_{\frac{1}{\sqrt{2k}}}^{\frac{1}{\sqrt{k}}} 4kx \cdot e^{2kx^2} dx = \frac{\sqrt{3}}{4k} [e^{2kx^2}]_{\frac{1}{\sqrt{2k}}}^{\frac{1}{\sqrt{k}}} = \frac{\sqrt{3}}{4k} (e^2 - e) = \sqrt{3} (e^2 - e)$$

그러므로 $k = \frac{1}{4}$ 이다.

풀어보기(문제3) 정답 ②



[그림 1]



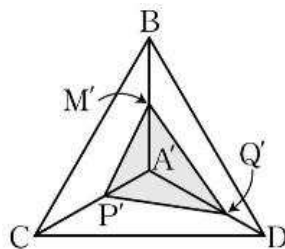
[그림 2]

[그림 1]과 같이 네 점 A, B, C, D가 한 평면에 있도록 전개하면 조건을 만족하는 점 P는 선분 AC와 선분 MN이 만나는 점이다.

사각형 ABCD는 평행사변형이므로 $\overline{AB} \parallel \overline{CD}$ 이다.

따라서 삼각형 AMP와 삼각형 CNP는 닮음이고 $\overline{AM} = \frac{1}{2}$, $\overline{CN} = \frac{3}{4}$ 이므로 점 P는 선분 AC를 2:3으로 내분하는 점이다.

같은 방법으로 [그림 2]에서 점 Q는 선분 AD를 2:1로 내분하는 점임을 알 수 있다.



네 점 A, M, P, Q의 평면 BCD 위로의 정사영을 각각 A', M', P', Q'이라 하면 점

M' 은 선분 $A'B$ 의 중점이고, 점 P' 은 선분 $A'C$ 를 2:3으로 내분하는 점이고, 점 Q' 은 선분 $A'D$ 를 2:1로 내분하는 점이다.

이때 점 A' 은 정삼각형 BCD 의 무게중심이므로

$$\overline{A'B} = \overline{A'C} = \overline{A'D} = \frac{2}{3} \times \frac{\sqrt{3}}{2} \times \overline{BC} = \frac{\sqrt{3}}{3} \text{ 이고, } \overline{A'M'} = \frac{1}{2} \overline{A'B} = \frac{\sqrt{3}}{6},$$

$$\overline{A'P'} = \frac{2}{5} \overline{A'C} = \frac{2\sqrt{3}}{15}, \quad \overline{A'Q'} = \frac{2}{3} \overline{A'D} = \frac{2\sqrt{3}}{9}$$

삼각형 $M'P'Q'$ 의 넓이 S 는 세 삼각형 $A'M'P'$, $A'P'Q'$, $A'Q'M'$ 의 넓이의 합이므로

$$S = \frac{1}{2} \times \sin \frac{2}{3} \pi \times \left(\frac{\sqrt{3}}{6} \times \frac{2\sqrt{3}}{15} + \frac{2\sqrt{3}}{15} \times \frac{2\sqrt{3}}{9} + \frac{2\sqrt{3}}{9} \times \frac{\sqrt{3}}{6} \right) = \frac{\sqrt{3}}{15}$$

[문항1] 대학발표 예시답안

(1) n 이 1일 때 위의 부등식이 자명하게 성립한다.

위의 부등식이 $n=k$ 일 때 성립한다고 가정하고, $n=k+1$ 일 때 성립함을 보이자.

$$(1+x)^{k+1} = (1+x)^k(1+x) \geq (1+kx)(1+x) = 1 + (k+1)x + kx^2 \geq 1 + (k+1)x$$

따라서 수학적 귀납법에 의하여 모든 자연수 n 과 $x \geq -1$ 에 대하여 $(1+x)^n \geq 1+nx$ 가 성립한다. 참고로, 위의 전개식에서, 첫 번째 부등식이 성립하는 이유는 $n=k$ 일 때 $(1+x)^k \geq 1+kx$ 라고 가정하였고 $1+x \geq 0$ 이기 때문이며, 두 번째 부등식이 성립하는 이유는 모든 자연수 k 와 실수 x 에 대하여 $kx^2 \geq 0$ 이기 때문이다.

(2) 임의의 자연수 n 에 대하여 $1 \leq \frac{\left(1 + \frac{1}{n+1}\right)^{n+1}}{\left(1 + \frac{1}{n}\right)^n}$ 을 보이자.

$$\begin{aligned} \frac{\left(1 + \frac{1}{n+1}\right)^{n+1}}{\left(1 + \frac{1}{n}\right)^n} &= \frac{\left(1 + \frac{1}{n+1}\right)^{n+1}}{\left(1 + \frac{1}{n}\right)^{n+1}} \cdot \left(1 + \frac{1}{n}\right) = \left(\frac{n+2}{n+1}\right)^{n+1} \cdot \left(1 + \frac{1}{n}\right) \\ &= \left(\frac{n^2 + 2n + 1 - 1}{(n+1)^2}\right)^{n+1} \cdot \left(1 + \frac{1}{n}\right) \\ &= \left(1 + \frac{-1}{(n+1)^2}\right)^{n+1} \cdot \left(1 + \frac{1}{n}\right) \text{ 이고,} \end{aligned}$$

$x = -\frac{1}{(n+1)^2} > -1$ 에 대하여 (1)의 부등식에 의하여

$$\left(1 + \frac{-1}{(n+1)^2}\right)^{n+1} \geq 1 + (n+1) \cdot \frac{-1}{(n+1)^2} = 1 - \frac{1}{n+1} \text{ 이 성립한다. 그러므로}$$



$$\frac{\left(1 + \frac{1}{n+1}\right)^{n+1}}{\left(1 + \frac{1}{n}\right)^n} = \left(1 + \frac{-1}{(n+1)^2}\right)^{n+1} \cdot \left(1 + \frac{1}{n}\right) \geq \left(1 - \frac{1}{n+1}\right) \cdot \left(1 + \frac{1}{n}\right) = \frac{n}{n+1} \cdot \frac{n+1}{n} = 1$$

이 참이고, 부등식 $\left(1 + \frac{1}{n}\right)^n \leq \left(1 + \frac{1}{n+1}\right)^{n+1}$ 이 성립한다.

(별해) x 가 양의 실수일 때 $f(x) = \left(1 + \frac{1}{x}\right)^x = e^{x \ln\left(1 + \frac{1}{x}\right)}$ 가 증가함수임을 보인다.

$f(x)$ 를 미분하면 $f'(x) = e^{x \ln\left(1 + \frac{1}{x}\right)} \left\{ \ln\left(1 + \frac{1}{x}\right) - \frac{1}{x+1} \right\}$ 이고

양의 실수 x 에 대하여 $e^{x \ln\left(1 + \frac{1}{x}\right)} = \left(1 + \frac{1}{x}\right)^x > 0$ 이므로 $f(x)$ 가 증가함수임을 보이려면

$g(x) = \ln\left(1 + \frac{1}{x}\right) - \frac{1}{x+1} \geq 0$ 을 보이면 된다.

$g(x)$ 를 미분하면 양의 실수 x 에 대하여

$g'(x) = \frac{1}{(1+x)^2} - \frac{1}{x(1+x)} = -\frac{1}{x(1+x)^2} < 0$ 이므로 $g(x)$ 는 감소함수이다.

그리고 $\lim_{x \rightarrow \infty} g(x) = \lim_{x \rightarrow \infty} \left\{ \ln\left(1 + \frac{1}{x}\right) - \frac{1}{x+1} \right\} = 0$ 이다.

따라서 임의의 양수 x 에 대하여 $g(x) \geq \lim_{x \rightarrow \infty} g(x) = 0$ 이 성립한다.

그러므로 $f(x)$ 는 증가함수이고 임의의 자연수 n 에 대하여

$f(n) = \left(1 + \frac{1}{n}\right)^n \leq \left(1 + \frac{1}{n+1}\right)^{n+1} = f(n+1)$ 이 참이다.

(3) $n = m$ 인 경우: $1 < 1 + \frac{1}{m}$ 이므로

$\left(1 + \frac{1}{n}\right)^n = \left(1 + \frac{1}{m}\right)^m < \left(1 + \frac{1}{m}\right)^m \cdot \left(1 + \frac{1}{m}\right) = \left(1 + \frac{1}{m}\right)^{m+1}$ 이 성립한다.

$n < m$ 인 경우: $m = n + k$ 이면 (2)의 부등식에 의하여

$\left(1 + \frac{1}{n}\right)^n \leq \left(1 + \frac{1}{n+1}\right)^{n+1} \leq \dots \leq \left(1 + \frac{1}{n+k}\right)^{n+k} = \left(1 + \frac{1}{m}\right)^m$ 이 참이고,

$1 < 1 + \frac{1}{m}$ 이므로 $\left(1 + \frac{1}{n}\right)^n \leq \left(1 + \frac{1}{m}\right)^m < \left(1 + \frac{1}{m}\right)^{m+1}$ 이 성립한다.

$n > m$ 인 경우: $\left(1 - \frac{1}{n}\right)^n$ 에 대하여 (2)의 풀이를 그대로 반복하면

$$\begin{aligned} \frac{\left(1 - \frac{1}{n+1}\right)^{n+1}}{\left(1 - \frac{1}{n}\right)^n} &= \frac{\left(1 - \frac{1}{n+1}\right)^{n+1}}{\left(1 - \frac{1}{n}\right)^{n+1}} \cdot \left(1 - \frac{1}{n}\right) = \left(\frac{n}{n+1}\right)^{n+1} \cdot \left(1 - \frac{1}{n}\right) \\ &= \left(\frac{n^2 - 1 + 1}{n^2 - 1}\right)^{n+1} \cdot \left(1 - \frac{1}{n}\right) \\ &= \left(1 + \frac{1}{n^2 - 1}\right)^{n+1} \cdot \left(1 - \frac{1}{n}\right) \text{ 이고,} \end{aligned}$$

$x = \frac{1}{n^2 - 1} > -1$ 에 대하여 (1)의 부등식에 의하여

$$\left(1 + \frac{1}{n^2 - 1}\right)^{n+1} \geq 1 + (n+1) \cdot \frac{1}{n^2 - 1} = 1 + \frac{1}{n-1} = \frac{n}{n-1} \text{ 이 성립하고}$$

$$\left(1 + \frac{1}{n^2 - 1}\right)^{n+1} \cdot \left(1 - \frac{1}{n}\right) \geq \frac{n}{n-1} \cdot \left(1 - \frac{1}{n}\right) = 1 \text{ 이다.}$$

그러므로 $\left(1 - \frac{1}{n}\right)^n \leq \left(1 - \frac{1}{n+1}\right)^{n+1}$ 이 성립함을 알 수 있다.

$$\text{한편 } \left(1 + \frac{1}{m}\right)^{m+1} = \left(\frac{m+1}{m}\right)^{m+1} = \frac{1}{\left(\frac{m}{m+1}\right)^{m+1}} = \frac{1}{\left(1 - \frac{1}{m+1}\right)^{m+1}} \text{ 이므로 위의 부등식에}$$

$$\text{의하여 } \left(1 + \frac{1}{m}\right)^{m+1} = \frac{1}{\left(1 - \frac{1}{m+1}\right)^{m+1}} \leq \frac{1}{\left(1 - \frac{1}{m}\right)^m} = \left(1 + \frac{1}{m-1}\right)^m \text{ 이 참이다.}$$

그러므로 $n > m$ 이어서 $n = m+k$ 로 주어진다 면,

$$\begin{aligned} \left(1 + \frac{1}{n}\right)^n &< \left(1 + \frac{1}{n}\right)^{n+1} = \left(1 + \frac{1}{m+k}\right)^{m+k+1} \leq \left(1 + \frac{1}{m+k-1}\right)^{m+k} \\ &\leq \left(1 + \frac{1}{m+k-2}\right)^{m+k-1} \leq \dots \leq \left(1 + \frac{1}{m}\right)^{m+1} \end{aligned}$$

이 성립한다.

(4) (2)에 의하여 $x_n = \left(1 + \frac{1}{n}\right)^n$ 은 증가하는 수열이고 x_n 의 극한이 자연상수 e 이다.

그러므로 모든 자연수 n 에 대하여 $2 = x_1 \leq x_n = \left(1 + \frac{1}{n}\right)^n \leq e < 3$ 이 성립한다.

(별해) (2)에 의하여 $x_n = \left(1 + \frac{1}{n}\right)^n$ 은 증가하는 수열이다.

그러므로 모든 자연수 n 에 대하여 $2 = x_1 \leq x_n$ 이 성립한다.

그리고 (3)의 부등식에서 $m=5$ 를 계산하면 $\left(1 + \frac{1}{n}\right)^n < \left(1 + \frac{1}{5}\right)^6 = 2.985984 < 3$ 을 알 수 있다.



[문제2]

- (1) $\overrightarrow{CA_t} = (\vec{c} + t\vec{v}) - \vec{c} = t\vec{v}$ 으로, $t \neq 0$ 의 경우는 이 벡터가 평면 P_t 와 수직이고, 따라서 A_t 는 C 에서 P_t 에 내린 수선의 발이다. C 와 평면 P_t 와의 거리는

$$|t\vec{v}| = |t| |\vec{v}| = |t| \sqrt{1^2 + 1^2 + 1^2} = \sqrt{3} |t| \text{ 이다.}$$

$t=0$ 인 경우, $C=A_t$ 이므로 C 와 P_t 의 거리는 $0 = \sqrt{3} |t|$ 이다.

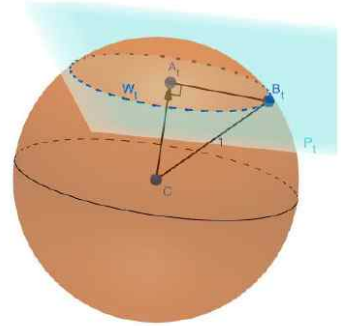
한편, 구 S 상의 임의의 점과 C 와의 거리는 1이다. 따라서

$\sqrt{3} |t| < 1$ 일 때만 구와 평면은 원에서 만난다. 따라서 구하는 범위는 $-\frac{1}{\sqrt{3}} < t < \frac{1}{\sqrt{3}}$ 이다.

S 와 P_t 가 만나 이루는 교선을 W_t 라 하고, B_t 를 W_t 상의 임의의 점이라고 하자. 선분 CA_t 는 P_t 에 수직이므로, 선분 A_tB_t 와도 수직이다. 또한 B_t 는 구 S 상의 점이므로

$\overline{CB_t} = 1$ 이다. $\angle CA_tB_t = \frac{\pi}{2}$ 이므로, 피타고라스 정리에 의해

$\overline{A_tB_t}^2 = \overline{CB_t}^2 - \overline{CA_t}^2 = 1^2 - |\sqrt{3}t|^2 = 1 - 3t^2$ 이다. 즉, A_t 에서 W_t 의 임의의 점까지의 거리가 $\sqrt{1-3t^2}$ 로 일정하므로, 원 W_t 의 중심은 A_t 이고 반지름은 $\sqrt{1-3t^2}$ 이다. 따라서 답은 $f(t) = \sqrt{1-3t^2}$ 이다.



- (2) 직선 l 을 축으로 생각하자. $t \geq 0$ 이면 점 A_t 는 점 C 로부터 벡터 \vec{v} 방향으로 길이 $|\vec{v}| = \sqrt{3} |t|$ 만큼 간 곳에 위치해 있고, $t < 0$ 이면 $-\vec{v}$ 방향으로 길이 $\sqrt{3} |t|$ 만큼 간 곳에 있다. $s = \sqrt{3}t$ 라고 두자. 직선 l 상에서 C 로부터 \vec{v} 방향으로 길이 s 만큼의 위치에 A_t 가 있다고 할 수 있다. s 가 음수이면 반대인 $-\vec{v}$ 방향으로 길이 $|s|$ 만큼 간 것으로 이해한다. 직선 l 상의 이 점 A_t 에서 우리가 부피를 구하고자 하는 영역의 수직 단면은 반지름 $f(t)$ 인 원이므로, 넓이가 $\pi \cdot f(t)^2 = \pi(1-3t^2) = \pi(1-s^2)$ 이다. 영역의 부피는 이 넓이의 식을 범위에 맞게 적분하면 된다.

첫째 영역은 s 가 $\sqrt{3}t$ 에서 1까지 움직일 때이므로 부피가 $\int_{\sqrt{3}t}^1 \pi(1-s^2)ds$ 이고, 계산

하면 $\left[\pi \left(s - \frac{s^3}{3} \right) \right]_{\sqrt{3}t}^1 = \pi \left(\frac{2}{3} - \sqrt{3}t + \sqrt{3}t^3 \right)$ 이다. 나머지 영역은 구의 부피 $\frac{4}{3}\pi$ 에서 첫째 부피를 빼면 된다.

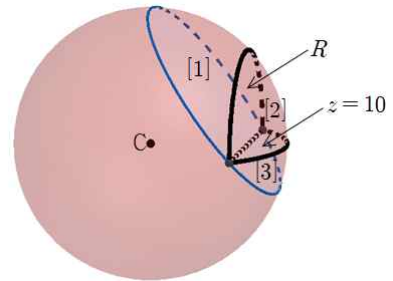
따라서 부피는 각각 $\pi \left(\frac{2}{3} - \sqrt{3}t + \sqrt{3}t^3 \right)$ 과 $\pi \left(\frac{2}{3} + \sqrt{3}t - \sqrt{3}t^3 \right)$ 이다.

(3) $f(t_0) = \sqrt{1-3t_0^2} = \frac{\sqrt{6}}{3}$ 이면 $1-3t_0^2 = \frac{6}{9}$ 이고 $t_0^2 = \frac{1}{9}$ 이므로 $t_0 = \frac{1}{3}$ 이다. ($t_0 > 0$). C와 P_{t_0} 의 거리는 $\overline{CA_{t_0}} = \sqrt{3}|t_0| = \frac{1}{\sqrt{3}}$ 이다. 편의상 $A = A_{t_0}$, $P = P_{t_0}$, $W = W_{t_0}$ 로 표기하자.

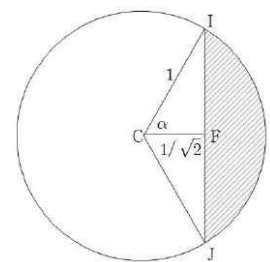
C를 지나는 평면 $z=10$ 과 평면 P 의 교선을 m 이라 하고, 점 A에서 m 에 내린 수선의 발을 F라고 하자. 선분 AF는 평면 P 에 속해 있으며 선분 CF는 $z=10$ 평면에 속해 있고, 두 선분이 모두 m 에 수직이므로, 선분 AF와 선분 CF의 사잇각은 평면 P 와 $z=10$ 평면의 이면각 θ 와 같다. 평면 $z=10$ 의 법선벡터 $(0, 0, 1)$ 과 평면 P 의 법선벡터 $(1, 1, 1)$ 을 이용하면 $\cos\theta = \frac{(0, 0, 1) \cdot (1, 1, 1)}{|(0, 0, 1)| |(1, 1, 1)|} = \frac{1}{\sqrt{3}}$ 을 얻는다.

\overline{CA} 와 $\cos\theta$, $\sin\theta = \sqrt{1-\cos^2\theta} = \frac{\sqrt{2}}{\sqrt{3}}$ 를 이용하면 $\overline{CF} = \frac{1}{\sqrt{2}}$, $\overline{AF} = \frac{1}{\sqrt{6}}$ 을 얻는다. 구 S 와 평면 $z=10$ 의 교선은 C를 중심으로 하고 반지름이 1인 원 U 이고, $\overline{CF} = \frac{1}{\sqrt{2}} < 1$ 이므로, 그림과 같이 평면 $z=10$ 상에서 F가 U 의 내부에 위치한다.

직선 m 을 포함하며 평면 $z=10$ 에 수직인 평면을 R 라 하자. xy 평면으로의 정사영의 넓이를 구하고자 하는 구의 조각은 평면 $z=10$ 과 평면 R 에 의해서 세 부분 [1], [2], [3]으로 그림과 같이 나뉜다. [3]의 정사영은 [2]의 정사영에 포함된다. [2]의 정사영은 [2]의 밑면에 해당하는 활꼴 도형의 정사영과 같으며, [1]의 정사영은 [1]의 밑면에 해당하는 활꼴 도형의 정사영과 같다.



[2] 부분의 밑면은 원 U 내부에서 그림의 빗금친 부분이다. 직선 m 과 이 원의 교점들을 I, J라 하자. $\angle ICF = \alpha$ 라고 두면, $\cos\alpha = \frac{1}{\sqrt{2}}$ 로부터 $\alpha = \frac{\pi}{4}$ 를 얻는다. 따라서 각 2α 에 해당하는



부채꼴 CIJ의 넓이는 $\pi \cdot 1^2 \cdot \frac{2\alpha}{2\pi} = \frac{\pi}{4}$ 이다. $\overline{FI} = \sin\alpha = \frac{1}{\sqrt{2}}$ 이며,

$\angle JCF = \alpha$ 이므로 $\overline{JF} = \sin\alpha = \frac{1}{\sqrt{2}}$ 이다. 따라서 삼각형 CIJ의 넓이는

$\frac{2}{\sqrt{2}} \cdot \frac{1}{\sqrt{2}} \cdot \frac{1}{2} = \frac{1}{2}$ 이고, 구하고자 하는 활꼴의 넓이는 $\frac{\pi}{4} - \frac{1}{2}$ 이다. 한편 평면 $z=10$ 은

xy 평면과 평행이므로, [2]의 밑면의 xy 평면으로의 정사영의 넓이 역시 $\frac{\pi}{4} - \frac{1}{2}$ 이다.

[1]의 밑면은 원 W 의 내부에서 그림의 빗금친 부분이다.



$\angle IAF = \angle JAF = \beta$ 라고 두면, $\cos \beta = \frac{\frac{1}{\sqrt{6}}}{\frac{\sqrt{6}}{3}} = \frac{1}{2}$ 이므로

$\beta = \frac{\pi}{3}$ 이다. 각도 $2\pi - 2\beta$ 에 해당하는 부채꼴 AIJ의 넓이는

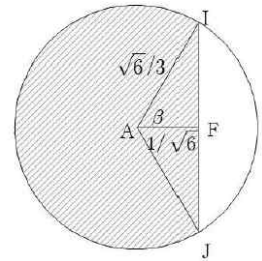
$\pi \left(\frac{\sqrt{6}}{3}\right)^2 \cdot \frac{2\pi - 2 \cdot \frac{\pi}{3}}{2\pi} = \frac{4}{9}\pi$ 이다. $\overline{IJ} = \frac{2}{\sqrt{2}} = \sqrt{2}$ 이므로 삼각형 AIJ

의 넓이는 $\sqrt{2} \cdot \frac{1}{\sqrt{6}} \cdot \frac{1}{2} = \frac{\sqrt{3}}{6}$ 이고, 따라서 빗금친 부분의 넓이는 $\frac{4}{9}\pi + \frac{\sqrt{3}}{6}$ 이다. 평

면 P와 xy평면의 이면각 θ 에 대하여 $\cos \theta = \frac{1}{\sqrt{3}}$ 이 성립하므로,

$$\begin{aligned} ([1] \text{의 밑면의 } xy \text{ 평면으로의 정사영의 넓이}) &= ([1] \text{의 밑면의 넓이}) \cdot \cos \theta \\ &= \left(\frac{4}{9}\pi + \frac{\sqrt{3}}{6}\right) \cdot \frac{1}{\sqrt{3}} \end{aligned}$$

답은 [2]의 정사영의 넓이와 [1]의 정사영의 넓이의 합인 $\pi\left(\frac{1}{4} + \frac{4\sqrt{3}}{27}\right) - \frac{1}{3}$ 이다.



[문제3]

(1) 먼저 y축의 점이고 선분 I의 양 끝점을 선택하여 $\theta = \frac{\pi}{6}$ 가 되도록 하는 점

$(0, \pm m, 0) (m > 0)$ 을 찾으면 m이 밑면의 길이가 10이고 두 밑각이 $\frac{5\pi}{12}$ 인 이등변

삼각형의 높이이다. 꼭짓점 $(0, m, 0)$ 은 $\tan \frac{5\pi}{12} = \frac{m}{5}$ 을 만족한다. 탄젠트 함수의 덧셈 공식에 따라

$$m = 5 \tan \frac{5\pi}{12} = 5 \tan \left(\frac{\pi}{4} + \frac{\pi}{6} \right) = 5 \left(\frac{\tan \frac{\pi}{4} + \tan \frac{\pi}{6}}{1 - \tan \frac{\pi}{4} \tan \frac{\pi}{6}} \right) = 5 \left(\frac{\sqrt{3} + 1}{\sqrt{3} - 1} \right)$$

이다.

y축의 점 $(0, a, 0) (|a| > 5 \left(\frac{\sqrt{3} + 1}{\sqrt{3} - 1} \right))$ 을 선택하면 선분 I의 양 끝점을 선택하였을 때

θ 가 가장 큰 각이 되고 점 $(0, a, 0)$ 과 선분 I의 양 끝점이 두 밑각이 $\frac{5\pi}{12}$ 보다 큰 이등변 삼각형이 되므로 집합 J의 원소가 아니다.

y축의 점 $(0, a, 0) (0 < |a| < 5 \left(\frac{\sqrt{3} + 1}{\sqrt{3} - 1} \right))$ 을 선택하면 답음꼴의 성질을 활용하여 높이

가 $|a|$ 이고 두 밑각이 $\frac{5\pi}{12}$ 인 이등변 삼각형이 되는 선분의 두 점 $\left(\frac{-|a|(\sqrt{3}-1)}{\sqrt{3}+1}, 0, 0\right), \left(\frac{|a|(\sqrt{3}-1)}{\sqrt{3}+1}, 0, 0\right)$ 을 선분 I 에서 선택할 수 있다.

따라서 구하는 집합 J 는 $J = \left\{ (0, y, 0) \mid 0 < |y| \leq 5\left(\frac{\sqrt{3}+1}{\sqrt{3}-1}\right) \right\}$ 이고

$\mathcal{J} \cup \{(0, 0, 0)\}$ 의 나타내는 그림의 길이는 $10\left(\frac{\sqrt{3}+1}{\sqrt{3}-1}\right)$ 이다.

- (2) yz 평면과 선분 I 를 포함하는 x 축이 수직이므로 yz 평면의 한 점 $(0, a, b)$ 와 x 축의 선분 I 의 두 점에 대한 $\theta = \frac{\pi}{6}$ 에 관한 문제는 $(0, a, b)$ 를 x 축을 중심으로 회전하여 y 축의 점으로 옮겨서 문제(1)과 같이 풀 수 있다.

따라서 집합 $S = \left\{ (0, a, b) \mid 0 < a^2 + b^2 \leq 25\left(\frac{\sqrt{3}+1}{\sqrt{3}-1}\right)^2 \right\}$ 이다.

그러므로 $S \cup \{(0, 0, 0)\}$ 의 넓이는 $25\left(\frac{\sqrt{3}+1}{\sqrt{3}-1}\right)^2 \pi$ 이다.

- (3) 먼저 선분 I 의 양 끝점을 선택하여 $\theta = \frac{\pi}{6}$ 가 되도록 하는 xy 평면의 점들을 찾으면 원

주각의 성질에 의하여 선분 I 를 현으로 하고 원주각이 $\frac{\pi}{6}$ 가 되는 원위의 점들이다.

중심각이 $\frac{\pi}{3}$ 이므로 구하는 원은 반지름이 10이고 중심이 $(0, \pm 5\sqrt{3}, 0)$ 이다. 따라서 대응되는 점들의 집합은

$B = \{(x, y, 0) \mid x^2 + (y - 5\sqrt{3})^2 = 10^2, y > 0\} \cup \{(x, y, 0) \mid x^2 + (y + 5\sqrt{3})^2 = 10^2, y < 0\}$ 이고 집합 B 의 모든 원소가 U 에 속한다.

xy 평면의 점 중에서 $B \cup \{(-5, 0, 0), (5, 0, 0)\}$ 외부의 한 점을 잡으면 선분 I 의 양 끝점을 잡을 때 θ 가 가장 크고 집합 $B \cup \{(-5, 0, 0), (5, 0, 0)\}$ 의 밖에 있으므로 원주각의 성질에 따라 $\theta < \frac{\pi}{6}$ 이다. 따라서 이들 점은 집합 U 의 원소가 아니다.

xy 평면의 점 중에서 $B \cup \{(-5, 0, 0), (5, 0, 0)\}$ 의 내부에 있고 선분 밖에 있는 점의 집합은

$C = \{(x, y, 0) \mid x^2 + (y - 5\sqrt{3})^2 < 10^2, y > 0\} \cup \{(x, y, 0) \mid x^2 + (y + 5\sqrt{3})^2 < 10^2, y < 0\}$ 이다.

이제 집합 C 의 임의의 한 점 $(\alpha, \beta, 0)$ ($\beta > 0$)이 집합 U 의 원소인 것을 다음과 같이 보인다. 닮음꼴을 활용하면 이 점이 반지름이 $10l$ 이고 중심이 $(0, 5\sqrt{3}l, 0)$ 인 xy 평면의 원의 점이고 선분 I 의 두 점 $(-5l, 0, 0), (5l, 0, 0)$ 을 현의 끝점으로 할 때 원주



각이 $\frac{\pi}{6}$ 가 됨을 알 수 있다. 주어진 조건의 l 이

$0 < l < 1$ 인 것을 확인하기 위하여 원의 방정식 $\alpha^2 + (\beta - 5\sqrt{3}l)^2 = (10l)^2$ 을 풀어서

$f(l) = 25l^2 + 10\sqrt{3}\beta l - (\alpha^2 + \beta^2)$ 가 $0 < l < 1$ 인 근을 가지는 것을 보이기로 한다.

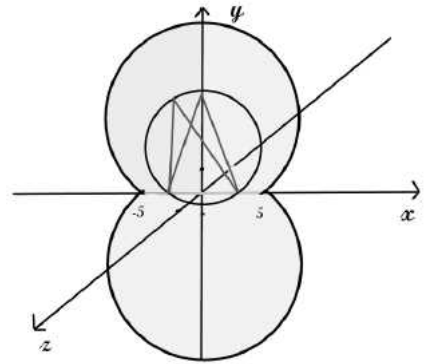
$f(0) = -(\alpha^2 + \beta^2) < 0$ 이고 점 $(\alpha, \beta, 0)$ ($\beta > 0$)가 집합 C 의 원소이므로

$f(1) = 25 + 10\sqrt{3}\beta - (\alpha^2 + \beta^2) = 10^2 - \alpha^2 - (\beta - 5\sqrt{3})^2 > 0$ 이다.

따라서 $0 < l < 1$ 인 근이 존재한다. 같은 이유로 C 의 한 점 $(\alpha, \beta, 0)$ ($\beta < 0$)도 U 의 원소이다. 따라서 구하는 집합 U 는 집합 $B \cup C$ 이다. 집합 $U \cup I$ 는 위 그림처럼 나타

나며 반지름 10이고 원주각 $\frac{5\pi}{3}$ 인 부채꼴 두 개와 한 변의 길이가 10인 정삼각형이 두 개 있는 모양으로 분해할 수 있다. 따라서

$$2\left(\frac{1}{2}10^2\frac{5\pi}{3} + \frac{1}{2}\frac{\sqrt{3}}{2}10^2\right) = 100\left(\frac{5\pi}{3} + \frac{\sqrt{3}}{2}\right) \text{이다.}$$



27 이화여자대학교(자연계열 I) 수시27) ...

핵심개념 및 용어	수능 최저기준	출제 분야	시험 시간
극대, 최댓값, 미분, 적분, 지수함수, 삼각함수, 연속성, 합성함수, 일대일대응, 부정적분, 도함수, 원, 내분점	국어, 수학(가), 영어, 과탐 중 3개 영역 등급 합 6 이내 [탐구영역] 응시한 과목 중 상위 1과목의 등급으로 반영	수학 3문항	100분

[문항 1] 닫힌구간 $[0, \pi]$ 에서 정의된 함수 $f(x) = e^x \sin x$ 가 있다. $f(x)$ 가 $x = \theta$ 에서 최댓값 M 을 가질 때 다음 물음에 답하시오.(35점)

[1-1] θ 와 M 의 값을 구하시오.

[1-2] $n \geq 4$ 인 모든 자연수 n 에 대하여 다음 등식이 성립함을 보이시오.

$$f\left(\theta + \frac{1}{n}\pi\right) = Me^{\frac{1}{n}\pi} \left(\cos \frac{1}{n}\pi - \sin \frac{1}{n}\pi \right)$$

[1-3] $n \geq 4$ 인 모든 자연수 n 에 대하여 다음 부등식이 성립함을 보이시오.

$$M^n e^\pi \left(\cos \frac{1}{n}\pi - \sin \frac{1}{n}\pi \right)^n \frac{1}{n}\pi < \int_0^\pi \{f(x)\}^n dx < M^n \pi$$

[1-4] $\lim_{n \rightarrow \infty} \left(\int_0^\pi \{f(x)\}^n dx \right)^{\frac{1}{n}} = M$ 임을 보이시오.

(단, n 은 4이상의 자연수 이고, $\lim_{n \rightarrow \infty} n^{\frac{1}{n}} = 1$ 이다.)



[문항 2] 정의역과 공역이 실수 전체의 집합이며 일대일대응인 함수 $f(x)$ 가 모든 실수 a, b 에 대하여 다음 등식을 만족시킨다.

$$f(a+f(b))=f(a)+b$$

다음 물음에 답하시오.(35점)

[2-1] $f(0)$ 의 값을 구하고, 모든 실수 b 에 대하여 $f(f(b))=b$ 임을 보이시오.

[2-2] 함수 $f(x)$ 가 $x=0$ 에서 연속일 때, $f(x)$ 가 실수 전체의 집합에서 연속임을 보이시오.

[2-3] 함수 $f(x)$ 가 $x=0$ 에서 미분가능할 때, $f(x)$ 가 실수 전체의 집합에서 미분가능함을 보이고, 함수 $f(x)$ 를 모두 구하시오.

[문항 3] 좌표평면에서 두 집합 $A = \{(-3, t) \mid -3 \leq t \leq 3\}$ 과

$B = \{(3\cos\theta + 6, 3\sin\theta) \mid 0 \leq \theta < 2\pi\}$ 에 대하여 다음 물음에 답하시오.(30점)

[3-1] 좌표평면 위의 한 점 $P(a, b)$ 와 집합 B 의 임의의 점 Q 에 대하여 선분 PQ 를 1:2로 내분하는 점을 원소로 하는 집합이 원을 나타냄을 보이고, 이 원의 중심을 a, b 에 대한 식으로 나타내고 반지름의 길이를 구하시오.
(단, 점 P 는 집합 B 의 원소가 아니다.)

[3-2] 집합 A 의 임의의 점 P 와 점 $C(6, 0)$ 에 대하여 선분 PC 를 1:2로 내분하는 점을 원소로 하는 집합을 구하시오.

[3-3] 집합 A 의 임의의 점 P 와 집합 B 의 임의의 점 Q 에 대하여 선분 PQ 를 1:2로 내분하는 점이 나타내는 영역의 넓이를 구하시오.

풀어보기

문제1. 열린구간 $(0, 2\pi)$ 에서 정의된 함수 $f(x) = e^x(\sin x + \cos x)$ 의 극댓값을 M , 극솟값을 m 이라 할 때, Mm 의 값은? (2013. 4월 전국연합)

- ① $-e^{2\pi}$ ② $-e^\pi$ ③ $\frac{1}{e^{3\pi}}$ ④ $\frac{1}{e^{2\pi}}$ ⑤ $\frac{1}{e^\pi}$

문제2. 두 함수 $f(x) = \begin{cases} ax & (x < 1) \\ -3x+4 & (x \geq 1) \end{cases}$, $g(x) = 2^x + 2^{-x}$ 에 대하여 합성함수 $(g \circ f)(x)$ 가 실수 전체의 집합에서 연속이 되도록 하는 모든 실수 a 의 값의 곱은? (2015. 6월 평가원)

- ① -5 ② -4 ③ -3 ④ -2 ⑤ -1

문제3. 실수 전체의 집합에서 미분가능한 두 함수 $f(x)$, $g(x)$ 에 대하여 함수 $h(x)$ 를 $h(x) = (f \circ g)(x)$ 라 하자.

$$\lim_{x \rightarrow 1} \frac{g(x)+1}{x-1} = 2, \quad \lim_{x \rightarrow 1} \frac{h(x)-2}{x-1} = 12$$

일 때, $f(-1) + f'(-1)$ 의 값은? (2019. 10월 전국연합)

- ① 4 ② 5 ③ 6 ④ 7 ⑤ 8

문제4. 함수 $f(x)$ 가 $x > -1$ 인 모든 실수 x 에 대하여 부등식

$$\ln(1+x) \leq f(x) \leq \frac{1}{2}(e^{2x}-1) \text{ 을 만족시킬 때, } \lim_{x \rightarrow 0} \frac{f(3x)}{x} \text{ 의 값은? (2012. 6월 평가원)}$$

- ① 1 ② e ③ 3 ④ 4 ⑤ $2e$



풀어보기(문제1) 정답 ①

$$f'(x) = 2e^x \cos x = 0 \quad (0 < x < 2\pi) \text{에서 } x = \frac{\pi}{2} \text{ 또는 } x = \frac{3}{2}\pi \text{이다.}$$

함수 $f(x)$ 의 증감표는 다음과 같다.

x	(0)	...	$\frac{\pi}{2}$...	$\frac{3}{2}\pi$...	(2π)
$f'(x)$		+	0	-	0	+	
$f(x)$		↗	$e^{\frac{\pi}{2}}$	↘	$-e^{\frac{3}{2}\pi}$	↗	

함수 $f(x)$ 는 $x = \frac{\pi}{2}$ 에서 극댓값 $M = e^{\frac{\pi}{2}}$, $x = \frac{3}{2}\pi$ 에서 극솟값 $m = -e^{\frac{3}{2}\pi}$ 을 갖는다.
따라서 $Mm = -e^{2\pi}$

풀어보기(문제2) 정답 ⑤

$$(g \circ f)(1) = g(1) = \frac{5}{2}$$

$$\lim_{x \rightarrow 1^+} (g \circ f)(x) = g(1) = \frac{5}{2}, \quad \lim_{x \rightarrow 1^-} (g \circ f)(x) = g(a) = 2^a + 2^{-a}$$

$(g \circ f)(x)$ 가 $x=1$ 에서 연속이므로

$$(g \circ f)(1) = \lim_{x \rightarrow 1^+} (g \circ f)(x) = \lim_{x \rightarrow 1^-} (g \circ f)(x)$$

그러므로 $2^a + 2^{-a} = \frac{5}{2}$ 이다.

$$2 \cdot 2^{2a} - 5 \cdot 2^a + 2 = 0$$

$$(2 \cdot 2^a - 1)(2^a - 2) = 0$$

$$2^a = \frac{1}{2}, 2$$

$$a = -1, 1$$

그러므로 모든 실수 a 의 곱은 -1 이다.

풀어보기(문제3) 정답 ⑤

$$\lim_{x \rightarrow 1} \frac{g(x)+1}{x-1} = 2 \text{에서 } x \rightarrow 1 \text{일 때 (분모)} \rightarrow 0 \text{이면 (분자)} \rightarrow 0 \text{이므로}$$

$$\lim_{x \rightarrow 1} \{g(x) + 1\} = g(1) + 1 = 0, \quad g(1) = -1,$$

$$\lim_{x \rightarrow 1} \frac{g(x) + 1}{x - 1} = \lim_{x \rightarrow 1} \frac{g(x) - g(1)}{x - 1} = g'(1) = 2$$

$\lim_{x \rightarrow 1} \frac{h(x) - 2}{x - 1} = 12$ 에서 $x \rightarrow 1$ 일 때 (분모) $\rightarrow 0$ 이면 (분자) $\rightarrow 0$ 이므로

$$\lim_{x \rightarrow 1} \{h(x) - 2\} = h(1) - 2 = 0, \quad h(1) = 2,$$

$$\lim_{x \rightarrow 1} \frac{h(x) - 2}{x - 1} = \lim_{x \rightarrow 1} \frac{h(x) - h(1)}{x - 1} = h'(1) = 12$$

$h(x) = (f \circ g)(x)$ 에서 $x = 1$ 일 때 $h(1) = f(g(1)) = f(-1) = 2$

$h'(x) = f'(g(x))g'(x)$ 에서 $x = 1$ 일 때 $h'(1) = f'(g(1))g'(1) = f'(-1) \times 2 = 12$

즉 $f'(-1) = 6$

따라서 $f(-1) + f'(-1) = 2 + 6 = 8$

풀어보기(문제4) 정답 ③

$x > 0$ 일 때

$$\frac{\ln(1+3x)}{x} \leq \frac{f(3x)}{x} \leq \frac{\frac{1}{2}(e^{6x} - 1)}{x}$$

이고 $-1 < x < 0$ 일 때

$$\frac{\ln(1+3x)}{x} \geq \frac{f(3x)}{x} \geq \frac{\frac{1}{2}(e^{6x} - 1)}{x}$$

이므로

$$\lim_{x \rightarrow 0} \frac{f(3x)}{x} = 3$$



[문항1] 대학발표 예시답안

[1-1] 함수 $f(x) = e^x \sin x$ 를 미분하면 $f'(x) = e^x \sin x + e^x \cos x = e^x (\sin x + \cos x)$ 이고,

$x = \frac{3}{4}\pi$ 에서만 $f'(x) = 0$ 이다. $x < \frac{3}{4}\pi$ 에서 $f'(x) > 0$ 이므로 이 구간에서 $f(x)$ 가 증가하고 $x > \frac{3}{4}\pi$ 에서 $f'(x) < 0$ 이므로 이 구간에서 $f(x)$ 가 감소한다. 그러므로 $f(x)$ 는 $x = \frac{3}{4}\pi$ 에서 최댓값 $f\left(\frac{3}{4}\pi\right) = e^{\frac{3}{4}\pi} \sin \frac{3}{4}\pi = e^{\frac{3}{4}\pi} \frac{1}{\sqrt{2}}$ 을 가진다.

따라서 $\theta = \frac{3}{4}\pi$ 이고 $M = e^{\frac{3}{4}\pi} \frac{1}{\sqrt{2}}$ 이다.

[1-2] [1-1]에 의해 $\theta = \frac{3}{4}\pi$ 이고 $M = e^{\frac{3}{4}\pi} \frac{1}{\sqrt{2}}$ 이므로 지수함수의 성질과 삼각함수의 덧셈 정리에 의하여 아래의 등식을 얻는다.

$$\begin{aligned} f\left(\theta + \frac{1}{n}\pi\right) &= e^{\theta + \frac{1}{n}\pi} \sin\left(\theta + \frac{1}{n}\pi\right) \\ &= e^{\theta + \frac{1}{n}\pi} \left\{ \sin\theta \cos \frac{1}{n}\pi + \cos\theta \sin \frac{1}{n}\pi \right\} \\ &= e^{\frac{3}{4}\pi} \cdot e^{\frac{1}{n}\pi} \left\{ \frac{1}{\sqrt{2}} \cos \frac{1}{n}\pi - \frac{1}{\sqrt{2}} \sin \frac{1}{n}\pi \right\} \\ &= \frac{1}{\sqrt{2}} e^{\frac{3}{4}\pi} \cdot e^{\frac{1}{n}\pi} \left\{ \cos \frac{1}{n}\pi - \sin \frac{1}{n}\pi \right\} \\ &= M \cdot e^{\frac{1}{n}\pi} \left\{ \cos \frac{1}{n}\pi - \sin \frac{1}{n}\pi \right\} \end{aligned}$$

[1-3] $x \in [0, \pi]$ 에 대하여 $0 \leq f(x) \leq M$ 이므로 $0 \leq \{f(x)\}^n \leq M^n$ 이 성립하고 $f(x)$ 가 상수함수가 아니므로, 구간 $[0, \pi]$ 에서 적분하면

$$\int_0^\pi \{f(x)\}^n dx < \int_0^\pi M^n dx = M^n \pi$$

이다.

$n \geq 4$ 일 때, $\frac{3}{4}\pi < \frac{3}{4}\pi + \frac{1}{n}\pi \leq \pi$ 이고 $f(x)$ 가 구간 $\left[\frac{3}{4}\pi, \pi\right]$ 에서 감소하므로 구간

$\left[\frac{3}{4}\pi, \frac{3}{4}\pi + \frac{1}{n}\pi\right]$ 에 속한 x 에 대하여 $f(\pi) \leq f\left(\frac{3}{4}\pi + \frac{1}{n}\pi\right) \leq f(x)$ 이다.

따라서

$$0 \leq M e^{\frac{1}{n}\pi} \left(\cos \frac{1}{n}\pi - \sin \frac{1}{n}\pi \right) \leq f(x)$$

가 성립한다. 구간 $\left[\frac{3}{4}\pi, \frac{3}{4}\pi + \frac{1}{n}\pi \right]$ 에서

$$\left\{ M e^{\frac{1}{n}\pi} \left(\cos \frac{1}{n}\pi - \sin \frac{1}{n}\pi \right) \right\}^n = M^n e^{\pi} \left(\cos \frac{1}{n}\pi - \sin \frac{1}{n}\pi \right)^n \leq \{f(x)\}^n$$

이므로 위의 부등식을 적분하면

$$M^n e^{\pi} \left(\cos \frac{1}{n}\pi - \sin \frac{1}{n}\pi \right)^n \frac{1}{n}\pi = \int_{\frac{3}{4}\pi}^{\frac{3}{4}\pi + \frac{1}{n}\pi} M^n e^{\pi} \left(\cos \frac{1}{n}\pi - \sin \frac{1}{n}\pi \right)^n dx \leq \int_{\frac{3}{4}\pi}^{\frac{3}{4}\pi + \frac{1}{n}\pi} \{f(x)\}^n dx$$

가 성립한다. 그리고 구간 $\left[\frac{3}{4}\pi, \frac{3}{4}\pi + \frac{1}{n}\pi \right]$ 가 $[0, \pi]$ 의 부분집합이고 $f(x) \geq 0$ 이므로

$$\int_{\frac{3}{4}\pi}^{\frac{3}{4}\pi + \frac{1}{n}\pi} \{f(x)\}^n dx < \int_0^{\pi} \{f(x)\}^n dx$$

가 성립한다. 위의 두 부등식으로부터

$$M^n e^{\pi} \left(\cos \frac{1}{n}\pi - \sin \frac{1}{n}\pi \right)^n \frac{1}{n}\pi < \int_0^{\pi} \{f(x)\}^n dx$$

를 얻는다. 그러므로 $n \geq 4$ 에 대하여

$$M^n e^{\pi} \left(\cos \frac{1}{n}\pi - \sin \frac{1}{n}\pi \right)^n \frac{1}{n}\pi < \int_0^{\pi} \{f(x)\}^n dx < M^n \pi$$

가 성립한다.

[별해]

$$M^n e^{\pi} \left(\cos \frac{1}{n}\pi - \sin \frac{1}{n}\pi \right)^n = \left\{ f \left(\frac{3}{4}\pi + \frac{1}{n}\pi \right) \right\}^n \text{ 이다.}$$

$n \geq 4$ 에 대하여 $y = \{f(x)\}^n$ 의 도함수는

$$\begin{aligned} y' &= n \{f(x)\}^{n-1} \cdot f'(x) \\ &= n \cdot e^{nx} \sin^n x + n \cdot e^{nx} \sin^{(n-1)} x \cos x \\ &= n \cdot e^{nx} \sin^{(n-1)} x (\sin x + \cos x) \end{aligned}$$

이고, $y' = 0$ 이면 $x = 0, \frac{3}{4}\pi, \pi$ 이다.

$0 \leq x \leq \pi$ 에서 $y = \{f(x)\}^n$ 의 증가, 감소를 알아보기 위해 y' 의 부호를 표로 만들면

x	0	...	$\frac{3}{4}\pi$...	π
y'	0	+	0	-	0
y	0	↗ 또는 증가	M^n	↘ 또는 감소	0



이므로 $y = \{f(x)\}^n$ 는 구간 $[0, \pi]$ 에서 $x = \frac{3}{4}\pi$ 일 때 최댓값 M^n 을 가진다.

구간 $[0, \pi]$ 에서 $y = \{f(x)\}^n$ 의 그래프와 x 축으로 둘러싸인 부분은 밑변이 $[0, \pi]$ 이고 높이가 M^n 인 직사각형에 포함되므로

$$\int_0^{\pi} \{f(x)\}^n dx < \int_0^{\pi} M^n dx = M^n \pi$$

가 성립한다.

$M^n e^{\pi} \left(\cos \frac{1}{n} \pi - \sin \frac{1}{n} \pi \right)^n \frac{1}{n} \pi$ 는 밑변이 구간 $\left[\frac{3}{4}\pi, \frac{3}{4}\pi + \frac{1}{n}\pi \right]$ 이고

높이가 $M^n e^{\pi} \left(\cos \frac{1}{n} \pi - \sin \frac{1}{n} \pi \right)^n = \left\{ f \left(\frac{3}{4}\pi + \frac{1}{n}\pi \right) \right\}^n$ 인 직사각형의 넓이이다.

이 직사각형은 함수 $y = \{f(x)\}^n$ 의 그래프와 x 축으로 둘러싸인 부분에 포함되어 있으므로

$$M^n e^{\pi} \left(\cos \frac{1}{n} \pi - \sin \frac{1}{n} \pi \right)^n \frac{1}{n} \pi < \int_0^{\pi} \{f(x)\}^n dx$$

가 성립한다.

[1-4] 문항 [1-3]의 부등식

$$M^n e^{\pi} \left(\cos \frac{1}{n} \pi - \sin \frac{1}{n} \pi \right)^n \frac{1}{n} \pi < \int_0^{\pi} \{f(x)\}^n dx < M^n \pi$$

에 $\sqrt[n]{\quad}$ 를 적용하면

$$\left(M^n e^{\pi} \left(\cos \frac{1}{n} \pi - \sin \frac{1}{n} \pi \right)^n \frac{1}{n} \pi \right)^{\frac{1}{n}} < \left(\int_0^{\pi} \{f(x)\}^n dx \right)^{\frac{1}{n}} < (M^n \pi)^{\frac{1}{n}} = M \cdot \pi^{\frac{1}{n}}$$

이다. 위 부등식의 왼쪽 부분을 정리하면

$$\left(M^n e^{\pi} \left(\cos \frac{1}{n} \pi - \sin \frac{1}{n} \pi \right)^n \frac{1}{n} \pi \right)^{\frac{1}{n}} = M e^{\frac{\pi}{n}} \left(\cos \frac{1}{n} \pi - \sin \frac{1}{n} \pi \right) \frac{1}{n^{\frac{1}{n}}} \pi^{\frac{1}{n}}$$

이므로 위의 부등식을 다시 쓰면

$$M e^{\frac{\pi}{n}} \left(\cos \frac{1}{n} \pi - \sin \frac{1}{n} \pi \right) \frac{1}{n^{\frac{1}{n}}} \pi^{\frac{1}{n}} < \left(\int_0^{\pi} \{f(x)\}^n dx \right)^{\frac{1}{n}} < M \cdot \pi^{\frac{1}{n}}$$

이고, 극한값의 대소관계에 의하여

$$\lim_{n \rightarrow \infty} M e^{\frac{\pi}{n}} \left(\cos \frac{1}{n} \pi - \sin \frac{1}{n} \pi \right) \frac{1}{n^{\frac{1}{n}}} \pi^{\frac{1}{n}} \leq \lim_{n \rightarrow \infty} \left(\int_0^{\pi} \{f(x)\}^n dx \right)^{\frac{1}{n}} \leq \lim_{n \rightarrow \infty} M \cdot \pi^{\frac{1}{n}}$$

이 된다.

여기에서 π 와 e 는 상수이므로

$$\lim_{n \rightarrow \infty} e^{\frac{\pi}{n}} = 1 \text{ 과 } \lim_{n \rightarrow \infty} \pi^{\frac{1}{n}} = 1$$

을 얻고, 또한

$$\lim_{n \rightarrow \infty} \left(\cos \frac{1}{n} \pi - \sin \frac{1}{n} \pi \right) = \cos 0 - \sin 0 = 1$$

이며, 주어진 조건에 의하여

$$\lim_{n \rightarrow \infty} n^{\frac{1}{n}} = 1$$

이다. 그러므로

$$\lim_{n \rightarrow \infty} M e^{\frac{\pi}{n}} \left(\cos \frac{1}{n} \pi - \sin \frac{1}{n} \pi \right) \frac{1}{n^{\frac{1}{n}}} \pi^{\frac{1}{n}} = M$$

이고

$$\lim_{n \rightarrow \infty} M \cdot n^{\frac{1}{n}} = M$$

이다. 따라서 위의 부등식은

$$M \leq \lim_{n \rightarrow \infty} \left(\int_0^{\pi} \{f(x)\}^n dx \right)^{\frac{1}{n}} \leq M$$

이다. 그러므로 $\lim_{n \rightarrow \infty} \left(\int_0^{\pi} \{f(x)\}^n dx \right)^{\frac{1}{n}} = M$ 이다.

[문항2] 대학발표 예시답안

[2-1] 등식 $f(a+f(b))=f(a)+b$ 에 $a=0$ 을 대입하면 모든 실수 b 에 대하여 다음 등식이 성립한다.

$$f(f(b))=f(0)+b$$

이 등식에 $b=0$ 을 대입하면 $f(f(0))=f(0)$ 을 얻는다. $f(0)$ 이 0이 아닌 수 k 라 하면 $f(0)=k$ 이고 $f(f(0))=f(0)$ 에서 $f(k)=k$ 이므로 일대일대응이라는 사실에 모순이다. 따라서 $f(0)=0$ 이다.

이제 $f(0)=0$ 이므로 모든 실수 b 에 대하여 등식 $f(f(b))=f(0)+b=b$ 가 성립함을 알 수 있다.

[2-2] 임의의 실수 a 에 대하여 등식 $\lim_{h \rightarrow 0} f(a+h)=f(a)$ 가 성립하면 함수 $f(x)$ 가 $x=a$ 에
서 연속이다.

임의의 실수 c, d 에 대하여, f 가 일대일대응이므로 $d=f(b)$ 인 실수 b 가 있고, 주어진 등식으로부터

$$f(c+d)=f(c+f(b))=f(c)+b$$



임을 알 수 있다. 그런데 $d=f(b)$ 이므로 문항 [2-1]에 의하여 $f(d)=f(f(b))=b$ 이다. 따라서

$$f(c+d)=f(c)+f(d)$$

이고 이 등식은 모든 실수 c, d 에 대하여 성립한다.

위에서 얻은 등식을 활용하면, 임의의 실수 a 에 대하여

$$\lim_{h \rightarrow 0} f(a+h) = \lim_{h \rightarrow 0} \{f(a)+f(h)\} = f(a) + \lim_{h \rightarrow 0} f(h)$$

이다. $f(x)$ 가 $x=0$ 에서 연속이므로 $\lim_{h \rightarrow 0} f(h) = f(0) = 0$ 이다. 따라서

$$\lim_{h \rightarrow 0} f(a+h) = f(a)$$

이므로 함수 $f(x)$ 가 임의의 실수 $x=a$ 에서 연속이다.

[2-3] 임의의 실수 a 에 대하여 극한 $\lim_{h \rightarrow 0} \frac{f(a+h)-f(a)}{h}$ 가 존재하면 $f(x)$ 가 $x=a$ 에서 미분가능하다.

문항 [2-2]의 풀이에서 $f(a+h)=f(a)+f(h)$ 와 $f(0)=0$ 을 활용하면, $f(x)$ 가 $x=0$ 에서 미분가능하므로

$$\lim_{h \rightarrow 0} \frac{f(a+h)-f(a)}{h} = \lim_{h \rightarrow 0} \frac{f(a)+f(h)-f(a)}{h} = \lim_{h \rightarrow 0} \frac{f(h)}{h} = \lim_{h \rightarrow 0} \frac{f(0+h)-f(0)}{h} = f'(0)$$

이다. 따라서 $f(x)$ 가 $x=a$ 에서 미분가능하고 $f'(a)=f'(0)$ 이다.

$f'(0)$ 을 k 라 두고 도함수 $f'(x)=k$ 를 적분하면 $f(0)=0$ 이므로

$$f(x) = kx$$

이다. 이 식을 등식 $f(a+f(b))=f(a)+b$ 에 대입하면

$$ka+k^2b=ka+b$$

이므로 $k^2=1$ 이다. 즉 $k=1$ 또는 $k=-1$.

따라서 $f(x)=x$ 또는 $f(x)=-x$ 이다.

[문항3] 대학발표 예시답안

[3-1] 좌표평면의 한 점 $P(a, b)$ 와 집합 B 의 임의의 한 점 $Q(3\cos\theta+6, 3\sin\theta)$ 를 이은 선분 PQ 를 1:2로 내분하는 점 (x, y) 를 구하면

$$(x, y) = \left(\frac{2a+(3\cos\theta+6)}{3}, \frac{2b+3\sin\theta}{3} \right)$$

이다. 삼각함수에 대한 식으로 쓰면

$$(\cos\theta, \sin\theta) = \left(x - \frac{2a+6}{3}, y - \frac{2b}{3} \right)$$

이고

$$\left(x - \frac{2a+6}{3} \right)^2 + \left(y - \frac{2b}{3} \right)^2 = \cos^2\theta + \sin^2\theta = 1$$

이므로 중심이 $\left(\frac{2a}{3}+2, \frac{2b}{3}\right)$ 이고 반지름의 길이가 1인 원을 나타낸다.

[3-2] 점 $P(-3, t)$ 와 점 $C(6, 0)$ 을 이은 선분 PC 를 1:2로 내분하는 점을 구하면

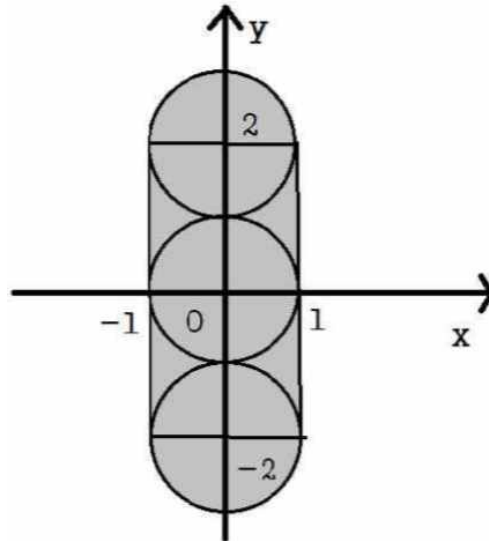
$$\left(\frac{2 \cdot (-3) + 1 \cdot 6}{3}, \frac{2 \cdot t + 1 \cdot 0}{3}\right) = \left(0, \frac{2t}{3}\right)$$

이다. 따라서 구하는 집합은

$$\left\{\left(0, \frac{2}{3}t\right) \mid -3 \leq t \leq 3\right\}$$

이다.

[3-3] 집합 A 의 한 점 $(-3, t)$ 를 정하고 집합 B 의 임의의 점과 이루는 선분을 1:2로 내분하는 점으로 구성된 집합을 S 라 하면 집합 S 는 문항 [3-1]에 따라 중심이 $\left(0, \frac{2}{3}t\right)$ 이고 반지름의 길이가 1인 원을 t 에 의해 모은 영역으로 나타난다. 범위 $-3 \leq t \leq 3$ 에서 중심이 $\left(0, \frac{2}{3}t\right)$ 인 원을 살펴보면 집합 S 의 영역은 아래와 같이 나타난다.



집합 S 가 나타내는 영역은 반지름의 길이가 1인 반원 2개와 변의 길이가 4, 2인 직사각형으로 나누어지므로 집합 S 가 나타내는 영역의 넓이는 $1^2\pi + 4 \cdot 2 = \pi + 8$ 이다.



28

이화여자대학교(자연계열Ⅱ) 수시28



핵심개념 및 용어	수능 최저기준	출제 분야	시험 시간
극대, 최댓값, 미분, 적분, 지수함수, 삼각함수, 연속성, 합성함수, 일대일대응, 부정적분, 도함수, 원, 내분점	국어, 수학(가), 영어, 과탐 중 3개 영역 등급 합 6 이내 [탐구영역] 응시한 과목 중 상위 1과목의 등급으로 반영	수학 3문항	100분

※ [문항 1]은 이화여자대학교(자연계열Ⅰ) [문항 1]과 일치하므로 생략합니다.

[문항 2] 함수 $f(x)$ 가 모든 실수 a, b 에 대하여 다음 등식을 만족시킨다.

$$f(f(a)+b) = a + f(b)$$

다음 물음에 답하시오.(35점)

[2-1] $f(0)$ 의 값을 구하고, 모든 실수 a 에 대하여 $f(f(a)) = a$ 임을 보이시오.

[2-2] 함수 $f(x)$ 가 $x = 2020$ 에서 연속일 때, $f(x)$ 가 실수 전체의 집합에서 연속임을 보이시오.

[2-3] 함수 $f(x)$ 가 $x = 2020$ 에서 미분가능할 때, $f(x)$ 가 실수 전체의 집합에서 미분가능함을 보이고, 함수 $f(x)$ 를 모두 구하시오.

[문항 3] 좌표평면에서 두 집합 $A = \{(5, t) \mid -2 \leq t \leq 2\}$ 과
 $B = \{(3 \cos \theta + 6, 3 \sin \theta) \mid 0 \leq \theta < 2\pi\}$ 에 대하여 다음 물음에 답하시오.(30점)

[3-1] 좌표평면 위의 한 점 $P(a, b)$ 와 집합 B 의 임의의 점 Q 에 대하여 선분 PQ 를 1:2로 내분하는 점을 원소로 하는 집합이 원을 나타냄을 보이고, 이 원의 중심을 a, b 에 대한 식으로 나타내고 반지름의 길이를 구하시오.
 (단, 점 P 는 집합 B 의 원소가 아니다.)

[3-2] 집합 A 의 임의의 점 P 와 점 $C(6, 0)$ 에 대하여 선분 PC 를 1:2로 내분하는 점을 원소로 하는 집합을 구하시오.

[3-3] 집합 A 의 임의의 점 P 와 집합 B 의 임의의 점 Q 에 대하여 선분 PQ 를 1:2로 내분하는 점이 나타내는 영역의 넓이를 구하시오.



[문항2] 대학발표 예시답안

[2-1] 등식 $f(f(a)+b)=a+f(b)$ 에 $b=0$ 을 대입하면

$$f(f(a))=a+f(0)$$

을 얻는다. 이 등식에 $a=0$ 을 대입하면 $f(f(0))=f(0)$ 을 얻는다. 이 등식이 모든 실수 a 에 대하여 성립하므로 $f(0)$ 을 a 에 대입하면

$$f(f(f(0)))=f(0)+f(0)=2f(0)$$

이 성립한다. $f(f(0))=f(0)$ 을 활용하면 $f(f(f(0)))=f(f(0))=f(0)$ 이므로 $f(0)=2f(0)$ 을 얻고 따라서 $f(0)=0$ 이다.

이제 $f(0)=0$ 이므로 모든 실수 a 에 대하여 등식 $f(f(a))=a+f(0)=a$ 가 성립함을 알 수 있다.

[2-2] 임의의 실수 a 에 대하여 등식

$$\lim_{h \rightarrow 0} f(a+h) = f(a)$$

가 성립하면 함수 $f(x)$ 가 $x=a$ 에서 연속이다.

임의의 실수 c, d 에 대하여 $f(c)$ 와 d 를 등식의 a, b 에 각각 대입하면

$$f(f(f(c))+d) = f(c) + f(b)$$

이다. 문항 [2-1]에 의하여 $f(f(c))=c$ 가 성립하므로, $f(f(f(c))+d) = f(c+b)$ 이다. 따라서, 모든 실수 c, d 에 대하여 다음 등식이 성립한다.

$$f(c+d) = f(c) + f(d)$$

위에서 얻은 등식을 활용하면, 임의의 실수 a 에 대하여

$$\begin{aligned} \lim_{h \rightarrow 0} f(a+h) &= \lim_{h \rightarrow 0} f(a-2020+2020+h) \\ &= \lim_{h \rightarrow 0} \{f(a-2020) + f(2020+h)\} \\ &= f(a-2020) + \lim_{h \rightarrow 0} f(2020+h) \end{aligned}$$

임을 알 수 있다.

$f(x)$ 가 $x=2020$ 에서 연속이므로 $\lim_{h \rightarrow 0} f(2020+h) = f(2020)$ 이다. 따라서

$$\lim_{h \rightarrow 0} f(a+h) = f(a-2020) + f(2020) = f(a)$$

이므로 함수 $f(x)$ 가 임의의 실수 $x=a$ 에서 연속이다.

[2-3] 임의의 실수 a 에 대하여 극한

$$\lim_{h \rightarrow 0} \frac{f(a+h) - f(a)}{h}$$

가 존재하면 $f(x)$ 가 $x=a$ 에서 미분가능하다.

문항 [2-2]의 풀이에서 $f(c+d) = f(c) + f(d)$ 를 활용하면

$$\lim_{h \rightarrow 0} \frac{f(a+h) - f(a)}{h} = \lim_{h \rightarrow 0} \frac{f(a) + f(h) - f(a)}{h} = \lim_{h \rightarrow 0} \frac{f(h)}{h}$$

이다. 위 등식은 특별히 $a=2020$ 일 때에도 성립하므로

$$\lim_{h \rightarrow 0} \frac{f(2020+h) - f(2020)}{h} = \lim_{h \rightarrow 0} \frac{f(h)}{h}$$

이다. $f(x)$ 가 $x=2020$ 에서 미분가능하므로 좌변의 극한이 존재하고 극한값은

$f'(2020)$ 이며, 따라서 우변의 극한도 $\lim_{h \rightarrow 0} \frac{f(h)}{h} = f'(2020)$ 이다. 그러므로

$$\lim_{h \rightarrow 0} \frac{f(a+h) - f(a)}{h} = \lim_{h \rightarrow 0} \frac{f(h)}{h} = f'(2020)$$

이다. 따라서 $f(x)$ 가 $x=a$ 에서 미분가능하고 $f'(a) = f'(2020)$ 이다.

$f'(2020)$ 을 k 라고 두고 도함수 $f'(x) = k$ 를 적분하면 $f(0) = 0$ 이므로

$$f(x) = kx$$

이다. 이 식을 등식 $f(f(a)+b) = a+f(b)$ 에 대입하면

$$k^2a + kb = a + kb$$

이므로 $k^2 = 1$ 이다. 즉 $k=1$ 또는 $k=-1$.

따라서 $f(x) = x$ 또는 $f(x) = -x$ 이다.

[문항3] 대학발표 예시답안

[3-1] 좌표평면의 한 점 $P(a, b)$ 와 집합 B 의 임의의 한 점 $Q(3\cos\theta + 6, 3\sin\theta)$ 를 이은 선분 PQ 를 1:2로 내분하는 점 (x, y) 를 구하면

$$(x, y) = \left(\frac{2a + (3\cos\theta + 6)}{3}, \frac{2b + 3\sin\theta}{3} \right)$$

이다. 삼각함수에 대한 식으로 쓰면

$$(\cos\theta, \sin\theta) = \left(x - \frac{2a+6}{3}, y - \frac{2b}{3} \right)$$

이고

$$\left(x - \frac{2a+6}{3} \right)^2 + \left(y - \frac{2b}{3} \right)^2 = \cos^2\theta + \sin^2\theta = 1$$

이므로 중심이 $\left(\frac{2a}{3} + 2, \frac{2b}{3} \right)$ 이고 반지름의 길이가 1인 원을 나타낸다.



[3-2] 점 $P(5, t)$ 와 점 $C(6, 0)$ 을 이은 선분 PC 를 1:2로 내분하는 점을 구하면

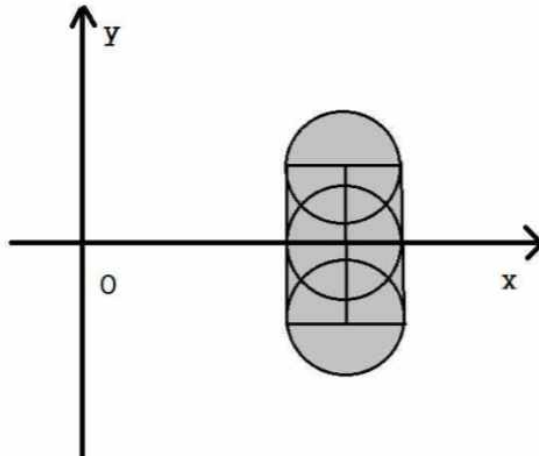
$$\left(\frac{2 \cdot 5 + 1 \cdot 6}{3}, \frac{2 \cdot t + 1 \cdot 0}{3} \right) = \left(\frac{16}{3}, \frac{2t}{3} \right)$$

이다. 따라서 구하는 집합은

$$\left\{ \left(\frac{16}{3}, \frac{2}{3}t \right) \mid -2 \leq t \leq 2 \right\}$$

이다.

[3-3] 집합 A 의 한 점 $(5, t)$ 를 정하고 집합 B 의 임의의 점과 이루는 선분을 1:2로 내분하는 점으로 구성된 집합을 S 라 하면 집합 S 는 문항 [3-1]에 따라 중심이 $\left(\frac{16}{3}, \frac{2}{3}t \right)$ 이고 반지름의 길이가 1인 원을 t 에 의해 모은 영역으로 나타난다. 범위 $-2 \leq t \leq 2$ 에서 중심이 $\left(\frac{16}{3}, \frac{2}{3}t \right)$ 인 원을 살펴보면 집합 S 의 영역은 아래와 같이 나타난다.



집합 S 가 나타내는 영역은 반지름의 길이가 1인 반원 2개와 변의 길이가 $\frac{8}{3}$, 2인 직사각형으로 나누어지므로 집합 S 가 나타내는 영역의 넓이는 $1^2\pi + \frac{8}{3} \cdot 2 = \pi + \frac{16}{3}$ 이다.