

제 4 교시

사회탐구 영역 (한국지리)

성명		수험번호				3				제 [] 선택
----	--	------	--	--	--	---	--	--	--	----------

1. 다음 자료는 수행 평가 보고서의 일부이다. (가)에 들어갈 내용으로 가장 적절한 것은?

< 주제 : 생활 속의 (가) >

- (가) 이해하기 : 환경을 이용하여 발생하는 혜택, 피해 등이 균등하게 배분되지 않는 것
- 그림으로 표현해 본 (가)

A 지역 주민은 B 지역에서 발전한 전기로 편리한 생활을 하고 있지만, 전력 생산으로 인한 피해는 B 지역 주민이 받고 있다.

A 지역 주민은 C 지역으로 쓰레기를 보내 깨끗한 환경에서 생활하지만, 쓰레기 매립으로 인한 피해는 C 지역 주민이 받고 있다.

생활이 편리하고 깨끗한 A 지역

대기 오염이 심한 B 지역

쓰레기 매립장과 가까운 C 지역

- ① 펌피 현상
- ② 파급 효과
- ③ 환경 불평등
- ④ 도시 재개발
- ⑤ 젠트리피케이션

2. 다음 자료의 (가) 섬에 대한 설명으로 옳지 않은 것은?

팔도총도에는 동해 가운데에 울릉도와 (가) 이가 우리나라 영토로 표시되어 있다. 일본에서 제작한 삼국점양지도는 울릉도와 (가) 을/를 조선과 같은 색으로 나타내고, 조선의 영토로 표현하였다.

<팔도총도>

<삼국점양지도>

- ① 신생대 화산 활동으로 형성되었다.
- ② 천연 보호 구역으로 지정되어 있다.
- ③ 우리나라 영토의 최동단에 해당한다.
- ④ 우리나라에서 일출 시각이 가장 늦다.
- ⑤ 통상 기선을 적용하여 영해를 설정한다.

3. 다음 자료의 (가) 현상이 지속될 경우 한반도에 나타날 변화에 대한 추론으로 가장 적절한 것은?

최근 지구적 차원에서 해수면이 상승하고 있다. 해수면 상승 요인에는 (가)에 따른 바닷물의 열팽창과 극지방에서 빙하가 녹아내리는 현상 등이 있다. 한편, 우리나라는 1989~2018년에 해수면이 매년 약 2.97mm 높아져, 지난 30년 동안 해수면이 약 89.1mm 높아졌다.

<1989~2018년 해수면 상승 추이>

- ① 난대림 북한계선이 북상한다.
- ② 하천의 결빙 일수가 증가한다.
- ③ 열대야 발생 일수가 감소한다.
- ④ 봄꽃의 개화 시기가 늦어진다.
- ⑤ 고산 식물 분포의 고도 하한선이 낮아진다.

4. 다음 자료의 ㉠~㉢에 대한 옳은 설명만을 <보기>에서 고른 것은? [3점]

geography ...

울릉도는 대부분 ㉠경사가 급한 산지로 이루어져 있습니다. 사진은 울릉도에서 가장 넓은 평지인 ㉡나리 분지의 모습입니다.

좋아요 댓글 달기 공유하기

geography ...

㉢동해에 위치한 울릉도는 해양성 기후의 특징이 나타납니다. 사진은 ㉢우데기가 있는 울릉도의 전통 가옥 모습입니다.

좋아요 댓글 달기 공유하기

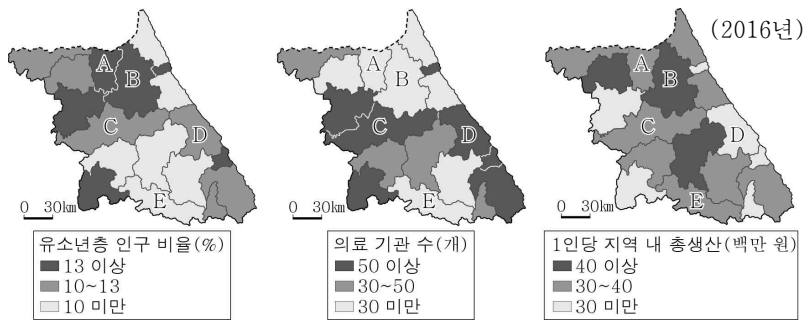
- < 보 기 >
- ㉠. ㉠ - 유동성이 큰 현무암질 용암의 분출로 형성되었다.
 - ㉡. ㉡ - 분화구의 함몰로 형성되었다.
 - ㉢. ㉢ - 내륙에 위치한 홍천보다 기온의 연교차가 크다.
 - ㉣. ㉣ - 겨울철 많은 눈에 대비한 시설이다.

- ① ㉠, ㉡
- ② ㉠, ㉢
- ③ ㉡, ㉣
- ④ ㉡, ㉣
- ⑤ ㉢, ㉣

한국지리

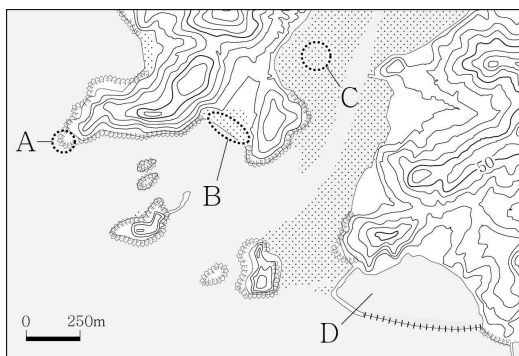
5. 다음 자료를 토대로 하나의 지역을 선택하여 어린이 의료 지원 센터를 만들고자 한다. 가장 적합한 지역을 지도의 A~E에서 고른 것은? (단, 합산 점수가 가장 높은 지역을 선택함.) [3점]

유소년층 인구 비율(%)	점수	의료 기관 수(개)	점수	1인당 지역 내 총생산(백만 원)	점수
13 이상	2	50 이상	1	40 이상	1
13 미만	1	50 미만	2	40 미만	2



- ① A ② B ③ C ④ D ⑤ E

6. 지도의 A~D에 대한 옳은 설명만을 <보기>에서 고른 것은?

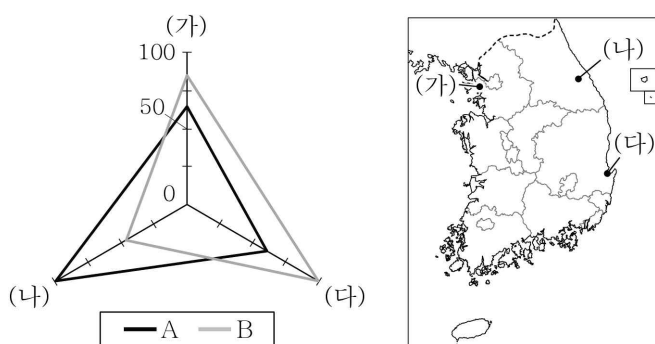


< 보 기 >

- ㄱ. B는 만보다 곳에 주로 발달해 있다.
- ㄴ. D는 후빙기 해수면 상승 이후 형성된 석호이다.
- ㄷ. A는 C보다 파랑에 의한 침식 작용이 활발하다.
- ㄹ. B는 C보다 퇴적 물질의 평균 입자 크기가 크다.

- ① ㄱ, ㄴ ② ㄱ, ㄷ ③ ㄴ, ㄹ
 ④ ㄴ, ㄹ ⑤ ㄷ, ㄹ

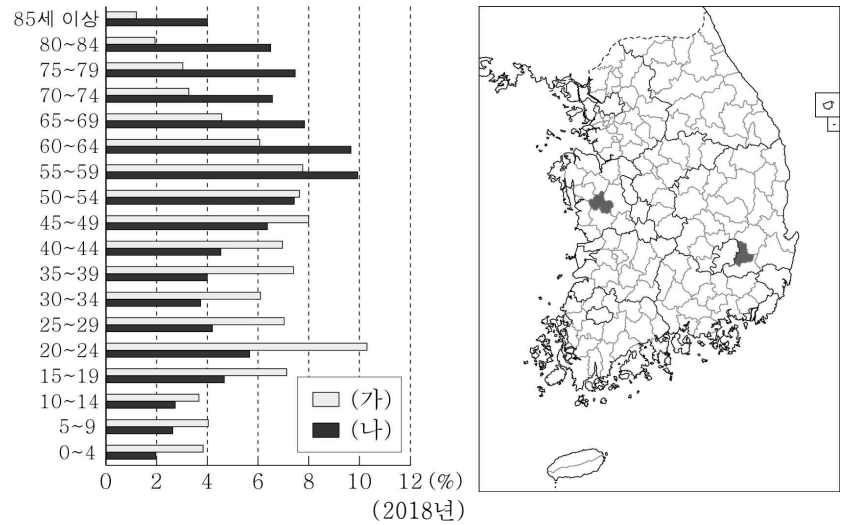
7. 그래프는 지도에 표시된 (가)~(다) 지역의 상대적 기후 특징을 나타낸 것이다. A, B 기후 지표로 옳은 것은? [3점]



* 기후 지표별 최대 지역의 값을 100으로 했을 때의 상대값임.
 ** 1981~2010년의 평년값임.

- | | A | B |
|---|-----------|-----------|
| ① | 연 강수량 | 연평균 기온 |
| ② | 연 강수량 | 겨울 강수 집중률 |
| ③ | 연평균 기온 | 연 강수량 |
| ④ | 연평균 기온 | 겨울 강수 집중률 |
| ⑤ | 겨울 강수 집중률 | 연평균 기온 |

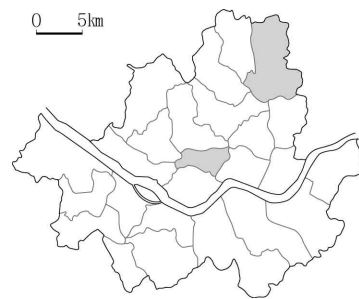
8. 그래프는 지도에 표시된 두 지역의 인구 구조를 나타낸 것이다. (가), (나) 지역에 대한 설명으로 옳은 것은? [3점]



- ① (가)는 (나)보다 중위 연령이 높다.
 ② (가)는 (나)보다 주택 유형 중 아파트 비율이 높다.
 ③ (나)는 (가)보다 인구 밀도가 높다.
 ④ (나)는 (가)보다 3차 산업 종사자 수가 많다.
 ⑤ (가)는 충청 지방, (나)는 영남 지방에 속한다.

9. 다음은 도시 내부 구조에 관한 수업 장면의 일부이다. (가)와 비교한 (나) 지역의 상대적 특징으로 옳은 것은? (단, (가), (나)는 각각 지도에 표시된 두 지역 중 하나임.)

교사: 지도에 표시된 두 지역의 특징을 발표해 볼까요?



- 갑: (가)는 도시 내에서 접근성이 좋아 토지 이용 집약도가 높습니다. 대기업 본사, 금융 기관, 백화점 등이 입지해 있고, 고층 건물이 밀집해 있습니다.
 을: (나)는 대규모 아파트 단지가 조성되어 있어 상주인구가 많습니다. 슈퍼마켓, 스포츠 센터 등의 생활 편의 시설이 많이 입지해 있고, 녹지 공간을 보존하기 위해 개발 제한 구역으로 설정된 곳이 있습니다.

- ① 주간 인구 지수가 높다.
 ② 초등학교 학생 수가 많다.
 ③ 상업 용지의 평균 지가가 높다.
 ④ 거주자의 평균 통근 거리가 가깝다.
 ⑤ 생산자 서비스업 사업체 수가 많다.

10. 다음 글의 ㉠~㉣에 대한 옳은 설명만을 <보기>에서 있는 대로 고른 것은?

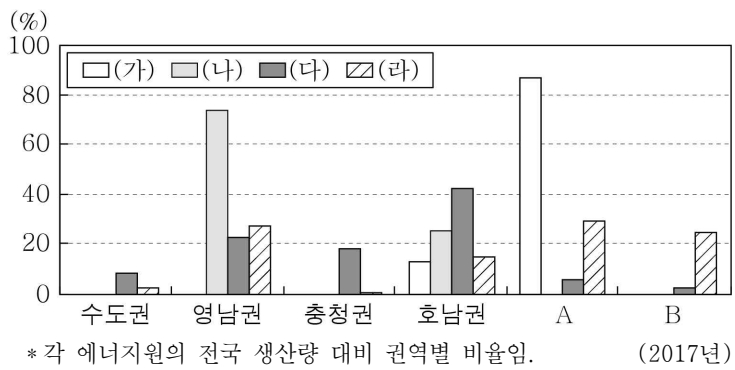
우리나라 하천은 ㉠ 계절에 따른 유량 변동이 심하고, 세계의 대하천보다 하상계수가 큰 편이다. ㉡ 규모가 큰 하천은 대부분 황해와 남해로 흐른다. 두만강을 제외하고 동해로 흐르는 하천은 황해나 남해로 흐르는 대하천보다 ㉢. 한편, 황해나 남해로 흐르는 하천 하구 부근에서는 ㉣ 밀물 때 바닷물이 역류하는 감소 구간이 나타나기도 한다.

< 보 기 >

ㄱ. ㉠으로 인해 우리나라는 하천 교통 발달에 불리하다.
 ㄴ. ㉡은 경동 지형의 특성이 반영된 것이다.
 ㄷ. ㉢에는 '유로가 길고 경사가 완만하다'가 들어갈 수 있다.
 ㄹ. ㉣로 인한 피해를 막기 위한 시설물에는 하굿둑이 있다.

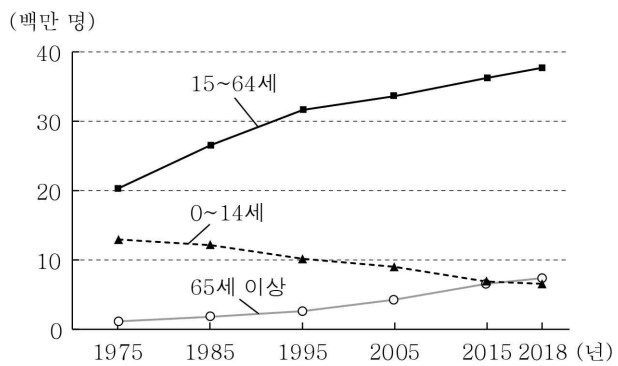
- ① ㄱ, ㄴ ② ㄱ, ㄷ ③ ㄷ, ㄹ
 ④ ㄱ, ㄴ, ㄹ ⑤ ㄴ, ㄷ, ㄹ

11. 그래프는 (가)~(라) 에너지의 권역별 생산량 비율을 나타낸 것이다. 이에 대한 설명으로 옳은 것은? (단, (가)~(라)는 각각 석탄, 풍력, 원자력, 태양광 중 하나임.) [3점]



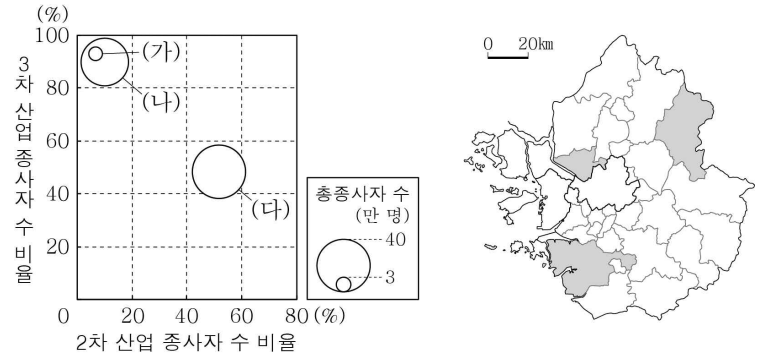
- ① A는 제주권, B는 강원권이다.
 ② (가)는 (라)보다 고갈 가능성이 낮다.
 ③ (나)는 (가)보다 상업적으로 이용된 시기가 이른다.
 ④ (다)는 (나)보다 발전 시 기후의 제약을 많이 받는다.
 ⑤ (라)는 (다)보다 2017년 전국 생산량이 많다.

12. 그래프는 우리나라의 연령층별 인구 변화를 나타낸 것이다. 이에 대한 설명으로 옳은 것은? [3점]



- ① 1975년에는 출산 장려 정책이 추진되었다.
 ② 2018년에는 노령화 지수가 100 이상이다.
 ③ 1975년은 2018년보다 총인구가 많다.
 ④ 2018년은 1975년보다 유소년 부양비가 높다.
 ⑤ 1975~2018년 청장년층 인구 비율은 지속적으로 감소하였다.

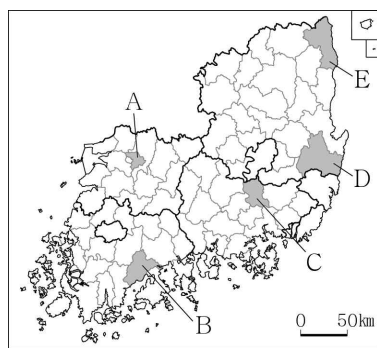

13. 그래프는 지도에 표시된 세 지역에 관한 것이다. (가)~(다) 지역에 대한 설명으로 옳은 것은? [3점]



* 2, 3차 산업 종사자 수 비율은 원의 중심값임. (2016년)

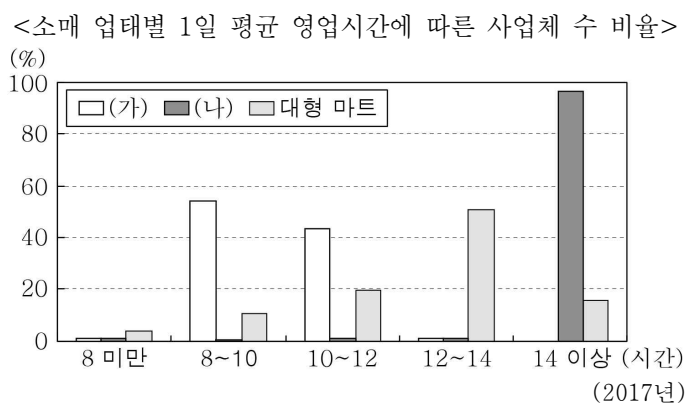
- ① (가)에는 수도권 1기 신도시가 있다.
 ② (가)는 (나)보다 서울로의 통근·통학 인구가 많다.
 ③ (가)는 (다)보다 다문화 가구 수가 많다.
 ④ (나)는 (다)보다 제조업 출하액이 많다.
 ⑤ (다)는 (나)보다 청장년층 인구의 성비가 높다.

14. 다음 자료의 (가) 지역을 지도의 A~E에서 고른 것은?



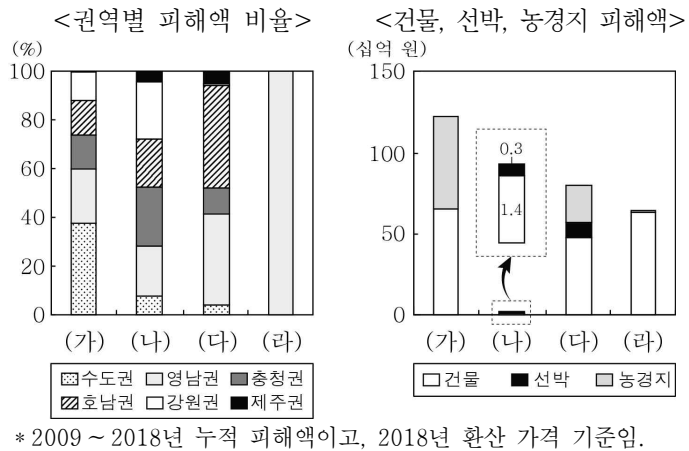
- ① A
 ② B
 ③ C
 ④ D
 ⑤ E

15. 그래프의 (가), (나) 소매 업체에 대한 설명으로 옳은 것은? (단, (가), (나)는 각각 백화점, 편의점 중 하나임.)



- ① (가)는 대형 마트보다 고가 제품의 판매 비율이 낮다.
 ② (나)는 대형 마트보다 사업체당 매출액 규모가 크다.
 ③ (가)는 (나)보다 사업체 간 평균 거리가 멀다.
 ④ (가)는 (나)보다 사업체당 1일 이용자 수가 적다.
 ⑤ 전국 사업체 수는 (가) > 대형 마트 > (나) 순으로 많다.

16. 그래프의 (가)~(라) 자연재해에 대한 설명으로 옳은 것은?
(단, (가)~(라)는 각각 대설, 지진, 태풍, 호우 중 하나임.) [3점]



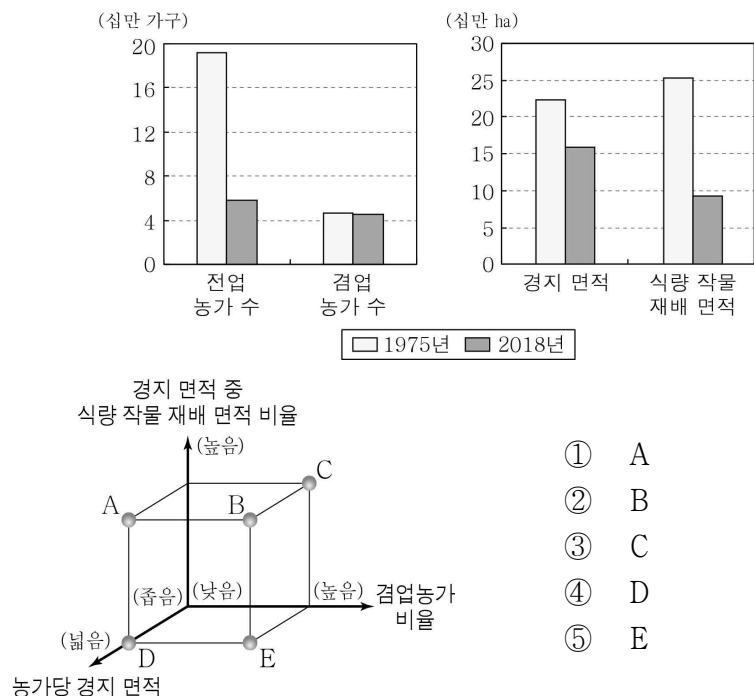
- ① (가)는 여름철보다 겨울철에 발생 빈도가 높다.
- ② (나)는 장마 전선이 정체할 때 주로 발생한다.
- ③ (라)는 강풍과 많은 비를 동반하여 풍수해를 유발한다.
- ④ (다)는 (나)보다 해일 피해를 유발하는 경우가 많다.
- ⑤ 우리나라 연 강수량에서 차지하는 비율은 (나)가 (가)보다 높다.

17. 다음 자료의 (가)~(다) 지역에 대한 설명으로 옳은 것은?
(단, (가)~(다)는 각각 부산, 안동, 춘천 중 하나임.)

(가)	(나)	(다)
# 경춘선 # 침식 분지 # 소양호, 의암호 # 닭갈비, 막국수	# 헛제사밥 # 세계 문화유산 # 전통 고택 체험 # 하회별신굿탈놀이	# 해운대 # 자갈치 시장 # 국제 영화제 # 제1의 무역항

- ① (가)에는 원자력 발전소가 입지해 있다.
- ② (나)는 강원 지방에 속한다.
- ③ (다)는 도청 소재지이다.
- ④ (가)는 (다)보다 중심지 기능이 다양하다.
- ⑤ (다)는 (나)보다 지역 내 총생산이 많다.

18. 그래프는 우리나라 농업의 변화를 나타낸 것이다. 1975년과 비교한 2018년의 상대적 특징을 그림의 A~E에서 고른 것은?



- ① A
- ② B
- ③ C
- ④ D
- ⑤ E

19. 다음 자료의 ㉠~㉣에 대한 설명으로 옳은 것은? [3점]

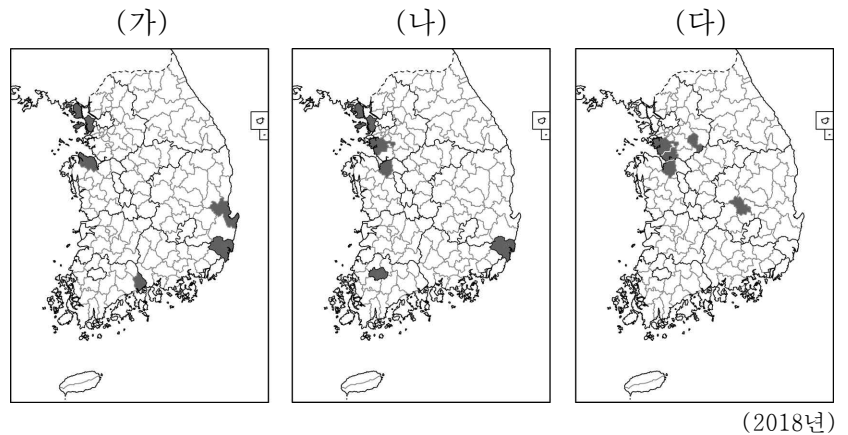
‘다양한 지형과 관광’ 프로그램 제작 계획

○ 주요 촬영 내용

- 기암괴석이 우뚝 솟아 있는 ㉠ 북한산을 찾은 등산객
- ㉡ 감입 곡류 하천에서 급류 타기를 즐기는 관광객
- ㉢ 지리산 둘레길을 걷는 탐방객
- ㉣ 공룡 발자국 화석지를 방문한 관람객
- 다각형 기둥 모양의 ㉤ 주상 절리를 찾은 관광객

- ① ㉠의 주된 기반암은 화강암이다.
- ② ㉡은 자유 곡류 하천보다 유로 변경이 활발하다.
- ③ ㉢은 주로 고생대 조선 누층군에서 발견된다.
- ④ ㉣은 ㉤보다 산 정상부의 식생 밀도가 높다.
- ⑤ ㉣의 주된 기반암은 ㉤의 주된 기반암보다 한반도에 넓게 분포한다.

20. 지도는 세 제조업의 출하액 상위 5개 지역을 나타낸 것이다. (가)~(다) 제조업에 대한 설명으로 옳은 것은? (단, (가)~(다)는 각각 1차 금속, 자동차 및 트레일러, 전자 부품·컴퓨터·영상·음향 및 통신 장비 제조업 중 하나임.) [3점]



- ① (가)는 관련 산업이 집적하는 계열화된 조립형 공업이다.
- ② (나)는 운송비보다 부가 가치가 큰 입지 자유형 공업이다.
- ③ (가)는 (다)보다 적환지에 입지하는 경향이 크다.
- ④ (다)는 (나)보다 최종 제품의 평균 중량이 무겁다.
- ⑤ (나)에서 생산된 최종 제품은 (가)의 주요 재료로 이용한다.

* 확인 사항

○ 답안지의 해당란에 필요한 내용을 정확히 기입(표기)했는지 확인하시오.