

2021



매쓰메딕

수1 평가원

기출 모음 (197 문항)

Part.2

# 4.

## 등차수열과 등비수열

평가원 94문항



1번

자연수  $n$  의 모든 양의 약수를  $a_1, a_2, \dots, a_k$  라 할 때,

$$x_n = (-1)^{a_1} + (-1)^{a_2} + \dots + (-1)^{a_k}$$

이라 하자. <보기>에서 옳은 것을 모두 고른 것은?

<보기>

ㄱ.  $x_8 = 2$

ㄴ.  $n = 3^m$  이면  $x_n = -m + 1$

ㄷ.  $n = 10^m$  이면  $x_n = m^2 - 1$  이다.

① ㄱ                      ② ㄷ                      ③ ㄱ, ㄴ

④ ㄱ, ㄷ                ⑤ ㄱ, ㄴ, ㄷ

090628나

# 5087

3번

첫째항이 2인 등차수열  $\{a_n\}$ 에 대하여  $a_9 = 3a_3$  일 때,  $a_5$  의 값은?

- ① 10                      ② 11                      ③ 12                      ④ 13                      ⑤ 14

141104가

# 1277

2번

등차수열  $\{a_n\}$  에 대하여  $a_3 = 10, a_2 + a_5 = 24$  일 때,  $a_6$  의 값을 구하시오.

140622가

# 1235

4번

등차수열  $\{a_n\}$  에 대하여

$$a_8 = a_2 + 12, a_1 + a_2 + a_3 = 15$$

일 때,  $a_{10}$  의 값은?

- ① 17                      ② 19                      ③ 21                      ④ 23                      ⑤ 25

170612나

# 1495

5번

첫째항과 공차가 같은 등차수열  $\{a_n\}$  이

$$a_2 + a_4 = 24$$

를 만족시킬 때,  $a_5$  의 값을 구하시오.

180925나

# 1748

7번

등차수열  $\{a_n\}$  에 대하여  $a_1 = 1, a_4 = 7$  일 때,  $a_2 + a_3$  의 값은?

① 5

② 6

③ 7

④ 8

⑤ 9

130903나

# 2056

6번

공차가 7 인 등차수열  $\{a_n\}$  에 대하여  $a_{13} - a_{11}$  의 값은?

① 10

② 12

③ 14

④ 16

⑤ 18

160604나

# 1817

8번

등차수열  $\{a_n\}$  이

$$a_{10} + a_6 = 6, a_{10} - a_6 = -12$$

를 만족시킬 때,  $a_2$  의 값을 구하시오.

130624나

# 2107

9번

등차수열  $\{a_n\}$  에 대하여  $a_3 = 5, a_6 - a_4 = 4$  일 때,  $a_{10}$  의 값을 구하시오.

110918나

# 4927

11번

등차수열  $\{a_n\}$  이  $a_2 + a_4 = 8, a_7 = 52$  를 만족시킬 때, 공차를 구하시오.

101118나

# 4987

10번

네 수  $1, x, y, z$  가 이 순서대로 등차수열을 이루고  $6x + z = 5y$  를 만족시킨다.  $x + y + z$  의 값을 구하시오.

100619나

# 5048

12번

등차수열  $\{a_n\}$  이  $a_2 = 3, a_5 = 24$  일 때,  $a_7$  의 값을 구하시오.

081118나

# 5227

13번

등차수열  $\{a_n\}$ 에 대하여

$$a_5 = 5, a_{15} = 25$$

일 때,  $a_{20}$ 의 값을 구하시오.

190624나

# 6540

15번

등차수열  $\{a_n\}$ 에 대하여  $a_3 = 8, a_6 - a_4 = 12$  일 때,  $a_6$ 의 값을 구하시오.

140622나

# 2015

14번

첫째항이 2인 등차수열  $\{a_n\}$ 에 대하여

$$2(a_2 + a_3) = a_9$$

일 때, 수열  $\{a_n\}$ 의 공차를 구하시오.

161122가

# 1475

16번

등차수열  $\{a_n\}$ 이  $a_2 = 1$  이고,  $a_1 + a_6 = 8$  일 때,  $a_{21}$ 의 값을 구하시오.

120923나

# 2166

17번

첫째항이  $-5$ 이고 공차가  $2$ 인 등차수열  $\{a_n\}$ 에 대하여  $\sum_{k=11}^{20} a_k$ 의 값은?

- ① 260
- ② 255
- ③ 250
- ④ 245
- ⑤ 240

121111나

# 2124

19번

첫째항이  $2$ 인 등차수열  $\{a_n\}$ 이

$$a_7 + a_{11} = 20$$

을 만족시킬 때,  $a_{10}$ 의 값을 구하시오.

160623가

# 1416

18번

공차가 양수인 등차수열  $\{a_n\}$ 에 대하여 이차방정식  $x^2 - 14x + 24 = 0$ 의 두 근이  $a_3, a_8$ 이다.  $\sum_{n=3}^8 a_n$ 의 값은?

- ① 40
- ② 42
- ③ 44
- ④ 46
- ⑤ 48

180615나

# 1708

20번

등차수열  $\{a_n\}$ 이  $\sum_{k=1}^n a_{2k-1} = 3n^2 + n$ 을 만족시킬 때,  $a_8$ 의 값은?

- ① 16
- ② 19
- ③ 22
- ④ 25
- ⑤ 28

151117나

# 1860

21번

첫째항이  $-6$ 이고 공차가  $2$ 인 등차수열의 첫째항부터 제  $n$ 항까지의 합이  $30$ 일 때,  $n$ 의 값을 구하시오.

140522가 외 1회

# 5397

23번

등차수열  $\{a_n\}$ 이

$$a_5 + a_{13} = 3a_9, \quad \sum_{k=1}^{18} a_k = \frac{9}{2}$$

를 만족시킬 때,  $a_{13}$ 의 값은?

- ① 2      ② 1      ③ 0      ④  $-1$       ⑤  $-2$

181114나

# 2247

22번

첫째항이  $6$ 이고 공차가  $d$ 인 등차수열  $\{a_n\}$ 의 첫째항부터 제  $n$ 항까지의 합을  $S_n$ 이라 할 때,

$$\frac{a_8 - a_6}{S_8 - S_6} = 2$$

가 성립한다.  $d$ 의 값은?

- ①  $-1$       ②  $-2$       ③  $-3$       ④  $-4$       ⑤  $-5$

141106나

# 1939

24번

수열  $\{a_n\}$ 이 모든 자연수  $n$ 에 대하여

$$2a_{n+1} = a_n + a_{n+2}$$

를 만족시킨다.  $a_2 = -1, a_3 = 2$ 일 때, 수열  $\{a_n\}$ 의 첫째항부터 제  $10$ 항까지의 합은?

- ① 95      ② 90      ③ 85      ④ 80      ⑤ 75

111126나

# 4965



25번

등차수열  $\{a_n\}$  에 대하여  $a_8 - a_4 = 28$  일 때, 수열  $\{a_n\}$  의 공차를 구하시오.

161122나

# 1775

27번

등차수열  $\{a_n\}$  에 대하여  $a_1 + a_{10} = 22$  일 때,  $\sum_{k=2}^9 a_k$  의 값을 구하시오.

150924나

# 1897

26번

등차수열  $\{a_n\}$  에 대하여  $a_1 = 2, a_3 = 10$  일 때,  $a_5$  의 값은?

- ① 14      ② 15      ③ 16      ④ 17      ⑤ 18

150606나

# 1909

28번

첫째항이 4인 등차수열  $\{a_n\}$ 에 대하여

$$a_{10} - a_7 = 6$$

일 때,  $a_4$ 의 값은?

- ① 10      ② 11      ③ 12      ④ 13      ⑤ 14

191105나

# 8567

29번

등차수열  $\{a_n\}$  이  $a_2 = -2, a_5 = 7$  일 때,  $\sum_{k=1}^{10} a_{2k}$  의 값을 구하시오.

140924가

# 1267

30번

등차수열  $\{a_n\}$ 에 대하여  
 $a_5 = 4a_3, a_2 + a_4 = 4$   
 가 성립할 때,  $a_6$ 의 값은 ?

- ① 5      ② 8      ③ 11      ④ 13      ⑤ 16

061103나

# 6679

31번

등차수열  $\{x_n\}$ 과 이차함수  $f(x) = ax^2 + bx + c$ 에 대하여 <보기>에서 옳은 것을 모두 고른 것은 ?

<보기>

- ㄱ. 수열  $\{f'(x_n)\}$ 은 등차수열이다.
- ㄴ. 수열  $\{f(x_{n+1}) - f(x_n)\}$ 은 등차수열이다.
- ㄷ.  $f(0) = 3, f(2) = 5, f(4) = 9$  이면  $f(6) = 15$  이다.

- ① ㄱ                      ② ㄴ                      ③ ㄱ, ㄷ  
 ④ ㄴ, ㄷ                ⑤ ㄱ, ㄴ, ㄷ

060906가

# 6606

32번

첫째항이 2인 등차수열  $\{a_n\}$ 에서  $\sum_{n=1}^{10} a_n = 200$ 일 때,  $a_{11}$ 의 값을 구하시오.

060918나

# 6640

33번

등차수열  $\{a_n\}$ 에서  $a_1 = 6, a_{10} = -12$ 일 때,  
 $|a_1| + |a_2| + |a_3| + \cdots + |a_{20}|$ 의 값은?

- ① 280                      ② 284                      ③ 288  
 ④ 292                      ⑤ 296

050607가 외 1회

# 6703

35번

공차가 6 인 등차수열  $\{a_n\}$ 에 대하여

$$|a_2 - 3| = |a_3 - 3|$$

일 때,  $a_5$ 의 값은?

- ① 15                      ② 18                      ③ 21                      ④ 24                      ⑤ 27

120606나

# 2209

34번

등차수열  $\{a_n\}$ 에 대하여

$$a_2 = 16, a_5 = 10$$

일 때,  $a_k = 0$ 을 만족시키는  $k$ 의 값을 구하시오.

131123나

# 2046

36번

첫째항이 2인 등차수열  $\{a_n\}$ 에 대하여  $a_4 - a_2 = 4$ 일 때,  $\sum_{k=11}^{20} a_k$   
 의 값을 구하시오.

120623가 외 1회

# 1056

37번

1과 2 사이에  $n$  개의 수를 넣어 만든 등차수열

$$1, a_1, a_2, \dots, a_n, 2$$

의 합이 24일 때,  $n$  의 값은?

- ① 11      ② 12      ③ 13      ④ 14      ⑤ 15

110606나

# 4885

39번

수열  $\{a_n\}$  에 대하여 첫째항부터 제  $n$  항까지의 합을  $S_n$  이라 하자.  
수열  $\{S_{2n-1}\}$  은 공차가  $-3$ 인 등차수열이고, 수열  $\{S_{2n}\}$  은 공차가 2인 등차수열이다.  $a_2 = 1$  일 때,  $a_8$  의 값을 구하십시오.

101130나

# 4999

38번

두 수열  $\{a_n\}, \{b_n\}$  이 모든 자연수  $k$  에 대하여

$$b_{2k-1} = \left(\frac{1}{2}\right)^{a_1+a_3+\dots+a_{2k-1}}$$

$$b_{2k} = 2^{a_2+a_4+\dots+a_{2k}}$$

을 만족시킨다.  $\{a_n\}$  은 등차수열이고,

$$b_1 \times b_2 \times b_3 \times \dots \times b_{10} = 8$$

일 때,  $\{a_n\}$  의 공차는?

- ①  $\frac{1}{15}$       ②  $\frac{2}{15}$       ③  $\frac{1}{5}$       ④  $\frac{4}{15}$       ⑤  $\frac{1}{3}$

100914가 외 1회

# 4593

40번

공차가  $d_1, d_2$  인 두 등차수열  $\{a_n\}, \{b_n\}$  의 첫째항부터 제  $n$  항까지의 합을 각각  $S_n, T_n$  이라 하자.

$$S_n T_n = n^2(n^2 - 1)$$

일 때, <보기>에서 항상 옳은 것을 모두 고른 것은?

<보기>

- ㄱ.  $a_n = n$  이면  $b_n = 4n - 4$  이다.
- ㄴ.  $d_1 d_2 = 4$
- ㄷ.  $a_1 \neq 0$  이면  $a_n = n$  이다.

- ① ㄱ                      ② ㄴ                      ③ ㄱ, ㄴ

- ④ ㄱ, ㄷ                ⑤ ㄱ, ㄴ, ㄷ

090616가 외 1회

# 4715

41번

공차가 2 인 등차수열  $\{a_n\}$  에 대하여

$$a_1 + a_5 + a_9 = 45$$

일 때,  $a_1 + a_{10}$  의 값을 구하시오.

091119나

# 5138

42번

두 수열  $\{a_n\}, \{b_n\}$  에 대하여

$$b_n = \frac{a_1 + 2a_2 + 3a_3 + \dots + na_n}{1 + 2 + \dots + n} \quad (n \geq 1)$$

이 성립한다. 다음은  $\{a_n\}$  이 등차수열이기 위한 필요충분조건은  $\{b_n\}$  이 등차수열임을 증명하는 과정이다.

<증명>

수열  $\{a_n\}$  을 첫째항  $a$ , 공차  $d$  인 등차수열이라 하면,

$$\begin{aligned} b_n &= \frac{a + 2(a + d) + 3(a + 2d) + \dots + n\{a + (n - 1)d\}}{1 + 2 + \dots + n} \\ &= \frac{a(1 + 2 + \dots + n) + d\{2 + 3 \cdot 2 + \dots + n \cdot (n - 1)\}}{1 + 2 + \dots + n} \end{aligned}$$

$$= a + \frac{2d \left\{ \boxed{\text{가}} - \frac{n(n + 1)}{2} \right\}}{n(n + 1)}$$

$$= a + \boxed{\text{나}} \cdot (n - 1)$$

이므로  $\{b_n\}$  은 공차가  $\boxed{\text{나}}$  인 등차수열이다.

역으로  $\{b_n\}$  을 등차수열이라 하면,

$$\begin{aligned} b_{n+1} &= \frac{a_1 + 2a_2 + 3a_3 + \dots + na_n}{1 + 2 + \dots + (n + 1)} \\ &\quad + \frac{(n + 1)a_{n+1}}{1 + 2 + \dots + (n + 1)} \\ &= \boxed{\text{다}} \cdot b_n + \frac{2}{n + 2} a_{n+1} \end{aligned}$$

이므로 수열  $\{a_n\}$  은 등차수열이다.

위의 증명 과정에서 (가), (나), (다)에 알맞은 것은?

- |                                   |                                   |
|-----------------------------------|-----------------------------------|
| (가): $\frac{n(n + 1)(2n + 1)}{6}$ | (가): $\frac{n(n + 1)(2n + 1)}{6}$ |
| ① (나): $\frac{2}{3}d$             | ② (나): $\frac{2}{3}d$             |
| (다): $\frac{n}{n + 2}$            | (다): $\frac{n - 1}{n + 2}$        |
| (가): $\frac{n(n + 1)(2n + 1)}{3}$ | (가): $\frac{n(n + 1)(2n + 1)}{3}$ |
| ③ (나): $\frac{3}{2}d$             | ④ (나): $\frac{2}{3}d$             |
| (다): $\frac{n}{n + 2}$            | (다): $\frac{n}{n + 2}$            |
| (가): $\frac{n(n + 1)(2n + 1)}{3}$ |                                   |
| ⑤ (나): $\frac{3}{2}d$             |                                   |
| (다): $\frac{n + 1}{n + 2}$        |                                   |

070617가 외 1회

# 4446

43번

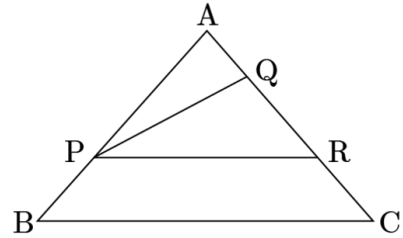
등차수열  $\{a_n\}$  에 대하여  $a_1 + a_3 = 6, a_4 - a_2 = 6$  이 성립할 때,  $a_6$  의 값을 구하시오.

070918나

# 5287

44번

그림과 같이 삼각형 ABC의 변 AB를 2 : 1로 내분하는 내분점을 P로 잡고, 변 AC 위에 두 점 Q, R를 잡자. 삼각형 APQ, PRQ와 사각형 PBCR의 넓이가 차례로 첫째항이  $a$ 이고 공차가  $d$ 인 등차수열을 이룰 때, 다음은  $\frac{CQ}{AR}$ 의 값을  $a$ 와  $d$ 로 나타내는 과정이다.



삼각형 APQ의 넓이는  $a$ 이므로 삼각형 APR의 넓이는  $2a + d$ 가 되어

$$a : 2a + d = \triangle APQ : \triangle APR$$

$$= \frac{1}{2} \overline{AP} \cdot \overline{AQ} \sin A : \frac{1}{2} \overline{AP} \cdot \overline{AR} \sin A$$

가 성립한다. 따라서  $\frac{AQ}{AR} = \frac{a}{2a + d} \dots \textcircled{\ominus}$

같은 방법으로, 삼각형 ABC의 넓이는  $(가)$  이므로

$$a : (가) = \triangle APQ : \triangle ABC$$

$$= \frac{1}{2} \overline{AP} \cdot \overline{AQ} \sin A : \frac{1}{2} \overline{AB} \cdot \overline{AC} \sin A$$

또한 점 P는 변 AB를 2 : 1로 내분하는 내분점이므로

$$\overline{AP} = \frac{2}{3} \overline{AB}$$

따라서  $\frac{AQ}{AC} = (나)$

그러므로  $\frac{CQ}{AQ} = \frac{AC - AQ}{AQ} = (다) \dots \textcircled{\ominus}$

$\textcircled{\ominus}, \textcircled{\ominus}$  에 의해  $\frac{CQ}{AR} = \frac{CQ}{AQ} \cdot \frac{AQ}{AR} = \frac{a + 2d}{2a + d}$

위의 과정에서 (가), (나), (다) 에 알맞은 것은 ?

- |                              |                                 |
|------------------------------|---------------------------------|
| (가) : $a + 2d$               | (가) : $a + 2d$                  |
| ① (나) : $\frac{a}{3(a + d)}$ | ② (나) : $\frac{a + d}{2a + 3d}$ |
| (다) : $\frac{2a + 3d}{a}$    | (다) : $\frac{a + 2d}{a + d}$    |
| (가) : $3(a + d)$             | (가) : $3(a + d)$                |
| ③ (나) : $\frac{a}{2(a + d)}$ | ④ (나) : $\frac{a}{2(a + d)}$    |
| (다) : $\frac{a + 2d}{a + d}$ | (다) : $\frac{a + 2d}{a}$        |
| (가) : $3(a + d)$             |                                 |
| ⑤ (나) : $\frac{a}{3(a + d)}$ |                                 |
| (다) : $\frac{2a + 3d}{a}$    |                                 |

060611가 외 1회

# 6547

45번

등차수열  $\{a_n\}$ 에 대하여

$$a_1 = -15, |a_3| - a_4 = 0$$

일 때,  $a_7$ 의 값은?

- ① 21      ② 23      ③ 25      ④ 27      ⑤ 29

190913나

# 8254

47번

공차가 양수인 등차수열  $\{a_n\}$ 이 다음 조건을 만족시킬 때,  $a_2$ 의 값은?

(가)  $a_6 + a_8 = 0$

(나)  $|a_6| = |a_7| + 3$

- ① -15      ② -13      ③ -11  
 ④ -9      ⑤ -7

171115나

# 1558

46번

공차가 0 이 아닌 등차수열  $\{a_n\}$ 이 있다. 수열  $\{b_n\}$ 은

$$b_1 = a_1$$

이고, 2 이상의 자연수  $n$ 에 대하여

$$b_n = \begin{cases} b_{n-1} + a_n & (n \text{이 } 3 \text{의 배수가 아닌 경우}) \\ b_{n-1} - a_n & (n \text{이 } 3 \text{의 배수인 경우}) \end{cases}$$

이다.  $b_{10} = a_{10}$  일 때,  $\frac{b_8}{b_{10}} = \frac{q}{p}$ 이다.  $p + q$ 의 값을 구하시오.

(단,  $p$ 와  $q$ 는 서로소인 자연수이다.)

180629나

# 1722

48번

자연수  $n$ 에 대하여  $x$ 에 대한 이차방정식

$$x^2 - nx + 4(n - 4) = 0$$

이 서로 다른 두 실근  $\alpha, \beta (\alpha < \beta)$ 를 갖고, 세 수  $1, \alpha, \beta$ 가 이 순서대로 등차수열을 이룰 때,  $n$ 의 값은?

- ① 5      ② 8      ③ 11      ④ 14      ⑤ 17

200613나

# 9607

49번

등차수열  $\{a_n\}$ 에 대하여

$$a_1 + a_2 = 10, a_3 + a_4 + a_5 = 45$$

가 성립할 때,  $a_{10}$ 의 값은?

- ① 47    ② 45    ③ 43    ④ 41    ⑤ 39

051103나

# 6812

51번

첫째항이 50 이고 공차가  $-4$  인 등차수열의 첫째항부터 제  $n$ 항까지의 합을  $S_n$  이라 할 때,  $\sum_{k=m}^{m+4} S_k$  의 값이 최대가 되도록 하는 자연수  $m$  의 값은?

- ① 8    ② 9    ③ 10    ④ 11    ⑤ 12

201115나

# 11180

50번

등차수열  $\{a_n\}$  에 대하여

$$a_1 = a_3 + 8, 2a_4 - 3a_6 = 3$$

일 때,  $a_k < 0$  을 만족시키는 자연수  $k$  의 최솟값은?

- ① 8    ② 10    ③ 12    ④ 14    ⑤ 16

200907나

# 10169

52번

공비가 2 인 등비수열  $\{a_n\}$  에 대하여  $a_1 + a_2 + a_4 = 55$  일 때,  $a_3$  의 값을 구하십시오.

150922가

# 1355



53번

첫째항이 0이 아닌 등비수열  $\{a_n\}$  에 대하여

$$a_3 = 4a_1, \quad a_7 = (a_6)^2$$

일 때, 첫째항  $a_1$  의 값은?

- ①  $\frac{1}{16}$     ②  $\frac{1}{8}$     ③  $\frac{3}{16}$     ④  $\frac{1}{4}$     ⑤  $\frac{5}{16}$

161107나

# 1760

55번

공비가 2 인 등비수열  $\{a_n\}$  에 대하여  $a_3 = 12$  일 때,  $a_5$  의 값은?

- ① 24    ② 36    ③ 48    ④ 60    ⑤ 72

150905나

# 1878

54번

공비가 양수인 등비수열  $\{a_n\}$  에 대하여  $a_1 = 3, a_5 = 48$  일 때,  
 $a_3$  의 값은?

- ① 18    ② 16    ③ 14    ④ 12    ⑤ 10

151105나

# 1848

56번

등비수열  $\{a_n\}$  에 대하여  $a_1 a_9 = 4$  일 때,  $a_2 a_8 + a_4 a_6$  의 값은?

- ① 8    ② 9    ③ 10    ④ 11    ⑤ 12

140607나

# 2000

57번

모든 항이 양수인 등비수열  $\{a_n\}$  에 대하여

$$\frac{a_1 a_2}{a_3} = 2, \frac{2a_2}{a_1} + \frac{a_4}{a_2} = 8$$

일 때,  $a_3$  의 값은?

- ① 16      ② 18      ③ 20      ④ 22      ⑤ 24

131106나

# 2029

59번

등비수열  $\{a_n\}$  의 첫째항부터 제  $n$ 항까지의 합  $S_n$  에 대하여

$$\frac{S_4}{S_2} = 9 \text{ 일 때, } \frac{a_4}{a_2} \text{ 의 값은?}$$

- ① 3      ② 4      ③ 6      ④ 8      ⑤ 9

120908나

# 2151

58번

첫째항이 1이고 공비가 2인 등비수열  $\{a_n\}$  에 대하여

$$b_n = (a_{n+1})^2 - (a_n)^2$$

일 때,  $\frac{b_6}{b_3}$  의 값은?

- ① 56      ② 58      ③ 60      ④ 62      ⑤ 64

130608나

# 2091

60번

등비수열  $\{a_n\}$  에 대하여  $a_3 = \sqrt{5}$  일 때,  $a_1 \times a_2 \times a_4 \times a_5$  의 값은?

- ①  $\sqrt{5}$       ② 5      ③  $5\sqrt{5}$   
④ 25      ⑤  $25\sqrt{5}$

120608나

# 2211

61번

모든 항이 양수인 등비수열  $\{a_n\}$  에 대하여  
 $a_2a_4 = 16, a_3a_5 = 64$  일 때,  $a_7$  의 값을 구하시오.

110618나

# 4897

63번

이차방정식  $x^2 - kx + 125 = 0$  의 두 근  $\alpha, \beta (\alpha < \beta)$  에 대하여  
 $\alpha, \beta - \alpha, \beta$  가 이 순서로 등비수열을 이룰 때, 양수  $k$  의 값을 구하시오.

080923나

# 5202

62번

두 자연수  $a$  와  $b$  에 대하여 세 수  $a^n, 2^4 \times 3^6, b^n$  이 이 순서대로 등비수열을 이룰 때,  $ab$  의 최솟값을 구하시오. (단,  $n$  은 자연수이다.)

101124나

# 4993

64번

등비수열  $\{a_n\}$  에 대하여

$$a_3 = 4(a_2 - a_1), \sum_{k=1}^6 a_k = 15$$

일 때,  $a_1 + a_3 + a_5$  의 값은 ?

- ① 3      ② 4      ③ 5      ④ 6      ⑤ 7

190615나

# 6533

65번

공차가 0 이 아닌 등차수열  $\{a_n\}$  의 세항  $a_2, a_4, a_9$  가 이 순서대로  
공비  $r$  인 등비수열을 이룰 때,  $6r$  의 값을 구하시오.

111122나

# 4961

67번

모든 항이 양수인 등비수열  $\{a_n\}$  에 대하여  $a_1 = 3, \frac{a_4 a_5}{a_2 a_3} = 16$   
일 때,  $a_6$  의 값을 구하시오.

170625나

# 1508

66번

모든 항이 양수인 등비수열  $\{a_n\}$  의 첫째항부터 제  $n$  항까지의 합을  
 $S_n$ 이라 하자.

$$S_4 - S_3 = 2, S_6 - S_5 = 50$$

일 때,  $a_5$ 의 값을 구하시오.

190926나

# 8267

68번

공비가 0 이 아닌 등비수열  $\{a_n\}$  에 대하여  $a_1 = 4, 3a_5 = a_7$  일  
때,  $a_3$  의 값은?

- ① 6      ② 9      ③ 12      ④ 15      ⑤ 18

160903가

# 1426

69번

공비가 0 이 아닌 등비수열  $\{a_n\}$  에 대하여  $a_1 = 4, 3a_5 = a_7$  일 때,  $a_3$  의 값을 구하시오.

160922나

# 1805

71번

첫째항이 1이고 공비가 양수인 등비수열  $\{a_n\}$  에 대하여

$$\frac{a_7}{a_5} = 4$$

일 때,  $a_4$  의 값은?

- ① 6      ② 8      ③ 10      ④ 12      ⑤ 14

170906나

# 1519

70번

공차가 6 인 등차수열  $\{a_n\}$  에 대하여 세 항  $a_2, a_k, a_8$  은 이 순서대로 등차수열을 이루고, 세 항  $a_1, a_2, a_k$  는 이 순서대로 등비수열을 이룬다.  $k + a_1$  의 값은?

- ① 7      ② 8      ③ 9      ④ 10      ⑤ 11

160616나

# 1829

72번

세 수  $\frac{9}{4}, a, 4$  가 이 순서대로 등비수열을 이룰 때, 양수  $a$  의 값은?

- ①  $\frac{8}{3}$       ② 3      ③  $\frac{10}{3}$       ④  $\frac{11}{3}$       ⑤ 4

171105나

# 1548

73번

등비수열  $\{a_n\}$  에 대하여  $a_2 = 6, a_5 = 162$  일 때,  
 $\sum_{k=1}^n a_k \geq 1000$  을 만족시키는  $n$  의 최솟값은?

- ① 6      ② 7      ③ 8      ④ 9      ⑤ 10

100626나

# 5055

75번

세 수  $a, 0, b$  가 이 순서로 등차수열을 이루고, 세 수  $2b, a, -7$  이 이  
 순서로 등비수열을 이룰 때,  $a$  의 값은?

- ① 10      ② 12      ③ 14      ④ 16      ⑤ 18

071106나

# 5305

74번

공비가 양수인 등비수열  $\{a_n\}$  이

$$a_1 + a_2 = 12, \frac{a_3 + a_7}{a_1 + a_5} = 4$$

를 만족시킬 때,  $a_4$  의 값은?

- ① 24      ② 28      ③ 32      ④ 36      ⑤ 40

140604가

# 1217

76번

첫째항이 7인 등비수열  $\{a_n\}$ 의 첫째항부터 제  $n$ 항까지의 합을  $S_n$   
 이라 하자.

$$\frac{S_9 - S_5}{S_6 - S_2} = 3$$

일 때,  $a_7$ 의 값을 구하시오.

191124나

# 8583

77번

첫째항이 자연수이고 공차가 음의 정수인 등차수열  $\{a_n\}$ 과 첫째항이 자연수이고 공비가 음의 정수인 등비수열  $\{b_n\}$ 이 다음 조건을 만족시킬 때,  $a_7 + b_7$ 의 값을 구하시오.

$$(가) \sum_{n=1}^5 (a_n + b_n) = 27$$

$$(나) \sum_{n=1}^5 (a_n + |b_n|) = 67$$

$$(다) \sum_{n=1}^5 (|a_n| + |b_n|) = 81$$

191129나

# 8588

78번

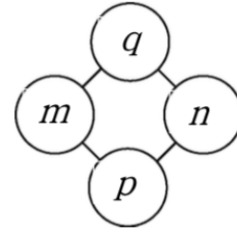
수열  $\{a_n\}$ 에서  $a_1 = 1, a_2 = 4, a_3 = 10$ 이고, 수열  $\{a_{n+1} - a_n\}$ 은 등비수열일 때,  $a_5$ 의 값을 구하시오.

061119나

# 6688

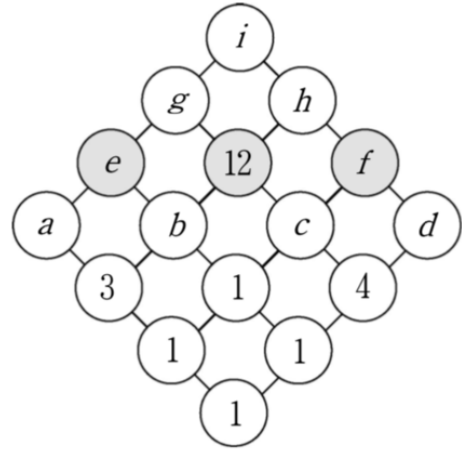
79번

두 자연수  $m$ 과  $n$ 의 최대공약수를  $p$ , 최소공배수를  $q$ 라 할 때, 이런 관계를 만족시키는 수를 [그림1]과 같이 나타내기로 하자.



[그림 1]

[그림2]는 [그림1]의 관계를 만족시키도록 수를 연결하여 나타낸 것이다. 세 자연수  $e, 12, f$ 가 이 순서대로 등비수열을 이룰 때,  $e + f$ 의 값을 구하시오.



[그림 2]

060921나

# 6643

80번

다섯 개의 실수  $a, b, c, d, e$ 를 적당히 배열하여 공비가 1보다 큰 등비수열을 만들었다.  $a, b, c, d, e$ 가 다음 조건을 만족시킬 때  $b$ 가 수열의 제  $n$ 항이라면  $n$ 의 값은?

- (가)  $e = \sqrt{cd}$
- (나)  $\frac{a}{e} = \frac{c}{d}$
- (다)  $a < b$

- ① 1      ② 2      ③ 3      ④ 4      ⑤ 5

050611나

# 6720

81번

모든 항이 양수인 등비수열  $\{a_n\}$ 에 대하여

$$a_1 a_5 = 9, a_2 a_6 = 36$$

일 때,  $8(a_1 a_2 + a_3 a_4)$ 의 값은?

- ① 153      ② 157      ③ 161
- ④ 165      ⑤ 169

130911나

# 2064

82번

세 수  $a, a + b, 2a - b$ 는 이 순서대로 등차수열을 이루고, 세 수  $1, a - 1, 3b + 1$ 은 이 순서대로 공비가 양수인 등비수열을 이룬다.  $a^2 + b^2$ 의 값을 구하시오.

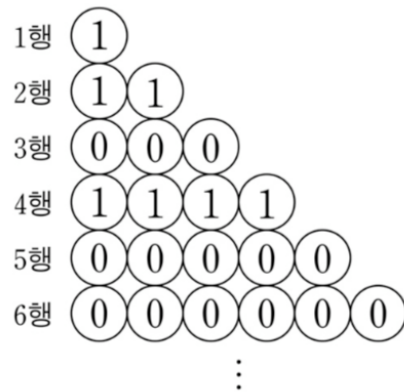
121125가 외 1회

# 1118

83번

그림과 같이 1행에는 1개, 2행에는 2개, ...,  $n$ 행에는  $n$ 개의 원을 나열하고 그 안에 다음 규칙에 따라 0 또는 1을 써 넣는다.

- (가) 1행의 원 안에는 1을 써 넣는다.
- (나)  $n \geq 2$ 일 때, 1행부터  $(n - 1)$ 행까지 나열된 모든 원 안의 수의 합이  $n$  이상이면  $n$ 행에 나열된 모든 원 안에 0을 써 넣고,  $n$  미만이면  $n$ 행에 나열된 모든 원 안에 1을 써 넣는다.



1행부터 32행까지 나열된 원 안에서 써 넣은 모든 수의 합을 구하시오.

110925나

# 4934



84번

네 수  $1, a, b, c$ 는 이 순서대로 공비가  $r$  인 등비수열을 이루고  $\log_8 c = \log_a b$  를 만족시킨다. 공비  $r$  의 값은? (단,  $r > 1$ )

- ① 2      ②  $\frac{5}{2}$       ③ 3      ④  $\frac{7}{2}$       ⑤ 4

091105나

# 5124

85번

다음 표는 어느 학교에서 한 달 전에 구입한 휴대용 저장 장치의 용량에 따른 1 개당 가격과 개수의 현황을 나타낸 것이다.

용량	128MB	256MB	512MB	1GB	2GB
1개당 가격	$a$	$\frac{3}{2}a$	$\left(\frac{3}{2}\right)^2 a$	$\left(\frac{3}{2}\right)^3 a$	$\left(\frac{3}{2}\right)^4 a$
개수	$16b$	$8b$	$4b$	$2b$	$b$

현재 모든 휴대용 저장 장치의 가격이 한 달 전보다 모두 40% 씩 하락하였다. 이 학교에서 휴대용 저장 장치의 용량과 개수를 위 표와 동일하게 현재의 가격으로 구입한다면 지불해야 하는 금액은? (단,  $a > 0$  이고  $b > 0$  이다.)

- ①  $\frac{128}{5}ab \left\{ 1 - \left(\frac{1}{4}\right)^5 \right\}$       ②  $32ab \left\{ 1 - \left(\frac{3}{4}\right)^5 \right\}$   
 ③  $32ab \left\{ 1 - \left(\frac{1}{4}\right)^5 \right\}$       ④  $\frac{192}{5}ab \left\{ 1 - \left(\frac{3}{4}\right)^5 \right\}$   
 ⑤  $\frac{192}{5}ab \left\{ 1 - \left(\frac{1}{4}\right)^5 \right\}$

080628나

# 5177

86번

다음은 어느 회사의 연봉에 관한 규정이다.

- (가) 입사 첫째 해 연봉은  $a$  원이고, 입사 19 번째 해까지의 연봉은 해마다 직전 연봉에서 8% 씩 인상된다.  
 (나) 입사 20 번째 해부터의 연봉은 입사 19 번째 해 연봉의  $\frac{2}{3}$  로 한다.

이 회사에 입사한 사람이 28 년 동안 근무하여 받는 연봉의 총합은? (단,  $1.08^{18} = 4$  로 계산한다.)

- ①  $\frac{101}{2}a$       ②  $\frac{111}{2}a$       ③  $\frac{121}{2}a$   
 ④  $\frac{131}{2}a$       ⑤  $\frac{141}{2}a$

070614가 외 1회

# 4443

87번

등비수열  $\{a_n\}$  에 대하여  $a_3 = 2, a_6 = 16$  일 때,  $a_9$  의 값을 구하시오.

071118나

# 5317

88번

음이 아닌 정수  $n$ 에 대하여 다음 조건을 만족시키는 점의 좌표를  $P_n(a_n, b_n)$ 이라 하자.

(ㄱ)  
 $a_0 = 1, b_0 = 0$

(ㄴ)  
 점  $P_{n+1}(a_{n+1}, b_{n+1})$ 은 점  $P_n(a_n, b_n)$ 에서 원  $x^2 + y^2 = 1$ 의 호를 따라 시계 반대 방향으로  $\frac{\pi}{18}$ 만큼 이동한 점이다.

이때,  $a_n = b_n$ 을 만족시키는  $n$ 은 (가). 그리고  $c_k = a_{18k} (k = 1, 2, 3, \dots)$ 라 하면, 수열  $\{c_k\}$ 는 공비가 (나)인 등비수열이다. 위의 (가), (나)에 알맞은 것은?

- |   |                               |
|---|-------------------------------|
| ① (가): 존재하지 않는다.<br>(나): $-\frac{1}{2}$ | ② (가): 존재하지 않는다.<br>(나): $-1$ |
| ③ (가): 존재한다.<br>(나): $-\frac{1}{2}$     | ④ (가): 존재한다.<br>(나): $-1$     |
| ⑤ (가): 존재한다.<br>(나): $\frac{1}{2}$      |                               |

060629나

# 6599

89번

첫째항이 3 인 등비수열  $\{a_n\}$ 에 대하여

$$\frac{a_3}{a_2} - \frac{a_6}{a_4} = \frac{1}{4}$$

일 때,  $a_5 = \frac{q}{p}$  이다.  $p + q$ 의 값을 구하시오. (단,  $p$ 와  $q$ 는 서로소인 자연수이다.)

180626나

# 1719

90번

공비가 양수인 등비수열  $\{a_n\}$ 에 대하여

$$a_1 = 2, \frac{a_5}{a_3} = 9$$

일 때,  $\sum_{k=1}^4 a_k$ 의 값을 구하시오.

200624나

# 9618

91번

첫째항이 2 이고 공비가 정수인 등비수열  $\{a_n\}$ 과 자연수  $m$ 이 다음 조건을 만족시킬 때,  $a_m$ 의 값을 구하시오.

(가)  $4 < a_2 + a_3 \leq 12$

(나)  $\sum_{k=1}^m a_k = 122$

200628나

# 9622

92번

일반항이  $a_n = 2^{1-n}$ 인 수열  $\{a_n\}$ 에 대하여 첫째항부터 제  $n$ 항까지의 합을  $S_n$ 이라 할 때, <보기>에서 옳은 것을 모두 고르면?

<보기>

- ㄱ. 수열  $\{\log a_n\}$ 은 등차수열이다.
- ㄴ. 수열  $\{S_n + a_n\}$ 은 등비수열이다.
- ㄷ.  $S_n = \frac{1}{2}a_{n+1} + 2$ 가 성립한다.

- ① ㄱ
- ② ㄷ
- ③ ㄱ, ㄴ
- ④ ㄴ, ㄷ
- ⑤ ㄱ, ㄴ, ㄷ

050914가 외 1회

# 6747

93번

공비가  $r$ 이고  $a_2 = 1$ 인 등비수열  $\{a_n\}$ 에서 첫째항부터 제 10항까지의 곱을  $\omega = a_1 a_2 a_3 \cdots a_{10}$ 이라 할 때,  $\log_r \omega$ 의 값을 구하시오. (단,  $r > 0$ 이고  $r \neq 1$ 이다.)

051121나

# 6822

94번

모든 항이 양수인 등비수열  $\{a_n\}$ 에 대하여

$$\frac{a_{16}}{a_{14}} + \frac{a_8}{a_7} = 12$$

일 때,  $\frac{a_3}{a_1} + \frac{a_6}{a_3}$ 의 값을 구하시오.

201123나

# 11188

## 빠른 정답표

1번. ④	2번. 22	3번. ①	4번. ③	5번. 20
6번. ③	7번. ④	8번. 21	9번. 19	10번. 15
11번. 12	12번. 38	13번. 35	14번. 3	15번. 26
16번. 39	17번. ⑤	18번. ②	19번. 11	20번. ④
21번. 10	22번. ①	23번. ①	24번. ①	25번. 7
26번. ⑤	27번. 88	28번. ①	29번. 250	30번. ③
31번. ⑤	32번. 42	33번. ②	34번. 10	35번. ②
36번. 310	37번. ④	38번. ③	39번. 16	40번. ③
41번. 32	42번. ①	43번. 15	44번. ④	45번. ①
46번. 13	47번. ①	48번. ③	49번. ⑤	50번. ②
51번. ④	52번. 20	53번. ①	54번. ④	55번. ③
56번. ①	57번. ①	58번. ⑤	59번. ④	60번. ④
61번. 64	62번. 108	63번. 25	64번. ③	65번. 15
66번. 10	67번. 96	68번. ③	69번. 12	70번. ②
71번. ②	72번. ②	73번. ②	74번. ③	75번. ③
76번. 63	77번. 117	78번. 46	79번. 25	80번. ⑤
81번. ①	82번. 10	83번. 63	84번. ⑤	85번. ④
86번. ④	87번. 128	88번. ②	89번. 19	90번. 80
91번. 162	92번. ③	93번. 35	94번. 36	

# 5.

## 수열의 합

평가원 57문항



1번

수열  $\{a_n\}$  이

$$\sum_{k=1}^7 a_k = \sum_{k=1}^6 (a_k + 1)$$

을 만족시킬 때,  $a_7$  의 값은?

- ① 6      ② 7      ③ 8      ④ 9      ⑤ 10

170909나

# 1522

3번

수열  $\{a_n\}$  에 대하여  $\sum_{k=1}^n a_k = n^2 + n$  일 때,  $a_{47}$  의 값을 구하시오.

080618나

# 5167

2번

두 수열  $\{a_n\}, \{b_n\}$  에 대하여

$$\sum_{k=1}^{11} a_k = 4, \quad \sum_{k=1}^{11} b_k = 24$$

일 때,  $\sum_{k=1}^{11} (5a_k + b_k)$  의 값은?

- ① 36      ② 40      ③ 44      ④ 48      ⑤ 52

160608나

# 1821

4번

$\sum_{k=1}^{10} (k+2)(k-2)$  의 값을 구하시오.

080918나

# 5197

5번

수열  $\{a_n\}$ 에 대하여

$$\sum_{k=1}^{10} (a_k + 1)^2 = 28, \quad \sum_{k=1}^{10} a_k(a_k + 1) = 16$$

일 때,  $\sum_{k=1}^{10} (a_k)^2$ 의 값을 구하시오.

181127나

# 2260

7번

수열  $\{a_n\}$ 의 첫째항부터 제  $n$ 항까지의 합  $S_n$ 이  $S_n = n^2 + 2^n$ 일 때,  $a_1 + a_5$ 의 값은?

- ① 26      ② 28      ③ 30      ④ 32      ⑤ 34

100905나

# 5004

6번

$$\sum_{k=1}^9 (k+1)^2 - \sum_{k=1}^{10} (k-1)^2 \text{의 값은?}$$

- ① 91      ② 93      ③ 95      ④ 97      ⑤ 99

200912나

# 10174

8번

수열  $\{a_n\}$ 의 첫째항부터 제  $n$ 항까지의 합  $S_n$ 이  $S_n = 2^n - 1$ 일 때,  $a_9$ 의 값을 구하시오.

090918나

# 5107

9번

수열  $\{a_n\}$ 에 대하여

$$\sum_{k=1}^{10} a_k = 3, \sum_{k=1}^{10} a_k^2 = 7$$

일 때,  $\sum_{k=1}^{10} (2a_k^2 - a_k)$ 의 값은?

- ① 8      ② 9      ③ 10      ④ 11      ⑤ 12

190607나

# 6525

11번

함수  $f(x) = \frac{1}{2}x + 2$ 에 대하여  $\sum_{k=1}^{15} f(2k)$ 의 값을 구하시오.

171125나

# 1568

10번

첫째항이 4이고 공차가 1인 등차수열  $\{a_n\}$ 에 대하여

$$\sum_{k=1}^{12} \frac{1}{\sqrt{a_{k+1}} + \sqrt{a_k}}$$

의 값은?

- ① 1      ② 2      ③ 3      ④ 4      ⑤ 5

170914나

# 1527

12번

수열  $\{a_n\}$ 의 첫째항부터 제  $n$ 항까지의 합  $S_n$ 이  $S_n = \frac{n}{n+1}$ 일 때,  $a_4$ 의 값은?

- ①  $\frac{1}{22}$       ②  $\frac{1}{20}$       ③  $\frac{1}{18}$       ④  $\frac{1}{16}$       ⑤  $\frac{1}{14}$

151109나

# 1852



13번

수열  $\{a_n\}$  은  $a_1 = 15$  이고,

$$\sum_{k=1}^n (a_{k+1} - a_k) = 2n + 1 \quad (n \geq 1)$$

을 만족시킨다.  $a_{10}$  의 값은?

- ① 28      ② 30      ③ 32      ④ 34      ⑤ 36

150608가

# 1311

14번

수열  $\{a_n\}$ 의 첫째항부터 제  $n$ 항까지의 합  $S_n$ 이

$$S_n = 2^{n-1} + 5$$

일 때,  $a_1 + a_5$ 의 값을 구하시오.

140524나

# 5425

15번

수열  $\{a_n\}$ 의 첫째항부터 제  $n$ 항까지의 합  $S_n$ 이  $S_n = n^2 - 10n$  일 때,  $a_n < 0$  을 만족시키는 자연수  $n$ 의 개수는?

- ① 5      ② 6      ③ 7      ④ 8      ⑤ 9

140612나

# 2005

16번

다음 [단계]에 따라 정육각형이 인접해 있는 모양의 도형에 자연수를 적는다.

[단계 1]

<그림 1>과 같이 한 개의 정육각형을 그리고, 각 꼭짓점에 자연수를 1 부터 차례로 적는다.

[단계 2]

<그림 1>의 아래에 2 개의 정육각형을 그리고, 새로 생긴 각 꼭짓점에 자연수를 1 부터 차례로 적어서 <그림 2>를 얻는다.

⋮

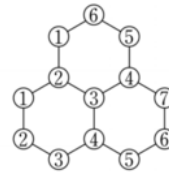
[단계  $n$ ]

<그림  $n - 1$ >의 아래에  $n$  개의 정육각형을 그리고, 새로 생긴 각 꼭짓점에 자연수를 1 부터 차례로 적어서 <그림  $n$ >을 얻는다.

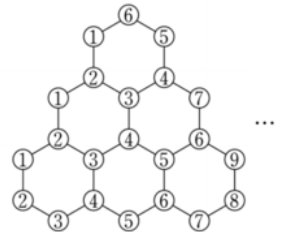
<그림 6>에 적혀있는 모든 수의 합은?



<그림 1>



<그림 2>



<그림 3>

- ① 338      ② 349      ③ 360  
④ 371      ⑤ 382

130914나

# 2067

17번

이차방정식  $x^2 - 2x - 1 = 0$ 의 두 근을  $\alpha, \beta$ 라 할 때,  
 $\sum_{k=1}^{10} (k - \alpha)(k - \beta)$ 의 값은?

- ① 255
- ② 265
- ③ 275
- ④ 285
- ⑤ 295

130616나

# 2099

18번

수열  $\{a_n\}$ 은  $a_1 = -\frac{4}{9}$ 이고,

$$2^n a_{n+1} - 2^{n+1} a_n = n \quad (n \geq 1)$$

을 만족시킨다. 다음은 일반항  $a_n$ 을 구하는 과정이다.

주어진 식  $2^n a_{n+1} - 2^{n+1} a_n = n$ 의 양변을  $2^{2n+1}$ 으로 나누면

$$\frac{a_{n+1}}{2^{n+1}} - \frac{a_n}{2^n} = \frac{n}{2^{2n+1}} \quad (n \geq 1)$$

이므로  $n \geq 2$ 인 자연수  $n$ 에 대하여

$$\frac{a_n}{2^n} = \frac{a_1}{2} + \sum_{k=1}^{n-1} \frac{k}{2^{2k+1}} \dots\dots (*)$$

이다. 한편

$$\begin{aligned} \sum_{k=1}^{n-1} \frac{k}{2^{2k+1}} &= \frac{2}{3} \left( \sum_{k=1}^{n-1} \frac{k}{2^{2k}} - \frac{1}{4} \sum_{k=1}^{n-1} \frac{k}{2^{2k}} \right) \\ &= \frac{2}{3} \left\{ \left( \frac{1}{4} + \frac{2}{4^2} + \dots + \frac{n-1}{4^{n-1}} \right) \right. \\ &\quad \left. - \left( \frac{1}{4^2} + \frac{2}{4^3} + \dots + \frac{n-1}{4^n} \right) \right\} \\ &= \frac{2}{3} \left( \sum_{k=1}^{n-1} \frac{1}{4^k} - \frac{(가)}{4^n} \right) \end{aligned}$$

이므로 (\*)에 의하여

$$\begin{aligned} a_n &= (나) + \frac{2^{n+1}}{3} \left( \sum_{k=1}^{n-1} \frac{1}{4^k} - \frac{(가)}{4^n} \right) \\ &= -\frac{3n+1}{9 \cdot 2^{n-1}} \quad (n \geq 2) \end{aligned}$$

이다.

위의 (가), (나)에 알맞은 식을 각각  $f(n), g(n)$ 이라 할 때,  
 $f(10) \times g(5)$ 의 값은?

- ① -64
- ② -56
- ③ -48
- ④ -40
- ⑤ -32

130917가 외 1회

# 1170

19번

수열  $\{a_n\}$  은  $a_1 = 4$  이고,

$$a_{n+1} = n \cdot 2^n + \sum_{k=1}^n \frac{a_k}{k} \quad (n \geq 1)$$

을 만족시킨다. 다음은 일반항  $a_n$  을 구하는 과정이다.

주어진 식에 의하여

$$a_n = (n-1) \cdot 2^{n-1} + \sum_{k=1}^{n-1} \frac{a_k}{k} \quad (n \geq 2)$$

이다. 따라서 2 이상의 자연수  $n$ 에 대하여

$$a_{n+1} - a_n = \boxed{(가)} + \frac{a_n}{n}$$

이므로

$$a_{n+1} = \frac{(n+1)a_n}{n} + \boxed{(가)}$$

이다.  $b_n = \frac{a_n}{n}$  이라 하면

$$b_{n+1} = b_n + \frac{\boxed{(가)}}{n+1} \quad (n \geq 2)$$

이고,  $b_2 = 3$  이므로

$$b_n = \boxed{(나)} \quad (n \geq 2)$$

이다. 그러므로

$$a_n = \begin{cases} 4 & (n=1) \\ n \times \boxed{(나)} & (n \geq 2) \end{cases}$$

이다.

위의 (가), (나)에 알맞은 식을 각각  $f(n), g(n)$  이라 할 때,  $f(4) + g(7)$  의 값은?

- ① 90                      ② 95                      ③ 100
- ④ 105                     ⑤ 110

131117가 외 1회

# 1200

20번

수열  $\{a_n\}$  은  $a_1 = 1$  이고

$$a_{n+1} = \sum_{k=1}^n 2^{n-k} a_k \quad (n \geq 1)$$

을 만족시킨다. 다음은 일반항  $a_n$  을 구하는 과정이다.

주어진 식으로부터  $a_2 = \boxed{(가)}$  이다.

자연수  $n$ 에 대하여

$$\begin{aligned} a_n + 2 &= \sum_{k=1}^{n+1} 2^{n+1-k} a_k \\ &= \sum_{k=1}^n 2^{n+1-k} a_k + a_{n+1} \\ &= \boxed{(나)} \sum_{k=1}^n 2^{n-k} a_k + a_{n+1} \\ &= \boxed{(다)} a_{n+1} \end{aligned}$$

이다.

따라서  $a_1 = 1$  이고,  $n \geq 2$  일 때  $a_n = \boxed{(다)}^{n-2}$  이다.

위의 (가), (나), (다) 에 알맞은 수를 각각  $p, q, r$  이라 할 때,  $p + q + r$  의 값은?

- ① 3                      ② 4                      ③ 5                      ④ 6                      ⑤ 7

120610가 외 1회

# 1043

21번

2 이상의 자연수  $n$ 에 대하여 집합

$$\{3^{2k-1} | k \text{는 자연수}, 1 \leq k \leq n\}$$

의 서로 다른 두 원소를 곱하여 나올 수 있는 모든 값을 원소로 하는 집합을  $S$ 라 하고,  $S$ 의 원소의 개수를  $f(n)$ 이라 하자. 예를 들어,

$f(4) = 5$ 이다. 이때  $\sum_{n=2}^{11} f(n)$ 의 값을 구하시오.

111123가 외 1회

# 4482

22번

$$\sum_{k=1}^{10} (2k + a) = 300 \text{ 일 때, 상수 } a \text{의 값을 구하시오.}$$

160624나

# 1837

23번

수열  $\{a_n\}$ 에 대하여

$$\sum_{k=1}^n a_k = n^2 - n \quad (n \geq 1)$$

일 때,  $\sum_{k=1}^{10} k a_{4k+1}$ 의 값은?

- ① 2960
- ② 3000
- ③ 3040
- ④ 3080
- ⑤ 3120

150613가

# 1316

24번

$$\sum_{k=1}^n \frac{4}{k(k+1)} = \frac{15}{4} \text{ 일 때, } n \text{의 값은?}$$

- ① 11
- ② 12
- ③ 13
- ④ 14
- ⑤ 15

150610나

# 1913

25번

수열  $\{a_n\}$  은  $a_1 = 15$  이고,

$$\sum_{k=1}^n (a_{k+1} - a_k) = 2n + 1 \quad (n \geq 1)$$

을 만족시킨다.  $a_{10}$  의 값을 구하시오.

150626나

# 1929

26번

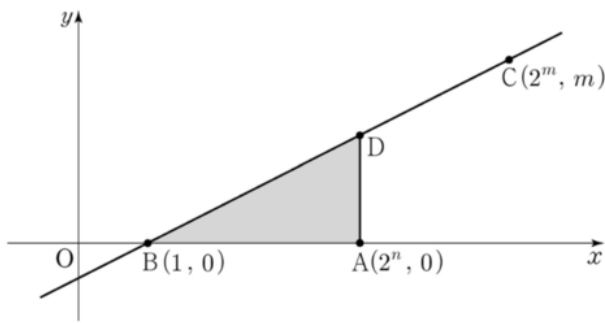
자연수  $n$  에 대하여 다음 조건을 만족시키는 가장 작은 자연수  $m$  을  $a_n$  이라 할 때,  $\sum_{n=1}^{10} a_n$  의 값은?

(가)

점 A의 좌표는  $(2^n, 0)$  이다.

(나)

두 점  $B(1, 0)$  과  $C(2^m, m)$  을 지나는 직선 위의 점 중  $x$  좌표가  $2^n$  인 점을 D 라 할 때, 삼각형 ABD의 넓이는  $\frac{m}{2}$  보다 작거나 같다.



- ① 109
- ② 111
- ③ 113
- ④ 115
- ⑤ 117

151121가

# 1384

27번

수열  $\{a_n\}$  은  $a_1 = 7$  이고, 다음 조건을 만족시킨다.

(가)  $a_{n+2} = a_n - 4 \quad (n = 1, 2, 3, 4)$

(나) 모든 자연수  $n$  에 대하여  $a_{n+6} = a_n$  이다.

$\sum_{k=1}^{50} a_k = 258$  일 때,  $a_2$  의 값을 구하시오.

140628나

# 2021

28번

한 변의 길이가 1인 정사각형 모양의 검은 타일과 흰 타일이 있다.

(가)

[그림1]과 같이 검은 타일 3개와 흰 타일 1개를 붙여 한 변의 길이가 2인 정사각형이 되도록 한다.


(나)

[그림2]와 같이 [그림1]의 정사각형의 바깥쪽에 타일을 붙여 한 변의 길이가 4인 정사각형이 되도록 한다. 이때 [그림1]에 있는 흰 타일의 둘레에는 검은 타일을, 검은 타일의 둘레에는 흰 타일을 붙인다.

(다)

[그림3]과 같이 [그림2]의 정사각형의 바깥쪽에 타일을 붙여 한 변의 길이가 6인 정사각형이 되도록 한다. 이때 [그림2]에 있는 흰 타일의 둘레에는 검은 타일을, 검은 타일의 둘레에는 흰 타일을 붙인다.

이와 같은 과정을 계속하여 전체 타일의 개수가 400개가 되었을 때, 검은 타일의 개수와 흰 타일의 개수 사이의 관계를 옳게 나타낸 것은 ?



[그림 1]    [그림 2]    [그림 3]

- ① 검은 타일과 흰 타일의 개수가 같다.
- ② 검은 타일의 개수가 흰 타일의 개수보다 18개 많다.
- ③ 검은 타일의 개수가 흰 타일의 개수보다 20개 많다.
- ④ 흰 타일의 개수가 검은 타일의 개수보다 18개 많다.
- ⑤ 흰 타일의 개수가 검은 타일의 개수보다 20개 많다.

060614가 외 1회

# 6550

29번

수열  $\{a_n\}$ 에서  $a_n = 2^n + (-1)^n$ 일 때,  
 $a_1 + a_2 + a_3 + \dots + a_9$ 의 값은?

- ①  $2^{10} - 3$       ②  $2^{10} - 1$       ③  $2^{10}$
- ④  $2^{10} + 1$       ⑤  $2^{10} + 3$

060904나

# 6632

31번

수열  $\{a_n\}$ 의 첫째항부터 제  $n$ 항까지의 합  $S_n$ 이  $S_n = 2n^2 - 3n$   
 일 때,  $a_{10}$ 의 값을 구하시오.

050619나

# 6726

30번

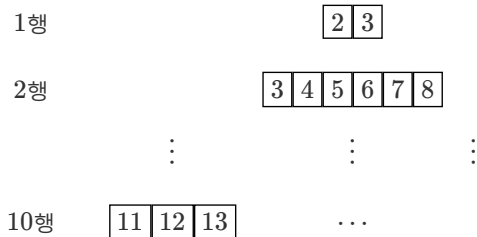
수열  $\{a_n\}$ 에서  $a_{2n-1} = 2^n$ 이고  $a_{2n} = 5^n$ 일 때,  $\sum_{n=1}^{10} \log a_n$ 의 값을 구하시오.

050620가 외 1회

# 6557

32번

그림과 같이 자연수  $k$ 에 대하여  $[\log_{k+1} x] = 1$ 을 만족시키는 자연수  $x$ 를  $k$ 행에 차례로 배열할 때,  $k$ 행에 배열된 자연수의 개수를  $a_k$ 라 하자.  $\sum_{k=1}^{10} a_k$ 의 값을 구하시오. (단,  $[x]$ 는  $x$ 보다 크지 않은 최대의 정수이다.)



060624나

# 6594

33번

첫째항이 2이고, 각 항이 양수인 수열  $\{a_n\}$ 의 첫째항부터 제  $n$ 항까지의 합을  $S_n$ 이라 하자.  $\sum_{k=1}^{10} \frac{a_{k+1}}{S_k S_{k+1}} = \frac{1}{3}$  일 때,  $S_{11}$ 의 값은?

- ① 6      ② 7      ③ 8      ④ 9      ⑤ 10

130611가 외 1회

# 1134

34번

$\sum_{k=1}^{14} \frac{1}{k(k+1)} = \frac{q}{p}$  일 때,  $p+q$ 의 값을 구하시오.  
(단,  $p$ 와  $q$ 는 서로소인 자연수이다.)

120625나

# 2228

35번

자연수  $n$ 에 대하여 좌표평면에서 다음 조건을 만족시키는 가장 작은 정사각형의 한 변의 길이를  $a_n$ 이라 하자.

(가)

정사각형의 각 변은 좌표축에 평행하고, 두 대각선의 교점은  $(n, 2^n)$ 이다.

(나)

정사각형과 그 내부에 있는 점  $(x, y)$  중에서  $x$ 가 자연수이고,  $y = 2^x$ 을 만족시키는 점은 3개뿐이다.

예를 들어  $a_1 = 12$ 이다.  $\sum_{k=1}^7 a_k$ 의 값을 구하시오.

120930가 외 1회

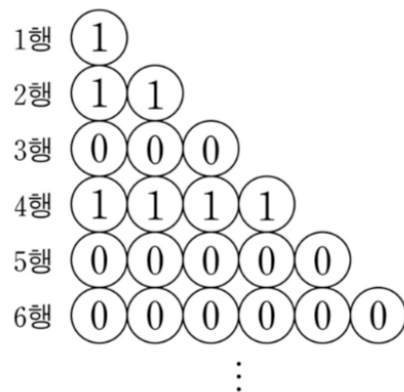
# 1093

36번

그림과 같이 1행에는 1개, 2행에는 2개, ...,  $n$ 행에는  $n$ 개의 원을 나열하고 그 안에 다음 규칙에 따라 0 또는 1을 써 넣는다.

(가) 1행의 원 안에는 1을 써 넣는다.

(나)  $n \geq 2$ 일 때, 1행부터  $(n-1)$ 행까지 나열된 모든 원 안의 수의 합이  $n$  이상이면  $n$ 행에 나열된 모든 원 안에 0을 써 넣고,  $n$  미만이면  $n$ 행에 나열된 모든 원 안에 1을 써 넣는다.



1행부터 32행까지 나열된 원 안에서 써 넣은 모든 수의 합을 구하시오.

110925나

# 4934

37번

수열  $\{a_n\}$  이 모든 자연수  $n$  에 대하여

$$\sum_{k=1}^n a_k = \log \frac{(n+1)(n+2)}{2}$$

를 만족시킨다.  $\sum_{k=1}^{20} a_{2k} = p$  라 할 때,  $10^p$  의 값을 구하시오.

111130나

# 4969

38번

수열  $\{a_n\}$  에서  $a_n = (-1)^{\frac{n(n+1)}{2}}$  일 때,  $\sum_{n=1}^{2010} na_n$  의 값은?

- ① -2011                      ② -2010                      ③ 0
- ④ 2010                        ⑤ 2011

100608가 외 1회

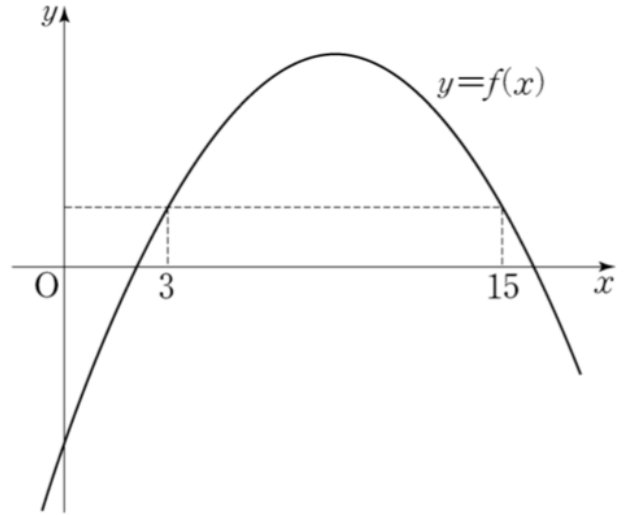
# 4557

39번

함수  $y = f(x)$  는  $f(3) = f(15)$  를 만족하고, 그 그래프는 그림과 같다. 모든 자연수  $n$  에 대하여  $f(n) = \sum_{k=1}^n a_k$  인 수열  $\{a_n\}$  이 있다.  $m$  이 15 보다 작은 자연수일 때,

$$a_m + a_{m+1} + \dots + a_{15} < 0$$

을 만족시키는  $m$  의 최솟값을 구하시오.




100622가 외 1회

# 4571



40번

그림과 같이 나무에 55 개의 전구가 맨 위 첫 번째 줄에는 1 개, 두 번째 줄에는 2 개, 세 번째 줄에는 3 개, ..., 열 번째 줄에는 10 개가 설치되어 있다. 전원을 넣으면 이 전구들은 다음 규칙에 따라 작동한다.



- (가)  $n$  이 10 이하의 자연수일 때,  $n$  번째 줄에 있는 전구는  $n$  초가 되는 순간 처음 켜진다.
- (나) 모든 전구는 처음 켜진 후 1 초 간격으로 꺼짐과 켜짐을 반복한다.

전원을 넣고  $n$  초가 되는 순간 켜지는 모든 전구의 개수를  $a_n$  이라고 하자. 예를 들어  $a_1 = 1, a_2 = 2, a_4 = 6, a_{11} = 25$  이다.

$\sum_{n=1}^{14} a_n$  의 값은?

- ① 215                      ② 220                      ③ 225
- ④ 230                      ⑤ 235

090615가 외 1회

# 4714

41번

공차가  $d_1, d_2$  인 두 등차수열  $\{a_n\}, \{b_n\}$  의 첫째항부터 제  $n$  항까지의 합을 각각  $S_n, T_n$  이라 하자.

$$S_n T_n = n^2(n^2 - 1)$$

일 때, <보기>에서 항상 옳은 것을 모두 고른 것은?

<보기>

- ㄱ.  $a_n = n$  이면  $b_n = 4n - 4$  이다.
- ㄴ.  $d_1 d_2 = 4$
- ㄷ.  $a_1 \neq 0$  이면  $a_n = n$  이다.

- ① ㄱ                              ② ㄴ                              ③ ㄱ, ㄴ
- ④ ㄱ, ㄷ                        ⑤ ㄱ, ㄴ, ㄷ

090616가 외 1회

# 4715

42번

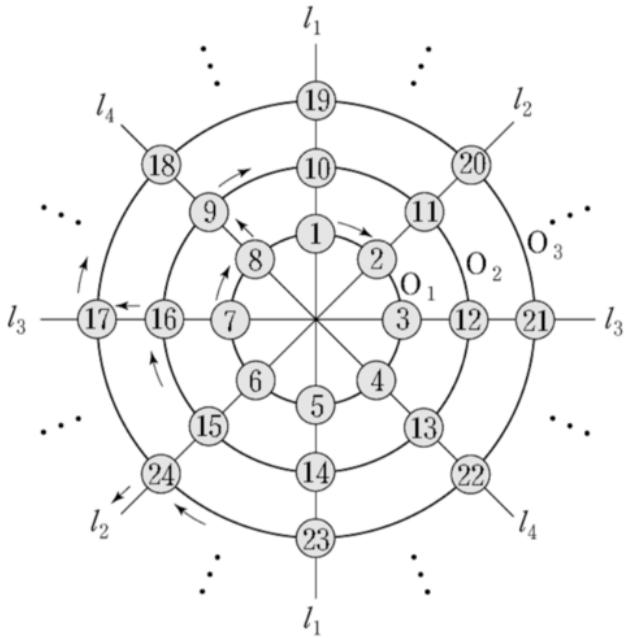
수열  $\{a_n\}$  의 제  $n$  항  $a_n$  을 자연수  $k$  의 양의 제곱근  $\sqrt{k}$  를 소수점 아래 첫째 자리에서 반올림하여  $n$  이 되는  $k$  의 개수라 하자.  $\sum_{i=1}^{10} a_i$  의 값을 구하시오.

090922가 외 1회

# 4691

43번

다음 그림은 동심원  $O_1, O_2, O_3, \dots$  과 직선  $l_1, l_2, l_3, l_4$  의 교점 위에 자연수를 1부터 차례로 적은 것이다.



이미 채워진 수들의 규칙에 따라 계속하여 적어 나가면 475는 원  $O_m$  과 직선  $l_n$  의 교점 위에 있다.  $m + n$  의 값을 구하시오.

080623나

# 5172

44번

수열  $\{a_n\}$  의 첫째항부터 제  $n$  항까지의 합  $S_n$  이  $S_n = n^2 - 3n$  일 때,  $a_{100}$  의 값을 구하시오.

070618나

# 5257

45번

수열  $\{a_n\}$  이  $a_1 = 0, a_n + a_{n+1} = n$  을 만족시킨다. 다음은 두

자연수  $m, n$  에 대하여  $\sum_{k=n-m+1}^{n+m} a_k$  의 값을 구하는 과정이다.

(단,  $m < n$  이다.)

$$\begin{aligned} & \sum_{k=n-m+1}^{n+m} a_k \\ &= a_{n-m+1} + a_{n-m+2} + \dots + a_{n+m-1} + a_{n+m} \\ &= (n-m+1) + (n-m+3) + \dots + (n+m-3) + \boxed{\text{(가)}} \\ &= \frac{\boxed{\text{(나)}} \{n-m+1\} + \boxed{\text{(가)}}}{2} \\ &= \boxed{\text{(다)}} \end{aligned}$$

위 과정에서 (가), (나), (다)에 알맞은 것은?

- |                   |                   |
|-------------------|-------------------|
| (가) : $n + m - 1$ | (가) : $n + m - 1$ |
| ① (나) : $m$       | ② (나) : $m$       |
| (다) : $mn$        | (다) : $n^2$       |
| (가) : $n + m - 1$ | (가) : $n + m$     |
| ③ (나) : $n$       | ④ (나) : $m - 1$   |
| (다) : $n^2$       | (다) : $mn$        |
| (가) : $n + m$     |                   |
| ⑤ (나) : $n - 1$   |                   |
| (다) : $n^2$       |                   |

070911가 외 1회

# 4830

46번

첫째항이 0 이고 공차가 0 이 아닌 등차수열  $\{a_n\}$  에 대하여 수열  $\{b_n\}$  이  $a_{n+1}b_n = \sum_{k=1}^n a_k$  를 만족시킬 때,  $b_{27}$  의 값을 구하시오.

071122가 외 1회

# 4871

47번

$p \geq 2$  인 자연수  $p$  에 대하여 수열  $\{a_n\}$  이 다음 세 조건을 만족시킨다.

- (가)  $a_1 = 0$
- (나)  $a_{k+1} = a_k + 1$  ( $1 \leq k \leq p-1$ )
- (다)  $a_{k+p} = a_k$  ( $k = 1, 2, 3, \dots$ )

<보기>에서 옳은 것을 모두 고른 것은?

<보기>

- ㄱ.  $a_{2k} = 2a_k$
- ㄴ.  $a_1 + a_2 + \dots + a_p = \frac{p(p-1)}{2}$
- ㄷ.  $a_p + a_{2p} + \dots + a_{kp} = k(p-1)$

- ① ㄱ
- ② ㄴ
- ③ ㄷ
- ④ ㄴ, ㄷ
- ⑤ ㄱ, ㄴ, ㄷ

061129나

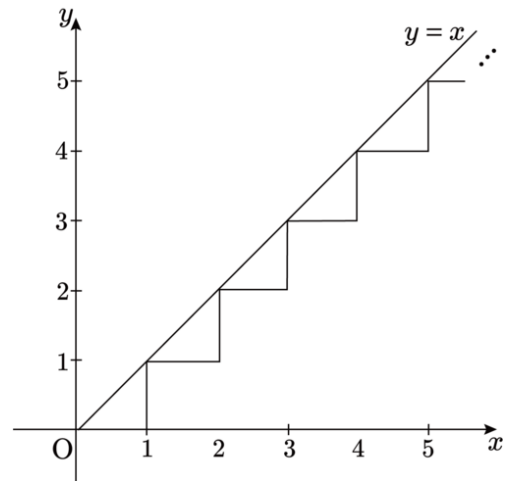
# 6695

48번

좌표평면에서 그림과 같이 길이가 1인 선분이 수직으로 만나도록 연결된 경로가 있다. 이 경로를 따라 원점에서 멀어지도록 움직이는 점 P의 위치를 나타내는 점  $A_n$ 을 다음과 같은 규칙으로 정한다.

- i.  $A_0$ 은 원점이다.
- ii.  $n$ 이 자연수일 때,  $A_n$ 은 점  $A_{n-1}$ 에서 점 P가 경로를 따라  $\frac{2n-1}{25}$ 만큼 이동한 위치에 있는 점이다.

예를 들면, 점  $A_2$ 와  $A_6$ 의 좌표는 각각  $(\frac{4}{25}, 0)$ ,  $(1, \frac{11}{25})$ 이다. 자연수  $n$ 에 대하여 점  $A_n$  중 직선  $y = x$ 위에 있는 점을 원점에서 가까운 순서대로 나열할 때, 두 번째 점의  $x$ 좌표를  $a$ 라 하자.  $a$ 의 값을 구하시오.



190929나

# 8270

49번

두 수열  $\{a_n\}, \{b_n\}$  이 모든 자연수  $n$  에 대하여  $a_n + b_n = 10$  을 만족시킨다.  $\sum_{k=1}^{10} (a_k + 2b_k) = 160$  일 때,  $\sum_{k=1}^{10} b_k$  의 값은?

- ① 60
- ② 70
- ③ 80
- ④ 90
- ⑤ 100

180911나

# 1734

50번

좌표평면에서 함수

$$f(x) = \begin{cases} -x + 10 & (x < 10) \\ (x - 10)^2 & (x \geq 10) \end{cases}$$

과 자연수  $n$  에 대하여 점  $(n, f(n))$  을 중심으로 하고 반지름의 길이가 3인 원  $O_n$  이 있다.  $x$  좌표와  $y$  좌표가 모두 정수인 점 중에서 원  $O_n$  의 내부에 있고 함수  $y = f(x)$  의 그래프의 아랫부분에 있는 모든 점의 개수를  $A_n$ , 원  $O_n$  의 내부에 있고 함수  $y = f(x)$  의 그래프의 윗부분에 있는 모든 점의 개수를  $B_n$  이라 하자.

$\sum_{n=1}^{20} (A_n - B_n)$  의 값은?

- ① 19
- ② 21
- ③ 23
- ④ 25
- ⑤ 27

171121나

# 1564

51번

$\sum_{k=1}^{10} (k-1)(k+2)$  의 값을 구하시오.

050918나

# 6774

52번

아래 그림과 같이 자연수  $n$  에 대하여  $n$  개의 항

$$\left[ \frac{n}{1} \right], \left[ \frac{n}{2} \right], \left[ \frac{n}{3} \right], \dots, \left[ \frac{n}{n} \right]$$

이  $n$  행에 1열부터  $n$  열까지 차례로 나열되어 있다.

(단,  $[x]$  는  $x$  보다 크지 않은 최대의 정수이다.)

	1열	2열	3열	4열	5열	...	$n$ 열	...
1행	1							
2행	2	1						
3행	3	1	1					
4행	4	2	1	1				
5행	5	2	1	1	1			
⋮								
$n$ 행	$\left[ \frac{n}{1} \right]$	$\left[ \frac{n}{2} \right]$	$\left[ \frac{n}{3} \right]$			...		$\left[ \frac{n}{n} \right]$
⋮								

<보기>에서 옳은 것을 모두 고른 것은?

<보기>

- ㄱ.  $n$ 행에서 그 값이 1인 항은  $\left[ \frac{n+1}{2} \right]$  개이다.
- ㄴ. 100행에서 그 값이 3인 항은 8개이다.
- ㄷ. 3열에서 그 값이 5인 항은 5개이다.

- ① ㄱ
- ② ㄴ
- ③ ㄷ
- ④ ㄱ, ㄴ
- ⑤ ㄱ, ㄴ, ㄷ

051111가 외 1회

# 6792

53번

방정식  $x^3 + 1 = 0$ 의 한 허근을  $w$ 라 하자. 자연수  $n$ 에 대하여

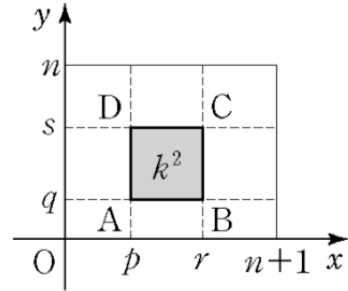
$f(n)$ 을  $w^n$ 의 실수 부분으로 정의할 때,  $\sum_{k=1}^{999} \left\{ f(k) + \frac{1}{3} \right\}$ 의 값을 구하시오.

050930나

# 6781

54번

자연수  $n$  과  $0 \leq p < r \leq n + 1, 0 \leq q < s \leq n$  을 만족시키는 네 정수  $p, q, r, s$  에 대하여 좌표평면에서 네 점  $A(p, q), B(r, q), C(r, s), D(p, s)$  를 꼭짓점으로 하고 넓이가  $k^2$  인 정사각형의 개수를  $a_k$  라고 하자. 다음은  $\sum_{k=1}^n a_k$ 의 값을 구하는 과정이다. (단,  $k$  는  $n$  이하의 자연수이다.)



그림과 같이 넓이가  $k^2$  인 정사각형 ABCD 를 만들 때, 두 점 A, B 의  $y$ 좌표가 주어지면  $x$ 좌표의 차가  $r - p = k$  인 변  $AB$  를 택하는 경우의 수는  $\boxed{\text{(가)}}$  이다.

또 두 점 A, D 의  $x$ 좌표가 주어지면  $y$ 좌표의 차가  $s - q = k$  인 변  $AD$  를 택하는 경우의 수는  $\boxed{\text{(나)}}$  이다.

따라서

$$a_k = (n + 1)(n + 2) - (2n + 3)k + k^2$$

이다. 그러므로

$$\begin{aligned} \sum_{k=1}^n a_k &= \sum_{k=1}^n \{ (n + 1)(n + 2) - (2n + 3)k + k^2 \} \\ &= \boxed{\text{(다)}} \end{aligned}$$

(가), (나), (다) 에 들어갈 식으로 알맞은 것은?

- |  |  |
|--|--|
| ① (가): $n - k + 1$<br>(나): $n - k + 2$<br>(다): $\frac{n(n + 1)(n + 2)}{6}$ | ② (가): $n - k + 2$<br>(나): $n - k + 1$<br>(다): $\frac{n(n + 1)(n + 2)}{6}$ |
| ③ (가): $n - k + 1$<br>(나): $n - k + 2$<br>(다): $\frac{n(n + 1)(n + 2)}{3}$ | ④ (가): $n - k + 2$<br>(나): $n - k + 1$<br>(다): $\frac{n(n + 1)(n + 2)}{3}$ |
| ⑤ (가): $n - k + 1$<br>(나): $n - k + 2$<br>(다): $\frac{n(n + 1)(n + 2)}{2}$ |  |

090612가 외 1회

# 4711

55번

$n$  이 자연수일 때,  $x$  에 대한 이차방정식

$$x^2 - (2n - 1)x + n(n - 1) = 0$$

의 두 근을  $\alpha_n, \beta_n$  이라 하자.  $\sum_{n=1}^{81} \frac{1}{\sqrt{\alpha_n} + \sqrt{\beta_n}}$  의 값을 구하시오.

200926나

# 10185

57번

자연수  $n$ 에 대하여 다항식  $2x^2 - 3x + 1$ 을  $x - n$ 으로 나누었을 때의 나머지를  $a_n$ 이라 할 때,  $\sum_{n=1}^7 (a_n - n^2 + n)$ 의 값을 구하시오.

201125나

# 11190

56번

수열  $\{a_n\}$ 이 모든 자연수  $n$ 에 대하여 다음 조건을 만족시킨다.

$$(가) a_{2n} = a_n - 1$$

$$(나) a_{2n+1} = 2a_n + 1$$

$a_{20} = 1$  일 때,  $\sum_{n=1}^{63} a_n$ 의 값은?

① 704

② 712

③ 720

④ 728

⑤ 736

201121나

# 11186

## 빠른 정답표

1번. ①	2번. ③	3번. 94	4번. 345	5번. 14
6번. ⑤	7번. ②	8번. 256	9번. ④	10번. ②
11번. 150	12번. ②	13번. ④	14번. 14	15번. ①
16번. ④	17번. ②	18번. ①	19번. ④	20번. ④
21번. 100	22번. 19	23번. ④	24번. ⑤	25번. 34
26번. ①	27번. 11	28번. ⑤	29번. ①	30번. 15
31번. 35	32번. 440	33번. ①	34번. 29	35번. 392
36번. 63	37번. 21	38번. ①	39번. 5	40번. ⑤
41번. ③	42번. 110	43번. 64	44번. 196	45번. ①
46번. 13	47번. ④	48번. 8	49번. ①	50번. ④
51번. 420	52번. ④	53번. 332	54번. ④	55번. 9
56번. ④	57번. 91			

# 6.

## 수학적 귀납법

평가원 46 문항





1번

자연수  $n$ 에 대하여 순서쌍  $(x_n, y_n)$ 을 다음 규칙에 따라 정한다.

(가)  $(x_1, y_1) = (1, 1)$

(나)  $n$ 이 홀수이면  $(x_{n+1}, y_{n+1}) = (x_n, (y_n - 3)^2)$ 이고,

$n$ 이 짝수이면  $(x_{n+1}, y_{n+1}) = ((x_n - 3)^2, y_n)$ 이다.

순서쌍  $(x_{2015}, y_{2015})$ 에서  $x_{2015} + y_{2015}$ 의 값을 구하시오.

150628나

# 1931

2번

수열  $\{a_n\}$ 이 다음 조건을 만족시킨다.

(가)  $a_1 = a_2 + 3$

(나)  $a_{n+1} = -2a_n (n \geq 1)$

$a_9$ 의 값을 구하시오.

141124나

# 1957

3번

수열  $\{a_n\}$ 이  $a_1 = 1$ 이고, 모든 자연수  $n$ 에 대하여

$$a_{n+1} = \frac{2n}{n+1} a_n$$

을 만족시킬 때,  $a_4$ 의 값은?

- ①  $\frac{3}{2}$     ② 2    ③  $\frac{5}{2}$     ④ 3    ⑤  $\frac{7}{2}$

121105나

# 2118

4번

수열  $\{a_n\}$ 은  $a_1 = 2$ 이고, 모든 자연수  $n$ 에 대하여

$$a_{n+1} = \begin{cases} a_n - 1 & (a_n \text{이 짝수인 경우}) \\ a_n + n & (a_n \text{이 홀수인 경우}) \end{cases}$$

를 만족시킨다.  $a_7$ 의 값은?

- ① 7    ② 9    ③ 11    ④ 13    ⑤ 15

181113나

# 2246

5번

수열  $\{a_n\}$  이  $a_1 = 3$  이고  $a_{n+1} - a_n = 4n - 3$  일 때,  $a_{10}$  의 값을 구하시오.

080621나

# 5170

6번

수열  $\{a_n\}$  이

$$a_1 = 1$$

$$a_{n+1} = \begin{cases} \frac{1}{2}a_n & (a_n \geq 2) \\ \sqrt[3]{2}a_n & (a_n < 2) \end{cases}$$

를 만족시킬 때,  $a_{112}$  의 값은 ?

- ① 1
- ②  $3\sqrt{2}$
- ③  $\sqrt{2}$
- ④  $3\sqrt[3]{4}$
- ⑤ 2

070626나

# 5265

7번

다음은 어느 시력검사표에 표시된 시력과 그에 해당되는 문자의 크기를 나타낸 것의 일부이다.

시력	0.1	0.2	0.3	0.4	...	1.0
문자의 크기	$a_1$	$a_2$	$a_3$	$a_4$	...	$a_{10}$

문자의 크기  $a_n$  은 다음 관계식을 만족시킨다.

$$a_1 = 10A, a_{n+1} = \frac{10A \cdot a_n}{10A + a_n}$$

(단,  $A$  는 상수이고  $n = 1, 2, 3, \dots, 9$  이다.)

이 시력검사표에서 시력 0.8 에 해당되는 문자의 크기는?

- ①  $2A$
- ②  $\frac{3}{2}A$
- ③  $\frac{4}{3}A$
- ④  $\frac{5}{4}A$
- ⑤  $\frac{6}{5}A$

070928나

# 5297

8번

다음은 19세기 초 조선의 수학자 홍길주가 소개한 제곱근을 구하는 계산법의 일부를 재구성한 것이다.

1보다 큰 자연수  $p$ 에서 1을 뺀 수를  $p_1$ 이라 한다.  
 $p_1$ 이 2보다 크면  $p_1$ 에서 2를 뺀 수를  $p_2$ 라 한다.  
 $p_2$ 가 3보다 크면  $p_2$ 에서 3을 뺀 수를  $p_3$ 이라 한다.  
 $\vdots$   
 $p_{k-1}$ 이  $k$ 보다 크면  $p_{k-1}$ 에서  $k$ 를 뺀 수를  $p_k$ 라 한다.  
 이와 같은 과정을 계속하여  $n$ 번째 얻은 수  $p_n$ 이  $(n+1)$ 보다 작으면 이 과정을 멈춘다.  
 이때,  $2p_n$ 이  $(n+1)$ 과 같으면  $p$ 는 (가)이다.

(가)에 들어갈 식으로 알맞은 것은?

- ①  $n + 1$
- ②  $\frac{(n+1)^2}{2}$
- ③  $\left\{ \frac{n(n+1)}{2} \right\}^2$
- ④  $2^{n+1}$
- ⑤  $(n+1)!$

080616가 외 1회

# 4745

9번

두 수열  $\{a_n\}, \{b_n\}$  은  $a_1 = a_2 = 1, b_1 = k$  이고, 모든 자연수  $n$  에 대하여

$$a_{n+2} = (a_{n+1})^2 - (a_n)^2, \quad b_{n+1} = a_n - b_n + n$$

을 만족시킨다.  $b_{20} = 14$  일 때,  $k$  의 값은?

- ① -3      ② -1      ③ 1      ④ 3      ⑤ 5

180919나

# 1742

10번

수열  $\{a_n\}$  에서  $a_1 = 2$  이고,  $n \geq 1$  일 때  $a_{n+1}$  은

$$\frac{1}{n+2} < \frac{a_n}{k} < \frac{1}{n}$$

을 만족시키는 자연수  $k$  의 개수이다.  $a_{10}$  의 값을 구하시오.

130628가 외 1회

# 1151

11번

수열  $\{a_n\}$  이  $a_1 = 0$  이고

$$a_{n+1} = (-1)^n a_n + \sin\left(\frac{n\pi}{2}\right) \quad (n \geq 1)$$

을 만족시킬 때,  $a_{50}$  의 값은?

- ① -50      ② -25      ③ 0  
④ 25      ⑤ 50

140518나

# 5420

12번

자연수  $n$  에 대하여 점  $P_n$  이 원  $x^2 + y^2 = 1$  위의 점일 때, 점  $P_{n+1}$  을 다음 규칙에 따라 정한다. (단, 점  $P_n$  은 좌표축 위의 점이 아니다.)

- (가) 점  $P_n$  이 제1사분면 위의 점이면, 점  $P_{n+1}$  은 점  $P_n$  을 원 위의 호를 따라 시계 반대 방향으로  $\frac{\pi}{2}$  만큼 이동시킨 점이다.  
(나) 점  $P_n$  이 제2사분면 또는 제4사분면 위의 점이면, 점  $P_{n+1}$  은 점  $P_n$  을  $x$  축에 대하여 대칭이동시킨 점이다.  
(다) 점  $P_n$  이 제3사분면 위의 점이면, 점  $P_{n+1}$  은 점  $P_n$  을  $y$  축에 대하여 대칭이동시킨 점이다.

점  $P_1$  의 좌표가  $\left(\frac{1}{2}, \frac{\sqrt{3}}{2}\right)$  일 때, 점  $P_{2007}$  의 좌표는?

- ①  $\left(-\frac{1}{2}, -\frac{\sqrt{3}}{2}\right)$       ②  $\left(-\frac{\sqrt{3}}{2}, -\frac{1}{2}\right)$   
③  $\left(\frac{1}{2}, -\frac{\sqrt{3}}{2}\right)$       ④  $\left(\frac{\sqrt{3}}{2}, -\frac{1}{2}\right)$   
⑤  $\left(\frac{1}{2}, \frac{\sqrt{3}}{2}\right)$

070611나

# 5250

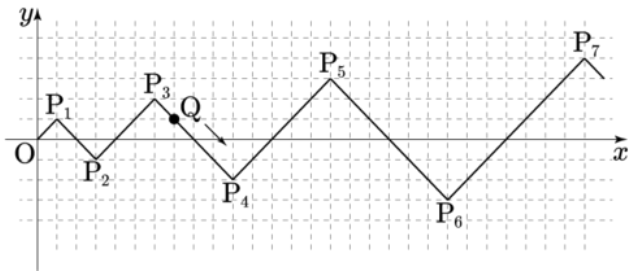
13번

자연수  $n$ 에 대하여 좌표평면 위의 점  $P_n(x_n, y_n)$ 을 다음 규칙에 따라 정한다.

(가)  $x_1 = y_1 = 1$

(나) 
$$\begin{cases} x_{n+1} = x_n + (n+1) \\ y_{n+1} = y_n + (-1)^n \times (n+1) \end{cases} \quad (n \geq 1)$$

점  $Q$ 는 원점  $O$ 를 출발하여  $\overline{OP_1}$ 을 따라 점  $P_1$ 에 도착한다. 자연수  $n$ 에 대하여 점  $P_n$ 에 도착한 점  $Q$ 는 점  $P_{n+1}$ 을 향하여  $\overline{P_n P_{n+1}}$ 을 따라 이동한다. 점  $Q$ 는 한 번에  $\sqrt{2}$ 만큼 이동한다. 예를 들어, 원점에서 출발하여 7번 이동한 점  $Q$ 의 좌표는  $(7, 1)$ 이다. 원점에서 출발하여 55번 이동한 점  $Q$ 의  $y$ 좌표는?



- ① -5
- ② -6
- ③ -7
- ④ -8
- ⑤ -9

140616나

# 2009

14번

수열  $\{a_n\}$ 은  $a_1 = 2$ 이고, 모든 자연수  $n$ 에 대하여

$$a_{n+1} = \begin{cases} \frac{a_n}{2 - 3a_n} & (n \text{이 홀수인 경우}) \\ 1 + a_n & (n \text{이 짝수인 경우}) \end{cases}$$

를 만족시킨다.  $\sum_{n=1}^{40} a_n$ 의 값은?

- ① 30
- ② 35
- ③ 40
- ④ 45
- ⑤ 50

191113나

# 8574

15번

수열  $\{a_n\}$ 에서  $a_1 = 1, a_2 = 4, a_3 = 10$ 이고, 수열  $\{a_{n+1} - a_n\}$ 은 등비수열일 때,  $a_5$ 의 값을 구하시오.

061119나

# 6688

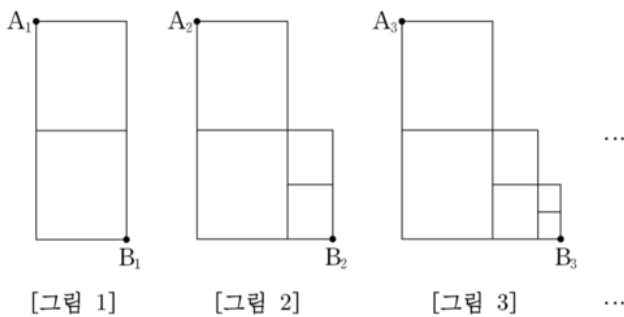
16번

그림과 같이 직사각형에서 세로를 각각 이등분하는 점 2개를 연결하는 선분을 그린 그림을 [그림 1]이라 하자.

[그림 1]을  $\frac{1}{2}$  만큼 축소시킨 도형을 [그림 1]의 오른쪽 맨 아래 꼭짓점을 하나의 꼭짓점으로 하여 오른쪽에 이어 붙인 그림을 [그림 2]라 하자.

이와 같이 3 이상의 자연수  $k$ 에 대하여 [그림 1]을  $\frac{1}{2^{k-1}}$  만큼 축소시킨 도형을 [그림  $k-1$ ]의 오른쪽 맨 아래 꼭짓점을 하나의 꼭짓점으로 하여 오른쪽에 이어 붙인 그림을 [그림  $k$ ]라 하자.

자연수  $n$ 에 대하여 [그림  $n$ ]에서 왼쪽 맨 위 꼭짓점을  $A_n$ , 오른쪽 맨 아래 꼭짓점을  $B_n$ 이라 할 때, 점  $A_n$ 에서 점  $B_n$ 까지 선을 따라 최단거리로 가는 경로의 수를  $a_n$ 이라 하자.  $a_7$ 의 값을 구하시오.



140929나

# 1992

17번

수열  $\{a_n\}$ 은  $a_1 = 2$ 이고,  $S_n = \sum_{k=1}^n a_k$ 라 할 때,

$$a_{n+1} = \frac{S_n}{a_n} \quad (n \geq 1)$$

을 만족시킨다. 다음은  $S_n$ 을 구하는 과정이다.

주어진 식으로부터  $a_2 = \frac{S_1}{a_1} = 1$ 이다.

$n \geq 3$ 일 때,

$$a_n = \frac{S_{n-1}}{a_{n-1}} = \frac{S_{n-2} + a_{n-1}}{a_{n-1}} = \frac{a_{n-2}a_{n-1} + a_{n-1}}{a_{n-1}}$$

이므로

$$a_n = a_{n-2} + 1 \text{ 이다.}$$

따라서 일반항  $a_n$ 을 구하면, 자연수  $k$ 에 대하여

$$n = 2k - 1 \text{ 일 때, } a_{2k-1} = k + 1$$

$$n = 2k \text{ 일 때, } a_{2k} = \boxed{(가)}$$

한편,  $S_n = a_n a_{n+1}$ 이므로

$$S_n = \begin{cases} (k+1) \times \boxed{(가)} & (n = 2k - 1) \\ \boxed{(나)} & (n = 2k) \end{cases}$$

이다.

위의 (가), (나)에 알맞은 식을 각각  $f(k), g(k)$ 라 할 때,  $f(6) + g(7)$ 의 값은?

- ① 65
- ② 67
- ③ 69
- ④ 71
- ⑤ 73

130615가 외 1회

# 1138

18번

자연수  $n$ 에 대하여 좌표평면 위의 점  $P_n$ 을 다음 규칙에 따라 정한다.

- (가) 세 점  $P_1, P_2, P_3$ 의 좌표는 각각  $(-1, 0), (1, 0), (-1, 2)$ 이다.
- (나) 선분  $P_n P_{n+1}$ 의 중점과 선분  $P_{n+2} P_{n+3}$ 의 중점은 같다.

예를 들어, 점  $P_4$ 의 좌표는  $(1, -2)$ 이다. 점  $P_{25}$ 의 좌표가  $(a, b)$ 일 때,  $a + b$ 의 값을 구하시오.

131127가 외 1회

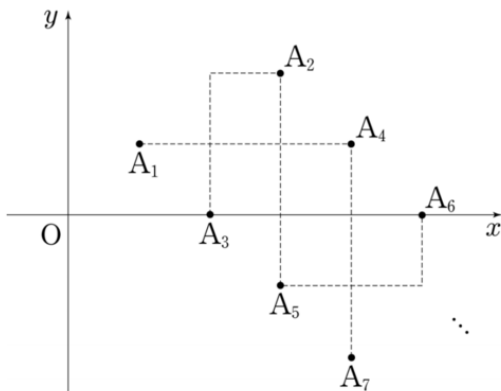
# 1210

19번

자연수  $n$ 에 대하여 좌표평면 위의 점  $A_n$ 을 다음 규칙에 따라 정한다.

- (가) 점  $A_1$ 의 좌표는  $(1, 1)$ 이다.
- (나)  $n$ 이 짝수이면 점  $A_n$ 은  $A_{n-1}$ 을  $x$ 축의 방향으로 2만큼,  $y$ 축의 방향으로 1만큼 평행이동한 점이다.
- (다)  $n$ 이 3 이상의 홀수이면 점  $A_n$ 은 점  $A_{n-1}$ 을  $x$ 축의 방향으로  $-1$ 만큼,  $y$ 축의 방향으로  $-2$ 만큼 평행이동한 점이다.

위의 규칙에 따라 정해진 점  $A_k$ 의 좌표가  $(7, -2)$ 이고 점  $A_l$ 의 좌표가  $(9, -7)$ 일 때,  $k + l$ 의 값은?



- ① 27      ② 29      ③ 31      ④ 33      ⑤ 35

120617가 외 1회

# 1050

20번

수열  $\{a_n\}$ 은  $a_1 = 1$ 이고,

$$a_{n+1} = \frac{3a_n - 1}{4a_n - 1} \quad (n \geq 1)$$

을 만족시킨다. 다음은 일반항  $a_n$ 을 구하는 과정의 일부이다.

모든 자연수  $n$ 에 대하여

$$4a_{n+1} - 1 = 4 \times \frac{3a_n - 1}{4a_n - 1} - 1 = 2 - \frac{1}{4a_n - 1} \text{이다.}$$

수열  $\{b_n\}$ 을

$$b_1 = 1, b_{n+1} = (4a_n - 1)b_n \quad (n \geq 1) \cdots (*)$$

이라 하면,

$\vdots$

$$b_{n+2} - b_{n+1} = b_{n+1} - b_n \text{이다.}$$

즉,  $\{b_n\}$ 은 등차수열이므로 (\*)에 의하여

$$b_n = \boxed{\text{가}} \text{이고,}$$

$$a_n = \boxed{\text{나}} \text{이다.}$$

위의 (가), (나)에 알맞은 식을 각각  $f(n), g(n)$ 이라 할 때,  $f(14) \times g(5)$ 의 값은?

- ① 15      ② 16      ③ 17      ④ 18      ⑤ 19

120919가 외 1회

# 1082

21번

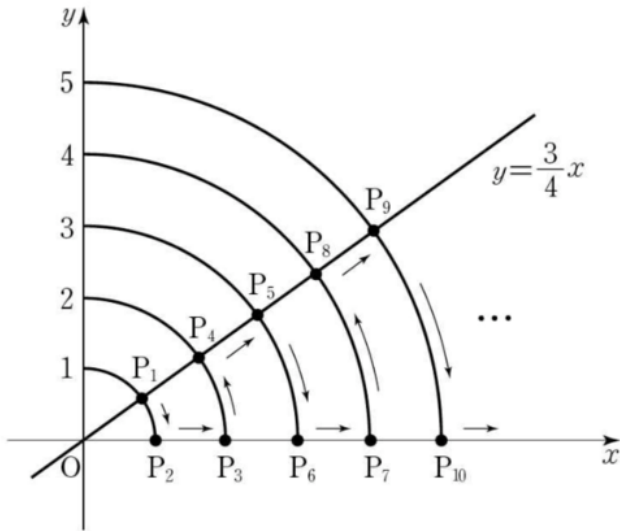
수열  $\{a_n\}$  의 제  $n$  항  $a_n$  을  $\frac{n}{3^k}$  이 자연수가 되게 하는 음이 아닌 정수  $k$  의 최댓값이라 하자. 예를 들어  $a_1 = 0$  이고  $a_6 = 1$  이다.  $a_m = 3$  일 때,  $a_m + a_{2m} + a_{3m} \cdots + a_{9m}$  의 값을 구하시오.

100922가 외 1회

# 4601

22번

다음 그림은 좌표평면에서 원점을 중심으로 하고 반지름의 길이가 1 부터 1 씩 증가하는 원들이 두 직선  $y = \frac{3}{4}x, y = 0$  과 각각 만나는 점들의 일부를  $P_1$  부터 시작하여 화살표 방향을 따라  $P_1, P_2, P_3, \dots$  으로 나타낸 것이다.



점  $P_{25}$  의  $x$  좌표는?

- ①  $\frac{52}{5}$
- ② 11
- ③  $\frac{56}{5}$
- ④ 12
- ⑤  $\frac{64}{5}$

100907나

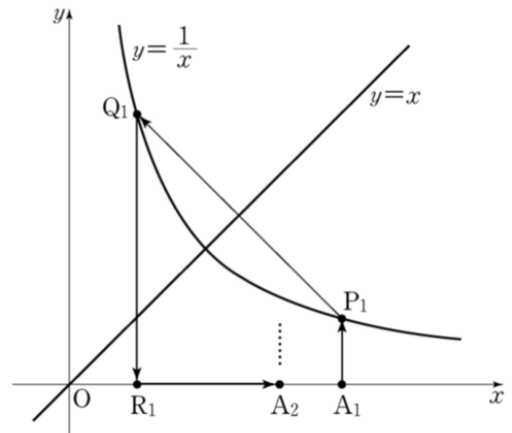
# 5006

23번

자연수  $n$  에 대하여 점  $A_n$  이  $x$  축 위의 점일 때, 점  $A_{n+1}$  을 다음 규칙에 따라 정한다.

- (가) 점  $A_1$  의 좌표는  $(2, 0)$  이다.
- (나) (1) 점  $A_n$  을 지나고  $y$  축에 평행한 직선이 곡선  $y = \frac{1}{x} (x > 0)$  과 만나는 점을  $P_n$  이라 한다.
- (2) 점  $P_n$  을 직선  $y = x$  에 대하여 대칭이동한 점을  $Q_n$  이라 한다.
- (3) 점  $Q_n$  을 지나고  $y$  축에 평행한 직선이  $x$  축과 만나는 점을  $R_n$  이라 한다.
- (4) 점  $R_n$  을  $x$  축의 방향으로 1만큼 평행이동한 점을  $A_{n+1}$  이라 한다.

점  $A_n$  의  $x$  좌표를  $x_n$  이라 하자.  $x_5 = \frac{q}{p}$  일 때,  $p + q$  의 값을 구하시오. (단,  $p, q$  는 서로소인 자연수이다.)



101122가 외 1회

# 4631

24번

수열  $\{a_n\}$  이  $a_{n+1} - a_n = 2n$  을 만족시킨다.  $a_{10} = 94$  일 때,  $a_1$  의 값은?


- ① 5
- ② 4
- ③ 3
- ④ 2
- ⑤ 1

101126나

# 4995

25번

그림과 같이 나무에 55 개의 전구가 맨 위 첫 번째 줄에는 1 개, 두 번째 줄에는 2 개, 세 번째 줄에는 3 개, ..., 열 번째 줄에는 10 개가 설치되어 있다. 전원을 넣으면 이 전구들은 다음 규칙에 따라 작동한다.



(가)

$n$  이 10 이하의 자연수일 때,  $n$  번째 줄에 있는 전구는  $n$  초가 되는 순간 처음 켜진다.

(나)

모든 전구는 처음 켜진 후 1 초 간격으로 꺼짐과 켜짐을 반복한다.

전원을 넣고  $n$  초가 되는 순간 켜지는 모든 전구의 개수를  $a_n$  이라고 하자. 예를 들어  $a_1 = 1, a_2 = 2, a_4 = 6, a_{11} = 25$  이다.

$\sum_{n=1}^{14} a_n$  의 값은?

- ① 215
- ② 220
- ③ 225
- ④ 230
- ⑤ 235

090615가 외 1회

# 4714

26번

두 수열  $\{a_n\}, \{b_n\}$  이 자연수  $n$  에 대하여

$$a_n = 5n + 1$$

$$b_1 = 1, b_{n+1} - b_n = n + 1$$

을 만족시킨다. 10 이하인 두 자연수  $k, l$  에 대하여  $a_k$  와  $b_l$  의 곱이 홀수가 되는 순서쌍  $(k, l)$  의 개수를 구하시오.

090621나

# 5080

27번

자연수  $n(n \geq 2)$  으로 나누었을 때, 몫과 나머지가 같아지는 자연수를 모두 더한 값을  $a_n$  이라 하자. 예를 들어 4 로 나누었을 때, 몫과 나머지가 같아지는 자연수는 5, 10, 15 이므로  $a_4 = 5 + 10 + 15 = 30$  이다.  $a_n > 500$  을 만족시키는 자연수  $n$  의 최솟값을 구하시오.

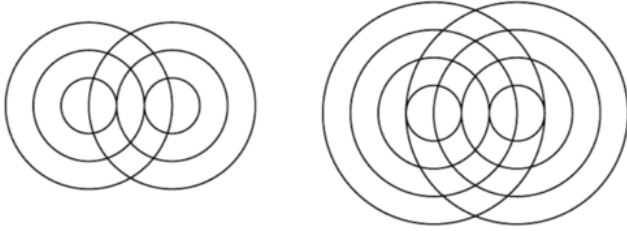
091123가 외 1회

# 4662



28번

거리가 3 인 두 점  $O, O'$  이 있다. 점  $O$  를 중심으로 반지름의 길이가 각각  $1, 2, \dots, n$  인  $n$  개의 원과 점  $O'$  을 중심으로 반지름의 길이가 각각  $1, 2, \dots, n$  인  $n$  개의 원이 있다. 이  $2n$  개 원의 모든 교점의 개수를  $a_n$  이라 하자. 예를 들어, 그림에서와 같이  $a_3 = 14, a_4 = 26$  이다.  $a_{20}$  의 값은?



30번

자연수  $n$  에 대하여 점  $P_n$  을 다음 규칙에 따라 정한다.

(가) 점  $P_1$  의 좌표는  $(1, 1)$  이다.

(나) 점  $P_n$  의 좌표가  $(a, b)$  일 때,

$b < 2^a$  이면 점  $P_{n+1}$  의 좌표는  $(a, b + 1)$  이고

$b = 2^a$  이면 점  $P_{n+1}$  의 좌표는  $(a + 1, 1)$  이다.

점  $P_n$  의 좌표가  $(10, 2^{10})$  일 때,  $n$  의 값은?

- ①  $2^{10} - 2$
- ②  $2^{10} + 2$
- ③  $2^{11} - 2$
- ④  $2^{11}$
- ⑤  $2^{11} + 2$

070916가 외 1회

# 4835

32번

수열  $\{a_n\}$  에 대하여  $a_1 = 2$  이고  $a_{n+1} = 2a_n + 2$  일 때,  $a_{10}$  의 값은?

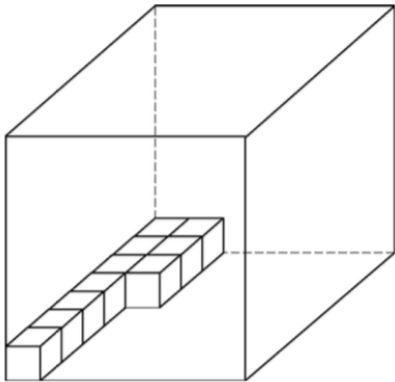
- ① 1022
- ② 1024
- ③ 2021
- ④ 2046
- ⑤ 2082

071126나

# 5325

33번

한 변의 길이가 70cm인 정육면체 모양의 상자에 한 변의 길이가 10cm인 정육면체 모양의 나무 블록을 다음 규칙에 따라 빈틈없이 가득 채우려고 한다.



$n$ 번째에 넣는 나무 블록의 개수를  $a_n$ 이라 할 때,

(가)  $a_1 = 10$

(나)  $a_{n+1} = \left\lceil \frac{a_n}{2} \right\rceil + 3, n = 1, 2, 3, \dots$

(단,  $\lceil x \rceil$ 는  $x$ 를 넘지 않은 최대의 정수이다.)

(다) 상자를 가득 채우면 나무 블록 넣기를 멈춘다.

$k$ 번째에 상자를 가득 채웠다고 할 때,  $k$ 의 값을 구하시오.

(단, 상자의 두께는 무시한다.)

060924가 외 1회

# 6624

34번

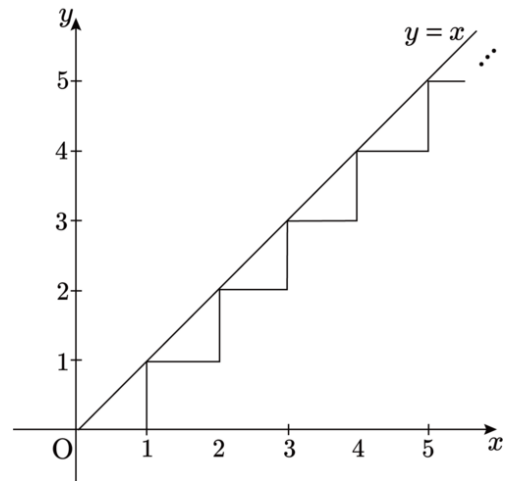
좌표평면에서 그림과 같이 길이가 1인 선분이 수직으로 만나도록 연결된 경로가 있다. 이 경로를 따라 원점에서 멀어지도록 움직이는 점 P의 위치를 나타내는 점  $A_n$ 을 다음과 같은 규칙으로 정한다.

i.  $A_0$ 은 원점이다.

ii.  $n$ 이 자연수일 때,  $A_n$ 은 점  $A_{n-1}$ 에서 점 P가 경로를 따라  $\frac{2n-1}{25}$ 만큼 이동한 위치에 있는 점이다.

예를 들면, 점  $A_2$ 와  $A_6$ 의 좌표는 각각  $(\frac{4}{25}, 0)$ ,  $(1, \frac{11}{25})$ 이다.

자연수  $n$ 에 대하여 점  $A_n$  중 직선  $y = x$ 위에 있는 점을 원점에서 가까운 순서대로 나열할 때, 두 번째 점의  $x$ 좌표를  $a$ 라 하자.  $a$ 의 값을 구하시오.



190929나

# 8270

35번

수열  $\{a_n\}$ 이 모든 자연수  $n$ 에 대하여

$$a_n a_{n+1} = 2n$$

이고  $a_3 = 1$ 일 때,  $a_2 + a_5$ 의 값은?

- ①  $\frac{13}{3}$     ②  $\frac{16}{3}$     ③  $\frac{19}{3}$     ④  $\frac{22}{3}$     ⑤  $\frac{25}{3}$

190911나

# 8252

37번

첫째항이  $a$  인 수열  $\{a_n\}$  은 모든 자연수  $n$  에 대하여,

$$a_{n+1} = \begin{cases} a_n + (-1)^n \times 2 & (n \text{이 } 3 \text{의 배수가 아닌 경우}) \\ a_n + 1 & (n \text{이 } 3 \text{의 배수인 경우}) \end{cases}$$

를 만족시킨다.  $a_{15} = 43$  일 때,  $a$  의 값은?

- ① 35    ② 36    ③ 37    ④ 38    ⑤ 39

170620나

# 1503

36번

공차가 0 이 아닌 등차수열  $\{a_n\}$  이 있다. 수열  $\{b_n\}$  은

$$b_1 = a_1$$

이고, 2 이상의 자연수  $n$  에 대하여

$$b_n = \begin{cases} b_{n-1} + a_n & (n \text{이 } 3 \text{의 배수가 아닌 경우}) \\ b_{n-1} - a_n & (n \text{이 } 3 \text{의 배수인 경우}) \end{cases}$$

이다.  $b_{10} = a_{10}$  일 때,  $\frac{b_8}{b_{10}} = \frac{q}{p}$  이다.  $p + q$  의 값을 구하시오.

(단,  $p$  와  $q$  는 서로소인 자연수이다.)

180629나

# 1722

38번

수열  $\{a_n\}$ 은  $a_1 = 1$ 이고, 모든 자연수  $n$ 에 대하여

$$a_{n+1} + (-1)^n \times a_n = 2^n$$

을 만족시킨다.  $a_5$ 의 값은?

- ① 1    ② 3    ③ 5    ④ 7    ⑤ 9

200609나

# 9603

39번

수열  $\{a_n\}$  은  $a_1 = 3$  이고

$$na_{n+1} - 2na_n + \frac{n+2}{n+1} = 0 \quad (n \geq 1)$$

을 만족시킨다. 다음은 일반항  $a_n$  이

$$a_n = 2^n + \frac{1}{n} \dots\dots (*)$$

임을 수학적 귀납법을 이용하여 증명한 것이다.

(i)  $n = 1$  일 때, (좌변)  $= a_1 = 3$ , (우변)  $= 2^1 + \frac{1}{1} = 3$   
 이므로 (\*)이 성립한다.  
 (ii)  $n = k$  일 때 (\*)이 성립한다고 가정하면  
 $a_k = 2^k + \frac{1}{k}$  이므로  
 $ka_{k+1} = 2ka_k - \frac{k+2}{k+1}$   
 $= \boxed{(가)} - \frac{k+2}{k+1}$   
 $= k2^{k+1} + \boxed{(나)}$   
 이다. 따라서  $a_{k+1} = 2^{k+1} + \frac{1}{k+1}$  이므로  
 $n = k + 1$  일 때도 (\*)이 성립한다.  
 (i), (ii)에 의하여 모든 자연수  $n$  에 대하여  
 $a_n = 2^n + \frac{1}{n}$  이다.

위의 (가), (나)에 알맞은 식을 각각  $f(k), g(k)$  라 할 때,  
 $f(3) \times g(4)$  의 값은?

- ① 32      ② 34      ③ 36      ④ 38      ⑤ 40

140912나

# 1975

40번

수열  $\{a_n\}$  이  $a_1 = \alpha (\alpha \neq 0)$  이고, 모든  $n (n \geq 2)$  에 대하여

$$(n-1)a_n + \sum_{m=1}^{n-1} ma_m = 0$$

을 만족시킨다. 다음은

$$a_n = \frac{(-1)^{n-1}}{(n-1)!} \alpha \quad (n \geq 1)$$

임을 수학적귀납법을 이용하여 증명한 것이다.

<증명>  
 (1)  $n = 1$  일 때,  $a_1 = \alpha = \frac{(-1)^{1-1}}{(1-1)!} \alpha$  이다.  
 (2) i)  $n = 2$  일 때,  $a_2 + a_1 = 0$  이므로  
 $a_2 = -a_1 = \frac{(-1)^{2-1}}{(2-1)!} \alpha$  이다.  
 따라서 주어진 식이 성립한다.  
 ii)  $n = k (k \geq 2)$  일 때 성립한다고 가정하고,  
 $n = k + 1$  일 때 성립함을 보이자.  

$$0 = ka_{k+1} + \sum_{m=1}^k ma_m$$

$$= ka_{k+1} + \sum_{m=1}^{k-1} ma_m + ka_k$$

$$= ka_{k+1} + \boxed{(가)} \times a_k + ka_k$$
 이므로  

$$a_{k+1} = \boxed{(나)} \times a_k = \frac{(-1)^k}{k!} \alpha$$
 이다.  
 따라서 모든 자연수  $n$  에 대하여  

$$a_n = \frac{(-1)^{n-1}}{(n-1)!} \alpha$$
 이다.

위의 (가), (나)에 알맞은 식의 곱을  $f(k)$  라 할 때,  $f(10)$  의 값은?

- ①  $\frac{1}{10}$       ②  $\frac{3}{10}$       ③  $\frac{1}{2}$       ④  $\frac{7}{10}$       ⑤  $\frac{9}{10}$

110613가 외 1회

# 4532

41번

다음은 모든 자연수  $n$ 에 대하여 등식

$$\sum_{k=0}^n \frac{{}_n C_k}{{}_{n+4} C_k} = \frac{n+5}{5}$$

가 성립함을 수학적귀납법으로 증명한 것이다.

<증명>

(1)  $n = 1$  일 때,

$$\text{(좌변)} = \frac{{}_1 C_0}{{}_5 C_0} + \frac{{}_1 C_1}{{}_5 C_1} = \frac{6}{5}$$

$$\text{(우변)} = \frac{1+5}{5} = \frac{6}{5} \text{ 이므로 주어진 등식은 성립한다.}$$

(2)  $n = m$  일 때, 등식

$$\sum_{k=0}^m \frac{{}_m C_k}{{}_{m+4} C_k} = \frac{m+5}{5}$$

가 성립한다고 가정하자.  $n = m + 1$  일 때,

$$\sum_{k=0}^{m+1} \frac{{}_{m+1} C_k}{{}_{m+5} C_k} = \boxed{\text{(가)}} + \sum_{k=0}^m \frac{{}_{m+1} C_{k+1}}{{}_{m+5} C_{k+1}}$$

이다. 자연수  $l$ 에 대하여

$${}_{l+1} C_{k+1} = \boxed{\text{(나)}} \cdot {}_l C_k \quad (0 \leq k \leq l) \text{ 이므로}$$

$$\sum_{k=0}^m \frac{{}_{m+1} C_{k+1}}{{}_{m+5} C_{k+1}} = \boxed{\text{(다)}} \cdot \sum_{k=0}^m \frac{{}_m C_k}{{}_{m+4} C_k} \text{ 이다. 따라서}$$

$$\begin{aligned} \sum_{k=0}^{m+1} \frac{{}_{m+1} C_k}{{}_{m+5} C_k} &= \boxed{\text{(가)}} + \boxed{\text{(다)}} \cdot \sum_{k=0}^m \frac{{}_m C_k}{{}_{m+4} C_k} \\ &= \frac{m+6}{5} \end{aligned}$$

그러므로 모든 자연수  $n$ 에 대하여 주어진 등식이 성립한다.

위의 과정에서 (가), (나), (다)에 알맞은 것은?

- ① (가) : 1 (나) :  $\frac{l+2}{k+2}$  (다) :  $\frac{m+1}{m+4}$
- ② (가) : 1 (나) :  $\frac{l+1}{k+1}$  (다) :  $\frac{m+1}{m+5}$
- ③ (가) : 1 (나) :  $\frac{l+1}{k+1}$  (다) :  $\frac{m+1}{m+4}$
- ④ (가) :  $m+1$  (나) :  $\frac{l+1}{k+1}$  (다) :  $\frac{m+1}{m+5}$
- ⑤ (가) :  $m+1$  (나) :  $\frac{l+2}{k+2}$  (다) :  $\frac{m+1}{m+4}$

101112가 외 1회

# 4621

42번

수열  $\{a_n\}$  이

$$\begin{cases} a_1 = \frac{1}{2} \\ (n+1)(n+2)a_{n+1} = n^2 a_n \quad (n = 1, 2, 3, \dots) \end{cases}$$

일 때, 다음은 모든 자연수  $n$ 에 대하여

$$\sum_{k=1}^n a_k = \sum_{k=1}^n \frac{1}{k^2} - \frac{n}{n+1} \quad \dots (*)$$

이 성립함을 수학적귀납법으로 증명한 것이다.

<증명>

$$(1) n = 1 \text{ 일 때, (좌변)} = \frac{1}{2}, \text{(우변)} = 1 - \frac{1}{2} = \frac{1}{2}$$

이므로 (\*) 이 성립한다.

(2)  $n = m$  일 때, (\*) 이 성립한다고 가정하면

$$\sum_{k=1}^m a_k = \sum_{k=1}^m \frac{1}{k^2} - \frac{m}{m+1}$$

이다.  $n = m + 1$  일 때, (\*) 이 성립함을 보이자.

$$\begin{aligned} \sum_{k=1}^{m+1} a_k &= \sum_{k=1}^m \frac{1}{k^2} - \frac{m}{m+1} + a_{m+1} \\ &= \sum_{k=1}^m \frac{1}{k^2} - \frac{m}{m+1} + \boxed{\text{(가)}} a_m \\ &= \sum_{k=1}^m \frac{1}{k^2} - \frac{m}{m+1} \\ &\quad + \frac{m^2}{(m+1)(m+2)} \cdot \frac{(m-1)^2}{m(m+1)} \cdot \dots \cdot \frac{1^2}{2 \cdot 3} a_1 \end{aligned}$$

$$= \sum_{k=1}^m \frac{1}{k^2} - \frac{m}{m+1} + \boxed{\text{(나)}}$$

$$= \sum_{k=1}^m \frac{1}{k^2} - \frac{m}{m+1} + \frac{1}{(m+1)^2} - \boxed{\text{(다)}}$$

$$= \sum_{k=1}^{m+1} \frac{1}{k^2} - \frac{m+1}{m+2}$$

그러므로  $n = m + 1$  일 때 (\*) 이 성립한다.

따라서 모든 자연수  $n$ 에 대하여 (\*) 이 성립한다.

위 증명에서 (가), (나), (다)에 들어갈 식으로 알맞은 것은?

- (가)  $\frac{m}{(m+1)(m+2)}$       (가)  $\frac{m}{(m+1)(m+2)}$
- ① (나)  $\frac{1}{(m+1)^2(m+2)}$       ② (나)  $\frac{m}{(m+1)^2(m+2)}$
- (다)  $\frac{1}{(m+1)(m+2)^2}$       (다)  $\frac{1}{(m+1)(m+2)}$
- (가)  $\frac{m^2}{(m+1)(m+2)}$       (가)  $\frac{m^2}{(m+1)(m+2)}$

③ (나)  $\frac{1}{(m+1)^2(m+2)}$

④ (나)  $\frac{1}{(m+1)^2(m+2)}$

(다)  $\frac{1}{(m+1)(m+2)^2}$

(다)  $\frac{1}{(m+1)(m+2)}$

(가)  $\frac{m^2}{(m+1)(m+2)}$

⑤ (나)  $\frac{m}{(m+1)^2(m+2)}$

(다)  $\frac{1}{(m+1)(m+2)^2}$

091110가 외 1회

# 4649

43번

다음은 모든 자연수  $n$ 에 대하여

$$\sum_{k=1}^n (5k-3) \left( \frac{1}{k} + \frac{1}{k+1} + \frac{1}{k+2} + \dots + \frac{1}{n} \right) = \frac{n(5n+3)}{4}$$

이 성립함을 수학적귀납법으로 증명한 것이다.

<증명>

(1)  $n = 1$ 일 때, (좌변) = 2, (우변) = 2 이므로  
주어진 등식은 성립한다.

(2)  $n = m$ 일 때 성립한다고 가정하면

$$\sum_{k=1}^m (5k-3) \left( \frac{1}{k} + \frac{1}{k+1} + \frac{1}{k+2} + \dots + \frac{1}{m} \right) = \frac{m(5m+3)}{4}$$

이다.  $n = m + 1$ 일 때 성립함을 보이자.

$$\begin{aligned} & \sum_{k=1}^{m+1} (5k-3) \left( \frac{1}{k} + \frac{1}{k+1} + \dots + \frac{1}{m+1} \right) \\ &= \sum_{k=1}^m (5k-3) \left( \frac{1}{k} + \frac{1}{k+1} + \dots + \frac{1}{m+1} \right) + \boxed{\text{(가)}} \\ &= \sum_{k=1}^m (5k-3) \left( \frac{1}{k} + \frac{1}{k+1} + \dots + \frac{1}{\boxed{\text{(나)}}} \right) \\ & \quad + \frac{1}{m+1} \sum_{k=1}^m (5k-3) + \frac{\boxed{\text{(가)}}}{m+1} \\ &= \frac{m(5m+3)}{4} + \frac{1}{m+1} \sum_{k=1}^{m+1} \boxed{\text{(다)}} \\ &= \frac{(m+1)(5m+8)}{4} \end{aligned}$$

그러므로  $n = m + 1$ 일 때도 성립한다.

따라서 모든 자연수  $n$ 에 대하여 주어진 등식은 성립한다.

위의 증명에서 (가), (나), (다)에 알맞은 것은 ?

- |                |                 |                |
|----------------|-----------------|----------------|
| (가) : $5m - 3$ | (가) : $5m - 3$  | (가) : $5m + 2$ |
| ① (나) : $m$    | ② (나) : $m + 1$ | ③ (나) : $m$    |
| (다) : $5k + 2$ | (다) : $5k + 2$  | (다) : $5k - 3$ |
| (가) : $5m + 2$ | (가) : $5m + 2$  |                |
| ④ (나) : $m$    | ⑤ (나) : $m + 1$ |                |
| (다) : $5k + 2$ | (다) : $5k - 3$  |                |

061116가 외 1회

# 6664

44번

다음은 모든 자연수  $n$ 에 대하여

$$1 \cdot n + 2 \cdot (n - 1) + 3 \cdot (n - 2) + \dots + (n - 1) \cdot 2 + n \cdot 1 = \frac{n(n+1)(n+2)}{6}$$

이 성립함을 수학적귀납법으로 증명한 것이다.

<증명>

(i)  $n = 1$ 일 때, (좌변) = 1, (우변) = 1 이므로 주어진 식은 성립한다.

(ii)  $n = k$ 일 때 성립한다고 가정하면

$$1 \cdot k + 2 \cdot (k - 1) + 3 \cdot (k - 2) + \dots + k \cdot 1 = \frac{k(k+1)(k+2)}{6}$$

이다.  $n = k + 1$ 일 때 성립함을 보이자.

$$\begin{aligned} 1 \cdot (k + 1) + 2 \cdot k + 3 \cdot (k - 1) + \dots + (k + 1) \cdot 1 &= 1 \cdot k + 2 \cdot (k - 1) + 3 \cdot (k - 2) + \dots + k \cdot 1 \\ &\quad + (1 + 2 + 3 + \dots + k) + \boxed{\text{(가)}} \\ &= \frac{k(k+1)(k+2)}{6} + \boxed{\text{(나)}} \\ &= \boxed{\text{(다)}} \end{aligned}$$

그러므로  $n = k + 1$ 일 때도 성립한다.

따라서 모든 자연수  $n$ 에 대하여 주어진 등식은 성립한다.

위의 증명에서 (가),(나),(다)에 알맞은 것을 차례로 나열한 것은?

(가):  $k$

① (나):  $\frac{k(k+1)}{2}$   
 (다):  $\frac{(k+1)(k+2)(k+3)}{6}$

(가):  $k$

② (나):  $\frac{k(k+3)}{2}$   
 (다):  $\frac{(k+1)(k+2)(k+3)}{6}$

(가):  $k$

③ (나):  $\frac{(k+1)(k+2)}{2}$   
 (다):  $\frac{k(k+1)(k+2)}{6}$

(가):  $k + 1$

④ (나):  $\frac{(k+1)(k+2)}{2}$   
 (다):  $\frac{(k+1)(k+2)(k+3)}{6}$

45번

다음은 모든 자연수  $n$ 에 대하여 부등식

$$\sum_{i=1}^{2n+1} \frac{1}{n+i} = \frac{1}{n+1} + \frac{1}{n+2} + \dots + \frac{1}{3n+1} > 1$$

이 성립함을 수학적귀납법으로 증명한 것이다.

<증명>

자연수  $n$ 에 대하여

$a_n = \frac{1}{n+1} + \frac{1}{n+2} + \dots + \frac{1}{3n+1}$ 이라 할 때,  
 $a_n > 1$ 임을 보이면 된다.

(1)  $n = 1$ 일 때  $a_1 = \frac{1}{2} + \frac{1}{3} + \frac{1}{4} > 1$ 이다.

(2)  $n = k$ 일 때  $a_k > 1$ 이라고 가정하면

$n = k + 1$ 일 때

$$\begin{aligned} a_{k+1} &= \frac{1}{k+2} + \frac{1}{k+3} + \dots + \frac{1}{3k+4} \\ &= a_k + \left( \frac{1}{3k+2} + \frac{1}{3k+3} + \frac{1}{3k+4} \right) - \boxed{\text{(가)}} \end{aligned}$$

한편,  $(3k+2)(3k+4) \boxed{\text{(나)}} (3k+3)^2$ 이므로

$$\frac{1}{3k+2} + \frac{1}{3k+4} > \boxed{\text{(다)}}$$

그런데  $a_k > 1$ 이므로

$$a_{k+1} > a_k + \left( \frac{1}{3k+3} + \boxed{\text{(다)}} \right) - \boxed{\text{(가)}} > 1$$

그러므로 (1), (2)에 의하여 모든 자연수  $n$ 에 대하여  $a_n > 1$ 이다.

위의 증명에서 (가), (나), (다)에 알맞은 것은?

(가):  $\frac{1}{k+1}$

(가):  $\frac{1}{k+1}$

(가):  $\frac{1}{k+1}$

① (나):  $>$

② (나):  $<$

③ (나):  $<$

(다):  $\frac{2}{3k+3}$

(다):  $\frac{2}{3k+3}$

(다):  $\frac{4}{3k+3}$

(가):  $\frac{2}{k+1}$

(가):  $\frac{2}{k+1}$

④ (나):  $>$

⑤ (나):  $<$

46번

수열  $\{a_n\}$  이 모든 자연수  $n$  에 대하여

$$a_{n+1} + a_n = 3n - 1$$

을 만족시킨다.  $a_3 = 4$  일 때,  $a_1 + a_5$  의 값을 구하시오.

200924나

# 10183



## 빠른 정답표

1번. 8	2번. 256	3번. ②	4번. ②	5번. 156
6번. ⑤	7번. ④	8번. ②	9번. ①	10번. 513
11번. ④	12번. ①	13번. ①	14번. ①	15번. 46
16번. 255	17번. ③	18번. 23	19번. ①	20번. ①
21번. 31	22번. ①	23번. 21	24번. ②	25번. ⑤
26번. 30	27번. 11	28번. ②	29번. ④	30번. ③
31번. ④	32번. ④	33번. 56	34번. 8	35번. ②
36번. 13	37번. ⑤	38번. ④	39번. ⑤	40번. ⑤
41번. ②	42번. ④	43번. ③	44번. ④	45번. ②
46번. 8				