

6 / 9 / 수능 사회 문화

평가원

계층 자료

1. 20수능

20. 다음 자료에 대한 옳은 분석만을 <보기>에서 있는 대로 고른 것은? [3점]

갑국의 계층은 상층, 중층, 하층으로만 구분되며, A~C는 각각 상층, 중층, 하층 중 하나이다. 부모 세대의 계층 구성비는 A:B:C = 3:6:1이고, 모든 부모의 자녀는 1명씩이다.

<부모 세대와 자녀 세대 간 계층 이동 현황> (단위: %)

구분	A	B	C
부모 세대 계층 대비 부모 세대와 자녀 세대의 계층 일치 비율	50	25	50
자녀 세대 계층 대비 부모 세대와 자녀 세대의 계층 불일치 비율	25	50	90

+ 자녀 세대 A는 부모 세대보다 계층이 낮을 수 없다.
 ** B는 다이아몬드형 계층 구조에서 가장 비율이 높은 계층이다.

<보기>

ㄱ. 세대 간 상승 이동 비율이 세대 간 하강 이동 비율보다 낮다.
 ㄴ. 자녀 세대의 계층 구조는 부모 세대의 계층 구조보다 사회 통합에 유리하다.
 ㄷ. 중층 부모를 둔 하층 자녀 인구는 상층 부모를 둔 중층 자녀 인구의 최대 3배이다.
 ㄹ. 중층 대물림 인구 대비 상층 대물림 인구의 비는 하층 대물림 인구 대비 중층 대물림 인구의 비보다 낮다.

- ① ㄱ, ㄴ ② ㄱ, ㄹ ③ ㄴ, ㄷ
 ④ ㄱ, ㄷ, ㄹ ⑤ ㄴ, ㄷ, ㄹ

2. 2009

20. 다음 자료에 대한 분석으로 옳은 것은? (단, 제시된 자료 이외의 다른 조건은 고려하지 않는다.) [3점]

갑국 정부는 세대 간 계층 이동 가능성을 높이기 위한 분배 정책의 효과를 알아보기 위해 갑국 내 모든 부모의 자녀가 1명씩인 (가), (나) 지역에 정책을 적용해 보았다. 갑국은 사회 계층을 상층, 중층, 하층으로만 구분하며, A~C는 상층, 중층, 하층 중 하나이다.

<자녀 세대 계층 인구 대비 부모 세대 계층 인구의 상대적 비>

계층	상대적 비	
	(가) 지역	(나) 지역
A	0.8	1.6
B	0.4	0.4
C	2.0	1.0

<각 계층의 대물림 인구의 비율>

구분	비율	
	(가) 지역	(나) 지역
부모와 자녀가 모두 A인 인구 비율	40%	30%
부모와 자녀가 모두 B인 인구 비율	30%	40%
부모와 자녀가 모두 C인 인구 비율	50%	50%

* (가), (나) 지역의 부모 세대 인구는 동일하며, (가), (나) 지역의 자녀 세대 인구도 동일하다. 두 지역 모두 부모 세대의 계층 구조는 피라미드형이다.
 ** (가), (나) 지역 각각 부모 세대의 각 계층 간 인구의 상대적 비는 A:B+C = 2:3, B:A+C = 1:9로 동일하다.

- ① 세대 간 상승 이동을 통해 상승이 된 자녀의 비율은 (가) 지역이 (나) 지역보다 높다.
 ② '분배 정책으로 부모 세대보다 자녀 세대에서 계층 양극화가 완화되었다.'라는 주장의 근거로 (가) 지역보다 (나) 지역의 계층 이동 결과가 적절하다.
 ③ 세대 간 하강 이동한 사람 수는 (나) 지역이 (가) 지역의 5배이다.
 ④ '분배 정책으로 계층 대물림이 강화되었다.'라는 주장의 근거로 (나) 지역보다 (가) 지역의 계층 이동 결과가 적절하다.
 ⑤ (가), (나) 지역 모두에서 중층 부모를 둔 자녀보다 하층 부모를 둔 자녀의 상승 이동 비율이 높다.

3. 2006

4. 19수능

20. 다음 자료에 대한 분석으로 옳은 것은?

20. 다음 자료에 대한 분석으로 옳은 것은?

(가), (나) 사회의 계층은 A~C로만 구성되며, A~C는 각각 상층, 중층, 하층 중 하나이다. 모든 부모의 자녀는 1명씩이다.

<부모 세대와 자녀 세대 계층 구성의 상대적 비>

구분	(가) 사회		(나) 사회	
	부모 세대	자녀 세대	부모 세대	자녀 세대
$\frac{A+C}{A+B}$	$\frac{7}{9}$	$\frac{5}{8}$	$\frac{5}{9}$	$\frac{5}{7}$
$\frac{A+C}{B+C}$	$\frac{7}{4}$	$\frac{5}{7}$	$\frac{5}{6}$	$\frac{5}{8}$

<자녀 세대 계층 대비 부모 세대와 자녀 세대의 계층 불일치 비율>
(단위: %)

구분	(가) 사회	(나) 사회
A	0	20
B	52	10
C	55	80

*자녀 세대 B는 부모 세대보다 계층이 높을 수 없으며, C는 A보다 높은 계층임.

다음은 갑국에서 가구주 1,000명을 대상으로 ㉠부모의 계층과 본인의 현재 계층 간 이동 및 ㉡부모로부터 독립 후 본인의 최초 계층과 현재 계층 간 이동을 조사한 결과이다. (단, 계층은 상층, 중층, 하층으로만 구성된다.)

(계층의 상대적 비(比))

(계층 일치 비율)

구분	A	B
상층	80	100
중층	50	52
하층	80	90

*A: 부모 계층 대비 부모 계층과 본인 현재 계층의 일치 비율(%)
**B: 본인 최초 계층 대비 본인 최초 계층과 현재 계층의 일치 비율(%)

- (가) 사회에서 세대 간 상승 이동을 한 사람의 수는 하층 부모를 둔 자녀보다 중층 부모를 둔 자녀가 많다.
- (나) 사회는 중층 부모를 둔 자녀 중에서 세대 간 상승 이동 비율이 세대 간 하강 이동 비율보다 높다.
- (가) 사회와 달리 (나) 사회에서는 세대 간 이동 비율이 계층 대물림 비율보다 낮다.
- (가) 사회와 달리 (나) 사회에서 부모 세대에는 피라미드형 계층 구조가, 자녀 세대에는 다이아몬드형 계층 구조가 나타난다.
- (가) 사회는 부모 세대 상층에서 자녀 세대 중층으로의 이동이, (나) 사회는 부모 세대 하층에서 자녀 세대 상층으로의 이동이 나타나지 않았다.

- ㉠과 ㉡을 모두 경험한 가구주가 ㉠과 ㉡ 중 어느 하나도 경험하지 않은 가구주보다 적다.
- ㉠을 경험하고 ㉡은 경험하지 않은 가구주가 ㉠은 경험하지 않고 ㉡을 경험한 가구주보다 적다.
- 세대 내 하강 이동보다 세대 내 상승 이동이 많다.
- 현재 계층이 중층인 가구주의 최초 계층은 모두 중층이었다.
- 가구주의 현재 계층 구조가 부모의 계층 구조보다 사회 통합에 유리한 계층 구조이다.

5. 1909

20. 다음 자료에 대한 옳은 분석을 <보기>에서 고른 것은? [3점]

다음은 성인 자녀 1명을 둔 가구주 100명을 대상으로 계층 구성 및 계층 이동의 현황을 조사한 결과이다. 사회 계층은 상층, 중층, 하층으로만 구분하며, A~C는 각각 상층, 중층, 하층 중 하나이다.

<부모 세대와 자녀 세대의 계층 구성>

계층	부모 세대 해당 계층 대비 자녀 세대 해당 계층의 상대적 비(比)
A	1.5
B	1
C	0.8

<부모 세대와 자녀 세대 간 계층 이동 현황>

* A는 C보다 높은 계층이며, 자녀 세대의 상층과 하층 비율은 동일하다.

<보 기>

ㄱ. 부모 세대는 다이아몬드형, 자녀 세대는 피라미드형 계층 구조이다.

ㄴ. 세대 간 계층을 대물림한 사람보다 세대 간 계층 이동한 사람이 많다.

ㄷ. 자녀 세대 계층 대비 부모 세대와 계층이 일치하는 비율은 중층이 가장 높다.

ㄹ. 세대 간 상승 이동한 사람은 세대 간 하강 이동한 사람의 2배를 넘지 않는다.

- ① ㄱ, ㄴ ② ㄱ, ㄷ ③ ㄴ, ㄷ ④ ㄴ, ㄹ ⑤ ㄷ, ㄹ

6. 1906

20. 다음 자료에 대한 분석으로 옳은 것은?

<자료 1> 갑국의 자녀 세대 계층 구성 현황

자녀 세대의 A 비율은 B 비율보다는 20%p 크고, C 비율보다는 30%p 크다. 자녀 세대의 계층 구조는 다이아몬드형이며, C는 B보다 높은 계층이다.

* 갑국의 모든 부모의 자녀는 1명이고, 계층은 상층, 중층, 하층으로만 구분하며, A~C는 각각 상층, 중층, 하층 중 하나임.

** %p: 백분율 간의 차이를 나타내는 단위임. 예를 들어, 20%는 10%보다 10%p 크다고 표현함.

<자료 2> 갑국의 세대 간 계층 이동 현황 (단위: %)

구분	계층 A	계층 B	계층 C
자녀 세대 계층 대비 부모 세대와 자녀 세대의 계층 불일치 비율	90	50	40
부모 세대 계층 대비 부모 세대와 자녀 세대의 계층 일치 비율	25	30	40

* 상층 부모를 둔 중층 자녀 인구는 하층 부모를 둔 상층 자녀 인구의 3배임.

- ① 하층 대비 상층의 비율은 부모 세대가 자녀 세대보다 높다.
- ② 세대 간 상승 이동한 비율이 세대 간 하강 이동한 비율보다 낮다.
- ③ 중층 부모를 둔 하층 자녀의 인구는 중층 부모를 둔 상층 자녀 인구의 4배이다.
- ④ 부모 세대의 계층 구조는 자녀 세대의 계층 구조에 비해 사회 통합에 유리하다.
- ⑤ 자녀 세대 계층 대비 세대 간 이동을 경험하지 않은 비율이 가장 높은 계층은 하층이다.

7. 18수능

20. 다음 자료에 나타난 갑국의 세대 간 계층 이동에 대한 옳은 분석을 <보기>에서 고른 것은? (단, 계층은 상층, 중층, 하층으로만 구분하며, A~C는 각각 상층, 중층, 하층 중 하나이다.) [3점]

〈세대 간 계층별 구성 비율의 상대적 비〉

구분	A	B	C
부모 세대 해당 계층 대비 자녀 세대 해당 계층의 상대적 비	0.5	1	2

〈세대 간 계층 이동 현황〉 (단위: %)

구분	A	B	C
부모 세대 해당 계층 대비 부모와 자녀의 계층 불일치 비율	75	0	50

* 모든 부모의 자녀는 1명이고, 부모 세대의 계층 구조는 다이아몬드형임.
 ** A는 C보다 높은 계층이며, 부모 세대의 계층 구성비에서 A는 B와 C를 합한 것의 1.5배임.

— < 보 기 > —

- ㄱ. 세대 간 상승 이동한 자녀가 세대 간 하강 이동한 자녀의 3배이다.
- ㄴ. 자녀 세대 계층 대비 계층 대물림 비율은 상층이 가장 높고 하층이 가장 낮다.
- ㄷ. 중층으로 세대 간 상승 이동한 자녀와 중층으로 세대 간 하강 이동한 자녀의 수는 같다.
- ㄹ. 세대 간 계층 이동을 한 사람의 수는 중층 부모를 둔 자녀가 하층 부모를 둔 자녀의 3배이다.

- ① ㄱ, ㄴ ② ㄱ, ㄷ ③ ㄴ, ㄷ ④ ㄴ, ㄹ ⑤ ㄷ, ㄹ

8. 1809

20. 다음 자료는 갑국의 세대 간 계층 이동 현황을 나타낸 것이다. 이에 대한 분석으로 옳은 것은?

〈세대별 계층 간 상대적 비율〉

구분	부모 세대	자녀 세대
$\frac{\text{상층+하층}}{\text{전체 계층}}$	$\frac{1}{2}$	$\frac{4}{5}$
$\frac{\text{상층}}{\text{중층+하층}}$	$\frac{1}{4}$	$\frac{1}{3}$

〈자녀 세대 계층 대비 부모와 자녀 계층 일치율의 상대적 비율〉

상층	중층	하층
$\frac{1}{5}$	$\frac{1}{2}$	$\frac{4}{11}$

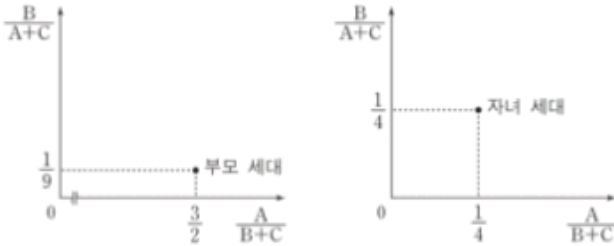
* 모든 부모의 자녀는 1명이고, 갑국의 계층은 상층, 중층, 하층으로만 구분됨.
 ** 상층 부모를 둔 하층 자녀 인구나 하층 부모를 둔 중층 자녀 인구의 비는 2:1임.

- ① 세대 간 계층 일치 비율이 세대 간 계층 이동 비율보다 크다.
- ② 부모 세대 계층 대비 부모와 자녀의 계층 일치 비율은 중층이 상층보다 크다.
- ③ 부모 세대 계층 대비 부모와 자녀의 계층 불일치 비율은 하층이 상층보다 크다.
- ④ 부모 세대 하층에서 자녀 세대 상층으로 이동한 인구나 자녀 세대 중층으로 이동한 인구는 같다.
- ⑤ 갑국에서 부모 세대의 계층 구조는 다이아몬드형이고, 자녀 세대의 계층 구조는 피라미드형이다.

9. 1806

20. 다음 자료에 나타난 세대 간 계층 이동에 대한 옳은 분석을 <보기>에서 고른 것은? (단, A~C는 각각 상승, 중층, 하층 중 하나이다.) [3점]

<★★ 지역의 세대별 계층 간 상대적 비>



<자녀 세대에서 부모와 계층이 일치하는 사람 대비 불일치하는 사람의 비>

자녀 세대 계층		
A	B	C
0.25	4	1.5

- 모든 부모의 자녀는 1명씩이고, 부모 세대의 계층 구조는 피라미드형임.
- 부모 세대 상층에서 자녀 세대 하층으로의 세대 간 이동은 없음.
- 다른 계층에서 중층으로 세대 간 이동한 경우는 모두 ★★ 지역의 산업 구조 변화로 인한 이동이며, 그 외의 이동은 모두 개인적 요인에 의한 것임.

<보기>

- ㄱ. 개인적 이동이 구조적 이동보다 많다.
- ㄴ. 부모 세대 계층 대비 계층 대물림 비율은 하층에서 가장 낮다.
- ㄷ. 중층으로의 세대 간 이동에서 상승 이동은 하강 이동의 5배이다.
- ㄹ. 부모 세대와 자녀 세대 간에 계층 이동을 한 사람은 계층이 대물림된 사람보다 적다.


- ① ㄱ, ㄴ ② ㄱ, ㄷ ③ ㄴ, ㄷ ④ ㄴ, ㄹ ⑤ ㄷ, ㄹ

10. 17수능

20. 다음 자료는 갑국의 세대 간 계층 이동 현황을 나타낸 것이다. 이에 대한 분석으로 옳은 것은?

<세대별 계층의 상대적 비율>

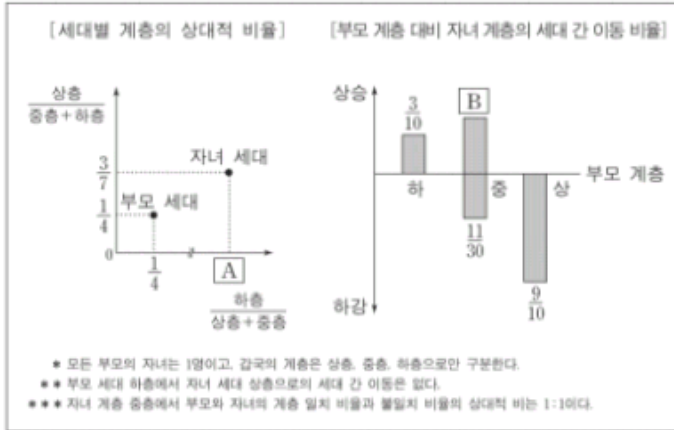
<세대 간 계층 이동 현황>



- 모든 부모의 자녀는 1명이고, 갑국의 계층은 상층, 중층, 하층으로만 구분한다.
- 부모 세대 상층에서 자녀 세대 중층으로 이동한 인구와 부모 세대 상층에서 자녀 세대 하층으로 이동한 인구는 같다.

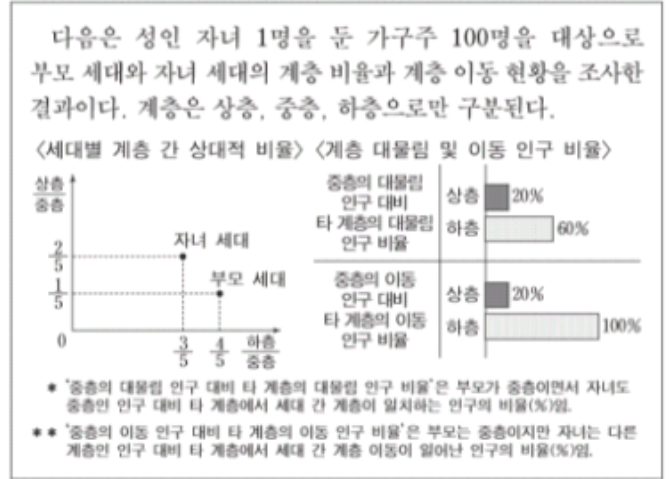
- 세대 간 계층 유지 비율이 이동 비율보다 크다.
- 부모 세대 하층 대비 부모와 자녀가 모두 하층인 비율은 A보다 작다.
- 부모 세대 중층 대비 부모 세대가 중층이고 자녀 세대가 하층인 비율은 B보다 작다.
- 자녀 세대 계층 대비 부모와 자녀의 계층 불일치 비율은 상층이 가장 크다.
- 부모 세대 상층에서 자녀 세대 하층으로 이동한 인구는 부모 세대 하층에서 자녀 세대 중층으로 이동한 인구보다 많다.

20. 다음 자료는 갑국의 세대 간 계층 이동 현황을 나타낸 것이다. 이에 대한 분석으로 옳은 것은?



- ① 부모 세대보다 자녀 세대에서 사회 통합의 필요성이 낮아졌다.
- ② 자녀 세대 계층 대비 부모와 자녀의 계층 일치 비율은 하층이 가장 높다.
- ③ 부모 세대 계층 대비 자녀와 부모의 계층 불일치 비율은 상층보다 하층이 높다.
- ④ 부모 세대 상층과 하층의 합 대비 부모 세대 중층의 상대적 비율은 A보다 크다.
- ⑤ 부모 세대 상층 대비 부모 상층에서 자녀 하층으로의 세대 간 이동 비율은 B보다 작다.

20. 다음 자료에 대한 옳은 분석을 <보기>에서 고른 것은? [3점]



<보기>

- ㄱ. 부모 세대 계층 대비 계층 대물림 비율은 하층이 가장 높다.
- ㄴ. 부모 세대와 자녀 세대는 모두 다이아몬드형 계층 구조이다.
- ㄷ. 부모 세대와 자녀 세대 간 계층 이동한 사람은 계층이 대물림된 사람보다 많다.
- ㄹ. 부모가 하층이었던 자녀 중에 상승 이동한 사람 수는 부모가 상층이었던 자녀 중에 하강 이동한 사람 수의 4배이다.

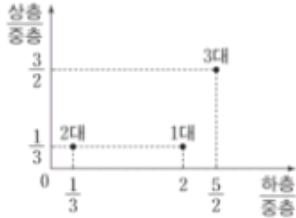
- ① ㄱ, ㄴ ② ㄱ, ㄷ ③ ㄴ, ㄷ ④ ㄴ, ㄹ ⑤ ㄷ, ㄹ

13. 16수능

14. 1609

20. (가), (나)는 갑국의 계층 이동을 나타낸 것이다. 이에 대한 분석으로 옳은 것은? [3점]

(가) 세대별 계층 간 상대적 비율



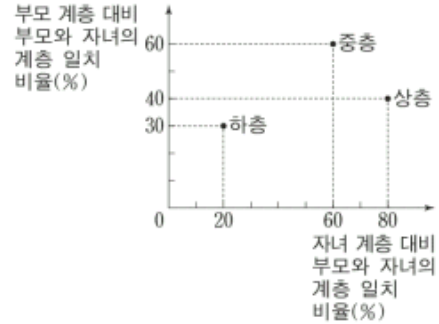
* 1대는 조부모 세대, 2대는 부모 세대, 3대는 자녀 세대이며, 각 세대의 구성원 수는 모든 기층에서 동일함.

(나) 계층 이동 결과

구분		(단위: %)	
		1대 → 2대	2대 → 3대
계층 대물림	상층	8	18
	중층	14	16
	하층	12	18
세대 간 이동		66	48
계		100	100

- ① 2대의 계층 구조보다 3대의 계층 구조가 사회 통합에 더 유리하다.
- ② 1대에서 2대로의 세대 간 이동의 경우, 하강 이동이 상승 이동보다 많다.
- ③ 2대에서 3대로의 세대 간 이동의 경우, 상승 이동이 하강 이동보다 많다.
- ④ 2대에서 3대로의 세대 간 이동의 경우, 상층에서 하층으로의 이동과 하층에서 상층으로의 이동은 모두 나타나지 않았다.
- ⑤ 상층 부모를 둔 사람 중 하강 이동을 한 비율은 1대에서 2대로의 이동에서와 2대에서 3대로의 이동에서가 동일하다.

20. 그림은 갑국의 세대 간 계층 이동 현황을 나타낸 것이다. 이에 대한 분석으로 옳지 않은 것은? (단, 자녀 계층의 구성비는 상층 : 중층 : 하층 = 1 : 6 : 3이며, 모든 부모의 자녀는 1명이다.) [3점]



- ① 세대 간 상승 이동보다 하강 이동이 더 많다.
- ② 부모 세대는 다이아몬드형 계층 구조를 보인다.
- ③ 상층의 하강 이동이 하층의 상승 이동보다 많다.
- ④ 부모 세대와 자녀 세대의 중층은 각각 60%로 동일하다.
- ⑤ 세대 간 계층 이동 비율과 유지 비율은 각각 50%로 동일하다.

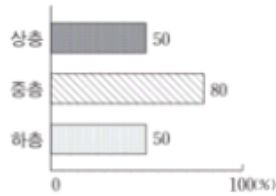
20. (가), (나)에 대한 옳은 분석만을 <보기>에서 있는 대로 고른 것은? [3점]

(가)
〈갑국의 1970년 계층 구조 현황〉

(단위: %)

구분	자녀 세대 계층			계	
	상층	중층	하층		
부모 세대 계층	상층	6	2	2	10
	중층	24	17	19	60
	하층	4	1	25	30
계	34	20	46	100	

(나)
〈갑국의 1970년 자녀 세대 중 2000년에도 계층을 유지한 비율〉



〈보기〉

- ㄱ. (가)에 따르면, 세대 간 상승 이동이 세대 간 하강 이동보다 많다.
- ㄴ. (가)에 따르면, 자녀 세대 중에서 세대 간 이동을 경험한 비율이 가장 낮은 계층은 중층이다.
- ㄷ. (가)에 따르면, 부모 세대의 계층 대비 계층 대불림 비율은 중층에서 가장 낮고 상층에서 가장 높다.
- ㄹ. (가), (나)에 따르면, 자녀 세대 중 세대 내 상승 이동을 한 사람이 세대 내 하강 이동을 한 사람보다 많다.

- ① ㄱ, ㄴ ② ㄴ, ㄷ ③ ㄷ, ㄹ
- ④ ㄱ, ㄴ, ㄹ ⑤ ㄱ, ㄷ, ㄹ

20. 다음 자료에 대한 옳은 분석만을 <보기>에서 있는 대로 고른 것은?

(가), (나)는 갑국에서 부모와 자녀의 계층이 일치하는 비율을 부모 세대와 자녀 세대의 계층별로 각각 나타낸 것이다. 자녀 세대의 계층 구성 비율은 상층 25%, 중층 50%, 하층 25%이다. 모든 부모의 자녀는 1명씩이고, 부모 세대 상층에서 자녀 세대 하층으로의 이동은 발생하지 않았다.

(가) 부모 세대 계층 대비 부모와 자녀의 계층이 일치하는 비율

부모 계층	비율 (%)
상층	75
중층	50
하층	40

(나) 자녀 세대 계층 대비 부모와 자녀의 계층이 일치하는 비율

자녀 계층	비율 (%)
상층	60
중층	30
하층	80

〈보기〉

- ㄱ. 세대 간 이동 비율은 50%이다.
- ㄴ. 세대 간 하강 이동한 자녀보다 세대 간 상승 이동한 자녀가 더 많다.
- ㄷ. 부모 세대보다 자녀 세대의 계층 구조에서 사회 통합의 필요성이 더 크다.
- ㄹ. 부모 세대 하층에서 자녀 세대 상층으로의 세대 간 이동은 발생하지 않았다.

- ① ㄱ, ㄴ ② ㄱ, ㄷ ③ ㄷ, ㄹ
- ④ ㄱ, ㄴ, ㄹ ⑤ ㄴ, ㄷ, ㄹ

20. 다음 자료에 대한 분석으로 옳은 것은? [3점]

표는 갑국의 1980년 대비 2010년 세대 내 이동 현황을 나타낸 것이다. A~C는 각각 상층, 중층, 하층 중 하나이며, 2010년의 계층 구성비는 A : B : C = 2 : 1 : 1이다.

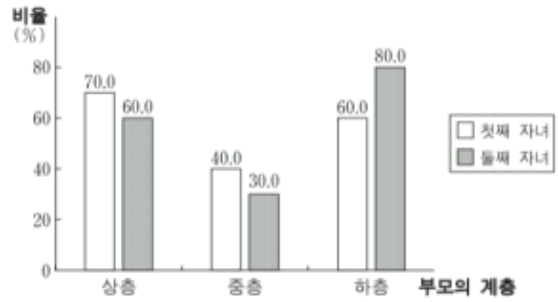
〈1980년 대비 2010년의 세대 내 이동 유형별 비율〉

(단위: %)

1980년의 계층	A			B			C			계
세대 내 이동 유형	상승	하강	동일	상승	하강	동일	상승	하강	동일	
비율	5	5	20	20	0	20	0	20	10	100

- ① 2010년의 중층 중 세대 내 수직 이동을 경험한 비율은 해당 계층의 50% 미만이다.
- ② 1980년보다 2010년의 계층 구조가 더 개방적이며 사회 통합에 유리하다.
- ③ 1980년 계층 대비 2010년에 각 계층별로 계층적 지위가 유지된 비율은 중층과 하층이 동일하다.
- ④ 상층에서 중층으로 세대 내 이동한 인구가 하층에서 중층으로 세대 내 이동한 인구보다 많다.
- ⑤ 상층에서 하층으로의 세대 내 이동과 하층에서 상층으로의 세대 내 이동은 나타나지 않았다.

20. 자료는 부모와 자녀 간의 계층 일치 비율을 나타낸 것이다. 이에 대한 옳은 분석을 <보기>에서 고른 것은? (단, 모든 부모의 자녀는 2명이며, 부모의 계층 구성은 상층 : 중층 : 하층 = 1 : 3 : 1이다.) [3점]



〈보기〉

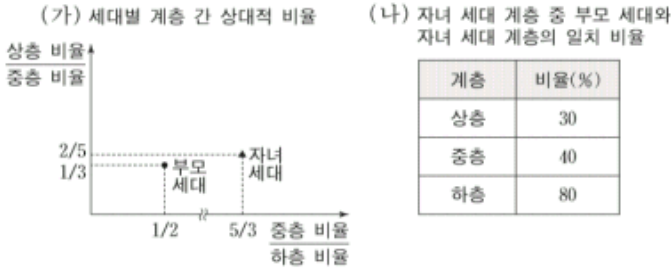
- ㄱ. 첫째 자녀 중 세대 간 하강 이동 비율은 50% 이상이다.
- ㄴ. 둘째 자녀 중 세대 간 수직 이동 비율은 50% 이하이다.
- ㄷ. 부모의 계층이 자녀에게 대물림된 비율은 둘째 자녀보다 첫째 자녀에서 더 높다.
- ㄹ. 상층 부모의 둘째 자녀와 하층 부모의 첫째 자녀 중에서 세대 간 이동을 한 사람의 수는 같다.

- ① ㄱ, ㄴ ② ㄱ, ㄷ ③ ㄴ, ㄷ ④ ㄴ, ㄹ ⑤ ㄷ, ㄹ

19. 14수능

20. 1409

20. (가), (나)는 갑국의 부모 세대와 자녀 세대 간 계층 이동을 나타낸 것이다. 이에 대한 옳은 분석만을 <보기>에서 있는 대로 고른 것은? (단, 계층은 상층, 중층, 하층으로만 구분한다.) [3점]



- 〈보기〉
- ㄱ. 세대 간 이동을 경험한 비율은 50%이다.
 - ㄴ. 부모 세대의 계층 대비 계층 대물림 비율은 하층에서 가장 낮다.
 - ㄷ. 부모 세대보다 자녀 세대의 계층 구조가 더 안정적이며 개방적이다.
 - ㄹ. 세대 간 상승 이동을 한 사람보다 세대 간 하강 이동을 한 사람이 더 많다.

- ① ㄱ, ㄴ ② ㄱ, ㄷ ③ ㄷ, ㄹ
- ④ ㄱ, ㄴ, ㄹ ⑤ ㄴ, ㄷ, ㄹ

20. (가), (나)에 대한 옳은 분석만을 <보기>에서 있는 대로 고른 것은? [3점]

(가) <각국의 세대 간 이동 현황> (나) <자녀 세대의 계층 간 상대적 비율>

(단위: %)

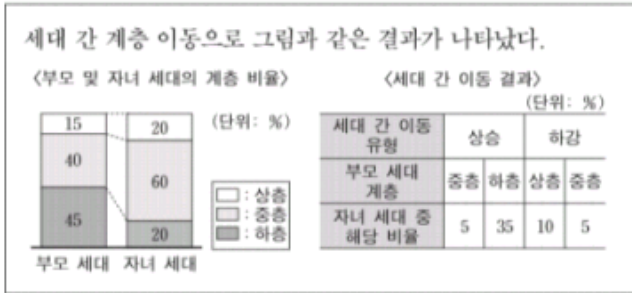
부모 세대 계층 \ 국가 이동 결과	A국			B국		
	일치	하강	상승	일치	하강	상승
상층	8	2	0	20	10	0
중층	14	6	10	0	5	5
하층	34	0	26	20	0	40

구분	국가	
	A국	B국
중층 대비 하층	1/1	1/2
중층 대비 상층	1/2	1/2

- 〈보기〉
- ㄱ. 자녀 세대에서 중층의 비율은 A국과 B국이 동일하다.
 - ㄴ. 부모 세대에서는 B국이 A국에 비해 양극화된 계층 구조를 보인다.
 - ㄷ. 자녀 세대의 계층 대비 부모와 계층이 일치하는 비율은 A국은 상층, B국은 중층이 가장 낮다.
 - ㄹ. A국의 상층은 하층으로 세대 간 이동을 하지 않았으며, B국의 하층은 중층으로만 세대 간 이동을 하였다.

- ① ㄱ, ㄴ ② ㄱ, ㄷ ③ ㄴ, ㄹ
- ④ ㄱ, ㄷ, ㄹ ⑤ ㄴ, ㄷ, ㄹ

20. 다음 자료에 대한 옳은 분석만을 <보기>에서 있는 대로 고른 것은? (단, 계층은 상층, 중층, 하층으로만 구분한다.) [3점]



〈보기〉

ㄱ. 부모 세대의 계층 지위가 대물림된 비율은 45%이다.
 ㄴ. 자녀 세대 중 부모가 상층이고 자녀가 하층인 비율은 5%이다.
 ㄷ. 세대 간 상승 이동한 사람은 세대 간 하강 이동한 사람의 3배 이상이다.
 ㄹ. 세대 간 이동으로 다른 계층에서 유입된 사람들이 가장 많은 계층은 하층이다.

- ① ㄱ, ㄴ ② ㄱ, ㄷ ③ ㄷ, ㄹ
 ④ ㄱ, ㄴ, ㄹ ⑤ ㄴ, ㄷ, ㄹ

20. 그림은 갑국의 세대별 경제력과 위신에 따른 계층 구성비이다. 이에 대한 옳은 분석만을 <보기>에서 있는 대로 고른 것은? [3점]



〈보기〉

ㄱ. 지위 불일치를 보이는 구성원의 비율은 부모 세대보다 자녀 세대에서 더 낮다.
 ㄴ. 경제력 측면에서 보면 중층과 하층에서 상층으로 10%가 세대 간 이동을 하였다.
 ㄷ. 경제력 측면에서 보면 부모 세대에 비해 자녀 세대의 계층 구조가 더 안정적이다.
 ㄹ. 부모 세대에서 경제력과 위신 수준이 일치하는 사람의 수는 경제력과 위신이 낮을수록 더 많다.

- ① ㄱ, ㄴ ② ㄱ, ㄷ ③ ㄷ, ㄹ
 ④ ㄱ, ㄴ, ㄹ ⑤ ㄴ, ㄷ, ㄹ

23. 13수능

20. 표는 (가), (나) 사회의 세대 간 이동에 따른 계층 구성 비율을 나타낸 것이다. 이에 대한 분석으로 옳은 것은? [3점]

(가) 사회

(단위: %)

구분	부모의 계층			계	
	A	B	C		
자녀의 계층	A	18	27	5	100
	B	3	28	2	
	C	4	5	8	
계	100				

(나) 사회

(단위: %)

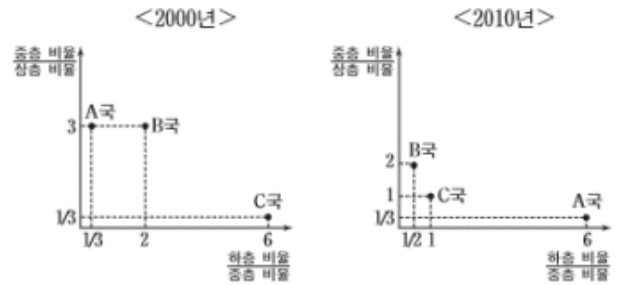
구분	부모의 계층			계	
	A	B	C		
자녀의 계층	A	8	3	3	100
	B	46	17	2	
	C	6	5	10	
계	100				

* A, B, C는 각각 상층, 중층, 하층 중 하나에 해당한다.
 ** (가) 사회에서 부모의 계층 구조는 피라미드형 구조이다.

- ① (가) 사회에서 부모의 계층이 자녀의 계층으로 고착화되는 현상은 상층이 가장 심하다.
- ② (나) 사회는 세대 간 상승 이동이 세대 간 하강 이동보다 더 많다.
- ③ (가) 사회가 (나) 사회보다 세대 간 수직 이동 비율이 크다.
- ④ 부모의 계층 중에서 하층 지위가 대물림된 비율은 (나) 사회가 (가) 사회보다 크다.
- ⑤ 자녀 세대에서는 (나) 사회가 (가) 사회보다 사회 통합에 유리한 계층 구조이다.

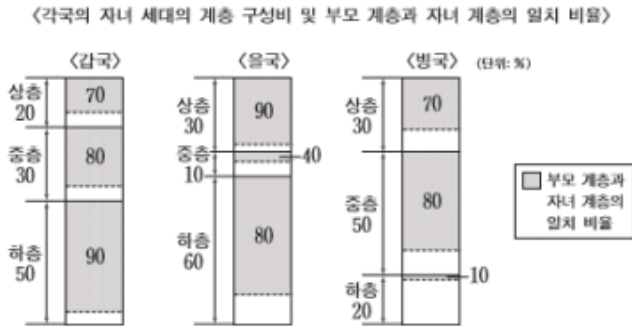
24. 1309

20. 그래프는 A~C국의 2000년과 2010년의 계층 간 상대적 비율을 나타낸 것이다. 이에 대한 설명으로 옳은 것은? (단, 2000년과 2010년 A~C국의 구성원은 변함이 없다고 가정한다.) [3점]



- ① 2000년 상층의 구성 비율은 B국이 가장 높다.
- ② 2010년 A국의 계층 구조는 피라미드형 구조이다.
- ③ 2010년 C국은 폐쇄적 계층 구조로 변화했다.
- ④ 2000년에 비해 2010년 A국에서는 양극화 현상이 완화되었다.
- ⑤ 2000년 대비 2010년 사회 이동의 결과를 보면, B국에서는 하강 이동보다 상승 이동이 더 많다.

20. 그림에 대한 옳은 분석만을 <보기>에서 있는 대로 고른 것은? [3점]

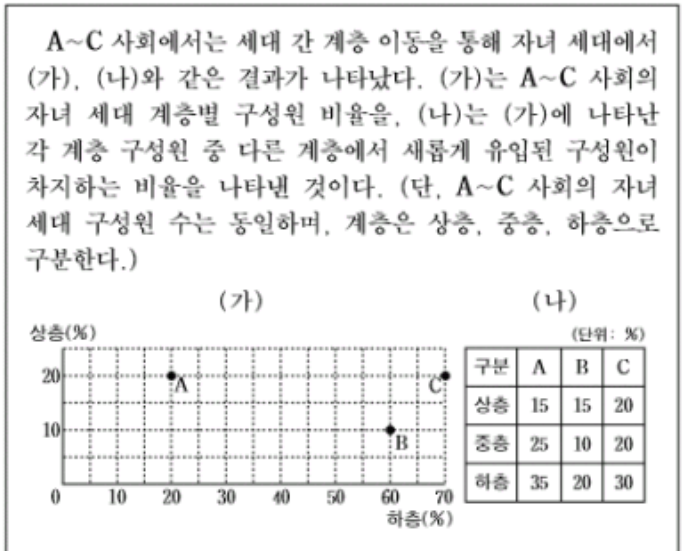


〈보기〉

ㄱ. 갑국에서 부모 계층과 자녀 계층이 일치하는 사람의 수를 보면 상층과 중층의 합이 하층보다 많다.
 ㄴ. 을국에서는 세대 간 상승 이동한 사람보다 세대 간 하강 이동한 사람이 많다.
 ㄷ. 병국에서는 부모 세대의 계층 구조에 비해 자녀 세대의 계층 구조가 안정적이다.
 ㄹ. 자녀 세대의 세대 간 이동 비율을 보면, 갑국은 하층에서 가장 낮고, 병국은 하층에서 가장 높다.

- ① ㄱ, ㄴ ② ㄱ, ㄷ ③ ㄴ, ㄹ
 ④ ㄱ, ㄷ, ㄹ ⑤ ㄴ, ㄷ, ㄹ

20. 다음 자료를 토대로 A~C 사회의 자녀 세대에 대한 옳은 분석만을 <보기>에서 있는 대로 고른 것은? [3점]



〈보기〉

ㄱ. B 사회에서는 세대 간 하강 이동한 사람이 세대 간 상승 이동한 사람보다 많다.
 ㄴ. 세대 간 계층 이동은 C 사회에서 가장 많이 발생하였다.
 ㄷ. 계층 구조로 보면 C 사회가 A 사회보다 안정된 형태를 띠고 있다.
 ㄹ. A~C 사회 모두 세대 간 계층 이동으로 새롭게 유입된 사람은 하층에 가장 많다.

- ① ㄱ, ㄴ ② ㄱ, ㄷ ③ ㄴ, ㄹ
 ④ ㄱ, ㄷ, ㄹ ⑤ ㄴ, ㄷ, ㄹ

8. 표는 A, B 사회의 세대 간 이동을 나타낸 것이다. 이에 대한 옳은 분석만을 <보기>에서 있는 대로 고른 것은? [3점]

부모 \ 자녀	상층	중층	하층	계
상층	5	12	5	22
중층	16	30	18	64
하층	4	8	2	14
계	25	50	25	100

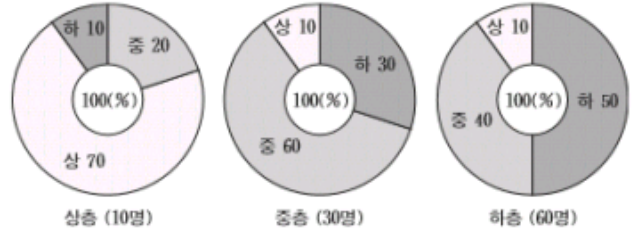
부모 \ 자녀	상층	중층	하층	계
상층	15	1	3	19
중층	2	28	28	58
하층	1	2	20	23
계	18	31	51	100

— <보기> —

- ㄱ. A 사회에서 부모가 중층인 사람 중에서 세대 간에 계층이 고착화된 비율은 60%이다.
- ㄴ. B 사회에서 빈곤이 대물림된 사람은 전체의 23%이다.
- ㄷ. B 사회는 폐쇄적 계층 구조에서 개방적 계층 구조로 바뀌었다.
- ㄹ. A 사회는 B 사회에 비해 세대 간 수직 이동이 활발하다.

- ① ㄱ, ㄴ
- ② ㄱ, ㄹ
- ③ ㄴ, ㄷ
- ④ ㄱ, ㄷ, ㄹ
- ⑤ ㄴ, ㄷ, ㄹ

15. 그림은 성인 자녀 1명을 둔 가구주 100명을 대상으로 부모 계층별 자녀 계층 구성비를 조사한 것이다. 이에 대한 옳은 분석만을 <보기>에서 있는 대로 고른 것은? [3점]



— <보기> —

- ㄱ. 세대 간 상승 이동이 하강 이동보다 더 많다.
- ㄴ. 세대 간 지위를 대물림한 비율은 상층에서 가장 높다.
- ㄷ. 자녀 세대만 집계하면 피라미드형 계층 구조를 이룬다.
- ㄹ. 세대 간 수직 이동이 지위를 대물림한 경우보다 더 많다.

- ① ㄱ, ㄴ
- ② ㄴ, ㄷ
- ③ ㄷ, ㄹ
- ④ ㄱ, ㄴ, ㄹ
- ⑤ ㄱ, ㄷ, ㄹ

29. 11수능

30. 1109

14. 표는 갑국의 부모 세대와 자녀 세대의 주관적 계층 의식 및 소득에 따른 실제 계층 구성비를 나타낸 것이다. 이에 대한 옳은 분석만을 <보기>에서 있는 대로 고른 것은? [3점]

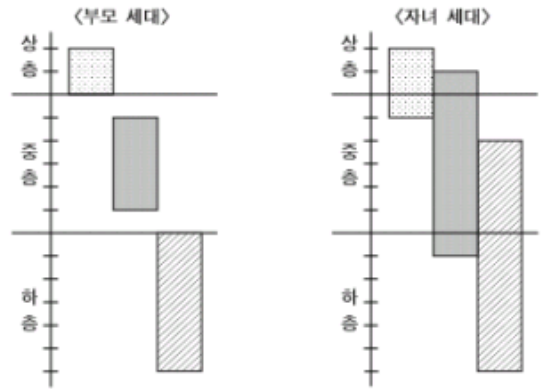
〈부모 세대〉					〈자녀 세대〉					
(단위: %)					(단위: %)					
구분	주관적 계층 의식				구분	주관적 계층 의식				
	상층	중층	하층	계		상층	중층	하층	계	
소득에 따른 실제 계층	상층	3	7	14	24	상층	4	8	13	25
	중층	3	10	22	35	중층	8	8	24	40
	하층	4	12	25	41	하층	9	15	11	35
계	10	29	61	100	계	21	31	48	100	

〈보기〉

- ㄱ. 자신의 실제 계층보다 더 높은 수준의 주관적 계층 의식을 가지고 있는 사람의 비율은 부모 세대보다 자녀 세대에서 더 높다.
- ㄴ. 실제 계층과 주관적 계층 의식이 일치하는 사람의 수는 부모 세대와 자녀 세대에서 각각 실제 계층이 낮을수록 많다.
- ㄷ. 소득에 따른 실제 계층 구조는 자녀 세대보다 부모 세대에서 더 안정적이다.
- ㄹ. 주관적 계층 의식의 세습 정도보다 실제 계층의 세습 정도가 더 강하다.

- ① ㄱ, ㄴ ② ㄴ, ㄷ ③ ㄷ, ㄹ
- ④ ㄱ, ㄴ, ㄹ ⑤ ㄱ, ㄷ, ㄹ

20. 그림은 갑국의 부모 세대와 자녀 세대의 신분 및 계층 분포를 나타낸 것이다. 이에 대한 옳은 분석을 <보기>에서 고른 것은? [3점]



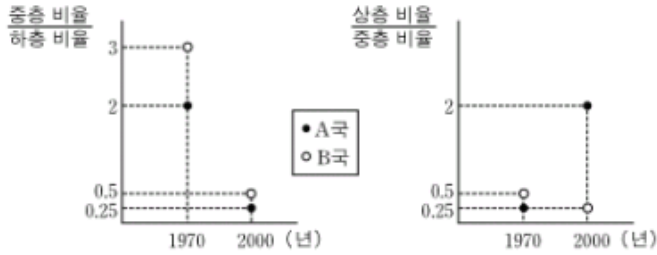
• □는 A, ■는 B, ▨는 C 신분이며, □ ▨ 칸은 인구 크기를 나타냄.
 ** A, B, C는 귀속 신분이고, 서열은 A, B, C 순이며 다른 신분은 없음.
 신분 간 이동이나 혼인은 없음.
 *** 동일 계층 내에는 계층 서열이 존재하지 않음.

〈보기〉

- ㄱ. A 대비 C의 비율은 부모 세대보다 자녀 세대에서 더 낮다.
- ㄴ. 부모 세대에 비해 자녀 세대에서 신분과 계층 간의 상관관계는 약화되었다.
- ㄷ. A, B의 세대 간 수직 이동의 총합은 C의 세대 간 수직 이동의 합보다 크다.
- ㄹ. 부모 세대에는 피라미드형, 자녀 세대에는 다이아몬드형의 계층 구조가 나타난다.

- ① ㄱ, ㄴ ② ㄱ, ㄷ ③ ㄴ, ㄷ ④ ㄴ, ㄹ ⑤ ㄷ, ㄹ

20. 그림은 A, B국의 계층 간 상대적 비율 변화를 나타낸 것이다. 이에 대한 옳은 설명만을 <보기>에서 있는 대로 고른 것은? [3점]



<보기>

- ㄱ. A국의 계층 구조는 1970년에 비해 2000년이 더 안정적이다.
- ㄴ. B국에서는 다이아몬드형에서 피라미드형으로 계층 구조가 변화하였다.
- ㄷ. 2000년의 하층 비율은 A국이 B국에 비해 더 낮다.
- ㄹ. A, B국 모두 중층의 하강 이동이 상승 이동보다 많이 나타났다.

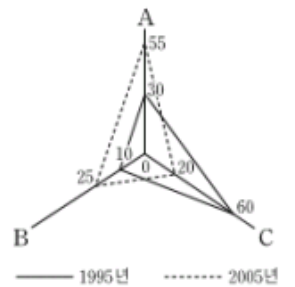
- ① ㄱ, ㄴ ② ㄱ, ㄹ ③ ㄴ, ㄷ
- ④ ㄱ, ㄷ, ㄹ ⑤ ㄴ, ㄷ, ㄹ

20. 다음은 갑국의 세대 내 계층 이동 현황과 계층 구성비를 나타낸 것이다. 이에 대한 옳은 분석만을 <보기>에서 있는 대로 고른 것은? (A, B, C는 각각 상층, 중층, 하층 중 하나에 해당함) [3점]

(가) 1995년 대비 2005년의 세대 내 계층 이동 현황

		(단위: %)			
		1995년 계층			
2005년 계층 이동 현황		A	B	C	계
이전보다 상층		6	0	16	22
이전보다 하층		0	4	30	34
이전과 동일		24	6	14	44
계		30	10	60	100

(나) 1995년과 2005년의 계층 구성비

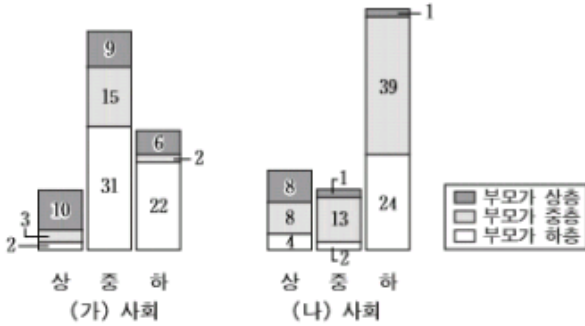


<보기>

- ㄱ. 계층별 수직 이동한 비율은 하층에서 가장 높다.
- ㄴ. 1995년보다 2005년에 사회 통합의 필요성이 더 커졌다.
- ㄷ. 1995년과 2005년 사이 계층 구조는 다이아몬드형 구조에서 피라미드형 구조로 변화하였다.
- ㄹ. 1995년 계층 중에서 2005년에 계층 지위를 동일하게 유지한 비율은 상층이 중층보다 높다.

- ① ㄱ, ㄴ ② ㄱ, ㄷ ③ ㄴ, ㄹ
- ④ ㄱ, ㄷ, ㄹ ⑤ ㄴ, ㄷ, ㄹ

20. 그림은 (가), (나) 사회의 계층 구성비와 각 계층별로 그들의 출신 계층을 나타낸 것이다. 이에 대한 옳은 분석을 <보기>에서 고른 것은? [3점]



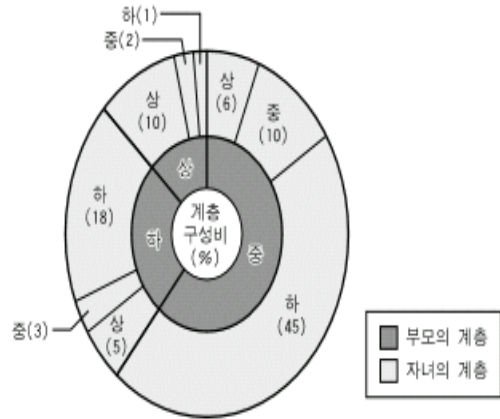
• (가), (나) 사회의 인구는 동일하며 수치는 비율(%)을 나타냄.

< 보기 >

- ㄱ. (가) 사회에서 계층 지위가 대물림된 사람은 하층이 가장 많다.
- ㄴ. (나) 사회는 세대 간 상승 이동이 하강 이동보다 더 많이 일어났다.
- ㄷ. (가) 사회보다 (나) 사회가 세대 간 이동이 더 많이 일어났다.
- ㄹ. 계층 구조로 보면 (가) 사회보다 (나) 사회가 안정된 사회 모습을 나타낸다.

- ① ㄱ, ㄴ ② ㄱ, ㄷ ③ ㄴ, ㄷ ④ ㄴ, ㄹ ⑤ ㄷ, ㄹ

20. 그래프는 A 국의 부모 계층별 자녀 계층 구성비를 나타낸 것이다. 이에 대한 분석으로 옳은 것은? [3점]

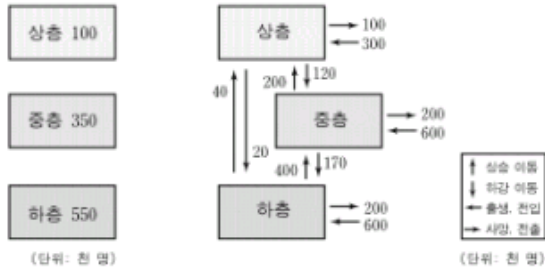


- ① 세대간 상승 이동률이 하강 이동률보다 높다.
- ② 상층의 비율은 자녀 세대보다 부모 세대에서 더 높다.
- ③ 부모가 중층인 경우 상승 이동률이 하강 이동률보다 높다.
- ④ 다이아몬드형 계층 구조에서 피라미드형 계층 구조로 변화했다.
- ⑤ 부모의 계층별로 계층 지위가 대물림되는 비율은 상층이 가장 높다.

35. 09수능

36. 0909

10. 다음 자료는 A지역의 계층 구조 변화를 나타낸 것이다. 이에 대한 분석으로 옳은 것은? [3점]



<1960년의 계층 구조> <계층 구조의 변화: 1960년~2000년>

3. 다음 자료에서 파악할 수 있는 내용으로 가장 적절한 것은?

[조사 내용]
○ 중산층의 삶이 불황을 겪으면서 어떻게 변화하였는지 알아보기 위하여 10대 대기업에서 명예 퇴직한 사람들의 3년 후 상황을 조사하였다.

[조사 결과]
○ 4명 중 1명이 아직 일자리를 찾지 못한 상태이다. 젊은 퇴직자들은 일자리를 찾지 못하고 있고, 50대는 대부분 재취업을 포기하였다.
○ 재취업한 이들은 퇴직자 10명 중 5명 꼴이다. 그러나 재취업에 성공한 이들의 경우에도 90% 이상이 전보다 훨씬 낮은 임금을 받아 소득이 감소하였다.
○ 창업한 사람들은 5명 중 1명 꼴이다. 그러나 이들도 회사에 다닐 때보다 소득이 크게 줄었다.

- ① 상승 이동보다 하강 이동이 더 많다.
- ② 수평적 계층 이동이 수직적 계층 이동보다 많다.
- ③ 2000년의 경우 상층과 하층을 더하면 중층보다 많다.
- ④ 1960년에 비해 2000년에 중층은 증가한 반면 하층은 감소하였다.
- ⑤ 귀속 지위가 중시되는 사회 구조에서 성취 지위가 중시되는 사회 구조로 변화되었다.

- ① 세대내 계층 이동이 활발하게 이루어졌다.
- ② 세대간 계층 이동의 기회가 점차 줄어들었다.
- ③ 수직 이동보다 수평 이동이 더 활발하게 이루어졌다.
- ④ 개인의 지위가 귀속적으로 결정되는 경향이 커지고 있다.
- ⑤ 계층 구조의 유형이 폐쇄적이고 불안정한 형태로 변화하였다.

20. 다음은 농민 자녀의 계층 분화를 연구한 자료이다. 이에 대한 분석으로 적절한 것은? [3점]

〈자녀의 계층〉 (단위: 명)

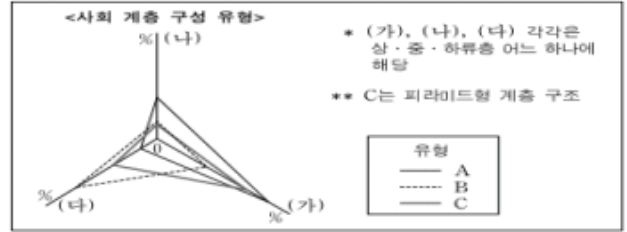
구분		상층의 자녀	중층의 자녀	하층의 자녀	전체
농촌 거주	상층	1	5	4	10
	중층	3	15	12	30
	하층	1	10	14	25
도시 거주	상층	10	35	20	65
	중층	6	70	74	150
	하층	4	35	51	90
계		25	170	175	370

• 1962년 ○○군 농민 가운데 상층 10가구, 중층 40가구, 하층 50가구 선정

• 30년 후 전국 각 지역으로 이주한 자녀들의 거주 지역과 계층 조사

- ① 계층 구성원의 구조를 보면 도시보다 농촌이 안정적인 모습이다.
- ② 부모와 계층 지위가 일치하는 비율은 중층의 자녀가 가장 높다.
- ③ 세대 내 이동으로 계층 지위가 상승한 농민은 중층이 하층보다 많다.
- ④ 세대 간 이동으로 계층 지위가 상승한 비율은 중층의 자녀가 하층의 자녀보다 높다.
- ⑤ 중층의 자녀인 경우 세대 간 이동으로 계층 지위가 하강한 수는 도시 거주자보다 농촌 거주자가 많다.

20. 다음 자료에서 추론할 수 있는 갑국의 세대 간 계층 구성에 대한 옳은 설명을 <보기>에서 고른 것은? [3점]



〈갑국의 세대 간 계층 구성〉

부모의 계층		(가)			(나)			(다)		
자녀	계층	(가)	(나)	(다)	(가)	(나)	(다)	(가)	(나)	(다)
	비율(%)	22	6	32	5	3	2	6	3	21
합계(%)		100								

— <보기> —

ㄱ. 세대 간 계층 구성 유형은 C에서 B로 변화한다.
 ㄴ. 세대 간 하강 이동보다 상승 이동이 더 많이 나타난다.
 ㄷ. 자녀 세대보다 부모 세대에서 사회의 안정도가 더 높다.
 ㄹ. 부모가 하류층일 때 세대 간 계층 고착화가 가장 심하다.

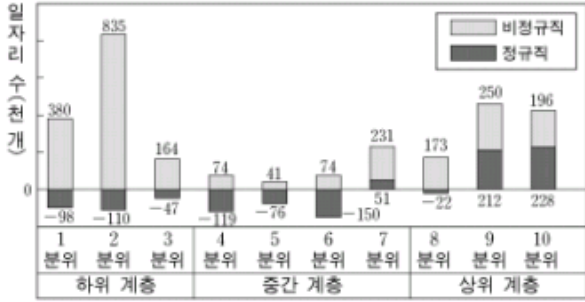
- ① ㄱ, ㄴ ② ㄱ, ㄷ ③ ㄴ, ㄷ ④ ㄴ, ㄹ ⑤ ㄷ, ㄹ

39. 0809

40. 0806

3. 그래프는 어느 사회의 계층별 일자리 수 변화를 나타낸 것이다. 이에 대한 적절한 분석을 <보기>에서 모두 고른 것은? [3점]

<계층별 일자리 수 증감 : 1993~2002>



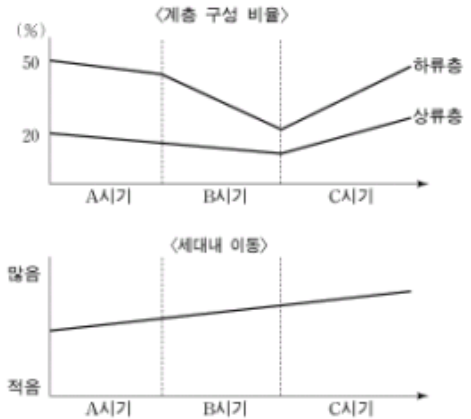
* 단, 1992년 말 현재 각 계층별 정규직, 비정규직의 일자리 수는 각각 30만 개로 가정함.

<보 기>

- ㄱ. 중간 계층의 일자리는 정규직의 감소로 인해 줄어들었다.
- ㄴ. 상위 계층은 일자리가 늘었으나 고용 상태는 다소 불안정해졌다.
- ㄷ. 전반적으로 정규직 일자리가 줄었으며, 사회 이동 가능성이 증가하였다.
- ㄹ. 하위 계층은 일자리가 다른 계층에 비해 많이 늘어났으며 고용 상태도 안정되었다.

- ① ㄱ, ㄴ ② ㄱ, ㄹ ③ ㄴ, ㄷ
- ④ ㄱ, ㄷ, ㄹ ⑤ ㄴ, ㄷ, ㄹ

20. 그래프는 계층 구성 비율과 세대내 이동을 나타낸 것이다. 이에 대한 분석으로 적절한 것은? [3점]



- ① A시기는 신분제 사회로 피라미드형 계층 구조가 확고해진다.
- ② B시기는 하강 이동에 의한 계층 구조의 변화가 활발하게 전개된다.
- ③ B시기는 구조적 이동이 다이아몬드형 계층 구조로의 변화를 야기한다.
- ④ C시기는 빈곤의 세대 간 대물림 현상이 점점 약화될 것이다.
- ⑤ C시기는 중류층에서 세대내 계층적 위치가 지속될 가능성이 낮아진다.

41. 07수능

11. 표에 대한 옳은 해석을 <보기>에서 모두 고른 것은? [3점]

<계층 구성 요소별 위치의 세대 간 일치 여부>

아버지	이름	갑			을			병		
	계층	상류층			중류층			하류층		
	계층 구성 요소	재산	위신	권력	재산	위신	권력	재산	위신	권력
자녀와 일치 여부		+	+	-	-	-	-	-	+	+

- * + : 일치 - : 불일치
- * 아버지 세대의 경우 재산, 위신, 권력의 위치가 자신이 속한 계층과 일치함.

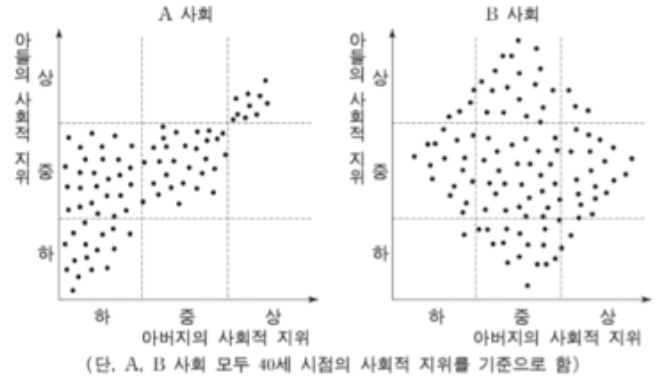
<보기>

- ㄱ. 갑의 자녀는 갑에 비해 정치적 영향력이 작다.
- ㄴ. 을의 자녀는 을에 비해 계층적 위치가 낮다.
- ㄷ. 병의 자녀는 빈곤의 대물림 현상을 극복하였다.
- ㄹ. 자녀 세대에서 위신이 가장 높은 사람은 병의 자녀다.

- ① ㄱ, ㄴ ② ㄱ, ㄷ ③ ㄴ, ㄷ ④ ㄴ, ㄹ ⑤ ㄷ, ㄹ

42. 0709

4. 그림은 A, B 사회의 사회 계층을 나타낸 것이다. 이에 대해 바르게 추론한 것을 <보기>에서 모두 고른 것은? [3점]



<보기>


- ㄱ. A 사회는 아들 세대보다 아버지 세대에서 사회의 안정도가 더 높다.
- ㄴ. A 사회는 피라미드형에서 다이아몬드형으로 계층 구조가 변화하였다.
- ㄷ. A 사회는 B 사회에 비해 성취 지위에 의해 개인의 지위가 결정되는 경향이 더 강하다.
- ㄹ. B 사회는 A 사회에 비해 세대 간의 지위 상관성이 더 약하다.

- ① ㄱ, ㄴ ② ㄱ, ㄷ ③ ㄴ, ㄷ
 ④ ㄴ, ㄹ ⑤ ㄷ, ㄹ

43. 0706 a

44. 0706 b

8. 그래프는 사회 계층 구성의 유형을 나타낸 것이다. 유형 변화에 대한 해석으로 옳은 것은? [3점]



변화

해석

- ① A → B 피라미드형 계층 구조가 강화되었다.
- ② A → C 평등 사회가 이루어졌다.
- ③ B → A 계층의 세습이 심화되었다.
- ④ C → A 개방적 계층 구조에서 볼 수 있는 현상이었다.
- ⑤ C → B 양극화 문제가 발생하였다.

20. 표는 A국의 직업 변화에 따른 사회 이동을 나타낸 것이다. 이에 대한 옳은 설명을 <보기>에서 모두 고른 것은? [3점]

		(가) (단위: %)					(나) (단위: %)						
		본인의 처음 직업					본인의 처음 직업						
직업의		I	II	III	IV	계	직업의		I	II	III	IV	계
위계													
부친 의 현재 직업	I	8	6	1	2	17	본인 의 현재 직업	I	9	2	1	1	13
	II	6	28	4	8	46		II	6	31	2	3	42
	III	4	3	3	8	18		III	4	3	4	2	13
	IV	2	7	4	6	19		IV	1	8	5	18	32
	계	20	44	12	24	100		계	20	44	12	24	100

• 국제 표준 척도에 따른 직업의 위계: I>II>III>IV
 • 이동률: 직업의 위계가 변화한 비율

<보 기>

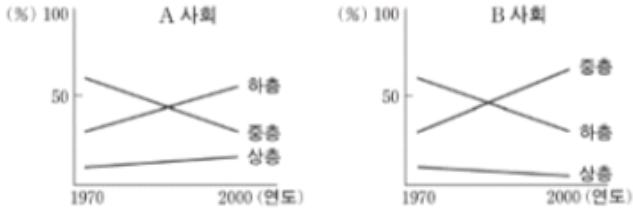
- ㄱ. (가)에 비해 (나)의 이동률이 높다.
- ㄴ. (가)에 비해 (나)의 상승 이동률이 낮다.
- ㄷ. (가)를 (나)와 구분하는 기준은 이동 방향이다.
- ㄹ. (가)는 세대 간 이동을, (나)는 세대 내 이동을 보여준다.

- ① ㄱ, ㄷ
- ② ㄱ, ㄹ
- ③ ㄴ, ㄹ
- ④ ㄱ, ㄴ, ㄷ
- ⑤ ㄴ, ㄷ, ㄹ

45. 06수능

46. 0609

5. 그래프는 사회 이동에 따른 계층 구성의 비율 변화를 보여준다. 이에 대한 적절한 설명을 <보기>에서 모두 고른 것은? [3점]

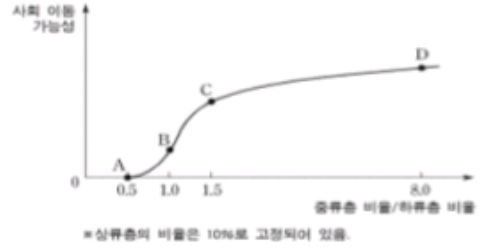


<보 기>

- ㄱ. A는 폐쇄적 계층 구조를 가지고 있다.
- ㄴ. A의 계층 구조는 다이아몬드형에서 피라미드형으로 변화하였다.
- ㄷ. B는 A와 달리 양극화 현상이 완화되었다.
- ㄹ. B는 A에 비해 상층의 세습이 심화되고 있다.

- ① ㄱ, ㄴ ② ㄱ, ㄹ ③ ㄴ, ㄷ
- ④ ㄱ, ㄷ, ㄹ ⑤ ㄴ, ㄷ, ㄹ

9. 그림은 한 사회의 계층 구조의 변화를 보여주고 있다. A, B, C, D 각 단계에 대한 옳은 설명을 <보기>에서 모두 고른 것은?

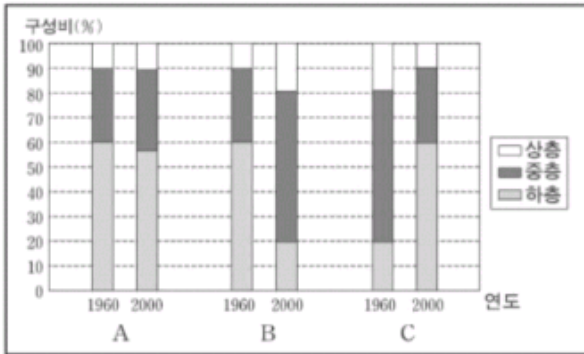


<보 기>

- ㄱ. A에서는 성취 지위에 의해 사회적 역할이 결정된다.
- ㄴ. A에서 C로 변하는 데 산업화가 중요한 역할을 한다.
- ㄷ. A보다 D에서 민주주의가 발달할 가능성이 더 높다.
- ㄹ. B에서 D로 변화함에 따라 화이트칼라 직종이 늘어난다.

- ① ㄱ, ㄴ ② ㄱ, ㄹ ③ ㄴ, ㄷ
- ④ ㄱ, ㄴ, ㄷ ⑤ ㄴ, ㄷ, ㄹ

11. 그림은 A, B, C 세 나라의 계층 구조를 1960년과 2000년의 두 시점에서 측정한 것이다. 이 그림을 바르게 해석한 것을 <보기>에서 모두 고른 것은? [3점]



— <보기> —

- ㄱ. 폐쇄적 계층 구조의 사회는 A와 같은 계층 구조 변화를 보일 것이다.
- ㄴ. 산업화의 과정을 겪은 사회는 B와 같은 계층 구조 변화를 보일 것이다.
- ㄷ. C는 계층 구조 변화에 따라 더 안정적인 사회로 변화하였다.
- ㄹ. 개인적 요소에 의한 사회 이동이 가장 많았던 나라는 C이다.
- ㅁ. C보다 B에서 상승 이동의 기회가 더 많았다.

- ① ㄱ, ㄴ ② ㄴ, ㅁ ③ ㄱ, ㄴ, ㅁ ④ ㄴ, ㄷ, ㄹ ⑤ ㄷ, ㄹ, ㅁ