

# 자이고사 1회

## 수학 영역 (나형) 해설

---

★ 1페이지 ★

1.  $\left(\frac{1}{4}\right)^{\frac{3}{2}} = \frac{1}{8}$ . ③

2.  $\rightarrow \frac{3n^4}{n^4} = 3$ . ⑤

3.  $A = B$  이므로  $a = 5, b = 1$ . ②

4.  $g(f(f(1))) = g(f(2)) = g(2) = 5$ . ⑤

5.  $q$ 에서  $x \leq 0$  또는  $x \geq 2$ 이므로  $a$ 의 최솟값은 2. ④

6.  $f'(x) = 3x^2 - 12 = 0$ 에서  $x = \pm 2$ 이므로  $f(2) = 0$  또는  $f(-2) = 0$ 이어야 한다.  $a = \pm 16$ . ①

7.  $\sum_{k=1}^5 a_k^2 - 2 \sum_{k=1}^5 a_k + \sum_{k=1}^5 1 = 5 - 20 + 5 = -10$ . ①

★ 2페이지 ★

8.  $\frac{3}{x+3} = \frac{-x}{x+3} + 1$ 이므로  $m = 1$ . ①

9.  $2x - 4 \geq 0$ 에서  $a = 2$ 이고,  $x = 2$ 를 대입하면  $b = 3$ . ②

10.  $= \lim_{x \rightarrow 1^-} f(x) + \lim_{x \rightarrow 1^+} f(x) = 2 + 0 = 2$ . ④

11.  $-3 \leq x \leq 4$ 로 8개. ④

12.  $P(A) = \frac{1}{4}, P(B) = \frac{5}{12}, P(B^C) = \frac{7}{12}$ . ⑤

13.  $\frac{\log_5 1600 - 2}{\log_5 10 - 1} = 2 \times \frac{\log_5 40 - 1}{\log_5 10 - 1} = 2 \times \frac{\log_5 8}{\log_5 2} = 2 \times \log_2 8 = 6$ . ③

★ 3페이지 ★

14. '민감도' =  $\frac{50}{60}$ , '특이도' =  $\frac{48}{60}$ ,  $\frac{50+48}{60} = \frac{49}{30}$ . ②

15. 첫 항을  $a$ , 공차를  $d$ 라 하자.  $a_3a_4 = (a+2d)(a+3d)$ ,  $a_2a_5 + 18 = (a+d)(a+4d) + 18$ 이므로  $a^2 + 5ad + 6d^2 = a^2 + 5ad + 4d^2 + 18$ 에서  $d^2 = 9 \therefore d = \pm 3$ .

$\sum_{k=1}^6 a_k = 6a + 15d = 15$ 에서  $d = 3$ 이라면  $a < 0$ 이므로  $d = -3$ 이고, 대입하면  $a = 10$ .

$\therefore a_1 + a_3 + a_5 = 3a + 6d = 12$ . ①

16.  $v(t) = 3t^2 + 2at + b$ ,  $a(t) = 6t + 2a$ 이므로  $v(t) + a(t) = 3t^2 + (2a+6)t + 2a + b$ 이다. 이 방정식의 두 근이 2와 4이므로 근과 계수의 관계를 사용하면  $-\frac{2a+6}{3} = 2+4$ ,  $\frac{2a+b}{3} = 2 \times 4$

$\therefore a = -12$ ,  $b = 48$ ,  $a+b = 36$ . ③

17.  $f'(x) = 3ax^2$ 이므로  $\{f(x)\}^2 = \{f'(x)\}^3 + xf'(x) + c$ 에서  $a^2x^6 + 2abx^3 + b^2 = 27a^3x^6 + 3ax^3 + c$ . 이 식이 항등식이므로  $a^2 = 27a^3$ ,  $2ab = 3a$ ,  $b^2 = c \therefore a = \frac{1}{27}$ ,  $b = \frac{3}{2}$ ,  $c = \frac{9}{4}$ ,  $\frac{1}{abc} = 8$ . ①

18.  $a+b \leq b+c < c+a$ 를 정리하면  $b < a < c$ 이다. 이때  $b < a < c$ 가 되는 경우의 수는  ${}_6C_3 = 20$ 이고,  $b < a = c$ 가 되는 경우의 수는  ${}_6C_2 = 15$ 이다. 전체 경우의 수는

$6 \times 6 \times 6 = 216$ 이므로 주어진 조건을 만족시킬 확률은  $\frac{20+15}{216} = \frac{35}{216}$ . ②

★ 4페이지 ★

19.  $\angle E_1B_1C_1 = 60^\circ$ 이므로 삼각형  $E_1B_1C_1$ 은 정삼각형이다.  $\overline{A_2E_2} = k$ ,  $\overline{A_2B_2} = \sqrt{3}k$ 라고 하면  $\angle A_2B_1B_2 = 60^\circ$ 이므로  $\overline{B_1B_2} = k$ 이다.  $\overline{A_1E_1} = 2k = 1$ 에서  $k = \frac{1}{2}$ 이고, 선분  $\overline{A_1E_1}$ 과  $\overline{A_2E_2}$ 의 길이비는 2:1, 직사각형  $A_1B_1C_1D_1$ 과  $A_2B_2C_2D_2$ 의 넓이비는 4:1이다.

한편  $\nabla$  모양 도형은 좌우 대칭이고, 그 중 한쪽의 넓이(두 선분  $A_1B_1$ ,  $A_1E_1$ 과 호  $E_1B_1$ 로 둘러싸인 부분)는 (직사각형  $A_1B_1C_1D_1$ 의 넓이) - (삼각형  $E_1C_1D_1$ 의 넓이) - (부채꼴  $B_1E_1C_1$ 의 넓이)와 같다. 따라서  $S_1 = 2 \times \left\{ (2 \times \sqrt{3}) - \left( \frac{1}{2} \times 1 \times \sqrt{3} \right) - \left( \frac{1}{6} \times 2^2 \pi \right) \right\} = 3\sqrt{3} - \frac{4}{3}\pi$ 이다.

$\lim_{n \rightarrow \infty} S_n = \frac{3\sqrt{3} - \frac{4}{3}\pi}{1 - \frac{1}{4}} = 4\sqrt{3} - \frac{16}{9}\pi$ . ④

20. (가) : (1)의 ㄴ)에서  $(3a''+1)+(3b'+2)+3c'=3n$ 이고,  $a''+b'+c'=n-1$ 이다. 순서쌍  $(a, b, c)$ 의 개수는 순서쌍  $(a'', b', c')$ 의 개수와 같으므로 (가) =  ${}_3H_{n-1}$ 이다.

(나) : (2)의 ㄴ)에서  $3a''+(3b'+1)+3c'=3n-2$ 이고,  $a''+b'+c'=n-1$ 이다. (가)와 같은 방법으로 (나) =  ${}_3H_{n-1}$ 이다.

(다) :  $a_n$ 은  $n \geq 2$ 일 때  ${}_3H_n+4 \times {}_3H_{n-1}+{}_3H_{n-2}$ 이고,  $n=1$ 일 때  ${}_3H_1+4 \times {}_3H_0$ 이다.

$\sum_{n=1}^8 a_n$ 은 다음과 같이 항 별로 나누어 더해 구할 수 있다.

$$\begin{array}{rcl} a_1 & = & {}_3H_1 + 4 \times {}_3H_0 \\ a_2 & = & {}_3H_2 + 4 \times {}_3H_1 + {}_3H_0 \\ a_3 & = & {}_3H_3 + 4 \times {}_3H_2 + {}_3H_1 \\ & \vdots & \vdots \\ a_6 & = & {}_3H_6 + 4 \times {}_3H_5 + {}_3H_4 \\ a_7 & = & {}_3H_7 + 4 \times {}_3H_6 + {}_3H_5 \\ a_8 & = & {}_3H_8 + 4 \times {}_3H_7 + {}_3H_6 \end{array}$$

---


$$\sum_{n=1}^8 a_n = {}_3H_8 + 5 \times {}_3H_7 + 6 \times {}_3H_6 + 6 \times {}_3H_5 + \dots + 6 \times {}_3H_2 + 6 \times {}_3H_1 + 5 \times {}_3H_0$$

$$\therefore \sum_{n=1}^8 a_n = 6 \sum_{n=1}^6 {}_3H_n + {}_3H_8 + 5 \times {}_3H_7 + 5 \times {}_3H_0 \text{ 이므로 (다) } = {}_3H_8 + 5 \times {}_3H_7 + 5 \times {}_3H_0 \text{ 이다.}$$

$$f(6)+g(5)+r = {}_3H_5+{}_3H_4+{}_3H_8+5 \times {}_3H_7+5 \times {}_3H_0 = 21+15+45+5 \times 36+5 = 266. \text{ ㉕}$$

★ 5페이지 ★

21. (가)에  $n=1$ 을 대입하면  $f(1)=f(0)f(1) \therefore f(1)=0$  또는  $f(0)=1 \dots\dots\dots \text{㉑}$

(가)에  $n=2$ 를 대입하면  $f(2)=f(0)f(1)+f(1)f(2)=f(1)+f(1)f(2)$ 이므로

$$f(2)-f(1)=f(1)f(2) \dots\dots\dots \text{㉒}$$

$n=3, 4$ 를 대입하면 같은 방법으로

$$f(3)-f(2)=f(2)f(3) \dots\dots\dots \text{㉓}$$

$$f(4)-f(3)=f(3)f(4) \dots\dots\dots \text{㉔}$$

㉑.

$f(1)=0$ 이라면 ㉒)에서  $f(2)=0$ , ㉓)에서  $f(3)=0$ , ㉔)에서  $f(4)=0$

따라서  $f(1)=f(2)=f(3)=f(4)=0$ 인데  $f(x)$ 가 사차함수이므로 5개 이상의 근을 가질 수는 없고,  $f(0) \neq 0$ 이다. (참)

ㄴ.

(나)에  $m=2$ 를 대입하면  $f(3)-f(2)=k$ ,  $m=3$ 을 대입하면  $f(4)-f(3)=k$

이때 ㉠과 ㉡에서  $k=f(2)f(3)=f(3)f(4)$

$\therefore f(3)=0$  또는  $f(2)=f(4)$

i)  $f(3)=0$ 인 경우

$k=0$ 이므로  $f(3)-f(2)=0$ 에서  $f(2)=0$ 이고, 이를 ㉢에 대입하면  $f(1)=0$ .

ii)  $f(2)=f(4)$ 인 경우

$f(3)-f(2)=f(4)-f(3)=k$ 인데  $f(4)-f(3)=f(2)-f(3)$ 이므로

$f(3)-f(2)=f(2)-f(3)$ 에서  $f(3)=f(2)$ 이다.

이때  $f(3)-f(2)=0$ 이므로  $k=0$ 이고,  $f(2)f(3)=\{f(3)\}^2=0$ 에서

$f(3)=0$ 이 된다. 이후 과정은 i) 와 같아  $f(1)=0$ .

i)와 ii)에서  $f(1)$ 로 가능한 값은 0뿐이다. (거짓)

ㄷ.

(나)에  $m=0$ 을 대입하면  $f(1)-f(0)=k$ ,  $m=1$ 을 대입하면  $f(2)-f(1)=k$

㉣에 따라 케이스를 분류한다.

i)  $f(1)=0$ 인 경우

㉣에서 구했듯  $f(1)=0$ 이면  $f(2)=f(3)=f(4)=0$ 이고  $f(0) \neq 0$ 이다.

따라서  $k=f(2)-f(1)=0$ 인데,

$f(1)-f(0)=-f(0)=k$ 에서  $f(0)=0$ 이 되어 모순이다.

ii)  $f(1) \neq 0$ 이고  $f(0)=1$ 인 경우

$f(1)-f(0)=k$ 에서  $f(1)=k+1$ 이고,  $f(2)-f(1)=k$ 에서  $f(2)=2k+1$ 이다.

이를 ㉣  $f(2)-f(1)=f(1)f(2)$ 에 대입하면

$k=(k+1)(2k+1)$ ,  $2k^2+2k+1=0$

그런데 이 이차방정식의 판별식이  $D=2^2-4 \times 2 < 0$ 이므로 이를 만족시키는  $k$ 의 값은 존재하지 않는다.

따라서 i), ii) 모두 모순이 되므로  $\{a, b\}$ 는  $\{0, 1\}$ 일 수 없다. (참) [ㄱ, ㄷ] ③

22.  $3^4=81$ . 답 81

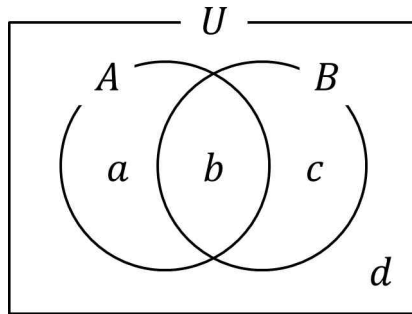
23.  $f'(x)=4x^3$ ,  $f'(2)=32$ . 답 32

24.  $r^{10}=5$ 이므로  $a_{25}=5a_{15}=125$ . 답 125

25.  ${}_3C_1 \cdot x \cdot 3^2 \cdot x^2 + {}_3C_3 \cdot x^3 \cdot 2 = 27x^3 + 2x^3$ . 답 29

26.  $8 = 6+2 = 4+4$   
 $= 4+2+2$   
 $= 4+2+1+1 = 2+2+3+1 = 2+2+2+2$   
 $= 2+2+2+1+1$   
 $= 2+2+1+1+1+1.$     **답 8**

27.



그림과 같이 집합  $A$ 와  $B$ 의 벤 다이어그램을 그리고 네 부분 각각의 원소의 개수를  $a, b, c, d$ 라고 하자.

(나)에서  $(B-A)^C - A = (B \cap A^C)^C - A = (B^C \cup A) \cap A^C = B^C \cap A^C \neq \emptyset$ 이므로  $d \geq 1$ 이다.

(가)에서  $a+b+c+d=30$ 이므로  $a+b+c \leq 29$ .....㉠

(다)에서  $a+b > b+c > 15$ 이므로  $a > c$ 이고,  $b+c \geq 16$ 이다.

따라서 ㉠에서  $a \leq 13$ 이고,  $a > c$ 이므로  $c \leq 12$ 이다. 이를 ㉠에 다시 대입하면  $b \geq 4$ 이다.

$a=13, b=4, c=12, d=1$ 일 경우 문제의 조건이 모두 만족되고, 이때  $b$ 가 최소이다. **답 4**

28. (가)에서  $\frac{x^2}{f(x)}$ 이  $x=1$ 에서 불연속이므로 (분모)=0이어야 하고, 따라서  $f(1)=0$ 이다.

한편  $f(x)$ 가  $x$ 나  $x^2$ 을 인수로 갖는다 해도  $x=0$ 에서는 좌극한과 우극한이 같아지기 때문에 극한값을 갖는다. 그러므로  $\frac{x^2}{f(x)}$ 이  $x=1$ 에서만 극한값을 갖지 않으려면  $f(x)$ 가 1이나 0 외의 실근을 갖지 않으면 된다.

(나)에서 (분모) $\rightarrow 0$ 인데 극한값이 0이 아닌 수로 수렴하므로  $f(x)$ 는  $(x-a)^2$ 을 인수로 가지고,  $a \neq 0$ 이므로  $a=1$ 이다.  $f(x)$ 가 삼차함수이므로  $f(x)=kx(x-1)^2$ 로 가정하면

$\lim_{x \rightarrow 1} \frac{f(x)}{(x-1)^2} = \lim_{x \rightarrow 1} kx = k = 4$ 이다.  $\therefore a+f(3) = 1+4 \times 3 \times (3-1)^2 = 49.$     **답 49**

29.  $f(x)$ 가 증가함수이고  $f(x)=x$ 의 근이 3개인 경우 함수  $y=f(x)$ 가  $(0, 2)$ 를 지나기 때문에  $y=f(x)$ 와  $y=x$ 는  $x < 0$ 에서 교점을 가지게 되어 조건을 만족시키지 못한다.

따라서  $f(x)$ 는 감소함수이다.  $y=f(x)$ 와  $y=x$ 와의 교점은 1개이므로,  $y=f(x)$ 와  $y=f^{-1}(x)$ 의 교점이 3개이기 위해선  $y=f(x)$ 가 이 교점 외에도 서로 다른 두 점  $(x_1, y_1)$ 과  $(y_1, x_1)$ 을 지나야 하는데, 이때 조건에 따라  $x_1$ 과  $y_1$  모두 음이 아닌 정수여야 한다. 그런데  $f(0)=2$ 고  $f(x)$ 가 감소함수이므로  $f(x_1) \leq 2$ 이다.

ㄱ)  $f(x_1)=2$ 인 경우 :

$x_1=0$ 이므로  $f(x)$ 는 두 점  $(0, 2)$ 와  $(2, 0)$ 을 지난다. 이때  $y=f(x)$ 와  $y=x$ 의 교점의  $x$ 좌표가 음이 아닌 정수이려면  $f(x)$ 가  $(1, 1)$ 을 지나야 한다.

ㄴ)  $f(x_1)=1$ 인 경우 :

$x_1 > 0$ 이다. 이때  $x_1 \geq 2$ 인 경우  $f(x)$ 가  $(1, x_1)$ 을 지나야 하므로 모순이 된다. 따라서  $x_1=1$ 인데, 이 경우  $x_1$ 과  $y_1$ 이 1로 같아지므로  $(x_1, y_1)$ 과  $(y_1, x_1)$ 이 서로 다른 두 점이라는 데에 모순이다.

ㄷ)  $f(x_1)=0$ 인 경우 :

$f(0)=x_1$ 이어야 하므로  $x_1=2$ 이고, 이후엔 ㄱ)과 동일한 상황이 된다.

ㄱ), ㄴ), ㄷ)에 따라  $y=f(x)$ 와  $y=f^{-1}(x)$ 의 세 교점은 각각  $(0, 2)$ ,  $(1, 1)$ ,  $(2, 0)$ 이고,  $p=0, q=1, r=2$ 로 놓을 수 있다.

$f(x) = ax^3 + bx^2 + cx + 2$ 에  $x=1, x=2$ 를 대입하면

$$a + b + c + 2 = 1, \quad 8a + 4b + 2c + 2 = 0$$

두 식을 연립하면  $b = -3a, c = 2a - 1$ 이다.

$f(x) = ax^3 - 3ax^2 + (2a - 1)x + 2$ 라 하면

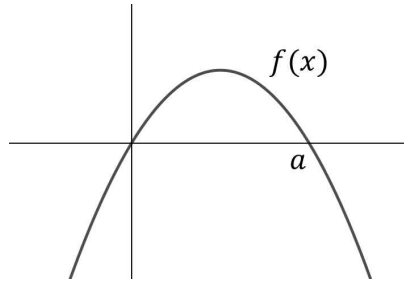
$$f(a+b+c) = f(-1) = 6 \text{에서}$$

$$-a - 3a - 2a + 1 + 2 = 6, \quad a = -\frac{1}{2} \text{이다.}$$

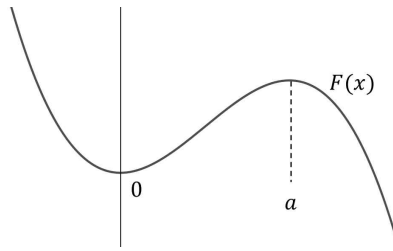
따라서  $f(x) = -\frac{1}{2}x^3 + \frac{3}{2}x^2 - 2x + 2$ 이고,

$$f(-p-q-r) = f(-3) = \frac{27}{2} + \frac{27}{2} + 6 + 2 = 35. \quad \underline{\underline{\text{답 35}}}$$

30.  $a$ 가 양수이므로  $f(x) = -ax(x-a)$ 의 그래프는 다음과 같다.



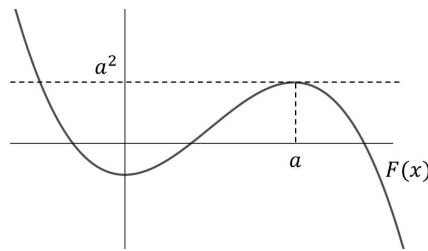
이때  $f(x)$ 의 부호를 이용해  $F(x)$ 의 개형을 그리면 다음과 같다.



적분상수  $C$ 를 이용해  $F(x) = -\frac{1}{3}ax^3 + \frac{1}{2}a^2x^2 + C$ 라고 하면 (가)에서  $F(x)=0$ 의 실근의 개수가 2 또는 3이므로  $F(x)$ 의 극솟값  $F(0) = C \leq 0$ 이고,  $F(x)$ 의 극댓값  $F(a) \geq 0$ 이다.

(나)에서 방정식  $f(x) = F(k)x$ 의 실근의 개수는 함수  $y=f(x)$ 와  $y=F(k)x$ 의 교점의 개수와 같으며, 두 함수가 모두  $(0, 0)$ 을 지나므로 두 함수의 교점의 개수가 1이려면  $y=F(k)x$ 가  $(0, 0)$ 에서  $y=f(x)$ 에 접해야 한다. 따라서 (나)에서  $F(k) = f'(0)$ 을 만족시키는  $k$ 의 개수가 2이다.

$f'(x) = -2ax + a^2$ 이므로  $f'(0) = a^2 > 0$ 이다. 따라서  $F(k) = a^2$ 의 실근이 2개려면  $a^2$ 이  $F(x)$ 의 극댓값  $F(a)$ 와 같아야 한다.



$$F(a) = -\frac{1}{3}a^4 + \frac{1}{2}a^4 + C = \frac{1}{6}a^4 + C = a^2 \text{ 에서 } C = -\frac{1}{6}a^4 + a^2 \text{ 이다.}$$

한편  $a^4 - 6a^2 = -6C \geq 0$ 이므로  $a^2(a^2 - 6) \geq 0$ 에서  $a \geq \sqrt{6}$  이다.

$$\therefore F(-a) = \frac{1}{3}a^4 + \frac{1}{2}a^4 - \frac{1}{6}a^4 + a^2 = \frac{2}{3}a^4 + a^2.$$

$$\geq \frac{2}{3} \cdot (\sqrt{6})^4 + (\sqrt{6})^2 = 30. \quad \underline{\underline{\text{답 30}}}$$