

2012학년도 대학수학능력시험 대비

2011년도 9월 고3 평가원 모의고사 정답 및 해설

수리 기형

수리'가'형 정답

1	④	2	①	3	④	4	⑤	5	④
6	②	7	①	8	①	9	②	10	②
11	⑤	12	⑤	13	④	14	③	15	⑤
16	③	17	③	18	②	19	①	20	④
21	③	22	21	23	40	24	22	25	35
26	52	27	15	28	19	29	45	30	392

해설

1. 정답: ④

출제의도: 로그의 계산

$$\log_2 2 + \log_2 4 = \log_2 (2 \times 4) = \log_2 2^4 = 4$$

2. 정답: ①

출제의도: 벡터의 내적 계산

두 벡터  $\vec{a} = (x+1, 2)$ ,  $\vec{b} = (1, -x)$ 가 서로 수직이므로

$$\vec{a} \cdot \vec{b} = 0 \text{이다.}$$

$$\therefore \vec{a} \cdot \vec{b} = x+1-2x=0$$

$$\therefore x=1$$

3. 정답: ④

출제의도: 역행렬을 구할수 있는지를 묻는 문제

행렬  $A = \begin{pmatrix} 3 & 1 \\ 3 & 2 \end{pmatrix}$ 의 역행렬  $A^{-1}$ 을 구하면

$$A^{-1} = \frac{1}{3} \begin{pmatrix} 2 & -1 \\ -3 & 3 \end{pmatrix} \text{이다.}$$

$$\text{따라서 } 3A^{-1} = 3 \times \frac{1}{3} \begin{pmatrix} 2 & -1 \\ -3 & 3 \end{pmatrix} = \begin{pmatrix} 2 & -1 \\ -3 & 3 \end{pmatrix} \text{이다.}$$

행렬  $3A^{-1}$ 의 모든 성분의 합은 1이다.

4. 정답: ⑤

출제의도: 확률의 연산

두 사건  $A, B$ 가 독립이므로  $P(A \cap B) = P(A) \cdot P(B)$ 을 만족한다.

조건에서  $P(A^c) = \frac{6}{7}$ ,  $P(A \cup B) = \frac{5}{7}$ 이므로  $P(B) = x$ 라 하면

$$P(A) = 1 - P(A^c) = 1 - \frac{6}{7} = \frac{1}{7},$$

$$P(A \cap B) = P(A) \cdot P(B) = \frac{1}{7}x \text{이다.}$$

확률의 덧셈의 성질에 의하여

$$P(A \cup B) = P(A) + P(B) - P(A \cap B) \text{에서}$$

$$\frac{5}{7} = \frac{1}{7} + x - \frac{1}{7}x$$

$$\frac{6}{7}x = \frac{4}{7} \quad \therefore x = \frac{2}{3}$$

따라서 구하는  $P(B) = \frac{2}{3}$ 이다.

5. 정답: ④

출제의도: 삼각함수의 덧셈정리

직선  $y = -2x$ 가  $x$ 축의 양의 방향과 이루는 각을  $\alpha$ 라 하면  $\tan \alpha = -2$ 이고,

직선  $y = x$ 가  $x$ 축의 양의 방향과 이루는 각을  $\beta$ 라 하면

$$\tan \beta = 1 \text{이다.}$$

이때, 두 직선이 이루는 예각을  $\theta$ 라 하면

$$|\tan \theta| = |\tan(\alpha - \beta)| = \left| \frac{\tan \alpha - \tan \beta}{1 + \tan \alpha \tan \beta} \right| = \left| \frac{-2 - 1}{1 + (-2) \cdot 1} \right| = 3$$

이다.

6. 정답: ②

출제의도: 원형배열의 경우의 수

$A, B$ 가 이웃하므로  $A, B$ 를 한 묶음으로 보면

$(A, B), C, D, E, F$ 를 원형으로 배열한 후  $A, B$ 의 자리를 바꾸면 된다.

$$\therefore (5-1)! \times 2! = 48$$

7. 정답: ①

출제의도: 로그함수와 실생활 응용문제

한 메뉴안에 선택할수 있는 항목이 개 있는 경우, 항목을 1개 선택하는 데 걸리는 시간 (초)가 다음을 만족한다.

$$T = 2 + \frac{1}{3} \log_2(n+1)$$

따라서 메뉴가 10개이고 각 메뉴 안에 항목이 n개씩 있을 때 걸리는 시간은

$$T = 10 \left( 2 + \frac{1}{3} \log_2(n+1) \right) \leq 30 \text{이다.}$$

$$\text{정리하면 } \frac{1}{3} \log_2(n+1) \leq 1$$

$$n+1 \leq 8$$

$$n \leq 7$$

따라서 n의 최대값은 7이다.

8. 정답: ①

출제의도: 일차변환의 합성

두 일차변환 f, g를 나타내는 행렬을 각각 A, B라 하면

$$A = \begin{pmatrix} -1 & 3 \\ 0 & -1 \end{pmatrix}, B = \begin{pmatrix} 3 & 1 \\ 1 & 0 \end{pmatrix} \text{이다.}$$

이때, f ∘ g가 나타내는 일차변환의 행렬은 AB이다.

따라서 점 (-1, 1)이 옮겨지는 점을 구하면

$$AB \begin{pmatrix} -1 \\ 1 \end{pmatrix} = \begin{pmatrix} -1 & 3 \\ 0 & -1 \end{pmatrix} \begin{pmatrix} 3 & 1 \\ 1 & 0 \end{pmatrix} \begin{pmatrix} -1 \\ 1 \end{pmatrix} = \begin{pmatrix} 0 & -1 \\ -1 & 0 \end{pmatrix} \begin{pmatrix} -1 \\ 1 \end{pmatrix} = \begin{pmatrix} -1 \\ 1 \end{pmatrix} \text{이다.}$$

9. 정답: ②

출제의도: 초월함수의 연속

$$\text{함수 } f(x) = \begin{cases} e^{3x} - 1 & (x \neq 0) \\ a & (x = 0) \end{cases} \text{가 } x=0 \text{에서 연속이므로}$$

$$\lim_{x \rightarrow 0} f(x) = f(0) \text{이다.}$$

$$\lim_{x \rightarrow 0} \frac{e^{3x} - 1}{x(e^x + 1)} = \lim_{x \rightarrow 0} \frac{e^{3x} - 1}{3x} \times \frac{3}{e^x + 1} = 1 \times \frac{3}{2} = a$$

$$\therefore a = \frac{3}{2}$$

10. 정답: ②

출제의도: 조건부 확률의 계산

이 학교의 남학생일 사건을 A, 여학생일 사건을 A<sup>c</sup>라 하면

$$P(A) = \frac{2}{5}, P(A^c) = \frac{3}{5} \text{이다.}$$

또, 자격증을 가지고 있는 학생일 사건을 B, 자격증을 가지고 있지 않은 학생일 사건을 B<sup>c</sup>라 하면 P(B) = 7/10, P(B<sup>c</sup>) = 3/10이다.

$$\text{조건에서 } P(A \cap B) = \frac{1}{5} \text{이므로}$$

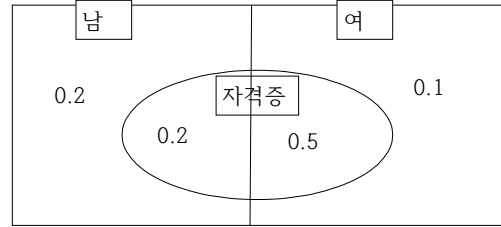
$$P(A \cup B) = P(A) + P(B) - P(A \cap B) \text{에서}$$

$$P(A \cup B) = \frac{9}{10} \text{이다.}$$

$$P(A^c | B^c) = \frac{P(A^c \cap B^c)}{P(B^c)} = \frac{P((A \cup B)^c)}{P(B^c)} = \frac{1}{3}$$

(별해)

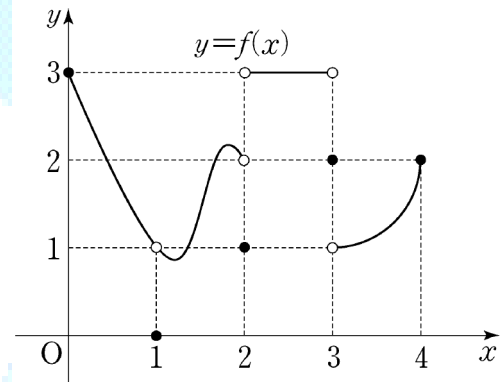
벤 다이어그램으로 접근하면,



$$\text{즉, } \frac{0.1}{0.3} = \frac{1}{3}$$

11. 정답: ⑤

출제의도: 함수의 극한



$$\lim_{x \rightarrow 0^+} f(f(x)) = \lim_{x \rightarrow 3^-} f(x) = 3$$

$$\lim_{x \rightarrow 2^+} f(f(x)) = f(3) = 2$$

$$\lim_{x \rightarrow 0^+} f(f(x)) + \lim_{x \rightarrow 2^+} f(f(x)) = 5$$

12. 정답: ⑤

출제의도: 무리방정식

양변을 제곱하면

$$f(-x) + 5 = \{f(-x)\}^2 - 2f(-x) + 1$$

$$\{f(-x)\}^2 - 3f(-x) - 4 = 0$$

$$f(-x) = 4, -1$$

$$f(-x) \geq 1 \text{ 이므로, } f(-x) = 4$$

∴ f(-x)는 x=2에 대칭인 함수이므로,

$$\frac{\alpha + \beta}{2} = 2, \alpha + \beta = 4$$

13. 정답: ④

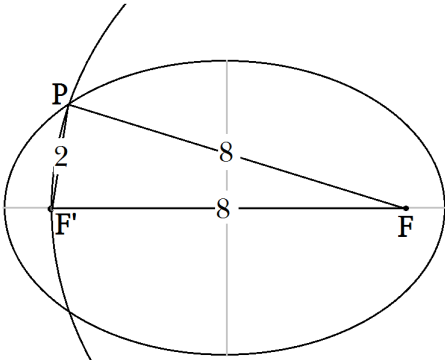
출제의도: 타원의 정의를 이용한 삼각형의 넓이 구하기

초점의 좌표를  $\pm c, 0$ 라 두면  $c = 5^2 - 3^2 = 16$

$\therefore c=4 \quad \therefore F' = 2c=8$

또한,  $PF + PF' =$  장축의 길이  $= 10$  이고

$\overline{FF'}$  처럼  $\overline{PF}$  도 원의 반지름이므로  $\overline{PF} = 8, PF' = 2$



$\triangle FPF'$ 에서  $\overline{PF'}$  를 밑변으로 보면 높이는  $8^2 - 2^2 = 3^2$  이고 넓이는  $\frac{1}{2} \times 2 \times 3 \sqrt{7} = 3\sqrt{7}$

14. 정답: ③

출제의도: 행렬의 연산

두 조건을 만족하는 행렬  $A, B$ 에 대하여

$A = \begin{pmatrix} 1 & 1 \\ a & a \end{pmatrix}$  이므로  $B = \begin{pmatrix} a_1 & a_2 \\ a_3 & a_4 \end{pmatrix}$  라 하면

조건 (가)에서  $B \begin{pmatrix} 1 \\ -1 \end{pmatrix} = \begin{pmatrix} 0 \\ 0 \end{pmatrix}$  이므로

$\begin{pmatrix} a_1 & a_2 \\ a_3 & a_4 \end{pmatrix} \begin{pmatrix} 1 \\ -1 \end{pmatrix} = \begin{pmatrix} 0 \\ 0 \end{pmatrix}$  에서  $a_1 - a_2 = 0, a_3 - a_4 = 0$  이다.

$\therefore a_1 = a_2 = x$  라 하고,  $a_3 = a_4 = y$  라 하면

행렬  $B = \begin{pmatrix} x & x \\ y & y \end{pmatrix}$  이다.

조건 (나)에서

$AB = 2A, BA = 4B$  이므로 대입하여 연립하면

$\begin{pmatrix} 1 & 1 \\ a & a \end{pmatrix} \begin{pmatrix} x & x \\ y & y \end{pmatrix} = 2 \begin{pmatrix} 1 & 1 \\ a & a \end{pmatrix}$  에서  $x + y = 2$  이고,

$\begin{pmatrix} x & x \\ y & y \end{pmatrix} \begin{pmatrix} 1 & 1 \\ a & a \end{pmatrix} = 4 \begin{pmatrix} x & x \\ y & y \end{pmatrix}$  에서  $x + ax = 4x, y + ay = 4y$  이다.

두 식을 더하면

$x + y + a(x + y) = 4(x + y)$  에서  $a = 3$  이다.

$\therefore A + B = \begin{pmatrix} 1 & 1 \\ a & a \end{pmatrix} + \begin{pmatrix} x & x \\ y & y \end{pmatrix} = \begin{pmatrix} 1+x & 1+x \\ a+y & a+y \end{pmatrix}$

따라서  $A + B$ 의 (1, 2) 성분과 (2, 1) 성분의 합을 구하면

$1 + x + a + y = 1 + 2 + 3 = 6$  이다.

[ 다른 풀이 ]

조건 (나)에서  $A(B - 2E) = O, B(A - 4E) = O$  이므로

$A(A - 4E) = O$  을 만족한다.

$\therefore A^2 - 4A = O$  에서  $1 + a = 4$  이므로  $a = 3$  이다.

또,  $B(B - 2E) = O$  을 만족하므로

$B^2 - 2B = O$  이다.

$B = \begin{pmatrix} p & q \\ r & s \end{pmatrix}$  라 하면

$\begin{pmatrix} p & q \\ r & s \end{pmatrix} \begin{pmatrix} 1 \\ -1 \end{pmatrix} = \begin{pmatrix} p-q \\ r-s \end{pmatrix} = \begin{pmatrix} 0 \\ 0 \end{pmatrix}$  에서  $p = q, r = s$  이다.

$\therefore B = \begin{pmatrix} p & p \\ r & r \end{pmatrix}$  이므로  $p + r = 2$

따라서  $A + B$ 의 (1, 2) 성분과 (2, 1) 성분의 합을 구하면

$1 + p + a + r = 1 + 2 + 3 = 6$  이다.

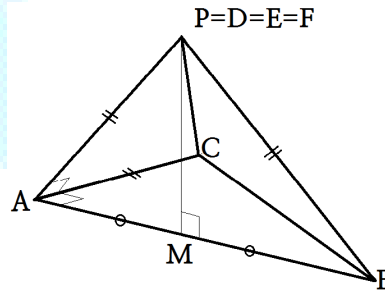
15. 정답: ⑤

출제의도: 공간도형의 위치관계

ㄱ. 전개도를 다시 접으면  $P = D = E = F$  이고, 그림과 같은 사면체가 된다.

$\triangle CAP$ 는  $CA = PA$  인 직각 이등변 삼각형이므로

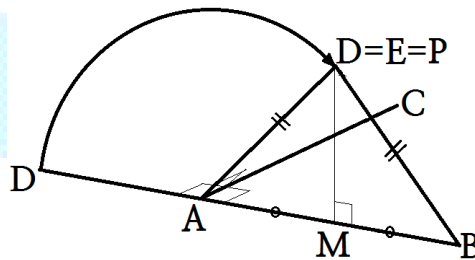
$CP = \sqrt{2} AP = \sqrt{2} BP$  (참)



ㄴ. 네 점  $A, B, C, P$  는 한 평면을 이루지 않고 사면체를 이루므로  $AB$ 와 직선  $CP$ 는 포인위치에 있다. (참)

ㄷ. 전개도를 접어서 다시 사면체를 만들게 되면  $\overline{AC}$ 를 접는 선으로 하여  $\triangle ACD$ 를 접게 되고  $AD \perp \overline{AC}$ 이므로 점  $D$ 는  $\overline{AC}$ 를 회전축으로 하여 회전한다. 따라서, 점  $D$ 에서 평면  $ABC$ 에 내린 수선의 발은  $\overline{AB}$ 위에 떨어진다.

또한  $\overline{PA} = \overline{PB}$ 이므로 그 수선의 발은  $\overline{AB}$ 의 중점이 된다. (참)



따라서, 옳은 것은 ㄱ, ㄴ, ㄷ 이다.

16. 정답: ③

출제의도: 여러 가지 함수의 적분

$A = \int_0^k x \sin x dx, B = \int_k^{\frac{\pi}{2}} (\frac{\pi}{2} - x \sin x) dx$

$A = B$  이므로,

$\int_0^k x \sin x dx = \int_k^{\frac{\pi}{2}} \frac{\pi}{2} dx - \int_k^{\frac{\pi}{2}} x \sin x dx$

$$\int_k^{\pi/2} \sin x dx + \int_k^{\pi/2} x \sin x dx = \int_k^{\pi/2} \frac{\pi}{2} dx$$

$$\int_0^{\pi/2} x \sin x dx = \int_k^{\pi/2} \frac{\pi}{2} dx$$

$$[-x \cos x]_0^{\pi/2} + \int_0^{\pi/2} \cos x dx = \frac{\pi}{2}(\frac{\pi}{2} - k)$$

$$1 = \frac{\pi}{2}(\frac{\pi}{2} - k)$$

$$k = \frac{\pi}{2} - \frac{2}{\pi}$$

17. 정답: ③

출제의도: 표본평균의 분포

$$: N(m, 30^2)$$

$$X : N(m, 10^2)$$

$$G(k) = P(x \leq m + 30k)$$

$$= P(z \leq k)$$

$$H(k) = P(x \geq m - 30k)$$

$$= P(z \geq -3k)$$

ㄱ .

$$G(0) = P(z \leq 0) = 0.5$$

$$H(0) = P(z \geq 0) = 0.5$$

(참)

ㄴ .

$$G(3) = P(z \leq 3)$$

$$H(1) = P(z \geq -3)$$

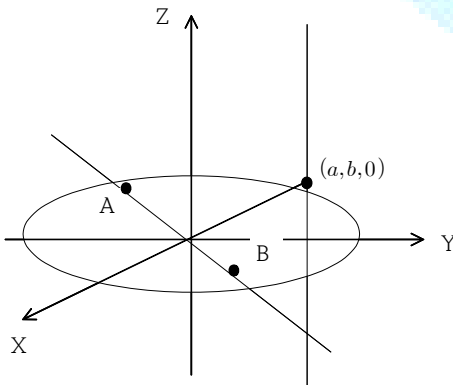
(참)

ㄷ .

$$G(1) + H(-1) = P(z \leq 1) + P(z \geq 3) < 1 \quad (\text{거짓})$$

18. 정답: ②

출제의도: 공간도형의 방정식



직선 AB를 구하면,  $\frac{x-1}{1} = \frac{y-1}{2} = \frac{z}{-1} \dots \textcircled{1}$

$(a, b, 0)$ 을 지나고 z축에 평행인 직선은  $x = a, y = b \dots \textcircled{2}$

①, ②를 연립하여 교점을 구하면,

$$\frac{a-1}{1} = \frac{b-1}{2} \quad \therefore 2a-2 = b-1 \dots \textcircled{3}$$

$$b = 2a-1 \dots \textcircled{3}$$

또,  $(a, b, 0)$  은  $x^2 + y^2 = 13$  위의 점 이므로

$$\therefore a^2 + b^2 = 13 \dots \textcircled{4}$$

③, ④를 연립하여 구하면,

$$a = -\frac{6}{5}, b = -\frac{17}{5} \quad \therefore a + b = -\frac{23}{5}$$

19. 정답: ①

출제의도: 점화식의 풀이과정 증명

모든 자연수 n에 대하여

$$4a_{n+1} - 1 = 4 \times \frac{3a_n - 1}{4a_n - 1} - 1 = 2 - \frac{1}{4a_n - 1}$$

$a_1 = 1$ 이고

수열  $\{b_n\}$ 을

$$b_1 = 1, b_{n+1} = (4a_n - 1)b_n \quad (n \geq 1) \dots \textcircled{*}$$

이라하면

:

$$b_{n+2} - b_{n+1} = b_{n+1} - b_n \text{이다.}$$

즉,  $\{b_n\}$ 은 등차수열이므로 공차  $d = b_2 - b_1$ 이고

$$b_2 = (4a_1 - 1)b_1 = 3 \text{이므로 } d = 2 \text{이다.}$$

$$\therefore b_n = 1 + (n-1)2 = 2n-1$$

$$\therefore f(n) = 2n-1$$

$$\textcircled{*} \text{에 의하여 } 2n+1 = (4a_n - 1)(2n-1)$$

$$4a_n - 1 = \frac{2n+1}{2n-1}$$

$$4a_n = \frac{2n+1}{2n-1} + 1 = \frac{4n}{2n-1}$$

$$\therefore a_n = \frac{n}{2n-1}$$

$$\therefore g(n) = \frac{n}{2n-1}$$

따라서  $f(n) = 2n-1, g(n) = \frac{n}{2n-1}$ 이므로

$$f(14) \times g(5) = 27 \times \frac{5}{9} = 15 \text{이다.}$$

20. 정답: ④

출제의도: 여러 가지 함수의 정적분

(가) 조건에서

$$\int_0^{\pi/2} f(t) dt = \int_0^x f(t) dt + \int_x^{\pi/2} f(t) dt = 1 \text{ 을 이용하면,}$$

$$\int_0^x f(t) dt = 1 - \int_x^{\pi/2} f(t) dt \text{ 이고, 이를 (나)조건에 대입하자.}$$

$$\cos x \int_x^x f(t)dt$$

$$= \cos x (1 - \int_x^{\frac{\pi}{2}} f(t)dt) = \cos x - \cos x \int_x^{\frac{\pi}{2}} f(t)dt$$

이므로, (나)조건에 의해,

$$\cos x - \cos x \int_x^{\frac{\pi}{2}} f(t)dt = \sin x \int_x^{\frac{\pi}{2}} f(t)dt$$

$$\cos x = \cos x \int_x^{\frac{\pi}{2}} f(t)dt + \sin x \int_x^{\frac{\pi}{2}} f(t)dt$$

$$\cos x = (\cos x + \sin x) \int_x^{\frac{\pi}{2}} f(t)dt$$

$$\therefore \int_x^{\frac{\pi}{2}} f(t)dt = \frac{\cos x}{\cos x + \sin x}$$

양변을 미분하면,

$$f(x) = \frac{\sin x(\sin x + \cos x) + \cos x(\cos x - \sin x)}{(\cos x + \sin x)^2} \text{ 이므로,}$$

$$f\left(\frac{\pi}{4}\right) = \frac{1}{2}$$

21. 정답: ③

출제의도: 다항함수의 미분

ㄱ. (가)에 의해  $f(\alpha) = \alpha$ ,  $f(\beta) = \beta$ ,  $f(\gamma) = \gamma$  이므로  
 $f(f(\alpha)) = f(\alpha) = \alpha$ ,  $f(f(\beta)) = f(\beta) = \beta$ ,  $f(f(\gamma)) = f(\gamma) = \gamma$  이다.  
 (참)

ㄴ.  $f(f(x)) = \{f(x) - x\}g(x) + h(x)$ 라 두면,

$$\begin{aligned} (\alpha) &= f(f(\alpha)) - \{f(\alpha) - \alpha\}g(\alpha) \\ &= \alpha - (\alpha - \alpha)g(\alpha) \\ &= \alpha \end{aligned} \dots \textcircled{1}$$

마찬가지로  
 $h(\beta) = \beta$ ,  $h(\gamma) = \gamma$

한편,  $f(x) - x$ 가 3차 다항식이므로 나머진  $h(x)$ 는 2차이하의 다항식이고

①은 방정식  $h(x) = ax^2 + bx + c = x$ 이 서로 다른 세 실근  $\alpha, \beta, \gamma$ 를 가진다는 뜻이므로  $a = c = 0$ ,  $b = 1$ 이 되어 항등식이 될 수밖에 없다.

따라서,  $h(x) = x$ 이다. (참)

ㄷ. (나)와 (다)에 의해  $f'(3) = 0$ ,  $f(f(3)) = 5$ 이고  $h(x) = x$ 이므로  
 $f(f(x)) = \{f(x) - x\}g(x) + x \dots \textcircled{2}$

양변을 미분하여  
 $f'(f(x))f'(x) = \{f'(x) - 1\}g(x) + \{f(x) - x\}g'(x) + 1 \dots \textcircled{3}$

②에서  $x = 3$ 일 때,  
 $f(f(3)) = \{f(3) - 3\}g(3) + 3$   
 $\therefore 5 = (7 - 3)g(3) + 3$   
 $\therefore g(3) = \frac{1}{2}$

③에서  $x = 3$ 일 때,  
 $f'(f(3))f'(3) = \{f'(3) - 1\}g(3) + \{f(3) - 3\}g'(3) + 1$   
 $\therefore f'(7) \times 0 = (0 - 1) \times \frac{1}{2} + (7 - 3)g'(3) + 1$   
 $\therefore g'(3) = -\frac{1}{8}$  (거짓)

따라서, 옳은 것은 ㄱ, ㄴ 이다.

22. 정답: 21

출제의도: 로그함수의 미분

$$f(x) = \ln(2x - 1) \text{ 이므로 } f'(x) = \frac{2}{2x - 1}$$

$$\therefore f'(10) = \frac{2}{19}$$

$$\therefore p + q = 21$$

23. 정답: 40

출제의도: 연속확률 분포

$f(x) = ax + b$  ( $0 \leq x \leq 1$ )가 확률밀도함수이므로

$$\int_0^1 (ax + b)dx = \left[ \frac{1}{2}ax^2 + bx \right]_0^1 = \frac{1}{2}a + b = 1 \dots \textcircled{1}$$

$$(X) = \int_0^1 x(ax + b)dx = \left[ \frac{1}{3}ax^3 + \frac{1}{2}bx^2 \right]_0^1 = \frac{1}{3}a + \frac{1}{2}b = \frac{7}{12} \dots \textcircled{2}$$

①, ②에서  $a = 1$ ,  $b = \frac{1}{2}$

$$\therefore 80ab = 40$$

24. 정답: 22

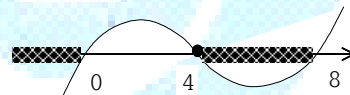
출제의도: 분수 부등식

$$\frac{1}{x} + \frac{1}{x-8} \leq 0$$

$$\frac{x-4}{x(x-8)} \leq 0$$

$$x(x-4)(x-8) \leq 0 \quad (x \neq 0, x \neq 8)$$

이므로,



이 범위에서 자연수  $x$ 는 4, 5, 6, 7 이므로, 합은 22

25. 정답: 35

출제의도: 수열의 극한의 성질

수열  $\{a_n\}$ ,  $\{b_n\}$ 이 조건

$$\lim_{n \rightarrow \infty} (n+1)a_n = 2, \lim_{n \rightarrow \infty} (n^2+1)b_n = 7 \text{ 을 만족하므로}$$

$$\begin{aligned} \lim_{n \rightarrow \infty} \frac{(10n+1)b_n}{a_n} &= \lim_{n \rightarrow \infty} \frac{(10n+1)(n^2+1)b_n}{(n+1)a_n} \times \frac{(n+1)}{(n^2+1)} \\ &= \lim_{n \rightarrow \infty} (n^2+1)b_n \times \lim_{n \rightarrow \infty} \frac{(10n+1)(n+1)}{(n^2+1)} \\ &= \frac{70}{2} = 35 \end{aligned}$$

26. 정답: 52

출제의도: 이차곡선의 접선구하기

점  $(a, b)$ 이 쌍곡선 위의 점이므로  $\frac{a^2}{12} - \frac{b^2}{8} = 1 \dots \textcircled{1}$

또한, 쌍곡선  $\frac{x^2}{2} - \frac{y^2}{8} = 1$  위의 점  $(a,b)$ 에서의 접선은

$ax - \frac{by}{8} = 1$ 이고, 이 접선이 타원  $\frac{(x-2)^2}{4} + y^2 = 1$ 의 넓이를 이등분하므로 타원의 중심인  $(2,0)$ 을 지나야 한다.

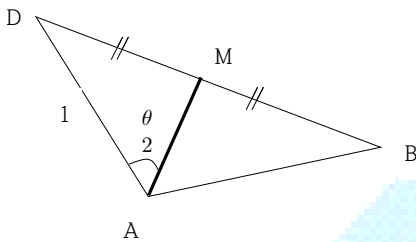
$$\therefore \frac{2a}{12} = 1 \quad \therefore a = 6$$

① 에서  $\frac{6^2}{12} - \frac{b^2}{8} = 1 \quad \therefore b^2 = 16$

$$\therefore a^2 + b^2 = 52$$

27. 정답: 15

출제의도: 삼각함수를 이용한 도형의 넓이의 최대값 구하기



$\triangle ABD$ 에서  $DB$ 에 수직이등분선  $M$ 을 그으면,  
 $\angle DAM = \frac{\theta}{2}$  이고,  $M = \sin \frac{\theta}{2}$ ,  $DB = 2\sin \frac{\theta}{2}$  가 된다.

즉,  $BC = CB = \overline{DB} = 2\sin \frac{\theta}{2}$  인 정삼각형  $\triangle BDC$ 가 된다.

사각형  $ABCD = \triangle BDC + \triangle ABD$  이므로,

전체 넓이  $S = \frac{3}{4} (2\sin \frac{\theta}{2})^2 + \frac{1}{2} \sin \theta$  가 된다.

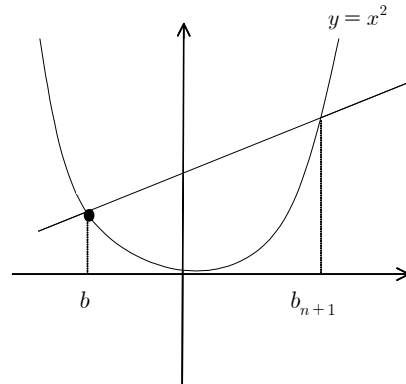
$$\begin{aligned} S &= \frac{\sqrt{3}}{4} (4\sin^2(\frac{\theta}{2})) + \frac{1}{2} \sin \theta = \sqrt{3} (\frac{1 - \cos \theta}{2}) + \frac{1}{2} \sin \theta \\ &= \frac{\sqrt{3}}{2} + \frac{1}{2} \sin \theta - \frac{\sqrt{3}}{2} \cos \theta \\ &= \frac{\sqrt{3}}{2} + \sin(\theta - \frac{\pi}{3}) \end{aligned}$$

즉,  $\theta - \frac{\pi}{3} = \frac{\pi}{2}$  일 때 최대이므로,  $\theta = \frac{\pi}{2} + \frac{\pi}{3}$

$$\sin \theta = \sin(\frac{\pi}{2} + \frac{\pi}{3}) = \cos \frac{\pi}{3} = \frac{1}{2} \quad \text{즉, } 60\sin^2 \theta = 15$$

28. 정답: 19

출제의도: 등비수열의 극한



$$a_n = 12(\frac{1}{3})^{n-1} \text{ 이고,}$$

기울기가  $a_n$  이고,  $(-b_n, b_n^2)$  을 지나는 직선을  $l$ 이라 하면,

$$l \text{ 은 } y - (b_n)^2 = a_n(x + b_n) \text{ 이고,}$$

$l$ 과  $y = x^2$ 와의 교점을 구하면,

$$\begin{aligned} x^2 - (b_n)^2 &= a_n(x + b_n) \\ x^2 - a_n x - b_n(a_n + b_n) &= 0 \end{aligned}$$

$$(x + b_n)(x - (a_n + b_n)) = 0 \text{ 에서 } a_n + b_n = b_{n+1}$$

즉,  $b_{n+1} - b_n = a_n$  이므로  $b_n$ 은 계차수열.

$$\begin{aligned} b_n &= b_1 + \sum_{k=1}^{n-1} a_k \\ &= 1 + \sum_{k=1}^{n-1} 12(\frac{1}{3})^{k-1} \end{aligned}$$

$$\text{따라서, } \lim_{n \rightarrow \infty} b_n = 1 + \frac{12}{1 - \frac{1}{3}} = 19$$

29. 정답: 45

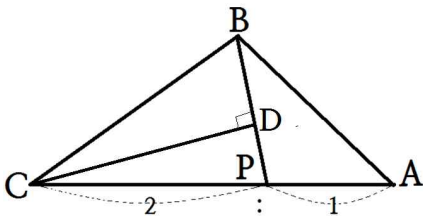
출제의도: 이면각을 활용한 정사영의 넓이

$\triangle BCP$ 의 넓이가 9이고  $CP:AP=2:1$ 이므로  $\triangle CPB$ 의 넓이는 6이다.

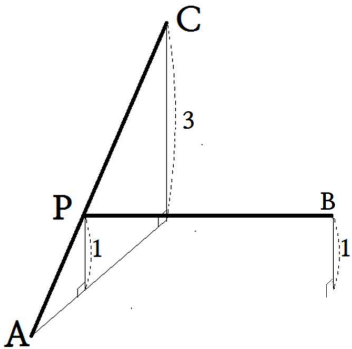
또한 점  $C$ 에서  $PB$ 에 내린 수선의 발을  $D$ 라하면

$$\triangle CPB \text{의 넓이} = \frac{1}{2} \overline{BP} \cdot \overline{CD} = \frac{1}{2} \times 4 \times \overline{CD} = 6$$

$$\therefore \overline{CD} = 3$$



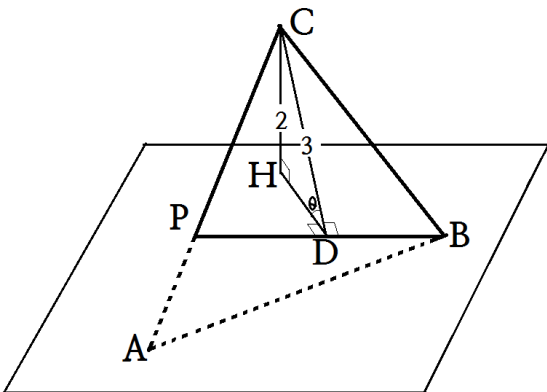
한편, 점  $C$ 에서 평면  $\alpha$ 까지의 거리가 3이고, 점  $P$ 가 선분  $\overline{AC}$ 의 1:2외분점이므로 점  $P$ 에서 평면  $\alpha$ 까지의 거리는 1이고  $\overline{PB}$ 는 평면  $\alpha$ 와 평행이 된다.



$\overline{PB}$ 가 평면  $\alpha$ 에 포함되도록  $\triangle ABC$ 를 평면  $\alpha$ 방향으로 1만큼 평행이동하고 점  $C$ 에서 평면  $\alpha$ 에 수선의 발  $H$ 를 내리면  $\overline{PB}$ 가  $\triangle ABC$ 와 평면  $\alpha$ 의 교선이 되고  $\overline{CH} = 2$ 이다.

다음 그림에서

$\overline{CD} \perp \overline{PB}$ 이고  $\overline{CH} \perp \alpha$  이므로  $\overline{HD} \perp \overline{PB}$  ( $\because$  삼수선정리)이며  $\triangle ABC$ 와 평면  $\alpha$  사이의 각은  $\theta = \angle CDH$ 가 된다.



$$\therefore \sin \theta = \frac{2}{3}$$

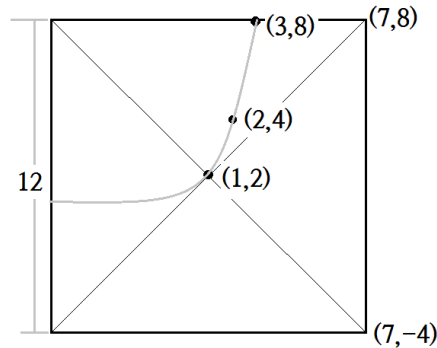
$$\therefore \cos \theta = \frac{5}{3}$$

$$\therefore S^2 = (9 \cos \theta)^2 = (3\sqrt{5})^2 = 45$$

30. 정답: 392

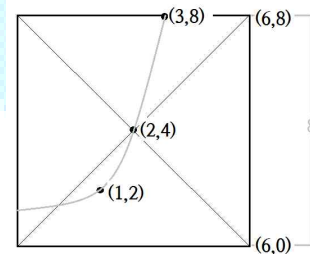
출제의도: 수열의 발견적 추론

i)  $n = 1$ 일 때,



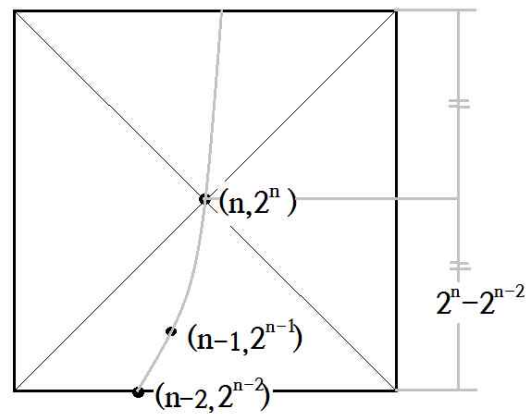
$$a = (8 - 2) \times 2 = 12$$

ii)  $n = 2$ 일 때,



$$\therefore a_2 = (8 - 4) \times 2 = 8$$

iii)  $n \geq 3$ 일 때,



$$\therefore a_n = (2^n - 2^{n-2}) \times 2 = 3 \times 2^{n-1}$$

$$\therefore \sum_{k=1}^7 a_k = 12 + 8 + 3(1 + 2 + 2^2 + 2^3 + 2^4) = 392$$